

經濟 試卷一

(樣本試卷)

一小時完卷

考生須知

- (一) 細讀答題紙上的指示，並於適當位置貼上電腦條碼及填上各項所需資料。
- (二) 試場主任宣布開卷後，考生須檢查試題有否缺漏，最後一題之後應有「**試卷完**」字樣。
- (三) 本試卷各題佔分相等。
- (四) **本試卷全部試題均須回答**。為便於修正答案，考生宜用 **HB** 鉛筆把答案填畫在答題紙上。錯誤答案可用潔淨膠擦將筆痕徹底擦去。
- (五) 每題只可填畫**一個**答案，若填畫多個答案，則該題**不給分**。
- (六) 答案錯誤，不另扣分。

考試結束前不可
將試卷攜離試場

本卷共 40 題。選擇每題中的**最佳**答案。

1. 「稀少性」的存在意味着
- A. 人類慾望無窮。
 - B. 所有物品都是經濟物品。
 - C. 要獲得某些物品是有代價的。
 - D. 每一經濟物品都必定有一個市價。
2. 瑪莉正從下列兩種方式中選擇一個來度過她的聖誕假期：替叔叔工作以賺取三千元；參加一個前往北京的文化之旅。

下列哪項會減低瑪莉替叔叔工作的機會成本？

- A. 瑪莉的叔叔將她的人工減至兩千元。
 - B. 參加文化之旅的費用下降。
 - C. 文化之旅其中一個精彩項目被取消。
 - D. 瑪莉的叔叔同意聘請她最要好的朋友與她一起工作。
3. 一項實證的陳述
- A. 永遠是對的。
 - B. 可以被事實推翻。
 - C. 可能包含了價值判斷。
 - D. 對擁有某些相同價值取向的大眾而言，可能等同於一項規範性陳述。

4. 細閱以下有關甲、乙廠商的資料：

	甲廠商	乙廠商
東主數目	2	50
在股票市場籌集資金	可能	不可能
債務責任	有限	有限

根據上述資料，甲廠商是_____，乙廠商是_____。

- A. 公眾有限公司 私人有限公司
- B. 私人有限公司 合夥
- C. 私人有限公司 公眾有限公司
- D. 公眾有限公司 合夥

5. 下列哪項是共用品的例子？
- A. 某慈善機構提供的一個自修室
 - B. 一個公眾足球場
 - C. 一首李白的詩
 - D. 一幢被棄置的工廠大廈

6. 下列哪項會提高勞工的平均生產力？
- A. 輸入外地專才的數目增加
 - B. 平均工時增加
 - C. 禁止使用對環境有害的機械
 - D. 削減政府對持續進修的補貼

7. 某廠商增加全部投入的數量以令產出量增加一倍。下表顯示產出改變後總成本的變化。

總產出（單位）	總成本（\$）
10 000	60 000
20 000	140 000

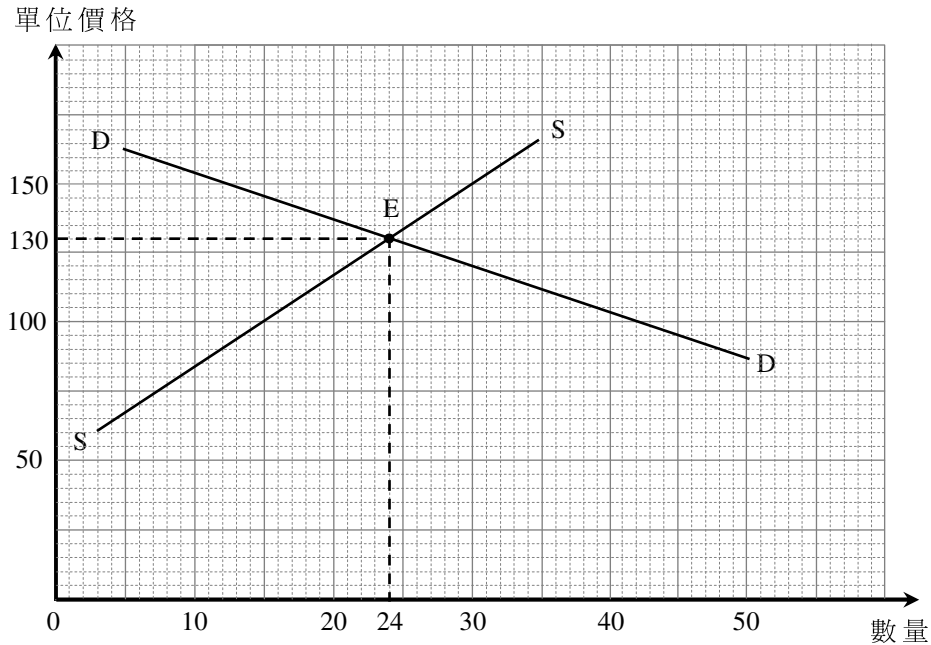
根據以上資料，我們可得結論如下：

- A. 該廠商享有規模經濟。
 - B. 該廠商受損於規模不經濟。
 - C. 在產出量增加一倍後，該廠商無法歸本。
 - D. 最適規模的產出是10 000單位。
8. 一家廠商生產一物品時，它的邊際成本表可被理解為它的供應表，這是因為
- A. 它的產出增加時，它的邊際成本會增加。
 - B. 在已知該物品價格的情況下，我們可從邊際成本表得知它計劃生產該物品的數量。
 - C. 它計劃生產該物品的數量受到生產該物品的邊際成本所影響，兩者關係是正向的。
 - D. 在已知該物品數量的情況下，我們可從邊際成本表得知該物品的價格。

9. 假設一家中國電腦生產商收購一家美國電腦生產商。下列哪項並**不是**該中國電腦生產商在該收購中可獲得的好處？
- A. 將競爭對手變成夥伴
 - B. 分散需求波動的風險
 - C. 為公司建立良好聲譽
 - D. 降低平均生產成本
10. 彭樹德是一位男性新界原居民。下列哪項是由價格訊息指導的？
- (1) 他向堂兄購買一幢「丁屋」。
 - (2) 在農曆新年時，他獲「原居民代表」分派紅封包。
 - (3) 他將名下的其中一幢「丁屋」出租給一位非原居民。
- A. 只有(1)、(2)
 - B. 只有(1)、(3)
 - C. 只有(2)、(3)
 - D. (1)、(2)、(3)
11. 假設歐盟就出口到其成員國的中國製皮鞋徵收一項進口附加稅。在這些歐盟成員國內，
- A. 這些貨品的價格會上升。
 - B. 這些貨品的價格會下降。
 - C. 花費在這些貨品的總開支會上升。
 - D. 花費在這些貨品的總開支會下降。

根據以下資料，回答第12及13題。

政府提供一項\$30的從量補貼予X物品的生產商。下圖顯示X物品在得到補貼後的市場情況。



12. 假設政府取消上述從量補貼，新市價會是 _____。

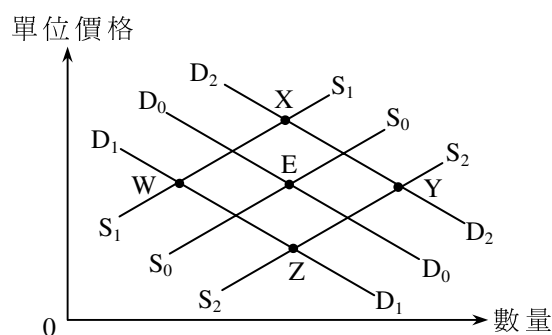
- A. \$100
- B. \$120
- C. \$140
- D. \$160

13. 在新、舊市價範圍內，X物品的供應彈性

- A. 小於其需求彈性。
- B. 等於其需求彈性。
- C. 大於其需求彈性。
- D. 是1。

14. 在冬季，婦女傾向購買更多補濕面霜。結果，某品牌的瓶裝保濕面霜的價格轉變了20%，成交量則由每月2 000瓶升至2 800瓶。我們可得結論如下：在上述的價格範圍內，這瓶裝保濕面霜的
- 需求屬高彈性。
 - 需求屬低彈性。
 - 供應屬高彈性。
 - 供應屬低彈性。

15. 下圖顯示倫敦的酒店住宿市場，E點是原本的均衡點。



假設在倫敦的地鐵站發生炸彈襲擊事件及酒店營運成本上升。在圖中新的均衡點將會是 _____。

- W
 - X
 - Y
 - Z
16. 為了減低膠袋的使用量，政府計劃向消費者開徵一項收費，而這收費是按消費者從店舖所取用的膠袋數量計算。
- 下列哪個概念可用來解釋上述政策？
- 需求定律
 - 比較優勢原理
 - 規模不經濟
 - 邊際回報遞減定律

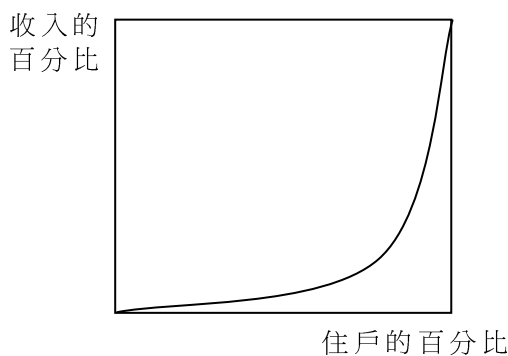
17. 在下列哪種情況下，一個市場可被視為寡頭壟斷？

- A. 市場訊息不完全
- B. 市場被少數賣家支配
- C. 政府限制賣家進入市場
- D. 不同賣家出售相似但可區別的產品

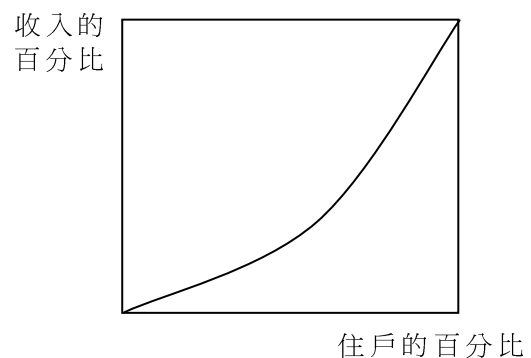
18. 在下列哪種情況下，私人與社會的成本/利益將**不會**出現分歧？

- A. 一家位於上游的化工廠污染一條河流，而沒有考慮對下游漁民造成的損害。
- B. 一名食客於酒樓吸煙而沒有考慮對附近的人的影響。
- C. 一個農夫飼養的羊群破壞鄰近農地的農作物，而該農地是該農夫所擁有。
- D. 一名鋼琴好手在家彈奏鋼琴而沒有向享受這些音樂的鄰居收取任何款項。

19. 細閱下列兩個經濟的洛倫茨曲線。



甲國的洛倫茨曲線



乙國的洛倫茨曲線

從上圖，我們可得出結論如下：

- A. 甲國的收入分配較乙國的平均。
- B. 乙國的收入分配較甲國的平均。
- C. 甲國的高收入組別人士較乙國的有更高收入。
- D. 乙國的高收入組別人士較甲國的有更高收入。

20. 假設政府向某物品的生產商提供從量補貼，這會導致
- A. 消費者盈餘上升及生產者盈餘下降，因此對效率的影響不明確。
 - B. 生產者盈餘上升及消費者盈餘下降，因此對效率的影響不明確。
 - C. 效率的改善，因賣家及買家均會從補貼得益。
 - D. 淨損失，因政府提供的補貼額大於消費者盈餘及生產者盈餘上升的總和。

21. 細閱下列兩個經濟的資料。

	人均本地生產總值（美元）	人口	堅尼系數
甲國	10 000	二千萬	0.45
乙國	12 000	一千萬	0.3

根據以上資料，我們可得結論如下：

- A. 甲國的本地生產總值較乙國高。
 - B. 甲國的收入分配較乙國更平均。
 - C. 甲國低收入組別人士的一般生活水平較乙國高。
 - D. 以上均正確。
22. 考慮以下某經濟的資料：

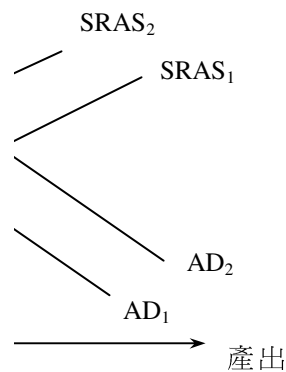
	增長率（相對去年）（%）	
	第一年	第二年
名義本地生產總值	-3	0
實質本地生產總值	2	1
人口	2	-1

下列哪項有關該經濟的描述是正確的？

- A. 實質產出於第二年減少。
- B. 人均名義本地生產總值於第二年減少。
- C. 以上兩年的名義本地生產總值是相同的。
- D. 一般物價水平於第一年下降，但於第二年上升。

23. 假設某經濟的失業人口是 300 000，而失業率是 6%。該經濟的就業人口是 _____。
- A. 1 800 000
 B. 2 100 000
 C. 4 700 000
 D. 5 000 000

24. 下圖顯示某經濟的總體需求 (AD) 曲線，短期總體供應 (SRAS) 曲線及長期總體供應 (LRAS) 曲線。



上圖中，E 點是原來均衡點。下列哪項在長期而言是正確的？

- (1) 若 AD_1 移到 AD_2 ， $SRAS_1$ 會移到 $SRAS_2$ 。
 (2) 若 AD_1 移到 AD_2 ， AD_2 會移回至 AD_1 。
 (3) 若 $SRAS_1$ 移到 $SRAS_2$ ， AD_1 會移到 AD_2 。
 (4) 若 $SRAS_1$ 移到 $SRAS_2$ ， $SRAS_2$ 會移回至 $SRAS_1$ 。
- A. 只有 (1)、(3)
 B. 只有 (1)、(4)
 C. 只有 (2)、(3)
 D. 只有 (2)、(4)
25. 在下列哪種情況下，短期總體供應曲線會向左移？
- A. 勞工成本下降
 B. 勞工生產力上升
 C. 一般物價水平上升
 D. 人們預期一般物價水平會上升

26. 若短期總體供應曲線向右上斜，進口意欲增加會導致實質國民收入 _____ 和物價水平 _____。

- A. 增加 上升
- B. 增加 下降
- C. 減少 下降
- D. 減少 上升

27. 下列哪項有關貨幣的陳述是正確的？

- A. 通貨收縮減低貨幣的購買力。
- B. 在一個沒有現金的社會中，所有交易都透過電子繳費系統支付，貨幣在該社會並不存在。
- C. 若交易中使用貨幣，縱使交易雙方沒有雙重需求偶合，交易仍是可能的。
- D. 以上均正確。

28. 若一年期債券的名義利率為10%，而預期通脹率為2%，持有現金的名義回報率和預期成本分別為 _____ 及 _____。

- A. 0% 8%
- B. 0% 10%
- C. -2% 8%
- D. -10% 10%

29. 陳先生從本港某間有限牌照銀行的存款中提取 4 000 000 港元。然後將其中 3 500 000 港元存入本港某持牌銀行作定期存款，並將餘下的 500 000 港元持作現金。

上述行動對港元貨幣供應量的即時影響會是：

- A. 貨幣供應 M2 和貨幣供應 M3 都維持不變。
- B. 貨幣供應 M1 增加而貨幣供應 M2 維持不變。
- C. 貨幣供應 M2 增加而貨幣供應 M3 維持不變。
- D. 貨幣供應 M2 增加而貨幣供應 M3 減少。

30. 下列哪項可能會導致貨幣供應量增加？

- (1) 中央銀行提高貼現率。
- (2) 中央銀行降低法定儲備比率。
- (3) 中央銀行向一家商業銀行購買政府債券。

- A. 只有(1)、(2)
- B. 只有(1)、(3)
- C. 只有(2)、(3)
- D. (1)、(2)、(3)

31. 下表顯示某銀行系統的資產負債表，假設公眾持有\$500現金而銀行系統的超額儲備是\$600。

資產（\$）		負債（\$）	
儲備	1 000	存款	2 000
貸款	1 000		

下列哪項有關該銀行系統的陳述是正確的？

- A. 法定儲備比率是40%。
- B. 最高存款額是\$4 000。
- C. 最大銀行乘數是5。
- D. 貨幣基礎是\$2 500。

32. 古典貨幣量理論

- (1) 推斷貨幣供應的轉變可能不會影響一般物價水平。
- (2) 推斷名義國民收入的轉變與貨幣供應的轉變有正向關係。
- (3) 假設貨幣流動速度不變。

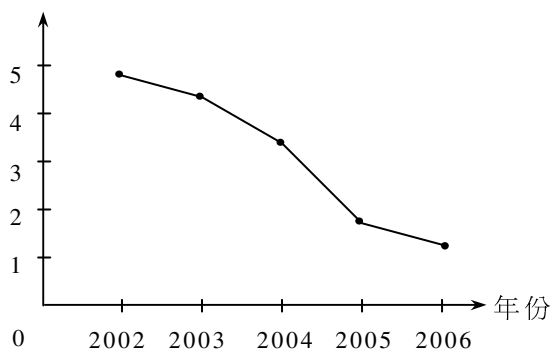
- A. 只有(1)、(2)
- B. 只有(1)、(3)
- C. 只有(2)、(3)
- D. (1)、(2)、(3)

33. 在長期而言，貨幣供應的轉變**不會**影響

- A. 物價水平。
- B. 實質產出。
- C. 名義貨幣需求。
- D. 以上均正確。

34.

本地生產總值平減指數增長率(%)

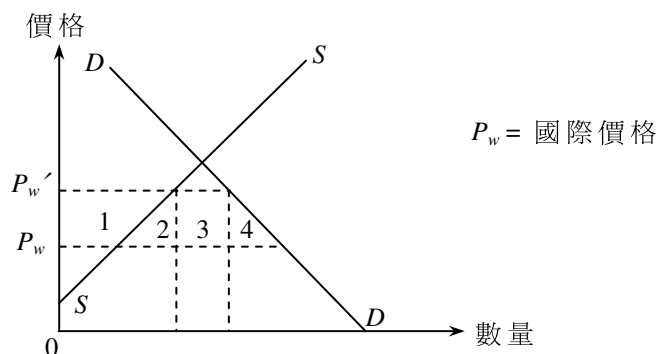


上圖顯示，在該段時期

- A. 該經濟有通貨收縮。
 - B. 貨幣供應量增長率為負數。
 - C. 一般物價水平正在上升。
 - D. 生活水準正在上升。
35. 當有失業時，貨幣供應的增加**不會**使 _____ 增加/上升。
- A. 實質國民收入
 - B. 名義國民收入
 - C. 物價水平
 - D. 潛在收入
36. 下列哪項有助解決通貨膨脹差距？
- A. 增加稅項
 - B. 增加財政赤字
 - C. 增加轉移支付
 - D. 增加政府支出
37. 若甲國生產每一物品的生產力都比乙國高，
- A. 甲國在貿易中的賺獲會比乙國多。
 - B. 兩國間仍可能有互惠互利的貿易。
 - C. 乙國會從甲國入口每一物品，而非由自己生產。
 - D. 甲國生產每一物品的機會成本可能低於乙國。

38. 若一國有經常帳赤字，
- A. 該國必定有貿易赤字。
 - B. 該國的資本及金融帳必定有盈餘。
 - C. 該國的外匯儲備必定會減少。
 - D. 以上均正確。

39. 假設某國對某進口物品徵收關稅。下圖顯示該國對該物品的供求：



若該關稅導致該物品的本地價格由 P_w 上升至 P_w' ，

- A. 淨損失總量為面積 4。
 - B. 消費者盈餘的總損失為面積 2、3、4 之和。
 - C. 生產者盈餘的增加為面積 1。
 - D. 這對消費者盈餘及生產者盈餘的影響是**不**確定的。
- 40.

某年	匯率
四月	1 歐元 = 1.12 美元
七月	1 歐元 = 1.35 美元

在聯繫匯率制度下，上述歐元兌美元的匯率變動會導致

- A. 訪港的歐洲旅客人數減少。
- B. 訪美的香港旅客人數減少。
- C. 歐洲出口到香港的汽車數量增加。
- D. 香港出口到歐洲的成衣產品數量增加。

- 試卷完 -