

練習卷  
經濟 試卷一

本試卷必須用中文作答  
一小時完卷

考生須知

- (一) 細讀答題紙上的指示。宣布開考後，考生須首先於適當位置貼上電腦條碼及填上各項所需資料。宣布停筆後，考生不會獲得額外時間貼上電腦條碼。
- (二) 試場主任宣布開卷後，考生須檢查試題有否缺漏，最後一題之後應有「**試卷完**」字樣。
- (三) 本試卷各題佔分相等。
- (四) **本試卷全部試題均須回答**。為便於修正答案，考生宜用 HB 鉛筆把答案填畫在答題紙上。錯誤答案可用潔淨膠擦將筆痕徹底擦去。考生須清楚填畫答案，否則會因答案未能被辨認而失分。
- (五) 每題只可填畫一個答案，若填畫多個答案，則該題不給分。
- (六) 答案錯誤，不另扣分。

本試卷共 40 題。選擇每題中的最佳答案。

1. 沒有稀少性，
  - (1) 歧視不會存在。
  - (2) 市價不會存在。
  - (3) 物品不會存在。
  - A. 只有 (1)、(2)
  - B. 只有 (1)、(3)
  - C. 只有 (2)、(3)
  - D. (1)、(2) 及 (3)
  
2. 陳先生花了 \$5 000 購買一部新手提電話，該電話可在二手市場以 \$7 000 售出。陳先生保留該手提電話的成本是 \_\_\_\_\_。
  - A. \$0
  - B. \$2 000
  - C. \$5 000
  - D. \$7 000
  
3. 下列哪些有關利息的陳述是正確的？
  - (1) 利息是就延遲當時消費所收取的一個溢價。
  - (2) 在以物易物經濟中，利率並不存在。
  - (3) 利率下降會增加現時的消費。
  - A. 只有 (1)、(2)
  - B. 只有 (1)、(3)
  - C. 只有 (2)、(3)
  - D. (1)、(2) 及 (3)
  
4. 下列哪項對三類生產之間的關係的描述是正確的？
  - A. 第一級生產為其他類型的生產提供原材料。
  - B. 第二級生產毋須依賴第三級生產去製造完成品。
  - C. 第三級生產只依賴第一級生產。
  - D. 三類生產是獨立的，其中第三級生產為最重要。

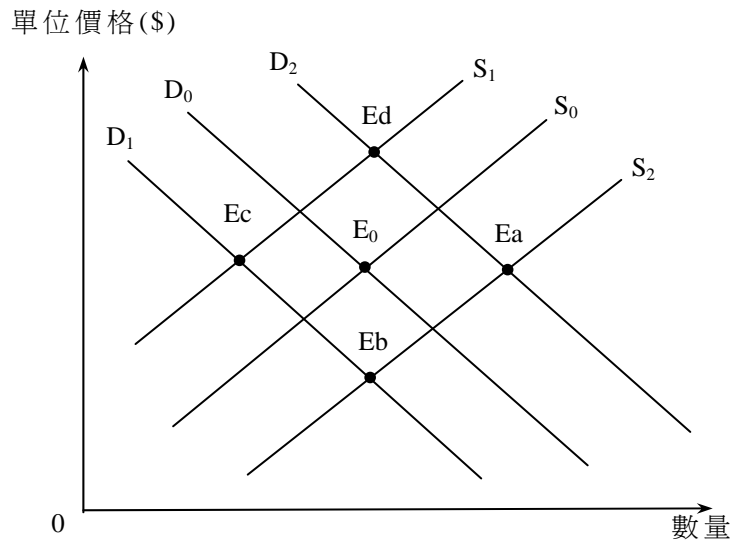
5. 下表顯示某廠商的月產量。該廠商只有兩種投入：機器和勞力。

機器（單位）	勞力（單位）	總產量（單位）
2	5	10
3	5	20
4	5	32
5	5	42
6	5	X

若邊際回報遞減定律適用於該廠商，X

- A. 必定小於 42。
  - B. 必定大於 42。
  - C. 可以等於 42。
  - D. 等於 52。
6. 某工人是以他所生產的產品數量計算工資而非領取月薪。下列哪項陳述是**不**正確的？
- A. 該工人傾向提高其產量。
  - B. 產出的質素傾向較低。
  - C. 監察該工人躲懶的成本減低。
  - D. 該工人的收入會增加。
7. 湯美和大衛將他們的公司由合夥轉成私人有限公司。下列哪項陳述是正確的？
- A. 他們工作意慾較高，因為利得稅稅率減低了。
  - B. 即使其中一個東主破產，公司仍可繼續存在。
  - C. 公司的規模會增加。
  - D. 公司的財政狀況須透露予公眾。
8. 增加煙草稅會導致
- A. 政府從香煙所徵收的稅款增加。
  - B. 吸煙人士對香煙的總支出增加。
  - C. 香煙總市值下降。
  - D. 香煙零售商除稅後的總收益下降。
9. 假設原油出口國政局不穩。結果，汽油的價格增加 30%，而汽油的交易量改變了 15%。我們可以得出結論如下：
- A. 汽油的需求屬高彈性。
  - B. 汽油的需求屬低彈性。
  - C. 汽油的供應屬高彈性。
  - D. 汽油的供應屬低彈性。

10. 在下圖中， $E_0$ 是本港印刷書籍市場的起初均衡點。



假設閱讀電子書籍成為趨勢，而印刷用紙的價格上升。圖中新的均衡點會是 \_\_\_\_\_。

- A. Ea
- B. Eb
- C. Ec
- D. Ed

11. 參閱以下物品 X 的需求表及供應表。

單位價格 (\$)	20	18	16	14	12	10
需求量 (單位)	500	550	600	650	700	750
供應量 (單位)	800	750	700	650	600	550

若政府把配額由 700 單位減低至 550 單位，

- A. 市價會下跌 \$2。
- B. 市價會上升 \$2。
- C. 市價會上升 \$4。
- D. 市價會上升 \$6。

12. 以下是一間受價公司的總成本表。該公司的固定成本等於\$20。

數量 (單位)	總成本 (\$)
1	40
2	65
3	95
4	130
5	170

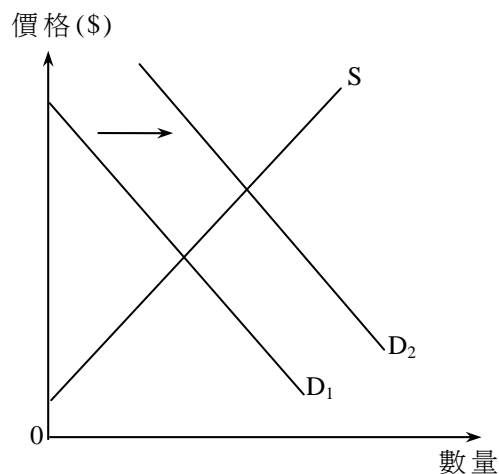
假設市價是\$35。在利潤極大化產出水平，該公司的利潤和總生產者盈餘分別是 \_\_\_\_\_ 和 \_\_\_\_\_。

- A. \$10 ... \$10
- B. \$10 ... \$30
- C. \$30 ... \$10
- D. \$30 ... \$30

13. 下列哪項與需求定律**並**不相符？

- A. 對成衣實施進口配額會令進口成衣的平均質素改善。
- B. 居住在偏遠地區的人士購買於市中心舉行的音樂會門票時，會傾向選擇較佳的座位。
- C. 增加失業援助金會推高失業率。
- D. 若每程的士徵收一定額的額外費用，短程乘搭次數下跌的百分率會小於長程乘搭次數下跌的百分率。

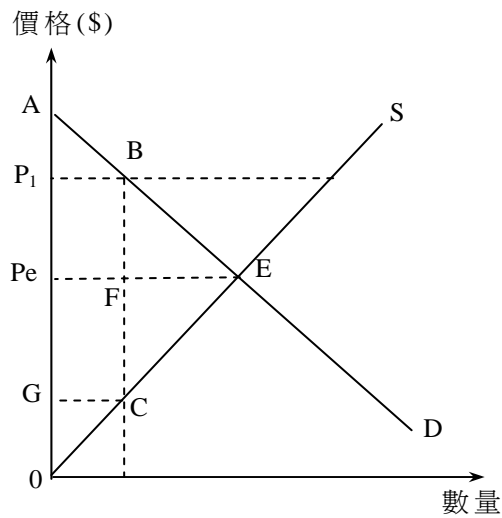
14. 下圖顯示在一個完全競爭市場內物品 X 的需求和供應曲線。



物品 X 的需求曲線由  $D_1$  移至  $D_2$ 。結果，

- A. 公司享有較多的生產者盈餘。
- B. 生產最後一單位的邊際成本會下降。
- C. 物品 X 的供應會增加。
- D. 消費者享有較少的消費者盈餘。

15. 下圖顯示在一個完全競爭市場內物品 X 的需求和供應曲線。



假設價格下限設在  $P_1$ 。結果，

- A. 效率損失 (deadweight loss) 等於面積 BEF。
- B. 生產者盈餘等於面積  $P_1BC0$ 。
- C. 消費者盈餘等於面積 AEPe。
- D. 總社會盈餘等於面積  $P_1BCG$ 。

16. 下列哪些是完全競爭市場的特徵？

- (1) 每間公司的邊際收益等於市價。
- (2) 賣家和買家掌握完全市場資訊。
- (3) 一間公司的邊際成本表與它的供應表相同。

- A. 只有 (1)、(2)
- B. 只有 (1)、(3)
- C. 只有 (2)、(3)
- D. (1)、(2) 及 (3)

17. 在下列哪些情況下，會達致經濟效率？

- (1) 消費者得到最大的總利益。
- (2) 所有潛在得益可以完全攫取。
- (3) 邊際社會利益等於邊際社會成本。

- A. 只有 (1)、(2)
- B. 只有 (1)、(3)
- C. 只有 (2)、(3)
- D. (1)、(2) 及 (3)

18. 下表顯示甲經濟由年份 1 至年份 4 的堅尼系數。

年份	堅尼系數
1	0.534
2	0.563
3	0.609
4	0.614

根據以上資料，下列哪項／些陳述是正確的？

- (1) 高收入住戶的收入增加，而低收入住戶的收入則減少。
- (2) 收入分布愈變不均。
- (3) 一般生活水準下降。

- A. 只有 (1)
- B. 只有 (2)
- C. 只有 (3)
- D. (1)、(2) 及 (3)

19. 下列哪項是有效的最低工資法最有可能帶來的影響？

- A. 收入分布會變得較平均。
- B. 工人的總工資收入會上升。
- C. 就業人口會增加。
- D. 非價格競爭會出現。

20. 下表顯示某經濟的統計數據。

本地生產總值成分	百萬（元）
私人消費支出	400
政府消費支出	250
本地固定資本形成淨額	300
存貨下跌	70
補貼	120
折舊	50
淨出口	300
海外收入淨值	80
直接稅	100

以生產要素成本計算的本地生產總值等於 \_\_\_\_\_ 百萬元。

- A. 1 250
- B. 1 270
- C. 1 350
- D. 1 490

21. 若某經濟的對外要素收益流動淨值（即海外收入淨值）為負數，這意味着該經濟的

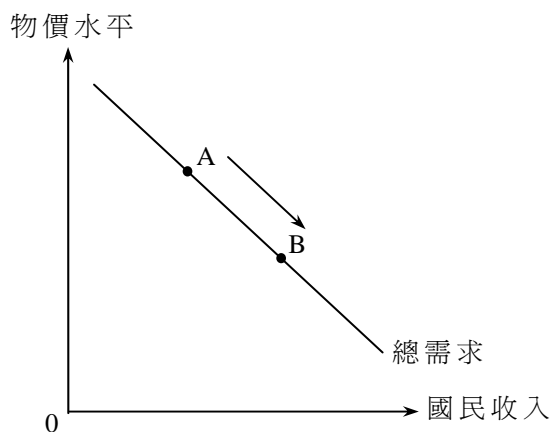
- A. 資本流入較資本流出為大。
- B. 總投資較淨投資為小。
- C. 國民生產總值較本地生產總值為小。
- D. 進口值較出口值為大。

22. 在一段時間內，某經濟以當時市價計算的本地生產總值增加 15%，而通脹率則由 10% 減至 5%。

根據以上資料，實質本地生產總值 \_\_\_\_\_，而一般物價水平 \_\_\_\_\_。

- A. 增加 ... 上升
- B. 增加 ... 下降
- C. 減少 ... 上升
- D. 減少 ... 下降

23. 參閱下圖。



下列哪項會導致沿着總需求曲線由 A 點移至 B 點？

- A. 物價水平下降
- B. 利率下降
- C. 減低薪俸稅
- D. 本地貨幣貶值

24. 大量油田因嚴重漏油意外需要關閉。短期而言，一石油輸入國的總供應會 \_\_\_\_\_，而該國的物價水平會 \_\_\_\_\_。

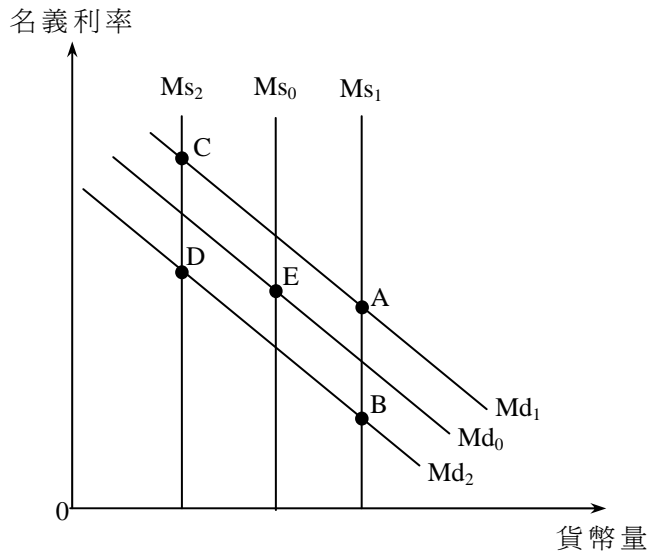
- A. 增加 ... 上升
- B. 增加 ... 下降
- C. 減少 ... 上升
- D. 減少 ... 下降



25. 下列哪項能解釋貨幣需求曲線向左移？

- A. 利率上升
- B. 住戶收入增加
- C. 人們更廣泛使用八達通卡
- D. 法定儲備比率增加

26. 下圖顯示某經濟的貨幣需求和貨幣供應曲線。起初的均衡點是 E。



假設國民收入增加而政府在公開市場購入債券。新的均衡點是 \_\_\_\_\_。

- A. A
- B. B
- C. C
- D. D

27. 假設某銀行體系的資產負債表如下。

資產(\$)		負債(\$)	
儲備	150	存款	500
貸款	350		

該銀行體系的超額儲備是\$50。現在一名客戶從他的銀行戶口提取\$50。若該銀行體系將可貸出款項全數借出，該銀行體系的貸款額最大為 \_\_\_\_\_。

- A. \$350
- B. \$400
- C. \$450
- D. \$500

28. 若陳先生從他在接受存款公司的戶口提取港幣 500 000 元，並將該筆款項匯給在加拿大的親人，香港的貨幣供應定義二（M2）會 \_\_\_\_\_ 而定義三（M3）會 \_\_\_\_\_。
- A. 減少 ... 減少
  - B. 維持不變 ... 維持不變
  - C. 減少 ... 維持不變
  - D. 維持不變 ... 減少
29. 若某一資產可以在短時間內輕易地轉為現金，並且不會招致損失，那麼它可被視為一種 \_\_\_\_\_ 的資產。
- A. 便攜
  - B. 耐用
  - C. 容易拆細
  - D. 流動
30. 當 \_\_\_\_\_ 正在上升，貨幣的實質價值下降。
- A. 通縮率
  - B. 一般物價水平
  - C. 貨幣需求
  - D. 名義利率
31. 當非預期通脹出現時，下列哪位人士會有損失？
- A. 一位銀行定期存款持有人
  - B. 一名政府債券持有人，而該債券利率隨通脹率調整
  - C. 一名正在償還固定息率按揭貸款的樓宇業主
  - D. 一名以黃金保存全部財富的億萬富翁
32. 下列哪項有助收窄通縮（產出）缺口？
- A. 法定儲備比率增加
  - B. 中央銀行在市場售賣債券
  - C. 政府支出增加
  - D. 撤銷進口關稅
33. 下列哪項有關古典貨幣量理論的陳述是不正確的？
- A. 貨幣流通速度和實質產出均假設為不變。
  - B. 貨幣供應的任何改變會導致名義產出產生同等比例的改變。
  - C. 當貨幣供應不斷下降時，通縮便會出現。
  - D. 物價水平的任何改變會導致貨幣供應產生同等比例的改變。

34. \_\_\_\_\_ 有所增加可能會抵銷擴張性貨幣政策對國民收入造成的影響。
- (1) 人們持有貨幣作為資產的意慾
  - (2) 人們的儲蓄意慾
  - (3) 轉移支付
- A. 只有 (1)、(2)
  - B. 只有 (1)、(3)
  - C. 只有 (2)、(3)
  - D. (1)、(2) 及 (3)
35. 當名義利率高於實質利率，預期通脹率必定
- A. 是正數。
  - B. 是負數。
  - C. 在上升。
  - D. 在下降。
36. 在香港，下列哪種稅項屬直接稅和比例稅？
- A. 酒店房租稅
  - B. 利得稅
  - C. 薪俸稅
  - D. 差餉
37. 稅務局會透過郵件或稅務易戶口通知每位薪俸稅納稅人應付的稅款總額。這項安排符合亞當史密夫所提出的 \_\_\_\_\_ 賦稅原則。
- A. 公平
  - B. 明確
  - C. 方便
  - D. 經濟
38. 若某小型開放經濟減低一進口物品的關稅，
- A. 該物品的本地生產量和消費量均會增加。
  - B. 關稅收益和進口量均會減少。
  - C. 消費者盈餘會增加，而生產者盈餘則會減少。
  - D. 該物品的全球價格會下跌，而總社會盈餘則會增加。

39. 假設甲、乙兩國只生產及消費物品 X 及物品 Y。若甲國比乙國可用較少資源生產一單位的物品 X，

- (1) 甲國生產物品 X 有絕對優勢。
- (2) 甲國生產物品 X 有相對優勢。
- (3) 乙國生產物品 Y 有絕對優勢。
- (4) 乙國生產物品 Y 有相對優勢。

- A. 只有 (1)
- B. 只有 (1)、(2)
- C. 只有 (2)、(4)
- D. (1)、(2)、(3) 及 (4)

40. 下表顯示甲、乙兩國每單位資源的產出：

	平板電腦（單位）	手提電話（單位）
甲國	8	12
乙國	10	30

若甲國出口 10 單位的平板電腦至乙國，以換取 25 單位的手提電話，甲國的貿易總得益是 \_\_\_\_\_ 單位的手提電話。

- A. 1
- B. 5
- C. 6.667
- D. 10

試 卷 完