

練習卷
經濟 試卷二
試題答題簿

本試卷必須用中文作答
二小時完卷

考生須知

- (一) 宣布開考後，考生須首先在第1頁之適當位置填寫考生編號，並在第1、3、5、7、9及11頁之適當位置貼上電腦條碼。
- (二) 本試卷分為甲部、乙部及丙部。甲部和乙部試題均須回答。丙部任意選答一題。
- (三) 答案須寫在本試題答題簿中預留的空位內。不可在各頁邊界以外位置書寫。寫於邊界以外的答案，將不予評閱。
- (四) 如有需要，可要求派發補充答題紙。每一紙張均須填寫考生編號、填畫試題編號方格、貼上電腦條碼，並用繩縛於簿內。
- (五) 試場主任宣布停筆後，考生不會獲得額外時間貼上電腦條碼及填畫試題編號方格。

請在此貼上電腦條碼

考生編號

甲部 (50分)

1. 彼德向瑪莉借了一本書，並應瑪莉請求承諾會於一個月後把書本連同一個書簽歸還給她。解釋為何該書簽對彼德和瑪莉來說均可視為「利息」。(4分)

.....

.....

.....

.....

.....

.....

.....

.....

.....

.....

.....

.....

.....

.....

.....

.....

.....

.....

.....

.....

.....

.....

.....

2. 一家中國汽車生產商於2010年收購一家瑞典汽車生產商。解釋這個案涉及哪種合併，並列出這種合併的三個可能動機。(5分)

.....

.....

.....

.....

.....

.....

.....

.....

.....

.....

.....

.....

.....

.....

.....

.....

.....

.....

.....

.....

.....

.....

寫於邊界以外的答案，將不予評閱。

寫於邊界以外的答案，將不予評閱。

寫於邊界以外的答案，將不予評閱。

本頁總分

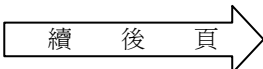
請在此貼上電腦條碼

3. 日本地震嚴重破壞生產各種記憶體產品的設施，如生產安全數碼卡（又稱SD卡）的設施，導致這些產品的價格上升。以圖輔助，解釋在什麼條件下日本消費者對這些記憶體產品的總支出會下降。（7分）

寫於邊界以外的答案，將不予評閱。

寫於邊界以外的答案，將不予評閱。

寫於邊界以外的答案，將不予評閱。



本頁總分

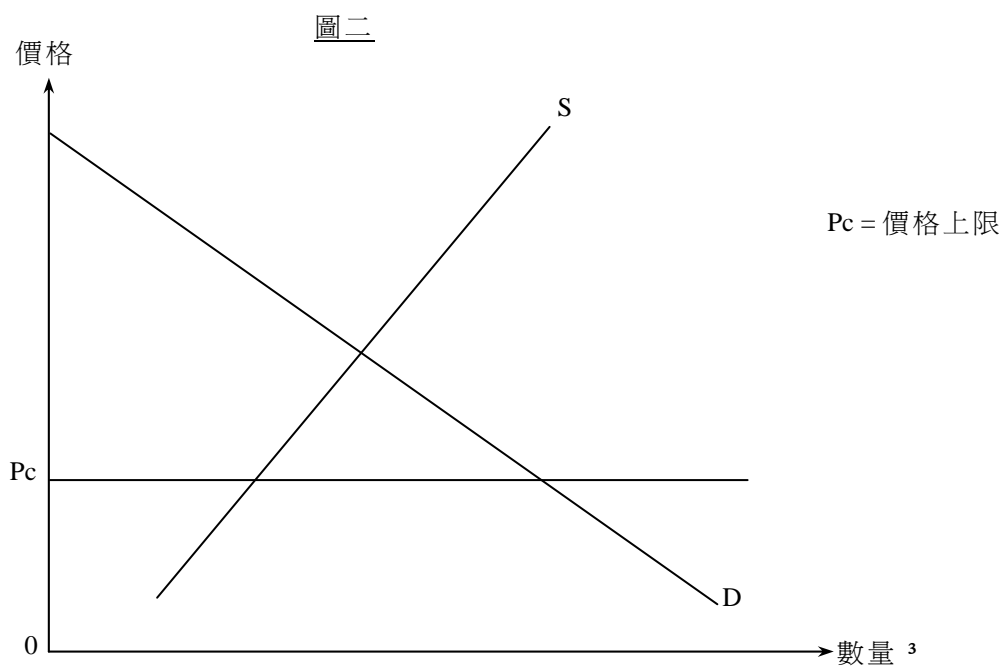
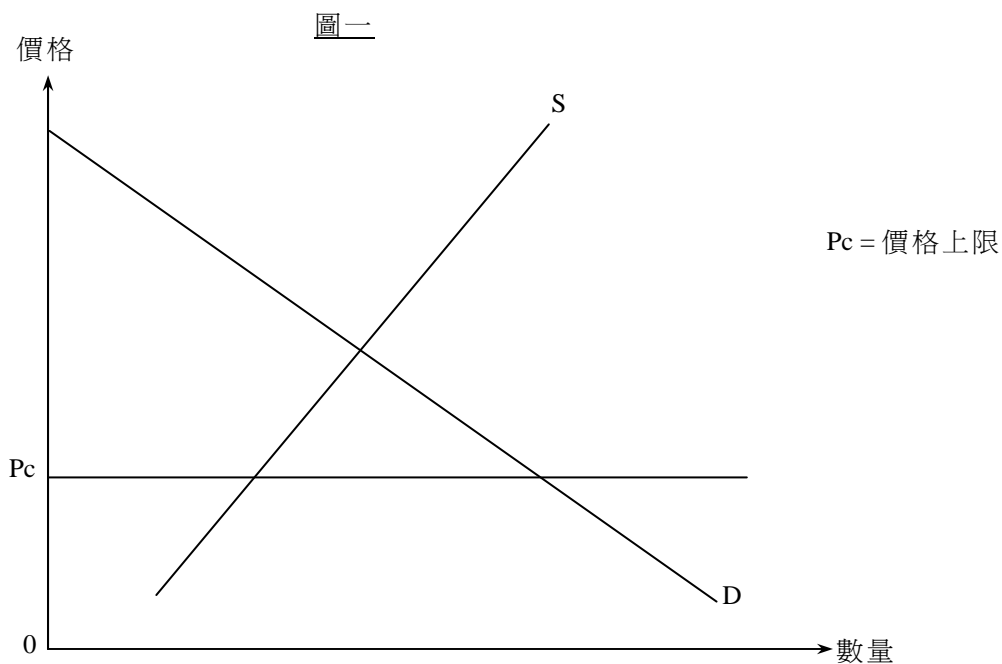
4. (a) 什麼是「效率損失」(deadweight loss)? (2分)

(b)

一位老師說：「有效的價格上限可能增加消費者盈餘。」
他的學生回答：「若是這樣，該價格上限可能提升經濟效率！」

(i) 你同意該老師的說法嗎？以圖一說明你的答案。(3分)

(ii) 你同意該學生的說法嗎？以圖二輔助，解釋你的答案。(5分)



寫於邊界以外的答案，將不予評閱。

寫於邊界以外的答案，將不予評閱。

寫於邊界以外的答案，將不予評閱。

請在此貼上電腦條碼

寫於邊界以外的答案，將不予評閱。

寫於邊界以外的答案，將不予評閱。

Large rectangular area with horizontal dashed lines for writing answers.

寫於邊界以外的答案，將不予評閱。

5. 一位英國土木工程師理查森先生在過去數年任職於一間本港大型建築公司。他現時賺取年薪港幣\$800 000，而他把部分收入匯給他在英國的家人。理查森先生的收入會計入香港的本地生產總值嗎？解釋你的答案。(3分)

.....

.....

.....

.....

.....

.....

.....

.....

.....

.....

6. 以下是一則有關甲經濟的新聞報道。

開展新的高速鐵路系統建築計劃需要很多高技術建築工人。一位政府官員宣布實施一項輸入勞工計劃以滿足對高技術工人的需要。

假設輸入的勞工不會取代任何本地工人。解釋該計劃會如何影響失業率。(4分)

.....

.....

.....

.....

.....

.....

.....

.....

.....

.....

寫於邊界以外的答案，將不予評閱。

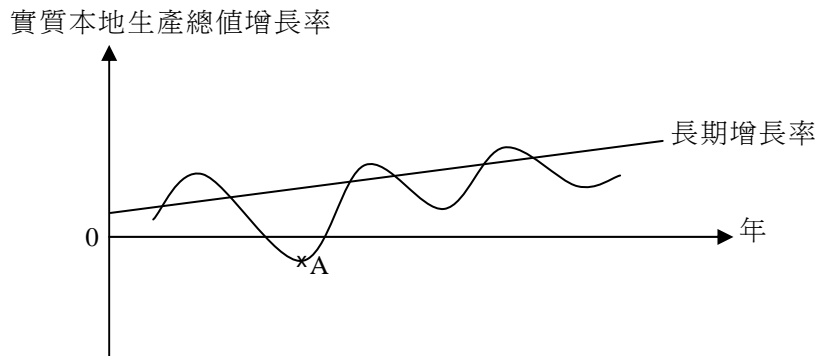
寫於邊界以外的答案，將不予評閱。

寫於邊界以外的答案，將不予評閱。

本頁總分

7. 參考圖三的經濟周期。指出A點所在位置屬於經濟周期中哪一個時期。除了有關該時期實質本地生產總值增長率的描述外，舉出三項在該時期出現的一般經濟現象。 (4分)

圖三



寫於邊界以外的答案，將不予評閱。

寫於邊界以外的答案，將不予評閱。

8. 活期存款可被視為貨幣。解釋它能發揮哪兩項貨幣功能。 (4分)

寫於邊界以外的答案，將不予評閱。

9. 甲國和乙國擁有相同數量的資源。甲國用一半資源生產食物，而另一半資源則用來生產電腦。乙國用三分一資源生產食物，三分二資源則用作生產電腦。它們一年內的總產出如下：

	食物（單位）	電腦（單位）
甲國	100	50
乙國	200	100

解釋乙國生產食物是否有

- (a) 絕對優勢；及
- (b) 比較優勢。

(6 分)

寫於邊界以外的答案，將不予評閱。

寫於邊界以外的答案，將不予評閱。

寫於邊界以外的答案，將不予評閱。

請在此貼上電腦條碼

10. 假設美元兌歐元貶值。在聯繫匯率制度下，下列項目會如何受到影響？

- (a) 前往歐洲國家旅遊的香港遊客總數
- (b) 出口到歐洲的香港玩具的價格（以歐元計算）
- (c) 香港對進口歐洲汽車的總支出（以港元計算）

(3 分)

.....

.....

.....

.....

.....

.....

甲部完

寫於邊界以外的答案，將不予評閱。

寫於邊界以外的答案，將不予評閱。

寫於邊界以外的答案，將不予評閱。

乙部 (54分)

11. 高中教科書的價格大幅上升，這是因為教科書出版商需要為新課程出版新教科書。

- (a) 生產教科書會涉及各種專家，如作者、編輯、繪圖設計師等。這說明了什麼經濟原理？列舉三項理由，解釋為什麼這原理能提升勞工生產力。 (4分)
- (b) 解釋這些教科書內的知識是否共用品。 (3分)
- (c) 在本港，這些出版商屬於哪種市場結構？列舉這種市場結構的兩項特徵。 (3分)
- (d) 在學校書簿津貼計劃下，有需要的學生會獲得津貼，用以支付教科書的費用和與學校有關的雜項支出。解釋學校書簿津貼計劃如何能提升香港社會的公平性。 (4分)

寫於邊界以外的答案，將不予評閱。

寫於邊界以外的答案，將不予評閱。

寫於邊界以外的答案，將不予評閱。

請在此貼上電腦條碼

寫於邊界以外的答案，將不予評閱。

寫於邊界以外的答案，將不予評閱。

Large rectangular area with horizontal dashed lines for writing answers.

寫於邊界以外的答案，將不予評閱。

12. 於2010年11月，電子動態版清明上河圖在本港展出。600 000張門票透過城市電腦售票網售票處和互聯網發售，每張作價\$10。門票在短時間內售罄。很多市民投訴他們未能購得門票。

(a) (i) 以一供需圖說明上述現象。 (3分)

(ii) 建議兩項有助改善上述問題的措施，並以兩幅圖分別說明。 (6分)

(b) 有些人付出\$200從黃牛黨購買一張門票。

(i) 寫出上述個案中價格所發揮的功能。 (1分)

(ii) 「政府應該提高票價，從而杜絕黃牛黨。」評價這項建議。 (4分)

寫於邊界以外的答案，將不予評閱。

寫於邊界以外的答案，將不予評閱。

寫於邊界以外的答案，將不予評閱。

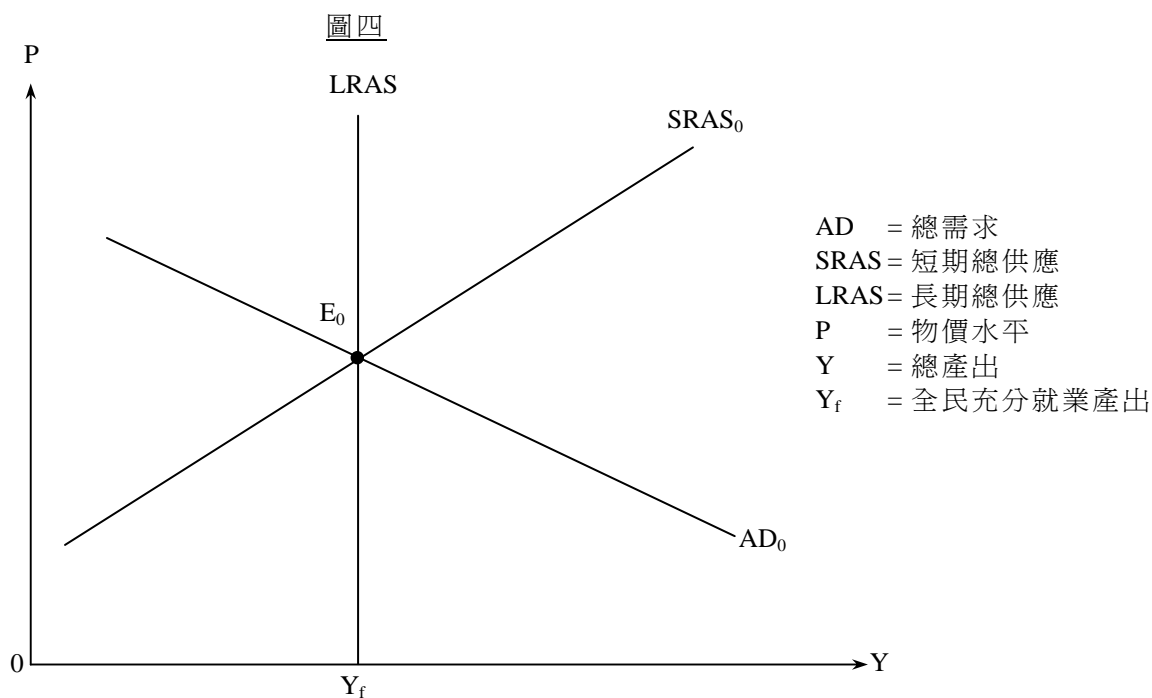
寫於邊界以外的答案，將不予評閱。

寫於邊界以外的答案，將不予評閱。

Large empty area with horizontal dashed lines for writing answers.

寫於邊界以外的答案，將不予評閱。

13. 圖四顯示某經濟的總供應和總需求曲線。



假設 E_0 是起初的均衡點。

- (a) 為什麼短期總供應曲線是向右上斜的？ (3 分)
- (b) 假設該經濟遭受資產泡沫爆破所累，資產價格大幅下跌。以圖四輔助，解釋該經濟的短期均衡產出和物價水平會如何改變。 (6 分)
- (c) 以圖四輔助，解釋市場力量會如何幫助產出水平回復至 Y_f 。 (5 分)

.....

.....

.....

.....

.....

.....

.....

.....

.....

.....

.....

.....

.....

.....

.....

.....

.....

.....

寫於邊界以外的答案，將不予評閱。

寫於邊界以外的答案，將不予評閱。

寫於邊界以外的答案，將不予評閱。

本頁總分

寫於邊界以外的答案，將不予評閱。

寫於邊界以外的答案，將不予評閱。

Large empty area with horizontal dashed lines for writing answers.

寫於邊界以外的答案，將不予評閱。

14. 下表顯示某經濟的銀行體系的資產負債表：

資產（百萬元）		負債（百萬元）	
儲備	1 000	存款	4 000
貸款	3 000		

假設這經濟的公眾總是持有500百萬元現金，而該銀行體系從不持有超額儲備。

- (a) 計算該經濟的貨幣基礎和貨幣供應量。 (2 分)
- (b) 假設中央銀行把銀行體系的最低儲備比率降低5%。
- (i) 解釋該經濟的貨幣基礎是否有所改變。 (2 分)
- (ii) 計算新的貨幣供應量。列出你的計算步驟。 (4 分)
- (c) 根據貨幣數量論，解釋上述貨幣供應量的改變長期而言如何影響一般物價水平。 (4 分)

寫於邊界以外的答案，將不予評閱。

寫於邊界以外的答案，將不予評閱。

寫於邊界以外的答案，將不予評閱。

寫於邊界以外的答案，將不予評閱。

寫於邊界以外的答案，將不予評閱。

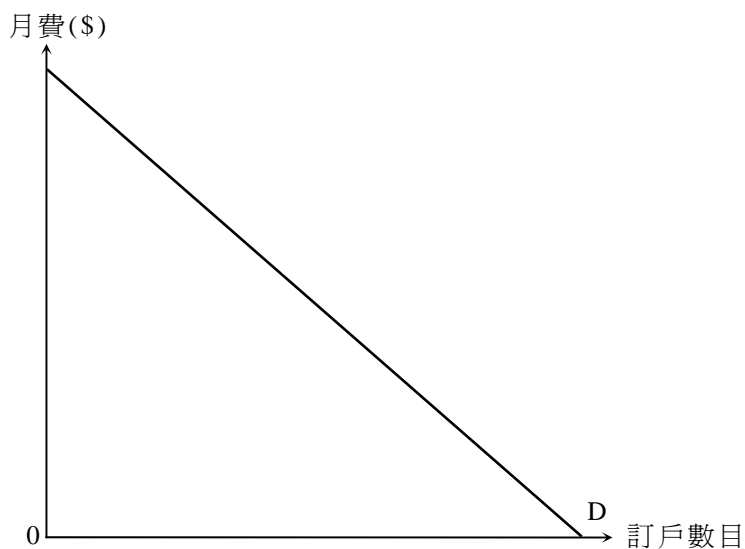
乙部完

寫於邊界以外的答案，將不予評閱。

丙部 (16分) 選答一題。

15. 某收費電視頻道花了一大筆金錢購買獨家播映權，可於一季內獨家轉播一項國際體育賽事。
- (a) 假設購買獨家播映權的支出是該收費電視頻道在提供該廣播服務方面的唯一成本。圖五顯示申請收看上述體育節目的市場需求。

圖五



- (i) 以圖五輔助，解釋該收費電視頻道在劃一價格安排下會如何定價，從而賺取最大利潤。 (5分)
- (ii) 「就該節目所收取的價格會導致缺乏經濟效率。」你同意嗎？加以解釋。 (3分)
- (b) 假設在推廣申請收看該節目期間，該收費電視頻道只向新客戶而不向現有客戶提供折扣優惠。
- (i) 解釋上述做法是否構成價格分歧。 (4分)
- (ii) 其他免費無線廣播機構不獲准轉播有關賽事。有人批評這安排缺乏競爭。提出兩項理由以支持實施競爭政策。 (4分)

.....

.....

.....

.....

.....

.....

.....

寫於邊界以外的答案，將不予評閱。

寫於邊界以外的答案，將不予評閱。

寫於邊界以外的答案，將不予評閱。

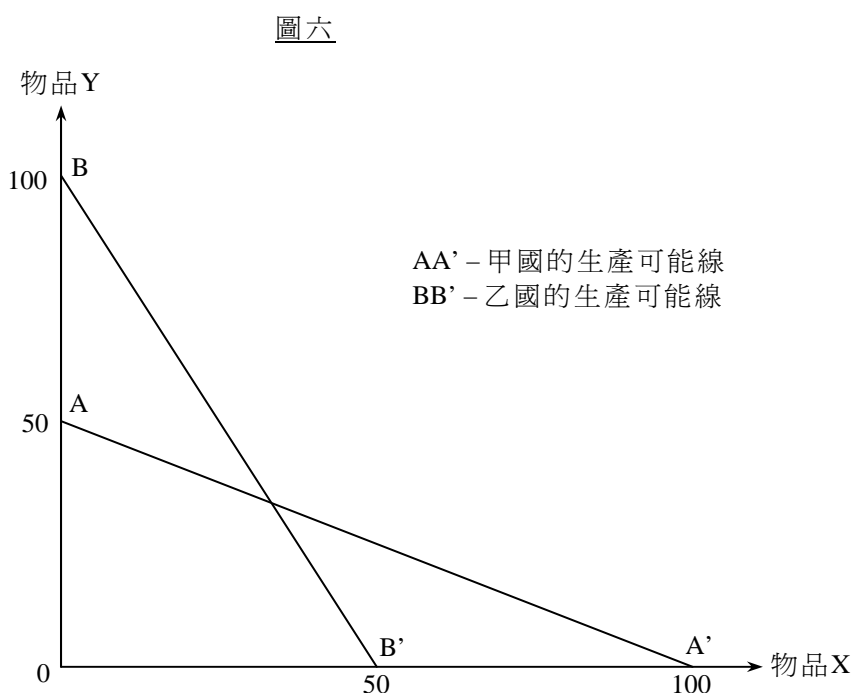
寫於邊界以外的答案，將不予評閱。

寫於邊界以外的答案，將不予評閱。

Large empty area with horizontal dashed lines for writing answers.

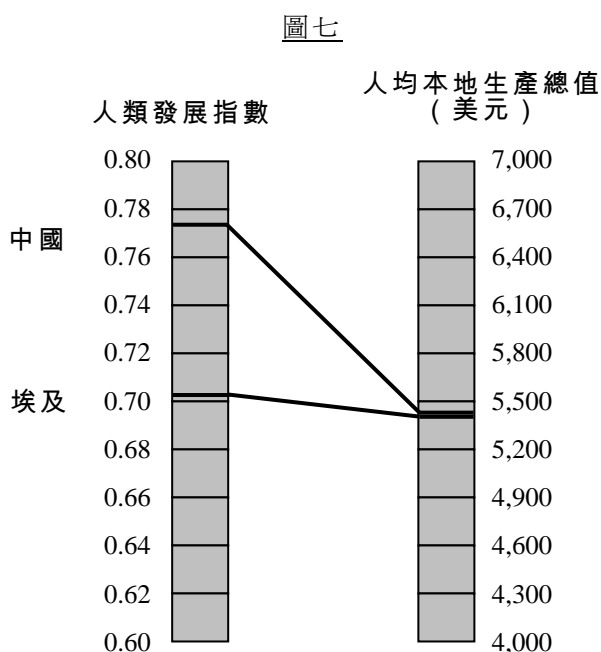
寫於邊界以外的答案，將不予評閱。

16. (a) 圖六顯示甲國和乙國的生產可能線。



- (i) 解釋甲國生產物品X是否有絕對優勢。 (2分)
- (ii) 假設兩國均根據自己的比較優勢而進行完全專門化生產。已知貿易比率是 $1X = 1Y$ ，在圖六畫出甲國和乙國的生產點和消費可能線。 (4分)
- (iii) 根據你在(ii)項的答案，解釋兩國是否均能從貿易中獲益。 (2分)

(b) 圖七顯示中國和埃及於2009年的人類發展指數和人均本地生產總值。



寫於邊界以外的答案，將不予評閱。

寫於邊界以外的答案，將不予評閱。

寫於邊界以外的答案，將不予評閱。

- (i) 提出**兩項**理由，解釋為什麼中國雖然在人均本地生產總值上和埃及相近，但它的人類發展指數卻明顯地較高。 (4分)
- (ii) 在過去十年，中國的人均本地生產總值大幅增加。解釋**兩項**原因為什麼人均本地生產總值的增加可能會高估一般生活水準的改善程度。 (4分)

.....

.....

.....

.....

.....

.....

.....

.....

.....

.....

.....

.....

.....

.....

.....

.....

.....

.....

.....

.....

.....

.....

.....

寫於邊界以外的答案，將不予評閱。

寫於邊界以外的答案，將不予評閱。

試卷完

本試卷所引資料的來源，將於香港考試及評核局稍後出版的《香港中學文憑考試練習卷》內列明。

寫於邊界以外的答案，將不予評閱。

本頁總分

補充答題紙

試題號數：_____

Large rectangular area with horizontal dashed lines for writing answers.

寫於邊界以外的答案，將不予評閱。

寫於邊界以外的答案，將不予評閱。

寫於邊界以外的答案，將不予評閱。

本頁總分

補充答題紙

試題號數：_____

Large rectangular area with horizontal dashed lines for writing answers.

寫於邊界以外的答案，將不予評閱。

寫於邊界以外的答案，將不予評閱。

寫於邊界以外的答案，將不予評閱。

本頁總分

補充答題紙

試題號數：_____

Large rectangular area with horizontal dashed lines for writing answers.

寫於邊界以外的答案，將不予評閱。

寫於邊界以外的答案，將不予評閱。

寫於邊界以外的答案，將不予評閱。

本頁總分

鳴謝 Acknowledgements

本專輯的試題曾引用下列刊物 / 網站的資料：

Material from the following publications/web-sites has been used in question papers in this volume:

United Nations Human Development Reports
Development Programme http://hdrstats.undp.org/en/countries/country_fact_sheets/cty_fs_CHN.html

專輯內試題引用的資料，蒙有關出版社／機構准予使用，本局深表感銘。倘當中引用的資料有未及取得版權持有者同意，或因未悉其來源而有抵觸版權之處，祈為鑒諒。

本局已盡一切努力追溯資料的來源，如有因資料來源錯漏而導致抵觸版權的情況，懇請有關的版權持有者聯絡本局，以便作出適當的安排。

The Authority is grateful to publishers/organisations for permission to include in the question papers material from their publications. We apologise for any infringement of copyright in respect of material printed in this volume, for which permission has not been obtained in time or for which the sources could not be traced.

Every effort has been made to trace copyright. However, in the event of any inadvertent infringement due to errors or omissions, copyright owners are invited to contact us so that we can come to a suitable arrangement.