

經濟 試卷二 試題答題簿

本試卷必須用中文作答


兩小時三十分完卷(上午十時十五分至下午十二時四十五分)

考生須知

- (一) 宣布開考後，考生須首先在第1頁之適當位置填寫考生編號，並在第1、3、5、7、9及11頁之適當位置貼上電腦條碼。
- (二) 本試卷分為甲部及乙部。甲部和乙部試題**均須**回答。
- (三) 答案須寫在本試題答題簿中預留的空位內。不可在各頁邊界以外位置書寫。寫於邊界以外的答案，將不予評閱。
- (四) 如有需要，可要求派發補充答題紙。每一紙張均須填寫考生編號、填畫試題編號方格、貼上電腦條碼，並用繩縛於**簿內**。
- (五) 試場主任宣布停筆後，考生不會獲得額外時間貼上電腦條碼及填畫試題編號方格。

請在此貼上電腦條碼

考生編號



* A 0 8 0 C 0 0 2 *

甲部 (44分)

1. 某電動車生產商收購了一間社交媒體公司。

- (a) 解釋上述情況屬於哪類型的擴張。 (2分)
- (b) 為什麼該電動車生產商選擇收購一間社交媒體公司，而非收購另一間電動車生產商？列出**兩個**可能原因。 (2分)
- (c) 一些經濟學家在社交媒體上免費分享他們的經濟分析。解釋這些經濟分析對社會而言是否免費物品。 (2分)

寫於邊界以外的答案，將不予評閱。

寫於邊界以外的答案，將不予評閱。

寫於邊界以外的答案，將不予評閱。

請在此貼上電腦條碼

2. 細閱以下新聞摘錄。

某郵遞公司決定引入首個數碼員工——智能聊天機器人。該聊天機器人能回答顧客的常見問題，讓客戶服務團隊騰出時間處理較複雜的查詢。

- (a) 解釋該聊天機器人屬哪種生產要素。 (2分)
- (b) 該公司的決定與三個基本經濟問題中的哪一個有關？解釋你的答案。 (2分)

寫於邊界以外的答案，將不予評閱。

寫於邊界以外的答案，將不予評閱。

寫於邊界以外的答案，將不予評閱。

3. 下表顯示某廠商的生產資料。

機械（單位）	勞力（單位）	勞力平均產量（單位）
12	10	10
12	11	12
12	12	15
12	13	17
12	14	16

(a) 根據上述資料，解釋為什麼機械是固定生產要素。 (1分)

(b) 解釋上述資料能否說明邊際回報遞減定律。 (3分)

寫於邊界以外的答案，將不予評閱。

寫於邊界以外的答案，將不予評閱。

寫於邊界以外的答案，將不予評閱。

請在此貼上電腦條碼

4. 相同型號的智能電話在不同商鋪中以不同價格出售。提出**兩個**原因解釋為什麼有些顧客從售價較高的商鋪購買智能電話。
(4分)

寫於邊界以外的答案，將不予評閱。

寫於邊界以外的答案，將不予評閱。

寫於邊界以外的答案，將不予評閱。

5. 參看以下對話。

老師： 若生產一件物品的每單位邊際成本上升，總社會盈餘便會下降。

學生： 依你所言，每單位邊際成本上升會導致經濟無效率。

(a) 以圖表闡釋老師的陳述。 (2分)

(b) 解釋你是否同意該學生的回應。 (2分)

寫於邊界以外的答案，將不予評閱。

寫於邊界以外的答案，將不予評閱。

寫於邊界以外的答案，將不予評閱。

請在此貼上電腦條碼

6. 細閱以下有關香港的統計資料。

年份	勞動人口 (千人)
2020	3 918.5
2021	3 870.4

「上述勞動人口的改變，必然意味着 2021 年香港的失業率上升。」你同意嗎？解釋你的答案。
(4 分)

寫於邊界以外的答案，將不予評閱。

寫於邊界以外的答案，將不予評閱。

Area with horizontal dashed lines for writing the answer.

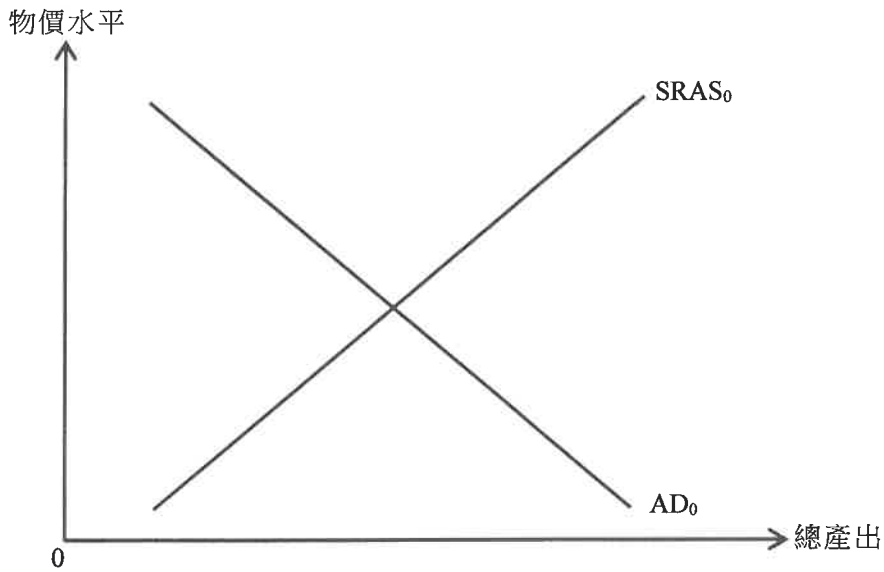
寫於邊界以外的答案，將不予評閱。

7. 某國有通縮（產出）差距。

(a) 在圖 1 標示通縮（產出）差距。 (1分)

(b) 為吸引旅客，該國政府放寬入境旅客的隔離要求。以圖 1 輔助，解釋通縮（產出）差距會如何受到影響。 (5分)

圖 1



寫於邊界以外的答案，將不予評閱。

寫於邊界以外的答案，將不予評閱。

寫於邊界以外的答案，將不予評閱。

請在此貼上電腦條碼

8. 甲國的資源是乙國的兩倍。假設甲、乙兩國用上**所有**資源進行生產。它們的最高產量如下表所示：

	電腦（單位）	或	稻米（單位）
甲國	800		500
乙國	400		300

- (a) 解釋甲國生產電腦是否享有

- (i) 絕對優勢。
- (ii) 比較優勢。

(5分)

- (b) 假設電腦進口國每進口1單位電腦，須支付0.05單位稻米作為運輸費用。找出能令兩國在交易中互利的貿易比率範圍（以1單位電腦計算）。

(2分)

寫於邊界以外的答案，將不予評閱。

寫於邊界以外的答案，將不予評閱。

寫於邊界以外的答案，將不予評閱。

寫於邊界以外的答案，將不予評閱。

寫於邊界以外的答案，將不予評閱。

9. 圖 2：美元價值（以日圓計算）

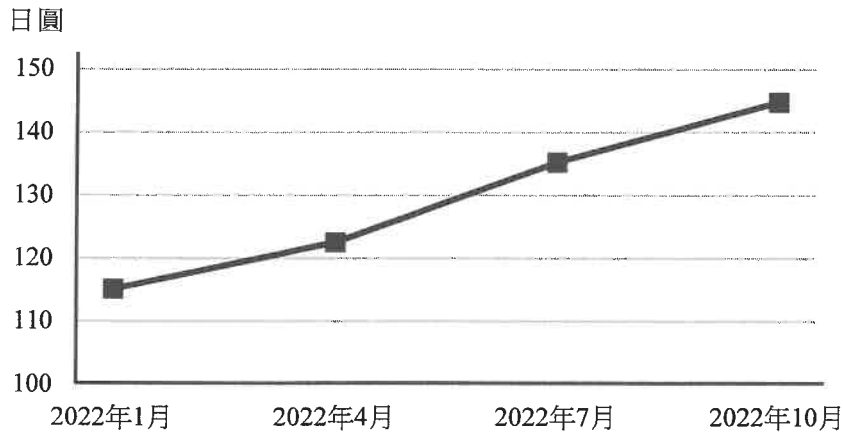
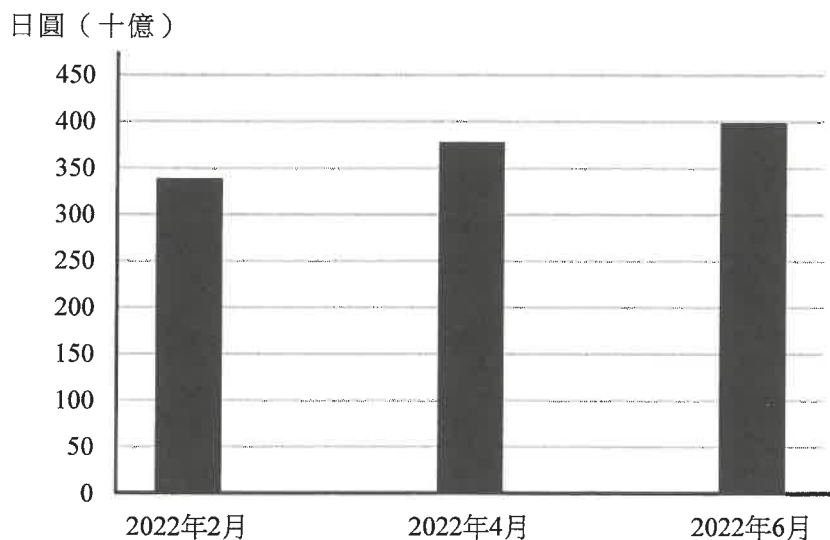


圖 3：香港從日本輸入的進口總值（以日圓計算）




- (a) 參考圖 2。在香港的聯繫匯率制度之下，2022 年 1 月至 10 月期間，日圓兌港元匯率有何改變？ (1 分)
- (b) 「上述期間日圓兌港元匯率的改變，可解釋圖 3 所顯示的進口總值的改變。」以圖 4 輔助，論證以上陳述。
(為了簡化情況，假設以日圓計算，香港從日本輸入的進口的價格沒有改變。) (4 分)

寫於邊界以外的答案，將不予評閱。

請在此貼上電腦條碼

圖 4



寫於邊界以外的答案，將不予評閱。

寫於邊界以外的答案，將不予評閱。

甲部完

寫於邊界以外的答案，將不予評閱。

乙部 (60 分)

10. 在 2022 年，香港財政司司長宣布發行銀色債券，供 60 歲或以上市民認購。該批銀色債券的名義利率與香港實際通脹率相等，下限為 4%。
- (a) 從年長市民的角度，解釋持有銀色債券相對於持有現金的**一項優點**和**一項缺點**。
(4 分)
- (b) 假設預期通脹率為 4.5%，而最終出現 1% 的實際通縮。
- (i) 計算該批銀色債券的預期和實際實質回報率。
(2 分)
- (ii) 根據題 (b)(i) 的答案，解釋該批銀色債券持有人會有得益還是有損失。
(2 分)
- (c) 假設大量年長市民從他們的銀行戶口提款以購買銀色債券。
- (i) 描述上述提款可能導致的存款創造／收縮過程。
(3 分)
- (ii) 提出**一個**原因解釋為什麼在現實中，上述提款未必導致存款創造／收縮。
(2 分)
- (d) 政府在 2022 年發行了價值 450 億元的銀色債券。解釋該 450 億元是否包括在香港 2022 年本地生產總值的計算之內。
(2 分)
- (e) 財政司司長收取固定月薪。
一名教師說：「財政司司長不可能以件計薪。」論證該教師的陳述。
(2 分)

寫於邊界以外的答案，將不予評閱。

寫於邊界以外的答案，將不予評閱。

寫於邊界以外的答案，將不予評閱。

寫於邊界以外的答案，將不予評閱。

寫於邊界以外的答案，將不予評閱。

寫於邊界以外的答案，將不予評閱。

寫於邊界以外的答案，將不予評閱。

寫於邊界以外的答案，將不予評閱。



11. 在香港，人氣歌手的歌迷經常投訴未能以官方票價購買偶像的演唱會門票。

(a) 圖 5 顯示某香港人氣歌手演唱會門票的需求與供應。以圖 5 輔助，解釋上述現象。
(4 分)

部分未能透過官方途徑購買演唱會門票的歌迷，會選擇以遠高於官方票價的價錢向黃牛黨購買門票。

(b) 上述情況說明了哪項價格的功能？解釋你的答案。
(2 分)

以下是一些有關某演唱會的訪問節錄。

一名家庭主婦 	我在官方售票處排隊，如我所料，輪候了 10 小時，終於能買到一張門票！
演唱會主辦單位 	假如我們早知道歌迷這麼捧場，我們會為這次演唱會開辦更多場次。這樣有助降低每場的平均成本。

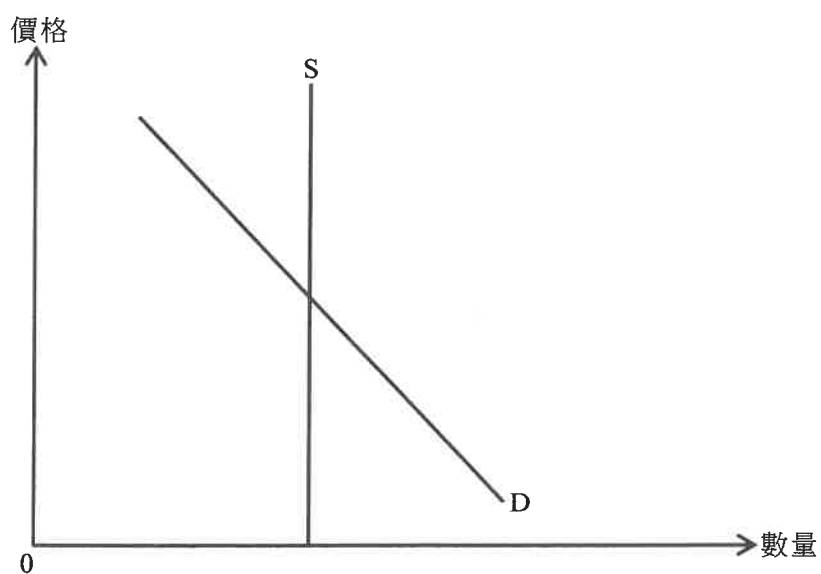
(c) 參考該家庭主婦的訪問。以機會成本為依據，解釋為什麼她選擇從官方售票處購買該演唱會門票，而非向黃牛黨購買。
(3 分)

(d) 參考該演唱會主辦單位的訪問。提出兩個原因解釋為什麼同一個演唱會開辦更多場次，或有助降低每場的平均成本。
(4 分)

(e) 觀察所見，來自海外的歌迷透過官方途徑購買演唱會門票時，傾向購買較高價的門票。根據需求定律，解釋這個現象。
(2 分)

寫於邊界以外的答案，將不予評閱。

圖 5



寫於邊界以外的答案，將不予評閱。

寫於邊界以外的答案，將不予評閱。

寫於邊界以外的答案，將不予評閱。

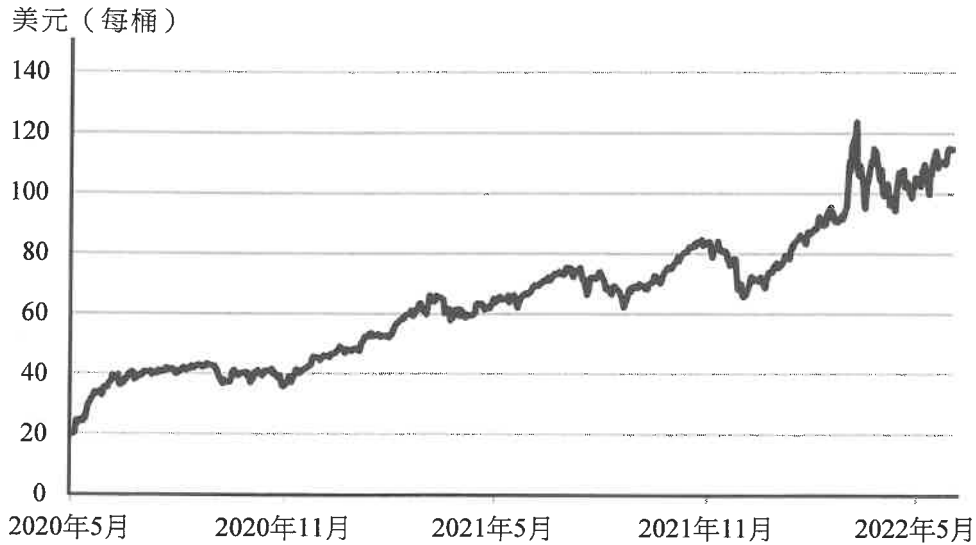
寫於邊界以外的答案，將不予評閱。

寫於邊界以外的答案，將不予評閱。

寫於邊界以外的答案，將不予評閱。

12. 通脹是美國的關注事項。人們對通脹成因有不同見解，包括原油價格上升、擴張性貨幣政策，以及高額進口關稅。

資料A：2020年5月至2022年5月期間的原油價格




資料B：某論壇的參與者就能源價格發表的一些觀點

一名製造商代表：

原油價格變動對我們影響重大。我們很多產品，例如汽油和塑膠，都由原油製成。

一名典型的美國市民：

我們的日常活動，例如駕車上班，都需要汽油。儘管我們已盡力嘗試減少使用汽油，但我們的汽油賬單金額依然不斷上升。



資料C：美國的貨幣供應

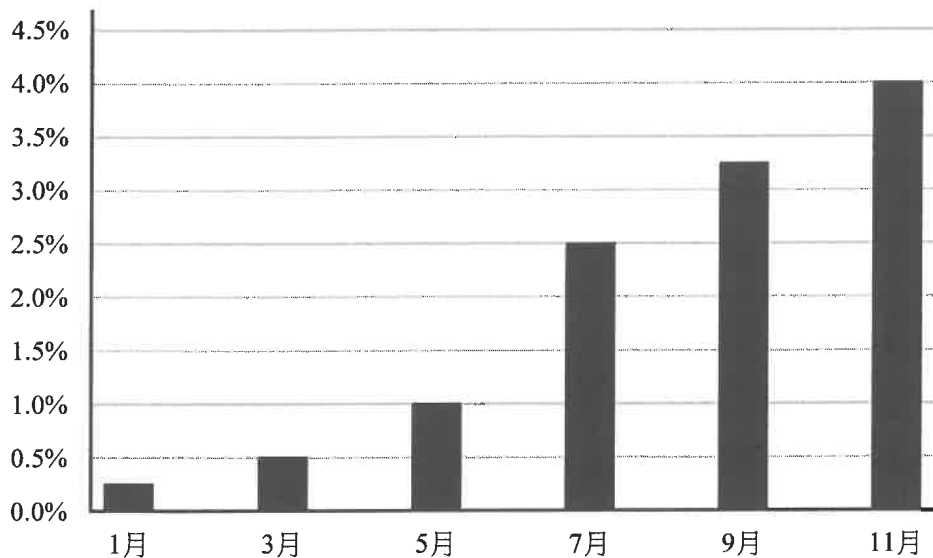
	2020年5月	2021年5月
貨幣供應 (十億美元)	17766.9	20319.6

寫於邊界以外的答案，將不予評閱。

寫於邊界以外的答案，將不予評閱。



寫於邊界以外的答案，將不予評閱。

資料D：2022年1月至11月期間美國聯邦儲備局*的貼現率



* 聯邦儲備局是美國的中央銀行。

資料E：關於美國對中國進口貨品徵收關稅的一些意見

 <p>一名美國生產商</p>	若不提高我們的產品價格，我們就無法再負擔中國進口原料的關稅成本了。
 <p>一名經濟學家</p>	關稅導致從中國進口的消費品價格上升。這對低收入住戶造成的負擔較對高收入住戶為大。

(a) 參考資料 A 及資料 B。

- (i) 解釋資料 A 所顯示的原油價格變動如何影響汽油價格。 (3分)
- (ii) 參考題 (a)(i) 的答案，解釋為什麼消費者對汽油的總支出會上升。 (3分)

(b) 參考資料 C。根據貨幣數量論，解釋在什麼條件之下，資料顯示的貨幣供應變動會導致短期的一般物價水平上升。 (3分)

(c) 參考資料 D。資料顯示的貼現率變動如何有助舒緩物價水平的上升壓力？毋須繪圖，根據總供應及／或總需求的概念，解釋你的答案。 (5分)

寫於邊界以外的答案，將不予評閱。

寫於邊界以外的答案，將不予評閱。

寫於邊界以外的答案，將不予評閱。

考生須以短文形式回答 (d) 部，評分準則包括運用資料及經濟理論、內容切題、鋪排合乎邏輯以及表達清晰。

(d) 除調整貼現率外，有人建議另外兩項美國應付通脹的策略。

策略 1	提高高收入人士的薪俸稅稅率
策略 2	取消向中國進口貨品徵收關稅

參考資料 A 至資料 E，並就你對經濟學的認識，分別討論上述兩項策略對美國經濟在以下方面的影響：

- 物價水平
- 公平
- 貿易差額

(14 分)

寫於邊界以外的答案，將不予評閱。

寫於邊界以外的答案，將不予評閱。

Area with horizontal dashed lines for writing the answer.

寫於邊界以外的答案，將不予評閱。

寫於邊界以外的答案，將不予評閱。

寫於邊界以外的答案，將不予評閱。

寫於邊界以外的答案，將不予評閱。

寫於邊界以外的答案，將不予評閱。

寫於邊界以外的答案，將不予評閱。

寫於邊界以外的答案，將不予評閱。

寫於邊界以外的答案，將不予評閱。

寫於邊界以外的答案，將不予評閱。

A large rectangular area with horizontal dashed lines, intended for writing answers. The lines are evenly spaced and extend across the width of the page.

寫於邊界以外的答案，將不予評閱。

寫於邊界以外的答案，將不予評閱。

寫於邊界以外的答案，將不予評閱。

試卷完

本試卷所引資料的來源，將於香港考試及評核局稍後出版的《香港中學文憑考試試題專輯》內列明。

寫於邊界以外的答案，將不予評閱。

補充答題紙

試題編號： _____

寫於邊界以外的答案，將不予評閱。

寫於邊界以外的答案，將不予評閱。

A large rectangular area with horizontal dashed lines for writing answers. The lines are evenly spaced and extend across the width of the page, leaving a margin on both sides.

寫於邊界以外的答案，將不予評閱。