

經濟 試卷一

一小時完卷(上午八時三十分至上午九時三十分)

考生須知

- (一) 細讀答題紙上的指示。宣布開考後，考生須首先於適當位置貼上電腦條碼及填上各項所需資料。宣布停筆後，考生不會獲得額外時間貼上電腦條碼。
- (二) 試場主任宣布開卷後，考生須檢查試題有否缺漏，最後一題之後應有「**試卷完**」字樣。
- (三) 本試卷各題佔分相等。
- (四) **本試卷全部試題均須回答**。為便於修正答案，考生宜用 HB 鉛筆把答案填畫在答題紙上。錯誤答案可用潔淨膠擦將筆痕徹底擦去。考生須清楚填畫答案，否則會因答案未能被辨認而失分。
- (五) 每題只可填畫**一個**答案，若填畫多個答案，則該題**不給分**。
- (六) 答案錯誤，不另扣分。

本試卷共 45 題。選擇每題中的**最佳**答案。

1. 張先生兩年前以 \$5 000 000 購入一個餐廳鋪位，並於該鋪位出售「兩餸飯」。由於他的店鋪附近最近開了一些新餐廳，導致他每月的利潤由 \$30 000 下降至 \$10 000。一名商人提出以每月 \$15 000 租金租用張先生的鋪位。

下列哪項屬張先生繼續於該鋪位經營「兩餸飯」生意的機會成本？

- A. 該鋪位的購入價 \$5 000 000
 - B. 每月 \$10 000 的利潤
 - C. 每月 \$15 000 的租金
 - D. 每月減少了的 \$20 000 利潤
2. 志傑是一名香港中六學生，他打算到韓國畢業旅行。以下哪項會令他到韓國畢業旅行的成本下降？
- A. 港元兌南韓圓升值。
 - B. 由韓國飛往香港的回程航班延誤。
 - C. 韓國的新冠肺炎確診宗數大幅上升。
 - D. 韓國的酒店服務比他預期的好。

3. 一支香港樂隊採用了實名登記制發售其演唱會門票。這些門票不可轉讓，所以炒賣的機會減少。

以下哪項／哪些有關上述實名登記制的陳述是正確的？

- (1) 這是解決「生產什麼」的問題的一個機制。
 - (2) 在該機制下，門票的私有產權會被削弱。
 - (3) 在該機制下，門票的分配並不涉及非價格競爭。
- A. 只有(1)
 - B. 只有(2)
 - C. 只有(3)
 - D. (1)、(2)及(3)

4. 以下哪項／哪些是規範性陳述？

- (1) 推行消費券計劃會導致通脹。
- (2) 宣傳旅遊業是刺激經濟增長的最適切的途徑。
- (3) 政府應繼續吸引內地企業來港投資。

- A. 只有(1)
- B. 只有(3)
- C. 只有(1)、(2)
- D. 只有(2)、(3)

5. 下列哪項有關物品分類的陳述是正確的？

- A. 街頭藝人所用的樂器是共用品，因為用這些樂器演奏的音樂可被多人同時享用。
- B. 課本是私用品，因為生產多一個單位的課本的邊際成本是正數。
- C. 香港故宮文化博物館展出的藝術品是消費者物品，因為它們的生產涉及成本。
- D. 受歡迎的免費網上英語學習影片是經濟物品，因為它們的數量不足夠滿足人們的慾望。

6. 下列哪項會同時提高某經濟的勞力供應和平均勞工生產力？

- A. 政府提高失業救濟金額。
- B. 免費教育延伸至大學課程。
- C. 更多廠商安裝先進的生產設備。
- D. 一項為高技術人才而設的入境計劃的配額增加。

7. 若_____，該經濟中勞工的職業流動性會下降。

- A. 居於偏遠地區的工人獲發交通津貼
- B. 更多工作需要專門化的技能
- C. 法定退休年齡由 65 歲提高至 70 歲
- D. 政府提供更多免費的再培訓課程

8. 參閱以下有關在香港的甲廠商及乙廠商的資料。

	甲廠商	乙廠商
東主數目	3	50
向公眾發行股票	不可能	可能
向公眾披露財務資料	不需要	需要

根據上述資料，我們可得出結論如下：

- A. 乙廠商籌集到的資金比甲廠商多。
- B. 兩家廠商的東主在轉讓其擁有權時，均需獲得其他東主同意。
- C. 甲廠商可能比乙廠商享有較低的利得稅稅率。
- D. 乙廠商是獨立法人而甲廠商不是。

9. 下表顯示某受價成衣工廠的資料。該工廠的固定成本為 \$10。

產出(單位)	總成本(\$)
6	48
7	63
8	80
9	99
10	120
11	143

假設成衣的市場價格由 \$17 上升至 \$19，而該工廠的固定成本則上升了 \$2。結果，該工廠利潤極大化的產量會 _____，而利潤會 _____。

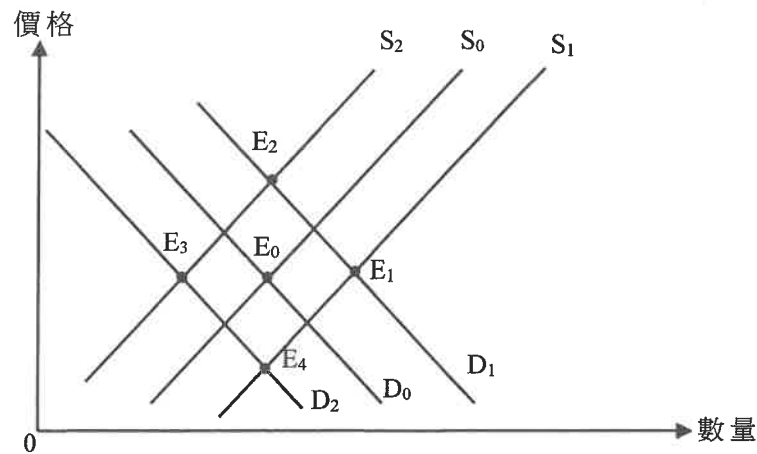
- A. 維持不變 …… 上升至 \$56
 - B. 維持不變 …… 上升至 \$70
 - C. 上升 1 單位 …… 上升至 \$70
 - D. 上升 1 單位 …… 上升至 \$82
10. 下列哪項與需求定律**並**不相符？
- A. 當某主題公園降低其門票價格，平均而言，遊客於該主題公園逗留更長時間。
 - B. 當人們預期按揭利率上升，私人住宅單位的價格與交易量同時下降。
 - C. 相比居於超市附近的顧客，居所遠離超市的顧客每次到超市時傾向購買較多物品。
 - D. 若香港政府縮短入境人士的隔離檢疫期，訪港旅客人數會上升。

11. 當物品 X 和物品 Y 屬 _____，物品 X 的價格下降會導致 _____。

- (1) 競爭性需求 …… 物品 Y 的價格下降
- (2) 聯合需求 …… 物品 Y 市場上的生產者盈餘下降
- (3) 競爭性供應 …… 物品 Y 市場上的消費者盈餘上升
- (4) 聯合供應 …… 消費者對物品 Y 的總支出下降

- A. 只有(1)、(3)
- B. 只有(1)、(4)
- C. 只有(2)、(3)
- D. 只有(2)、(4)

12. 下圖顯示電動車的供需曲線。原初的均衡點是 E_0 。



假設電動車的生產成本上升。同時，涉及電動車的交通意外數字持續減少，令消費者對電動車的信心提高。結果，新的均衡點會是 _____。

- A. E_1
- B. E_2
- C. E_3
- D. E_4

13. 半導體晶片是生產智能電話的關鍵組件。

由於全球半導體晶片短缺，智能電話的銷售量有 10% 的變動，而智能電話的價格則上升了 20%。下列哪項最能解釋上述智能電話價格與銷售量的轉變？

- A. 智能電話沒有接近的替代品。
- B. 智能電話生產商有剩餘的產能。
- C. 消費者在智能電話的開支佔其總開支的比例高。
- D. 生產智能電話的工人不容易招聘。

14. 假設口罩的需求曲線是一條向下傾斜的直線。當口罩價格由 \$5 下降至 \$4 時，消費者對口罩的總支出維持不變。若口罩價格再由 \$4 下降至 \$3，消費者對口罩的總支出
- 會上升。
 - 會下降。
 - 會維持不變。
 - 可能上升、下降或維持不變。
15. 菠蘿原初的均衡價格為 \$5。假設政府對菠蘿開徵 \$4 的從量稅。若菠蘿的需求彈性 _____ 其供應彈性，新的均衡價格可以是 _____。
- 高於 …… \$6
 - 高於 …… \$8
 - 低於 …… \$7
 - 低於 …… \$8
- 只有 (1)、(3)
 - 只有 (1)、(4)
 - 只有 (2)、(3)
 - 只有 (2)、(4)

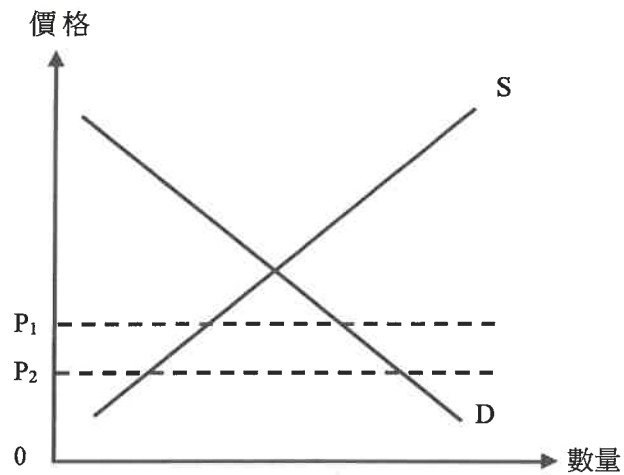
16. 參閱以下物品 X 的市場供需表。

單位價格 (\$)	10	15	20	25	30	35
需求量 (單位)	140	120	100	80	60	40
供應量 (單位)	80	80	80	80	80	80

下列哪項有關物品 X 市場的陳述是正確的？

- 若價格上限設於 \$10，物品 X 的交易量會是 140 單位。
- 若生產配額設於 40 單位，物品 X 的價格及交易量會維持不變。
- 若提供 \$5 的從量補貼，物品 X 的均衡價格會下降至 \$20。
- 若徵收 \$5 的從量稅，物品 X 的除稅後總收入會下降至 \$1 600。

17. 下圖顯示某物品的供需曲線。



假設政府將價格下限由 P_1 改為 P_2 。下列哪項／哪些陳述是正確的？

- (1) 該物品的最後一個單位的邊際利益會下降。
- (2) 該物品的超額需求會上升。
- (3) 消費者對該物品的總支出會下降。
- (4) 該物品的交易量會維持不變。

- A. 只有(4)
- B. 只有(1)、(4)
- C. 只有(2)、(3)
- D. 只有(1)、(2)、(3)

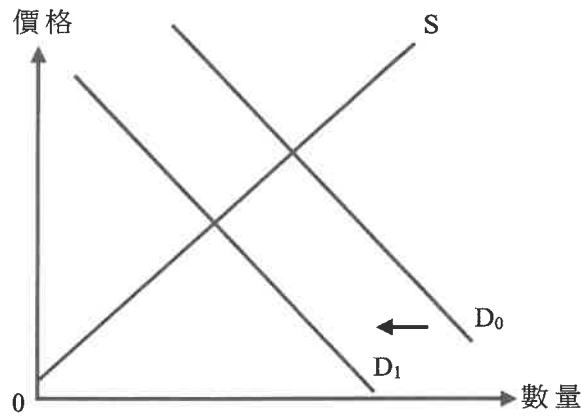
18. 下表顯示 2021 年香港強制性公積金受託人的市場佔有率分布。

強制性公積金受託人	市場佔有率
宏利	25.8%
匯豐	18.6%
永明	10.4%
友邦	9.1%
其他	36.1%

根據以上資料，可得出結論如下：上述市場是 _____ 市場的一個例子，因為 _____。

- A. 寡頭壟斷 …… 賣家的營銷策略互為影響
- B. 寡頭壟斷 …… 市場上有數家具支配力的賣家
- C. 壟斷性競爭 …… 市場上有大量賣家
- D. 壟斷性競爭 …… 不同賣家所提供的服務是異質的

19. 參考以下有關某經濟本地蔬菜市場的圖表。



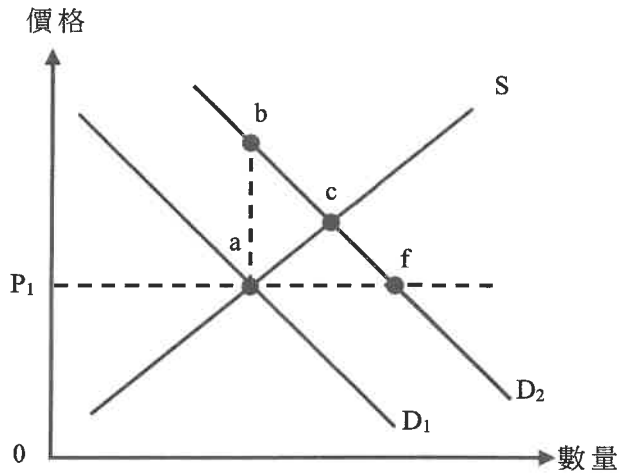
需求曲線由 D_0 移至 D_1 _____。

- A. 可以是由本地蔬菜價格上升所導致
- B. 會令本地蔬菜的最後一個單位的邊際成本上升
- C. 會引致經濟缺乏效率
- D. 可以是由進口蔬菜的銷售稅下降所導致

20. 向某物品提供從量生產補貼會導致 _____。

- A. 該物品的生產者盈餘下降
- B. 消費者對該物品的總支出上升
- C. 該物品的總社會盈餘上升
- D. 該物品包括補貼在內的總收入上升

21. 下圖顯示物品 Z 的供需曲線。



假設價格上限設於 P_1 。當物品 Z 的需求從 D_1 上升至 D_2 ，會出現 _____，效率損失為 _____。

- A. 過度生產 …… 面積 abc
- B. 過度生產 …… 面積 acf
- C. 生產不足 …… 面積 abc
- D. 生產不足 …… 面積 acf

22. 塑膠飲管是塑膠廢料的主要源頭。大部分塑膠飲管會分解成較細小的粒子，釋出危害環境的化學物質。

根據以上資料，下列哪項陳述是正確的？

- A. 塑膠飲管的使用引致負面界外影響，而塑膠飲管的使用量低於效率水平。
- B. 為達至總社會盈餘極大化，各地政府應全面禁止使用塑膠飲管。
- C. 對提供塑膠飲管予顧客的業務徵收一項定額稅，必然可以回復塑膠飲管市場的效率。
- D. 向環保紙飲管生產者提供從量補貼，傾向降低塑膠飲管市場的效率損失。

23. 細閱以下有關某經濟的資料。

	2016	2021
按除稅及福利轉移後住戶收入計算的堅尼系數	0.398	0.407

以下哪些有可能解釋以上從 2016 年到 2021 年的改變？

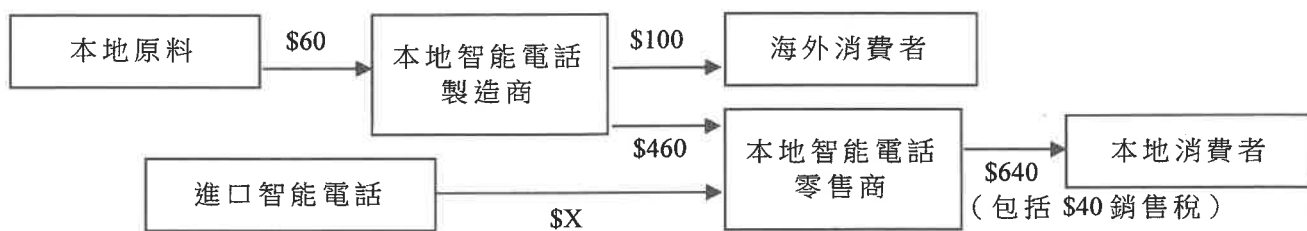
- (1) 稅制由累進稅變成累退稅。
- (2) 累進薪俸稅的稅階擴闊。
- (3) 向低收入住戶發放的轉移支付增加。

- A. 只有(1)、(2)
- B. 只有(1)、(3)
- C. 只有(2)、(3)
- D. (1)、(2)及(3)

24. 下列哪項會包括在香港本地生產總值的計算之內？

- A. 某學生所購買的一輛二手單車的價值
- B. 某經紀協助客戶交易股票所賺取的佣金
- C. 某住戶轉售一間住宅物業所賺取的資本增值
- D. 有需要人士在綜合社會保障援助計劃下所收取的援助金

25. 下圖顯示某經濟中智能電話的生產鏈。



若以上生產鏈對該經濟的本地生產總值（以要素成本計算）的貢獻是 \$560，X 的數值是_____。

- A. 40
- B. 80
- C. 140
- D. 180

26. 下表顯示某經濟於某年度的資料。

海外要素收入流入	\$140 億
海外要素收入流出	\$980 億
直接稅	\$950 億
間接稅	\$230 億
生產補貼	\$570 億
本地生產總值平減物價指數	117

下列哪些有關該經濟的陳述是正確的？

- (1) 本地生產總值高於本地居民總收入。
- (2) 以要素成本計算的本地生產總值高於以市價計算的本地生產總值。
- (3) 名義本地生產總值高於實質本地生產總值。

- A. 只有(1)、(2)
- B. 只有(1)、(3)
- C. 只有(2)、(3)
- D. (1)、(2)及(3)

27. 細閱下列有關某國的資料。

年份	2020	2021
失業人口（百萬）	176.9	175.4
失業率(%)	3.8	4.0

下列哪項最能解釋上述國家從 2020 年到 2021 年的改變？

- A. 更多人尋找工作。
- B. 更多就業人士移民到其他國家。
- C. 政府提高有效的最低工資率。
- D. 政府提高失業救濟金額。

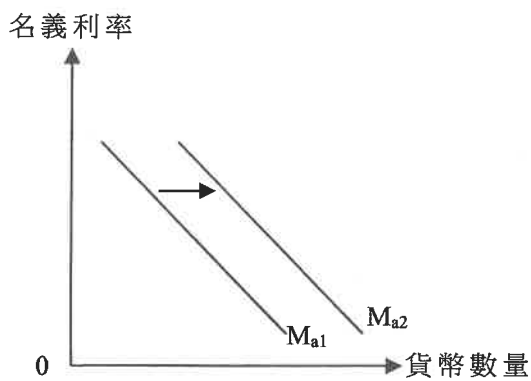
28. 假設某國的主要貿易夥伴的國民收入下降。下列哪項會抵銷其對該國總產出的影響？

- A. 政府提高薪俸稅退稅金額。
- B. 政府對入境旅客實施更嚴緊的隔離要求。
- C. 廠商對該國的經濟前景變得悲觀。
- D. 業主提高寫字樓及零售鋪位的租金。

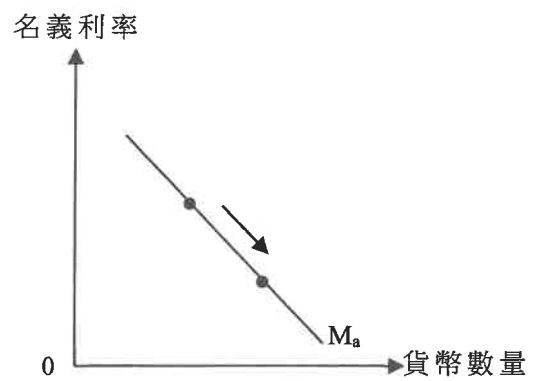
29. 假設股票市場日趨波動。下列哪幅圖最能說明上述改變對貨幣市場的影響？

M_a = 資產性貨幣需求
 M_t = 交易性貨幣需求

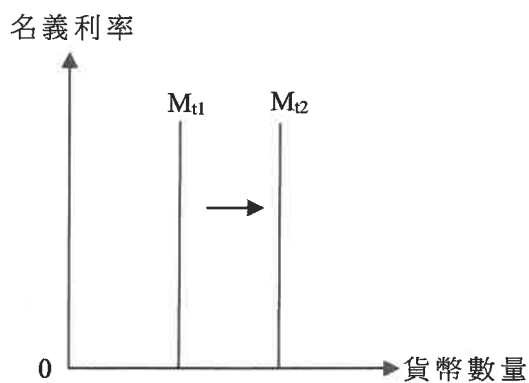
A.



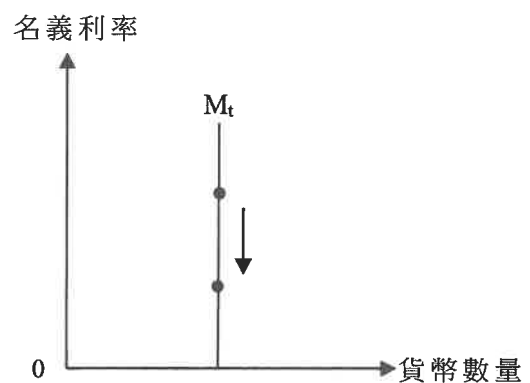
B.



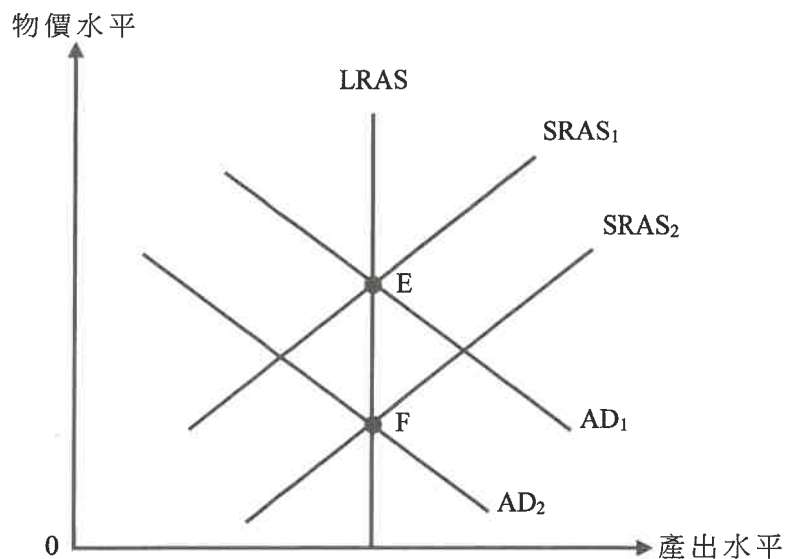
C.



D.



30. 下圖顯示某經濟的總需求 (AD) 曲線、短期總供應 (SRAS) 曲線及長期總供應 (LRAS) 曲線。該經濟原初在 E 點運作。



下列哪項會導致長期均衡點由 E 改變為 F?

- A. 住戶儲蓄意慾上升。
 - B. 要素投入的價格下降。
 - C. 政府為工人提供更多再培訓課程。
 - D. 法定儲備比率下降。
31. 下列哪項是香港金融管理局的功能?
- A. 向持牌銀行及公眾提供貸款
 - B. 管理外匯儲備
 - C. 決定市場利率
 - D. 為政府收取稅款
32. 下列哪項會令貨幣基礎上升?
- A. 中央銀行調高貼現率。
 - B. 中央銀行調低法定儲備比率。
 - C. 中央銀行從公眾購入政府債券。
 - D. 中央銀行以塑質鈔票取代部分流通的紙質鈔票。

33. 嘉雯從一間香港的持牌銀行提取港幣 \$600 000 儲蓄存款。她將三分之一的金額存入她的往來戶口，並將餘額匯至海外。

上述行動對港元貨幣供應量有什麼即時的影響？

- (1) 貨幣供應定義一上升港幣 \$200 000。
(2) 貨幣供應定義二下降港幣 \$600 000。
(3) 貨幣供應定義三下降港幣 \$400 000。

- A. 只有(1)、(2)
B. 只有(1)、(3)
C. 只有(2)、(3)
D. (1)、(2)及(3)

34. 參閱以下某銀行系統的資產負債表。該系統的超額儲備是 125 百萬元。

資產（百萬元）		負債（百萬元）	
儲備	500	存款	1 500
貸款	1 000		

下列哪項有關上述銀行系統的陳述是正確的？

- A. 實際銀行乘數是 4。
B. 若該銀行系統借出所有超額儲備，在存款創造的過程完成後，儲備金額會下降。
C. 若該銀行系統借出所有超額儲備，貸款額增加的可能最大值是 500 百萬元。
D. 若公眾從該銀行系統提取 125 百萬元，並以現金持有該筆款項，超額儲備會即時下降至零。

35. 博文住在他於灣仔新購置的物業。他在香港的股票市場進行股票交易賺得 \$100 000。

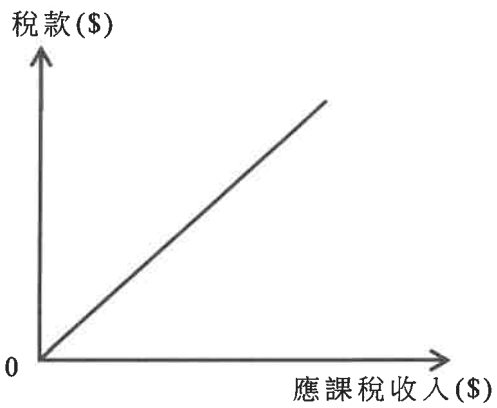
根據以上資料，博文要向香港政府支付_____。

- (1) 資本增值稅
(2) 物業稅
(3) 差餉
(4) 印花稅

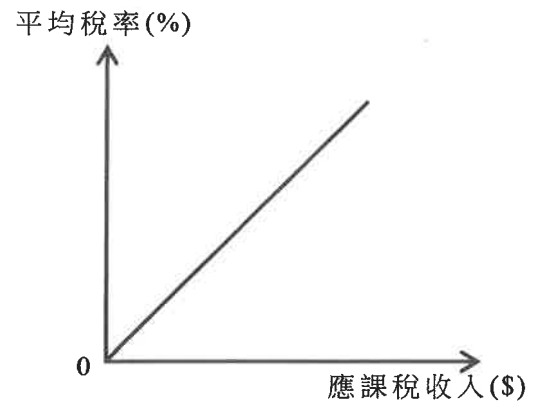
- A. 只有(1)、(3)
B. 只有(2)、(4)
C. 只有(3)、(4)
D. 只有(1)、(2)、(3)

36. 下列哪些圖描繪累進稅？

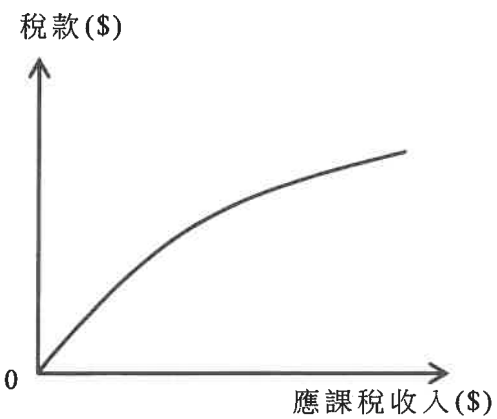
(1)



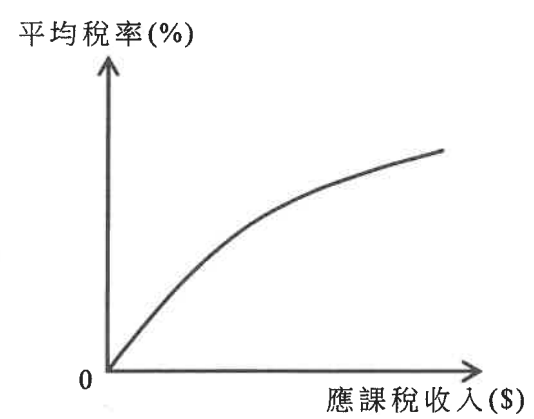
(2)



(3)



(4)



- A. 只有(1)、(2)
- B. 只有(1)、(3)
- C. 只有(2)、(4)
- D. 只有(3)、(4)

37. 根據古典貨幣數量論，若某經濟的貨幣供應上升 8%，_____。

- A. 政府的入息稅稅收會上升 8%
- B. 名義產出會上升 8%
- C. 實質產出會上升 8%
- D. 物價水平可能上升少於 8%

38. 下表顯示香港的綜合消費物價指數。

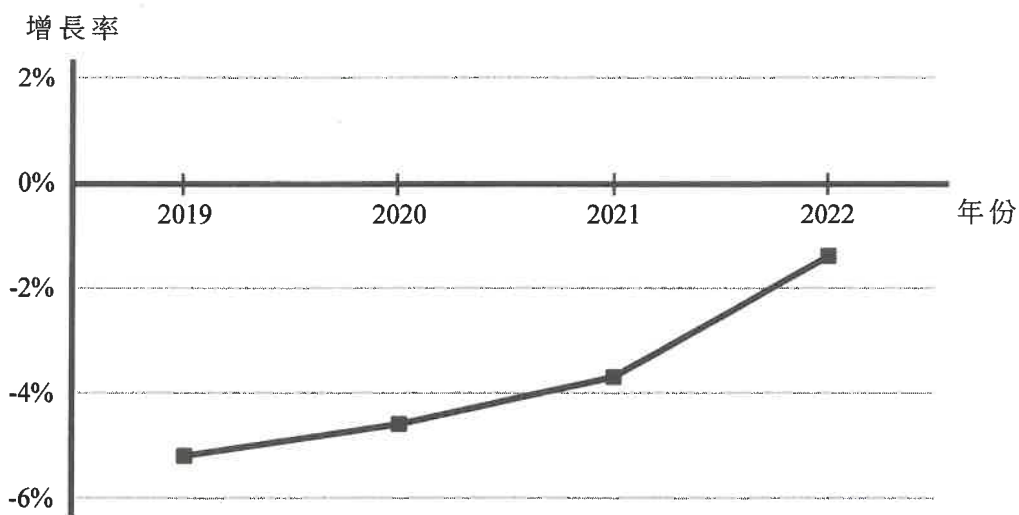
年份	綜合消費物價指數
2020	99.9
2021	101.4

假設人們預期由 2020 年至 2021 年的物價水平沒有任何轉變。當出現以上的物價水平轉變時，下列哪位人士會有得益？

- A. 一位在 2020 年以固定利率向某企業借出一筆一年期貸款的貸款人
- B. 一位 2021 年的薪金是按通脹率調整的僱員
- C. 一位在 2020 年及 2021 年均支付固定學費的學生
- D. 一位在 2020 年至 2021 年間持有銀行定期存款的長者

39. 下圖顯示某國的本地生產總值平減物價指數的變動。

本地生產總值平減物價指數按年增長率



根據上圖，下列哪些有關該國於上述期間的陳述是正確的？

- (1) 貨幣的購買力上升了。
 - (2) 名義本地生產總值增長率低於實質本地生產總值增長率。
 - (3) 生活成本上升了。
- A. 只有(1)、(2)
 - B. 只有(1)、(3)
 - C. 只有(2)、(3)
 - D. (1)、(2)及(3)

40. 下列哪項會令某經濟的物價水平上升，同時令該經濟的就業水平下降？

- A. 政府調低利得稅稅率。
- B. 相對於其貿易夥伴的貨幣，該經濟的貨幣升值。
- C. 政府增加研究及發展的開支。
- D. 進口原料的價格上升。

41. 下列哪些是擴張性財政政策的例子？

- (1) 提高薪俸稅的子女免稅額
 - (2) 推行一項消費券計劃
 - (3) 調低法定儲備比率
- A. 只有(1)、(2)
 - B. 只有(1)、(3)
 - C. 只有(2)、(3)
 - D. (1)、(2)及(3)

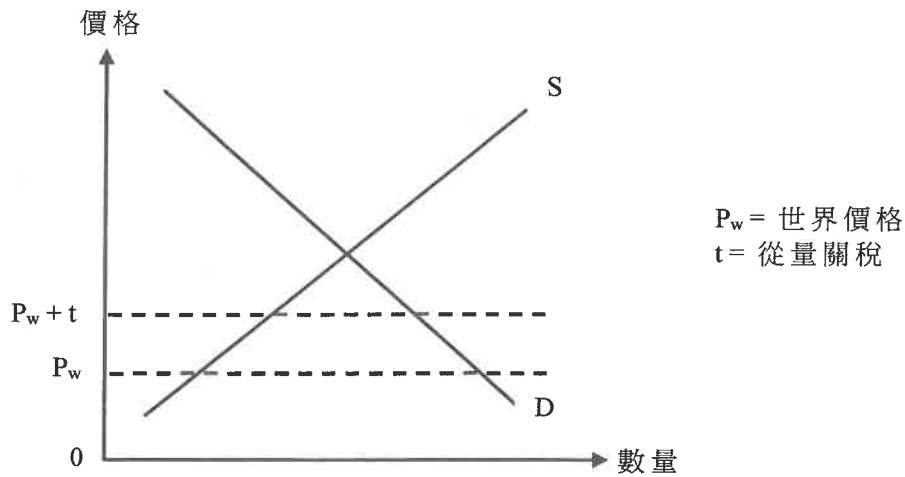
42. 下表顯示甲國和乙國以一單位的資源可生產的蘋果或桃子數量。

	蘋果（單位）		桃子（單位）
甲國	100	或	80
乙國	180	或	90

根據上表，下列哪些陳述是正確的？

- (1) 甲國生產 1 單位蘋果的機會成本是 0.8 單位桃子。
 - (2) 乙國生產蘋果有絕對優勢。
 - (3) 一個互惠互利的貿易比率可以是 1 單位蘋果 = 0.7 單位桃子。
- A. 只有(1)、(2)
 - B. 只有(1)、(3)
 - C. 只有(2)、(3)
 - D. (1)、(2)及(3)

43. 下圖顯示某小型開放經濟中物品 X 的市場。該經濟對物品 X 徵收了從量關稅。



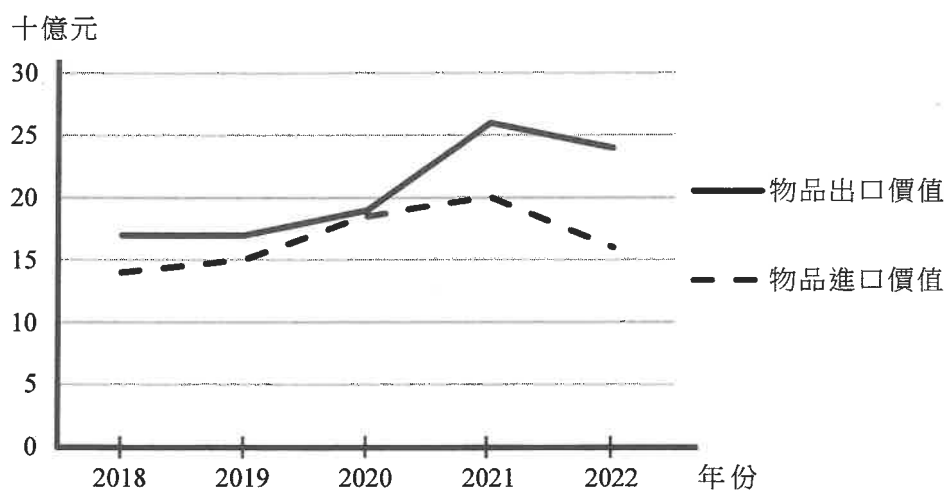
若物品 X 的世界價格下降，_____。

- A. 物品 X 的關稅收入會維持不變
- B. 物品 X 的本地價格會上升
- C. 物品 X 的本地消費量會維持不變
- D. 物品 X 的本地生產量會下降

44. 下列哪項包括在香港經常帳差額的計算之內？

- A. 一位內地億萬富翁斥資 200 億港元在香港興建一座購物中心。
- B. 一位日本居民向一家日本航空公司購買前往香港的機票。
- C. 一位香港居民收取美國政府債券所派發的利息。
- D. 一位香港投資者購買一家德國上市公司發行的股票。

45. 下圖顯示某國從 2018 年至 2022 年間物品出口及進口價值。



從_____年至_____年間，該國的物品進口價值和有形貿易順差同時上升。

- A. 2018 2019
- B. 2019 2020
- C. 2020 2021
- D. 2021 2022

試 卷 完

本試卷所引資料的來源，將於香港考試及評核局稍後出版的《香港中學文憑考試試題專輯》內列明。



