

經濟 試卷二
試題答題簿

本試卷必須用中文作答

兩小時三十分完卷(上午十時十五分至下午十二時四十五分)

考生須知

- (一) 宣布開考後，考生須首先在第1頁之適當位置填寫考生編號，並在第1、3、5、7、9及11頁之適當位置貼上電腦條碼。
- (二) 本試卷分為甲部及乙部。甲部和乙部試題均須回答。
- (三) 答案須寫在本試題答題簿中預留的空位內。不可在各頁邊界以外位置書寫。寫於邊界以外的答案，將不予評閱。
- (四) 如有需要，可要求派發補充答題紙。每一紙張均須填寫考生編號、填畫試題編號方格、貼上電腦條碼，並用繩縛於簿內。
- (五) 試場主任宣布停筆後，考生不會獲得額外時間貼上電腦條碼及填畫試題編號方格。

請在此貼上電腦條碼

考生編號



請在此貼上電腦條碼

2. 參閱以下的士車費安排：

原初車費（全日）	
首 2 公里	\$30
以後每 200 米	\$2

假設從 1:00 am 到 5:59 am，任何的士車程都會在原初車費之上加收 \$20 的深宵附加費。這項附加費將會如何影響深宵的士乘客的平均乘車距離？試加解釋。 (4 分)

寫於邊界以外的答案，將不予評閱。

寫於邊界以外的答案，將不予評閱。

寫於邊界以外的答案，將不予評閱。

3. 國泰航空於 1992 年收購了一家航空飲食公司，並將它改名為國泰航空飲食服務（香港）有限公司 (CPCS)。在 2019 年，CPCS 提供約三千萬份膳食予各航空公司。

從國泰航空的角度看，寫出上述結合的名稱，並舉出該類結合的**兩個**動機。 (3 分)

4. 提出**兩個**理由，解釋為什麼智能電話市場**不是**完全競爭的。 (4 分)

寫於邊界以外的答案，將不予評閱。

寫於邊界以外的答案，將不予評閱。

寫於邊界以外的答案，將不予評閱。

請在此貼上電腦條碼

5. 陳先生是本港一名退役足球員。在 2020 年 1 月，他獲一家英國球會聘請為顧問。七個月後，他辭職並返回香港。
- (a) 解釋陳先生從英國球會收到的薪金會否包括在
- (i) 香港的本地生產總值 (GDP) 的計算內。 (2 分)
- (ii) 香港的本地居民總收入 (GNI) 的計算內。 (3 分)
- (b) 若陳先生可選擇以英鎊 (GBP) 或美元 (USD) 收取其薪金，你會建議他選擇哪種貨幣？解釋你的答案。 (2 分)

寫於邊界以外的答案，將不予評閱。

寫於邊界以外的答案，將不予評閱。

寫於邊界以外的答案，將不予評閱。

6. 下表顯示某銀行體系的資產負債表。

資產（百萬元）		負債（百萬元）	
儲備	600	存款	1500
貸款	1200		

原初銀行持有 300 百萬元的超額儲備，而公眾總是持有 100 百萬元現金。

- (a) 找出法定儲備比率。 (1 分)
- (b) 假設法定儲備比率下調 5%，而銀行借出全部超額儲備。計算信貸創造／收縮後新的貨幣供應。列示你的計算。 (3 分)

寫於邊界以外的答案，將不予評閱。

寫於邊界以外的答案，將不予評閱。

寫於邊界以外的答案，將不予評閱。

請在此貼上電腦條碼

7. 在某國，懲教所大部分的囚犯都使用香煙作為交易媒介，但社會大眾拒絕用香煙結算支付。除了不獲社會普遍接受外，以**兩個**理由解釋為什麼香煙在社會中**並不**是一種良好的貨幣形式。(4分)

.....

.....

.....

.....

.....

.....

.....

.....

.....

.....

.....

寫於邊界以外的答案，將不予評閱。

寫於邊界以外的答案，將不予評閱。

8. 假設甲、乙兩國每單位資源的產出如下：

	稻米 (單位)	或	小麥 (單位)
甲國	10	或	4
乙國	6	或	3

找出能令兩國在交易中互利的貿易比率範圍。列示你的計算。(3分)

.....

.....

.....

.....

.....

.....

.....

.....

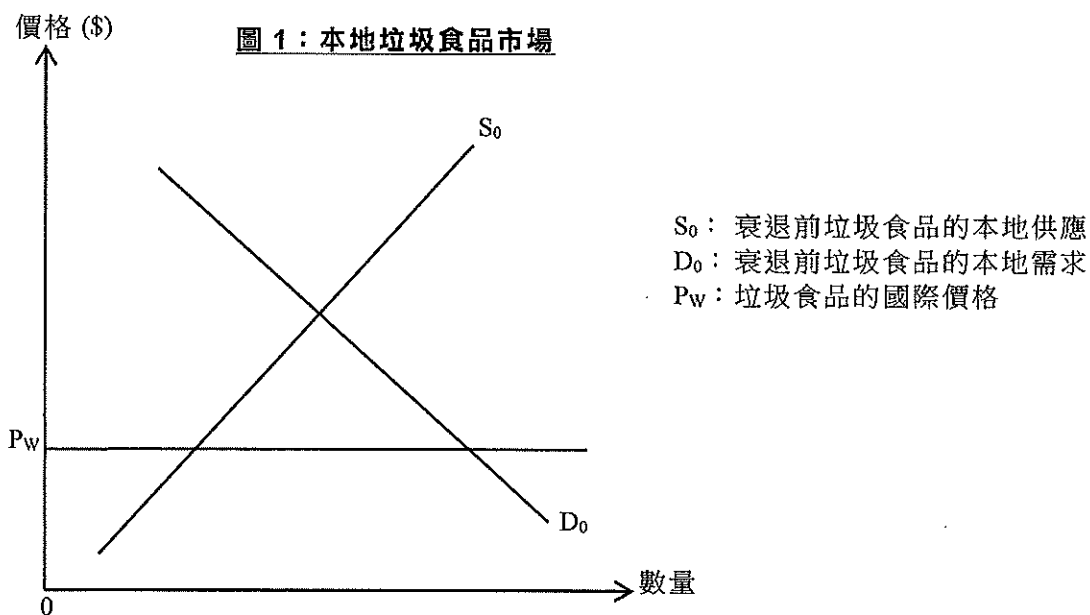
.....

.....

.....

寫於邊界以外的答案，將不予評閱。

9. 雖然某小型開放經濟有本地製造商生產垃圾食品，但仍有從其他國家進口該類食品。在經濟衰退期間，當地居民消費更多垃圾食品。為了改善公眾健康，政府對進口垃圾食品實施一有效的配額。
- (a) 解釋在該經濟中垃圾食品屬正常物品還是劣等物品。 (2分)
- (b) 就經濟衰退時實施的有效配額，在圖1分別標示配額量為 Q_A 和最終均衡點為 E_A 。 (4分)



寫於邊界以外的答案，將不予評閱。

寫於邊界以外的答案，將不予評閱。

甲部完

寫於邊界以外的答案，將不予評閱。

請在此貼上電腦條碼

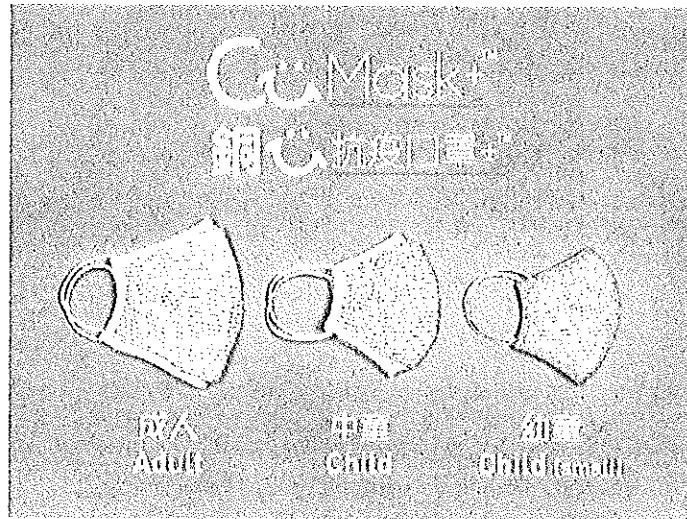
請勿在此頁書寫。

寫於此頁的答案，將不予評閱。

乙部 (60分)

10. 由於在很多公眾地方市民都要強制配戴口罩，口罩成為生活必需品。

- (a) 「強制配戴口罩對低收入組別造成的負擔較對高收入組別為大。」論證這陳述。
(2分)
- (b) 政府向香港市民免費派發「銅芯口罩」。



解釋「銅芯口罩」是否

- (i) 免費物品。 (2分)
- (ii) 共用品。 (2分)

為了穩定本港外科口罩的供應，政府推出「本地口罩生產資助計劃」，提供補貼予本地口罩生產商。

- (c) 以圖輔助，解釋在什麼情況下消費者對外科口罩的總支出會因為該補貼而下降。
(為了簡化，假設該補貼屬從量。) (7分)
- (d) 配戴外科口罩能減低個人染上疾病的機會，也能預防將疾病傳染給他人。以界外影響為依據，解釋該補貼如何可以改善經濟效率。 (4分)

.....

.....

.....

.....

.....

.....

.....

.....

寫於邊界以外的答案，將不予評閱。

寫於邊界以外的答案，將不予評閱。

寫於邊界以外的答案，將不予評閱。

請在此貼上電腦條碼

寫於邊界以外的答案，將不予評閱。

寫於邊界以外的答案，將不予評閱。

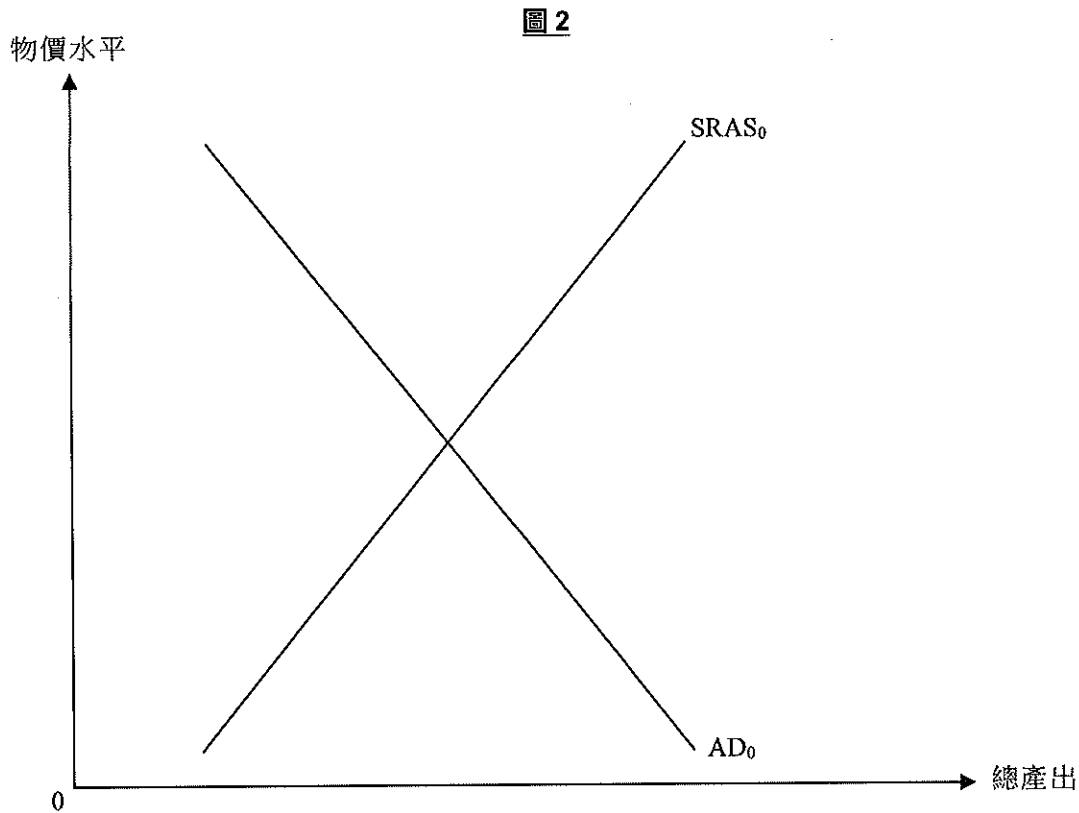
寫於邊界以外的答案，將不予評閱。

寫於邊界以外的答案，將不予評閱。

寫於邊界以外的答案，將不予評閱。

寫於邊界以外的答案，將不予評閱。

11. F國現有通縮（產出）差距。



- (a) 寫出通縮（產出）差距的定義，並在圖 2 顯示該差距。 (2分)
- (b) 一自然災害侵襲 F 國。大量工廠已暫時關閉。很多人失去工作，並對前景變得悲觀。
以圖 2 輔助，解釋為什麼該自然災害會引致 F 國的通縮（產出）差距擴大。 (7分)
- (c) 毋須繪圖，解釋 F 國的中央銀行如何可以運用公開市場操作去收窄該通縮（產出）差距。 (4分)

.....

.....

.....

.....

.....

.....

.....

.....

.....

.....

寫於邊界以外的答案，將不予評閱。

寫於邊界以外的答案，將不予評閱。

寫於邊界以外的答案，將不予評閱。

寫於邊界以外的答案，將不予評閱。

寫於邊界以外的答案，將不予評閱。

寫於邊界以外的答案，將不予評閱。

寫於邊界以外的答案，將不予評閱。

12. 勞動人口下降是香港將來要面對的問題之一。

資料 A：香港生育水平的一些資料

大致而言，香港的生育水平在過去三十年呈現下降趨勢。1981 年的出生率是每千人有 16.8 名，而 2017 年則是每千人有 7.7 名。

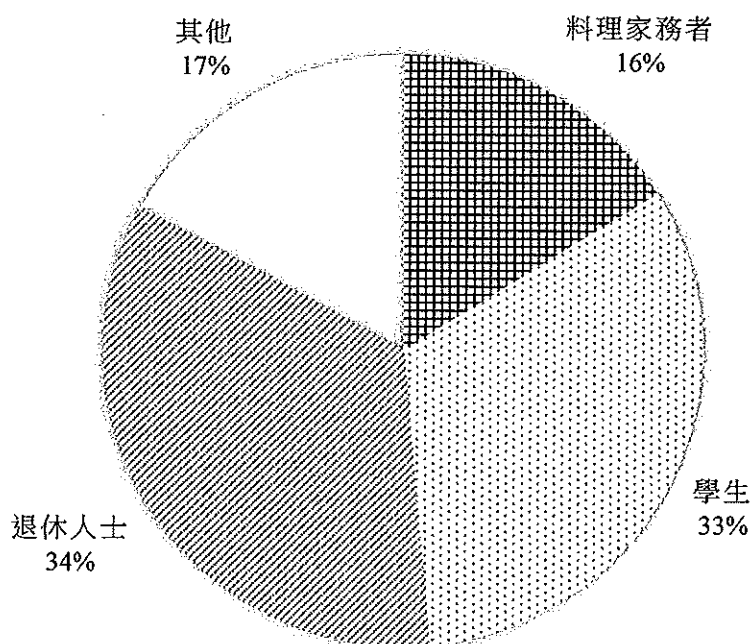
資料 B：香港人力資源情況的推算

年份	人口 (百萬)	總勞動人口 (百萬)	勞動人口參與率# (%)
2016@	7.34	3.62	59.2
2021	7.61	3.68	58.6
2026	7.83	3.59	55.5
2031	8.00	3.51	52.9
2036	8.14	3.49	51.7

勞動人口參與率 = 總勞動人口 / 15 歲及以上的人口

@ 實際數字

資料 C：2016 年香港非勞動人口 * 的組成



* 非勞動人口 = 人口 - 總勞動人口

一位人士既非就業亦非失業，則會被視為在總勞動人口之外，即屬非勞動人口。

寫於邊界以外的答案，將不予評閱。

寫於邊界以外的答案，將不予評閱。

寫於邊界以外的答案，將不予評閱。

資料 D：提交予立法會的一份有關人力資源的報告摘要

- 為了紓緩人力資源短缺和補充市場中不易獲得的技術，本地僱主可透過不同計劃輸入工人。
- 高技術專業人士方面，2018 年全年輸入的專才人數（透過不同計劃）為 67 656 人。
- 低技術工人方面，僱主可以透過「補充勞工計劃」（SLS）輸入相關工人。該計劃設有限制以保障本地工人，例如輸入工人的工資不得低於該職位的本地工人工資中位數。
- 2018 年 SLS 輸入工人總數為 3 225 人，而當中大部分工人在安老服務業工作。
- 雖然已輸入工人，安老服務業仍然有 2 630 個空缺未能填補。

- (a) 參考資料 A。以撫養兒童的成本為依據，解釋香港的生育趨勢。 (2 分)
- (b) 參考資料 B 及 C。提出兩個可能理由，解釋推算人口和推算總勞動人口兩者的相反趨勢。 (2 分)
- (c) 參考資料 D。以一供需圖輔助，解釋「雖然已輸入工人，在安老服務行業仍然有空缺」這現象。 (7 分)
- (d) 參考資料 D。假設輸入的工人原初的合約期為兩年。香港經常帳的哪一個部分可能因輸入工人而受影響？試加解釋。 (3 分)

請翻到第 20 頁，回答第 12 題 (e) 及 (f) 部。

寫於邊界以外的答案，將不予評閱。

寫於邊界以外的答案，將不予評閱。

寫於邊界以外的答案，將不予評閱。

第 12 題 (e) 及 (f) 部印於第 20 頁。

寫於邊界以外的答案，將不予評閱。

寫於邊界以外的答案，將不予評閱。

寫於邊界以外的答案，將不予評閱。

第 12 題 (e) 及 (f) 部印於第 20 頁。

寫於邊界以外的答案，將不予評閱。

寫於邊界以外的答案，將不予評閱。

寫於邊界以外的答案，將不予評閱。

12. (續)

考生須以短文形式回答 (e) 部。評分準則包括運用資料及經濟理論、內容切題、鋪排合乎邏輯以及表達清晰。

(e) 假設政府有兩項策略以應對勞動人口下降的問題。

策略I：向家長提供額外托兒服務和發放額外現金，以提高出生率。

策略II：擴大現有的計劃以輸入更多勞工。

參考資料A-D，並就你對經濟科的認識，討論每項策略對以下各個變量的影響，以評價該兩項策略。

- 總產出
- 政府支出
- 平均勞工生產力

(14分)

(提示：其中一項策略對上述某些變量的短期影響和長期影響或會有分別。)

(f) 除了 (e) 所提出的策略，向政府建議一項策略以增加勞動人口。簡單解釋該項策略如何達致效果。
(2分)

寫於邊界以外的答案，將不予評閱。

寫於邊界以外的答案，將不予評閱。

寫於邊界以外的答案，將不予評閱。

寫於邊界以外的答案，將不予評閱。

寫於邊界以外的答案，將不予評閱。

寫於邊界以外的答案，將不予評閱。

寫於邊界以外的答案，將不予評閱。

寫於邊界以外的答案，將不予評閱。

寫於邊界以外的答案，將不予評閱。

寫於邊界以外的答案，將不予評閱。

寫於邊界以外的答案，將不予評閱。

試卷完

本試卷所引資料的來源，將於香港考試及評核局稍後出版的《香港中學文憑考試試題專輯》內列明。

寫於邊界以外的答案，將不予評閱。

補充答題紙

試題號數： _____

寫於邊界以外的答案，將不予評閱。

寫於邊界以外的答案，將不予評閱。

寫於邊界以外的答案，將不予評閱。