

經濟 試卷一

一小時完卷(上午八時三十分至上午九時三十分)

考生須知

- (一) 細讀答題紙上的指示。宣布開考後，考生須首先於適當位置貼上電腦條碼及填上各項所需資料。宣布停筆後，考生不會獲得額外時間貼上電腦條碼。
- (二) 試場主任宣布開卷後，考生須檢查試題有否缺漏，最後一題之後應有「**試卷完**」字樣。
- (三) 本試卷各題佔分相等。
- (四) **本試卷全部試題均須回答**。為便於修正答案，考生宜用 HB 鉛筆把答案填畫在答題紙上。錯誤答案可用潔淨膠擦將筆痕徹底擦去。考生須清楚填畫答案，否則會因答案未能被辨認而失分。
- (五) 每題只可填畫**一個**答案，若填畫多個答案，則該題**不給分**。
- (六) 答案錯誤，不另扣分。

本試卷共 45 題。選擇每題中的**最佳**答案。

1. 參閱下列彼得和瑪莉所作的陳述。

彼得：香港作為一已發展經濟體，它的堅尼系數太高了。

瑪莉：香港的堅尼系數是全亞洲最高的。

_____ 的陳述屬 _____ 因為 _____。

- A. 彼得 ... 實證性 ... 大部分人認同該陳述
- B. 彼得 ... 規範性 ... 該陳述和現實世界的數據並不相符
- C. 瑪莉 ... 實證性 ... 該陳述可以被事實推翻
- D. 瑪莉 ... 規範性 ... 該陳述涉及價值判斷

2. 為應對口罩市場的短缺，政府向全港市民免費派發可重用的銅芯口罩。

這是以 _____ 去解決 _____ 問題的一個例子。

- A. 政府指令 ... 「如何生產」
- B. 政府指令 ... 「為誰生產」
- C. 市場機制 ... 「如何生產」
- D. 市場機制 ... 「為誰生產」

3. 中學畢業後，保羅考慮成為全職的社交媒體頻道關鍵意見領袖 KOL（俗稱網紅）或成為電競選手。

下列哪些會減低保羅畢業後成為全職 KOL 的成本？

- (1) 保羅獲得錄製 KOL 影片器材的贊助。
- (2) 電競隊給予保羅較低的基本薪金。
- (3) 社交媒體頻道被駭客攻擊的風險增加。

- A. 只有 (1)、(2)
- B. 只有 (1)、(3)
- C. 只有 (2)、(3)
- D. (1)、(2) 及 (3)

4. 由於新冠肺炎，學校的日常教學受到干擾，大部分學校使用視訊軟件（例如 Zoom 和 Google Meet）進行網上授課。假設校園重新開放，並准許面對面授課。

下列哪項是教師選擇網上授課還是面對面授課時**最不**重要的因素？

- A. 網上授課會減低教師感染新冠肺炎的風險。
- B. 教師不知道網上授課時學生正在做什麼，因為學生可能關掉鏡頭。
- C. 教師已經花費很多時間學習使用視訊軟件進行網上授課。
- D. 頻密使用視訊軟件進行網上授課可導致教師的視力受損。

5.

	工廠 A	工廠 B
聘用的工人數目	90	78
每位工人工作時數／每月	125	155
總產出／每月	79 850	82 800
產出質素不達標的百分比	37%	11%

參閱上表，下列哪項最能解釋工廠 A 和工廠 B 產出質素的差別？

- A. 與工廠 B 相比，工廠 A 聘請較少勞工服務。
 - B. 與工廠 B 相比，工廠 A 進行較高度的分工。
 - C. 與工廠 B 相比，工廠 A 機械化的程度較高。
 - D. 工廠 A 是以件計薪而工廠 B 是以時計薪。
6. 利豐（股票編號：00494）公布將公司私有化，取消在本港股票交易所的上市地位。在該轉變後，下列哪項有關利豐的陳述是正確的？
- A. 該公司能享有較低利得稅稅率。
 - B. 該公司仍然能發行股票籌集資金。
 - C. 東主須在該公司面臨法律訴訟時負上個人責任。
 - D. 當其中一名東主破產，該公司不會繼續存在。
7. 某名牌產品店的售貨員是按下列安排計薪：

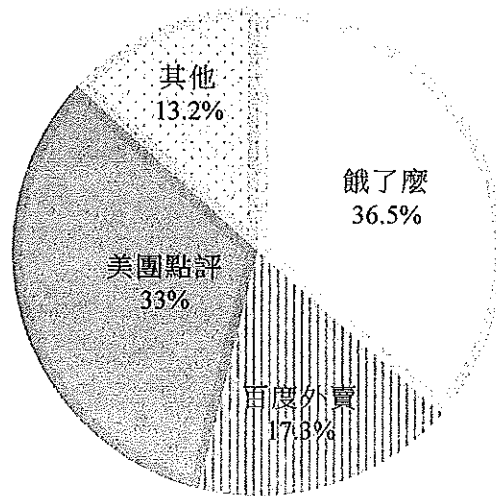
每月薪金： HK\$12 000 達標花紅： 當達成銷售目標，會 發放花紅。
--

從該店的角度看，下列哪些是採用上述安排而非只以時計薪的可能原因？

- (1) 售貨員的生產力會較高。
 - (2) 監察服務質素的成本會較低。
 - (3) 每月賺取的薪金有可能較高。
- A. 只有 (1)、(2)
 - B. 只有 (1)、(3)
 - C. 只有 (2)、(3)
 - D. (1)、(2) 及 (3)

細閱下圖，然後回答第 8 題和第 9 題。

2017 年中國網上食品外送行業的市場佔有率 (%)



8. 2017 年「餓了麼」收購了「百度外賣」。下列哪項／些可能是這收購背後的動機？
- (1) 可享有規模經濟
 - (2) 使業務多元化以分散風險
 - (3) 可對市場價格有更大影響力
- A. 只有 (1)
B. 只有 (1)、(2)
C. 只有 (1)、(3)
D. 只有 (2)、(3)
9. 根據上圖的資料，我們可以得出結論：2017 年中國網上食品外送行業的市場結構可被視為 _____，因為 _____。
- A. 壟斷性競爭 ... 食品外送服務的市場資訊並不完全
B. 壟斷性競爭 ... 服務供應商之間有價格和非價格競爭
C. 寡頭壟斷 ... 服務供應商在作決定時會考慮其他主要供應商的反應
D. 寡頭壟斷 ... 少數服務供應商的市場佔有率明顯大於其他供應商
10. 因為新冠肺炎爆發，某國政府宣布臨時禁制餐廳提供堂食服務。在該臨時禁制下，下列哪項有關餐廳的陳述是正確的？
- A. 若從外賣食品所得的預期銷售收入超過營運餐廳的可變成本，餐廳會繼續經營。
B. 當違反租賃合約的成本極高，固定租金會影響東主是否繼續經營餐廳。
C. 外賣食品的價格下降必然會令餐廳的銷售收入下降。
D. 不受歡迎的餐廳會早於受歡迎的餐廳倒閉。

11. 下表顯示某廠商的生產計劃，它只聘用勞工及機器這兩種要素。

勞工（單位）	機器（單位）	總產出（單位）
1	2	10
2	2	25
3	2	45
4	2	Q_1
5	2	Q_2

假設以上數據說明邊際回報遞減定律。下列哪些數值和該定律相符？

- (1) $Q_1 = 60$; $Q_2 = 70$
 (2) $Q_1 = 40$; $Q_2 = 30$
 (3) $Q_1 = 65$; $Q_2 = 85$

- A. 只有 (1)
 B. 只有 (3)
 C. 只有 (1)、(2)
 D. 只有 (2)、(3)

12. 下表顯示某受價廠商的成本與產出的關係。

產出（單位）	平均成本（\$）
1	5
2	4
3	4
4	4.5
5	6

根據上表，我們可以得出結論：當市場價格由 \$6 下降至 \$4，

- A. 該廠商開始享有規模經濟。
 B. 該廠商的總成本會由 \$30 下降至 \$12。
 C. 該廠商的利潤會減少 \$6。
 D. 供應量會由 5 單位下降至 3 單位。

13. 對 _____ 的需求可視為對 _____ 的衍生需求。

- A. 手提電話 ... 耳機
 B. 手提電腦 ... 電池
 C. 音樂短片 ... 歌手
 D. 遊戲程式員 ... 網上遊戲

14. 當物品 X 和物品 Y 是 _____，物品 X 的供應下降會令物品 Y 的 _____ 上升。
- A. 替代品 ... 供應
 - B. 替代品 ... 供應量
 - C. 輔助品 ... 需求
 - D. 輔助品 ... 供應量

15. 當對某物品徵收從量銷售稅，下列哪項／些組合可能令消費者稅項負擔大於生產者稅項負擔？

- (1) 高彈性需求；高彈性供應
- (2) 高彈性需求；低彈性供應
- (3) 低彈性需求；高彈性供應
- (4) 低彈性需求；低彈性供應

- A. 只有 (2)
- B. 只有 (1)、(3)
- C. 只有 (2)、(4)
- D. 只有 (1)、(3) 及 (4)

16. 參閱以下物品 X 的供需表。

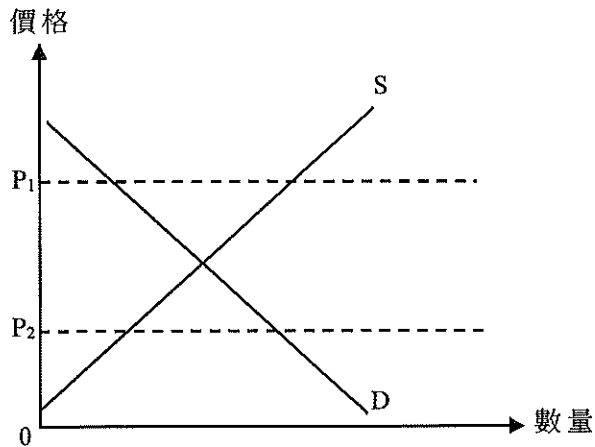
價格 (\$)	需求量 (單位)	供應量 (單位)
80	100	80
90	100	90
100	100	100
110	100	110
120	100	120
130	100	130

若對物品 X 的生產商提供 \$10 的從量補貼，

- (1) 總收入 (包括補貼) 會維持不變。
- (2) 生產者會獲得全部的補貼得益。
- (3) 消費者對物品 X 的總支出會減少 \$1 000。

- A. 只有 (1)、(2)
- B. 只有 (1)、(3)
- C. 只有 (2)、(3)
- D. (1)、(2) 及 (3)

17. 參考以下物品 Y 的供需圖。



若政府將物品 Y 的價格上限由 P_1 下調至 P_2 ，

- A. 生產者盈餘會下降。
- B. 消費者盈餘會上升。
- C. 總社會盈餘會維持不變。
- D. 物品 Y 的超額供應會消失。

18. 參考以下一則新聞。

為了減少污染，政府對所有種類的車輛徵收一項生產稅（電動車除外）。

結果，汽油的價格改變了 22% 及其交易量改變了 35%。下列哪項陳述是正確的？

- A. 汽油的需求屬高彈性。
- B. 汽油的需求屬低彈性。
- C. 汽油的供應屬高彈性。
- D. 汽油的供應屬低彈性。

19. 由於大部分學校進行網上授課，更多學生需要購買平板電腦。最後一單位的平板電腦的邊際成本會 _____，而生產者盈餘會 _____。

- A. 下降 ... 上升
- B. 下降 ... 下降
- C. 上升 ... 上升
- D. 上升 ... 下降

20. 原初某國對咖啡豆生產實施有效配額。

若現在更多人愛喝咖啡，下列哪些有關咖啡豆市場的陳述是正確的？

- (1) 總支出會上升。
- (2) 效率損失會上升。
- (3) 消費者盈餘會上升。

- A. 只有 (1)、(2)
- B. 只有 (1)、(3)
- C. 只有 (2)、(3)
- D. (1)、(2) 及 (3)

21. 參閱以下香港的政策建議。

建議 (1):	向在公屋輪候冊上超過五年的人士提供現金補貼
建議 (2):	將長者綜合社會保障援助計劃的合資格年齡由 60 歲提高至 65 歲
建議 (3):	將薪俸稅的標準稅率提高

以上哪些建議會降低香港按稅及福利轉移後住戶每月收入計算的堅尼系數？

- A. 只有 (1)、(2)
- B. 只有 (1)、(3)
- C. 只有 (2)、(3)
- D. (1)、(2) 及 (3)

22. 下表顯示有關兩個頂級足球聯賽的資料。

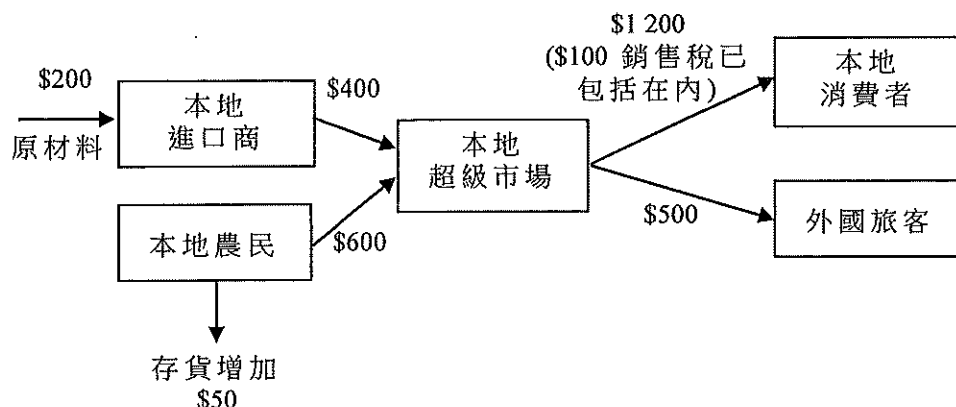
足球聯賽	球員的每年平均收入	
	防守球員	進攻球員
英格蘭	£2 751 537	£3 839 875
意大利	£1 536 945	£2 625 975

下列哪項／些是球員之間收入差異的可能原因？

- (1) 英格蘭頂級足球聯賽的電視轉播收入較意大利的為高。
- (2) 英格蘭的物價水平較意大利的為高。
- (3) 進攻球員的商業價值較防守球員的為高，因為進攻球員較受歡迎。

- A. 只有 (1)
- B. 只有 (2)
- C. 只有 (3)
- D. (1)、(2) 及 (3)

23. 某經濟的物品 X 生產鏈顯示如下。



以上生產鏈對該經濟的本地生產總值（以要素成本計算）的貢獻是 _____。

- A. \$1 400
- B. \$1 450
- C. \$1 500
- D. \$1 550

24. 參閱某經濟的本地生產總值 (GDP) 數據。

	增長率（相對於去年）
名義 GDP	0
實質 GDP	-1.2%
人均名義 GDP	-3.5%

與去年相比，本年度該經濟的一般物價水平 _____，人口 _____。

- A. 上升 ... 上升
- B. 上升 ... 下降
- C. 下降 ... 上升
- D. 下降 ... 下降

25. 假設某經濟的失業率是 8%。下列哪些會令失業率上升？

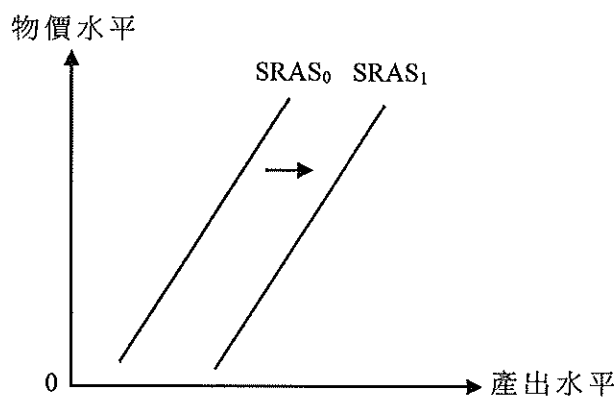
- (1) 15% 的新畢業生未能成功找到工作。
- (2) 一些僱主結束其本地業務並移居外國。
- (3) 一些兼職的工人因為生產自動化而失去工作。

- A. 只有 (1)、(2)
- B. 只有 (1)、(3)
- C. 只有 (2)、(3)
- D. (1)、(2) 及 (3)

26. 某國的人均實質 GDP 會低估一般生活水平，因為

- A. 它包括了非消費品的價值。
- B. 它沒有考慮人口的多寡。
- C. 它沒有反映社會中罪案率上升。
- D. 它沒有包括全部非市場物品。

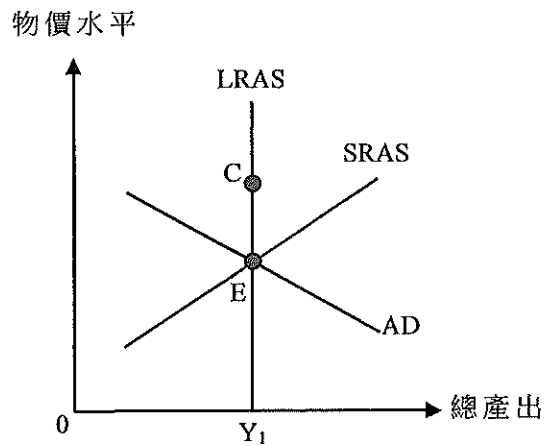
27.



下列哪項是導致短期總供應曲線作以上移動的一個可能原因？

- A. 全球對石油的需求上升，導致生產成本上升。
- B. 公司的利潤隨着物價水平上升而增加，因為產出價格和投入價格之間的差距擴大。
- C. 利率上升，令投資的成本上升。
- D. 在一次大規模罷工後，勞工市場回復正常運作。

28. 細閱下圖。



某原油進口國的原初均衡點是 E。若新的長期均衡點是 C，下列哪項是均衡點改變的可能原因？

- A. 油價上升。
- B. 生產補貼下降。
- C. 公眾傾向減少儲蓄。
- D. 政府提高薪俸稅稅率。


29. 新冠肺炎爆發令某國的就業水平和出口數量顯著下跌。

下列哪項政策最能舒緩以上兩個問題？

- A. 中央銀行調低貼現率。
- B. 政府向 18 歲或以上的市民派發現金。
- C. 政府對受負面影響的行業實行「就業支援計劃」。
- D. 該國令其貨幣兌主要貿易伙伴的貨幣官方貶值。

30. 細閱以下有關比特幣 (Bitcoin) 的新聞撮要。

2018 年，加拿大肯德基家鄉雞推出了「比特幣桶餐」。該公司開設了臉書直播，顯示購買該套餐所需的比特幣數量（如下圖所示）。該「比特幣桶餐」只能在網上購買，並會稍後外送至購買者家中。



在以上個案中，比特幣用作 _____。

- (1) 交易媒介
 - (2) 記帳單位
 - (3) 延期支付的標準
- A. 只有 (1)、(2)
 - B. 只有 (1)、(3)
 - C. 只有 (2)、(3)
 - D. (1)、(2) 及 (3)

31. 下表顯示某國的貨幣資料。

貨幣供應	250 百萬元
公眾持有的法定貨幣	50 百萬元
法定儲備比率	20%
超額儲備	10 百萬元

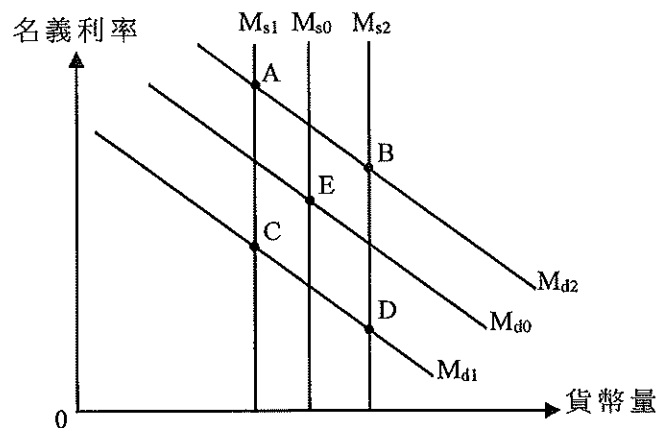
下列哪些陳述是正確的？

- (1) 貨幣基礎是 100 百萬元。
 - (2) 實際儲備是 40 百萬元。
 - (3) 在信貸創造後，最大存款金額是 250 百萬元。
- A. 只有 (1)、(2)
 - B. 只有 (1)、(3)
 - C. 只有 (2)、(3)
 - D. (1)、(2) 及 (3)

32. 杰克想存款 \$400 000，為期 5 個月。下列哪些本港的金融機構可以接受他的存款？

- (1) 一家有限制牌照銀行
 - (2) 一家被歸類為持牌銀行的虛擬銀行
 - (3) 一家接受存款公司
- A. 只有 (1)、(2)
 - B. 只有 (1)、(3)
 - C. 只有 (2)、(3)
 - D. (1)、(2) 及 (3)

33. 下圖顯示某經濟的貨幣需求和貨幣供應曲線。原初均衡點是 E。



假設股市日趨波動。同時，中央銀行決定向公眾贖回政府債券。新的均衡點會是 _____。

- A. A
- B. B
- C. C
- D. D

34. 假設實際通脹率和名義利率分別是 -1% 和 3%。下列哪些陳述是正確的？

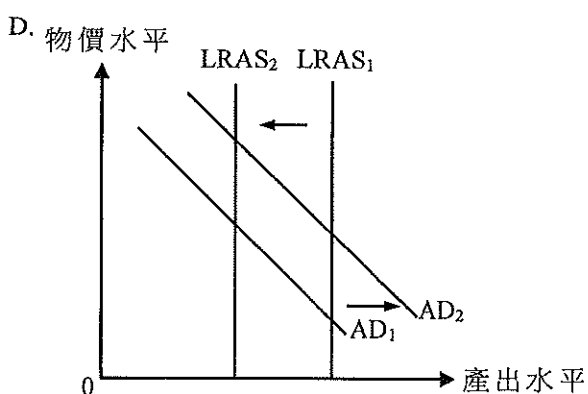
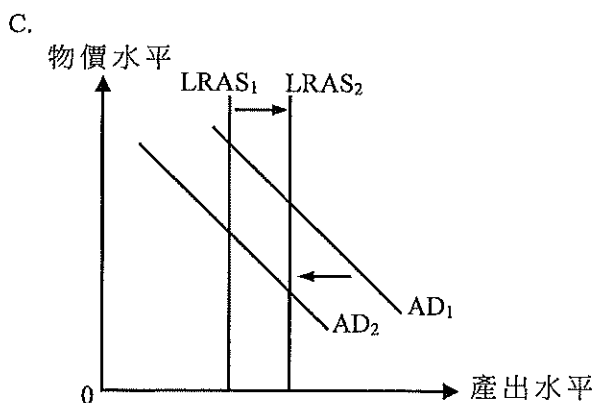
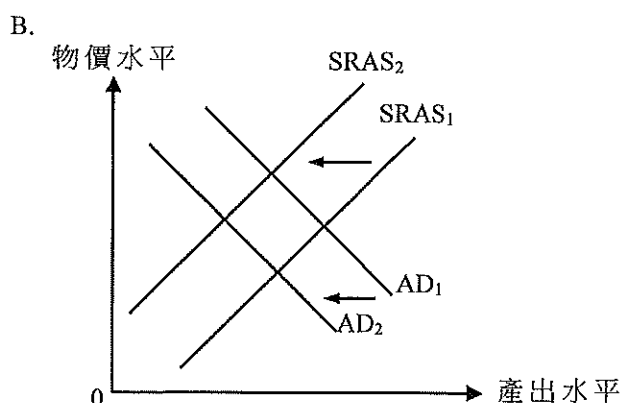
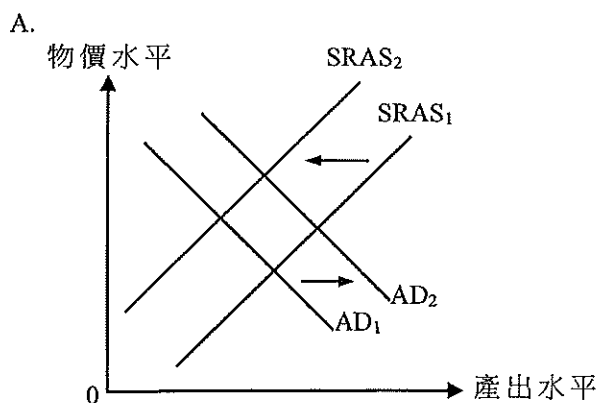
- (1) 持有現金的成本是 3%。
 - (2) 預期實質利率高於名義利率。
 - (3) 持有現金的實際實質回報率是 1%。
- A. 只有 (1)、(2)
 - B. 只有 (1)、(3)
 - C. 只有 (2)、(3)
 - D. (1)、(2) 及 (3)

35. 下列哪項會抵銷擴張性財政政策對總產出的影響？

- A. 公眾持有更多現金。
- B. 使用電子錢包日漸普及。
- C. 銀行同業拆息下降。
- D. 政府增加外籍家傭入境的配額。

36. 由於新冠肺炎爆發，大部分航班取消，引致訪港旅客人數大減。同時，本港很多僱員被迫放無薪假期。

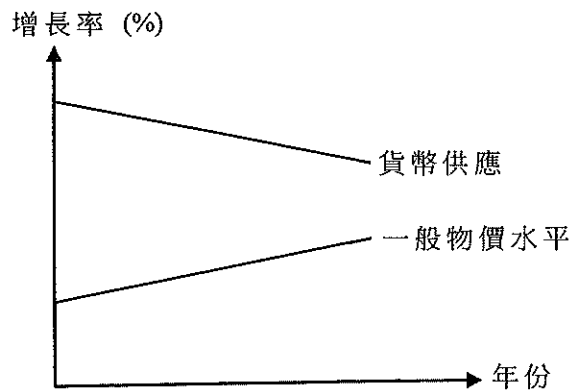
下列哪圖最能描述上述事件的後果？



37. 下列哪項政策可以收窄通縮（產出）差距，並同時減少預算赤字？

- A. 在公開市場購入政府債券
- B. 提高入息稅的免稅額
- C. 減少轉移支付
- D. 提高法定儲備比率

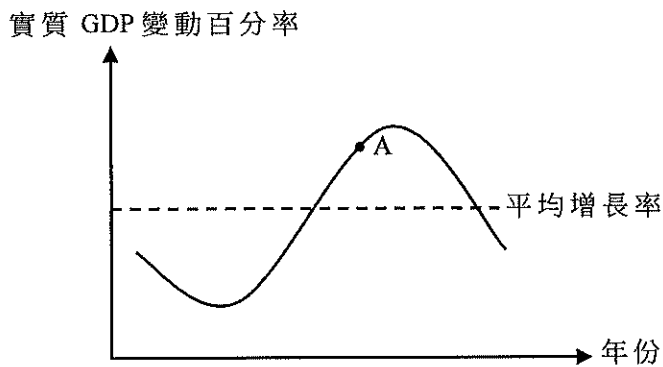
38. 細閱下圖。



根據貨幣數量理論，下列哪項陳述是正確的？

- A. 實質產出正在上升。
- B. 名義產出正在下降。
- C. 貨幣供應正在下降。
- D. 貨幣流動速度正在下降。

39. 細閱下圖。



當某經濟在 A 點運作，下列哪些是該經濟的特徵？

- (1) 勞力供應正在增加。
 - (2) 貨幣的購買力正在減少。
 - (3) 政府支出正在增加。
 - (4) 公司的商業信心正在增加。
- A. 只有 (1)、(3)
 - B. 只有 (1)、(4)
 - C. 只有 (2)、(3)
 - D. 只有 (2)、(4)

40. 假設政府向住戶收取稅款為其支出融資，該支出和所收稅款的金額相同。這對總需求的影響屬 _____。
- A. 擴張性
 - B. 收縮性
 - C. 中性
 - D. 未能決定

41. 李先生是本港一家上市公司的大股東，該公司賺取了大額的利潤。他賣出了他部分的住宅物業，並從出租一些商業大廈收取租金收入。

根據以上資料，李先生需要支付哪些稅項予香港政府？

- (1) 利得稅
 - (2) 印花稅
 - (3) 物業稅
- A. 只有 (1)、(2)
 - B. 只有 (1)、(3)
 - C. 只有 (2)、(3)
 - D. (1)、(2) 及 (3)

42. 參考以下有關香港的統計數據。

	2020 年第一季 (按年變動)	2020 年第二季 (按年變動)
物品出口	-9.7%	-2.5%
服務出口	-37.5%	-47.5%
物品進口	-10.7%	-7.4%
服務進口	-26.2%	-44.6%

根據以上資料，我們可得出結論：

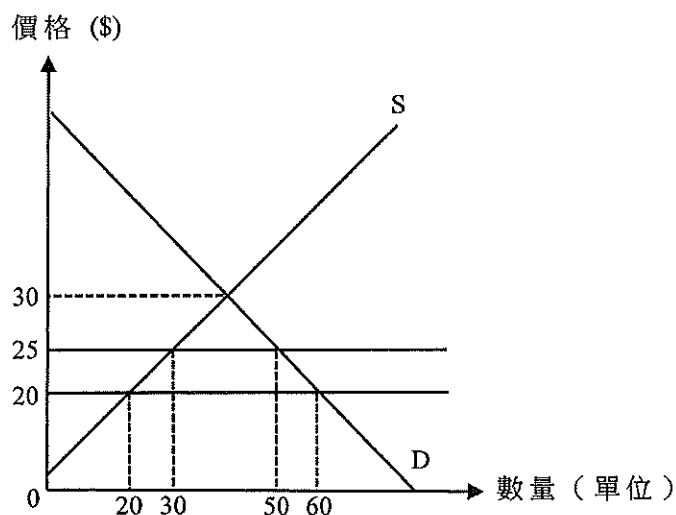
- A. 香港 2020 年第二季無形貿易出現赤字。
- B. 香港 2020 年第二季的淨出口較 2019 年第二季的為低。
- C. 香港 2020 年第二季的物品出口較 2020 年第一季的為低。
- D. 香港 2020 年第二季的物品和服務進口總值較 2019 年第二季的為低。

43. 甲、乙兩國只生產玩具和電腦。下表顯示甲、乙兩國生產玩具和電腦所需的投入數量。

	每單位的玩具	每單位的電腦
甲國	2	5
乙國	2	2

根據以上資料，下列哪項陳述是正確的？

- A. 相對乙國，甲國生產電腦有絕對優勢。
 B. 乙國生產兩種物品均沒有比較優勢，因為它生產玩具的機會成本與生產電腦的相等。
 C. 若交易 1 單位玩具需要 1 單位的電腦作為運輸費用，則互利貿易沒有可能出現。
 D. 由於該兩國生產玩具的生產力相等，所以沒有可能出現互利貿易。
44. 假設大豆的國際價格是 \$20。某小型開放經濟對進口大豆徵收從量關稅 \$5。下圖顯示該經濟的大豆的供應和需求曲線。



下列哪項有關大豆的陳述是正確的？

- A. 在徵收關稅後，本地生產商的總收入是 \$400。
 B. 包括關稅在內的進口總值是 \$500。
 C. 若關稅調高至 \$15，該經濟會變成大豆出口國。
 D. 若取消關稅，進口總值會是 \$400。

45. 細閱下表。

	匯率
2019年12月3日	1港元 = 0.902 人民幣
2020年12月3日	1港元 = 0.923 人民幣

在 2019 年 12 月 3 日，陳先生用港幣兌換了 300 000 人民幣，並將該筆款項存入銀行作定期存款，年利率 0.8%。假設他在 2020 年 12 月 3 日提取該筆款項，並把它兌回港幣。

在上述的交易後，陳先生 _____。

- A. 損失了約港幣 \$4 967
- B. 損失了約港幣 \$7 570
- C. 賺取了約港幣 \$6 300
- D. 賺取了約港幣 \$8 515

試 卷 完

本試卷所引資料的來源，將於香港考試及評核局稍後出版的《香港中學文憑考試試題專輯》內列明。

