

**經濟 試卷二**  
**試題答題簿**

本試卷必須用中文作答

兩小時十五分完卷(上午十時十五分至下午十二時三十分)

**考生須知**

- (一) 宣布開考後，考生須首先在第1頁之適當位置填寫考生編號，並在第1、3、5、7、9及11頁之適當位置貼上電腦條碼。
- (二) 本試卷分為甲部、乙部及丙部。甲部和乙部試題均須回答。丙部任意選答一題。
- (三) 答案須寫在本試題答題簿中預留的空位內。不可在各頁邊界以外位置書寫。寫於邊界以外的答案，將不予評閱。
- (四) 如有需要，可要求派發補充答題紙。每一紙張均須填寫考生編號、填畫試題編號方格、貼上電腦條碼，並用繩縛於簿內。
- (五) 試場主任宣布停筆後，考生不會獲得額外時間貼上電腦條碼及填畫試題編號方格。

請在此貼上電腦條碼

考生編號



甲部 (50分)

1. 蘋果公司推出新型號的智能手機。為了購買該新型號手機，有人花費數小時嘗試登入蘋果公司的網站。若該新型號手機的轉售價值下跌，透過蘋果公司網站購買該新型號手機的機會成本會下跌。你同意嗎？解釋你的答案。 (3分)

.....

.....

.....

.....

.....

.....

.....

.....

.....

.....

.....

.....

.....

.....

.....

.....

.....

.....

.....

.....

.....

.....

2. 「必摘星教育集團」是以中學生為對象的補習社。該集團可以向公眾發行股票和債券去籌集資本。

- (a) 寫出該集團的商業所有權種類名稱。 (1分)
- (b) 從東主的角度，解釋發行股票比發行債券**一項**優勝和**一項**不足之處。 (4分)
- (c) 當該集團在不同地區營運更多補習班時，提供服務的平均成本下降。舉出**三項**原因解釋為什麼其平均成本下降。 (3分)

.....

.....

.....

寫於邊界以外的答案，將不予評閱。

寫於邊界以外的答案，將不予評閱。

寫於邊界以外的答案，將不予評閱。

請在此貼上電腦條碼

寫於邊界以外的答案，將不予評閱。

寫於邊界以外的答案，將不予評閱。

寫於邊界以外的答案，將不予評閱。

3. 下表顯示某廠商投入與產出的關係。

機器 (單位)	勞力 (單位)	勞力的平均產出 (單位)
2	1	10
2	2	12
2	3	14
2	4	14
2	5	13

寫出邊際回報遞減定律，並解釋上述資料能否說明該定律。

(6分)

寫於邊界以外的答案，將不予評閱。

寫於邊界以外的答案，將不予評閱。

4. 近年來，很多顧客喜愛在餐廳拍攝他們享用的食物，並將照片在社交媒體分享。不過一些高級餐廳不准顧客拍照。解釋顧客「拍照並分享」這行為如何可能帶來界外影響。(3分)

寫於邊界以外的答案，將不予評閱。

請在此貼上電腦條碼

寫於邊界以外的答案，將不予評閱。

寫於邊界以外的答案，將不予評閱。

5. 以**一項**理由解釋為什麼短期總供應曲線是向右上斜的。 (3分)

寫於邊界以外的答案，將不予評閱。

6. 以下是某國的就業數據。

就業人口	3 800 000
就業不足人口	800 000
失業人口	200 000

- (a) 計算該國的失業率。 (2分)
- (b) 舉出**三項**失業對社會造成的損失。 (3分)
- (c) 假設該國正處於復甦期。除了失業率下降，舉出**兩項**在復甦期的一般經濟現象。 (2分)

寫於邊界以外的答案，將不予評閱。

寫於邊界以外的答案，將不予評閱。

寫於邊界以外的答案，將不予評閱。

請在此貼上電腦條碼

7. 在甲國，生產每單位的成衣和每單位的玩具所需的投入分別是 6 單位和 2 單位。甲國和乙國以 2 單位成衣換取 11 單位玩具的交易比率進行貿易。

(a) 甲國會出口哪種物品？試加以解釋。 (3分)

(b) 假設交易 1 單位的成衣需要 2 單位的玩具作為運輸成本，而該成本由甲國負擔。計算甲國每單位出口的得益。 (3分)

寫於邊界以外的答案，將不予評閱。

寫於邊界以外的答案，將不予評閱。

寫於邊界以外的答案，將不予評閱。

8. 以下是某銀行系統的資產負債表。

資產 (百萬元)		負債 (百萬元)	
儲備	1 000	存款	4 000
貸款	3 000		

假設公眾總是持有現金 500 百萬元，而該銀行系統並不持有超額儲備。

(a) 計算貨幣基礎和貨幣供應。 (2分)

中央銀行把法定儲備比率提高至 50%。

(b) 計算貨幣基礎的轉變和貨幣供應的轉變。列示你的計算。 (4分)

(c) (i) 為什麼貨幣供應通常是貨幣基礎的數倍？ (3分)

(ii) 在什麼情況下貨幣供應會相等於貨幣基礎？ (1分)

寫於邊界以外的答案，將不予評閱。

寫於邊界以外的答案，將不予評閱。

寫於邊界以外的答案，將不予評閱。

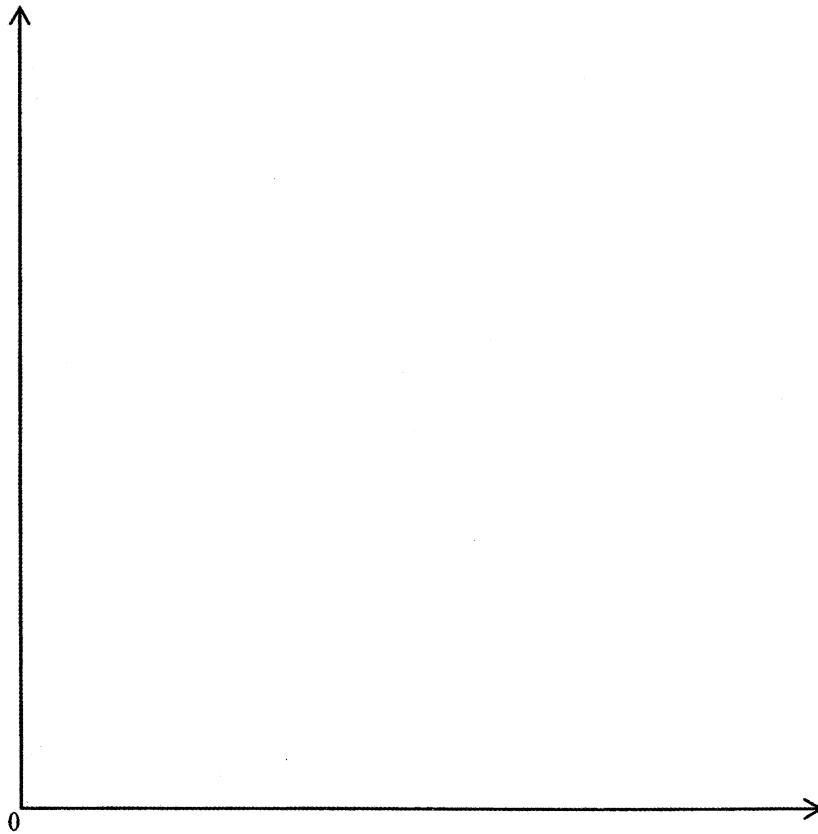


請在此貼上電腦條碼

9. 歐盟數以千計的農夫上街抗議，要求政府支持他們的奶類產品價格。影響其奶類產品價格的事件如下：

- 歐盟取消對生產奶類產品的有效配額。
- 俄羅斯對從歐盟進口的奶類產品實施禁運。

以一幅供需圖說明上述兩件事件對歐盟奶類產品價格的影響。 (4分)



甲部完

寫於邊界以外的答案，將不予評閱。

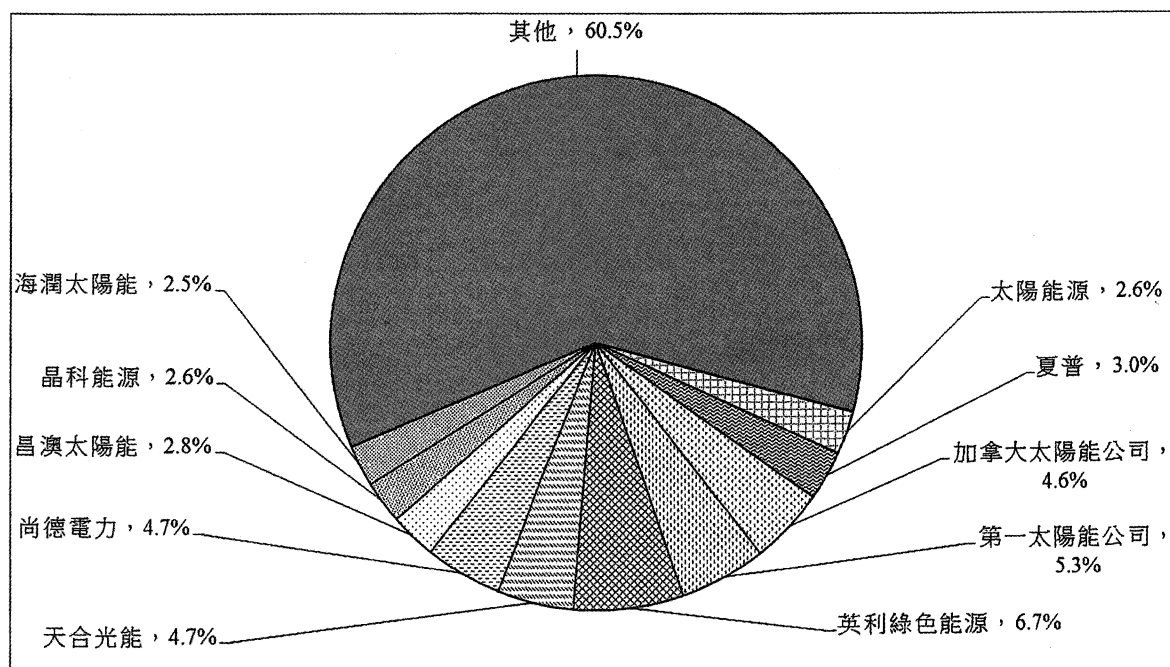
寫於邊界以外的答案，將不予評閱。

寫於邊界以外的答案，將不予評閱。

乙部 (54分)

10. 在中國西部陽光充沛的省份，如：甘肅和新疆，太陽能成為日益重要的能源。

下圖顯示十大太陽能光電 (PV) 模塊製造商於 2012 年的市場佔有率。



(a) 上述太陽能光電模塊的市場屬哪種市場結構？列出該市場結構的**兩項**特點。 (3分)

在那些西部省份，很多住宅樓宇的屋頂都安裝了太陽能電池板以進行太陽能發電。

(b) 解釋陽光在生產太陽能時屬哪種生產要素。 (2分)

歐盟對中國製造的太陽能電池板徵收反傾銷關稅。

(c) 在什麼條件下，生產商會比買家承受更高的關稅負擔？以一幅供需圖說明你的答案。 (7分)

寫於邊界以外的答案，將不予評閱。

寫於邊界以外的答案，將不予評閱。

寫於邊界以外的答案，將不予評閱。

請在此貼上電腦條碼

寫於邊界以外的答案，將不予評閱。

寫於邊界以外的答案，將不予評閱。

寫於邊界以外的答案，將不予評閱。

11. 醫療服務是人類的其中一項基本需要。

資料甲：在本港某家公立診所外的一段對話

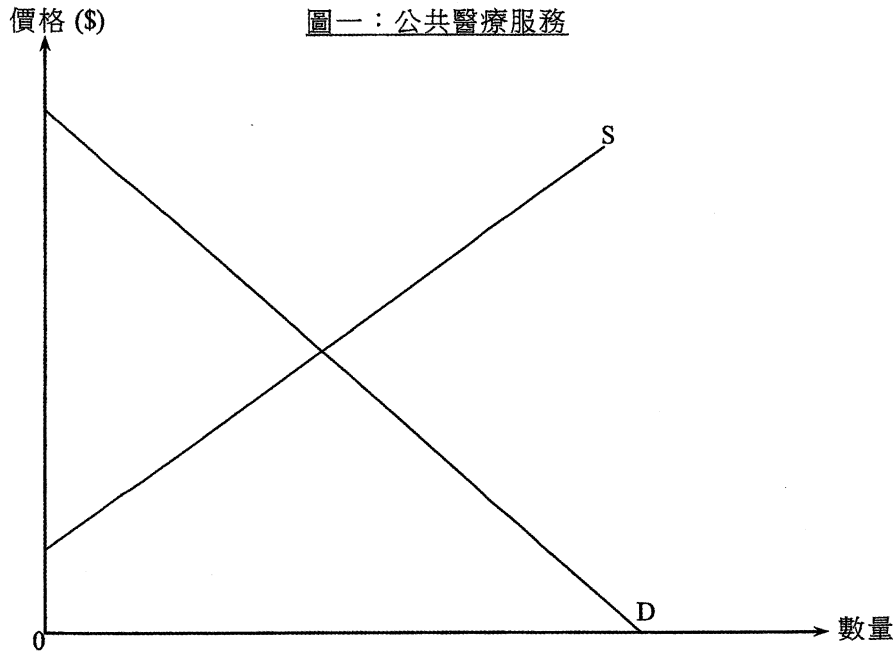
兒子： 爸爸，我很不舒服呀。  
父親： 糟了！排隊等候的人很多。  
兒子： 為什麼我們不去看私家醫生？  
父親： 公立診所的收費只是 45 元，遠低於私家醫生的收費。

- (a) 參考資料甲。當一家公立診所向一名病人提供醫療服務，本地生產總值會因而增加 \$45。你同意嗎？試加以解釋。(3分)
- (b) 參考資料甲，並以圖一輔助，解釋公立診所釐訂的價格如何可能導致提供公共醫療服務時出現經濟沒有效率。(6分)  
(假設圖一中的供應曲線全數反映公共醫療服務的邊際社會成本。)

資料乙：摘錄自醫院管理局的網頁

醫院管理局致力提供以社區為本的基礎醫療服務，服務對象包括長者、低收入人士和長期病患者。

- (c) 參考資料乙，解釋醫院管理局提供的服務如何可以促進公平。(2分)
- (d) 很多人認為公立診所應該提高收費以減少輪候時間。以公平和經濟效率為依據，評價這種看法。(4分)



寫於邊界以外的答案，將不予評閱。

寫於邊界以外的答案，將不予評閱。

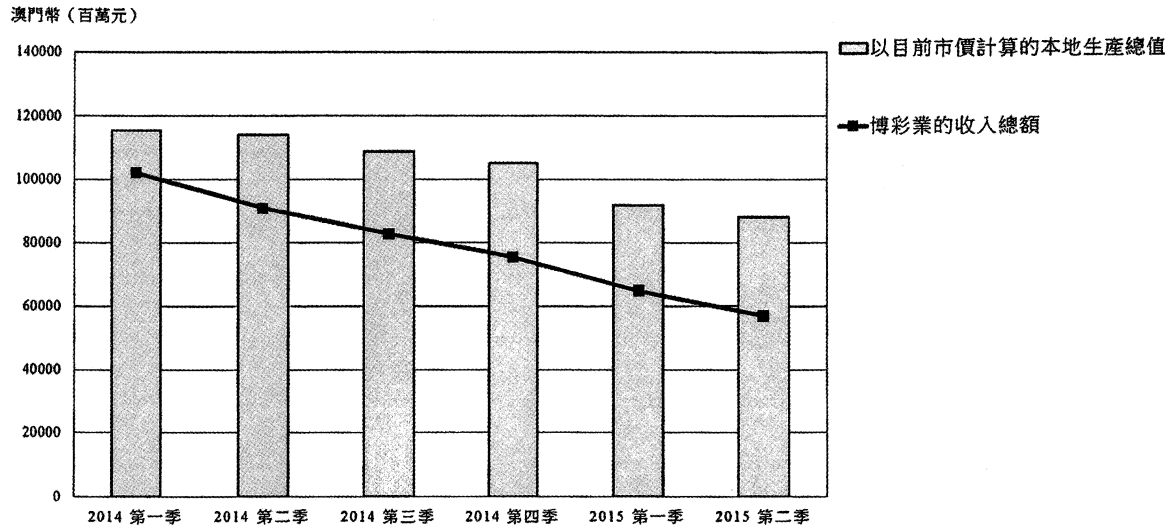
寫於邊界以外的答案，將不予評閱。

寫於邊界以外的答案，將不予評閱。

寫於邊界以外的答案，將不予評閱。

寫於邊界以外的答案，將不予評閱。

12. 博彩業是澳門服務出口的一大行業。下圖顯示澳門博彩業收入和澳門的總產出。



(a) 參考上圖，描述及解釋澳門的博彩業相對於該地區總產出的重要性的趨勢。(2分)

澳門政府推行一項現金分享計劃，每位居民均可獲政府派發現金。

(b) 以一幅總供需圖輔助，解釋該現金分享計劃會如何影響短期的產出和價格水平。(6分)

近日，博彩業不景令稅收下降，故此政府考慮減少投資方面的開支，但依然保留該現金分享計劃。不過，一位經濟學者建議政府應該暫停現金分享計劃，改為將該筆款項分配在投資上。

(c) 提出**正反**論點，討論該經濟學者的建議。(5分)

寫於邊界以外的答案，將不予評閱。

寫於邊界以外的答案，將不予評閱。

---

---

---

---

---

---

---

---

---

---

---

---

---

---

---

---

---

---

---

---

---

---

---

---

---

---

寫於邊界以外的答案，將不予評閱。

寫於邊界以外的答案，將不予評閱。

寫於邊界以外的答案，將不予評閱。

寫於邊界以外的答案，將不予評閱。

13. H國的機場管理公司是一間公營公司，它聘請了不同職員營運機場，例如有保安員、技術員、工程師和財務經理。

(a) 該做法說明了哪項經濟原理？舉出**三項**理由，解釋為什麼應用該原理能提高勞工的生產力。(4分)

(b) 該機場管理公司計劃興建多一條跑道，當中有兩個為該跑道融資的提案。

提案A：政府增加入息稅

提案B：機場管理公司向每位出境的旅客徵收一項定額費用

討論這兩個提案對H國下列兩方面的影響：

(i) 國際收支平衡中的經常帳

(ii) 出境旅客的平均飛行旅程距離

(10分)

寫於邊界以外的答案，將不予評閱。

寫於邊界以外的答案，將不予評閱。

寫於邊界以外的答案，將不予評閱。



寫於邊界以外的答案，將不予評閱。

寫於邊界以外的答案，將不予評閱。

乙部完

寫於邊界以外的答案，將不予評閱。

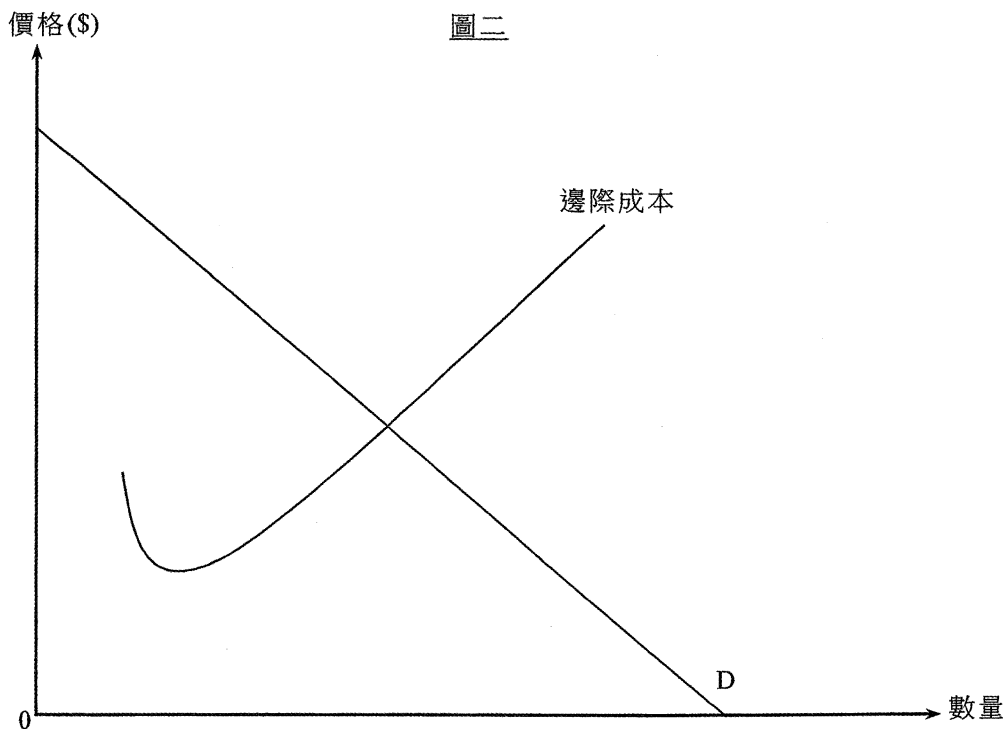
丙部 (16分) 選答一題。

14. 長洲是香港的離島，只可乘渡輪前往。只有一間專營渡輪公司提供來往中環和長洲的公共交通服務。

(a) 假設該渡輪公司以單一壟斷定價。

(i) 在圖二以  $Q_m$  和  $P_m$  分別標示產出和價格。 (2分)

(ii) 以圖二輔助，解釋為什麼該定價安排會導致效率損失。 (2分)



(b) 燃料價格近年下降了。

(i) 燃料價格下降會如何影響該公司的邊際成本？ (1分)

(ii) 假設在燃料價格下降後，渡輪公司生產**相同**的數量並收取**相同**的價格。解釋經濟效率會否受影響。在圖二說明你的答案。 (3分)

(c) 下表顯示中環往長洲渡輪服務的費用：

成人費用	13.20 元
小童費用	6.60 元

解釋上述安排是否構成價格分歧。 (3分)

(d) 長洲有很多提供海鮮的餐廳，部分餐廳在公眾假期同時漲價約 15%。一位學生評論：「這些餐廳涉及反競爭行為。它們違反競爭條例的一項行為守則！」他的經濟科老師回應：「價格上升可能有另一個解釋。」

(i) 解釋在什麼情況下，該學生的評論可能正確。 (3分)

(ii) 以**一項**理由支持該老師的回應。 (2分)

寫於邊界以外的答案，將不予評閱。

寫於邊界以外的答案，將不予評閱。

寫於邊界以外的答案，將不予評閱。


寫於邊界以外的答案，將不予評閱。

寫於邊界以外的答案，將不予評閱。

寫於邊界以外的答案，將不予評閱。

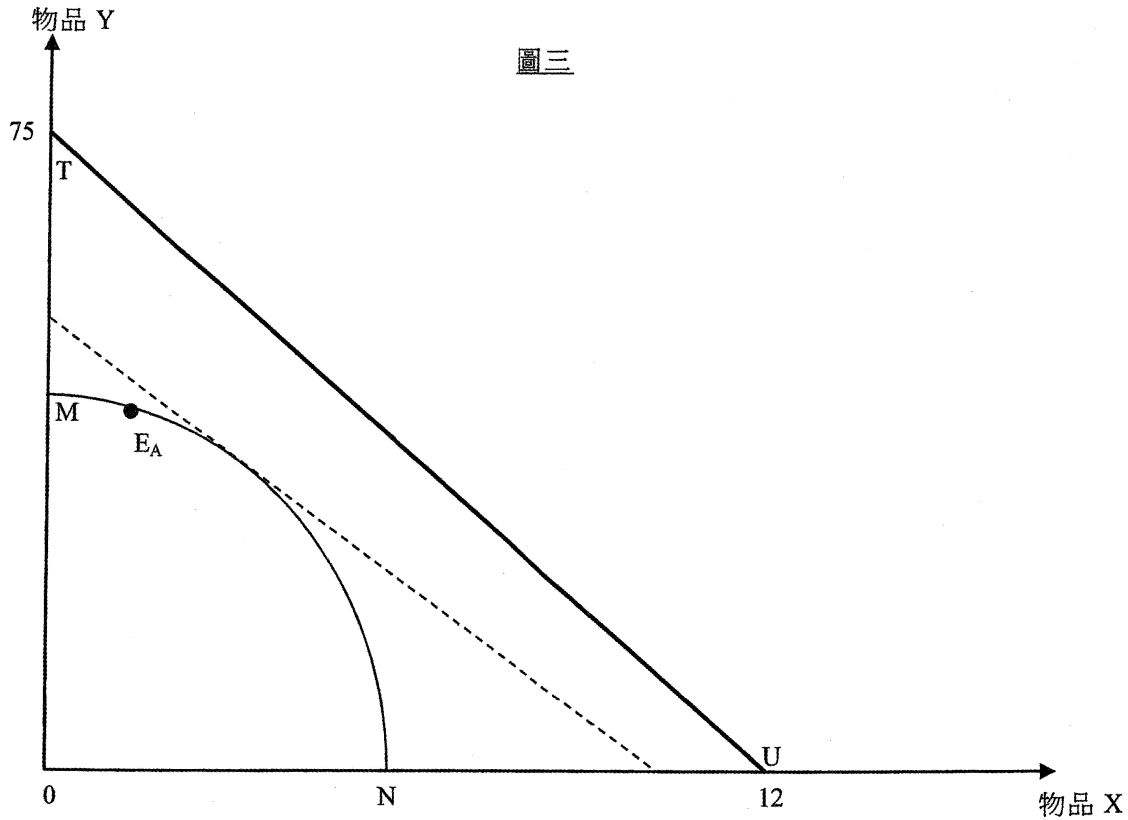
寫於邊界以外的答案，將不予評閱。

寫於邊界以外的答案，將不予評閱。



寫於邊界以外的答案，將不予評閱。

15. 在圖三，MN 和 TU 分別是甲國和乙國的生產可能線。



寫於邊界以外的答案，將不予評閱。

寫於邊界以外的答案，將不予評閱。

(a) 解釋為什麼甲國的生產可能線是向原點凹入的。 (1分)

甲國在沒有貿易時的生產點是  $E_A$ ，在該點 1 單位物品 X 的本地生產成本是 4 單位的物品 Y。

(b) 參考兩國的本地生產成本，解釋甲國生產哪種物品有比較優勢。 (3分)

假設虛線的斜率是物品 X 的世界價格。

(c) 在圖三標示：

(i) 甲國在貿易後的生產點為  $P_A$

(ii) 甲國的消費點為  $C_A$ ，條件是甲國在貿易後消費**相同**數量的物品 X

(iii) 甲國的進口量和出口量

(4分)

(d) 乙國的科技進步有助其對物品 X 和物品 Y 的生產力增加一倍。解釋 (b) 部的答案會否改變。 (2分)

(e) 甲國的人口統計報告警告，該國面對人才流失的問題，即很多高學歷的居民移居其他國家。

(i) 解釋人才流失對甲國經濟增長的**兩項**影響。 (4分)

(ii) 根據全球化的概念，舉出**一項**甲國政府可實行的政策以舒緩該問題。簡單解釋你的答案。 (2分)

寫於邊界以外的答案，將不予評閱。

寫於邊界以外的答案，將不予評閱。

寫於邊界以外的答案，將不予評閱。

**試卷完**

本試卷所引資料的來源，將於香港考試及評核局稍後出版的《考試報告及試題專輯》內列明。

寫於邊界以外的答案，將不予評閱。

# 補充答題紙

試題號數： \_\_\_\_\_

寫於邊界以外的答案，將不予評閱。

寫於邊界以外的答案，將不予評閱。

寫於邊界以外的答案，將不予評閱。