

經濟 試卷一

一小時完卷(上午八時三十分至上午九時三十分)

考生須知

- (一) 細讀答題紙上的指示。宣布開考後，考生須首先於適當位置貼上電腦條碼及填上各項所需資料。宣布停筆後，考生不會獲得額外時間貼上電腦條碼。
- (二) 試場主任宣布開卷後，考生須檢查試題有否缺漏，最後一題之後應有「**試卷完**」字樣。
- (三) 本試卷各題佔分相等。
- (四) **本試卷全部試題均須回答**。為便於修正答案，考生宜用 HB 鉛筆把答案填畫在答題紙上。錯誤答案可用潔淨膠擦將筆痕徹底擦去。考生須清楚填畫答案，否則會因答案未能被辨認而失分。
- (五) 每題只可填畫**一個**答案，若填畫多個答案，則該題**不給分**。
- (六) 答案錯誤，不另扣分。

考試結束前不可
將試卷攜離試場

本試卷共 45 題。選擇每題中的**最佳**答案。

1. 下列哪項有關經濟物品的陳述是正確的？
- A. 經濟物品可能不是稀少的。
 - B. 人們會對經濟物品進行競爭。
 - C. 人們對經濟物品的偏好大於免費物品。
 - D. 人們對經濟物品和免費物品均會進行競爭。
2. 在香港電腦通訊展期間，主辦單位派發 USB 快閃隨身碟給參加者作為禮物。對主辦單位來說，這些 USB 快閃隨身碟是 _____。
- (1) 經濟物品
 - (2) 生產者物品
 - (3) 消費者物品
- A. 只有 (2)
 - B. 只有 (3)
 - C. 只有 (1)、(2)
 - D. 只有 (1)、(3)
3. 一名香港市民吳先生準備前往東京旅遊。下列哪項會令他去這次旅遊的成本下降？
- A. 在他出發前，有一颱風剛剛移近東京。
 - B. 在他放假期間，他的老闆將會請全體同事享用自助餐。
 - C. 東京的風景比他想像中更優美。
 - D. 日圓兌其他貨幣貶值。
4. 下列哪些有關利息的陳述是正確的？
- (1) 利息是延後消費的補償。
 - (2) 因為人們沒有耐性等待，所以利息存在。
 - (3) 利息在以物易物的經濟中存在。
- A. 只有 (1)、(2)
 - B. 只有 (1)、(3)
 - C. 只有 (2)、(3)
 - D. (1)、(2) 及 (3)

5. 瑪蓮從書店購買了一本烹飪書。她的朋友潔文告訴她：「你擁有這烹飪書的私有產權。」瑪蓮在購入該書後會擁有哪些權利？
- (1) 按書中的食譜，為潔文準備晚餐。
 - (2) 把整本書掃描並上載到她的網誌。
 - (3) 把書放在書架，不去閱讀它。
 - (4) 把書借給潔文，並要求一頓晚餐作回報。
- A. 只有 (1)、(2)、(3)
 - B. 只有 (1)、(2)、(4)
 - C. 只有 (1)、(3)、(4)
 - D. 只有 (2)、(3)、(4)

細閱下列資料，然後回答第 6、7 題：

學校是提供教育服務的生產單位。以下是一些在學校常見的人物和物件：

- (1) 校舍
 - (2) 教師
 - (3) 學生
 - (4) 教師擁有的私家車
 - (5) 洗手間的洗手液
6. 上述哪些是學校的資本？
- A. 只有 (1)、(4)
 - B. 只有 (1)、(5)
 - C. 只有 (2)、(3)
 - D. 只有 (1)、(4)、(5)
7. 長期而言，上述哪些是學校的可變生產要素？
- A. 只有 (1)、(5)
 - B. 只有 (1)、(2)、(5)
 - C. 只有 (2)、(3)、(4)
 - D. (1)、(2)、(3)、(4) 及 (5)
8. 在下列哪種情況下，某國的勞力供應會增加？
- A. 向現有的勞動人口提供更多訓練。
 - B. 法定最低的工作年齡由 16 歲降低至 15 歲。
 - C. 外國直接投資增加。
 - D. 政府提高薪俸稅率。

9. 就職業流動性而言，下列哪項的流動性最高？

- A. 一位職業籃球員
- B. 一位持牌水喉匠
- C. 一位律師行的大學畢業實習生
- D. 一位會計師行的文員

10. 下列哪位最有可能以件工計酬？

- A. 一位報章專欄作家
- B. 一位小學教師
- C. 一位消防員
- D. 一位巴士司機

11. 香港電視網絡有限公司 (HKTV) 推出一個網上購物平台「HKTV Mall」。這擴張

- (1) 有助分散業務風險。
- (2) 確保公司有更高的利潤。
- (3) 將其品牌拓展至其他市場。

- A. 只有 (1)、(2)
- B. 只有 (1)、(3)
- C. 只有 (2)、(3)
- D. (1)、(2) 及 (3)

12. 下表顯示一受價者的成本與產出的關係。

| 產出 (單位) | 平均成本 (\$) |
|---------|-----------|
| 2 | 20 |
| 3 | 21 |
| 4 | 22 |
| 5 | 23 |
| 6 | 24 |
| 7 | 25 |

假設市場價格是 \$25。爭取最高利潤的產出和利潤分別是多少？

- A. 4 單位及 \$0
- B. 4 單位及 \$12
- C. 7 單位及 \$0
- D. 7 單位及 \$12

13. 下列哪種情況會令私人房屋的需求增加？

- A. 私人房屋的價格下降。
- B. 公共房屋的供應上升。
- C. 人們預期按揭貸款的利率稍後會上升。
- D. 人們預期私人房屋的價格稍後會上升。

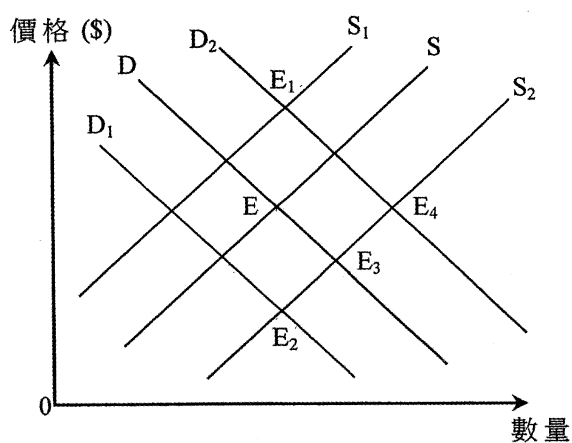
14. _____ 的需求可被視為 _____ 的引申需求。

- A. 咖啡豆……咖啡
- B. 自拍桿……數碼相機
- C. 雞翼……雞腿
- D. 報紙……印刷用紙

15. 物品 X 的生產成本下降，導致其價格和交易量分別改變了 5% 及 10%。下列哪項最能解釋上述的改變？

- A. 物品 X 是一種耐用品。
- B. 物品 X 沒有接近的替代品。
- C. 生產物品 X 的廠商有剩餘的產能。
- D. 物品 X 的生產要素並不容易找到。

16. 下圖顯示香港的士服務的供應和需求曲線。原初的均衡在 E 點。



新開發的智能手機應用程式如優步 (Uber)，令一些私家車車主能對公眾提供直達目的地的個人化運輸服務。同時，燃料價格大幅下降。新的均衡點會在 _____。

- A. E₁
- B. E₂
- C. E₃
- D. E₄

17. 在下列哪種情況下，香港建築工人的需求會上升

- A. 市區重建的法律程序簡化了。
- B. 建築工人的工資率下降。
- C. 政府向建築業的培訓計劃提供更多津貼
- D. 澳門建築業的工作機會減少。

18. 下列哪項與需求定律**並不相符**？

- A. 當政府對紅酒徵收從價稅(即該稅項是價格的某一百分比)，售出的高質紅酒和劣質紅酒的比率維持不變。
- B. 與農場附近的市場比較，距離農場較遠的市場售出較大量的貴價水果。
- C. 在經濟繁榮時，住宅樓宇的價格和交易量是正向關係。
- D. 泊車位的月租租金上升會令停泊於這些泊車位的車輛的平均質素下降。

19. 參閱以下某物品的供需表。

| | | | | | | |
|---------|----|----|----|----|----|----|
| 價格(\$) | 40 | 50 | 60 | 70 | 80 | 90 |
| 需求量(單位) | 14 | 12 | 10 | 8 | 6 | 4 |
| 供應量(單位) | 6 | 8 | 10 | 12 | 14 | 16 |

當政府對該物品提供每單位 \$20 的補貼，下列哪項陳述是正確的？

- A. 包括補貼在內的總收益是 \$840。
- B. 政府所支付的補貼總額是 \$200。
- C. 在原初市價和新市價的範圍內，需求彈性小於一。
- D. 它的輔助品的總收益轉變是未能確定的。

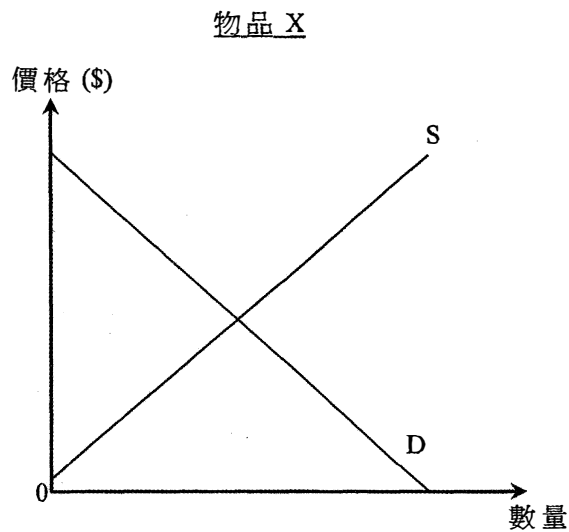
20. 下列哪些有關壟斷的陳述是正確的？

- (1) 壟斷者訂立市場價格。
 - (2) 當沒有廠商可獲准進入該市場，便會出現自然壟斷。
 - (3) 壟斷者所提供的產品是有替代品的。
- A. 只有 (1)、(2)
 - B. 只有 (1)、(3)
 - C. 只有 (2)、(3)
 - D. (1)、(2) 及 (3)

21. 下列哪種情況會達至有效率？

- A. 總社會得益等於總社會成本。
- B. 生產者盈餘等於消費者盈餘。
- C. 邊際社會得益和邊際社會成本的差額為零。
- D. 市場上全部消費者的消費者盈餘達至最高。

22. 下圖顯示物品 X 的供應和需求曲線。



物品 X 和物品 Y 屬於競爭性供應。物品 Y 的需求上升會令物品 X 市場的消費者盈餘 _____，而生產者盈餘 _____。
(假設物品 X 的供應和需求曲線平行移動。)

- A. 增加……增加
- B. 增加……減少
- C. 減少……增加
- D. 減少……減少

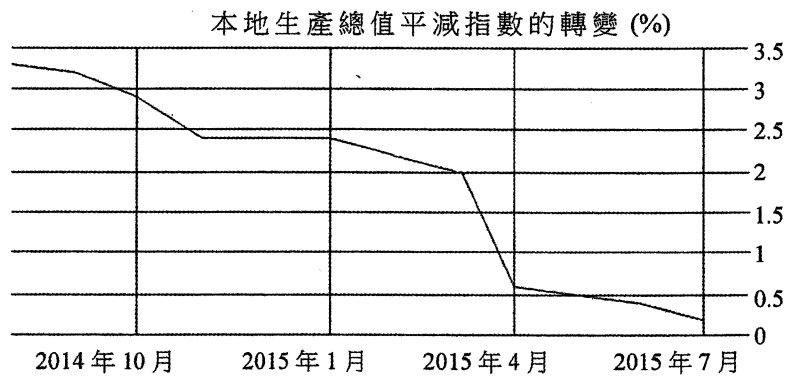
23. 細閱以下有關某國本地生產總值 (GDP) 的資料。

| GDP 組成部分 | 百萬元 |
|------------|-----|
| 私人消費支出 | 380 |
| 政府消費支出 | 450 |
| 本地固定資本形成總額 | 230 |
| 存貨減少 | 50 |
| 補貼 | 30 |
| 折舊 | 40 |
| 總出口 | 130 |
| 總進口 | 170 |
| 直接稅 | 30 |

以要素成本計算的本地生產總值是 _____ 百萬元。

- A. 960
- B. 970
- C. 1 000
- D. 1 100

24. 細閱下圖。

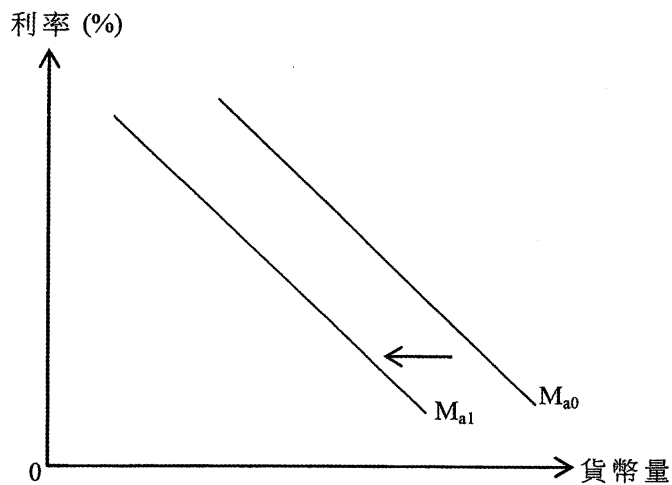


該圖顯示在 2014 年 10 月至 2015 年 7 月之間，

- A. 名義本地生產總值正在下跌。
- B. 貨幣的購買力正在上升。
- C. 實質本地生產總值的增長率高於名義本地生產總值的增長率。
- D. 名義利率高於已實現的實質利率。

25. 下列哪項會減低某國的失業率？
- A. 一些大學畢業生加入勞動人口。
 - B. 一些工廠搬遷到勞工成本較低的鄰近國家。
 - C. 一些失業工人放棄了尋找工作。
 - D. 政府增加失業援助金。
26. 在下列哪種情況下，某國的總需求會下降？
- A. 該國的物價水平上升。
 - B. 該國的主要貿易夥伴的貨幣升值。
 - C. 政府的社會福利開支上升。
 - D. 法定儲備比率上升。
27. 若政府興建新的基建，這會令 _____ 上升。
- (1) 建築期間的就業人口
 - (2) 建築期間的物價水平
 - (3) 基建完成後的潛在產出
 - (4) 基建完成後的物價水平
- A. 只有 (1)、(2)
 - B. 只有 (3)、(4)
 - C. 只有 (1)、(2)、(3)
 - D. (1)、(2)、(3)及 (4)
28. 深圳永久居民往香港的「一簽多行」被「一週一行」所取代。這會令香港的 _____ 和 _____ 下跌。
- A. 總需求……長期產出水平
 - B. 總需求……長期物價水平
 - C. 短期總供應……短期產出水平
 - D. 長期總供應……長期產出水平

29. 參閱下圖。



下列哪項會引致資產貨幣需求曲線有以上的改變？

- A. 股票市場變得較少波動。
- B. 預期一般物價水平持續下跌。
- C. 中央銀行提高貼現率。
- D. 住戶的可用收入下跌。

30. 參閱下圖。



阿健看到以上廣告後，就以分期付款的方式購買了新手機。在這次付費中，貨幣發揮了下列哪些功能？

- (1) 價值儲藏
 - (2) 記帳單位
 - (3) 延後支付標準
- A. 只有 (1)、(2)
 - B. 只有 (1)、(3)
 - C. 只有 (2)、(3)
 - D. (1)、(2) 及 (3)

參閱以下某銀行系統的資產負債表。該系統的超額儲備是 125 百萬元。

| 資產 (百萬元) | | 負債 (百萬元) | |
|----------|-----|----------|-----|
| 儲備 | 250 | 存款 | 500 |
| 貸款 | 250 | | |

下列哪項陳述是**不**正確的？

- A. 法定儲備比率是 25%。
- B. 最高的貸款金額是 750 百萬元。
- C. 該銀行系統能把存款總額擴大至 1 000 百萬元。
- D. 實際銀行乘數是 4。

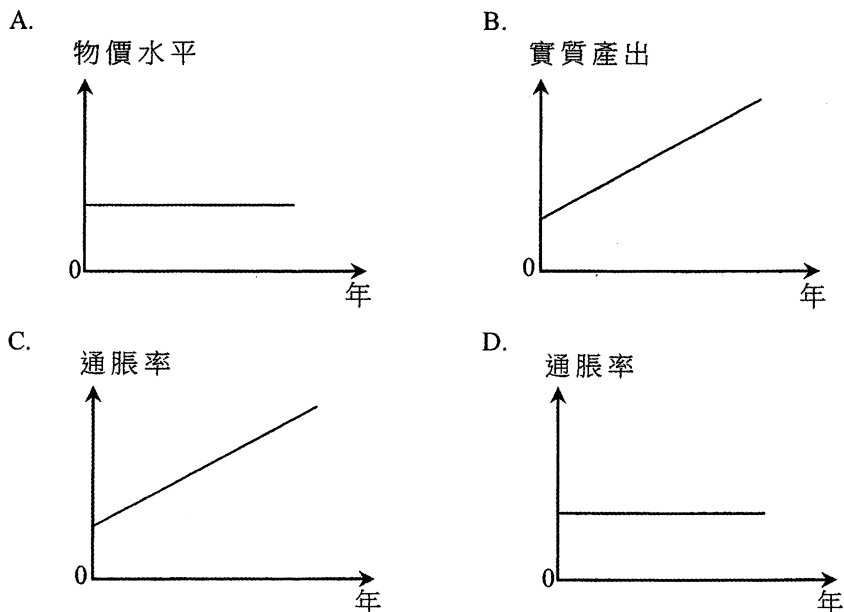
雲妮從她在持牌銀行的儲蓄戶口提取港幣 \$500 000。她將一半存入她的往來戶口，另一半存入一間接受存款公司。下列哪項顯示她此舉對香港貨幣供應的即時影響？

- A. 貨幣供應定義一(M1)上升，而貨幣供應定義二(M2)下降。
- B. 貨幣供應定義一(M1)上升，而貨幣供應定義三(M3)下降。
- C. 貨幣供應定義一(M1)和貨幣供應定義二(M2)均下降。
- D. 貨幣供應定義二(M2)和貨幣供應定義三(M3)均下降。

在部分儲備銀行制度下，實際創造的存款經常低於最高可能創造的存款。在下列哪種情況下，這兩個金額的差距會收窄？

- A. 電子付費日益普及。
- B. 中央銀行收緊對銀行按揭貸款的限制。
- C. 中央銀行從公眾買入債券。
- D. 中央銀行降低銀行的法定儲備比率。

34. 根據古典貨幣量理論，當每年的貨幣供應以一固定的百分率增長時，下列哪幅圖是正確的？



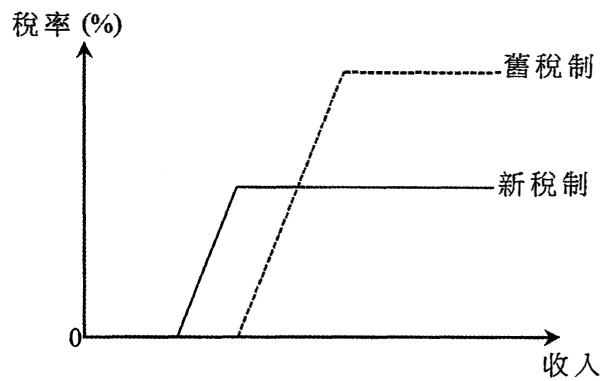
35. 林先生在香港一間資訊科技公司任職流動程式設計師，收入為 \$1 000 000。他亦持有一家本地公司所發行的股票，收取 \$50 000 股息。他買了一輛二手跑車，並經香港國際機場飛往馬爾代夫享受假期。

根據上述資料，林先生要向香港政府支付 _____。

- (1) 薪俸稅
- (2) 股息稅
- (3) 首次登記稅
- (4) 飛機乘客離境稅

- A. 只有 (1)、(4)
- B. 只有 (2)、(3)
- C. 只有 (1)、(2)、(4)
- D. 只有 (1)、(3)、(4)

36. 下圖顯示某經濟薪俸稅制的轉變。



與舊稅制相比，新稅制會 _____。

- A. 令收入分布更平均
- B. 減低所有工人的工作意慾
- C. 擴闊稅基
- D. 令總稅收上升

37. 在非預期通縮期間，下列哪些人士會得益？

- (1) 香港政府發行的通脹掛鈎債券的持有人
- (2) 正償還浮息按揭貸款的樓宇業主
- (3) 正收取固定長俸的人士

- A. 只有 (1)、(2)
- B. 只有 (1)、(3)
- C. 只有 (2)、(3)
- D. (1)、(2) 及 (3)

38. 假設政府同時增加支出和入息稅，兩者增加的金額相同。這對總產出的影響屬

- A. 收縮性。
- B. 中性。
- C. 擴張性。
- D. 未能確定。

39. 假設甲國原初在全民就業均衡下運作，而政府財政達至收支平衡。就短期而言甲國的貿易夥伴經濟復甦會令甲國出現 _____ 及 _____。

- A. 通脹(產出)差距……財政盈餘
- B. 通脹(產出)差距……財政赤字
- C. 通縮(產出)差距……財政盈餘
- D. 通縮(產出)差距……財政赤字

40. 在下列哪些情況下，財政赤字和貿易逆差可以同時被消除？

- (1) 名義利率下降
- (2) 該經濟的貨幣貶值
- (3) 入息稅上升

- A. 只有 (1)、(2)
- B. 只有 (1)、(3)
- C. 只有 (2)、(3)
- D. (1)、(2) 及 (3)

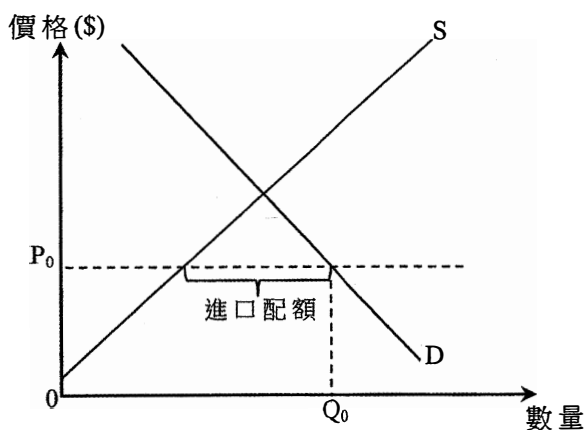
41. 下表顯示甲國和乙國以相同數量的資源可生產的玩具或汽車的數量。

| | 玩具 | 或 | 汽車 |
|----|----|---|----|
| 甲國 | 50 | | 80 |
| 乙國 | 20 | | 60 |

每單位玩具的運輸成本是 0.4 單位汽車，由進口國家負擔。下列哪項是甲乙兩國之間有互利的貿易比率？

- A. 1 單位玩具 = 1.6 單位汽車
- B. 1 單位玩具 = 2 單位汽車
- C. 1 單位玩具 = 2.6 單位汽車
- D. 1 單位玩具 = 3 單位汽車

42. 參閱以下有關某小國物品 X 的供需圖。



該國對物品 X 實施進口配額，而價格和交易量分別是 P_0 和 Q_0 。若物品 X 在該國的需求上升，_____。

- (1) 進口量會上升
- (2) 物品 X 在該國的價格會上升
- (3) 物品 X 在該國的銷量會上升

- A. 只有 (1)、(2)
- B. 只有 (1)、(3)
- C. 只有 (2)、(3)
- D. (1)、(2) 及 (3)

43. 下表顯示某國有關國際收支平衡的資料：

| | 百萬元 |
|------|-----|
| 有形貿易 | 20 |
| 無形貿易 | X |
| 資本流入 | 70 |
| 資本流出 | 50 |

假設該國的外匯儲備上升了 30 百萬元，X 的值是多少？

- A. -70
- B. -10
- C. +10
- D. +70

44. 假設某地區中的國家都是出口物品往美國的競爭對手。除了 X 國的貨幣外，在該地區中其他國家的貨幣兌美元均貶值。結果，X 國出口往美國的物品數量會

- A. 下降。
- B. 上升。
- C. 維持不變。
- D. 未能確定。

45.

| 日期 | 匯率 |
|-----------------|------------------|
| 2015 年 2 月 15 日 | 1 美元 = 0.8773 歐元 |
| 2015 年 8 月 15 日 | 1 美元 = 0.8965 歐元 |

在香港聯繫匯率制度下，上述歐元兌美元匯率的改變會引致 _____。

- A. 到訪香港的歐洲遊客人數上升
- B. 歐洲出口往香港的物品總值上升（以港元計算）
- C. 香港出口往美國的物品數量下降
- D. 香港出口往歐洲的物品總值下降（以港元計算）

試 卷 完

本試卷所引資料的來源，將於香港考試及評核局稍後出版的《考試報告及試題專輯》內列明。