

**經濟 試卷二**  
**試題答題簿**

本試卷必須用中文作答  
兩小時十五分完卷(上午十時十五分至下午十二時三十分)

**考生須知**

- (一) 宣布開考後，考生須首先在第1頁之適當位置填寫考生編號，並在第1、3、5、7及9頁之適當位置貼上電腦條碼。
- (二) 本試卷分為甲部、乙部及丙部。甲部和乙部試題**均須**回答。丙部任意選答**一題**。
- (三) 答案須寫在本試題答題簿中預留的空位內。不可在各頁邊界以外位置書寫。寫於邊界以外的答案，將不予評閱。
- (四) 如有需要，可要求派發補充答題紙。每一紙張均須填寫考生編號、填畫試題編號方格、貼上電腦條碼，並用繩縛於**簿內**。
- (五) 試場主任宣布停筆後，考生不會獲得額外時間貼上電腦條碼及填畫試題編號方格。

請在此貼上電腦條碼

考生編號



甲部 (50分)

1. 越來越多的著名大學開辦「大規模開放線上課程」(MOOC)向不同背景的學生提供有系統的學習機會。
- (a) 任何人都可以在網上免費取用大部分「大規模開放線上課程」的教材。解釋這些教材是否
- (i) 免費物品； (2分)
- (ii) 共用品。 (3分)
- (b) 有些人較喜歡報讀免費「大規模開放線上課程」，而其他人則較喜歡報讀在大學校內授課的收費課程。若課程的教學內容和教學時數皆相同，某人報讀免費「大規模開放線上課程」的成本是否必然低於另一人報讀在校內授課的收費課程的成本？試加以解釋。 (3分)

寫於邊界以外的答案，將不予評閱。

寫於邊界以外的答案，將不予評閱。

寫於邊界以外的答案，將不予評閱。

請在此貼上電腦條碼

2. 很多電子產品零售商位於旺角。

(a) 電子產品零售商屬於哪一種類的生產？試加以解釋。(2分)

(b) 舉出**兩項**理由，解釋為什麼旺角一家電子產品零售商可能享有外部規模經濟。(4分)

寫於邊界以外的答案，將不予評閱。

寫於邊界以外的答案，將不予評閱。

寫於邊界以外的答案，將不予評閱。

3. 增加在某物品市場的有效配額會令效率損失減少。你同意嗎？以圖輔助，加以解釋。  
(6分)

寫於邊界以外的答案，將不予評閱。

寫於邊界以外的答案，將不予評閱。

4. 細閱下列的新聞撮要。

人們對小型單位有強烈偏好，以致近月400平方呎以下單位的樓價被推至新高，預期未來會有越來越多的小型單位出售。

(a) 從以上新聞撮要中找出價格的一項功能，並加以解釋。(2分)

(b) 解釋人們對小型單位有強烈偏好會如何影響大型單位的供應。(2分)

寫於邊界以外的答案，將不予評閱。

請在此貼上電腦條碼

寫於邊界以外的答案，將不予評閱。

寫於邊界以外的答案，將不予評閱。

5. 澳門近年發展迅速，吸引了一些香港的工人到當地工作。假設香港的職位數量不變，上述的現象會對香港的失業率有什麼影響？試加以解釋。 (4分)

寫於邊界以外的答案，將不予評閱。

6. 細閱下列甲國銀行系統的資產負債表。

資產(百萬元)		負債(百萬元)	
儲備	1 000	存款	5 000
貸款	4 000		

假設所有銀行將可貸款項悉數借出而永不持有超額儲備，公眾總是持有現金150百萬元。

(a) 計算這銀行系統內的下列各項：

- (i) 法定儲備比率 (1分)
- (ii) 貨幣供應 (2分)

甲國某廠商從外地收取50百萬元，並將這筆款項存入銀行。

- (b) 計算甲國新的貨幣基礎。列出你的步驟。 (2分)
- (c) 計算甲國新的貨幣供應。列出你的步驟。 (3分)

寫於邊界以外的答案，將不予評閱。

寫於邊界以外的答案，將不予評閱。

寫於邊界以外的答案，將不予評閱。

寫於邊界以外的答案，將不予評閱。

寫於邊界以外的答案，將不予評閱。

7. 假設甲、乙兩國用上**所有**資源進行生產。它們的最高產量如下表所示：

	稻米（單位）	或	成衣（單位）
甲國	15		3
乙國	8		4

- (a) 解釋乙國生產成衣是否擁有絕對優勢。 (2分)
- (b) 稻米出口國出口12單位的稻米，換取3單位的成衣。計算成衣出口國的總貿易得益。列出你的步驟。 (4分)

寫於邊界以外的答案，將不予評閱。

8. 政府正考慮從其財政盈餘撥出一筆款項，用於下列兩項提案：

提案 1：將免費教育延長至15年

提案 2：提供失業援助金

試以公平和對總產出的影響為依據，評價該兩項提案。

(8分)

寫於邊界以外的答案，將不予評閱。

寫於邊界以外的答案，將不予評閱。

甲部完

寫於邊界以外的答案，將不予評閱。



乙部 (54分)

9. 麥當勞是香港其中一個主要的快餐連鎖集團。
- (a) 麥當勞在香港是一家私人有限公司。寫出成立私人有限公司相比於成立公眾有限公司的一項優點和一項缺點。 (2分)
  - (b) 麥當勞把業務擴展至經營咖啡屋 McCafé，有如星巴克等咖啡屋一樣出售優質咖啡。這屬於哪一類擴張？試加以解釋。 (2分)
  - (c) 一杯意大利濃咖啡的價格在 McCafé 比在星巴克低。提出兩個可能的原因，解釋為什麼有這樣的價格差異。 (4分)
  - (d) 於 2014年7月，麥當勞被指責以過期肉類作為食材。其後，有關的產品被銷毀了。解釋這些已銷毀產品的價值會否包括在香港本地生產總值的計算之內。 (2分)

寫於邊界以外的答案，將不予評閱。

寫於邊界以外的答案，將不予評閱。

寫於邊界以外的答案，將不予評閱。

寫於邊界以外的答案，將不予評閱。

寫於邊界以外的答案，將不予評閱。

10. 假設香港某球會聘請了一位巴西著名足球員擔任為期兩個月的兒童足球班教練，他收取了八百萬元的薪金，其後返回巴西。不過，足球班的收生欠佳，學費收入只有三百萬元。

(a) 舉辦上述足球班對下列各項有什麼影響？試加以解釋。

- (i) 香港的本地生產總值(GDP) (2分)
- (ii) 香港的本地居民生產總值(GNP) (3分)

(b) 下列是兩位職業足球員的合約。

合約甲 球員甲 每週 \$10 000
---------------------------

合約乙 球員乙 每場比賽 \$8 000 + 每進一球 \$10 000
---


從僱主的角度，解釋合約乙較合約甲兩項優勝之處。 (4分)

(c) 職業足球員通常在三十多歲退休。雖然他們大多在當球員的時候薪酬可觀，但有些在退休後只能找到低薪的工作。以勞工流動性為依據，解釋上述現象。 (3分)

寫於邊界以外的答案，將不予評閱。

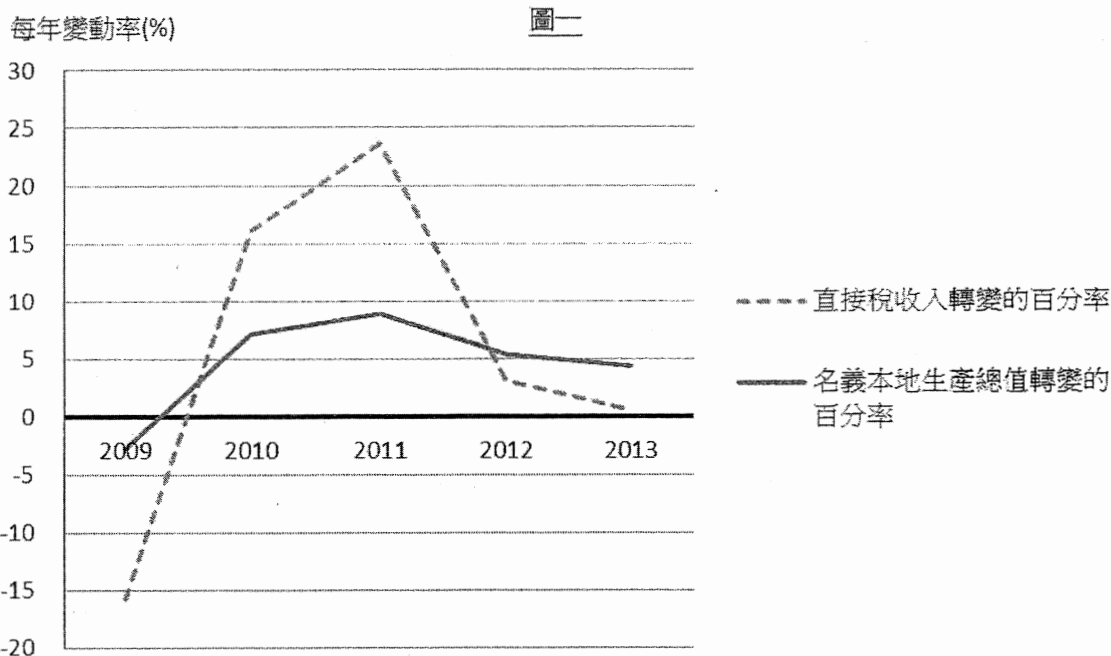
寫於邊界以外的答案，將不予評閱。

寫於邊界以外的答案，將不予評閱。



寫於邊界以外的答案，將不予評閱。

11. 圖一顯示香港2009年至2013年直接稅收入和名義本地生產總值轉變的百分率。



- (a) (i) 參考圖一，描述2009年至2013年直接稅收入轉變的百分率和名義本地生產總值轉變的百分率兩者的關係，並比較它們的趨勢。(2分)
- (ii) 簡單解釋你在(a)(i)所述的關係。(2分)
- (b) 一名會計師指出香港的稅基狹窄，建議政府應該開徵新種類的間接稅。舉出一個例子，解釋開徵新的間接稅如何會擴闊稅基。(2分)
- 煙草稅是香港的一項間接稅。為了遏止吸煙，財政司司長增加了煙草稅率。
- (c) 一位經濟學家指出：「其他因素不變，增加煙草稅率不會有效地減少已完稅香煙的消費量。」毋須運用圖表，論證他的陳述。(4分)
- (d) 除了增加煙草稅，海關亦加強打擊非法售賣未完稅香煙，並搗破數個非法賣家。未完稅香煙的交易量有可能會上升嗎？以圖輔助，加以解釋。(7分)

.....

.....

.....

.....

.....

.....

.....

.....


.....

.....

寫於邊界以外的答案，將不予評閱。

寫於邊界以外的答案，將不予評閱。

寫於邊界以外的答案，將不予評閱。

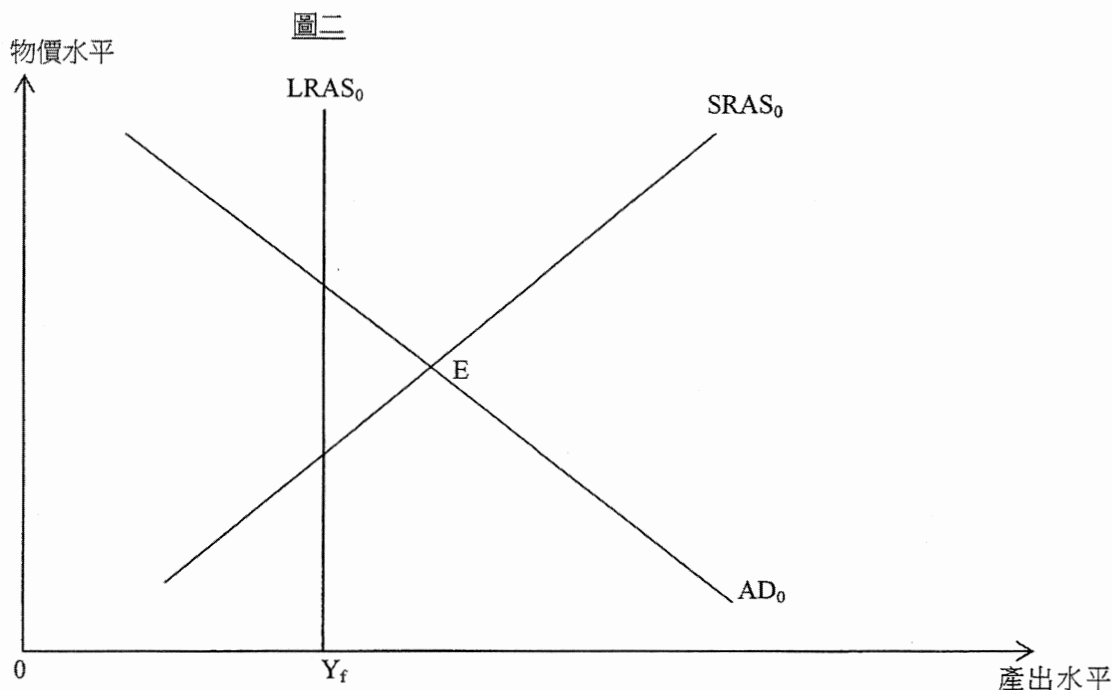


寫於邊界以外的答案，將不予評閱。

12. 研究顯示內地旅客的「個人遊」計劃為香港帶來經濟利益。不過，越來越多的香港居民要求政府減少透過該計劃到港的內地旅客人數。

- (a) 若政府限制該計劃的規模而令內地旅客訪港人數減少，香港的經常帳會如何受到影響？試加解釋。(2分)

一位經濟學家運用總供需模式分析香港現況。在他的分析中，圖二的 E 點是香港經濟原初的短期均衡點。



- (b) 他指出政府可幫助經濟回復至長期均衡。以圖二輔助，解釋減少內地旅客訪港人數如何可以令產出水平減低至  $Y_f$ 。(5分)
- (c) 他亦指即使沒有政府幫助，市場力量也可令經濟回復至長期均衡。**毋須**運用圖表，解釋市場力量在長期如何可以令產出水平減低至  $Y_f$ 。(4分)
- (d) 部分居民投訴大量旅客令公共交通系統不勝負荷，導致所有乘客的交通時間大幅增加。以外界影響為依據，解釋為什麼當交通系統過分擁擠時可能出現無效率。(4分)

寫於邊界以外的答案，將不予評閱。

寫於邊界以外的答案，將不予評閱。

寫於邊界以外的答案，將不予評閱。

寫於邊界以外的答案，將不予評閱。

寫於邊界以外的答案，將不予評閱。

乙部完

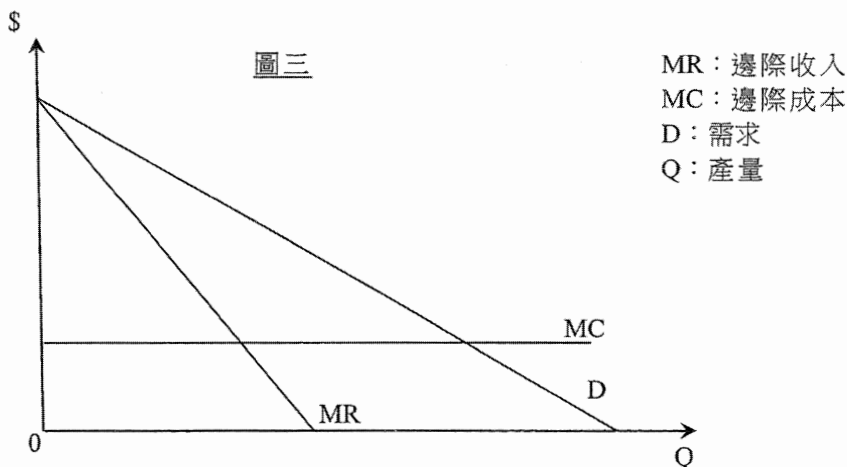
寫於邊界以外的答案，將不予評閱。

丙部 (16 分) 選答一題。

選修單元一

13. 超級電力是 X 市唯一的持牌電力供應商。它以單一訂價爭取最大利潤。

- (a) 在圖三以  $Q_1$  標示它會生產的產量及以  $P_1$  標示其相應的價格。簡單解釋你的答案。(3分)



- (b) 以圖三輔助，解釋為什麼採取單一訂價是無效率的。(2分)
- (c) 政府對超級電力開徵定額稅，不論其產量多少均收取固定的金額。
- (i) 解釋超級電力的邊際成本會否因為該定額稅而上升。(2分)
- (ii) 在圖三分別以  $Q_2$  和  $P_2$  標示超級電力的稅後產量和價格。(2分)
- (d) 超級電力收取住宅用戶每度電 \$1.2 而收取工業用戶每度電 \$0.9。這種收費安排構成價格分歧嗎？試加以解釋。(3分)
- (e) 超級電力收購了該市主要的煤供應商。X 市九成生產電力的原料是由該供應商供應的。寫出超級電力此舉可能構成反競爭行為的名稱，並解釋該行為如何限制競爭。(2分)
- (f) 超級電力的東主聲稱 (e) 所述的收購並非反競爭。舉出一個原因，論證他們的聲稱。(2分)

寫於邊界以外的答案，將不予評閱。

寫於邊界以外的答案，將不予評閱。

寫於邊界以外的答案，將不予評閱。



寫於邊界以外的答案，將不予評閱。

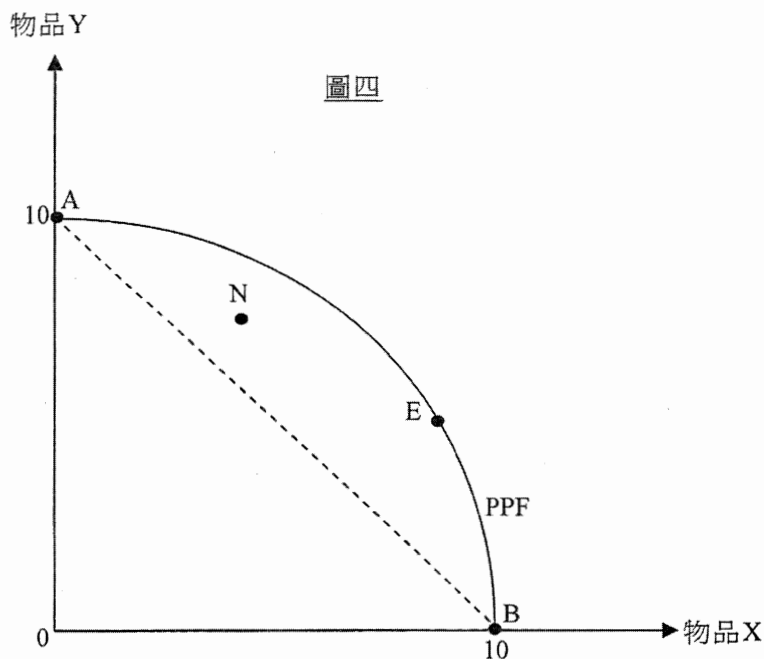
寫於邊界以外的答案，將不予評閱。

A large rectangular area with horizontal dashed lines, intended for writing answers. The lines are evenly spaced and extend across the width of the page.

寫於邊界以外的答案，將不予評閱。

選修單元二

14. 在圖四，PPF 是某國的生產可能線，E 點是在沒有貿易下的生產點。在 E 點，每單位物品 X 的本地生產成本是 2.5 單位物品 Y。



- (a) 解釋該國會否在 N 點生產。 (2分)
- (b) 虛線 AB 的斜率是物品 X 的國際價格。解釋該國生產物品 X 是否擁有比較優勢。 (3分)
- (c) 假設該國進行國際貿易。在圖四標示貿易後的生產點和消費可能線。 (3分)
- (d) 以圖四輔助，解釋該國會否從貿易中得益。 (3分)
- (e) 開放貿易後，該國的人類發展指數 (HDI) 上升了。
- (i) 舉出一項理由，解釋為什麼國際貿易可以令人類發展指數上升。 (1分)
- (ii) 雖然人類發展指數上升了，該國的居民一般認同他們的生活水準下降了。提出兩個可能的原因，以解釋他們的看法。 (4分)

寫於邊界以外的答案，將不予評閱。

寫於邊界以外的答案，將不予評閱。

寫於邊界以外的答案，將不予評閱。

**試卷完**

本試卷所引資料的來源，將於香港考試及評核局稍後出版的《考試報告及試題專輯》內列明。

寫於邊界以外的答案，將不予評閱。

# 補充答題紙

試題號數： \_\_\_\_\_

A large rectangular area with horizontal dashed lines for writing answers. The lines are evenly spaced and extend across the width of the page, leaving a margin on both sides.

寫於邊界以外的答案，將不予評閱。

寫於邊界以外的答案，將不予評閱。

寫於邊界以外的答案，將不予評閱。