

經濟 試卷二
試題答題簿

本試卷必須用中文作答
兩小時十五分完卷(上午十時十五分至下午十二時三十分)

考生須知

- (一) 宣布開考後，考生須首先在第1頁之適當位置填寫考生編號，並在第1、3、5、7、9及11頁之適當位置貼上電腦條碼。
- (二) 本試卷分為甲部、乙部及丙部。甲部和乙部試題均須回答。丙部任意選答一題。
- (三) 答案須寫在本試題答題簿中預留的空位內。不可在各頁邊界以外位置書寫。寫於邊界以外的答案，將不予評閱。
- (四) 如有需要，可要求派發補充答題紙。每一紙張均須填寫考生編號、填畫試題編號方格、貼上電腦條碼，並用繩縛於簿內。
- (五) 試場主任宣布停筆後，考生不會獲得額外時間貼上電腦條碼及填畫試題編號方格。

請在此貼上電腦條碼

考生編號



甲部 (50分)

1. 小玲是一位正在找工作的大學畢業生。她有數個選擇，而她的優先次序如下列所示：

- | | |
|-------|-----------------|
| 第一選擇： | 在政府任職政務主任 |
| 第二選擇： | 在會計師行任職見習生 |
| 第三選擇： | 繼續找工作，暫時不接受任何工作 |

在以下的情況中，分析小玲選擇任職政務主任的機會成本會否**必然**維持不變：

- (a) 政府調低政務主任的起始薪金。 (2分)
- (b) 政府向所有正在找工作的畢業生提供失業援助金。 (3分)

寫於邊界以外的答案，將不予評閱。

寫於邊界以外的答案，將不予評閱。

寫於邊界以外的答案，將不予評閱。

2. 亞榮在旺角開設一家售賣手提電話配件的店舖。

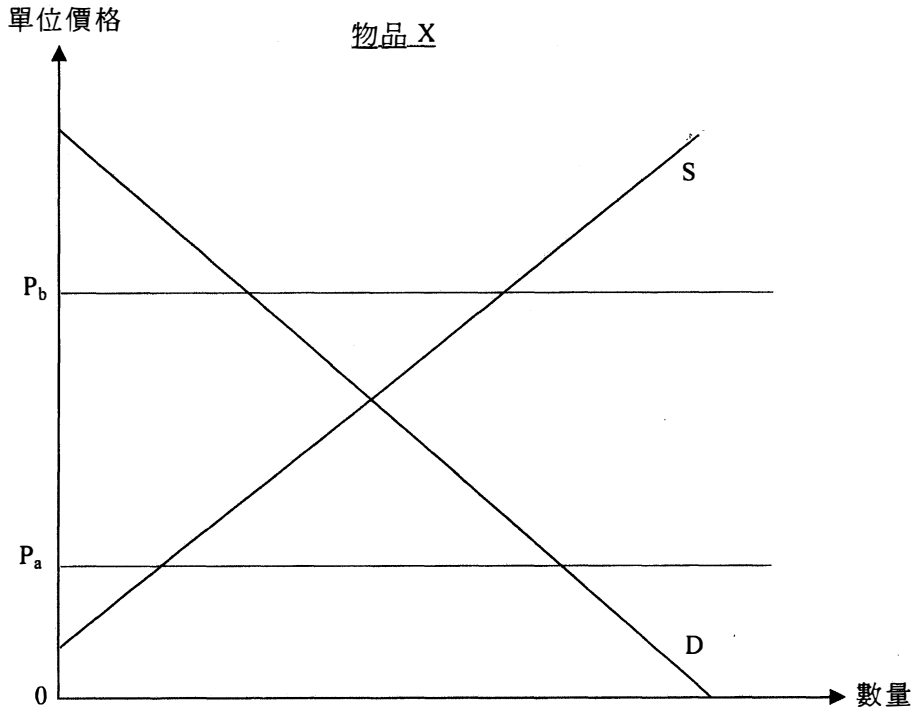
- (a) 亞榮屬於哪種生產要素？試加以解釋。 (2分)
- (b) 舉出在亞榮的業務中所涉及可變成本的一個例子。試加以解釋。 (2分)
- (c) 指出香港的手提電話配件零售商屬於哪種市場結構。舉出兩個理由加以闡釋。 (3分)

寫於邊界以外的答案，將不予評閱。

寫於邊界以外的答案，將不予評閱。

寫於邊界以外的答案，將不予評閱。

3. 圖一顯示物品 X 的市場供應和市場需求曲線。假設政府將價格下限由 P_a 提升至 P_b 。



圖一

以圖一輔助，解釋這樣提升價格下限能否改善經濟效率。

(6分)

寫於邊界以外的答案，將不予評閱。

寫於邊界以外的答案，將不予評閱。

寫於邊界以外的答案，將不予評閱。

4. 大快樂集團經營連鎖餐廳，提供中式食物。

(a) 大快樂集團近日設立了快樂學院，為中式餐廳的廚師和經理提供專業培訓。這屬於哪類擴張？試加以解釋。 (2分)

(b) 解釋這項擴張的兩個好處。 (4分)

寫於邊界以外的答案，將不予評閱。

寫於邊界以外的答案，將不予評閱。

寫於邊界以外的答案，將不予評閱。

5. 細閱以下有關某經濟的資料。

年份	消費物價指數 (CPI)
2012	120
2013	126

- (a) 計算2013年的通脹率。 (1分)
- (b) 解釋以消費物價指數和以本地生產總值平減指數量度物價水平轉變的一個不同之處。 (2分)
- (c) 假設人們預期由2012年至2013年物價水平沒有任何轉變。當上表所示的物價改變出現，解釋以下各人會獲益還是受損。
- (i) 在2012年，潔文以固定名義利率向某銀行借了一筆樓宇按揭貸款。
- (ii) 在2012年，瑪蓮投資了一個項目，其預期名義回報率為每年12%。在2013年，她發現該計劃的實際名義回報率為每年15%。 (5分)

寫於邊界以外的答案，將不予評閱。

寫於邊界以外的答案，將不予評閱。

寫於邊界以外的答案，將不予評閱。

寫於邊界以外的答案，將不予評閱。

寫於邊界以外的答案，將不予評閱。

6. 嘉琳是香港居民。她在上海的一家媒體集團任職攝影師。
- (a) 嘉琳在上海所賺的薪金要在香港納稅嗎？試加以解釋。 (2分)
- (b) 薪俸稅是一項直接稅，還是間接稅？試加以解釋。 (2分)

寫於邊界以外的答案，將不予評閱。

7. 美國政府嘗試一方面加稅，另一方面減低財政開支，以減低其不斷增加的財政赤字。但是很多人擔心這項政策會導致不良的副作用。

(a) 解釋上述財政政策對美國整體經濟可能引起的**兩個**不良效果。 (4分)

(b) 另一替代政策是印發鈔票以支付財政赤字。與上述財政政策相比，簡單討論這替代政策對美國經濟的**一項**好處和**一項**壞處。 (4分)

寫於邊界以外的答案，將不予評閱。

寫於邊界以外的答案，將不予評閱。

寫於邊界以外的答案，將不予評閱。

8. 假設甲、乙兩國每單位資源可生產的紙張及手錶數量分別如下：

	紙張 (單位)	或	手錶 (單位)
甲國	12	或	3
乙國	8	或	4

(a) 乙國會根據其比較優勢出口哪種物品？試加以解釋。 (3分)

(b) 假設甲國和乙國貿易，交換率是 2 單位手錶換 5 單位紙張。計算甲國從每單位進口可賺得多少。 (3分)

寫於邊界以外的答案，將不予評閱。


寫於邊界以外的答案，將不予評閱。

甲部完

寫於邊界以外的答案，將不予評閱。

乙部 (54 分)

9. 許多國家以國民健康為理由考慮徵收「汽水稅」。假設某國決定對賣家在市場中售出的每瓶汽水徵收一項從量稅。
- (a) 在什麼條件下該國的汽水買家會比賣家承受較高的稅項負擔？以一供需圖加以說明。(5分)
- (b) 利用 (a) 部的圖，標示在開徵該稅項後消費者盈餘的改變。(1分)
- (c) 「由於對每瓶汽水均徵收等額的稅款，不論瓶子大小，因此大瓶裝汽水在市場所售出的比例會上升。」以需求定律解釋這論點。(5分)



寫於邊界以外的答案，將不予評閱。

寫於邊界以外的答案，將不予評閱。

寫於邊界以外的答案，將不予評閱。

請在此貼上電腦條碼

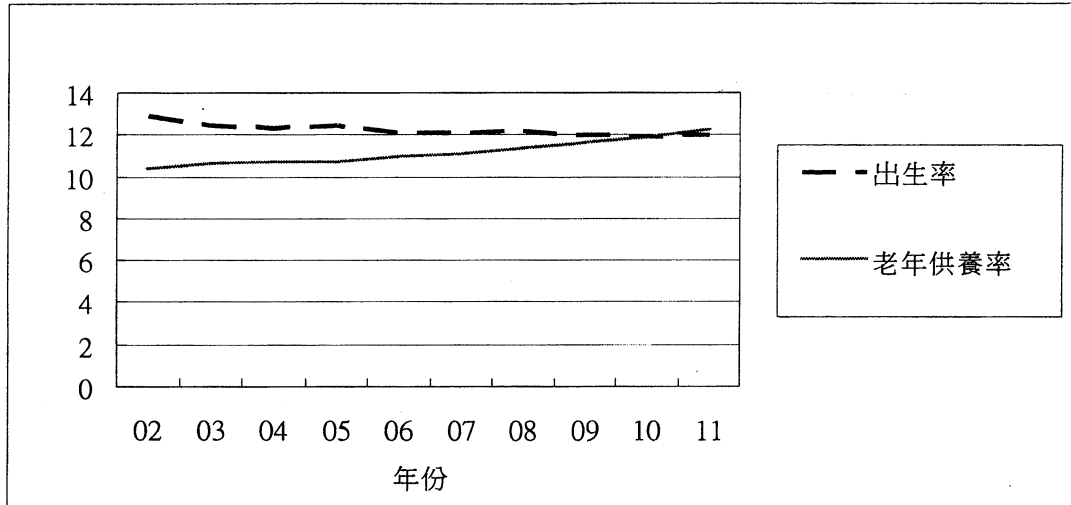
寫於邊界以外的答案，將不予評閱。

寫於邊界以外的答案，將不予評閱。

寫於邊界以外的答案，將不予評閱。

10. 人口老化在中國是一個嚴重的問題。

下列資料一顯示由 2002 至 2011 年在中國的老年供養率*和出生率**的趨勢。



* 老年供養率是指老年人口對工作年齡人口的比率(以百分率表示)。

** 出生率是指每一千人口中的總出生人數。

(a) 參考資料一所顯示的趨勢，簡略討論

- (i) 未來的政府稅收可能的改變。
- (ii) 未來的公共醫療及福利支出可能的改變。

(4分)

下列資料二是摘錄自某報章的一篇報導。

針對中國出生率和老年供養率的趨勢所帶來的潛在威脅，政府官員正考慮放寬一孩政策#，致力於提高出生率。

這政策規定市區的夫婦只能生養一名孩童。有幾種情況容許生養額外的孩童，包括：雙生兒、農村夫婦、少數民族或本身均為家中獨生子女的夫婦。

(b) 參考資料二，討論放寬一孩政策在長期可能引致對總產出的影響。

(3分)

好孩子國際 (香港股票編號：1086) 是中國最大的嬰兒及兒童產品生產商及供應商。

(c) 好孩子國際屬於哪一種商業擁有權?

(1分)

(d) 按下列兩方面解釋合夥和 (c) 部所提及的擁有權的不同之處：

- (i) 擁有權的轉讓方面
- (ii) 法律地位方面

(4分)

(e) 毋須運用圖表，解釋為什麼當資料二的資訊在報章刊登後，好孩子國際的股價上升了。

(4分)

寫於邊界以外的答案，將不予評閱。

寫於邊界以外的答案，將不予評閱。

寫於邊界以外的答案，將不予評閱。

寫於邊界以外的答案，將不予評閱。

寫於邊界以外的答案，將不予評閱。

寫於邊界以外的答案，將不予評閱。


11. 下表顯示港元兌日圓匯率的改變。

日期	一單位港元的價格
2012年8月1日	10.2日圓
2013年8月1日	12.5日圓

日本出口汽車至香港。

- (a) 假設日本汽車的價格(以日圓計算)沒有改變。以圖二輔助，解釋為什麼上述匯率的改變會導致出口至香港的日本汽車總值(以日圓計算)上升。(7分)
- (b) 假設2013年日本汽車出口商的銷售收入是1000億日圓。舉出兩個理由解釋為什麼他們對2013年日本本地生產總值的貢獻會少於1000億日圓。(4分)

價格
(以日圓計算)



寫於邊界以外的答案，將不予評閱。

寫於邊界以外的答案，將不予評閱。

寫於邊界以外的答案，將不予評閱。

寫於邊界以外的答案，將不予評閱。

寫於邊界以外的答案，將不予評閱。

寫於邊界以外的答案，將不予評閱。

乙部完

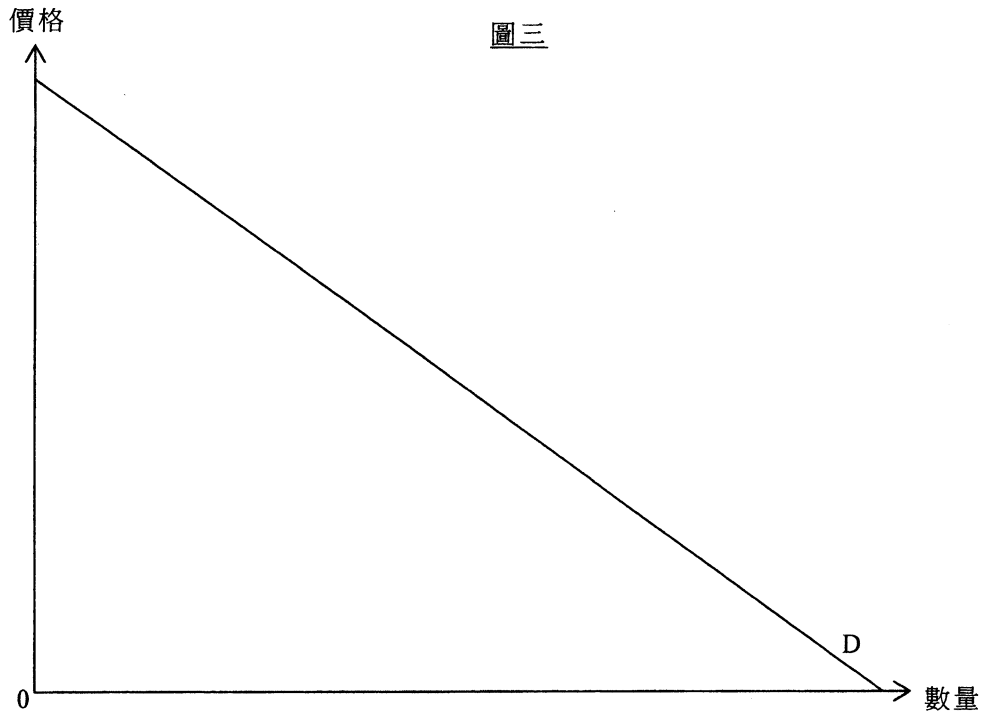
寫於邊界以外的答案，將不予評閱。

丙部 (16 分) 選答一題。

選修單元一

13. 五豐行是由商務部核准從內地出口活牛至香港的唯一代理商。

- (a) 以圖三輔助，解釋如何定出五豐行所售賣活牛的利潤極大化產量及價格。將該產量和價格分別標示為 Q_m 及 P_m 。 (3 分)



- (b) 假設內地開放出口活牛市場引入競爭，使其變成完全競爭市場。假定邊際成本曲線維持不變，以圖三輔助，解釋這樣的市場結構改變對產量和價格的影響。將新的產量和價格分別標示為 Q_c 及 P_c 。 (4 分)

細閱以下一則超級市場的廣告。

鮮牛肉大減價
買得多，折扣更多！
第二磅再九折
第三磅再八折

- (c) 上述廣告中的做法構成價格分歧嗎？試加以解釋。 (3 分)
- (d) 寫出以下每個情況可能構成反競爭行為的名稱，並解釋該種行為如何限制競爭。
- (i) 假設五豐行同意獨家向某連鎖超市供應鮮牛肉，條件是該連鎖超市不會出售進口冰鮮牛肉。
- (ii) 數家大型連鎖超市同意在同一時間內提供鮮牛肉折扣優惠。 (4 分)
- (e) 就活牛市場，舉出一項設立競爭政策的理由。 (2 分)

寫於邊界以外的答案，將不予評閱。

寫於邊界以外的答案，將不予評閱。

寫於邊界以外的答案，將不予評閱。

寫於邊界以外的答案，將不予評閱。

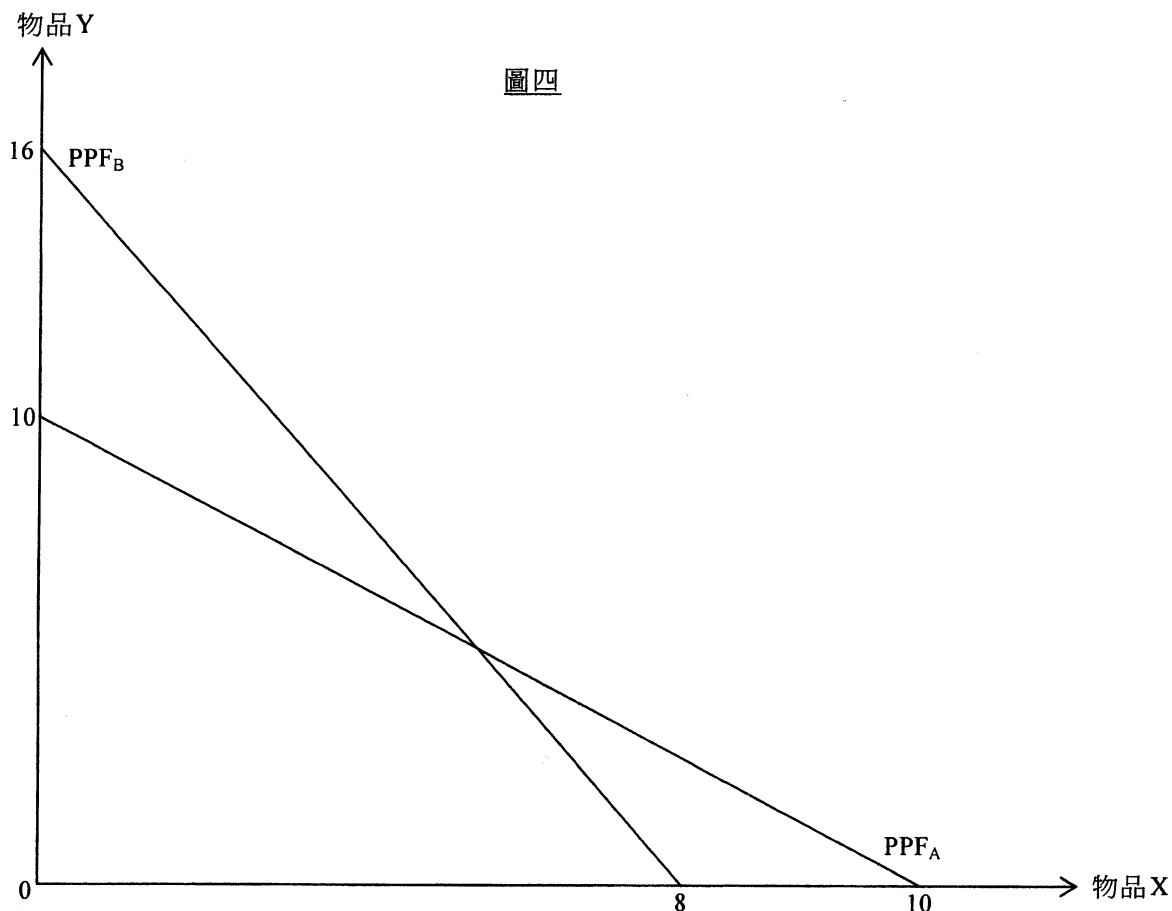
寫於邊界以外的答案，將不予評閱。

寫於邊界以外的答案，將不予評閱。

寫於邊界以外的答案，將不予評閱。

選修單元二

14. 圖四顯示 A、B 兩國的生產可能線(PPF)。



假設在生產物品 X 和物品 Y 上，A 國的資源數量是 B 國的兩倍。兩國平均分配其資源在生產物品 X 和物品 Y 之上。

- (a) 解釋為什麼 A、B 兩國的生產可能線是直線。 (2分)
- (b) 解釋 A 國在生產物品 X 是否享有
- (i) 絕對優勢。
 - (ii) 比較優勢。
- (5分)
- (c) 假設一單位物品 X 的國際價格是 1.5 單位物品 Y。在圖四中顯示：
- (i) A 國在專門化生產後的生產點。
 - (ii) 當有貿易時，A 國的消費可能線(CPF)。
 - (iii) A 國在交易了4 單位物品 X 後的消費點。
- (5分)
- (d) 由於 A 國政府對人力資本政策有所轉變，A 國的生產可能線向外移動。舉出兩項可能在 A 國出現的該種政策轉變。 (4分)

寫於邊界以外的答案，將不予評閱。

寫於邊界以外的答案，將不予評閱。

寫於邊界以外的答案，將不予評閱。

試卷完

本試卷所引資料的來源，將於香港考試及評核局稍後出版的《考試報告及試題專輯》內列明。

寫於邊界以外的答案，將不予評閱。