

經濟 試卷一

一小時完卷(上午八時三十分至上午九時三十分)

考生須知

- (一) 細讀答題紙上的指示。宣布開考後，考生須首先於適當位置貼上電腦條碼及填上各項所需資料。宣布停筆後，考生不會獲得額外時間貼上電腦條碼。
- (二) 試場主任宣布開卷後，考生須檢查試題有否缺漏，最後一題之後應有「**試卷完**」字樣。
- (三) 本試卷各題佔分相等。
- (四) **本試卷全部試題均須回答**。為便於修正答案，考生宜用 HB 鉛筆把答案填畫在答題紙上。錯誤答案可用潔淨膠擦將筆痕徹底擦去。考生須清楚填畫答案，否則會因答案未能被辨認而失分。
- (五) 每題只可填畫**一個**答案，若填畫多個答案，則該題**不給分**。
- (六) 答案錯誤，不另扣分。

考試結束前不可
將試卷攜離試場

本試卷共 40 題。選擇每題中的**最佳**答案。

1.

香港政府建議在北區興建有住宅樓宇和商場的新市鎮。其中公共房屋與私人房屋的比例引起不少人關注。另外，亦有人憂慮商場的規模，指這些商場可能主要為內地遊客服務。

上述個案和經濟學中的 _____ 問題有關。

- A. 「為誰生產」
- B. 「生產什麼」及「怎樣生產」
- C. 「生產什麼」及「為誰生產」
- D. 「怎樣生產」及「為誰生產」

2. 書豪將觀看大滿貫得主李娜參與的一場網球比賽。下列哪項會令書豪觀看該場網球比賽的成本上升？

- A. 由於交通擠塞，他遲到了 30 分鐘。
- B. 他的視線被前面的觀眾阻擋。
- C. 由於暴雨關係，比賽時間延長了一小時。
- D. 李娜受傷，沒有出場比賽。

3. 下表顯示某廠商的成本與產出的關係。

| | | | | | | |
|---------|----|----|----|----|----|----|
| 產出（單位） | 0 | 1 | 2 | 3 | 4 | 5 |
| 總成本（\$） | 10 | 28 | 42 | 52 | 60 | 72 |

根據上表，我們可得出結論如下：

- A. 該廠商享有規模經濟的好處。
- B. 該廠商的最佳生產規模是 5 單位的產出。
- C. 平均可變成本正上升。
- D. 總固定成本是 \$10。

4.

| 機器（單位） | 勞力（單位） | 平均產出（單位） |
|--------|--------|----------|
| 2 | 3 | 30 |
| 2 | 4 | 40 |
| 2 | 5 | 50 |
| 2 | 6 | 55 |

上表顯示一 _____ 的情況，其中 _____。

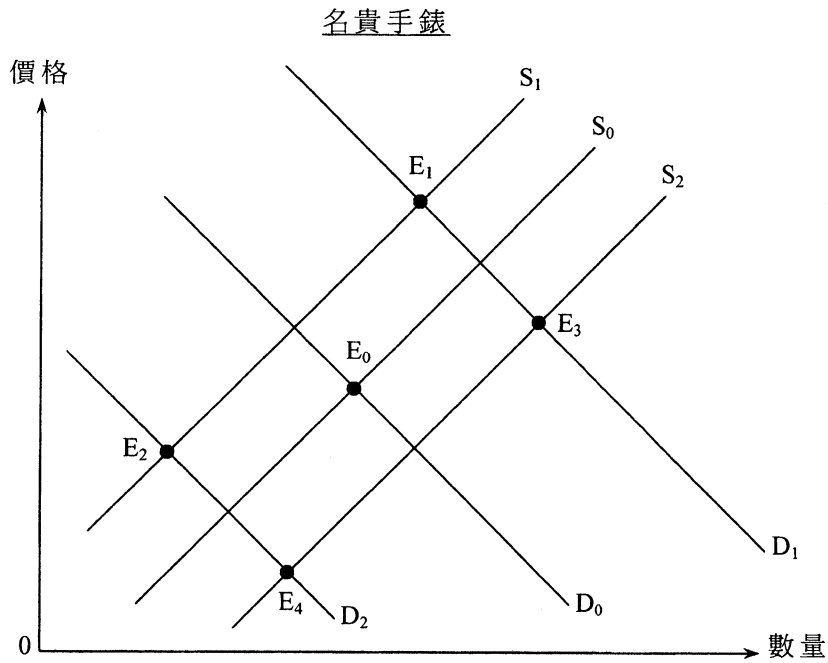
- A. 短期 ... 邊際回報遞減定律並不適用
- B. 短期 ... 邊際回報遞減定律適用
- C. 長期 ... 出現規模經濟
- D. 長期 ... 出現規模負經濟

5. 為求增加護士的數目以擴展醫療服務，政府投放了更多資源予大學開辦更多護士課程。在這情況下，私家醫院會
- A. 享有內部規模經濟。
 - B. 承受內部規模負經濟。
 - C. 享有外部規模經濟。
 - D. 承受外部規模負經濟。
6. 下列哪項有關歐洲足球賽事的電視廣播的陳述是正確的？
- A. 若市民可在公眾場所如餐廳和卡拉 OK 欣賞賽事廣播，這些賽事的電視廣播便是共用品。
 - B. 若某本地電視台購買了在本港的獨家播映權，這些賽事的電視廣播便是私用品。
 - C. 這些賽事的電視廣播是免費物品，因為服務額外一位觀眾是沒有成本的。
 - D. 若足球訓練學校播放這些比賽作教導兒童之用，這些賽事的電視廣播便是生產者物品。
7. 中學教師一般按工時支薪，因為
- A. 這可改善他們的工作意欲。
 - B. 他們偏好穩定收入。
 - C. 大部分教師都是勤力的。
 - D. 量度他們產出的成本很高。
8. 某廠商可透過進行 _____ 確保原料供應穩定，而它可以透過進行 _____ 增加市場佔有率。
- A. 後向合併 ... 橫向合併
 - B. 後向合併 ... 側向合併
 - C. 前向合併 ... 橫向合併
 - D. 前向合併 ... 側向合併
9. 若一家合夥變成了一家私人有限公司，
- (1) 該公司會成為一獨立法人。
 - (2) 該公司被收購的風險會較高。
 - (3) 該公司須付較高的利得稅率。
 - (4) 東主的數目會上升。
- A. 只有(1)、(3)
 - B. 只有(1)、(4)
 - C. 只有(2)、(3)
 - D. 只有(2)、(4)

10. 當導出某物品的市場需求曲線時，下列哪項是假設不變的？

- (1) 消費者的收入
 - (2) 該物品的價格
 - (3) 相關物品的價格
 - (4) 消費者的偏好
- A. 只有(1)、(3)
B. 只有(2)、(3)
C. 只有(1)、(2)、(4)
D. 只有(1)、(3)、(4)

11. 參閱以下有關本港名貴手錶市場的供需圖。原初的均衡點是 E_0 。



假設本港商舖的租金大幅上升，而內地的經濟出現衰退。新的均衡點會是 _____。

- A. E_1
- B. E_2
- C. E_3
- D. E_4

12. 在下列哪種情況下，物品 X 的價格下跌會令物品 Y 的價格下跌？

- (1) 物品 X 及物品 Y 是替代品。
- (2) 物品 X 及物品 Y 是輔助品。
- (3) 物品 X 及物品 Y 屬競爭性供應。
- (4) 物品 X 及物品 Y 屬聯合供應。

- A. 只有(1)、(3)
- B. 只有(1)、(4)
- C. 只有(2)、(3)
- D. 只有(2)、(4)

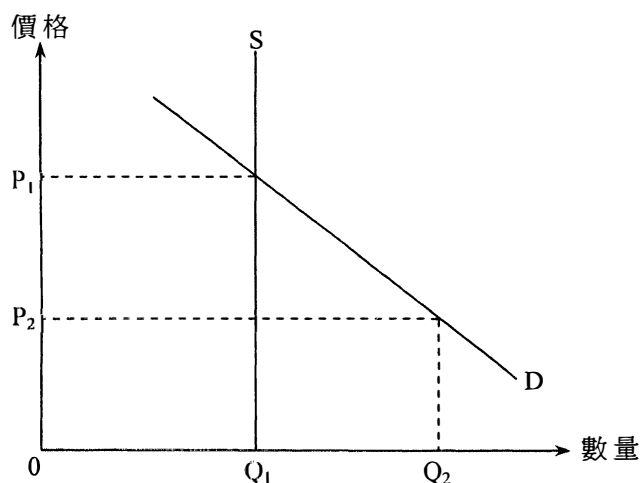
13. 以下是物品 X 的供需表。

| | | | | | | | |
|----------|----|----|----|----|----|----|----|
| 價格 (\$) | 2 | 3 | 4 | 5 | 6 | 7 | 8 |
| 需求量 (單位) | 90 | 80 | 70 | 60 | 50 | 40 | 30 |
| 供應量 (單位) | 30 | 40 | 50 | 60 | 70 | 80 | 90 |

假設政府就每售賣一單位物品 X 收取 \$2 從量銷售稅。除稅後的總銷售收益是 _____。

- A. \$180
- B. \$200
- C. \$280
- D. \$300

14. 參閱以下供需圖：



若政府將價格下限由 P_2 提高至 P_1 ，賣方收取的總收益

- A. 會上升。
- B. 會下降。
- C. 會維持不變。
- D. 可能上升或下降，視乎需求的價格彈性。

15. 假設政府實施有效租金管制，即為業主可向租客收取的每平方呎租金設定上限。下列哪項陳述是正確的？

- (1) 出租單位會有短缺。
- (2) 業主出租他們單位的意欲會較低。
- (3) 業主會花費較少的金錢維修出租單位。

- A. 只有(1)、(2)
- B. 只有(1)、(3)
- C. 只有(2)、(3)
- D. (1)、(2)及(3)

16. 下列哪項與需求定律**並不相符**？

- A. 當實施更高的從量進口關稅，進口成衣的質素下降。
- B. 當政府削減失業救濟金，失業人數下跌。
- C. 當某國政局不穩引致它的主要城市發生暴亂，到該國遊覽的旅客人數下跌。
- D. 當人們預期某上市公司股票的價格上升，該股票的價格上升。

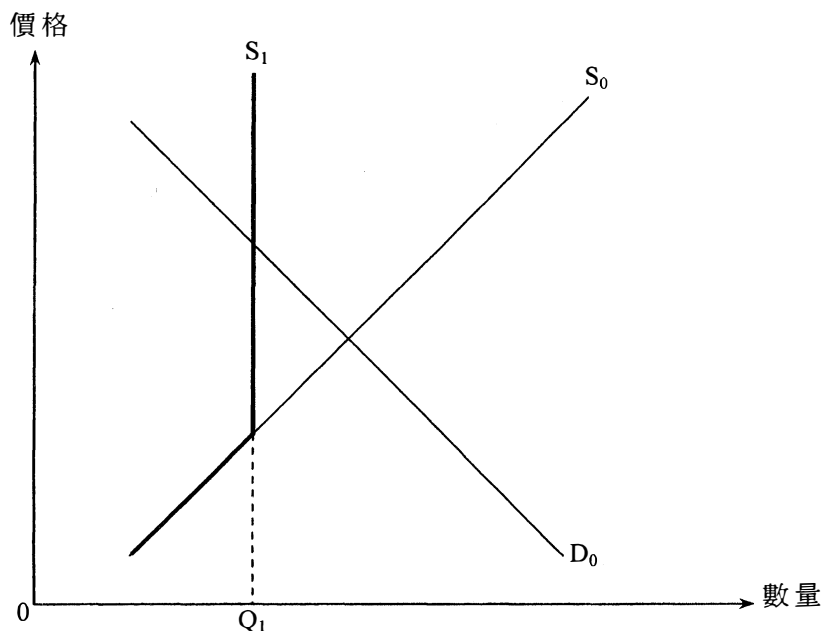
17. 香港電力行業的市場結構屬

- A. 寡頭壟斷，因為市場上有兩間具支配力的公司。
- B. 寡頭壟斷，因為各公司的訂價策略互相影響。
- C. 壟斷，因為各公司可提高價格而不會流失顧客。
- D. 壟斷，因為在任何地區只有一間電力公司提供電力。

18. 假設市場均衡產出水平高於效率產出水平。這意味着

- A. 若減少產出令其更接近效率產出水平，總社會盈餘會上升。
- B. 在均衡產出水平，邊際得益大於邊際成本。
- C. 消費者盈餘和生產者盈餘之和達到最大，因為市場產出水平滿足均衡條件。
- D. 政府有需要作出干預以令產出下降，因為出現過度生產。

19. 參閱以下某物品的供需圖，政府為該物品設立配額 Q_1 。



下列哪項是減少該物品配額的結果？

- (1) 對該物品的總支出可能上升或下降。
- (2) 消費者盈餘會下降。
- (3) 總社會盈餘可能上升或下降。

- A. 只有(1)
- B. 只有(1)、(2)
- C. 只有(2)、(3)
- D. (1)、(2)及(3)

20. 養蜂者養蜂是為獲取蜂蜜。養蜂對附近果園的農民有利，因為蜜蜂幫助果園的果樹傳播花粉。下列哪項有關上述個案的陳述是正確的？

- A. 私人和社會得益分歧會出現，而蜂蜜會過度生產。
- B. 養蜂者應獲政府補貼以改善經濟效率。
- C. 若蜂蜜的價值高於水果的價值，政府毋須介入改正界外效應。
- D. 若附近果園屬該養蜂者所擁有，私人和社會得益分歧不會出現。

21. 下列哪項**並不**包括在香港該年度的海外要素淨收入的計算之中？

- A. 一位日本教師在香港某語文學校工作一年所得的收入
- B. 一位香港居民在加拿大擁有的地產物業所賺取的租金收入
- C. 一位印度顧問為香港機場管理局工作三個月所得的薪金
- D. 一位美國居民持有香港股票所賺取的股息

22. 參閱下列某國本地生產總值的資料。

| 成分 | 百萬元 |
|--------------|-----|
| 以市價計算的本地生產總值 | 200 |
| 私人消費支出 | 120 |
| 本地固定資本形成總額 | 40 |
| 存貨改變 | 10 |
| 物品出口總值 | 80 |
| 本地物品出口 | 70 |
| 物品進口 | 60 |
| 服務出口 | 20 |
| 服務進口 | 30 |
| 海外收入淨值 | 25 |
| 折舊 | 35 |
| 間接商業稅 | 28 |
| 津貼 | 18 |

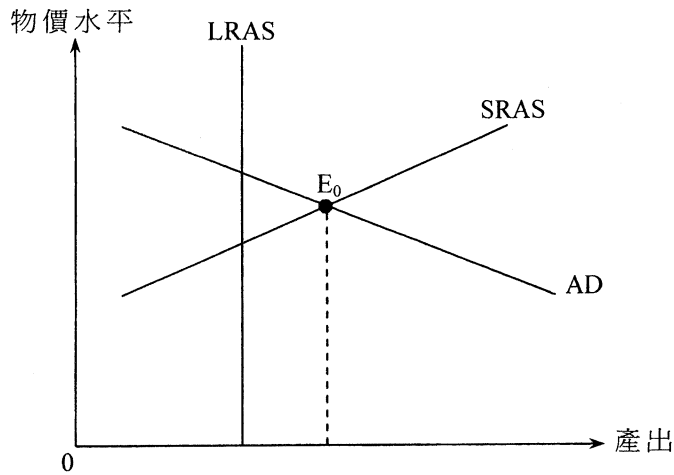
該年的政府消費支出是 _____ 百萬元。

- A. 20
- B. 30
- C. 40
- D. 50

23. 在下列哪種情況下，總需求曲線會向右移？

- A. 物價水平下降
- B. 科技進步
- C. 政府減低進口關稅
- D. 政府減低薪俸稅率

24. 下圖顯示某經濟的總需求 (AD) 曲線、短期總供應 (SRAS) 曲線及長期總供應 (LRAS) 曲線。



假設原初該經濟在 E_0 運作，這出現了 _____ 而 _____ 可幫助這經濟回復至長期均衡。

- A. 通脹 (產出) 差距 ... 增加對貧窮人士的轉移支付
- B. 通脹 (產出) 差距 ... 增加貼現率
- C. 通縮 (產出) 差距 ... 增加對貧窮人士的轉移支付
- D. 通縮 (產出) 差距 ... 增加貼現率

25. 下列哪項是包括在貨幣供應定義二之內？

- (1) 持牌銀行持有的法定貨幣
- (2) 存於持牌銀行的活期存款
- (3) 存於有限制牌照銀行的定期存款
- (4) 持牌銀行發出而由非銀行的公眾人士持有的可轉讓存款證

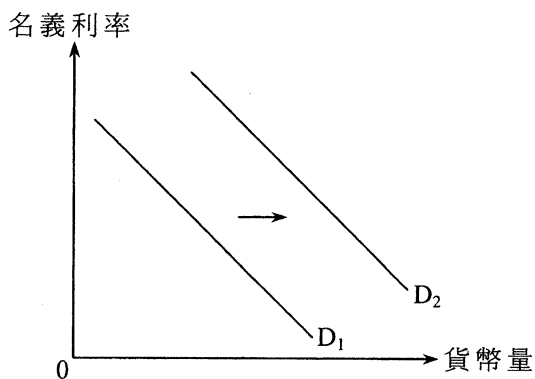
- A. 只有 (2)、(3)
- B. 只有 (2)、(4)
- C. 只有 (1)、(2)、(4)
- D. 只有 (1)、(3)、(4)

26. 某銀行系統原初的超額儲備是 160 百萬元，而公眾持有 200 百萬元的現金。該銀行系統的資產負債表如下：

| 資產（百萬元） | | 負債（百萬元） | |
|---------|-----|---------|-------|
| 儲備 | 400 | 存款 | 1 200 |
| 貸款 | 800 | | |

假設公眾從該銀行系統提取 100 百萬元並以現金方式持有。若銀行借出全部超額儲備，貨幣供應會是多少？

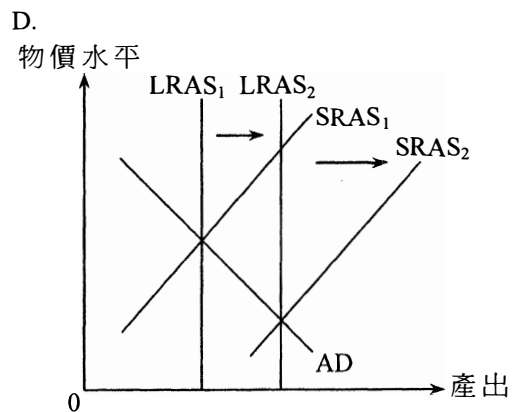
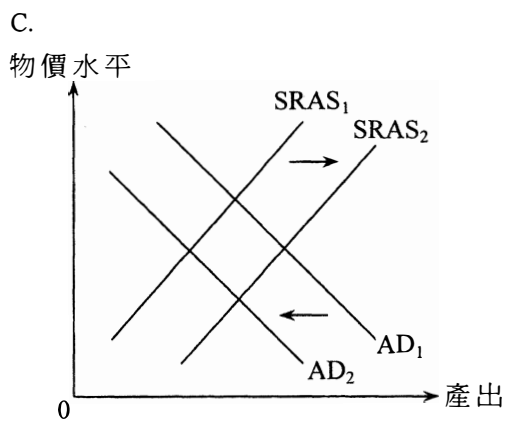
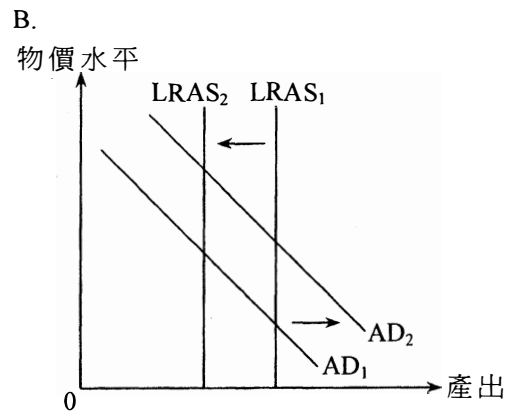
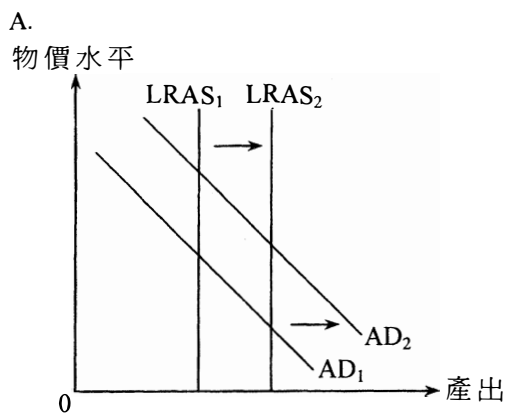
- A. 1 500 百萬元
 B. 1 700 百萬元
 C. 1 800 百萬元
 D. 2 300 百萬元
27. 參閱下圖。



下列哪項會令貨幣需求曲線由 D_1 移至 D_2 ？

- A. 名義利率下降
 B. 國民收入上升
 C. 人們更廣泛使用電子貨幣
 D. 中央銀行在公開市場購買債券
28. 在下列哪種情況下，中國正採取擴張性貨幣政策？
- (1) 財政部向農民提供現金補貼
 (2) 中國人民銀行調低所有商業銀行的存款準備金率（即法定儲備比率）
 (3) 中國銀行減低對中小企業的借貸利率
- A. 只有(1)
 B. 只有(2)
 C. 只有(3)
 D. (1)、(2)及(3)

29. 假設政府大幅增加持續教育的免稅額。下列哪幅圖最能解釋上述改變對物價水平和產出水平的影響？



30. 假設某經濟的消費意欲下降，其淨出口會 _____，而持有作交易用途的貨幣金額會 _____。

- A. 下跌 ... 下降
- B. 下跌 ... 維持不變
- C. 上升 ... 上升
- D. 上升 ... 下降

31. 原初某經濟在全民充分就業均衡運作，而政府支出相等於其稅項收入。下列哪項會導致通縮（產出）差距和赤字預算同時出現？

- A. 減稅
- B. 減少貨幣供應
- C. 減少政府支出
- D. 進口意欲下降

32. 某經濟的實質產出有所增長，其增長率較貨幣供應的增長率為低。根據貨幣量理論，我們可得出結論如下：

- (1) 物價水平正上升。
- (2) 失業率正下降。
- (3) 貨幣流通速率正下降。
- (4) 名義產出正上升。

- A. 只有(1)、(2)
- B. 只有(1)、(4)
- C. 只有(2)、(3)
- D. 只有(3)、(4)

33. 某經濟出現下列現象：

- (1) 失業率正上升。
- (2) 通脹率不再上升而是下降。
- (3) 生產商的存貨正增加。
- (4) 經濟增長的預測被調低了。

該經濟正處於經濟週期的 _____ 階段。

- A. 衰退
- B. 低谷
- C. 復甦
- D. 高峰

34. 下列哪位人士會受惠於非預期通脹？

- A. 一位放高利貸者，以浮動利率借出一筆金錢
- B. 一位經理，在兩年合約內收取固定薪金
- C. 一位物業業主，償還固定息率按揭貸款
- D. 一位退休教師，收取多間上市公司的股息

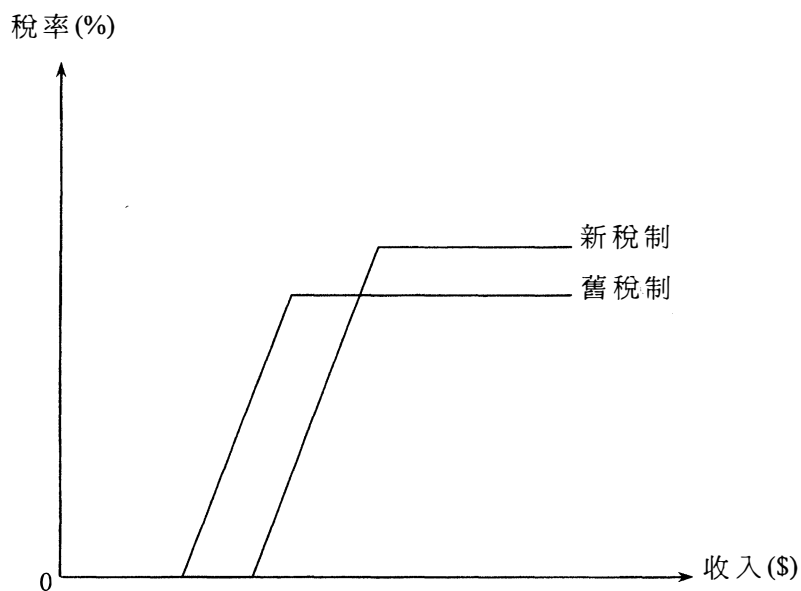
35.

在二零零九年七月，政府在零售層面開徵每個塑膠購物袋5角的環保費，首階段範圍包括連鎖或大型超市、便利店及個人護理和美容產品店。在首階段小商戶獲得豁免。顧客可使用信用卡、易辦事（EPS）或現金一併支付原初購物金額和環保費。

徵收上述的環保費**最**不符合亞當史密所提出的 _____ 賦稅原則。

- A. 公平
- B. 經濟
- C. 方便
- D. 明確

36. 下圖顯示某經濟薪俸稅制的轉變。



與舊薪俸稅制相比，新稅制

- A. 的個人免稅額較少。
 - B. 的標準稅率較低。
 - C. 會收窄貧富之間的收入差距。
 - D. 會擴闊稅基。
37. 相對於其貿易伙伴的貨幣，某國的貨幣升值。若該國對進口的需求屬 _____，貨幣升值會令進口總值（以本國貨幣計算） _____。
- A. 單一彈性 ... 上升
 - B. 低彈性 ... 上升
 - C. 高彈性 ... 下跌
 - D. 低彈性 ... 下跌

參閱以下資料，然後回答第 38 及 39 題。

貿易前，泰國和日本將他們所有的資源平均分配在生產白米和電腦上，其產量如下：

| | 白米（單位） | 及 | 電腦（單位） |
|----|--------|---|--------|
| 泰國 | 15 | | 5 |
| 日本 | 24 | | 12 |

38. 下列哪項有關以上個案的陳述是正確的？
- (1) 日本生產電腦有比較優勢。
 - (2) 日本生產電腦有絕對優勢。
 - (3) 當兩國完全專門化生產，白米和電腦的總產量均會增加。
- A. 只有(1)
B. 只有(1)、(2)
C. 只有(2)、(3)
D. (1)、(2)及(3)
39. 假設貿易比率是 1 單位電腦 = 2.4 單位白米，而出口電腦的國家每單位出口須支付 0.1 單位白米的運輸成本。當該國出口 5 單位的電腦，該國的淨得益是 _____ 單位白米。
- A. 1.5
B. 2
C. 2.5
D. 3
40. 下列哪項有關香港聯繫匯率制度的陳述是正確的？
- (1) 港元鈔票由人民幣和美元十足支持。
 - (2) 香港金融管理局持有相當數量的外匯儲備。
 - (3) 所有發鈔銀行可按聯繫匯率與香港金融管理局兌換美元。
 - (4) 港元兌美元在外匯市場的兌換率是固定的。
- A. 只有(1)、(2)
B. 只有(1)、(4)
C. 只有(2)、(3)
D. 只有(3)、(4)

試 卷 完

本試卷所引資料的來源，將於香港考試及評核局稍後出版的《考試報告及試題專輯》內列明。