

2012-DSE

經濟

卷二

香港考試及評核局

2012年香港中學文憑考試

經濟 試卷二 試題答題簿

本試卷必須用中文作答

兩小時完卷(上午十時十五分至下午十二時十五分)

考生須知

- (一) 宣布開考後，考生須首先在第1頁之適當位置填寫考生編號，並在第1、3、5、7、9及11頁之適當位置貼上電腦條碼。
- (二) 本試卷分為甲部、乙部及丙部。甲部和乙部試題均須回答。丙部任意選答一題。
- (三) 答案須寫在本試題答題簿中預留的空位內。不可在各頁邊界以外位置書寫。寫於邊界以外的答案，將不予評閱。
- (四) 如有需要，可要求派發補充答題紙。每一紙張均須填寫考生編號、填畫試題編號方格、貼上電腦條碼，並用繩縛於簿內。
- (五) 試場主任宣布停筆後，考生不會獲得額外時間貼上電腦條碼及填畫試題編號方格。

請在此貼上電腦條碼

考生編號



甲部 (50分)

1. 某物品是免費的，它便是「免費物品」。你同意嗎？試加解釋。 (3分)

.....

.....

.....

.....

.....

.....

2. 下表顯示某廠商投入與產出的關係。

工人 (單位)	機器 (單位)	總產出 (單位)
10	1	10
15	2	23
20	3	42
25	4	62
30	5	80

- 寫出邊際回報遞減定律，並解釋上述的資料能否說明該定律。 (5分)

.....

.....

.....

.....

.....

.....

.....

.....

.....

.....

.....

.....

.....

.....

.....

.....

.....

.....

.....

.....

.....

.....

.....

寫於邊界以外的答案，將不予評閱。

寫於邊界以外的答案，將不予評閱。

寫於邊界以外的答案，將不予評閱。

請在此貼上電腦條碼

3. 某電訊服務供應商成立一間信貸公司，向公眾提供貸款。

(a) 解釋上述情況屬於何種類型的擴張。 (2 分)

(b) 列出上述擴張的**三個**可能動機。 (3 分)

寫於邊界以外的答案，將不予評閱。

寫於邊界以外的答案，將不予評閱。

4. 根據聯合國 2008 年的一份報告，香港及北京的堅尼系數分別是 0.53 及 0.22。

(a) 與北京比較，香港貧富之間的收入差距屬較闊或較窄？ (1 分)

(b) 解釋增加薪俸稅的標準稅率會如何影響香港的除稅後堅尼系數。 (3 分)

寫於邊界以外的答案，將不予評閱。

寫於邊界以外的答案，將不予評閱。

寫於邊界以外的答案，將不予評閱。

5. 甲國對物品 X 實施一有效的價格上限。

- (a) 假設甲國杜絕所有物品 X 的非法交易。這價格管制能確保所有較低收入的買家獲得他們計劃購買物品 X 的數量嗎？試加解釋。 (4 分)
- (b) 在實施該價格上限後，乙國很多市民前往甲國購買物品 X。甲國的無形貿易差額會受影響嗎？試加解釋。 (3 分)
- (c) 假設該有效的價格上限被調低了。該價格上限的轉變會改善經濟效率嗎？以圖輔助，解釋你的答案。 (4 分)

寫於邊界以外的答案，將不予評閱。

請在此貼上電腦條碼

寫於邊界以外的答案，將不予評閱。

寫於邊界以外的答案，將不予評閱。

A large rectangular area with horizontal dashed lines for writing answers. The lines are evenly spaced and extend across the width of the page, leaving a margin on both sides.

寫於邊界以外的答案，將不予評閱。

6. 經濟衰退其中一個現象是失業增加。

(a) 寫出失業對社會造成的**兩項**損失。 (2 分)

(b) 除了失業增加外，舉出在經濟衰退時會出現的**兩個**經濟現象。 (2 分)

7. 「當用作貨幣時，9999 金較香煙為佳。」提出**兩項**理由解釋這個論點。 (4 分)

寫於邊界以外的答案，將不予評閱。


寫於邊界以外的答案，將不予評閱。

寫於邊界以外的答案，將不予評閱。

請在此貼上電腦條碼

8. 相對於其貿易伙伴的貨幣，某國的貨幣貶值。這貶值會否必然降低該國的進口總值（以本國貨幣計算）？以下圖輔助，試加解釋。（7分）

價格（以本國貨幣計算）



寫於邊界以外的答案，將不予評閱。

寫於邊界以外的答案，將不予評閱。

寫於邊界以外的答案，將不予評閱。

9. 甲國需要 2 工時生產一單位的恤衫而乙國則需要 1 工時。另一方面，甲國需要 10 工時生產一單位的手錶而乙國則需要 4 工時。假設生產恤衫和手錶唯一所需的資源是勞力。
- (a) 計算甲、乙兩國生產 1 單位恤衫（以手錶計算）的機會成本。 (2 分)
- (b) 寫出比較優勢原理。根據此原理，解釋哪國會出口恤衫。 (3 分)
- (c) 指出在交易中能令兩國皆有利的貿易比率的範圍。 (2 分)

.....

.....

.....

.....

.....

.....

.....

.....

.....

.....

.....

.....

.....

.....

.....

.....

.....

.....

.....

.....

.....

.....

.....

寫於邊界以外的答案，將不予評閱。

寫於邊界以外的答案，將不予評閱。

甲部完

寫於邊界以外的答案，將不予評閱。

乙部 (54 分)

10. 財政司司長在 2011 年公布「\$6000 計劃」：向每位十八歲或以上的香港永久居民派發 \$6000。

- (a) 陳先生是一名退休人士，在該計劃下於 2011 年收取 \$6000。
 - (i) 該筆政府支付的款項應否包括在 2011 年香港本地生產總值的計算之內？試加解釋。 (2 分)
 - (ii) 陳先生考慮把該 \$6000 投資在某上市公司發行的股票或債券上。舉出**兩項**理由解釋為什麼對陳先生來說，債券可以是較股票為佳的選擇。 (4 分)
- (b) 你認為政府應否推行「\$6000 計劃」以令香港社會更公平？試加解釋。 (4 分)
- (c) 以圖輔助，解釋長期而言該「\$6000 計劃」會如何影響香港的物價和產出水平。 (8 分)

寫於邊界以外的答案，將不予評閱。

寫於邊界以外的答案，將不予評閱。

寫於邊界以外的答案，將不予評閱。

寫於邊界以外的答案，將不予評閱。

寫於邊界以外的答案，將不予評閱。

寫於邊界以外的答案，將不予評閱。

請在此貼上電腦條碼

寫於邊界以外的答案，將不予評閱。

寫於邊界以外的答案，將不予評閱。

寫於邊界以外的答案，將不予評閱。

11. 細閱下列的新聞節錄。

香港通脹率在上月份上升至 7.9% —— 為 16 年來的最大升幅 —— 確認了許多家庭所懼怕的情況：他們為應付飛漲的食物成本和租金而感到吃力……

(a) 什麼是通脹？ (2 分)

(b) 很多工人在通脹期間獲得加薪。解釋這些工人的實質收入會否必然上升。 (3 分)

為紓緩通脹對市民的影響，政府發行了與通脹掛鈎的債券 (ibonds)，每六個月向債券持有人支付利息。其利率與過去半年期的實際通脹率有正向關係。

(c) 持有現金而不持有與通脹掛鈎的債券的機會成本是什麼？ (2 分)

(d) 解釋與通脹掛鈎的債券會如何紓緩通脹對其持有人的影響。 (2 分)

寫於邊界以外的答案，將不予評閱。

寫於邊界以外的答案，將不予評閱。

寫於邊界以外的答案，將不予評閱。

寫於邊界以外的答案，將不予評閱。

寫於邊界以外的答案，將不予評閱。

寫於邊界以外的答案，將不予評閱。

12. 人們認為本港的地產市場過熱。

- (a) 香港大部分私人樓宇是由數間主要地產發展商興建。寫出私人樓宇市場的市場結構，並列出這種市場結構的**兩項**特徵。 (3分)
- (b) 華懋集團是香港的地產發展商之一。與其他主要發展商不同，華懋並沒有將其股票在股票市場上市。寫出作為私人有限公司而非上市公司的優點和缺點**各二**。 (4分)
- (c) 政府決定重新推出居者有其屋計劃，合資格的市民可以大額折扣購買居住單位。
- (i) 以一供需圖輔助，解釋重新推出居者有其屋計劃會如何冷卻私人樓宇市場。 (5分)
- (ii) **毋須**以圖輔助，解釋怎樣調整按揭利率能冷卻私人樓宇市場。 (3分)

寫於邊界以外的答案，將不予評閱。

寫於邊界以外的答案，將不予評閱。

寫於邊界以外的答案，將不予評閱。

寫於邊界以外的答案，將不予評閱。

寫於邊界以外的答案，將不予評閱。

寫於邊界以外的答案，將不予評閱。

13. 下表顯示某經濟銀行體系的資產負債表。

資產 (百萬元)		負債 (百萬元)	
儲備	500	存款	2 000
貸款	1 500		

假設公眾不持有現金，而銀行體系內的超額儲備是 100 百萬元。

- (a) 求法定儲備比率。列示你的計算。 (2 分)
- (b) 若銀行將可貸出款項全數借出，求最高可能存款額。列示你的計算。 (2 分)
- (c) 中央銀行注入 200 百萬元新印的鈔票到銀行體系。若銀行將超額儲備悉數借出，該經濟的貨幣供應量是多少？列示你的計算。 (4 分)
- (d) 根據貨幣量理論，推斷 (c) 所述的貨幣政策對物價水平的影響。寫出要達至你的結論所需的假設。 (4 分)

寫於邊界以外的答案，將不予評閱。

寫於邊界以外的答案，將不予評閱。

寫於邊界以外的答案，將不予評閱。

寫於邊界以外的答案，將不予評閱。

寫於邊界以外的答案，將不予評閱。

乙部完

寫於邊界以外的答案，將不予評閱。

丙部 (16 分) 選答一題。

14. 世界各地的大型連鎖超級市場被指實行價格分歧。

(a) 什麼是價格分歧？ (2 分)

(b) 寫出價格分歧的**兩項**條件。 (2 分)

(c) 以下為大型連鎖超市的一些價格安排。解釋它們是否屬價格分歧。

(i) 顧客在推廣期間購買同一產品所付較少。

(ii) 有折扣券的顧客購買同一產品所付較少。

(6 分)

(d) 部分連鎖超市涉及下列的商業行為：

(1) 它們同意在同一時間提高同一產品的價格。

(2) 它們要求供應商不供應同一產品給其他賣家。

上述每種行為描述了什麼反競爭商業行為？寫出上述每種行為屬橫向協議或縱向協議。

(4 分)

(e) 指出反競爭商業行為可能對消費者造成的**兩種**損害。 (2 分)

寫於邊界以外的答案，將不予評閱。

寫於邊界以外的答案，將不予評閱。

寫於邊界以外的答案，將不予評閱。

寫於邊界以外的答案，將不予評閱。

寫於邊界以外的答案，將不予評閱。

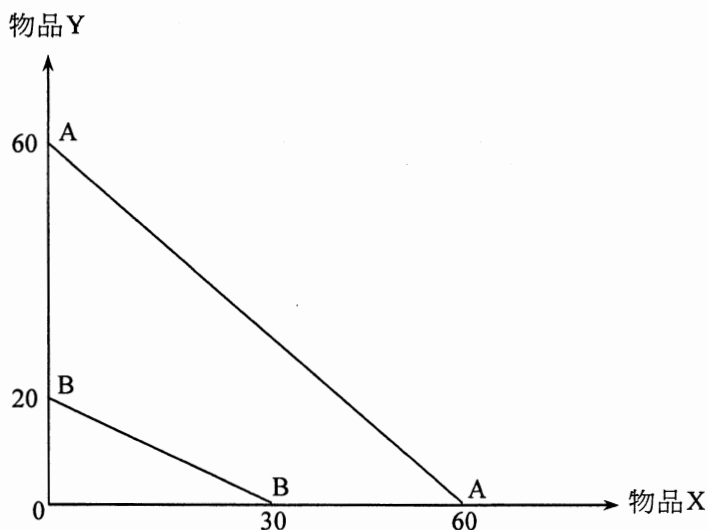
寫於邊界以外的答案，將不予評閱。

寫於邊界以外的答案，將不予評閱。

寫於邊界以外的答案，將不予評閱。

寫於邊界以外的答案，將不予評閱。

15. 下圖中，AA 及 BB 分別是甲國和乙國的生產可能線。



- (a) (i) 哪國生產物品X有比較優勢？試加解釋。
 (ii) 兩國互利的貿易有可能出現嗎？試加解釋。
 (4 分)
- (b) 若貿易比率是 10 單位X可換 8 單位 Y，甲、乙兩國每交易一單位 X 所獲的貿易得益分別會是多少？
 (4 分)
- (c) 解釋你在 (a)(i) 的答案在下列的情況會否改變：
 (i) 乙國找到新的資源，將物品 X 和 Y 的產量作相同比例的提升。
 (ii) 乙國發現一項新技術，改善物品 Y 的生產方法。
 (4 分)
- (d) 乙國的人類發展指數在貿易後上升。
 (i) 人類發展指數在量度什麼？
 (ii) 為上述的上升提出一項可能原因。
 (4 分)

寫於邊界以外的答案，將不予評閱。

寫於邊界以外的答案，將不予評閱。

.....

.....

.....

.....

.....

.....

.....

.....


.....

.....

寫於邊界以外的答案，將不予評閱。

寫於邊界以外的答案，將不予評閱。

寫於邊界以外的答案，將不予評閱。



寫於邊界以外的答案，將不予評閱。

寫於邊界以外的答案，將不予評閱。

寫於邊界以外的答案，將不予評閱。

試卷完

本試卷所引資料的來源，將於香港考試及評核局稍後出版的《考試報告及試題專輯》內列明。

寫於邊界以外的答案，將不予評閱。