

# ECONOMIC BOOK 2

- 08\_國民收入會計 P.1
- 09\_失業及就業不足 P.67
- 10\_總需求及總供應 P.92
- 11\_公共財政 - 稅及財政政策 P.139
- 12\_貨幣與銀行 P.202
- 13\_匯率與國際收支平衡表 P.292
- 14\_國際貿易 P.351

**計算的項目**

1. 1992.Q5(b)  
 (b)解釋下列各項是否包括在香港本地生產總值的計算之內。(6分)  
 (i)社會福利署派發予失業人士的公共援助金  
 (ii)社會福利署僱員的薪金
2. 1995.Q11(d)  
 1995年初, 蕭先生因幫助甲君以\$2,000,000售賣一樓宇單位予乙小姐賺獲佣金\$20,000。解釋下列各句是否正確:  
 (i)該筆佣金應計算入香港1995年本地生產總值之內。(2分)  
 (ii)若該樓宇單位現正在建築中並於明天落成, 則生產該樓宇單位對香港1995年本地生產總值並無貢獻。(3分)
3. 1996.Q3(b)  
 維他奶國際有限公司的股價曾經下跌, 因為部分產品發現受到污染而遭受毀滅。  
 (b)解釋那些被毀的產品, 其價值是否包括在香港的國民生產總值之內。(2分)
4. 1996.Q4(a)  
 一枝價值\$1,500的交通燈在一宗交通意外中被撞毀。肇事司機被判罰\$3,000, 而政府花費\$2,000豎立另一枝交通燈。  
 (a)因這事件的影響, 以生產因素成本計算的本地生產總值改變了多少? 試加以解釋。(2分)
5. 1997.Q8  
 解釋下列各項是否包括在香港本地生產總值之內:  
 (a)排污費  
 (b)因物業市場蓬勃而導致的住宅單位轉售價值增加(4分)
6. 1998.Q9(d)  
 王先生透過經紀購買價值\$200,000的股票, 並付佣金\$1,000給該經紀。解釋該兩筆付款對香港的本地生產總值是否會有影響。(4分)

7. 1999.Q7  
 解釋下列各項應否計算入本港國民生產總值之內。  
 (a)百萬行所籌得的款項(2分)  
 (b)公共援助金額中用以支付交通費之部分(2分)
8. 2000.Q10(b)(iii)  
 假設甲經濟的X銀行, 購買乙經濟的Y銀行價值5百萬元的控制性股權, 從而收購了Y銀行。  
 (iii)解釋上述該筆5百萬元的款項, 是否應包括入乙經濟本地生產總值的計算之內。(3分)
9. 2001.Q6  
 解釋在計算香港本地生產總值時, 應否包括以下各項:  
 (a)一位香港市民受聘於一家外國航空公司的薪酬;  
 (b)一家外國航空公司租借本港一家公司擁有的物業所支付的租金。(4分)
10. 2002.Q10(d)  
 甲銀行在香港營業。木村先生是從日本來的顧問, 他為甲銀行工作九個月之後便會返回日本。  
 解釋木村先生在這九個月裏的薪酬應否包括入香港的本地生產總值及國民生產總值的計算之內。(4分)
11. 2003.Q11(a)  
 本港多家資訊科技公司於近年結業。  
 解釋下列各項是否應包括在香港本地生產總值的計算之內。  
 (i)上述公司設備和傢具的轉售價值。(2分)  
 (ii)支付予香港的會計行為上述公司清盤的費用。(3分)

12. 2006.Q10(b)  
 下表顯示歐元(€)匯率的變動。

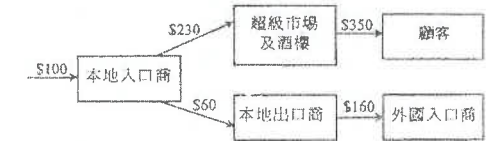
日期	匯率
2005年12月1日	€1 = HK\$ 9.07
2006年1月18日	€1 = HK\$ 9.37

- 陳先生在2005年12月1日購買10,000歐元, 並於2006年1月18日全數售出。該兩宗交易是透過本港某商業銀行以上表所示的匯率進行的。  
 (i)以港元計算陳先生在上述交易中賺獲或損失了多少金錢。解釋該賺獲或損失應否包括入香港本地生產總值的計算中。(4分)  
 (ii)解釋上述交易會否導致香港的本地生產總值增加。(2分)
13. 2008.Q9(a)  
 某經濟的股票市場過熱。很多人都從銀行提取存款購買股票。  
 哈利在年初以\$2,000買入某公司的股票, 三個月後以\$10,000將股票賣出。哈利賺取了\$8,000的資本增值。  
 解釋該筆\$8,000的金額是否應計算在該經濟的本地生產總值之內。(2分)
14. 2009.Q9(c)  
 部分學生在書店購買二手教科書。解釋為什麼他們購買二手教科書總支出的一部分是應該包括在本地生產總值的計算之內的。(2分)
15. Practice Paper.Q5  
 一位英國土木工程師理查森先生在過去數年任職於一間本港大型建築公司。他現時賺取年薪港幣\$800,000, 而他把部分收入匯給他在英國的家人。理查森先生的收入會計入香港的本地生產總值嗎? 解釋你的答案。(3分)
16. 2012.Q10(a)(i)  
 財政司司長2011年公佈「\$6000計劃」: 向每位十八歲或以上的香港永久居民派發\$6000。  
 陳先生是一名退休人士, 在該計劃下於2011年收取\$6000。  
 該筆政府支付的款項應否包括在2011年香港本地生產總值的計算之內? 試加解釋。(2分)

**計算GDP: 生產面計算法及支出面計算法**

17. 1997.Q11(a)(ii)  
 設有價值1百萬元的海鮮入口香港。半數以0.8百萬元售予本地家庭, 而其餘半數則以0.7百萬元售予本地的酒家。這些酒家將海鮮烹煮後以1.6百萬元售賣給顧客, 其中0.6百萬元是遊客消費。  
 (ii) (I)上述各交易亦會使本港的本地生產總值改變。運用兩種不同的計算方法去計算它究竟會改變多少。(4分)  
 (II)解釋為甚麼運用該兩種計算法不會引致重複計算的問題。試分別加以說明。(4分)

18. 1999.Q9(c)  
 下圖顯示價值\$100的紅酒入口香港的生產鏈, 並附上不同生產者的銷貨價值:



- 分別以下列計算法計算該生產鏈對香港國民收入的貢獻:  
 (i)增值計算法(3分)  
 (ii)支出計算法(3分)
19. 2001.Q11(a)(i)  
 參閱以下一條香港生產鏈:



- (i) 以「增值計算法」計算上述生產鏈對香港本地生產總值的貢獻。(3分)

20. 2002.Q11(a)(i)

下表顯示甲經濟某年的本地生產總值資料。

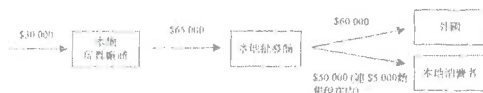
	百萬元
私人消費開支	400
投資開支淨值	180
政府消費開支	250
出口	500
進口	650
折舊	150
間接營業稅	50
利息	200

(i) 計算甲經濟按市價計算的本地生產總值。

(3 分)

21. 2006.Q5

下圖顯示甲經濟的玩具生產鏈。該經濟的玩具廠商進口價值\$30 000的原料。



以下列方式計算上述生產鏈對甲經濟本地生產總值的貢獻：

(a) 採用「支出計算法」，以要素成本計算本地生產總值。

(3 分)

(b) 採用「增值計算法」，以市價計算本地生產總值。

(3 分)

**名義 vs 實質(概念)**

22. 1992.Q5(a)(iii)

(a)(iii) 名義國民收入和實質國民收入哪一種是一般生活水平較佳的指標？並加解釋。(3 分)

**名義與實質GDP的計算**

23. 2003.Q5

下表是某國的資料。

年份	1992	2002
消費支出 (百萬元)	2500	2679
人口數目 (百萬人)	5	6
物價指數	100	95

根據上表，解釋該國的一般生活水準會在那一年(1992 年還是 2002 年)較高。寫出你的計算步驟。

(6 分)

24. 2004.Q5

參閱以下有關香港本地生產總值的資料。

年份	以當年市價計算的本地生產總值(百萬元)	以(2000 年)固定市價計算的本地生產總值(百萬元)
2001	1 269 975	1 294 382
2002	1 259 771	1 323 650

(a) 解釋2001年的實質產出水平是否高於2002年的實質產出水平。

(2 分)

(b) 解釋為何於2001年及2002年，以當年市價計算的本地生產總值皆小於同年以固定市價計算的本地生產總值。

(2 分)

25. 2009.Q7(a)

參與下列某國的統計數字。

	2000年	2008年
名義本地生產總值 (以百萬元為單位)	16 000	24 840
物價指數	100	115
人口 (以百萬人為單位)	10	12

(a) 計算2000年及2008年的人均實質本地生產總值。

(2分)

**影響GDP的因素 / 事件→對GDP的影響**

26. 1995.Q9(c)

(i) 舉出影響國民收入的兩項需求方面因素。

(2 分)

(ii) 以你在(c)(i)所舉兩項需求方面因素為例，解釋為何舉辦世界盃足球賽對美國國內生產總值有利。

(6 分)

27. 1996.Q12(c)

香港的製造業工人正面臨失業率上升的問題。

(c) 政府已為失業人士安排了再培訓計劃。以需求方面及供應方面的因素各一，解釋該計劃對香港本地生產總值的影響。

(5 分)

28. 2000.Q9(b)(ii)

部份石油公司投訴生意額影響，因為部分駕駛者向走私客購買未完稅的汽油。

(ii) 解釋汽油的走私活動會如何影響這個經濟的本地生產總值。

(4 分)

29. 2001.Q11(a)(ii)

(ii) 由 1998 年起，香港的物業市況陷於衰退。解釋物業價格與物業成交量均大幅下滑會作樣影響香港的本地生產總值。

(5 分)

30. 2004.Q10b,(c)

在2003年，「沙士」\*對香港的經濟有重大影響。

(c) 為了減少「沙士」對香港經濟的負面影響，政府將部分薪俸稅稅款退回納稅人。解釋該項退稅會如何引致香港的本地生產總值增加。

(4 分)

\*「沙士」是嚴重急性呼吸系統綜合症的簡稱。

31. 2005.Q11(a)

【「更緊密經貿關係安排」或「緊貿安排」其中兩項措施如下：

I. 九成香港製造的產品輸往中國內地可享零關稅

II. 以香港為基地的18個服務行業，更快更易進入內地市場

結果，並非以香港作為基地的海外廠商可以夥拍香港一些符合緊貿安排條件的製造商或服務廠商來享受緊貿安排的優待。】

資料來源：香港特區政府，2005年1月8日

(a) 分別解釋以上兩項措施會如何影響香港的本地生產總值。(5 分)

32. 2007.Q8(b)(ii)

香港的大學不僅取錄本地學生，由去年開始，它們取錄大量內地尖子學生。假設所有學生的學費相同。

(b)(ii) 假設這些從內地來的尖子學生畢業後留在香港工作，而且香港的職位數量不變。

(2 分)

提出兩項理由解釋這會如何導致香港潛在本地生產總值上升。

(2 分)

33. 2009.Q10(a)

引入兩岸直航的安排可能令台灣的本地生產總值增加。引用兩項需求方面的因素，解釋為何有此可能。

(4 分)

34. 2010.Q9(c)

香港海洋公園正進行全新發展計劃。

就下列不同情況，各以一項需求方面的因素解釋你的答案。

為甚麼上述擴張會在以下兩段時間增加香港的本地生產總值？

(i) 興建期間 (2分)

(ii) 興建工程完成後 (2分)

**GDP 的限制**

35. 1994.Q11(d)

(d) 已知甲國國內生產總值比乙國的為低，但乙國人民較喜歡在甲國裏生活。舉出兩項經濟理由來說明為何會有上述情況。(6分)

36. 1996.Q10(c)

假設兩國通商後，乙國在衣服及食米兩方面的消費量都比甲國為高。列舉三項理由解釋為何我們不能斷定乙國人民生活水準普遍較甲國為高。(6分)

37. 2005.Q6

表1:

年份	本地生產總值內含平減物價指數	以當年市價計算的人均本地生產總值 (以港元為單位)
2001	98.1	188 835
2002	94.6	183 790
2003	89.6	179 333

除表中所列的資料外，寫出要準確反映香港人民生活水準所需的其中兩類資料。解釋你的答案。(4分)

38. 2007.Q5

在經濟科某課堂的討論中，一位同學說：「若甲國的人均實質本地生產總值較乙國高，則甲國人民必然較乙國人民享有更高的生活水準。」提出兩項理由解釋為甚麼該名學生的看法是錯誤的。(4分)

39. 2007.Q10(a)

颶風對經濟的生產活動有影響。已知香港本地生產總值每天為38億港元。根據估計，在8號颶風高潮時，每天的經濟損失少於38億港元。提出兩項理由解釋為什麼會如此。(4分)

40. 2009.Q7(b)

(b) 列舉兩項理由，解釋為什麼人均實質本地生產總值的變動不能準確反映一般生活水平的變動。(4分)

41. 2011.Q6

下表顯示甲、乙兩國某年的本地生產總值資料。

	人均實質本地生產總值 (\$)
甲國	100 000
乙國	70 000

解釋甲國人民是否必然較乙國人民享有更高的生活水準。提出兩項理由來支持你的答案。(5分)

**銷售收入 =/= 貢獻**

42. 1994.Q11(c)

(c) 陳先生的農場在 1993 年全年賣菜收益是 \$100,000。舉出兩項理由解釋為何該農場在 1993 年對國內生產總值的貢獻有可能少於 \$100,000。(6分)

43. 2002.Q11(a)(ii)

下表顯示甲經濟某年的本地生產總值資料。

	百萬元
私人消費開支	400
投資開支淨值	180
政府消費開支	250
出口	500
進口	650
折舊	150
間接營業稅	50
利息	200

(iii) 王小姐在某補習社任教經濟科。她告訴學生說甲經濟消費者總支出的市場價值必然高於 400 百萬元。列舉三項理由。解釋為甚麼她是對的。(6分)

44. 2003.Q9(b)(i)

香港自 1998 年起出現通貨收縮。甲廠商是本港一家製造商，他的產品都是出口貨。提供兩項理由解釋為何該廠商在 2003 年對香港本地生產總值的貢獻可能較該廠商在 2003 年的出口總值為少。(4分)

45. 2004.Q10(b)

在2003年，「沙士」\*對香港的經濟有重大影響。

(b) 一家本地旅行社的銷售收益減少200百萬元。舉出兩項理由，解釋為何因此該旅行社對香港本地生產總值的貢獻減少了不足200百萬元。(4分)

\*「沙士」是嚴重急性呼吸系統綜合症的簡稱。

**綜合**

46. 1993.Q4(a)(i),(ii),(iv),(b)(i)

下表顯示香港 1980 年及 1990 年本地生產總值的組成：

本地生產總值成份	與本地生產總值的比例	
	1980 年	1990 年
私人消費開支	62%	62%
政府消費開支	8%	6%
投資	36%	28%
出口	88%	165%
進口	93%	161%

(a)(i) 寫出上表所用本地生產總值計算方法的名稱，並計算 A 的値。列出計算步驟。(4分)

(ii) 對香港經濟來說，1990 年的外貿是否較 1980 年的更有影響力？試以上述數據加以說明。(3分)

(iv) 港人消費在 1980 年及 1990 年兩年所佔本地生產總值的百分比相同，惟事實上港人的生活水準已提高。試列舉兩項原因加以解釋。(4分)

(b) 設有人將大量日本電視機從香港走私往中國，售出總值為港幣四千萬元。

(i) 列舉兩項理由解釋該四千萬港元是否全部計算在香港的本地生產總值內。(4分)

**未有仔細分類**

47. 2015.Q9(d)

麥當勞是香港其中一個主要快餐連鎖集團。

(d) 於 2014 年 7 月，麥當勞被指責以過期肉類為食材。其後，有關的產品被銷毀了。解釋這些已銷毀產品的價值會否包括在香港本地生產總值的計算之內。(2分)

48. 2015.Q10(a)

假設香港某球會聘請了一位巴西著名足球員擔任為期兩個月的兒童足球班教練，他收取了八百萬元的薪金，其後返回巴西。不過，足球班的收生欠佳，學費收入只有三百萬元。

(a) 舉辦上述足球班對下列各項有甚麼影響？

(i) 香港的本地生產總值 (GDP) (2分)

(ii) 香港的本地居民生產總值(GNP) (3分)

49. 2016.Q11(a)

醫療服務是人類的其中一項基本需要。

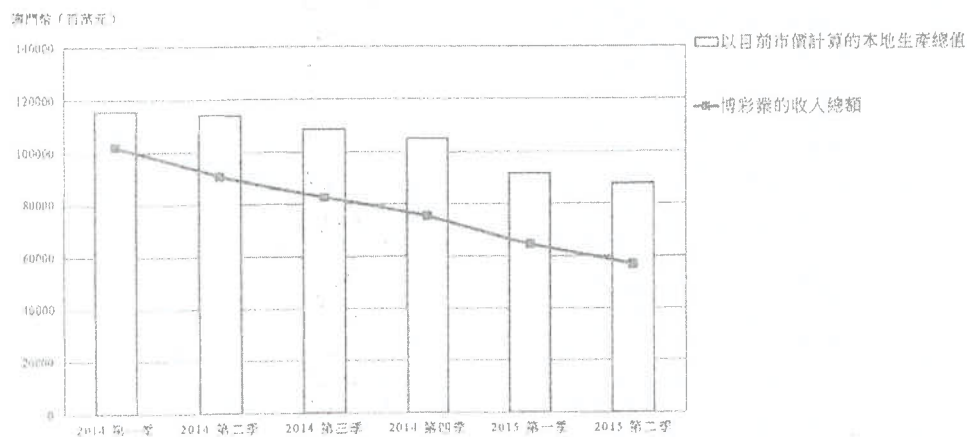
資料甲：在本港某家公立診所外的一段對話

兒子： 爸爸，我很不舒服呀。  
 父親： 糟了！排隊等候的人很多。  
 兒子： 為甚麼我們不去看私家醫生？  
 父親： 公立診所的收費只是 45 元，遠低於私家醫生的收費。

(a) 參考資料甲，當一家公立診所向一名病人提供醫療服務，本地生產總值會因而增加 (3 分)  
 \$45。你同意嗎？試加以解釋。

50. 2016.Q12(a)

博彩業是澳門服務出口的一大行業。下圖顯示澳門博彩業收入和澳門的總產出。



(a) 參考上圖，描述及解釋澳門的博彩業相對於該地區總產出的重要性的趨勢。 (2 分)

51. 2021.Q5

陳先生是本港一名退役足球員。在 2020 年 1 月，他獲一家英國球會聘請為顧問。七個月後，他辭職並返回香港。

(a) 解釋陳先生從英國球會收到的薪金會否包括在

- (i) 香港的本地生產總值 (GDP) 的計算內。 (2 分)
- (ii) 香港的本地居民總收入 (GNI) 的計算內。 (3 分)

(b) 若陳先生可選擇以英鎊 (GBP) 或美元 (USD) 收取其薪金，你會建議他選擇哪種貨幣？解釋你的答案。 (2 分)

計算的項目

1. 1992.Q5(b)

(i) 政府給予失業人士的救濟金屬於轉移支付，並不涉及任何生產活動，所以不應計算在本地生產總值內。

(ii) 支付給僱員的薪金是僱員生產的勞務的報酬，所以應該計算在本地生產總值內。

2. 1995.Q11(d)

(d)(i) 正確

本地生產總值是指在一年內，在一國家的領土以內所生產的最終產品和勞務的市場總值。

由於 20,000 佣金是葉先生從事生或服務的要素收入，它應計算入香港 1995 年的本地生產總值之內。

(d)(ii) 不正確

由於部份樓宇單位已在 1995 年完成，在 1995 年支付的產產成本，如工資，應包括在香港 1995 年的本地生產總值內。

3. 1996.Q3(b)

那些被毀滅的產品，其價值不包括在香港的國民生產總值之內。

國民生產總值是計算某經濟體系居民從事各項經濟活動所賺取的收入，無論這些經濟活動是在該經濟體系領域內或外進行。那些被毀滅的產品，並沒有在市場上出售，不是一種消費支出，故其價值不包括在香港的國民生產總值之內。即使部份已售出之產品，最後亦被回收及顧客獲得退錢。

4. 1996.Q4(a)

以生產因素成本計算的本地生產總值增加了 \$2 000。因為政府須花費 \$2,000 豎立一枝新交通燈。而該 \$2 000 屬當年政府支出。

5. 1997.Q8

本地生產總值是計算一個經濟體系內，常住生產單位於一年內所生產的最終貨品及服務的總市值。

排污費應該包括在內，因為它是支付政府在當年所提供排污服務的費用。

樓宇轉售價值增加不應計算在內。因為此價值並不牽涉任何生產活動。它只反映供求情況改變所導致的財富改變。

6. 1998.Q9(d)

該筆佣金必須加入香港本地生產總值之內。

它是該經紀的收入/ 對該經紀服務的酬勞/ 在今年 (當年) 所提供的一種服務。 2

股票價值不應列入考慮之中。

它與當年生產無關/ 這只是轉讓現存資產的擁有權。 2

7. 1999.Q7

(a) 不應計算入內。

∵ 慈善捐款不屬於生產。 2

(b) 應計算入內。

∵ 它可換取當年提供的服務。 2

8. 2000.Q10(b)(iii)  
 (iii) (否) 該 5 千萬元只是所轉讓股權的價值，而股權轉讓本身不屬於生產。 3
9. 2001.Q6  
 (a) 答案是包括或不包括，取決於聘用他的公司是否香港的常駐生產單位。 1  
 對該公司為何是或不是香港的常駐生產單位作出解釋。 1  
 例一：不包括：  
 該外國航空公司在外國營業。  
 它不是香港的常駐生產單位 / 他的僱主不是香港的常駐生產單位。  
 例二：包括：  
 該外國航空公司在香港所開設的分行聘用了他。  
 該分行是香港的常駐生產單位 / 他的僱主是香港的常駐生產單位。 1  
 (b) 答案是包括或不包括，取決於該香港常駐生產單位的租金收入是否在香港賺取的。 1  
 對該項租金收入為何是或不是在香港賺取的作出解釋。 1  
 例一：包括：  
 該家香港公司是在香港營業的，而該物業位於香港。  
 該項租金收入是由香港的常駐生產單位在香港賺取的。  
 例二：不包括：  
 該家香港公司是在香港營業的，而該物業位於外國。  
 該項租金收入是由香港的常駐生產單位在世界各地所賺取的 / 它是一項海外收入淨值。
10. 2002.Q10(d)  
 包括在香港的本地生產總值(GDP)內。因為 1  
 甲銀行是香港一個常住生產單位/ 居民生產單位。 1  
 不包括在香港的國民生產總值(GNP)內。因為 1  
 木村不是香港居民 / 木村的薪酬是支付了海外的款項。 1
11. 2003.Q11(a)  
 (i) 不包括。因為沒有當年生產。 / 轉售得來的款項只顯示了擁有權或財富的轉移。  
 (ii) 包括。因為它代表會計行所提供服務的價值，而這些會計行是香港的常住生產單位。
12. 2006.Q10(b)  
 (i)  $\$(9.37 - 9.07) \times 10\ 000$   
 $= \$3\ 000$ 。陳先生賺獲\$3 000。 1  
 1  
 符。因為 1  
 該賺獲不涉及生產。 1  
 (ii) 會。因為 1  
 交易中涉及的銀行服務是生產活動。 1

13. 2008.Q9(a)  
 不應，因為 1  
 資本增值並不涉及生產。 1
14. 2009.Q9(c)  
 購買二手教科書的部份支出是用作支付書店所提供的服務。該書店所提供的服務屬當年的生產，故應包括在本地生產總值的計算之內。 2
15. Practice Paper.Q5  
 他的收入計算在香港的本地生產總值中， (1)  
 因為這收入是來自香港一帶住生產單位當年的生產。 (2)
16. 2012.Q10(a)(i)  
 (i) 否，因為 (1)  
 沒有相應的生產。 (1)
- 計算GDP: 生產面計算法及支出面計算法
17. 1997.Q11(a)(ii)  
 香港的 GDP 會增加 1.4 百萬元。  
 根據產出計算法：  
 批發商 (入口海鮮及轉售者) 的附加價值  
 $= (0.8+0.7-1)$  百萬元  
 $= 0.5$  百萬元  
 餐廳的附加價值  
 $= (1.6-0.7)$  百萬元  
 $= 0.9$  百萬元  
 因此, GDP 的改變  $= (0.5+0.9)$  百萬元  $= \$1.4$  百萬元  
 根據支出計算法, GDP = 本地家庭在海鮮方面的支出 + 餐廳顧客的支出 - 入口方面的支出  
 $= (0.8 + 1.6 - 1)$  百萬元  
 $= 1.4$  百萬元
18. 1999.Q9(c)  
 (i) 增值計算法：  
 $\$[230 + 60 - 100] + \$(350 - 230) + (160 - 60)$  2  
 $= \$410$  1  
 (ii) 支出計算法：  
 $\$[350] + \$(160) - \$(100)$  2  
 $= \$410$  1
19. 2001.Q11(a)(i)  
 $[(90 - 20) + (20 - 2 - 0.5) + 0.5]$ 百萬元 2  
 $= 88$  百萬元 1
20. 2002.Q11(a)(i)  
 (i)  $(400 + 180 + 150 + 250 + 500 - 650)$  百萬元 2  
 $= 830$  百萬元 1

21. 2006.Q5

$$(a) \$(50\,000 + 60\,000 - 30\,000) - \$5\,000 = \$75\,000$$

$$(b) \$(60\,000 + 50\,000) - 65\,000 + \$(65\,000 - 30\,000) = \$80\,000$$

名義 vs 實質(概念)

22. 1992.Q5(a)(iii)

(iii) 實質國民所得是反映人民生活水平較佳的指標，因為它並不受一般物價水平的影響。

名義與實質GDP的計算

23. 2003.Q5

$$\begin{aligned} \text{1992年人均實質消費支出} &= \frac{2500 \text{ 百萬元}}{5 \text{ 百萬}} \\ &= 500 \text{ 元} \end{aligned}$$

$$\begin{aligned} \text{2002年人均實質消費支出} &= \frac{2679 \text{ 百萬元} \times \frac{100}{95}}{6 \text{ 百萬}} \\ &= 470 \text{ 元} \end{aligned}$$

1992年的人均實質消費支出較高，意味1992年的生活水準較高。

其他可能答案 1

$$\begin{aligned} \text{人均名義消費支出的變動} &= \frac{\frac{2679 \text{ 百萬元}}{6 \text{ 百萬}} - \frac{2500 \text{ 百萬元}}{5 \text{ 百萬}}}{\frac{2500 \text{ 百萬元}}{5 \text{ 百萬}}} \\ &= -10.7\% \end{aligned}$$

$$\begin{aligned} \text{物價指數的變動} &= \frac{95 - 100}{100} \\ &= -5\% \end{aligned}$$

物價指數下跌的百分率低於人均名義消費支出下跌的百分率。所以，1992年的生活水準較高。

其他可能答案 2

$$\begin{aligned} \text{實質消費支出的變動} &= \frac{2679 \text{ 百萬元} \times \frac{100}{95} - 2500 \text{ 百萬元}}{2500 \text{ 百萬元}} \\ &= +12.8\% \end{aligned}$$

$$\begin{aligned} \text{人口變動} &= \frac{6 \text{ 百萬} - 5 \text{ 百萬}}{5 \text{ 百萬}} \\ &= +20\% \end{aligned}$$

實質消費支出上升的百分率低於人口上升的百分率。所以，1992年的生活水準較高。

24. 2004.Q5

(a) 否。這是因為2002年的實質本地生產總值(或以固定市價計算的本地生產總值)較高。

(b) 2001年及2002年的一般物價水平都較2000年為低 / 有通貨收縮 / 負通脹率。

25. 2009.Q7(a)

$$\text{2000年: } 16\,000 \text{ 百萬元} \div 10 \text{ 百萬} = \$1\,600$$

$$\text{2008年: } 24\,840 \text{ 百萬元} \div 115 \times 100 \div 12 \text{ 百萬} = \$1\,800$$

影響GDP的因素 / 事件 → 對GDP的影響

26. 1995.Q9(c)

(c)(i) 消費支出和政府支出是其中兩項影響國民收入的因素。

(c)(ii) 美國舉辦世界盃足球賽會鼓勵美國人增加在食物、酒店住宿、交通、紀念品方面的支出，這樣消費支出便會增加，因此，美國的國內生產總值亦會增加。再者，為配合世界足球賽，美國政府會增加與球賽有關的基建支出，改建或維修球場等支出。這對美國的國內生產總值亦有利。

27. 1996.Q12(c)

在需求方面，該計劃會令香港本地生產總值增加。

港府需要運用資金以提供再培訓計劃的服務，因此，政府這項支出會導致本年的本地生產總值上升。

在供應方面，該計劃會令香港本年度及將來的本地生產總值增加。

工人接受再培訓後，其生產力會上升。由於產出量會增加，故令香港本年度及將來的本地生產總值增加。

28. 2000.Q9(b)(ii)

走私油在官方的GDP統計數字中並沒有任何記錄，因它並不合法

(另一方面，) 石油公司銷售收益 ↓

∴ GDP ↓

29. 2001.Q11(a)(ii)

- 當時建成的物業的市值下降。
- 中間人（例如物業代理、律師行等）的服務總值下降。
- 對支出組成部分的影響：例如消費 ↓，投資 ↓。
- 對因素收入的影響：例如工資 ↓，利潤 ↓。
- 本地生產總值減少。

2@,  
最高：4

[註：只提及結論而無解釋：零分]

30. 2004.Q10b.(c)

(b) 兩項理由是：

- 該旅行社為其生產購入進口貨的價值
- 該旅行社為其生產購入香港其他廠商產出的價值

(c) 由於稅後收入增加，消費支出會增加。故此本地生產總值會增加。

31. 2005.Q11(a)

- 零關稅鼓勵更多貨物出口。
- 更易進入內地市場鼓勵增加投資。

2  
2

兩項措施都會增加香港的本地生產總值。

1

32. 2007.Q8(b)(ii)

(ii)- 有較大的勞動人口

- 這些從內地來的尖子學生有較高的生產力
- 一起工作時，這些內地來的尖子學生可提升本地員工的生產力 / 給香港帶來知識及新思維。

[只批閱首兩項]

1@, 最高：2

33. 2009.Q10(a)

- 淨出口：台灣會有更多來自中國內地的旅客，使淨出口（或服務出口）增加。
- 消費：當地人們收入增加，會刺激消費，使消費支出增加。
- 投資：當地與中國內地商人會發展更多業務，如經營酒店及貿易公司，使投資支出增加。
- 政府支出：當地政府會增加基建以配合貿易所需，使政府支出增加。

[只批閱首兩項。]

2@, 最高：4

34. 2010.Q9(c)

- (i)- 興建更多設施(景點) ⇒ 投資支出增加
- 更多人就業 ⇒ 私人消費支出增加
- [只批閱首兩項。]

任何一項，  
1+1

- (ii)- 有更多從內地或其他地方來港的遊客 ⇒ 淨出口(出口服務) 增加
- 有更多本地訪客 ⇒ 私人消費支出增加
- 有更多人就業 ⇒ 私人消費支出增加
- [只批閱首兩項。]

任何一項，  
1+1

GDP 的限制

35. 1994.Q11(d)

本地生產總值並不能全面地及正確地反映該國的生活水平，所以本地生產總值不是一個反映人民生活水平的好指標。雖然乙國的本地生產總值較高，但若乙國的總人口比甲國高，乙國的人均本地生產總值便較甲國低，甲國的人民的生活水平亦會較高。

再者，若乙國的通脹率比甲國的高，乙國的實質本地生產總值便會較甲國的低，乙國人民的生活水平亦會較甲國的低。

36. 1996.Q10(c)

首先，我們不知道兩國的人口數量或人均收入。若乙國與甲國人口數量的比例大於兩國消費量的比例，則乙國的生活水準不會普遍較甲國為高。

其次，我們不知道兩國的收入分配情況。若乙國的收入分配非常不均勻而甲國則非，則乙國的生活水準不會普遍較甲國為高。

最後，我們不知道兩國的社會耗費。若乙國的犯罪率較高，更多污染問題，社會更不穩定等等，則乙國的生活水準不會普遍較甲國為高。

37. 2005.Q6

- 收入分配資料：若收入分配不均，普通市民的生活水準會被高估了
- 產出組合的資料：若資本物品，國防等等在總體產出中佔一個高的百分比，生活水準會被高估了
- 生產的不良後果：污染或交通擠塞會降低生活水準；欠缺該等資料會將生活水準高估了
- 閒暇的多少：閒暇能提高生活水準；欠缺該資料會將生活水準低估了
- 沒有向政府申報的生產活動：享用不在市場上出售的物品及服務 / 出現沒有申報的交易，是會提高生活水準的；欠缺該等資料會將生活水準低估了

[只批閱首兩項。]

2@, 最高：4



38. 2007.Q5

下列每一項因素都可能導致甲國一般國民的生活水準較低：

- 甲國的收入分配較不平均。(收入分配不同)
- 在甲國所生產的物品當中，佔較大比例屬於資本物品和國防用品。(產出組合不同)
- 甲國的環境污染或交通擠塞情況較為嚴重。(生產活動導致的不良影響有不同)
- 甲國國民有較少閒暇時間。(享有的閒暇時間不同)
- 甲國有較少無申報/無償產品。(無申報/無償產品數量不同)

[只批閱首兩項。]

2@, 最高 : 4

39. 2007.Q10(a)

- 在颱風期間某些生產活動仍在進行中。
  - 在颱風期間引發某些生產活動，如緊急服務。
  - 在颱風期間某些受影響而停頓了的生產活動可於其後彌補。
- [只批閱首兩項。]

2@, 最高 : 4

40. 2009.Q7(b)

(在下列各點答案中引用了人均實質本地生產總值上升的個案以作說明。)

- 收入分配資料：若收入分配不均，則相應的普通市民生活水準的變動會被高估了。
- 產出組合的資料：若資本物品、國防等等在總體產出中佔一個高的百分比，則相應的一般人生活水準的變動會被高估了。
- 生產的不良後果：污染或交通擠塞會降低生活水準；欠缺該等資料會將相應的一般人生活水準的變動高估了。
- 閒暇的多少：閒暇能提高生活水準；欠缺該資料會將相應的一般人生活水準的變動低估了。
- 沒有向政府申報的生產活動：享用不在市場上出售的物品及服務/出現沒有申報的交易，是會提高生活水準的；欠缺該等資料會將相應的一般人生活水準的變動低估了。
- 任何其他相關點

[只批閱首兩項。]

2@, 最高 : 4

41. 2011.Q6

否，這是因為

以下任何一個因素將導致甲國人民的平均生活水平下降：

- 甲國的收入分配較不平均(收入分配不同)
- 資本物品及國防在甲國總體產出中佔一個較高的百分比(產出組合不同)
- 甲國的污染或交通擠塞問題較為嚴重(生產的不良後果不同)
- 甲國人民享有較少閒暇(閒暇的多少不同)
- 甲國不在市場上出售的物品及服務[或沒有向政府申報的生產活動]較少(不在市場上出售的物品及服務[或沒有向政府申報的生產活動]的數量不同)

[只批閱首兩項。]

2@, 最高 : 4

銷售收入  $\neq$  貢獻

42. 1994.Q11(c)

售出的蔬菜對 1993 年的本地生產總值少於 10 萬元的原因可能是因為該批蔬菜並非全部都是在 1993 年生產的。另外，陳先生售出的蔬菜有部份是從其他國家進口的，因此這部份的收入並不會計算在該國的本地生產總值內。

43. 2002.Q11(a)(ii)

消費者總支出大於 400 百萬元的 可能原因：

- 消費者購買二手貨，例如二手車。
- 有未呈報的交易，例如買入走私物品。
- 消費者購買的物品在計算本地生產總值時被歸類為投資開支的項目，而非包括入該 400 百萬元之內。例子有消費者購買新屋作自住。
- 消費者付出訂金，購買來年才生產的物品。
- 其他相關點

[只批閱首三項。]

2@, 最高 : 6

44. 2003.Q9(b)(i)

原因有二：

- 甲廠商的貢獻是她在生產過程中的附加價值。在生產過程中其他廠商的貢獻都應該扣除。
- 2003 年總出口值可能包括了往年部分存貨價值，若有則應從 2003 年的數字中扣減出來。

45. 2004.Q10(b)

(b) 兩項理由是：

- 該旅行社為其生產購入進口貨的價值
- 該旅行社為其生產購入香港其他廠商產出的價值

綜合

46. 1993.Q4(a)(i),(ii),(iv),(b)(i)

(i) 所用方法是支出計算法

$$100\% = 62\% + A\% + 36\% + 88\% - 93\%$$

$$A\% = 100\% - 62\% - 36\% - 88\% + 93\%$$

$$A\% = 7\%$$

(ii) 是。

因為 1990 年的出入口總值佔本地生產總值的比例較 1980 年的大。

(iv) 市民生活水平的提高可能是由香港的人均本地生產總值增加所致，亦有可能是物品質素提高的結果。

(i) 這四千萬港元不應計算在香港本地生產總值內。

因為這批電視機的貿易是非法的，並不會記錄在香港的轉口帳項內。另外，這批日本電視機並非在香港生產的。

未有仔細分類

47. 2015.Q9(d)

否。<sup>1</sup>

— 因為它沒有在市場出售，因此不計入生產。 [生產面]

— 因為它並不計算在消費或投資內。 [開支面]

(1)

@1;

最高: 1

48. 2015.Q10(a)

(a)(i) 本地生產總值上升(3 百萬元)，因為這課程是常住生產單位本年度的生產，該課程的價值會計入 GDP 內。 (2)

(ii) 本地居民生產總值下降 (5 百萬元)，因為 GNP 的轉變=GDP 的轉變 (+3 百萬元)+海外收入淨值 NIA 的轉變 (-8 百萬元)。因為該巴西球員不是本地居民，故該 8 百萬元收入會計入成收入流出，在本地的國民收入計算內須要扣減的。 (3)

49. 2016.11a

(a) 否。

因為公營服務大多有補貼，即以成本或低於成本價提供，較市價為低。以市場價格計算，它們對 GDP 的貢獻 (或是市場價值) 會高於 \$45 (除所收取的補貼後的價格)。

或

因為沒有以市價出售的公營服務會以要素成本計算入 GDP 裏，會高於 \$45。

分數  
(1)

(2)

或  
(2)

50. 2016.12a

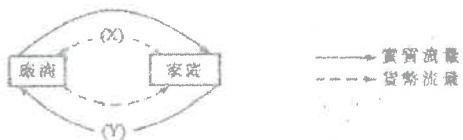
(a) 博彩業的相對重要性正在下降，因為博彩業的總收入下降的速度較以目前市價計算的 GDP 快。

分數  
(2)

<sup>1</sup> 或因為銅鑼產品所造成的業務損失(即負數的利潤)會完全抵銷了付給工人的工資和生產這些物品的其他原料成本(即正數的工資和其他要素收入)。 [收入面]

註：第 1-3 題中 貨幣流量 / 實質流量 等同於 貨幣流程 / 實質流程。

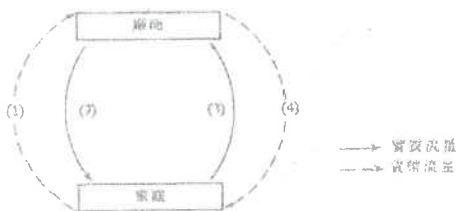
1. 1990.MC.Q35



上面經濟活動流程的 X 和 Y 分別是

- A. 銷售收益，生產因素提供的服務
- B. 銷售收益，貨品和勞務
- C. 生產因素的收入，貨品和勞務
- D. 生產因素的收入，生產因素提供的服務

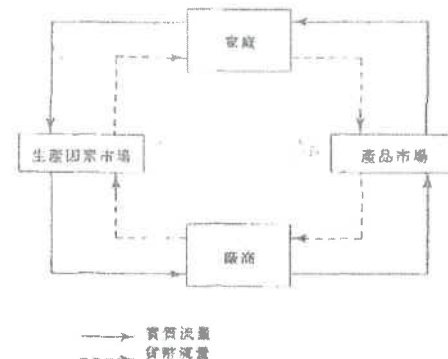
2. 1993.MC.Q37



上面是一經濟活動流程。該經濟的支出及收入分別由流量\_\_\_\_\_及流量\_\_\_\_\_顯示出來。

- A. (1) : (2)
- B. (1) : (4)
- C. (2) : (3)
- D. (3) : (4)

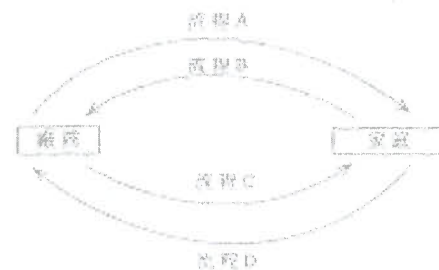
3. 1994.MC.Q31



上面顯示什麼？

- A. 它顯示一開放經濟體系的經濟活動。
- B. 這經濟體系有政府的干預。
- C. 國民收入與國民支出相等。
- D. 家庭只在產品市場交易

4. 2002.MC.Q24



流程 A 及流程 D：實質流程

流程 B 及流程 C：金錢流程

根據以上流程圖作答。下列那一項描述是正確的？

- A. 流程 A 及 D 分別是家庭支出的流出及廠商支付生產因素擁有者的流程。
- B. 所有廠商「增值」的總和與全部最終物品和服務的市值相等。
- C. 流程 B 的市值等於全部最終物品和服務的市值與未售出貨物的市值之和。
- D. 最終物品和服務的流程包括向自己提供的服務

5. 2003.MC.Q25

下圖顯示某經濟的流程圖：




下列哪一行包括在 X 流程內？

- A. 家庭在最終物品及服務方面的支出。
- B. 生產要素的收入，例如租金及工資。
- C. 中間物品的價值。
- D. 全部最終物品及服務的市值。

6. 2009.MC.Q26

參閱下列甲經濟的生產流程圖：

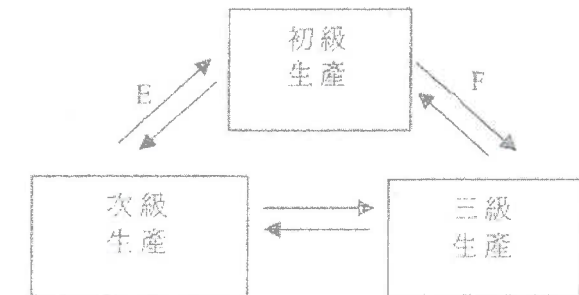


X 流程代表

- A. 在所有最終貨品和服務上的總支出。
- B. 家庭從它們所提供的要素服務中賺取的總收入。
- C. 家庭提供了廠商的要素服務總值。
- D. 所有中間及最終貨品和服務的總市值。

7. 2014.MC.Q10

下圖顯示三個生產級別的關係。E 和 F 分別代表什麼？



- A. 消費者物品；原料
- B. 生產者物品；服務
- C. 原料；服務
- D. 生產者物品；原料

08MC1 答案

1.	A
2.	B
3.	C
4.	B
5.	B
6.	A
7.	D
8.	
9.	
10.	

1. 1990.MC.Q39

黃先生經營二手車買賣，他以\$20,000 購入一輛二手車，隨即以\$25,000 轉售。這宗買賣使國民生產總值增加多少？

- A. \$5,000
- B. \$20,000
- C. \$25,000
- D. \$45,000

2. 1992.MC.Q13

香港製造業對香港本地生產總值的貢獻正在下降。以下哪一項可導致上述的結論？

- A. 這行業的工人數目正在下降。
- B. 這行業的廠商數目正在下降。
- C. 這行業的工資正在下降。
- D. 這行業的「附加值」正在下降。

3. 1992.MC.Q46

以下哪一種量度產出的方法會出現「重複計算」的情況？

- A. 計算花費在最終貨品及勞務的總支出。
- B. 計算全部生產因素賺獲的總收入。
- C. 將各級生產的「附加值」總和起來。
- D. 將所有市場買賣的價值總和起來。

4. 1995.MC.Q59

	每一個員在實質本地生產總值中的平均附加價值	
	1982 年	1992 年
製造業	\$41,000	\$165,000
服務業	\$103,000	\$280,000

下列哪一項並非上表的結論之一？

- A. 製造業在 1992 年的勞工生產力較 1982 年高。
- B. 服務業在 1992 年的勞工生產力較 1982 年高。
- C. 在 1992 年，服務業的勞工生產力較製造業高。
- D. 服務業的勞工生產力的增長率高於製造業。

5. 1998.MC.Q25

下文顯示某經濟體系某年的交易記錄：

- (I) 甲廠商將部分產品以\$100 售予乙廠商，其餘以\$200 售予丙廠商。
- (II) 乙廠商將購得的產品以\$200 售予家庭，其餘以\$300 售予其他廠商。
- (III) 丙廠商則將購得的產品出口，獲得\$500。

在上列交易中，乙廠商和丙廠商對該經濟體系本地生產總值的貢獻合共是多少？

- A. \$700
- B. \$900
- C. \$1,100
- D. \$1,300

6. 2000.MC.Q35

下圖顯示一條生產鏈，開始時進口香港的汽油價值\$100。

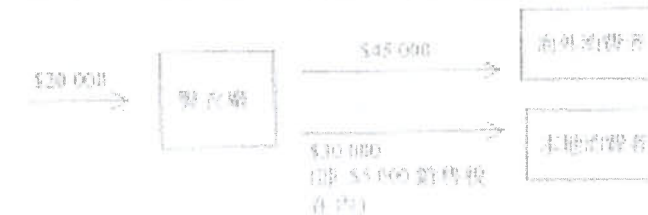


該生產鏈對以生產因素成本計算的香港本地生產總值的貢獻是

- A. \$400
- B. \$500
- C. \$900
- D. \$1,000

7. 2003.MC.Q27

下圖顯示甲經濟中某製衣廠的生產。該廠進口價值\$20000 的原料。

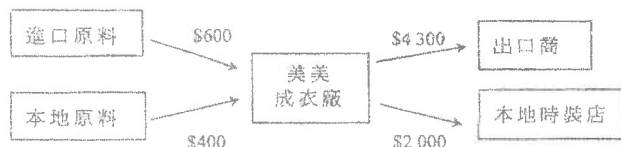


該製衣廠對甲經濟以要素成本計算的本地生產總值有何貢獻？

- A. \$10,000
- B. \$50,000
- C. \$55,000
- D. \$75,000

8. 2004.MC.Q27

下表顯示某經濟的一個生產過程。

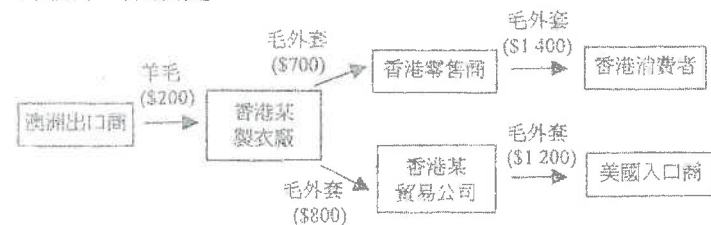


美美成衣廠對該經濟國民收入的貢獻是

- A. \$1 600
- B. \$3 700
- C. \$5 300
- D. \$5 900

9. 2005.MC.Q28

下圖顯示一條生產鏈。

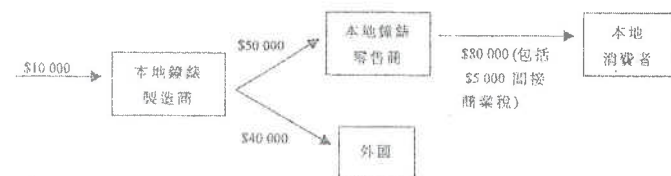


上述生產鏈對香港本地生產總值的貢獻是

- A. \$1 400
- B. \$1 700
- C. \$2 400
- D. \$2 600

10. 2007.MC.Q28

參照下圖某經濟的鐘錶生產鏈回答 2007.MC.Q28 及 2007.MC.Q29。該經濟的鐘錶製造商進口價值 \$10 000 的原料。



上述生產鏈對該經濟以市價計算的本地生產總值的貢獻是\_\_\_\_\_。

- A. \$105 000
- B. \$110 000
- C. \$115 000
- D. \$120 000

11. 2007.MC.Q29

本地中標零售商對該經濟以市價計算的本地生產總值的貢獻是\_\_\_\_\_。

- A. \$25 000
- B. \$30 000
- C. \$75 000
- D. \$80 000

12. 2009.MC.Q27

下表顯示某經濟中的電腦生產鏈，其中涉及價值\$5 000 的原材料進口。

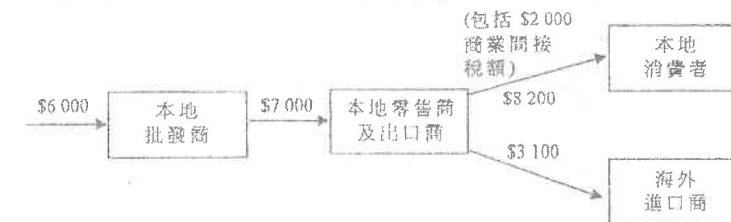


上述生產鏈對該經濟以要素成本計算的本地生產總值的貢獻是多少？

- A. \$6 000
- B. \$8 000
- C. \$10 000
- D. \$13 000

13. 2010.MC.Q28

下表顯示某經濟的電腦生產鏈。其中包含價值\$6 000 的進口原料。

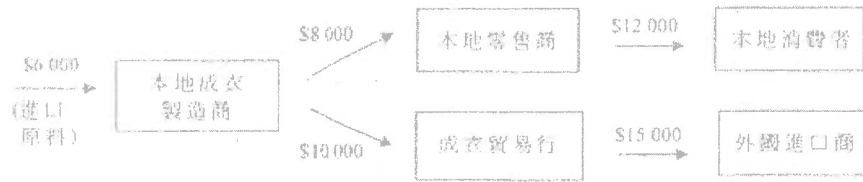


上述生產鏈對該經濟以要素成本計算的本地生產總值有多少貢獻？

- A. \$3 300
- B. \$5 300
- C. \$9 300
- D. \$11 300

14. 2011.MC.Q26

下圖顯示某經濟的一條成衣生產鏈及其在不同生產階段產出的售價。進口的原料價值\$6 000。

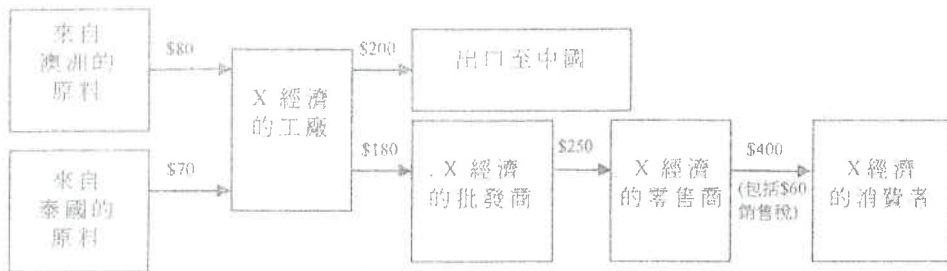


假設該成衣貿易行從政府收取了\$1 000 出口津貼。上述生產鏈對該經濟以要素成本計算的本地生產總值有若干貢獻？

- A. \$20 000
- B. \$22 000
- C. \$26 000
- D. \$28 000

15. 2014.MC.Q24

下圖顯示在 X 經濟中某物品的生產鏈：

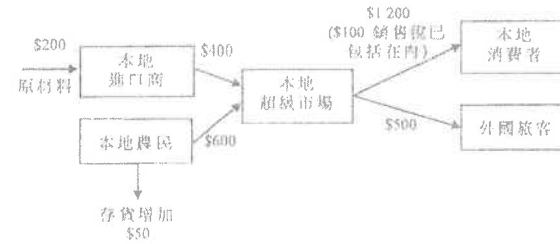


該生產鏈對 X 經濟以市價計算的本地生產總值的貢獻是多少？

- A. \$340
- B. \$390
- C. \$450
- D. \$600

16. 2021 Q23

某經濟的物品 X 生產鏈顯示如下。



以上生產鏈對該經濟的本地生產總值（以要素成本計算）的貢獻是 \_\_\_\_\_。

- A. \$1 400
- B. \$1 450
- C. \$1 500
- D. \$1 550

08MC2 答案

1.	A	11.	A
2.	D	12.	A
3.	D	13.	A
4.	D	14.	B
5.	A	15.	C
6.	A	16.	B
7.	B	17.	
8.	C	18.	
9.	C	19.	
10.	B	20.	

1. 1990.MC.Q33

一名本港市民取消乘搭本地航空公司而轉乘日本航空公司班機。此舉對香港本地生產總值有什麼影響？

- A. 入口增加
- B. 出口減少
- C. 消費減少
- D. 投資增加

2. 1992.MC.Q47

一大廈於年初山崩倒塌，年終時完成重建工程。該年的本地生產總值

- A. 增加了。
- B. 減少了。
- C. 維持不變。
- D. 初期減少，後期增加。

3. 1993.MC.Q39

於參閱下列某經濟某年的資料後，作答 1993.MC.Q39。

	<u>百萬元</u>
私人消費開支	40
政府消費開支	10
本地固定資本形成總額	10
存貨增減	1
貨物出口總額	80
本地產品出口	70
轉口	10
貨物入口	60
服務出口	20
服務入口	30
流入的資金	30
流出的資金	15

該經濟當年的本地生產總值為：

- A. 61 百萬元
- B. 70 百萬元
- C. 71 百萬元
- D. 81 百萬元



4. 2000.MC.Q34

更多香港人在深圳購物，而香港的實質利率上升並持續高企。

下列哪一項香港本地生產總值的組成部分最不可能受到上述事件的影響？

- A. 本地消費 (C)
- B. 私人投資 (I)
- C. 政府支出 (G)
- D. 出口淨值 (X - M)

5. 2001.MC.Q28

下表顯示某國本地生產總值的資料。

成份	百萬元
私人消費開支	500
政府消費開支	100
本地固定資本形成淨值	250
存貨增減	30
貨物出口總額	800
貨物轉口	200
貨物進口	900
服務出口	300
服務進口	150
折舊	60

以市價計算的本地生產總值為

- A. 900 百萬元。
- B. 930 百萬元。
- C. 990 百萬元。
- D. 1,190 百萬元。

6. 2003.MC.Q26

下表顯示某國某日的本地生產總值數據：

成份	百萬元
私人消費支出	400
政府消費支出	100
本地固定資本形成總額	200
存貨減少	20
本地貨物出口	330
貨物轉口	170
貨物進口	550
服務出口	400
服務進口	350
折舊	60

以市價計算的本地生產總值是

- A. 620 百萬元。
- B. 660 百萬元。
- C. 680 百萬元。
- D. 720 百萬元。

7. 2004.MC.Q29

引入中國內地遊客以「個人遊」方式訪港會增加香港本地生產總值。這些旅客在香港購買珠寶的花費是香港的一項

- A. 消費支出。
- B. 投資支出。
- C. 出口。
- D. 進口。

8. 2005.MC.Q27

下表是某經濟於某年的統計數據。

	百萬元
私人消費支出	50 000
政府消費支出	8 000
本地固定資本形成總額	7 000
存貨減少	3 000
出口總值	30 000
進口總值	45 000
間接稅	50
折舊	4 200

以市價計算的本地生產總值（以百萬元計算）是

- A. 42 850
- B. 47 000
- C. 50 000
- D. 51 150

9. 2006.MC.Q25

在香港的國民收入會計裡，下列哪一筆 5 百萬元的款項屬於一項投資支出？

- A. 收購香港一家公司時，買入該公司價值 5 百萬元的股票。
- B. 購買價值 5 百萬元的五厘一橋債券。
- C. 存款 5 百萬元於香港的一家持牌銀行。
- D. 花費 5 百萬元將香港一個購物商場內的停車場改建為店舖。

10. 2008.MC.Q26

下表顯示某經濟的國民收入統計數字：

成分	百萬元
私人消費支出	800
政府消費支出	250
本地固定資本形成總額	600
存貨減少	50
貨物出口總額	1 700
貨物進口總額	450
服務出口	850
服務進口	550

以市價計算的本地生產總值是\_\_\_\_\_百萬元。

- A. 3 100
- B. 3 150
- C. 3 200
- D. 3 250

11. 2009.MC.Q28

參閱下表關於某經濟的統計數字。

成分	百萬元
私人消費支出	600
本地固定資本形成總額	250
存貨增加	70
政府消費支出	450
折舊	30
出口貨物及服務總值	500
進口貨物及服務總值	140
貨物轉口值	100

以市價計算的本地生產總值是\_\_\_\_\_百萬元。

- A. 1 690
- B. 1 730
- C. 1 760
- D. 1 830

12. 2010.MC.Q26

細閱下表，回答 2010.MC.Q26 及 Q27 題。

本地生產總值項目	十億元
私人消費支出	100
本地固定資本形成總額	200
存貨變動	-50
折舊	10
政府消費支出	150
轉移支付	+ 20
間接稅	100
津貼	40
貨物及勞務淨出口	-15

以市價計算的本地生產總值是\_\_\_\_\_十億元。

- A. 375
- B. 385
- C. 395
- D. 445

13. 2010.MC.Q27

以要素成本計算的本地生產總值是\_\_\_\_\_十億元。

- A. 315
- B. 325
- C. 375
- D. 445

14. 2011.MC.Q27

參閱以下某經濟的統計資料，回答 2011.MC.Q27。

成分	百萬元
私人消費支出	600
本地固定資本形成總值	300
存貨減少	40
政府消費支出	550
折舊	30
出口貨物總值	85
出口服務總值	115
進口貨物總值	110
進口服務總值	50
貨物淨出口	15

以市價計算的本地生產總值是\_\_\_\_\_百萬元。

- A. 1 420
- B. 1 435
- C. 1 450
- D. 1 465

15. PP.MC.Q20

下表顯示某經濟的統計數據。

本地生產總值成分	百萬元
私人消費支出	400
政府消費支出	250
本地固定資本形成總額	300
存貨增加	70
補貼	120
折舊	50
淨出口	300
海外收入淨值	80
直接稅	100

以生產要素成本計算的本地生產總值等於\_\_\_\_\_百萬元。

- A. 1 250
- B. 1 270
- C. 1 350
- D. 1 490

16. 2012.MC.Q22

參閱下表：

本地生產總值成分	百萬元
私人消費支出	200
本地固定資本形成淨值	40
存貨增加	X
政府消費支出	24
淨出口	10
間接稅	60
補貼	30
折舊	40
國外要素收入淨值	16

若按生產要素成本計算的本地生產總值是 264 百萬元，X 的值是\_\_\_\_\_。

- A. -50
- B. -20
- C. 20
- D. 50

17. 2013.MC.Q22

參閱下列某國本地生產總值的資料。

成分	百萬元
以市價計算的本地生產總值	200
私人消費支出	120
本地固定資本形成總額	40
存貨改變	10
物品出口總值	80
本地物品出口	70
物品進口	60
服務出口	20
服務進口	30
海外收入淨值	25
折舊	35
間接商業稅	28
津貼	18

該年的政府消費支出是\_\_\_\_\_百萬元。

- A. 20
- B. 30
- C. 40
- D. 50

18. 2016 Q.23

細閱以下有關某國本地生產總值 (GDP) 的資料。

GDP 組成部分	百萬元
私人消費支出	380
政府消費支出	450
本地固定資本形成總額	230
存貨減少	50
補貼	30
折舊	40
總出口	130
總進口	170
直接稅	30

以要素成本計算的本地生產總值是 \_\_\_\_\_ 百萬元。

- A. 950
- B. 970
- C. 1 000
- D. 1 100

19 2018 Q.25

下表顯示某經濟某一年本地生產總值的資料：

本地生產總值的組成	十億元
資本消耗額	40
外地要素收入淨額	36
生產補貼	14
直接稅	5
間接稅	47

下列哪些有關該經濟的陳述是正確的？

- (1) 本地生產總值低於國民總收入。
- (2) 以市價計算的本地生產總值低於以要素成本計算的本地生產總值。
- (3) 該經濟折舊的數值大於零。

- A. 只有 (1) 及 (2)
- B. 只有 (1) 及 (3)
- C. 只有 (2) 及 (3)
- D. (1)、(2) 及 (3)

1	A	11	C
2	A	12	B
3	C	13	B
4	C	14	C
5	C	15	C
6	C	16	B
7	C	17	A
8	B	18	C
9	D	19	B
10	B	20	

1. 1990.MC.Q49

下列是某甲上年度所獲得的款項：

- (1) 工資\$10,000
- (2) 公共撥助金\$1,000
- (3) 儲蓄戶口存款利息\$100
- (4) 六合彩獎金\$8,000

某甲去年對本地生產總值的貢獻為

- A. \$10,000
- B. \$10,100
- C. \$11,100
- D. \$19,100

2. 1991.MC.Q44

用「支出計算法」計算香港的本地生產總值時，以下哪一項會被包括在內？

- A. 九龍城寨居民獲得的賠償
- B. 購買二手車的支出
- C. 售賣玩具給美國人賺取的收益
- D. 政府稅收

3. 1992.MC.Q45

以下哪一筆款項應被包括在本地生產總值的計算內？

- A. 陳先生售出他的一所兩年前建成的房子獲得\$2,000,000
- B. 陳先生購入股票價值\$150,000
- C. 陳先生買六合彩中獎獲得\$1,000,000
- D. 陳先生每月支取薪金\$35,000

4. 1992.MC.Q58

香港政府為了越南船民而支付費用被包括在香港的本地生產總值之內，因為

- A. 應該：有貨物及勞務在本港生產
- B. 應該：部分支出會由聯合國償還
- C. 不應：貨物及勞務花費在外國人身上
- D. 不應：越南船民並不生產貨物及勞務

5. 1993.MC.Q35

以下哪一項包括在香港本地生產總值的計算之內？

- A. 公務員的醫療福利
- B. 學生乘船津貼
- C. 海外投資者所賺獲的股息
- D. 從賽馬博覽中贏取的獎

6. 1994.MC.Q32

下列哪一項應被包括在香港當年本地生產總值內？

- A. 一投資者在本地股票交易所購買股票。
- B. 一英國人在本地一所學校教授英語而收取薪金。
- C. 一學生將一些舊教科書出售予他的朋友。
- D. 一製造商賣出去年的存貨。

7. 1995.MC.Q60

下列哪一項不會計算在香港的本地生產總值內？

- A. 個別投資者在香港股市買賣股票所賺獲的利潤。
- B. 香港聯合交易所給予職員的年終獎金。
- C. 在香港股市買賣股票所繳付的印花稅。
- D. 經紀在香港股市代客進行買賣所賺取的佣金。

8. 1996.MC.Q27

下列哪一項被計算入香港本地生產總值之內？

- A. 某大學生得到的政府津貼。
- B. 某外國人在香港任職公務員得到的薪金。
- C. 香港某廠商向日本某銀行借款所付出的利息。
- D. 香港政府向匯豐銀行償還的債款。

9. 1997.MC.Q24

下列顯示某農場部分資產。在計算今年的本地產總值時，哪一項應被包括在投資支出之內？

- A. 今年春季開墾 10 畝耕地的開支。
- B. 由去年積存至今的 10 噸小麥的價值。
- C. 償還去年因維修機器而借入的\$10,000。
- D. 最近為取年息\$55,000 而購入政府年初發行的債券 10,000 單位，所花費的一筆開支。

10. 1997.MC.Q60

下列哪一項並不包括入本地生產總值的計算之中？

- A. 政府花費在僱員再培訓計劃的 3 億元
- B. 政府支付的 2 千萬元失業救濟金
- C. 一名成功求職者對替他介紹工作的職業介紹所支付的佣金
- D. 勞工處為幫助求職者增加的兩名新官員的薪金

11. 1998.MC.Q26

下列哪一項被視為國民收入的一部分？

- A. 經紀賣出二手車所賺獲的佣金。
- B. 被邀往婚宴送贈新娘的禮券。
- C. 受傷工人的保險賠償金。
- D. 成績優秀學生的獎學金。

12. 1998.MC.Q51

轉移支付不是計算在國民收入之內，因為

- A. 它計算在國民收入總值之中，卻不在國民收入淨值之內。
- B. 它已計算在家庭收入之內。
- C. 它不是生產貨物及勞務的回報。
- D. 政府沒有對它徵稅。

13. 1999.MC.Q31

下列哪一項 100 萬元的款項應計算入香港本地生產總值之內？

- A. 某著名歌星在香港舉辦一項慈善表演，將全部 100 萬元的收益捐贈予中國內地水災災民。
- B. 某父親將價值 100 萬元的公司股份轉名給他的女兒。
- C. 交通意外受害者從政府手中收取 100 萬元作為蒙受傷害的賠償。
- D. 投資者售樓賺得 100 萬元的資本增值。

14. 2000.MC.Q33

下列哪一項包括入香港本地生產總值的計算之內？

- A. 香港某業主自住樓宇的估計租值
- B. 政府給予香港的大學生的低息貸款
- C. 支付予外國投資者所持外匯基金票據的利息
- D. 香港某銀行所發行股票價格的增值

15. 2001.MC.Q50

下列哪一項不應被計算入香港的本地生產總值之內？

- A. 本地一家銀行借予客戶的貸款。
- B. 本地一家酒店行李員所獲得的小帳。
- C. 本地一家酒樓所收取的加一服務費。
- D. 本地一位小販所賺取的收入。

16. 2002.MC.Q49

下列哪一項不應計算入香港的本地生產總值之內？

- A. 一家汽車代理轉售二手車所賺獲的利潤
- B. 對一位因交通意外蒙受損失的車主所作的賠償
- C. 向一家本地保險公司繳付的汽車保險費
- D. 某加從維修汽車所賺獲的收入

17. 2004.MC.Q26

在計算香港本地生產總值時，下列哪一項應包括在內？

- A. 因「沙士」喪失父母的兒童從「護幼基金」獲得的款項
- B. 本地某物業代理因提供樓宇轉售服務而獲得的款項
- C. 本地某學生將自己用過的參考書賣給同學所獲得的款項
- D. 本地某有限公司在市場發行新債券獲得的款項

18. 2005.MC.Q26

下列哪一項被計算入香港的本地生產總值之內？

- A. 一個美國人在本港某電視台任職記者所收取的薪金
- B. 一個本地學生將其手提電話出售予他的同學所獲得的金錢
- C. 一個香港市民在本地電視台遊戲節目中贏取的獎金
- D. 一個本地建築工人受傷後獲得的保險賠償金

19. 2007.MC.Q27

下列哪一項被包括入 2005 年本地生產總值之內？

- A. 在 2005 年存入儲蓄戶口內的金錢
- B. 某古董在 2005 年的購入價
- C. 在 2005 年支付予個別人士的公共援助金
- D. 在 2005 年生產但未售出的小麥的價值

20. 2011.MC.Q29

下列哪筆款項應包括入香港本地生產總值之內？

- A. 一位香港居民在本港的人民幣儲蓄存款
- B. 一位香港居民在北京的物業所賺獲的租金收入
- C. 一位外國遊客在香港捐出的款項
- D. 一位日本人在香港一家本地航空公司工作所賺獲的薪金

21. 2015.MC.Q24

下列哪項會包括在 2014 年香港本地生產總值的計算之內？

- A. 2014 年政府支付的長者生活津貼
- B. 2013 年建成但在 2014 年出售的樓宇的市場價值
- C. 2014 年一名在二手手袋店工作的售貨員的薪金
- D. 2014 年香港本地常住生產單位所擁有的加拿大物業的租金收入

22 2018 Q24

下列哪些會包括在本港本地生產總值的計算之內？

- (1) 本港某自住物業的估算租金價值
- (2) 某地產經紀賣出二手物業所收取的佣金
- (3) 某大學生收取的獎學金

- A. 只有 (1)、(2)
- B. 只有 (1)、(3)
- C. 只有 (2)、(3)
- D. (1)、(2) 及 (3)

在計算香港的本地居民總收入時，下列哪項應從香港的本地生產總值中扣除？

- A. 一家香港足球會付給一支日本球隊來港進行一場表演賽的費用
- B. 一家香港地產發展商從其於日本的住宅物業賺得的租金
- C. 一家日本保險公司從香港的金融投資賺得的資本增益
- D. 一家日本上市公司付給一名香港居民的股息

08MC4 答案

1.	B	11.	A	21.	C
2.	C	12.	C	22.	A
3.	D	13.	A	23.	A
4.	A	14.	A	24.	
5.	A	15.	A	25.	,
6.	B	16.	B	26.	
7.	A	17.	B	27.	
8.	B	18.	A	28.	
9.	A	19.	D	29.	
10.	B	20.	D	30.	

**包括入國民生產總值內的項目**

1. 1991.MC.Q43

以下哪一項包括在一國家的國民生產總值之內？

- A. 購買新發行股票的支出  
 B. 支付予外國僱員的薪金  
 C. 公共援助支出  
 D. 國民從外國賺取的收入

2. 1992.MC.Q48

一香港市民在加拿大工作所獲得的收入會包括在\_\_\_\_\_內。

- (1) 香港的國民生產總值  
 (2) 香港的本地生產總值  
 (3) 加拿大的國民生產總值  
 (4) 加拿大的本地生產總值
- A. 只有(1)、(2)  
 B. 只有(1)、(3)  
 C. 只有(2)、(3)  
 D. 只有(2)、(4)

3. 1999.MC.Q24

下列哪一項應計算入國民生產總值之內？

- A. 賣出的新發行股票的價值。  
 B. 股市裏交易的股票的價值。  
 C. 購買股票時支付的印花稅。  
 D. 出售股票賺得的資本增值。

**數值計算**

4. 1994.MC.Q33

某經濟體系只生產麵包與恤衫。參閱下列該經濟體系的資料後，回答 1994.MC.Q33。

	1992 年價格 (\$)	1993 年價格 (\$)	1994 年產出 (單位)
麵包	10	12	50
恤衫	20	25	20

按固定市價(1992 年)計算，1993 年的國民生產總值是

- A. \$90  
 B. \$1,100  
 C. \$1,200  
 D. \$1,490

**哪項包括入「海外收入淨值」內**

5. 1999.MC.Q26

在下列各種本地居民賺取收入的來源中，哪一種應包括在「海外收入淨值」的計算之內？

- (1) 出口貨物  
 (2) 輸出服務  
 (3) 投資海外產業  
 (4) 投資外國證券
- A. 只有(1)、(2)  
 B. 只有(1)、(3)  
 C. 只有(2)、(3)  
 D. 只有(3)、(4)

6. 2006.MC.Q29

下列哪項應被包括入香港的對外要素收益流動淨值（即海外收入淨值）的計算之內？

- (1) 某日本遊客在香港的花費。  
 (2) 香港某鐘錶生產商售賣鐘錶予歐洲市場所賺獲的總收益。  
 (3) 香港某居民在英國投資物業所賺獲的租金收入。  
 (4) 香港某居民從瑞士某銀行的儲蓄存款賺獲的利息。
- A. 只有(1)、(2)  
 B. 只有(1)、(3)  
 C. 只有(2)、(4)  
 D. 只有(3)、(4)

7. 2013.MC.Q21

下列哪項並不包括在香港該年度的海外要素淨收入的計算之中？

- A. 一位日本教師在香港某語文學校工作一年所得的收入  
 B. 一位香港居民在加拿大擁有地產物業所賺取的租金收入  
 C. 一位印度顧問為香港機場管理局工作三個月所得的薪金  
 D. 一位美國居民持有香港股票所賺取的股息

**GDP 加減 項目 → 計算 GNP**

8. 2002.MC.Q25

若要計算香港的本地居民生產總值（又稱國民生產總值），下列哪一項須從香港的本地生產總值統計數字中扣減出來？

- A. 一位居於美國的日本人從他購入的恆生銀行股票所獲派的股息  
 B. 一位香港居民在美國擁有物業所賺獲的租金收入  
 C. 一位由香港某中學以兩年期合約聘用的外籍英文教師所獲得的薪酬  
 D. 一位香港居民向中國內地捐出的款項



9. 2008.MC.Q27

香港本地生產總值須加上下列哪筆金額，方能計算香港本地居民生產總值？

- A. 某日本歌手在香港舉行兩場演唱會所賺獲的收入。
- B. 某香港居民為一家美國銀行在本港的辦事處工作所賺獲的薪酬。
- C. 某香港居民從他在加拿大的住宅所賺獲的租金收入。
- D. 某香港居民對泰國一家成衣廠投資的金額。

10. 2010.MC.Q30

若要計算香港的本地生產總值，應將下列哪項從香港的本地生產總值中扣減出來？

- A. 一位內地投資者從他在香港的住宅單位收取的租金
- B. 一位香港居民從他在美國股市投資中收取的股息
- C. 一位香港富豪大亨所設立用以津貼內地學生在香港求學的獎學金
- D. 一位香港居民為一家英資銀行在香港的分行工作所收取的薪酬

GDP 大於或小於 GNP，則

11. 1993.MC.Q44

若國民生產總值大於本地生產總值，則

- A. 折舊大於零。
- B. 海外收入淨值大於零。
- C. 轉移支付大於零。
- D. 出口大於入口。

12. 1995.MC.Q32

在下列哪種情況下，本地生產總值會高於國民生產總值？

- A. 出口淨值是負數。
- B. 出口淨值是正數。
- C. 國外收入淨值是負數。
- D. 國外收入淨值是正數。

13. 2006.MC.Q26

在下列哪種情況下，本地生產總值會大於國民生產總值？

- A. 海外收入淨值是負數。
- B. 海外收入淨值是正數。
- C. 間接稅減去津貼後是負數。
- D. 淨出口是負數。

14. 2009.MC.Q30

假設本地生產總值大於本地居民生產總值，這意味著：

- A. 國外要素收益淨值是正數。
- B. 國外要素收益淨值是負數。
- C. 出口淨值是正數。
- D. 出口淨值是負數。

概念

15. 1996.MC.Q28

用支出計算法去計算一經濟體系的國民生產總值時須減去入口，因為

- A. 部分入口是本土產品的代替品。
- B. 部分入口是中間貨品。
- C. 入口會導致付款給外國。
- D. 入口是對外國生產的貨物及勞務的支出。

16. 1999.MC.Q29

下列哪一項關於本地生產總值的描述是正確的？

- A. 若出口淨值是正數，本地生產總值便會超出國民生產總值。
- B. 本地生產總值並不包括本地市民從海外賺取的收入。
- C. 本地生產總值並不考慮折舊值。
- D. 海外收入淨值不可能是負數。

17. 2007.MC.Q26

下列哪一項對本地生產總值的描述是正確的？

- A. 本地生產總值包括進口價值。
- B. 本地生產總值是全部本地常住生產單位的總收入。
- C. 若國外淨收益是負數，本地生產總值大過本地居民生產總值。
- D. 本地生產總值是在市場上成交的全部貨物及服務的價值。

18. PP.MC.Q21

若某經濟的對外要素收益流動淨值（即海外收入淨值）為負數，這意味著該經濟的

- A. 資本流入較資本流出為大。
- B. 總投資較淨投資為小。
- C. 國民生產總值較本地生產總值為小。
- D. 進口值較出口值為大。

19. 2019 Q25

要計算香港的本地居民總收入，我們須在香港的本地生產總值加上

- A. 一位日本廚師在本港某餐廳工作兩個月所賺到的收入。
- B. 一位本港居民將他在日本的房產出租予一位日本人所收到的租金。
- C. 一位本港居民在一家澳洲公司的本港分行任職秘書所賺到的薪金。
- D. 一位本港居民出售其在澳洲的物業所收取的款項。

08MC5 答案

1	D	11	B
2	B	12	C
3	C	13	A
4	A	14	B
5	D	15	D
6	D	16	B
7	A	17	C
8	A	18	C
9	C	19	B
10	A	20	

產量增加 = 實質影響

1. 1998.MC.Q23

設某封閉式經濟體系只生產食物和衣服，第 1、2 年生產量如下：

年份	食物數量(單位)	食物單位價格(\$)	衣服數量(單位)	衣服單位價格(\$)
1997	20	4	40	12
1998	15	10	35	30

從第 1 年到第 2 年，該國的實質國民生產總值

- A. 下降，因為物價水平上升。
- B. 下降，因為兩種物品的產出下降。
- C. 提升，因為名義國民生產總值上升。
- D. 提升，因為科技有進步。

$$\% \Delta (PQ) \approx \% \Delta P + \% \Delta Q$$

2. 1991.MC.Q59

	1990 年本地生產總值的增長率
以當年市價計算	15.2%
以 1980 年固定市價計算	11.9%

以上資料沒有顯示這經濟體系的\_\_\_\_\_在 1990 年上升或增加。

- A. 一般物價水平
- B. 名義本地生產總值
- C. 實質本地生產總值
- D. 勞工生產力

3. 1995.MC.Q34

若一國的實質國民生產總值及物價水平皆上升 5%，這意味著

- A. 生活質素維持不變。
- B. 名義國民生產總值上升 5%。
- C. 名義國民生產總值較實質國民生產總值有更高的百分比增長。
- D. 名義國民生產總值維持不變。

4. 1997.MC.Q23

下列是 X 的資料：

年份	1992	1997
本地生產總值	5 000 億元	7 000 億元
物價指數 (1990 年 = 100)	120	135

從 1992 年到 1997 年的實質本地生產總值增長率是

- A. 24.4%
- B. 28.6%
- C. 40.0%
- D. 57.5%

5. 1998.MC.Q29

設某國某年貨物及勞務的生產量增加 2%，而一般物價水平則上升 3%。可得結論如下：

- (1) 該國實質國民生產總值上升 2%。
  - (2) 該國名義國民生產總值上升 2%。
  - (3) 該國名義國民生產總值上升 3%。
  - (4) 該國名義國民生產總值上升較實質國民生產總值多增加 1%。
- A. 只有(1)  
 B. 只有(2)  
 C. 只有(1)、(2)  
 D. 只有(1)、(3)、(4)

6. 2000.MC.Q36

年份	以當時市價計算的國民生產總值 (以 10 億元為單位)	國民生產總值平減指數
1997	2,100	105
1998	2,800	125

根據上述資料，從 1997 年到 1998 年間實質國民生產總值的增長率是

- A. 12%
- B. 16.3%
- C. 33.3%
- D. 無足夠資料作答。

7. 2004.MC.Q34

綜合消費物價指數	-3.0%
本地生產總值平減物價指數	-2.7%
名義本地生產總值	-0.6%

根據上列某經濟的資料，

- A. 實質本地生產總值增加了。
- B. 失業率上升了。
- C. 通脹率上升了。
- D. 一般生活水準下降了。

8. 2005.MC.Q29

參閱下列某國的資料：

年份	名義本地生產總值 (以百萬元計)	物價指數
2003	75 000	90
2004	100 000	100

與 2003 年比較，該國在 2004 年的\_\_\_\_\_較高。

- A. 一般生活水準
- B. 實質本地生產總值
- C. 消費支出
- D. 平均收入

9. 2008.MC.Q32

本地生產總值從第 1 年到第 2 年有如下變動：

	變動
以當時市價計算的本地生產總值	+5.1%
以固定市價計算的本地生產總值	+8.1%

根據以上資料，我們可得結論如下：在該期間的實質產出\_\_\_\_\_而一般物價水平\_\_\_\_\_。

- A. 增加了 ..... 下降了
- B. 增加了 ..... 增加了
- C. 下降了 ..... 增加了
- D. 下降了 ..... 下降了

10. 2009.MC.Q29

參閱下表關於某經濟的統計資料 (以百萬元為單位)。

年份	以當時市價計算的本地生產總值	以 2000 年固定市價計算的本地生產總值
2007	142 900	134 200
2008	144 800	132 300

與 2007 年相比，2008 年的一般物價水平\_\_\_\_\_了，而貨品及服務的實質產出\_\_\_\_\_了。

- A. 增加 ..... 減少
- B. 增加 ..... 增加
- C. 減少 ..... 減少
- D. 減少 ..... 增加

11. 2011.MC.Q32

參閱以下關於某經濟的統計數字 (以百萬元為單位)。

年份	以當時市價計算的本地生產總值	以 2008 年固定市價計算的本地生產總值
2009	163 000	150 000
2010	170 000	165 000

與 2009 年相比，2010 年的一般物價水平\_\_\_\_\_而貨物及勞務的實質產出\_\_\_\_\_。

- A. 下降了 ..... 增加了
- B. 下降了 ..... 減少了
- C. 上升了 ..... 增加了
- D. 上升了 ..... 減少了

$\% \Delta(PQ) \approx \% \Delta P + \% \Delta Q$  + 人均分析 或 進階分析

12. 1999.MC.Q25

假設名義國民生產總值與物價水平分別上升 10% 和 5%，但人口下降 10%。那麼，人均名義國民生產總值會\_\_\_\_\_而人均實質國民生產總值會\_\_\_\_\_。

- A. 增加 ..... 增加
- B. 下降 ..... 下降
- C. 增加 ..... 維持不變
- D. 維持不變 ..... 增加

13. 2007.MC.Q32

年份	名義本地生產總值(以十億元計)	人口 (百萬人)	消費物價指數
1	3 000	2	100
2	3 500	2.5	110

根據上表資料，由第 1 年至第 2 年，該經濟的實質本地生產總值\_\_\_\_\_而人均名義本地生產總值\_\_\_\_\_。

- A. 增加了 ... 減少了
- B. 增加了 ... 增加了
- C. 減少了 ... 減少了
- D. 減少了 ... 增加了

14. SP.MC.Q22

考慮以下某經濟的資料：

	增長率 (相對於去年)(%)	
	第一年	第二年
名義本地生產總值	-3	0
實質本地生產總值	2	1
人口	2	-1

下列哪項有關該經濟的描述是正確的？

- A. 實質產出於第二年減少。
- B. 人均名義本地生產總值於第二年減少。
- C. 以上兩年的名義本地生產總值是相同的。
- D. 一般物價水平於第一年下降，但於第二年上升。

15. 2012.MC.Q23

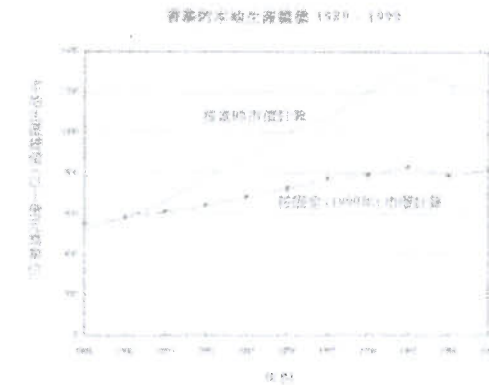
甲國的一般物價水平上升了 10%，而總產出和人口則分別下降了 2%及 10%，由此可知，甲國的名義本地生產總值會\_\_\_\_\_，而人均實質本地生產總值會\_\_\_\_\_。

- A. 上升 ... 上升
- B. 上升 ... 下降
- C. 維持不變 ... 上升
- D. 維持不變 ... 下降

圖的分析

16. 2002.MC.Q30

參閱下圖。



資料來源：政府統計處

從 1991 年至 1998 年，按當時市價計算的本地生產總值都是大於固定(1990 年)市價計算的本地生產總值，因為

- A. 在此時期內，通脹率是上升的。
- B. 在此時期內，實質產出水平是上升的。
- C. 當時物價水平總是高於 1990 年的物價水平。
- D. 通脹率高於實質產出增長率。

概念

17. 2003.MC.Q29

若名義及實質本地生產總值皆上升，則一般物價水平

- A. 正在上升。
- B. 正在下降。
- C. 維持不變。
- D. 可能上升、下降或維持不變。

未有仔細分類

18. 2014.MC.Q25

年份	名義本地生產總值 按年變動百分率	名義政府開支 按年變動百分率
2011	9.0	12.0
2012	5.5	6.0

根據上述資料，下列哪些陳述是正確的？

- (1) 2012 年該經濟公務部門的規模增大了。
- (2) 2012 年名義本地生產總值和名義政府開支均下跌。
- (3) 2012 年實質本地生產總值和實質政府開支均可能下跌。

- A. 只有 (1)、(2)
- B. 只有 (1)、(3)
- C. 只有 (2)、(3)
- D. (1)、(2) 及 (3)

19. 2015.MC.Q25

參閱以下有關某經濟的表。

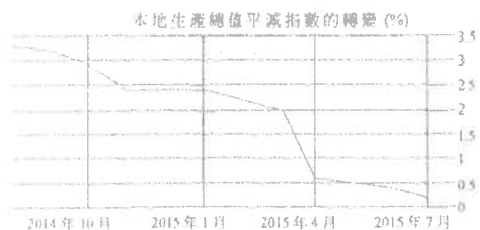
	增長率 (相對於去年) (%)	
	第 1 年	第 2 年
名義本地生產總值	4	0
一般物價水平	3	1
人口	-1	2

下列哪項有關該經濟的陳述是正確的？

- A. 第 2 年的人均名義本地生產總值和第 1 年的相同。
- B. 實質產出在第 2 年上升了。
- C. 一般物價水平在第 2 年下降了。
- D. 人均實質本地生產總值在第 2 年下降了。

20. 2016 Q.21

細閱上圖。



從圖中可見在 2014 年 10 月至 2015 年 7 月之間，

- A. 名義本地生產總值正在下跌。
- B. 貨幣的購買力正在上升。
- C. 實質本地生產總值的增長率高於名義本地生產總值的增長率。
- D. 名義利率高於已實現的實質利率。

21. 2019 Q.23

下表顯示某經濟於某年度的本地生產總值資料：

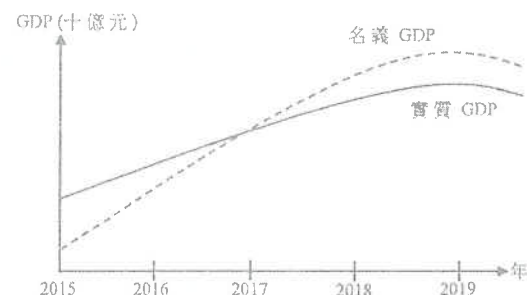
實質本地生產總值的轉變	-2.6%
名義本地生產總值的轉變	-1.3%
人口的轉變	-1.8%

根據以上資料，我們可以得出結論如下：在該年度，物價水平 \_\_\_\_\_，而人均名義本地生產總值 \_\_\_\_\_。

- A. 上升了……增加了
- B. 下降了……減少了
- C. 上升了……減少了
- D. 下降了……增加了

22. 2020 Q.26

下圖顯示甲國的本地生產總值 (GDP)。



下列哪項有關甲國的陳述是正確的？

- A. 2016 至 2018 年間，價格水平上升。
- B. 2017 年之前出現通貨收縮。
- C. 2017 年實際通脹率相等於預期通脹率。
- D. 自 2016 年起，名義 GDP 一直上升。

23. 2021 Q.24

金關某經濟的本地生產總值 (GDP) 數據。

	增長率 (相對於去年)
名義 GDP	0
實質 GDP	-1.2%
人均名義 GDP	-3.5%

與去年相比，本年度該經濟的一般物價水平 \_\_\_\_\_，人口 \_\_\_\_\_。

- A. 上升……上升
- B. 上升……下降
- C. 下降……上升
- D. 下降……下降

08MC6 答案

1.	B	11.	A
2.	D	12.	A
3.	C	13.	A
4.	A	14.	C
5.	A	15.	A
6.	A	16.	C
7.	A	17.	D
8.	B	18.	B
9.	A	19.	D
10.	A	20.	D

- 21 A
- 22 A
- 23 B

事件→如何影響 GDP

1. 1990.MC.Q37

下列哪一項會令國民所得增加？

- A. 政府增加預算盈餘。
- B. 政府提高利率。
- C. 政府減低利得稅率。
- D. 出口需求下降

2. 1993.MC.Q51

出口增加與人口減少導致國民所得

- A. 增加。
- B. 減少。
- C. 維持不變。
- D. 增加或減少

3. 1997.MC.Q22

預期 1997 年訪港遊客的數目將創歷史高峰。這會增加香港的

- A. 本地生產總值。
- B. 有形貿易。
- C. 對外要素收入流動淨值。
- D. 甲類消費物價指數。

4. 1997.MC.Q29

下列哪一項在 1996 年發生的事情會導致 1996 年的本地生產總值上升？

- A. 政府發行更多外匯基金票據。
- B. 政府提高薪俸稅免稅額。
- C. 往年落成並已售出的樓房，市值節節上升。
- D. 某國際集團發行新股，從認購者當中集資 10 億元。

5. 2005.MC.Q30

下列哪一項會令香港的本地生產總值上升？

- A. 政府提高利得稅稅率。
- B. 香港玩具的出口總值下降。
- C. 政府發展西九龍文娛藝術區。
- D. 有更多港人往外地旅遊。

潛在本地生產總值

6. 2006.MC.Q32

下列哪項最有可能導致一個經濟體系的潛在本地生產總值(即最大生產能力)增加?

- A. 社會福利援助增加。
- B. 銀行系統的儲備比率上升。
- C. 政府在高等教育方面的開支增加。
- D. 該經濟的出口需求增加。

7. 2008.MC.Q28

若政府興建由門至赤鱸角連接路，將深圳與香港國際機場連接起來，香港的\_\_\_\_\_會增加。

- (1) 就業人數
- (2) 實質本地生產總值
- (3) 潛在本地生產總值
- A. 只有(1)、(2)
- B. 只有(1)、(3)
- C. 只有(2)、(3)
- D. (1)、(2)、(3)

影響 GDP 的哪一項 (C, I, G, NX)

8. 2004.MC.Q29

引入中國內地遊客以「個人游」方式訪港會增加香港的本地生產總值。這些旅客在香港購買珠寶的花費是香港的一項\_\_\_\_\_

- A. 消費支出。
- B. 投資支出。
- C. 出口。
- D. 進口。

需求面及供應面因素分析

9. 2004.MC.Q31

下列哪一項同是影響國民收入的需求因素和供應因素?

- A. 政府斥資的生產力促進計劃
- B. 政府對旅遊業的推廣
- C. 「買本地貨」運動
- D. 私人機構贊助的煙花匯演

答案

1.	C
2.	A
3.	A
4.	B
5.	C
6.	C
7.	D
8.	C
9.	A
10.	

1. 1993.MC.Q41

一國家的名義國民生產總值可能誇大了該國人民的生活水準。這是因為該數字

- (1) 未能反映該國生產的物品及勞務在品質方面的改進。
- (2) 未能反映物價上升的影響。
- (3) 不包括由生產帶來的不良影響。
- (4) 不包括沒有在市場交易的物品。

- A. 只有(1)、(2)
- B. 只有(1)、(4)
- C. 只有(2)、(3)
- D. 只有(3)、(4)

2. 1999.MC.Q30

在下列哪一種情況中，人均實質國民生產總值所反映出來的生活水準較實際生活水準為低？

- A. 建築業帶來噪音。
- B. 人口移民導致人口增加。
- C. 林太沒有聘用家庭傭工，她自己做家務。
- D. 通貨膨脹的出現。

3. 2002.MC.Q27

X 國的本地生產總值較 Y 國高，但 X 國的一般生活水準則較低。下列哪一項是可能的原因？

- A. Y 國的海外淨收入較低。
- B. Y 國人民的工作時間較長。
- C. 資本物品佔 Y 國產出較高比例。
- D. Y 國人口較少。

4. 2006.MC.Q50

若兩國的\_\_\_\_\_並不相同，則以固定市價計算的本地生產總值不會是比較兩國生活水準的良好指標。

- (1) 人口
- (2) 收入分配
- (3) 通脹率
- A. 只有(1)、(2)
- B. 只有(1)、(3)
- C. 只有(2)、(3)
- D. (1)、(2)、(3)

5. 2010.MC.Q29

因為一國的人均實質本地生產總值\_\_\_\_\_，所以該國的國民生活水準會被高估了。

- (1) 沒有反映該國所生產物品及勞務在質素方面的改善
- (2) 沒有反映不平均的收入分配
- (3) 沒有反映生產的不良後果
- (4) 沒有計算不在市場交易的物品及勞務

- A. 只有(1)、(2)
- B. 只有(1)、(4)
- C. 只有(2)、(3)
- D. 只有(3)、(4)

08MC8 答案

1.	C
2.	C
3.	D
4.	A
5.	C
6.	
7.	
8.	
9.	
10.	



1. 2004.MC.Q28

下列哪一項必然是正值？

- A. 對外要素收益流動淨值
- B. 出口淨值
- C. 折舊
- D. 廠商利潤總額

2. 2011.MC.Q31

下列哪項目有可能是負數？

- (1) 對外要素收益流動淨值
- (2) 淨出口
- (3) 本地固定資本形成淨值
- A. 只有(1)、(2)
- B. 只有(1)、(3)
- C. 只有(2)、(3)
- D. (1)、(2)、(3)

3 2019 Q39

下列哪項的答案有可能是負數？

- A. 投資總值或投資淨值
- B. 總出口減進口
- C. 貨幣供應定義三級貨幣供應定義二
- D. 就業人口或失業人口

答案

1.	C
2.	D
3.	D
4.	
5.	
6.	
7.	
8.	
9.	
10.	

**計算失業率**

1. 2011.Q5(b)

(b) 參閱以下在 2010 年 6 月至 2010 年 8 月期間的香港就業資料：

	人數
就業人口	3 512 600
就業不足人口	70 500
失業人口	1 675 000

計算在上述期間的失業率。(2 分)

**失業引致的經濟損失**

2. 1994.Q.10(a)(i)

失業對一國的經濟帶來甚麼損失？列舉其中兩項。(4 分)

3. 2004.Q.7

寫出失業對社會造成的兩項損失。(4 分)

4. 2011.Q5(a)

(a) 寫出失業對社會造成的兩項損失。(2 分)

5. 2012.Q6(a)

經濟衰退其中一個現象是失業增加。

(a) 寫出失業對社會造成的兩項損失。(2 分)

**失業率變動 vs. 失業人口/就業人口變動**

6. 1995.Q.6

每年夏天，很多畢業生開始尋找工作，九月的失業率會因此受影響。解釋為甚麼該失業率可能上升，亦可能下跌。(5 分)

7. 2000.Q.7

某政府宣佈失業率下降而失業人數則上升，解釋為何雖然失業率下降但是失業人數上升。(4 分)

8. 2006.Q.9(c)

去年夏天，不少零售店生意興旺，促使香港的就業人口增加；但在同一時期失業率卻維持不變。解釋為什麼即使就業人口增加了，失業率仍可以維持不變。(4 分)

**事件→判斷對失業的影響**

9. 1999.Q.10(a)

香港有嚴重的失業問題。

(a) (i) 假設工資率不變。解釋為何降低利得稅率可能會減少失業。(3 分)

10. 2003.Q.6

假設有一班公務員在政府的自願退休計劃下退休，解釋此舉會否增加香港的失業率。(4 分)

11. 2007.Q.8(b)(i)

香港的大學不僅取錄本地學生，由去年開始，它們取錄大量內地尖子學生。假設所有學生的學費相同。

(b) 假設這些從內地來的尖子學生畢業後留在香港工作，而且香港的職位數量不變。

(i) 解釋這會如何影響香港的失業率。(4 分)

12. Practice Paper.Q6

以下是一則有關甲經濟的新聞報道。

開展新的高速鐵路系統建築計劃需要很多高技術建築工人。一位政府官員宣佈實施一項輸入勞工計劃以滿足對高技術工人的需要。

假設輸入的勞工不會取代任何本地工人。解釋該計劃會如何影響失業率。(4 分)

**供應和需求分析**

13. 1997.Q.2

香港的製造業工人有失業問題。在某些情況下，製造業失業人數會下降。以一供需圖輔助，解釋其中一種情況。(6 分)

**未有仔細分類**

14. 2015.Q5

澳門近年發展迅速，吸引了一些香港的工人到當地工作。假設香港的職位數量不變，上述的現象會對香港的失業率有甚麼影響？試加以解釋。(4 分)

15. 2016.Q6(a)(b)

以下是某國的就業數據。

就業人口	3 800 000
就業不足人口	800 000
失業人口	200 000

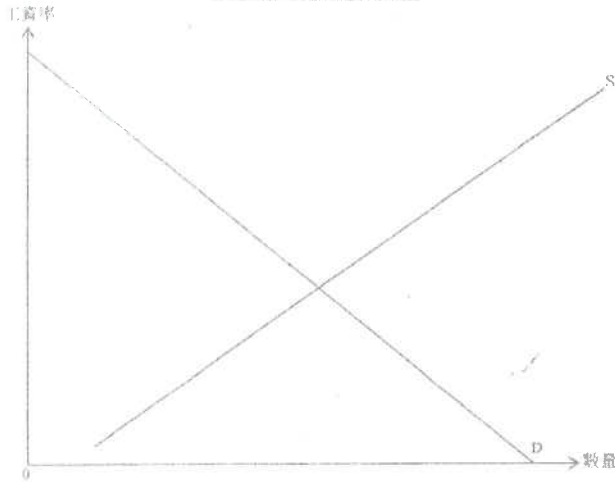
(a) 計算該國的失業率。(2 分)

(b) 舉出三項失業對社會造成的損失。(3 分)

香港的外籍家庭傭工在兩年合約期間獲支付每月港幣 \$4410 的最低工資。

- (a) 解釋為什麼外籍家庭傭工是按月計薪，而非以件計薪。 (2分)
- (b) 若在合約期間出現非预期的通脹，哪一方（僱主還是外籍家庭傭工）會有損失？試加解釋。 (2分)
- (c) 假設香港外籍家庭傭工市場的最低工資是有效的。以圖二輔助，解釋這如何可能引致經濟缺乏效率。 (4分)

圖二：香港的外籍家庭傭工



有報導指內地逐漸向來自菲律賓的女傭開放市場，所給予的薪金為香港外籍家庭傭工最低工資的數倍。

- (d) 香港部分僱主聲稱：「內地向菲律賓女傭開放市場後，即便我們給予外籍家庭傭工較高的工資，香港仍會出現外籍家庭傭工不足的情況。」以圖二輔助，解釋為什麼上述聲稱可能是正確的。 (6分)
- (e) 除外籍家庭傭工不足之外，提出香港外籍家庭傭工市場在內地向菲律賓女傭開放市場後可能出現的一個現象。 (1分)

### 計算失業率

1. 2011.Q5(b)

$$\text{失業率} = \frac{\text{失業人口}}{\text{勞動人口}} \times 100\% = \frac{167\,500}{3\,512\,600 + 167\,500} \times 100\% = 4.55\%$$

### 失業引致的經濟損失

2. 1994.Q.10(a)(i)

首先，失業令本地生產總值下降或總產量的減少。另外，失業令社會問題增多，例如較嚴重的罪案。

3. 2004.Q.7

### 兩項可能損失包括：

- 生產資源閒置 / 產出下降
- 政治不穩定 / 社會不安
- 工人技術流失

4. 2011.Q5(a)

- 有生產資源被閒置 / 產出水平會下降
  - 政治不穩 / 社會動盪
  - 失去技能
  - 任何其他相關點
- [只批閱首兩項。]

5. 2012.Q6(a)

- 產出的損失
- 人力資本的損失
- 政治動盪

[只批閱首兩項]

### 失業率變動 vs. 失業人口/就業人口變動

6. 1995.Q.6

新加入尋找工作者使勞動人口數目增加

$$\text{失業率}(R) = \frac{\text{失業人口}(U)}{\text{勞動人口}(L)} \times 100\%$$

- ✓ 新加入尋找工作者若有很大的比例找到工作，失業率會下降；
- ✓ 反之亦然
- ◇ 勞動人口與失業人口的相對改變決定失業率的增或減。
  - - U 改變的百分比 > L 改變的百分比 => R ↑
  - - U 改變的百分比 > L 改變的百分比 => R ↓

1@, 最高: 2

1@: 最高: 2

1  
1  
2 4 最  
2 4 高;  
4 5  
2 4  
2

7. 2000.Q.7

失業人數較勞動人口增加得慢。

[註：只能顯示以下概念：失業率 = (失業人數 / 勞動人口) × 100% 而欠缺其他解說：最高 1 分]

4

8. 2006.Q.9(c)

- 失業率 =  $\frac{\text{失業人口}}{\text{勞動人口}} \times 100\%$

- 失業人口增加，
- 而且勞動人口與失業人口兩者增加的百分比相同。

1  
1  
2

事件→判斷對失業的影響

9. 1999.Q.10(a)

- ✓ 除稅後利潤會增加
  - ✓ 投資(誘因)增加
  - ✓ 對勞工的(引申)需求有可能增加
- (⇒ 其他因素不變，失業會減少)

1  
1  
1

10. 2003.Q.6

退休人口上升不會改變失業人口，但會導致勞動人口/就業人口下降。由於

$$\text{失業率} = \frac{\text{失業人口}}{\text{勞動人口}} \text{ 或 } \frac{\text{失業人口}}{\text{就業人口} + \text{失業人口}}$$

失業率會上升。

11. 2007.Q.8(b)(i)

- 總勞動人口增加
- 失業人口增加

1  
1

(在總就業人口不變的情況下，)

- 總勞動人口的增加 = 失業人口的增加
- 或 失業人口增加百分比 > 總勞動人口增加百分比
- 結果，失業率上升。

1  
1

12. Practice Paper.Q6

失業率 =  $\frac{\text{失業人口}}{\text{勞動人口}} \times 100\%$

勞動人口上升

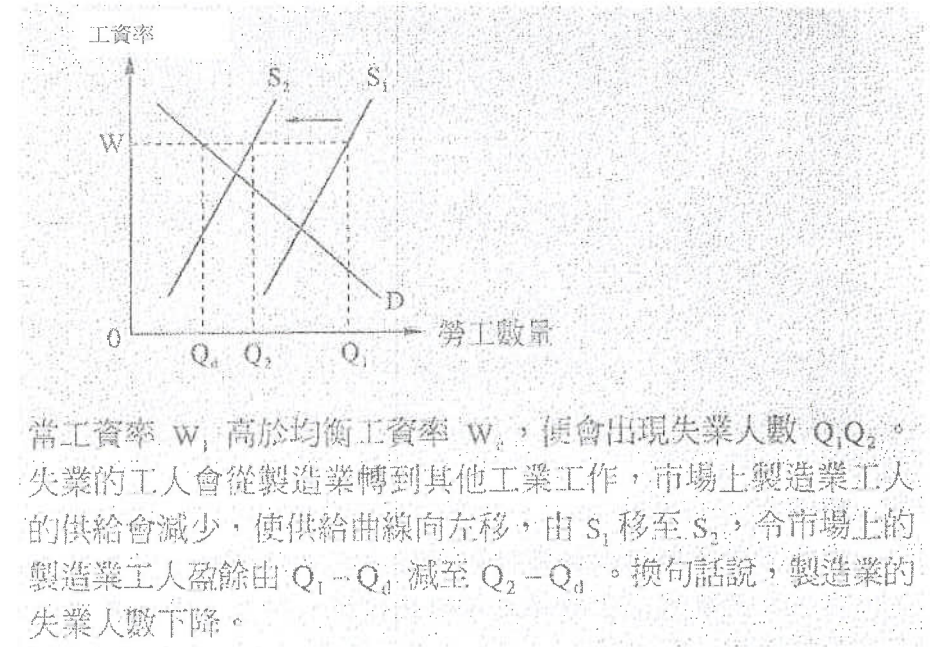
而失業人口維持不變

因此失業率會下降。

(1)  
(1)  
(1)  
(1)

供應和需求分析

13. 1997.Q.2



當工資率  $w_1$  高於均衡工資率  $w$ ，便會出現失業人數  $Q_1, Q_2$ 。失業的工人會從製造業轉到其他工業工作，市場上製造業工人的供給會減少，使供給曲線向左移，由  $s_1$  移至  $s_2$ ，令市場上的製造業工人盈餘由  $Q_1 - Q_1$  減至  $Q_2 - Q_2$ 。換句話說，製造業的失業人數下降。

未有仔細分類

14. 2015.Q5

失業率 =  $(\text{失業人數} / \text{總勞動人口}) \times 100\%$

(4)

由於總勞動人口和失業人數下跌的人數相同，

失業人數下跌的百分率大於總勞動人口下跌的百分率，意味著失業率下跌。

15. 2016 Q.6

(a) 失業率 =  $200\,000 / (3\,800\,000 + 200\,000) \times 100\% = 5\%$

(b) 失業所造成的損失：

- 產出下降
  - 人力資本下降
  - 政治和社會不穩
  - 任何其他相關點
- [只批閱首三項]

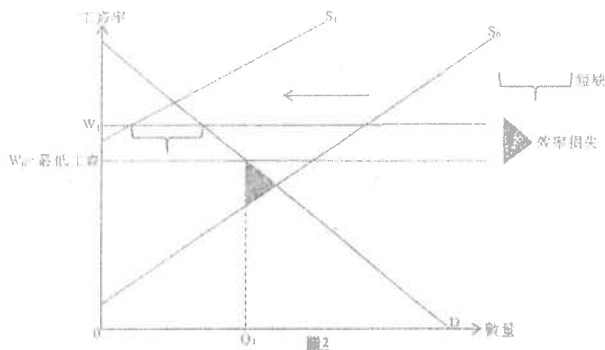
(b) 非預期通脹令外傭家庭傭工有所損失，因為固定工資的購買力會下降。

(c) 文字解說：  
在  $O_1$ ，實際利益高於選擇成本。

在圖2顯示：

- 最低工資的正確位置
- $O_1$  的正確位置
- 效率損失的正確位置

香港的外籍家庭傭工



(d) 在內地工作的新傭和在港的新傭屬競爭性供應。若來自內地的競爭令本港外籍家庭傭工的供應大幅減少，即使在工資率提高的情況仍會出現短缺。

在圖2顯示：

- 供應曲線向左移
- 在工資率較高的情況下短缺的正確位置

(e) 可能的現象：

- 僱主可能嘗試從其他國家招請家庭傭工到港工作。
- 政府可能提高/取消最低工資。

(3)

(1)  
(2)

} @1  
最高：1

計算(1) - 只計算失業率

1. 1997.MC.Q26

細閱下列某年關於香港的資料：

	人數
就業人數	2,931,000
就業不足人數	33,000
失業人數	69,000

失業率是

- A. 2.27%
- B. 2.30%
- C. 3.36%
- D. 3.40%

2. 2003.MC.Q30

參閱以下香港在 2002 年 7 月至 2002 年 9 月的資料：

	人數
就業人口	3 243 000
就業不足人口	101 000
失業人口	267 000

該期間內的失業率是

- A. 7.4%。
- B. 7.6%。
- C. 8.2%。
- D. 10.2%。

3. 2008.MC.Q30

參閱下列某經濟的數據。

	人數
失業人口	20 000
就業不足人口	60 000
就業人口	480 000
15 歲或以上人口	1 000 000

該經濟的失業率是\_\_\_\_\_。

- A. 2.0%
- B. 3.7%
- C. 4.0%
- D. 4.17%

計算(2) - 計算多於一項數字或未知數

4. 2002.MC.Q29

	人數
15 歲或以上人口	10 000 000
就業人口	6 800 000
失業人口	1 200 000
就業不足人口	800 000

根據上表，下列哪項描述是正確的？

- (1) 勞動人口總數是 8 000 000。  
 (2) 就業不足率是 10%。  
 (3) 失業率是 12%。
- A. 只有(3)  
 B. 只有(1)、(2)  
 C. 只有(1)、(3)  
 D. 只有(2)、(3)

5. 2005.MC.Q32

	人數
15 歲或以上人口	10 000 000
就業人口	6 800 000
失業人口	1 200 000
就業不足人口	1 600 000

根據以上資料，

- A. 勞動人口總數是 9 600 000。  
 B. 就業不足率是 20%。  
 C. 失業率是 12.5%。  
 D. 失業率是 16%。

6. 2006.MC.Q30

假設某經濟的失業人口是 500 000 而失業率是 5%。就業人口是

- A. 500 000  
 B. 1 000 000  
 C. 9 500 000  
 D. 10 000 000

7. 2009.MC.Q32

勞動人口(人數)	600 000
失業率	10%
就業不足率	5%

根據上表關於某經濟的資料，

- A. 年屆 15 歲或以上的人口是 600 000 人。  
 B. 就業率是 85%。  
 C. 就業人口是 540 000 人。  
 D. 失業人口佔總人口的 10%。

8. SPMC.Q23

假設某經濟的失業人口是 300 000，而失業率是 6%。該經濟的就業人口是\_\_\_\_\_。

- A. 1 800 000  
 B. 2 100 000  
 C. 4 700 000  
 D. 5 000 000

人口分類：失業 / 就業 / 非勞動人口

9. 1994.MC.Q37

在香港，下列何者被歸類為「失業者」？

- A. 積克，30 歲，在贏取六合彩後便退了休。  
 B. 彼得，14 歲，中三畢業後仍未找到工作。  
 C. 約翰辭去工作，現正在歐洲旅行。  
 D. 瑪麗於五周前失去工作，過去一個月內她不斷尋找新的工作。

10. 1996.MC.Q33

小明辭去他的工作已有兩個月，因為他病了，一直臥床休息。香港政府現時將他視為下列哪一類？

- A. 失業  
 B. 就業不足  
 C. 就業  
 D. 不在勞動力行列之內

11. 1998.MC.Q24

下列何者計算在香港的勞動人口中？

- (1) 在香港某律師樓工作的外籍僱員  
 (2) 失業的陳先生正在尋找工作  
 (3) 王先生退休後在社區中心當義工
- A. 只有(1)、(2)  
 B. 只有(1)、(3)  
 C. 只有(2)、(3)  
 D. (1)、(2)、(3)

## 事件 → 對失業率的影響 (升 / 跌 / 不變?)

12. 1998.MC.Q28

若部分移民外國的香港市民回流，並將懸空一段長時間而未能聘得入選的職位填補了，則香港的勞動人口會\_\_\_\_\_而失業比率會\_\_\_\_\_。

- A. 增加...下跌
- B. 減少...下跌
- C. 增加...上升
- D. 減少...上升

13. 1999.MC.Q32

留港數年興建新機場的外來勞工很多已返回他們的家鄉。這批人離開香港會對香港的失業率有什麼影響？

- A. 失業率會上升。
- B. 失業率會下降。
- C. 失業率會維持不變。
- D. 未能確定有什麼影響。

14. 2004.MC.Q33

	人數
就業人口	18 400
失業人口	1 600

現有 1 000 名新增加的尋找工作的人。若其中90%的人成功尋獲工作，該經濟的失業率

- A. 會增加。
- B. 會減少。
- C. 不會變。
- D. 可能增加，亦可能減少。

15. 2010.MC.Q32

以下顯示某國的就業數據。

	人數
就業人口	18 000
失業人口	2 000

假設有學校畢業生投入勞工市場尋找職位，其中只有 85%成功。這樣，該國的失業率\_\_\_\_\_。

- A. 會上升
- B. 會下降
- C. 會維持不變
- D. 可能會上升，亦可能會下降

16. 2012.MC.Q24

許多香港建築工人留在澳門工作數年。若他們受香港新的基建工程所提供的就業機會所吸引，回港尋找工作，這對香港的失業率會有甚麼影響？

- A. 失業率會上升。
- B. 失業率會下降。
- C. 失業率會維持不變。
- D. 對失業率的影響未能確定。

## 事件 → 對失業率的影響 + 其他影響

17. 1997.MC.Q55

中七畢業生升讀大學的人數增加會導致

- (1) 現時勞力供應下降。
  - (2) 現時失業率下降。
  - (3) 將來的平均勞動生產力上升。
- A. 只有(1)、(2)
  - B. 只有(1)、(3)
  - C. 只有(2)、(3)
  - D. (1)、(2)、(3)

## 失業的損失 / 代價

18. 1995.MC.Q37

下列各項中，哪些是因失業而可能導致的社會的損失？

- (1) 產出的損失
  - (2) 犯罪率較高
  - (3) 公共援助支出較大
  - (4) 稅收下降
- A. 只有(1)及(2)
  - B. 只有(1)及(3)
  - C. 只有(2)及(4)
  - D. 只有(3)及(4)

19. 2002.MC.Q31

下列那幾項有可能是失業對社會造成的損失？

- (1) 由於犯罪率上升，政府為保障公眾部門安全而增加支出
  - (2) 政府提供更多失業援助
  - (3) 產出水平下降
  - (4) 生活費用下降
- A. 只有(1)、(3)
  - B. 只有(2)、(4)
  - C. 只有(1)、(2)及(3)
  - D. 只有(2)、(3)及(4)

20. 2007.MC.Q30

社會要為失業代價，因為

- A. 就業人士要繳交更多稅款。
- B. 潛在本地生產總值會下降。
- C. 經濟的實質產出會下降。
- D. 失業救濟金是社會的一種負擔。

**影響就業/失業人數的政策 / 事件**

21. 2000.MC.Q38

下列哪一項最有可能在經濟下滑時使就業人數上升？

- A. 將私人廠商重組，提高生產效率。
- B. 生產程序更為電腦化及自動化。
- C. 政府注入大量資金以幫助小型企業。
- D. 實質利率上升。

22. 2001.MC.Q30

下列哪一項轉變會使一國家的失業人數下降？

- A. 引入最低工資法。
- B. 提高利得稅率。
- C. 很多本地廠商嘗試使用更多可節省人手的機器。
- D. 外國對其出口貨品的需求增加。

23. 2005.MC.Q6

根據新聞報道，於2004年終，中國內地的農村有數以百萬計的人失業。另一方面，珠江三角洲的廠商則有勞工短缺問題。

下列哪項會減少農村的失業人口？

- (1) 在珠江三角洲，工人的社會福利保障有所改善。
  - (2) 珠江三角洲的工資下降。
  - (3) 珠江三角洲的廠商搬往農村生產。
- A. 只有(1)、(2)
  - B. 只有(1)、(3)
  - C. 只有(2)、(3)
  - D. (1)、(2)、(3)

**行業規模**

24. 1995.MC.Q15

	佔總就業人數的百分率	
	1982年	1992年
製造業	45%	19%
服務業	50%	78%
其他	5%	3%
總計	100%	100%

從上表，可得以下結論：

- A. 與 1982 年比較，製造業就業人數在 1992 年大幅下降。
- B. 與 1982 年比較，服務業就業人數在 1992 年大幅攀升。
- C. 在 1992 年，服務業在各行業中聘用最多勞動人口。
- D. 在 1992 年，服務業比製造業佔本地生產總值較大的比例。

**其他 / 跨課題**

25. 1993.MC.Q49

在一個有失業的經濟中，施行赤字預算會導致

- A. 失業率下降。
- B. 國民所得下降。
- C. 家庭消費下降。
- D. 政府負債減少。

26. 2016 Q.25

下列哪項會減低某國的失業率？

- A. 一些大學畢業生加入勞動人口。
- B. 一些工廠搬遷到勞工成本較低的鄰近國家。
- C. 一些失業工人放棄了尋找工作。
- D. 政府增加失業撥助金。

27 2019 Q24

下表是某經濟的資料：

15歲或以上的人口	6 500 000
勞動人口參與率*	60%
就業人口	3 780 000
就業不足的人口	100 000

\*勞動人口參與率 = 15歲或以上的人口中的勞動人口所佔比例

根據以上資料，該經濟的失業率是 \_\_\_\_\_。

- A. 1.85%
- B. 3.08%
- C. 3.38%
- D. 5.64%



下表顯示 2019 年 4 至 6 月本港的就業數據。

	人數 ('000)
人口	7 524
15 歲或以上人士	6 590
就業人口	3 871
失業人口	114
就業不足人口	41

根據以上數據，就業不足率是\_\_\_\_\_。

- A. 0.55%
- B. 0.62%
- C. 1.02%
- D. 1.06%

29. 2021 Q25

假設某經濟的失業率是 8%。下列哪些會令失業率上升？

- (1) 15% 的新畢業生未能成功找到工作。
- (2) 一些僱主結束其本地業務並移居外國。
- (3) 一些兼職的工人因為生產自動化而失去工作。

- A. 只有 (1)、(2)
- B. 只有 (1)、(3)
- C. 只有 (2)、(3)
- D. (1)、(2) 及 (3)

答案

1.	B	11.	A	21.	C
2.	B	12.	A	22.	D
3.	C	13.	A	23.	B
4.	B	14.	A	24.	C
5.	B	15.	A	25.	A
6.	C	16.	D	26.	C
7.	C	17.	B	27.	B
8.	C	18.	A	28.	C
9.	D	19.	A	29.	D
10.	D	20.	C	30.	

## 計算(1) – 本地生產總值平減物價指數

1. 1990.MC.Q53

參閱下表：

年份	實質本地生產總值 (百萬元)	名義本地生產總值 (百萬元)
1985	150	180
1982	120	120

1985 年的本地生產物價平減指數為

- A. 100.
- B. 120.
- C. 150.
- D. 180.

2. 1994.MC.Q34

參閱下列該經濟體系的資料後，回答 1994.MC.Q34

	1992年 價格 (\$)	1993年 價格 (\$)	1994年 產出 (單位)
麵包	10	12	50
恤衫	20	25	20

用國民生產總值平減指數計算，1992 年至 1993 年的通脹率是

- A. 18.2%
- B. 22.2%
- C. 33.3%
- D. 122.2%

計算(2) -  $\% \Delta PQ = \% \Delta P + \% \Delta Q$ 

3. 1995.MC.Q33

年份	1994	1995
本地生產總值平減指數	120	132

根據上列資料，可得以下結論：從 1994 年到 1995 年，該經濟的

- A. 名義本地生產總值上升 12%。
- B. 實質本地生產總值上升 10%。
- C. 通貨緊縮率是 12%。
- D. 一般物價水平上升 10%。

4. 1996.MC.Q32

參閱下列某國的資料：

年份	名義國民收入 (以百萬元計)	物價指數
1988	8 000	100
1989	10 000	120

將 1988 年與 1989 年比較得結論如下：

- A. 1989 年的生活費用提高 20%。
- B. 1989 年的生活水準普遍較高。
- C. 1989 年實質國民生產總值的增長率是 25%。
- D. 1989 年全部貨物及勞務的價格上升 20%。

5. 2010.MC.Q33

年份	按年變動百分率	
	以當時市價計算的本地生產總值	以2000年固定市價計算的本地生產總值
2007	9.5%	6.4%
2008	3.8%	2.4%

根據上述資料，我們可得以下結論：在2008年

- A. 一般物價水平下降了。
- B. 實質本地生產總值下降了。
- C. 本地生產總值平減指數上升了。
- D. 一般是生活水準上升了。

6. Practice Paper.MC.Q22

在一段時間內，某經濟以當時市價計算的本地生產總值增加 15%，而通脹率則由10% 減至 5%。根據以上資料，實質本地生產總值 \_\_\_\_\_，而一般物價水平 \_\_\_\_\_。

- A. 增加 ... 上升
- B. 增加 ... 下降
- C. 減少 ... 上升
- D. 減少 ... 下降

物價水平 / CPI / GDP Deflator

7. 1990.MC.Q56

當物價水平和名義收入水平都上升時，

- A. 生活水準會下降，因為貨幣價值下跌。
- B. 生活水準會上升，因為市民有較多貨幣使用。
- C. 生活水準維持不變，因為物價的上升和收入的增加互相抵銷。
- D. 對生活水準的影響未確定，因為未知兩者改變的幅度。

8. 1992.MC.Q50

年份	1990	1991
消費物價指數	100	125

根據上表資料，以下哪一項為正確？

- A. 1990 年的生活費用較低。
- B. 1990 年的生活水準較低。
- C. 1991 年的貨幣購買力較高。
- D. 1991 年的消費支出較高。

9. 1997.MC.Q31

某年，本地生產總值平減指數由 100 上升至 110，這意味

- A. 每個家庭的生活費用增加了 10%。
- B. 一般物價水平上升了 10%。
- C. 當年生產的全部貨物的價格都上升了 10%。
- D. 市民的名義收入增加了 10%。

10. 2001.MC.Q32

參閱下列某經濟的數據：

年份	第一年	第二年
本地生產總值平減指數	150	180

我們可以得到以下的結論：由第一年到第二年，

- A. 貨幣的購買力下降了。
- B. 實質國民收入減少了。
- C. 平均生活水準下降了。
- D. 收入分配變得更不公平。

11. 2003.MC.Q28

假設某經濟的本地生產總值平減指數由 100 減至 90。這意味著

- A. 它的本地生產總值下降了 10%。
- B. 一般物價水平下降了 10%。
- C. 人民的實質收入增加了 10%。
- D. 人民的生活水準下降了 10%。

12. 2006.MC.Q31

香港於2005年第三季的甲類消費物價指數上升了。這表示香港的 \_\_\_\_\_ 上升了。

- A. 全部貨品的價格
- B. 進口貨品的價格
- C. 名義國民收入
- D. 生活費用

13. 2008.MC.Q33

下表顯示香港從2004年至2006年的甲類消費物價指數。

年份	甲類消費物價指數
2004	99.3
2005	100.3
2006	102.1

根據上表，我們可得結論如下：在該時期內，

- A. 人均名義本地生產總值上升了。
- B. 生活水準變差了。
- C. 生活費用增加了。
- D. 以上全部正確。

14. 2009.MC.Q34

某經濟的消費物價指數由100上升至110，這意味著：

- A. 計算該指數中涉及的全部消費品的價格都上升了10%。
- B. 生活費用增加了。
- C. 生活水準提高了。
- D. 人們的名義收入增加了。

通脹的定義

15. 1991.MC.Q46

通脹發生時會出現以下哪一項情況？

- A. 生活費用會減少
- B. 財政赤字會減少
- C. 生活水準會有所改善
- D. 貨幣價值會下跌

16. 2007.MC.Q33

下列哪一項對通貨膨脹的描述是正確的？

- A. 一件物品的價格持續上升並非通脹。
- B. 通脹發生時，每個人的損失都相同。
- C. 通脹發生時，收入和物價都以相同的百分比增加。
- D. 通脹可能使某些人得益，尤其是那些收入是固定的人。

非預期通脹的財富再分配

17. 1991.MC.Q48

意想不到的通脹發生時會

- (1) 增加政府收益。
  - (2) 鼓勵出口。
  - (3) 改變國民收入的分配。
  - (4) 導致短期資金的流入。
- A. 只有(1)及(2)
  - B. 只有(1)及(4)
  - C. 只有(2)及(4)
  - D. 只有(3)及(4)

18. 1994.MC.Q38

當非預期通貨膨脹出現時，下列何者會有損失？

- A. 李太；她聘用了一位傭傭
- B. 陳先生；他購買了十張餅券，可以從麵包店換取糕餅
- C. 傅先生；他經營一間酒樓
- D. 王先生；他已將全部金錢存入定期存款戶口

19. 1995.MC.Q36

非預期通脹發生時，下列哪些人得益？

- (1) 長期政府債券持有者
  - (2) 存款證持有者
  - (3) 用信用卡購買了物品的人
  - (4) 發行了長期定息債券的公司的股東
- A. 只有(1)及(2)
  - B. 只有(1)及(3)
  - C. 只有(2)及(4)
  - D. 只有(3)及(4)

20. 2000.MC.Q39

甲先生以固定年息 7%向某銀行借入一筆房屋按揭貸款。之後，一般物價水平一直下降。在這件事中，甲先生有損失而該銀行有得益。這是因為

- A. 所按房屋的價值一直下降。
- B. 甲先生的薪酬收入一直下降。
- C. 若甲先生未能還款予銀行，銀行可以將該房屋賣掉。
- D. 若一般物價水平一直下降，定額利息的購買力會上升。

21. 2005.MC.Q33

下列何者會因非預期通脹出現而得益？

- A. 銀行定期存款的持有人
- B. 按通脹調整薪酬的僱員
- C. 領取定額失業援助的人
- D. 發行了定息債券的政府

22. 2008.MC.Q31

下列哪些人 / 機構會於非預期通貨膨脹出現時蒙受損失？

- A. 在非預期通脹出現前已簽了固定租約的住客。
- B. 在非預期通脹出現前已將發放了僱員的工資數目固定了的僱主。
- C. 在非預期通脹出現前以固定利率借出一筆款項的債主。
- D. 提供賠償的保險公司，該賠償額在非預期通脹出現前已固定了。

23. Practice Paper.MC.Q31

當非預期通脹出現時，下列哪位人士會有損失？

- A. 一位銀行定期存款持有人
- B. 一名政府債券持有人，而該債券利率隨通脹率調整
- C. 一名正在償還固定息率按揭貸款的樓宇業主
- D. 一名以黃金保存全部財富的億萬富翁

24. 2012.MC.Q32

美國政府已累積的債務金額非常龐大，在2011年約為14萬億美元，若美國出現非預期通脹，下列哪類人士 / 機構最有可能從中得益？

- A. 在聯繫匯率制度下，持有港元現金的香港居民
- B. 持有定期存款的美國國民
- C. 持有大量美國國庫債券的國家，如中國及日本
- D. 美國政府

25. 2013.MC.Q34

下列哪位人士會受惠於非預期通脹？

- A. 一位放高利貸者，以浮動利率借出一筆金錢
- B. 一位經理，在兩年合約內收取固定薪金
- C. 一位物業業主，償還固定息率按揭貸款
- D. 一位退休教師，收取多間上市公司的股息

預期通脹發生

26. 2009.MC.Q33

人們預期通貨膨脹時，

- (1) 債主會向借款者收取更高的名義利率。
  - (2) 工人會要求提高他們的名義工資率。
  - (3) 人們會傾向持有更多貨幣性資產來取代實物資產。
- A. 只有(1)、(2)
  - B. 只有(1)、(3)
  - C. 只有(2)、(3)
  - D. (1)、(2)、(3)

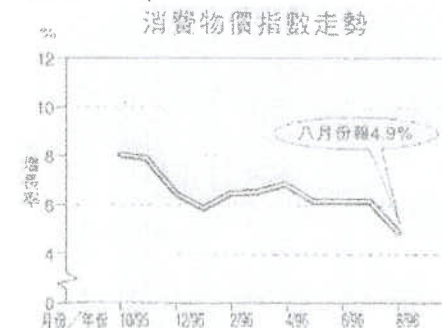
27. 2011.MC.Q35

當人們預期有通脹出現，

- (1) 人們會傾向增持實質資產以代替貨幣資產。
  - (2) 僱員會要求僱主提高他們的名義工資率，以補償他們損失了的購買力。
  - (3) 債主會得益，而欠債人會受損，因為所還款項的購買力會下降。
- A. 只有(1)、(2)
  - B. 只有(1)、(3)
  - C. 只有(2)、(3)
  - D. (1)、(2)、(3)

圖表分析

28. 1997.MC.Q27



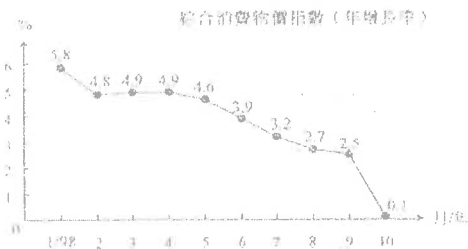
資料來源：香港經濟日報

上圖資料反映在該段時期內，

- A. 市民的消费力減弱。
- B. 經濟正走下坡。
- C. 市民的消费減少而儲蓄增加。
- D. 生活費用的增加減慢。

29. 1999.MC.Q33

參閱下表中西港物價指數的改變。

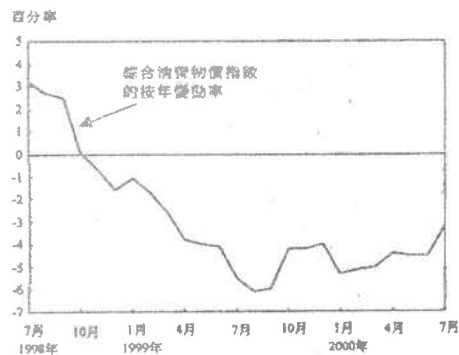


由上表，我們可得以下結論：

- A. 物價持續下跌，通貨膨脹終止。
- B. 工資下降。
- C. 生活費用以較慢的速度增長。
- D. 部分用按揭方法借錢供樓的負債者近期蒙受損失。

30. 2001.MC.Q31

表一 綜合消費物價指數的變動情況

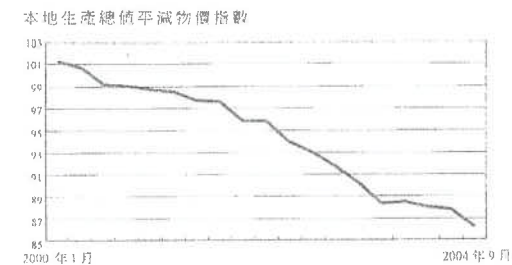


根據表一的資料，在 1999 年 7 月至 2000 年 7 月這一段時期內，陳先生會在甚麼情況下得益？

- A. 在此段時期前，他已用固定利率由銀行借入一筆款項。
- B. 在此段時期內，他的薪金維持不變。
- C. 他根據物價水平的變動來調整他收取租客的租金。
- D. 他早已收藏了一批古董花瓶。

31. 2005.MC.Q34

參閱下列關於香港於 2000 年 1 月至 2004 年 9 月期間的本地生產總值平減物價指數的圖。



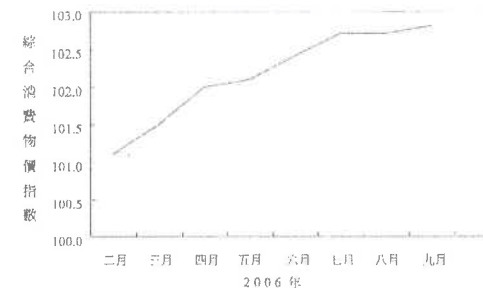
資料來源：香港特區政府

根據上圖，我們可得出結論如下：在該期間，

- A. 名義本地生產總值正在減少。
- B. 實質本地生產總值正在減少。
- C. 生活費用正在增加。
- D. 貨幣購買力正在增加。

32. 2007.MC.Q34

下表顯示香港綜合消費物價指數的資料。

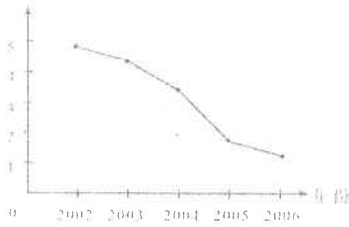


我們可從上述資料得出如下結論：在 2006 年該段期間內，

- A. 名義本地生產總值正在下降。
- B. 名義本地生產總值正在上升。
- C. 貨幣的購買力正在下降。
- D. 貨幣的購買力正在上升。

33. Sample Paper.MC.Q34

香港零售類平通指數增長率(%)



上圖顯示，在該段時期

- A. 該經濟有通貨收縮。
- B. 貨幣供應量增長率為負數。
- C. 一般物價水平正在上升。
- D. 生活水準正在上升。

與通脹有關的政策

34. 1990.MC.Q44

下列哪一項是用以減低通貨膨脹的財政政策？

- A. 直接管制工人薪金的上升幅度
- B. 增加失業救濟金
- C. 增加銀行法定儲備比率
- D. 減少環境保護計劃方面的開支

35. 1991.MC.Q45

以下哪一項最有可能導致通脹率下降？

- A. 貨幣供應量增加
- B. 利率上升
- C. 增加政府支出
- D. 提高間接稅

36. 1993.MC.Q60

在香港，下列哪一種應付政府開支的融資方法不會引起通貨膨脹？

- A. 印製更多鈔票
- B. 增加稅收
- C. 運用財政儲備
- D. 向外國舉債

通脹與稅收 / 收入的關係

37. 1990.MC.Q34

通貨膨脹時期，國民的\_\_\_\_\_上升，同時有更多人士被納入稅網或較高課稅組別。若免稅額不變，實際上他們的\_\_\_\_\_增加了。

- A. 名義所得，稅務負擔
- B. 實質所得，名義所得
- C. 名義所得，實質所得
- D. 稅務負擔，名義所得

38. 1992.MC.Q43

在 1990-91 財政年度，政府將免稅額提高約 5%。同期通脹率約為 10%。以下哪一項是這種情況下的後果？

- A. 政府必須開徵銷售稅。
- B. 更多人被納入稅網。
- C. 香港人的真實收入有所增加。
- D. 政府獲得更多間接稅收。

39. 2002.MC.Q42

假設某經濟的政府將漸俸稅的免稅額削減 10%，同年工資率及一般物價水平比下跌 5%。因此，

- A. 政府的稅收收益會增加。
- B. 較多人會納入稅網之中。
- C. 除稅前，市民的實質收入會普遍增加。
- D. 市民所繳稅款預與其名義收入之比會普遍下降。

其他、跨課題題目

40. 1990.MC.Q38

下列哪一種情況會令在本港存款的人士將他的港幣存款轉為外幣存款？

- A. 相對外國而言，本港利率上升。
- B. 一般人都認為港幣匯率偏高。
- C. 本港的政治發展理想。
- D. 本港出口總值增加

41. 1991.MC.Q30

以下哪一項會影響貨幣的價值？

- A. 消費物價指數上升。
- B. 名義收入與實質收入的增加百分率相同。
- C. 印製紙幣的成本增加。
- D. 發行新紙幣以替換舊紙幣

## 未有仔細分類

42. 2014.MC.Q26

假設某封閉經濟只生產食物和成衣。第一年和第二年的產量如下：

年	食物產量 (單位)	食物的單位價格 (\$)	成衣產量 (單位)	成衣的單位價格 (\$)
1	44	5	25	10
2	36	6	22	9

下列那些有關該經濟的陳述是正確的？

- (1) 第一年的名義本地生產總值高於第二年的。  
 (2) 第一年的實質本地生產總值高於第二年的。  
 (3) 第一年的生活成本高於第二年的。
- A. 只有 (1)、(2)  
 B. 只有 (1)、(3)  
 C. 只有 (2)、(3)  
 D. (1)、(2) 及 (3)

43. 2015.MC.Q36

非預期的通縮出現，下列哪些人士會受損？

- A. 支付定額租金的人  
 B. 收取儲蓄存款利息的人  
 C. 償還浮息按揭貸款的人  
 D. 在固定名義工資合約下工作的人

44. 2019.Q37

在非預期通縮下，下列哪(幾)位人士會有所損失？

- (1) 葉女士在一家接受存款公司持有一百萬定期存款。  
 (2) 盧先生持有銀色債券收取利息，債券的回報率和通脹掛勾，最低回報為 3%。  
 (3) 陸先生與一家網絡電視公司簽約兩年，每月以固定費用訂購其服務。
- A. 只有 (1)  
 B. 只有 (2)  
 C. 只有 (3)  
 D. 只有 (2)、(3)

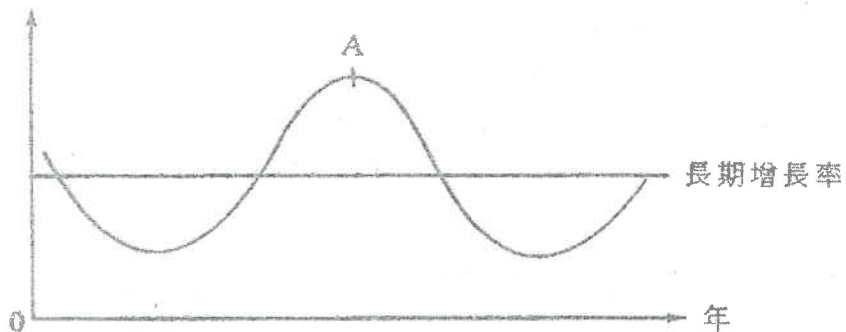
09MC2答案

1.	B	11.	B	21.	D	31.	D	41.	A
2.	B	12.	D	22.	C	32.	C	42.	A
3.	D	13.	C	23.	A	33.	C	43.	A
4.	A	14.	B	24.	D	34.	D	44.	C
5.	C	15.	D	25.	C	35.	B	45.	
6.	A	16.	A	26.	A	36.	B	46.	
7.	D	17.	B	27.	A	37.	A	47.	
8.	A	18.	D	28.	D	38.	B	48.	
9.	B	19.	D	29.	C	39.	B	49.	
10.	A	20.	D	30.	B	40.	B	50.	

1. 1995.Q7

參閱下圖。指出圖中 A 點所在屬經濟週期中哪一時期，並寫出該時期三種普遍的經濟現象。(4分)

**實質國民生產總值增長率**



2. 2000.Q6

	實質本地生產總值 (按年變動百分比)	失業率(%)	綜合消費物價指數
1998年第2季	-5.1	4.4	119.2
1998年第3季	-6.8	5.0	118.6
1998年第4季	-5.7	5.7	116.1
1999年第1季	-3.4	6.2	115.6

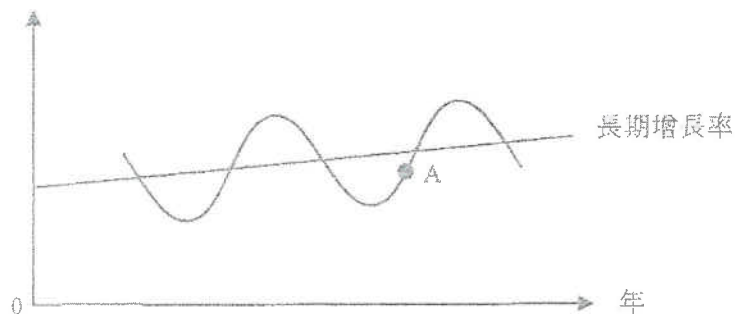
(a) 指出香港在上述期間是處於經濟週期中的那一個時期。上表資料顯示該時期的三個經濟現象，寫出該三個經濟現象。(4分)

(b) 在此期間，某些工人的薪酬遭凍結，解釋在此時期他們的實質收入會怎樣改變。(3分)

3. 2008.Q5

參閱下圖的經濟週期。指出 A 點所在位置屬於經濟週期中哪一個時期。除了有關該時期實質本地生產總值增長率的描述外，舉出兩項在該時期出現的一般經濟現象。(3分)

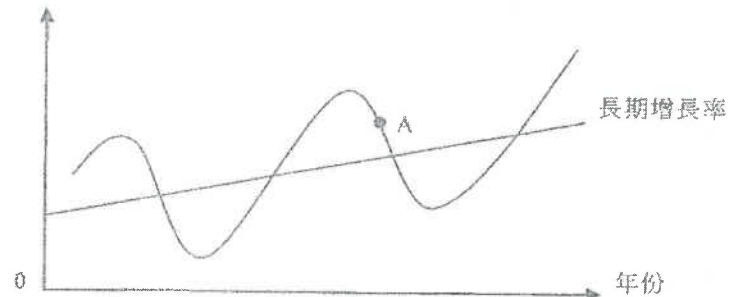
**實質本地生產總值增長率**



4. 2010.Q7(a)(b)

參閱以下的經濟週期。

**實質本地生產總值增長率**



(a) A 點處於經濟週期中的\_\_\_\_\_期。(1分)

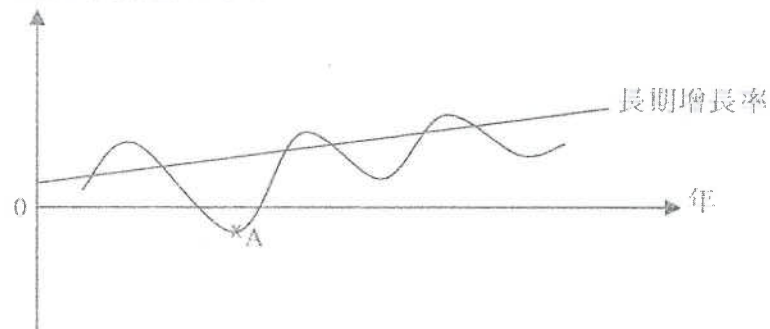
(b) 除了實質本地生產總值增長率的變動外，寫出其中兩個在這時期出現的一般經濟現象。(2分)

5. Practice Paper.Q7

參考圖三的經濟週期。指出 A 點所在位置屬於經濟週期中哪一個時期。除了有關該時期實質本地生產總值增長率的描述外，舉出三項在該時期出現的一般經濟現象。(4分)

圖三

**實質本地生產總值增長率**



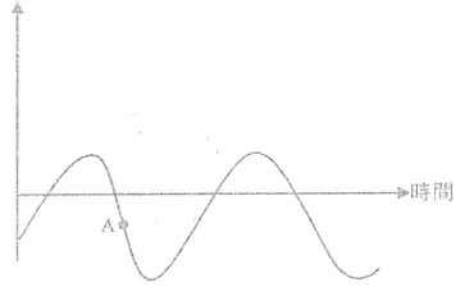
6. 2012.Q6(b)  
經濟衰退其中一個現象是失業增加。除了失業增加外，舉出在經濟衰退時會出現的兩個經濟現象。(2分)

7. 2016.Q6(c)  
(c) 假設某國正處於復甦期。除了失業率下降，舉出兩項在復甦期的一般經濟現象。(2分)



以下是某國的本地生產總值(GDP)資料。

實質本地生產總值增長率



- (a) 指出A點所在位置屬於經濟週期的哪個時期。(1分)
- (b) 除了失業率上升外，列出在A點會出現的兩個一般經濟現象。(2分)
- (c) 舉出失業對社會造成的兩種損失。(2分)

1. 1995.Q7

經濟活動高峰期/經濟繁榮時期

- 高就業率/低失業率/充分就業或接近充分就業
- 高投資水平
- 高生產水平
- 高國民收入水平
- 高消費水平
- 工資率↑
- 物價↑
- 利率↑
- 任何一個相關點

(只批閱首三項。)

1@, 最高: 3

2. 2000. Q6

(a) 經濟衰退。

- 本地生產總值負增長 / 本地生產總值或產出減少
- 失業率上升
- 生活成本下降

(只批閱首三項。)

(b) 金錢收入不變時，實質收入會因物價水平下降而增加。

3. 2008. Q5

復甦期。

- 就業增加。
  - 總需求增加 / 私人消費支出增加 / 投資增加。
  - 一般物價水平上升。
- [只批閱首兩項。]

1@,  
最高: 2

4. 2010.Q7(a)(b)

(a) 衰退

- (b) - 失業率上升
  - 總需求下降 / 私人消費支出下降 / 投資下降
  - 通脹率下降
  - 任何其他相關點
- [只批閱首兩項。]

1@, 最高: 2

5. Practice Paper.Q7

- 蕭條（谷底） (1)
- 現象：
- 就業處於低水平／失業處於高水平。
  - 通脹處於低水平／可能出現通縮。
  - 總需求處於低水平。
  - 營商信心處於低水平。
- [只批閱首三項] 1@, 最高: 3

6. 2012.Q6(b)

- 實質本地生產增長下降，甚至負值
  - 通脹下降或處於低水平，甚至出現通縮
  - 商業信心、投資和消費水平下降
  - 任何其他相關點
- [只批閱首兩項] 1@, 最高: 2

8 2020 Q3 (-2013)

- (a) 衰退 (1)
- (b) 現象：
- 實質GDP增長率下降／總為負值或實質GDP水平下降
  - 通脹下降或通縮
  - 消費／投資下降
  - 企業信心下降
  - 任何其他相關點
- [只評閱首兩項。] @1 最高: 2
- (c) 失業造成的損失：
- 產出損失
  - 人力資本損失
  - 政治和社會不穩
  - 任何其他相關點
- [只評閱首兩項。] @1 最高: 2

總需求 AD

1. SP.Q7(a) (6 分)
- 提出兩項理由解釋為何總體需求曲線是向右下傾斜的。
2. 2013.Q4(a) (3 分)
- 舉出一個原因，解釋為什麼總需求曲線是向下斜的。

長期總供應 LRAS

3. SP.Q7(b) (3 分)
- 「在長期而言，擴張財政政策不會影響實質收入。」你同意嗎？試加解釋。

短期總供應 SRAS

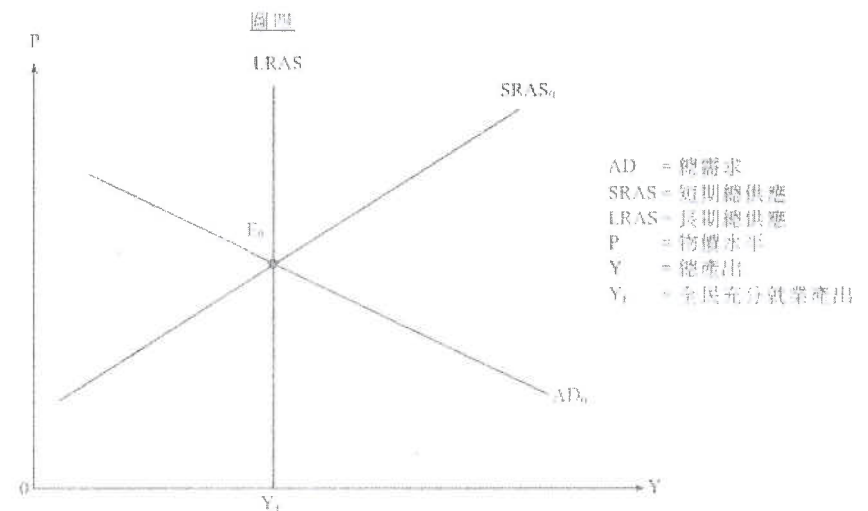
4. PP.Q13(a) (3 分)
- 為什麼短期總供應曲線是向右上斜的？

AD-AS 模型

5. SP.Q10 (10 分)
- 世界上很多政府都有財政赤字的問題。有些政府可能考慮增加銷售稅稅率來增加稅收。
- (a) 銷售稅稅率上升可能會減低廠商供應貨品和服務的意欲，以及他們投資的意欲。以一幅圖輔助，解釋銷售稅稅率上升在短期會怎樣影響該經濟的物價水平及產出。
- (b)(i) (8 分)
- 你認為在銷售稅稅率增加後，中央銀行能夠透過貨幣政策去穩定物價水平嗎？這些政策對產出會有什麼影響？試加解釋。
- (ii) (4 分)
- 根據你在(b)(i)的答案，你認為在銷售稅稅率增加後，中央銀行應該透過貨幣政策去穩定物價水平嗎？試加解釋。

6. PP.Q13

圖四顯示某經濟的總供應和總需求曲線。



假設  $E_0$  是起初的均衡點。

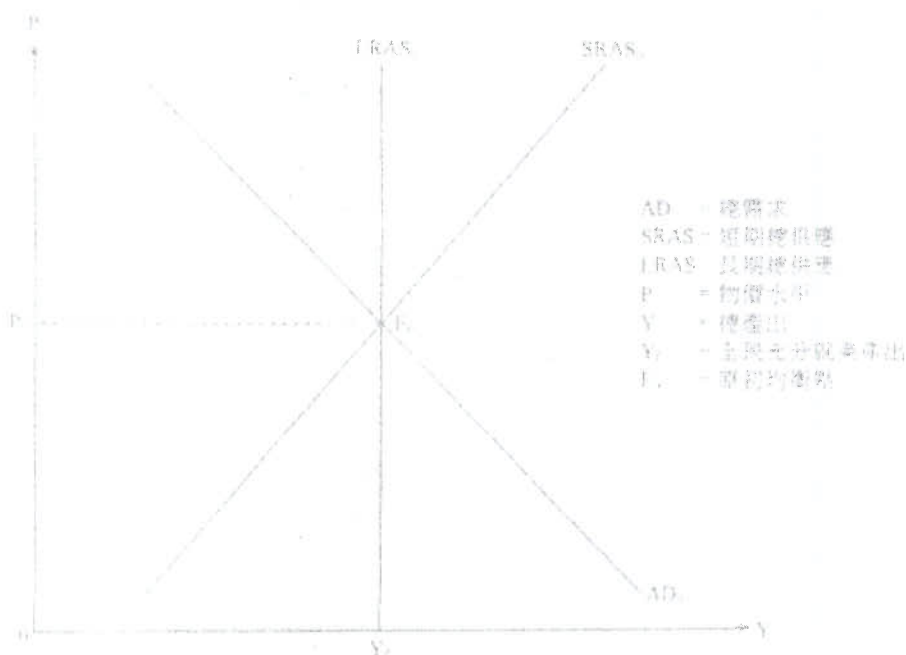
- (a) 為什麼短期總供應曲線是向右上斜的？ (3 分)
- (b) 假設該經濟遭受資產泡沫爆破所累，資產價格大幅下跌。以圖四輔助，解釋該經濟的短期均衡產出和物價水平會如何改變。 (6 分)
- (c) 以圖四輔助，解釋市場力量會如何幫助產出水平回復至  $Y_r$ 。 (5 分)

7. 2012.Q10(c)

財政司司長在 2011 年年公佈「\$6000 計劃」，向每位十八歲或以上的香港永久居民派發 \$6000。以圖輔助，解釋長期而言該「\$6000 計劃」會如何影響香港的物價和產出水平。 (8 分)

8. 2013.Q4(b)

假設原材料的價格上升。參考由短期均衡至長期均衡的市場調節機制，並以圖一輔助，解釋上述轉變對物價水平的長期影響。 (9 分)



圖一

9. 2013.Q12(c)

以總供需圖輔助，解釋法定儲備比率向上調整對該經濟的產出和物價水平的短期影響。 (8 分)

未有仔細分類

10. 2014.Q12(c)

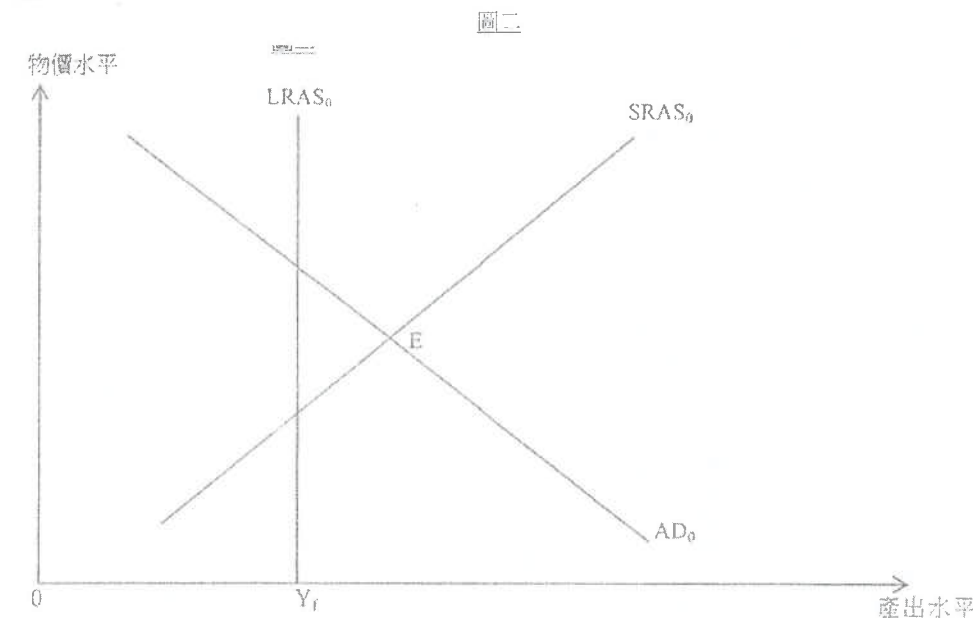
2013 年日本首相安倍晉三採取一系列政策以擴張日本經濟。其中一項政策是加大中央銀行購入政府債券和其他金融資產的規模。

- (c) 上述政策對日本經濟的產出和物價水平會有什麼短期影響？以總供需圖輔助，加以解釋。 (8 分)

11. 2015.Q12(b),(c)

研究顯示內地旅客的「個人遊」計劃為香港帶來經濟利益。不過，越來越多的香港居民要求政府減少透過該計劃到港的內地旅客人數。

一位經濟學家運用總供需模式分析香港現況。在他的分析中，圖二的 E 點是香港經濟原初的短期均衡點。



- (a) 他指出政府可幫助經濟回復至長期均衡。以圖二輔助，解釋減少內地旅客訪港人數如何可以令產出水平減低至  $Y_r$ 。 (5 分)

- (b) 他亦指即使沒有政府幫助，市場力量也可以令經濟回復至長期均衡。毋須運用圖表，解釋市場力量在長期如何可以令產出水平減低至  $Y_r$ 。 (4 分)

12. 2016.Q5

- 以一項理由解釋為什麼短期總供應線是向右上斜的。 (3 分)

13. 2016.Q12(b)(c)

澳門政府推行一項現金分享計劃，每位居民均可獲政府派發現金。

(b) 以一幅總供需圖輔助，解釋該現金分享計劃會如何影響短期的產出和價格水平。 (6 分)

近日，博彩業不景令稅收下降，故此政府考慮減少投資方面的開支，但依然保留該現金分享計劃。不過，一位經濟學者建議政府應暫停現金分享計劃，改為將該筆款項分配在投資上。

(c) 提出正反論點，討論該經濟學者的建議。 (5 分)

14. 2017 Q9

圖一 和圖二 顯示美國的一些宏觀經濟數據。



(a) 參考圖一，指出大數年在屬經濟周期的哪一階段。 (1 分)

(b) 利率上調如何幫助 2009 年美國的經濟？用圖繪圖，根據總供應及／或總需求的概念，解釋你的答案。 (3 分)



(c) 討論圖一和圖二的數據是否和你在 (b) 部的答案相符。 (4 分)

(d) 舉出在長期而言有助增加總產出的一項政策，簡單解釋你的答案。 (2 分)

15. 2017Q12b

在英國人民投票反對留在歐盟（即英國脫歐）之前，來自歐盟的工人可以自由在英國工作，反之亦然。英國脫歐引起歐洲經濟震盪，下表顯示關於英國脫歐的一些看法：

英國政客： 歐盟低技術工人應該需要申請簽證才可在英國工作。	英國廠商東主： 該項對歐盟工人的新簽證要求影響到英國經濟的大部分廠商。
環球投資者： 英國政局不穩增加當地投資項目的風險。	歐盟官員： 英國國民前往歐盟國家遊覽或工作可能需要簽證。

(a) 參考英國政客的看法，解釋來自歐盟的低技術工人的勞工流動性會如何受影響。 (3 分)

(b) 參考英國廠商東主和環球投資者的看法，並以圖輔助，討論英國脫歐於短期而言對其總產出的影響。 (8 分)

16. 2017 Q13b

為了應付香港人口急速老化的問題，政府建議一項退休保障計劃，計劃下合資格長者每年可領取 \$38 760。

(b) 有人提出不同提案為該計劃融資，包括：

- 提案 A：增加薪俸稅的標準稅率和累進程度
- 提案 B：運用政府的財政儲備

討論上述兩項提案對各項經濟變量的影響，包括：

- (i) 總產出
- (ii) 收入分布
- (iii) 另外一項經濟變量

高鐵計劃（香港段）預計在 2018 年完工，屆時香港和內地不同城市之間的預計車程會縮短，以下是對高鐵計劃的一些意見。

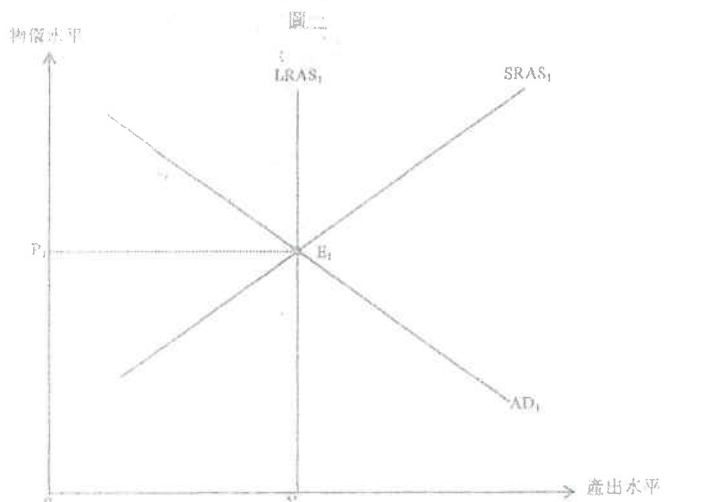
政府官員

基礎的改善會促進香港整體經濟發展。

中小企業主

我們預期高鐵可為本港帶來更多內地旅客。

假設本港經濟在  $E_1$  運作，參考以上意見，在圖一顯示為什麼在高鐵計劃完工後，本港的物價水平在長期可能上升。(3分)

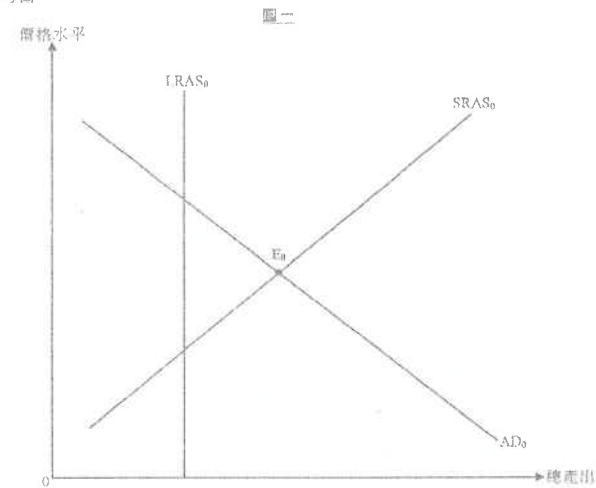


下表顯示由 2018 年十月起生效的中國個人入息稅制的改變。

平均稅率	每月應課稅收入範圍，以人民幣 (RMB) 計算	
	舊稅階	新稅階
3%	少於或等於 1500	少於或等於 3000
10%	1501 – 4500	3001 – 12000
20%	4501 – 9000	12001 – 25000
25%	9001 – 35000	25001 – 35000
30%	35001 – 55000	不變
35%	55001 – 80000	不變
45%	多於 80000	不變

- (a) 中國的個人入息稅屬累進稅、比例稅還是累退稅？解釋你的答案。(2分)
- (b) 假設中國經濟出現通縮（產出）差距，以一幅總供給圖輔助，解釋以上個人入息稅制的改變會如何在短期影響該通縮（產出）差距。(7分)
- (c) 為達至與 (b) 部對通縮（產出）差距相同的影響，一位經濟學家建議政府應降低銀行的法定儲備比率而非實施上述的稅制改變，提出正反論點各一以討論該建議。(4分)

參考圖一。




假設某經濟原初在  $E_0$  運作，以圖一輔助，解釋市場力量在長期如何可以令總產出水平回復至充分就業產出水平。(5分)

海洋公園和香港迪士尼樂園是香港兩大主題公園。

- (a) 香港的主題公園行業屬於哪種市場結構？列出這種市場結構的兩項特徵。 (3分)

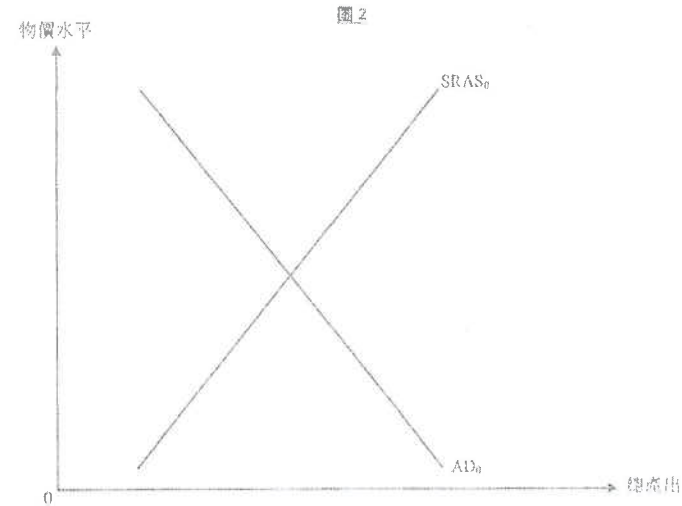
海洋公園首家酒店已於2018年開業，而第二家酒店及水上樂園預計在2021年前開幕。人們預期這基建發展能吸引更多旅客延長留港時間。

- (b) 假設其他因素不變，這基建發展對香港未來的總需求和長期總供應有何影響？對總產出又有何影響？以圖輔助，解釋你的答案。 (8分)



- (c) 為了基建發展的融資，有人建議海洋公園可以在股票市場上市，並發行股票集資以代替向銀行借款。舉出發行股票集資勝於向銀行借款的兩項優點。 (2分)
- (d) 海洋公園的基建發展對香港2019年本地生產總值的貢獻可少於已在這兩家酒店及水上樂園的投資總金額。提出兩項理由，解釋為什麼這陳述可能正確。 (4分)

11. F國現有通縮(產出)差距。



- (a) 寫出通縮(產出)差距的定義，並在圖2顯示該差距。 (2分)
- (b) 一自然災害侵襲F國，大量工廠已暫時關閉，很多人失去工作，並對前景變得悲觀。  
以圖2輔助，解釋為什麼該自然災害會引致F國的通縮(產出)差距擴大。 (7分)
- (c) 毋須繪圖，解釋F國的中央銀行如何可以運用公開市場操作去收窄該通縮(產出)差距。 (4分)

**總需求 AD**

1. SP.Q7(a)

以下任何兩項理由：

- 財富效應：物價水平下降  $\Rightarrow$  (實質) 財富上升  $\Rightarrow$  消費支出增加  $\Rightarrow$  收入上升
- 利率效應：物價水平下降  $\Rightarrow$  實質利率減少  $\Rightarrow$  投資支出增加  $\Rightarrow$  收入上升
- 匯率效應：物價水平下降  $\Rightarrow$  出口相對較便宜，進口相對較昂貴  $\Rightarrow$  淨出口增加  $\Rightarrow$  收入上升

3@, 最高: 6

2. 2013.Q4(a)

財富效應：在經濟內很多的資產是以名義價值計算，物價水平會高，貨幣的購買力下降。該經濟的財富，以實質價值計算，減少，人們因此會減少購買物品和服務，實質產出下跌。

利率效應：當物價水平上升，銀行和公司需求更多的貨幣為其交易融資。如果貨幣供應是固定的，利率會上升。利率的上升會令投資和消費下跌，實質產出下跌。

淨出口效應：因本地物價水平上升，外國製造的物品相對變得較便宜，所以進口的需求上升。不過，本地物價水平的上升亦意味著本地製造的物品對外國買家來說相對較昂貴，出口的需求量下降。當出口量下降而進口量上升，淨出口會下降。若進出口物品的價格需求彈性夠高，因為淨出口是實質本地生產總值的成分，淨出口下跌會令實質本地生產總值的需求下跌。

任何一項, 3@, 最高: 3

**長期總供應 LRAS**

3. SP.Q7(b)

政府消費支出增加使總體需求曲線向右移，短期而言實質收入會因而增加。長期而言，因總體供應曲線垂直於潛在收入的水平，實質收入不變。

或 如果政府將金錢用於投資上，資本的累積或會提升潛在收入水平，長期而言，擴張財政政策或會增加實質收入。

3

**短期總供應 SRAS**

4. PP.Q13(a)

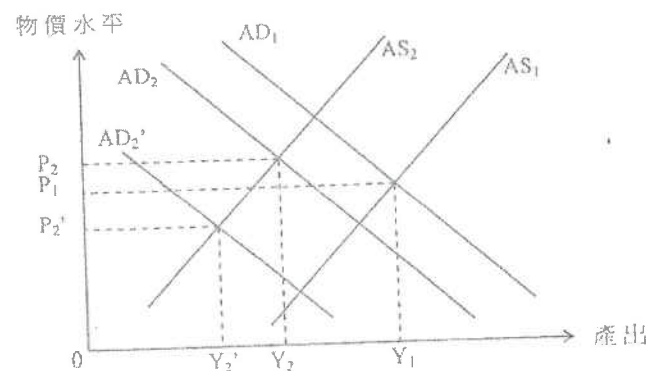
- 工資率有黏性：(1)
- 產出價格上升的速度較投入價格為高，所以公司生產更多產出時能獲更多利潤。(2)
- (其他方法亦可接受)

**AD-AS 模型**

5. SP.Q10

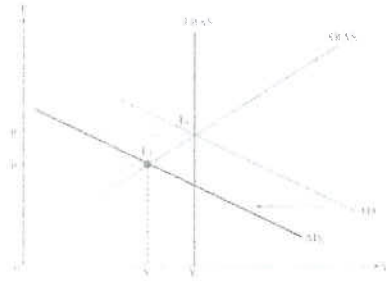
10

廠商供應貨品和服務的意欲減低，導致總體供應曲線AS向左移動。另一方面，廠商投資的意欲減低，導致總體需求曲線AD向左移動。結果，該經濟的產出會減少，至於該經濟的物價水平則可以是上升或者下降，視乎AD和AS兩條曲線移動的幅度而定。



6. PP.Q13

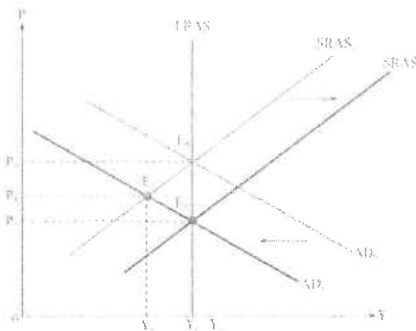
- (a) 工資率有黏性：  
 產出價格上升的速度較投入價格為高。所以公司生產更多產出時能獲更多利潤。  
 (其他方法亦可接受)
- (b) 在圖中顯示：  
 - AD 曲線向左移  
 - P 及 Y 下跌



文字說明：

- 資產價格下跌會令財富下跌，所以消費會減少。
- 投資者可能會失去信心，所以投資會減少。
- 總需求會減少。
- 產出和價格水平下降。

- (c) 在圖中顯示：  
 SRAS1 向右移  
 Y 返回 Y1, P 會下跌



文字說明：

- 生產要素市場的超額供應/通縮(產出)缺口最終會令投入價格下降。
- 投入價格下降會令短期總供應增加。
- 價格水平會下跌，直至總產出返回全民充分就業水平。

- (1)  
 (2)  
 (1)  
 (1)

7. 2012.Q10(c)

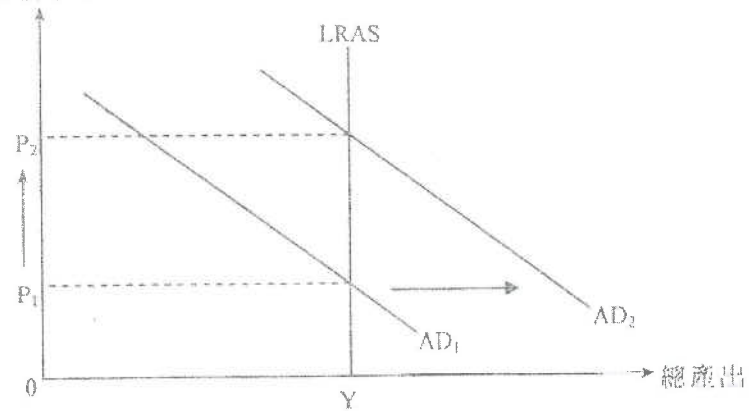
文字解說：

- 可用收入上升。 (1)
- 消費支出上升。 (1)
- 總需求上升。 (1)
- 物價水平上升。 (1)
- 長期而言總產出維持不變。 (1)

在圖中顯示：

- 總需求 (AD) 向外移 (1)
- 垂直的長期總供應曲線 (LRAS) (1)
- P 上升, Y 維持不變 (1)

物價水平



- (2)  
 (1)  
 (1)  
 (1)  
 (1)



8. 2013.Q4(b)

文字解說：

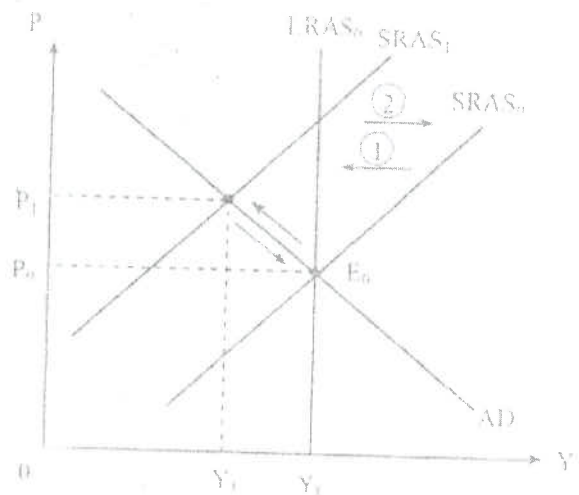
原材料價格上升，令生產要素價格上升，因此 SRAS 會下跌。在短期，物價水平上升而產出會下降。所引起的勞工市場的短缺供應，逼縮產出，差距會令投入的價格有下調壓力。在長期，工資會向下調整，而 SRAS 會上升，物價水平下降至原初水平。

(5)

在圖中顯示：

- SRAS 向左移
- P 上升，Y 下跌
- SRAS 移回原初位置
- P 最後回到原初水平

- (1)
- (1)
- (1)
- (1)



9. 2013.Q12(c)

文字解說：

法定儲備比率上調會減低貨幣供應，令利率上升，投資支出下降，總需求會下降，而物價水平和產出水平均會下降。

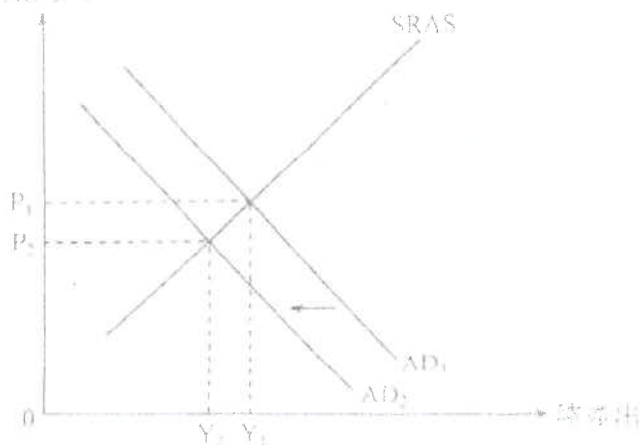
(5)

在圖中顯示：

- AD 向左移
- 物價水平下降
- 產出水平下降

- (1)
- (1)
- (1)

物價水平



未有仔細分類

10. 2014.Q12(c)

文字解說：

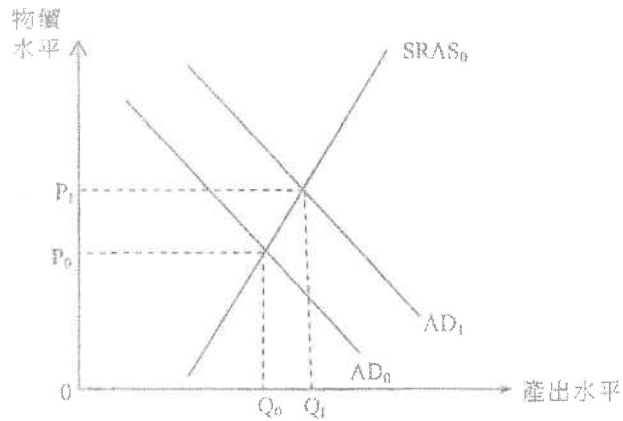
購入政府債券增加貨幣供應  
引致利率下跌，  
投資/消費支出上升，  
總需求上升  
在短期，產出和物價水平亦上升。

- (1)
- (1)
- (1)
- (1)
- (1)

在圖中顯示：

- 總需求曲線向右移
- 物價水平上升
- 產出水平上升

- (1)
- (1)
- (1)



11. 2015.Q12(b),(c)

(b) 文字解說：

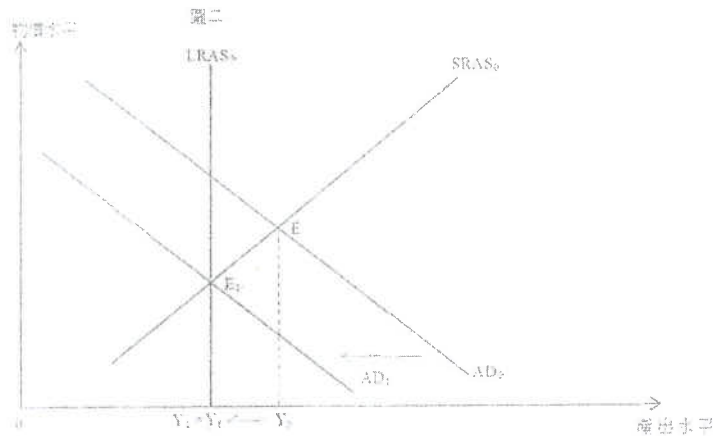
- 出口下降，
- 導致總需求下降，
- 總產出下降回到  $Y_T$  水平。

在圖中顯示：

- AD 曲線向左移
- 原初短期均衡總產出的正確位置  $Y_0$
- 新的短期均衡總產出的正確位置  $Y_1 (=Y_T)$

(1)  
(1)

(1)  
(1)  
(1)



(c) 香港處於通脹差距的情況。在要素市場有超額需求會導致要素價格有上調的壓力，生產成本會隨時間上升，SRAS 會上移，令產出在長期回到  $Y_T$  水平。

(4)

12. 2016 Q.5

當物價水平上升，投入的價格沒有完全／充分調整，（例如：因為生產要素合約的時間較長），所以實質生產成本（即名義成本除以一般物價水平）下降，廠商會選用更多要素投入增加產出。因此，短期總供應曲線是向上斜的。價格水平上升會令產出水平上升。

2分  
(3)

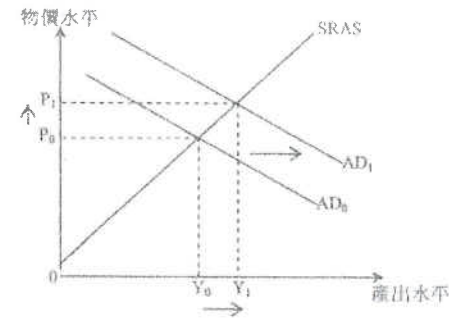
13. 2016 Q12bc

(b) 文字解說：

- 現金分享計劃增加居民的可用收入，
- 因此消費會上升，
- 總需求 (AD) 會上升，
- 物價水平和產出水平亦隨之上升。

(1)  
(1)  
(1)  
(1)

在圖中顯示：



- AD 向右移
- P 和 Y 上升

(1)  
(1)

(c) 支持的論點：

- 投資增加日後的潛在產出，而現金分享則對經濟沒有類似的長期效果。
- 投資直接增加 AD，但現金分享透過增加消費間接增加 AD。若居民選擇不花費該筆現金，對 AD 的影響便會消失。
- 任何其他相關點

@2  
最高：3

反對的論點：

- 在經濟轉差時暫停現金計劃以削減福利，可能令市民不滿，政局不穩。
- 現金分享計劃即時令人得益，而透過投資提升收入則需要較長時間。
- 政府的投資可能欠缺效率，例如行政成本很高，對市場／價格訊息欠敏感（沒有利權誘因）。
- 任何其他相關點

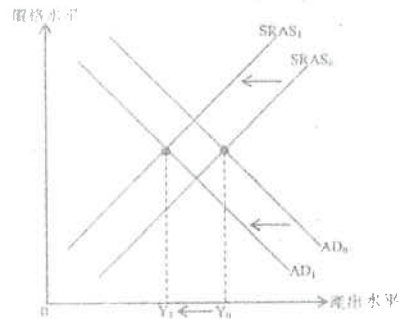
@2  
最高：3

註：(c) 部最高可得 5 分

- (a) 蕭條/滯留 (1)
- (b) 降低利率會令投資上升/消費上升，總需求上升，總產出因而上升。 (3)
- (c) 相符。 (1)  
 處利率在 2009 年下降，GDP 的增長率上升而失業率下跌。 (3)  
 [考生亦可論述資料和 (b) 部的答案並不相符，因美國聯儲在 2008 年調低利率，但在 2009 年 GDP 仍然有負增長，失業人數仍然上升。]
- (d) 補助研究及發展/輸入勞工/投資基礎可以在長期增加潛在產出/經濟整體的增長，故此令 LRAS 向右移。 (2)  
 [只出閱讀理解等]

- (b) 完全經濟上  
 新簽證要求增加英國廠商雇主的勞工成本，令短期總供應 (SRAS) 下降。 (2)  
 - 政府下調令環球投資者的投資和總需求 (AD) 下降。 (2)  
 總產出因而下降。 (1)

在圖中顯示：  
 - AD 曲線向左移 (1)  
 - SRAS 曲線向左移 (1)  
 - 產出下降 (1)



- (b) (i) 提案 A 對總產出的影響：  
 增加薪俸稅令 AD 下降，因為可用收入下降而今消費下降，產出因而下降。 (4)  
 [SRAS 可能因增加薪俸稅對工作認真產生抑制效應而下降。]

提案 B 對總產出的影響：  
 因為 AD/AS 的組成部份沒有轉變，對總產出不會出現額外的影響。 (2)

- (ii) 提案 A 對收入分配的影響：  
 整體上薪俸稅納稅人 (較高收入人士) 支付更多稅款，而非納稅人 (較低收入人士) 不受影響。 (2)  
 高收入的納稅人付稅較多，低收入的納稅人付稅較少。 (2)  
 除稅後收入不均情況減輕了。 (1)

最高：3

- 提案 B 對收入分配的影響：  
 - 不會對現時的納稅人有額外的影響，所以收入不均的情況不變。 (2)  
 - 財政儲備下降可能促使將來加稅，故此將來的納稅人 (主要是人口中的年輕人) 可能要付更多稅款令世代之間的收入不均加劇。 (2)

最高：2

- (iii) 提案 A 對其他變量的影響：  
 - 價格水平會下降，因為 AD 下降 (提案 B 不會有這影響)。  
 - 失業人數會上升，因為 AD 下降 (提案 B 不會有這影響)。  
 - 任何其他相關點

@2  
 最高：2

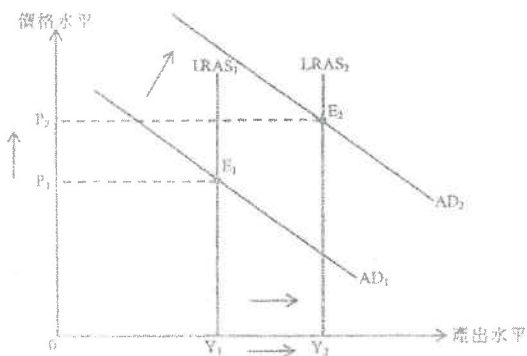
- 提案 B 對其他變量的影響：  
 - 政府財政狀況轉差 (因為流失儲備) 可能意味著將來會加稅 (提案 A 不會有這影響)。  
 - 商業信心可能下降，預期將來加稅 (因為財政上的可持續性的問題) 會令廠商的稅後利潤下降，他們可能選擇減少投資 (提案 A 不會有這影響)。  
 - 任何其他相關點

@2  
 最高：2

註：(b) 部最高可得 10 分。

在圖中顯示：

- AD向右移(因為內地旅客增加)
- LRAS向右移(因為香港經濟發展較快)
- $P_2$  的正確位置(在  $E_2$ )，AD的水平移動幅度大於 LRAS



分數

- (1)  
(1)  
(1)

18.2019 Q10

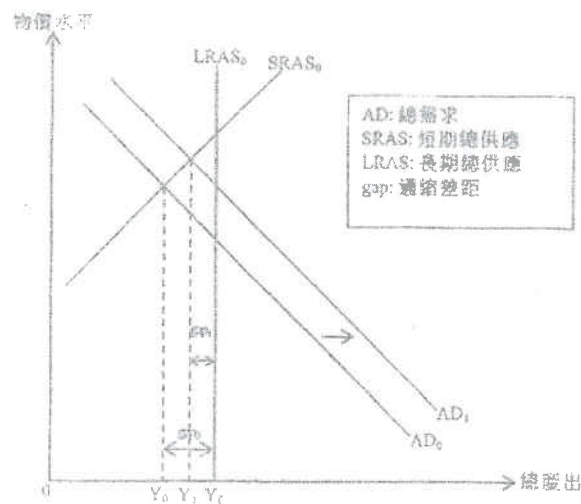
(a) 累進稅，因為納稅人收入愈高，被課徵的平均稅率愈高。

(b) 文字解說：

中等收入組別被課徵的平均稅率較低，可支配收入上升，消費和總需求上升，縮窄了產量縮差距。

在圖中顯示：

- 正確的原初通縮差距
- AD 向右移
- 正確的新 Y，通縮差距收窄



分數

- (2)  
(4)  
(1)  
(1)  
(1)

(c) 支持： 緊貨幣政策的優點或財政政策的缺點

- 緊貨幣政策透過投資令 Y 上升，這會幫助提升現在 / 將來的生產力 (而稅務政策沒有這效果)。
- 該稅務政策可能令政府財政結餘為零 (而該貨幣政策沒有這效果)。
- 任何其他相關點

(2)

反對： 該財政政策的優點或該貨幣政策的缺點

- 該稅務政策可能會縮窄收入差距 (而該貨幣政策沒有這效果)。
- 即使法定儲備比率下降，銀行貨幣和貨幣供應未必上升 (而該稅務政策不會受商業銀行的行為所影響)。
- 任何其他相關點

(2)

19.2020 Q6

文字解說：

該經濟面臨通脹 (產出) 差距。要素市場出現超額需求，對要素價格造成向上調整的壓力，故此生產成本會隨時間上升而短期總供應 (SRAS) 會隨時間下降，在長期會令產出回復至  $Y_f$ 。

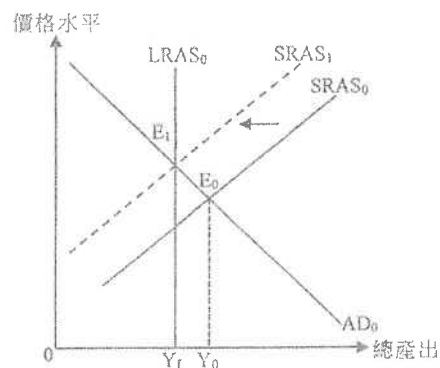
分數

(4)

在圖中顯示：

- SRAS 向左移

(1)



(a) 寡頭壟斷。

特徵：

- 幾個具支配力的賣家
  - 訂價互相影響
  - 價格及非價格競爭
  - 任何其他相關點
- [只評閱首兩項。]

分數  
(1)

@1  
最高：2

(b) 文字解說：

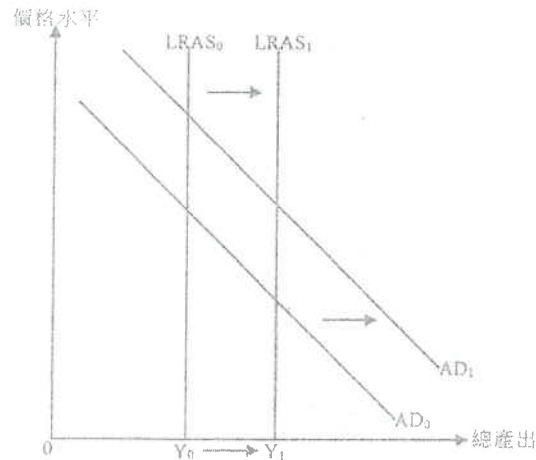
當較多的旅客更長時間留港，旅客支出會上升，這意味著服務出口上升。這會令AD上升。  
另一方面，基建發展會擴大該經濟在將來的生產潛力，令（將來）LRAS上升。  
在長期，總產出上升。

(5)

在圖中顯示：

- AD 向右移
- LRAS 向右移
- $Y_1 > Y_0$

(1)  
(1)  
(1)



分數

(1)  
(1)

(c) 優點：

- 沒有支付利息的義務
  - 沒有還款的義務<sup>2</sup>
  - 任何其他相關點
- [只評閱首兩項。]

(d) 原因：

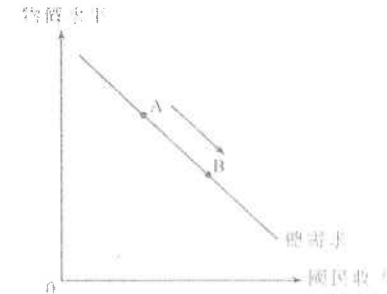
- 用於興建建設設施的要素投入不是全部均源自香港。例如部分原料是進口的。
  - 部分的產出可能不是在2019年生產的。例如部分已經在以前年度計入在存貨改變/進行中的工程內。
  - 任何其他相關點
- [只評閱首兩項。]

(2)  
(2)

總需求 AD

1. PP.MC.Q23

參閱下圖。



下列哪項會導致沿着總需求曲線由 A 點移至 B 點？

- A. 物價水平下降
- B. 利率下降
- C. 減低游離稅
- D. 本地貨幣貶值

2. 2012.MC.Q25

下列哪項會令總需求下降？

- A. 私人儲蓄增加
- B. 投資支出增加
- C. 進口減少
- D. 入息稅的累進程度減低

長期總供應 LRAS

暫無相關試題

短期總供應 SRAS

3. SP.MC.Q25

在下列哪種情況下，短期總供應曲線會向左移？

- A. 勞工成本下降
- B. 勞工生產力上升
- C. 一般物價水平上升
- D. 人們預期一般物價水平會上升

4. PP.MC.Q24

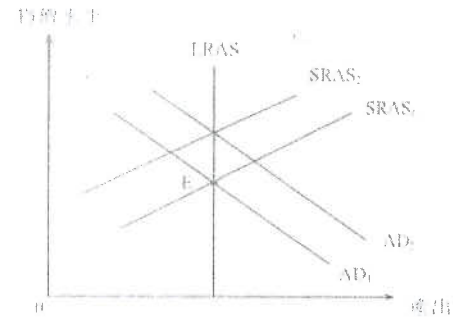
大量油田因嚴重漏油意外需要關閉。短期而言，一石油輸入國的總供應會 \_\_\_\_\_，而該國的物價水平會 \_\_\_\_\_。

- A. 增加 ... 上升
- B. 增加 ... 下降
- C. 減少 ... 上升
- D. 減少 ... 下降

AD-AS 模型

5. SP.MC.Q24

下圖顯示某經濟的總需求 (AD) 曲線, 短期總供應 (SRAS) 曲線及長期總供應 (LRAS) 曲線。



上圖中, E 點是原來均衡點。下列哪項在長期而言是正確的?

- (1) 若  $AD_1$  移到  $AD_2$ ,  $SRAS_1$  會移到  $SRAS_2$ 。
- (2) 若  $AD_1$  移到  $AD_2$ ,  $AD_2$  會移動到  $AD_1$ 。
- (3) 若  $SRAS_1$  移到  $SRAS_2$ ,  $AD_1$  會移動到  $AD_2$ 。
- (4) 若  $SRAS_1$  移到  $SRAS_2$ ,  $SRAS_2$  會移回至  $SRAS_1$ 。

- A. 只有(1)、(3)
- B. 只有(1)、(4)
- C. 只有(2)、(3)
- D. 只有(2)、(4)

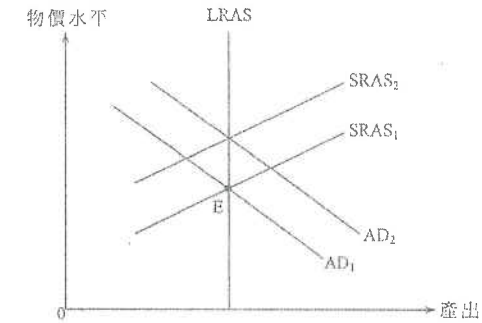
6. SP.MC.Q26

若短期總供應曲線向右上斜, 進口意欲增加會導致實質國民收入 \_\_\_\_\_ 和物價水平 \_\_\_\_\_。

- A. 增加 ..... 上升
- B. 增加 ..... 下降
- C. 減少 ..... 下降
- D. 減少 ..... 上升

7. 2012.MC.Q26

下圖顯示某經濟的總需求 (AD) 曲線, 短期總供應 (SRAS) 曲線及長期總供應 (LRAS) 曲線。E 點是起初的均衡點。

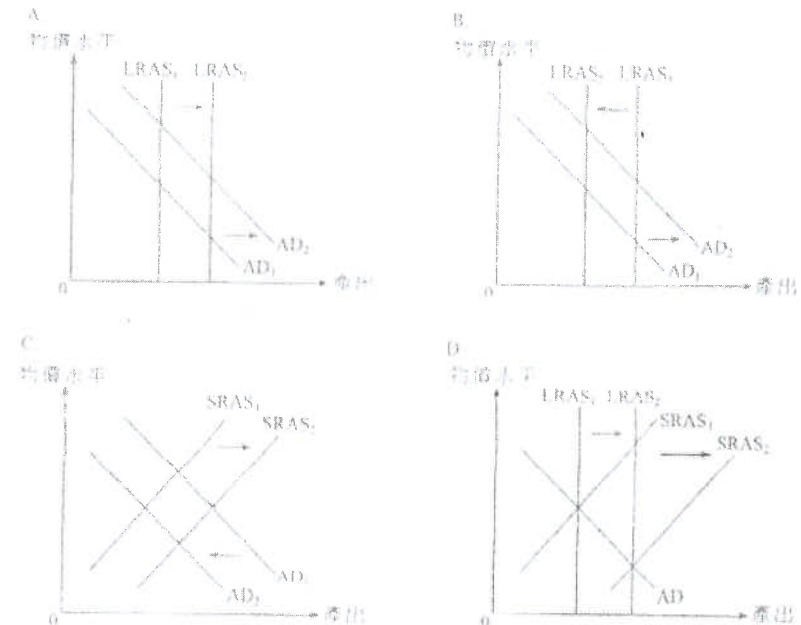


當該國的主要貿易夥伴經濟復甦, 短期而言 \_\_\_\_\_, 而長期而言 \_\_\_\_\_。

- A.  $AD_1$  會移至  $AD_2$ ,  $SRAS_1$  會移至  $SRAS_2$
- B.  $AD_1$  會移至  $AD_2$ ,  $AD_2$  會移回至  $AD_1$
- C.  $SRAS_1$  會移至  $SRAS_2$ ,  $AD_1$  會移至  $AD_2$
- D.  $SRAS_1$  會移至  $SRAS_2$ ,  $SRAS_2$  會移回至  $SRAS_1$

8. 2013.MC.Q29

假設政府大幅增加持續教育的免稅額。下列哪幅圖最能解釋上述改變對物價水平和產出水平的影響?



**通脹及通縮差距**

9. SP.MC.Q36

下列哪項有助解決通貨膨脹差距？

- A. 增加稅項
- B. 增加財政赤字
- C. 增加轉移支付
- D. 增加政府支出

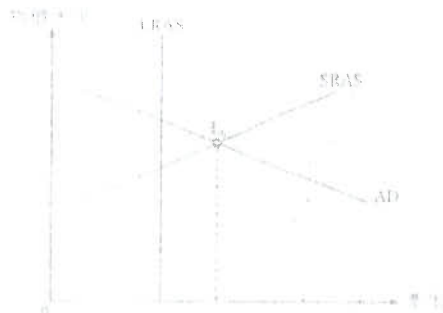
10. PP.MC.Q32

下列哪項有助收窄通縮（產出）缺口？

- A. 法定儲備比率增加
- B. 中央銀行在市場售賣債券
- C. 政府支出增加
- D. 撤銷進口關稅

11. 2013.MC.Q24

下圖顯示某經濟的總需求（AD）曲線，短期總供應（SRAS）曲線及長期總供應（LRAS）曲線。



假設原初該經濟在  $E_0$  運作，這出現了\_\_\_\_\_而\_\_\_\_\_可幫助這經濟回復至長期均衡。

- A. 通脹（產出）差距 ... 增加對貧窮人士的轉移支付
- B. 通脹（產出）差距 ... 增加貼現率
- C. 通縮（產出）差距 ... 增加對貧窮人士的轉移支付
- D. 通縮（產出）差距 ... 增加貼現率

12. 2013.MC.Q31


原初某經濟在全民充分就業均衡運作，而政府支出相等於其稅項收入。下列哪項會導致通縮（產出）差距和赤字預算同時出現？

- A. 減稅
- B. 減少貨幣供應
- C. 減少政府支出
- D. 進口意欲下降

**未有仔細分類**

13. 2014.MC.Q27

物價水平



參考上圖，下列哪項最有可能導致短期總供應曲線由  $SRAS_0$  移至  $SRAS_1$ ？

- A. 放寬外籍家庭傭工的配額
- B. 減少在研究開發方面的補貼
- C. 增加利得稅率
- D. 增加大專教育的學位數量

14. 2014.MC.Q28

香港政府增長長者生活津貼令本地生產總值內的\_\_\_\_\_增加，並引致總需求曲線向\_\_\_\_\_移。

- A. 政府消費支出 ... 右
- B. 政府消費支出 ... 左
- C. 私人消費支出 ... 右
- D. 私人消費支出 ... 左

15. 2014.MC.Q29

若某經濟一個主要貿易夥伴的國民收入下跌，在短期該經濟的就業會\_\_\_\_\_而物價水平會\_\_\_\_\_。

- A. 增加 ..... 上升
- B. 增加 ..... 下跌
- C. 減少 ..... 上升
- D. 減少 ..... 下跌

16. 2014.MC.Q34

下列哪項有關通縮（產出）差距的陳述是正確的？

- A. 當本國的貨幣貶值，通縮（產出）差距會被擴大。
- B. 當市場由短期均衡調整至長期均衡，總需求曲線的向右移動會消除通縮（產出）差距。
- C. 通縮（產出）差距會引致投入的價格有下調壓力。
- D. 若總需求小於短期總供應，通縮（產出）差距便會存在。

17. 2014.MC.Q35

政府可以採用下列哪項政策同時調低物價和失業水平？

- A. 提高貼現率
- B. 增加對中小型企業的補貼
- C. 提高薪俸稅率
- D. 增加社會福利支出

18. 2014.MC.Q38

長期而言，下列哪些政府政策會增加某國的產出？

- (1) 收緊環境保護的法例
- (2) 特赦非法入境者
- (3) 禁止輸入外籍家庭傭工
- (4) 興建更多國際學校以吸引外國人到該國工作

- A. 只有(1)、(3)
- B. 只有(1)、(4)
- C. 只有(2)、(3)
- D. 只有(2)、(4)

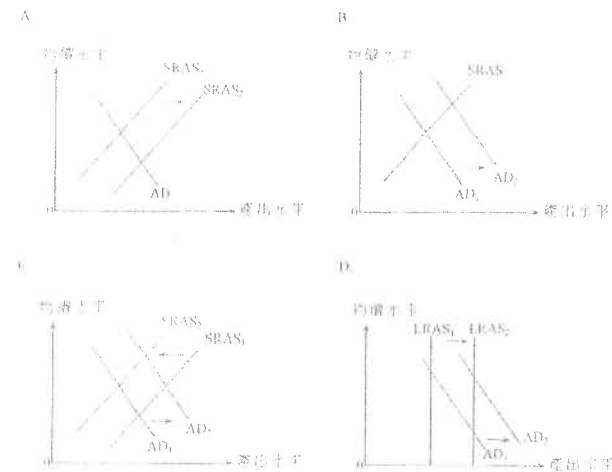
19. 2015.MC.Q26

下列哪項會引致某國的總需求線向右移？

- A. 中央銀行調低貼現率。
- B. 最低工資率提高了。
- C. 一般物價水平下降。
- D. 其貿易夥伴遭逢經濟衰退。

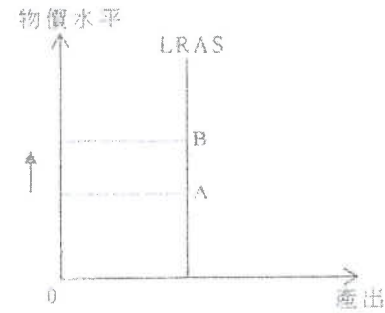
20. 2015.MC.Q27

政府向剛出生的小孩發放現金補貼，直接他們年滿 10 歲。下列哪幅圖最能說明該補貼對經濟二十年後的影響？



21. 2015.MC.Q37

細閱下列的總供應圖。



當經濟由 A 點移至 B 點，下列哪（幾）項不會轉變？

- (1) 實質產出
- (2) 名義產出
- (3) 潛在產出

- A. 只有 (1)
- B. 只有 (2)
- C. 只有 (1)、(3)
- D. (1)、(2) 及 (3)

22. 2015.MC.Q38

某經濟原初運作處於它的長期均衡。下列哪項會令該經濟出現通縮（產出）差距？

- A. 政府提高薪俸稅率
- B. 政府減低利得稅率
- C. 政府投資興建跨境高鐵延線
- D. 中央銀行降低法定儲備比率

23. 2015.MC.Q39

某經濟出現嚴重通脹和收入不均，政府可以藉 \_\_\_\_\_ 以減低物價水平和收窄收入差距。

- A. 增加處理住戶污水的環境稅
- B. 提高薪俸稅及其累進程度
- C. 減少它在社會福利的開支
- D. 減低薪俸稅的個人免稅額

24. 2016.MC.Q26

在下列哪種情況下，某國的總需求會下降？

- A. 該國的物價水平上升。
- B. 該國的主要貿易夥伴的貨幣升值。
- C. 政府的社會福利開支上升。
- D. 法定儲備比率上升。



25. 2016.MC.Q27

若政府興建新的基建，這會令 \_\_\_\_\_ 上升。

- (1) 建築期間的就業人口
- (2) 建築期間的物價水平
- (3) 基建完成後的潛在產出
- (4) 基建完成後的物價水平

- A. 只有 (1)、(2)
- B. 只有 (3)、(4)
- C. 只有 (1)、(2)、(3)
- D. (1)、(2)、(3) 及 (4)

26. 2016.MC.Q28

深圳永久居民往香港的「一簽多行」被「一週一行」所取代。這會令香港的 \_\_\_\_\_ 和 \_\_\_\_\_ 下跌。

- A. 總需求 ... .. 長期產出水平
- B. 總需求 ... .. 長期物價水平
- C. 短期總供應 ... .. 短期產出水平
- D. 長期總供應 ... .. 長期產出水平

27. 2016.MC.Q38

假設政府同時增加支出和入息稅，兩者增加的金額相同。這對總產出的影響屬

- A. 收縮性。
- B. 中性。
- C. 擴張性。
- D. 未能確定。

28. 2016.MC.Q39

假設甲國原初在全民就業均衡下運作，而政府財政達至收支平衡。就短期而言，甲國的貿易夥伴經濟復甦會令甲國出現 \_\_\_\_\_ 及 \_\_\_\_\_。

- A. 通脹 (產出) 差距 ... .. 財政盈餘
- B. 通脹 (產出) 差距 ... .. 財政赤字
- C. 通縮 (產出) 差距 ... .. 財政盈餘
- D. 通縮 (產出) 差距 ... .. 財政赤字

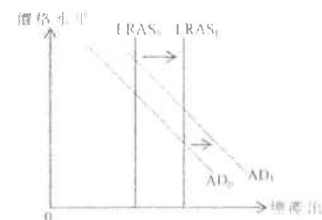
29. 2016.MC.Q40

在下列哪些情況下，財政赤字和貿易逆差可以同時被消除？

- (1) 名義利率下降
- (2) 該經濟的貨幣貶值
- (3) 入息稅上升

- A. 只有 (1)、(2)
- B. 只有 (1)、(3)
- C. 只有 (2)、(3)
- D. (1)、(2) 及 (3)

30. 2017 Q29

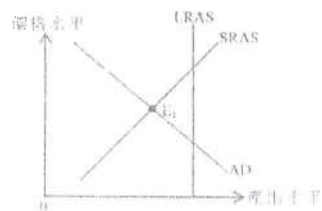


1. 圖顯示某經濟的總需求曲線和短期總供應曲線。下列哪項最能解釋以上的轉變？

- A. 人們的儲蓄意欲下降。
- B. 生產技術提升。
- C. 該經濟的貿易夥伴的國民收入上升。
- D. 政府對私人研究及發展的補貼增加。

31. 2017 Q39

圖顯示某經濟的總需求曲線、短期總供應曲線及長期總供應曲線。

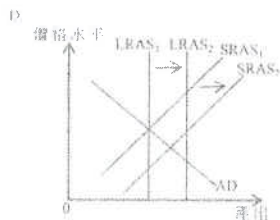
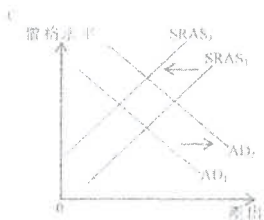
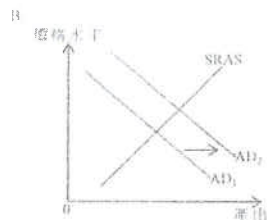
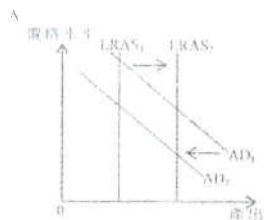


假設該經濟原初在  $E_1$  運作，並進行總值相等於出口總值。若政府減低對老人的社會福利撥款，短期而言，通縮(產出)差距會 \_\_\_\_\_ 並且會出現 \_\_\_\_\_。

- A. 收窄 → 貿易順差
- B. 收窄 → 貿易逆差
- C. 收窄 → 貿易平衡
- D. 擴闊 → 貿易順差

32. 2017 Q40

財政司司長在 2016 年預算案中建議豁免 2016-17 年度的商業登記費，同時將個人基本免稅額由 \$120 000 增加至 \$132 000。下列哪項最能說明上述措施對價格和產出水平的影響？



33. 2018 Q26

在下列哪種情況下，短期總供應曲線會向右移？

- A. 政府放寬輸入外國工人的配額。
- B. 政府提高利得稅率。
- C. 中央銀行向公眾出售政府債券。
- D. 物價水平上升。

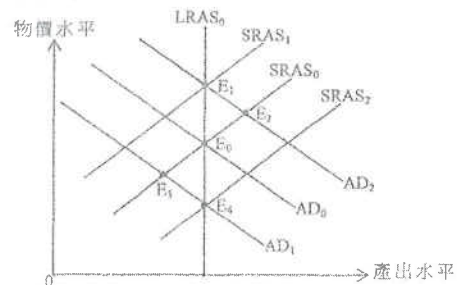
34. 2018 Q27

下列哪項引致物價水平和總產出在短期均會上升？

- A. 生產技術提升。
- B. 油價上升。
- C. 貨幣供應下降。
- D. 人們儲蓄意慾下降。

35. 2018 Q28

下圖顯示某經濟的總需求(AD)曲線、短期總供應(SRAS)曲線及長期總供應(LRAS)曲線，該經濟原初在  $E_0$  運作。



若政府每年向每位市民派發 \$10 000 現金，短期均衡會在 \_\_\_\_\_，而長期均衡會在 \_\_\_\_\_。

- A.  $E_2$  .....  $E_0$
- B.  $E_2$  .....  $E_1$
- C.  $E_3$  .....  $E_0$
- D.  $E_1$  .....  $E_4$

36. 2018 Q36

假設某國出現通縮(產出)差距和財政赤字。下列哪項會同時縮小通縮(產出)差距及減低財政赤字？

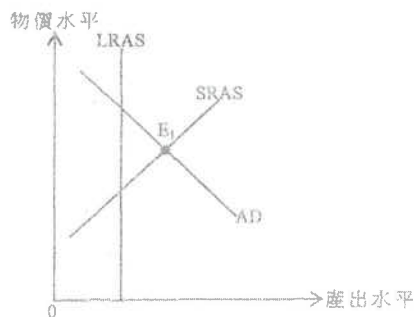
- A. 增加政府的基建支出
- B. 調低利得稅率
- C. 增加薪俸稅的退稅
- D. 容許更多旅客免簽證到該國旅遊

假設某經濟中薪俸稅的基本免稅額下降了。下列哪項可以抵銷其對總需求的影響？

- 人們的儲蓄意慾增加。
- 物價水平下降。
- 中央銀行於公開市場出售政府債券。
- 銀行體系的法定儲備比率下降。

38 2018 Q39

參考以下的總供需圖。



原初該經濟在  $E_1$  運作。下列哪些能幫助該經濟回復至長期均衡？

- 減少對小型企業的補貼
- 提高法定儲備比率
- 減低貼現率
- 減低物業稅

- 只有 (1)、(2)
- 只有 (3)、(4)
- 只有 (1)、(2) 及 (3)
- 只有 (2)、(3) 及 (4)

39 2019 Q27

甲國是石油進口國。下列哪項會令其短期總供應曲線向右移？

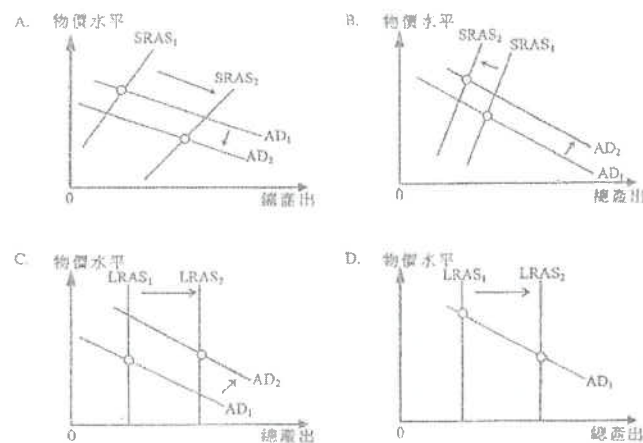
- 所有石油出口國決定增加每日產油量。
- 極端寒冷天氣令甲國大幅增加耗油作保暖用途。
- 甲國政府為減低對石油的依賴，而對新能源的研究提供稅務減免。
- 一場地震破壞了甲國的一座煉油廠。

40 2019 Q38

政府實施下列兩項政策：

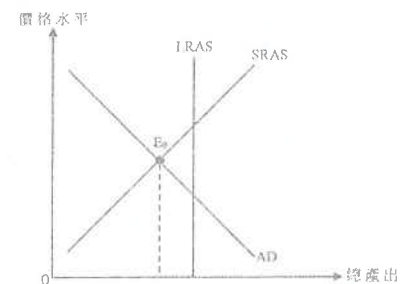
政策一：	減低盈利低於二百萬元之公司之利得稅率。
政策二：	投入五百億元，發展創新科技。

下列哪幅總供需圖最能顯示上述兩項政策對總產出的影響？



41 2020 Q36

下圖顯示某經濟的總需求曲線、短期總供應曲線和長期總供應曲線。



假設該經濟原初於  $E_0$  運作，而總進口值與總出口值相等。若政府減少長者社會保障補助金額，在短期內，通縮（產出）差距會\_\_\_\_\_，並會出現\_\_\_\_\_。

- 收窄 ..... 貿易盈餘
- 收窄 ..... 貿易赤字
- 擴闊 ..... 貿易盈餘
- 擴闊 ..... 貿易赤字

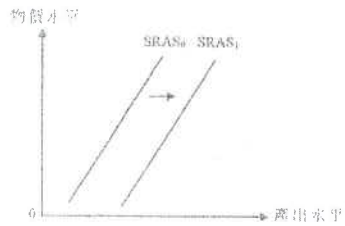
42 2020 Q37

一位經濟學家指出：「我國股票價格持續下挫，已經影響消費支出及貨幣需求。我們應該推出政策以舒緩對產出水平和利率的影響。」下列哪項政策能於短期同時穩定該國的產出水平和利率？

（假設在這種情況下，利率主要受資產貨幣需求的影響。）

- 政府增加對貧困人士的現金津貼。
- 政府提供進口貨品的關稅豁免。
- 中央銀行指示商業銀行收緊私人貸款條件。
- 中央銀行從公眾購入政府債券。

43. 2021 Q27

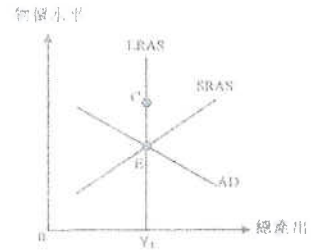


下列哪項是導致短期總供應曲線作以上移動的一個可能原因？

- A. 全球對石油的備量上升，導致生產成本上升。
- B. 公司的利潤隨著物價水平上升而增加，因為產出價格和投入價格之間的差距擴大。
- C. 利率上升，令投資的成本上升。
- D. 在一次大規模罷工後，勞工市場回復正常運作。

44. 2021 Q28

細閱下圖。



某原油進口國的短期均衡點是 E，若新的長期均衡點是 C，下列哪項是均衡點改變的可能原因？

- A. 油價上升。
- B. 生產補貼下降。
- C. 公眾傾向減少儲蓄。
- D. 政府提高薪俸稅率。

45. 2021 Q29

新冠肺炎爆發令某國的就業水平和出口數量顯著下跌。

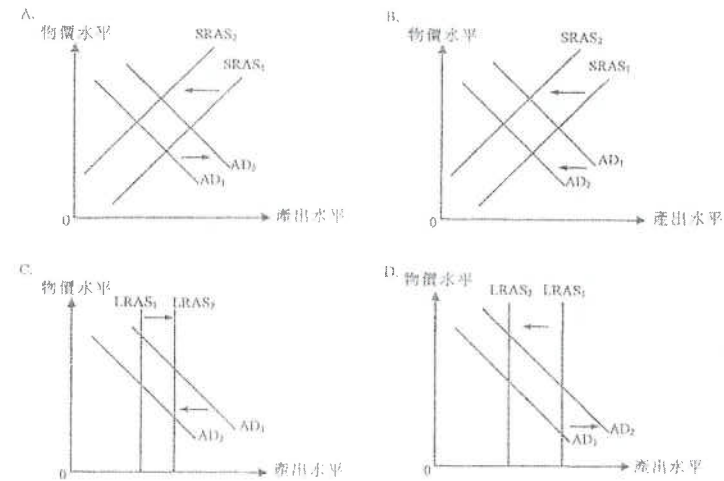
下列哪項政策最能紓緩以上兩個問題？

- A. 中央銀行調低貼現率。
- B. 政府向 18 歲或以上的市民派發現金。
- C. 政府對受負面影響的行業實行「就業支援計劃」。
- D. 該國令其貨幣兌主要貿易伙伴的貨幣官方貶值。

46. 2021 Q36

由於新冠肺炎爆發，大部分航班取消，引致訪港旅客人數大減，同時，本港很多僱員被迫放無薪假期。

下列哪圖最能描述上述事件的後果？



47. 2021 Q37

下列哪項政策可以收窄通縮（產出）差距，並同時減少預算赤字？

- A. 在公開市場購入政府債券
- B. 提高入息稅的免稅額
- C. 減少轉移支付
- D. 提高法定儲備比率

10MC1 答案

1.	A	11.	B	21.	C	31.	D
2.	A	12.	B	22.	A	32.	B
3.	D	13.	A	23.	B	33.	A
4.	C	14.	C	24.	D	34.	D
5.	B	15.	D	25.	C	35.	B
6.	C	16.	C	26.	B	36.	D
7.	A	17.	B	27.	D	37.	D
8.	A	18.	D	28.	A	38.	A
9.	A	19.	A	29.	C	39.	A
10.	C	20.	D	30.	D	40.	C

- 41 C
- 42 D
- 43 D
- 43 C
- 45 D
- 46 B
- 47 A

1. 1994.MC.Q35

根據下表數據，某國在 1991 年處於經濟週期中哪個部分？

年份	1989	1990	1991	1992	1993
本地生產總值實質增長率 (%)	1.5	0.0	2.1	2.8	3.5

- A. 復甦期
- B. 高峰期
- C. 衰退期
- D. 低谷期

2. 1994.MC.Q36

在經濟衰退期間，

- (1) 國民收入有穩定的增長率。
  - (2) 一般物價水平開始上升。
  - (3) 失業率增加。
  - (4) 生產水平下降。
- A. 只有(1)、(2)
  - B. 只有(1)、(4)
  - C. 只有(2)、(3)
  - D. 只有(3)、(4)

3. 1995.MC.Q35

經濟衰退時會出現下列哪些情況？

- (1) 物品及勞務總需求下降。
  - (2) 財政赤字減少。
  - (3) 失業率上升。
  - (4) 國際收支赤字擴大。
- A. 只有(1)及(2)
  - B. 只有(1)及(4)
  - C. 只有(2)及(3)
  - D. 只有(2)及(4)

4. 1996.MC.Q59

下列哪一項並非經濟循環中衰退時期的特徵？

- A. 消費開支減少。
- B. 投資開支減少。
- C. 失業率增加。
- D. 政府有財政赤字，因為她的稅收減少而支出增加。

5. 1997.MC.Q30

某經濟系的失業率下降，物價止跌回升，投資支出擴展。它處於經濟循環中哪一個時期？

- A. 復甦
- B. 高峰
- C. 衰退
- D. 谷底

6. 1998.MC.Q27

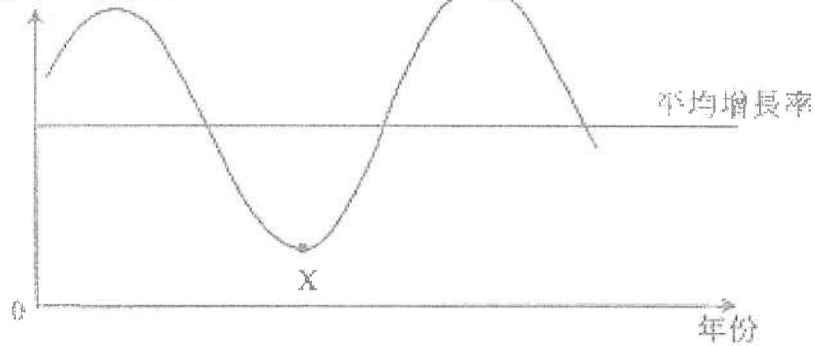
下列哪一項顯示某經濟體系正開始從蕭條中復甦？

- A. 物價水平正在下跌。
- B. 政府財政赤字正在增加中。
- C. 對外收支赤字正在減少。
- D. 就業比率正在上升。

7. 1999.MC.Q27

下圖中，X 標示經濟周期中某一時期。下列哪一項是該時期的特徵？

實質國民生產總值變動百分率



- A. 實質國民生產總值的增長率是零。
- B. 名義國民生產總值高於實質國民生產總值。
- C. 該經濟的投資支出是零。
- D. 高失業率。

8. 1999.MC.Q28

根據政府所言，香港在 1998 年經歷經濟衰退，因為連續三個季度的

- A. 失業率上升。
- B. 平均工資下降。
- C. 一般物價水平下降。
- D. 實質本地生產總值有負增長。

9. 2000.MC.Q37

下面的現象是在某經濟裏觀察到的：

- (1) 工業生產量在上升軌軌
- (2) 進口及出口增加
- (3) 零售收益出現增長
- (4) 經濟增長預測向上修訂

該經濟是處於經濟週期中的哪一個時期？

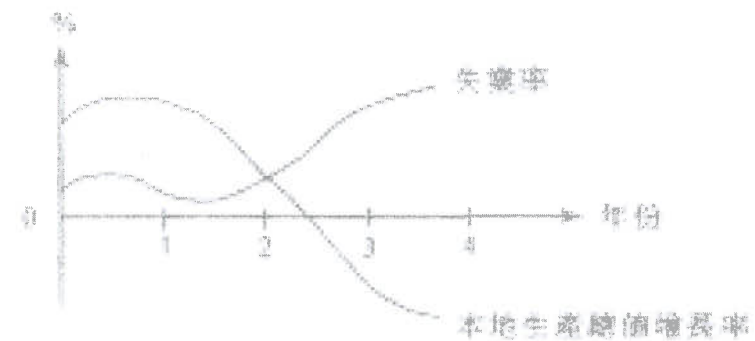
- A. 頂峰
- B. 衰退
- C. 谷底
- D. 復甦

10. 2001.MC.Q38

若香港正處於經濟週期中的復甦期，

- A. 政府支出會增加。
- B. 稅收佔政府總收入的比例會減少。
- C. 政府的直接稅稅收會增加。
- D. 政府的財政預算會出現盈餘。

11. 2002.MC.Q28



上列資料顯示該經濟第 3 年處於\_\_\_時期。

- A. 衰退
- B. 蕭條
- C. 復甦
- D. 繁榮

12. 2004.MC.Q32

當一經濟處於復甦時期，

- (1) 零售收益會增加。
- (2) 政府會有財政盈餘。
- (3) 失業率會下跌。
- (4) 國際收支赤字會減少。

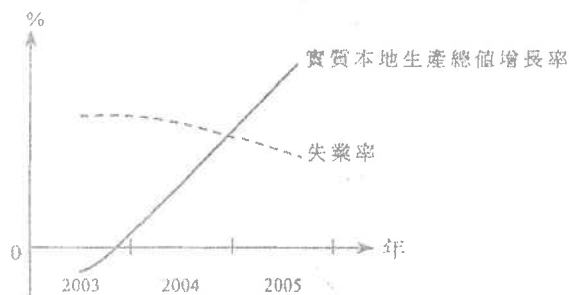
- A. 只有(1)、(3)
- B. 只有(1)、(4)
- C. 只有(2)、(3)
- D. 只有(2)、(4)

13. 2005.MC.Q31

某經濟的失業率下降，物價止跌回升，投資支出增加。這經濟正處於經濟周期中哪一個時期？

- A. 復蘇
- B. 高峰
- C. 衰退
- D. 谷底

14. 2006.MC.Q27



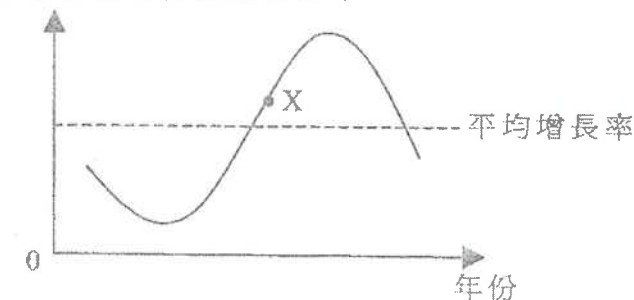
根據上圖資料，該經濟在2004年是處於 \_\_\_\_\_ 時期。

- A. 復蘇
- B. 繁榮
- C. 衰退
- D. 蕭條

15. 2007.MC.Q31

下圖中，X標示經濟周期中某一個時期。下列哪一項是該時期的特徵？

### 實質本地生產總值變動百分率



- A. 一般物價水平正在下降。
- B. 消費支出正在下降。
- C. 國際收支帳盈餘正在增加。
- D. 投資水平正在增加。

16. 2008.MC.Q29

在經濟 \_\_\_\_\_ 時期，實質本地生產總值的改變百分比 \_\_\_\_\_。

- A. 衰退 ... 可能是負值
- B. 復甦 ... 等於通脹率
- C. 繁榮 ... 會是一個常數
- D. 蕭條 ... 會是一零

17. 2009.MC.Q31

在某經濟中有如下的觀察：

- 零售界銷售總值正在下降。
- 申請破產的個案正在增加。
- 通貨膨脹率正在下降。
- 向下修訂對經濟增長的預測。

該經濟正處於經濟周期中哪一個時期？

- A. 頂峯
- B. 衰退
- C. 谷底
- D. 復甦

18. 2010.MC.Q31

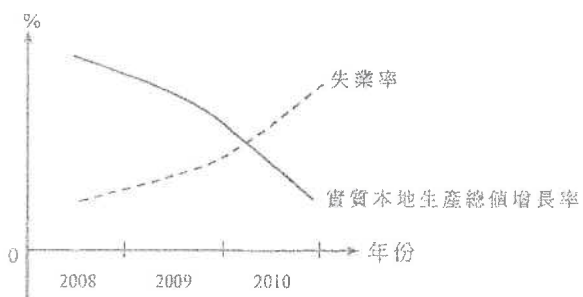
在某經濟裡出現下列現象：

- Ⓐ 零售業的收入正在增加
- Ⓑ 製造業的就業人口正在增加
- Ⓒ 股票價格正在上升
- Ⓓ 實質本地生產總值增長率的預期被調高

該經濟處於經濟周期中哪一個時期？

- A. 頂峯
- B. 衰退
- C. 谷底
- D. 復甦

19. 2011.MC.Q33



根據以上資料，該經濟在2009年是處於 \_\_\_\_\_ 期。

- A. 衰退
- B. 蕭條
- C. 復甦
- D. 繁榮

20. 2013.MC.Q33

某經濟出現下列現象：

- (1) 失業率正上升。
- (2) 通脹率不再上升而是下降。
- (3) 生產商的存貨正增加。
- (4) 經濟增長的預測被調低了。

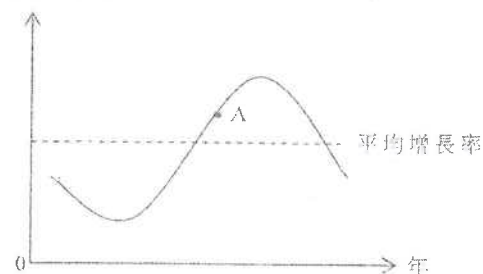
該經濟正處於經濟週期的 \_\_\_\_\_ 階段。

- A. 衰退
- B. 低谷
- C. 復甦
- D. 高峰

21. 2014.MC.Q39

下圖中，A標示經濟周期中的某一時期。

實質本地生產總值  
轉變的百分率



在A點，該經濟的 \_\_\_\_\_ 會上升。

- (1) 勞工就業水平
  - (2) 一般物價水平
  - (3) 公司的銷售額
  - (4) 轉移支付
- A. 只有(1)、(2)
  - B. 只有(3)、(4)
  - C. 只有(1)、(2)及(3)
  - D. (1)、(2)、(3)及(4)

10MC2 答案

1.	A	11.	A	21.	C
2.	D	12.	A	22.	
3.	A	13.	A	23.	
4.	D	14.	A	24.	
5.	A	15.	D	25.	
6.	D	16.	A	26.	
7.	D	17.	B	27.	
8.	D	18.	D	28.	
9.	D	19.	A	29.	
10.	C	20.	A	30.	



1. 1991.Q1(a)(i)

下表顯示香港政府各類收入來源的相對比重：

財政年度	直接稅(%)	間接稅(%)	其他收入(%)
85/86	35.4	25.8	38.8
86/87	35.6	28.7	35.7
87/88	37.0	28.5	34.5
88/89	41.0	26.0	33.0
89/90	43.0	24.0	33.0

(i) 就每類政府收入來源各舉一例。(3分)

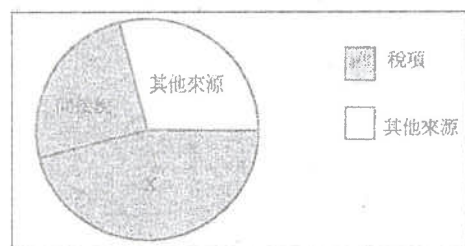
2. 1992.Q5(c)(i)

新機場已定於赤鱗角興建。

除了印製鈔票外，政府還有甚麼可行方法籌集足夠資金以興建新機場？列舉其中三項。這些方法對香港經濟有甚麼不利之處？試各舉一項。(9分)

3. 1997.Q7

下表顯示香港政府的不同收入來源。



- (a) 寫出 X 的名稱。(1分)  
 (b) 解釋為甚麼政府從來源 X 得到的財政收入並不穩定。(4分)

4. 2004.Q9(a)

香港正面對巨額財政赤字及通縮問題。

分別就下列每一種情況，解釋政府支出和政府收入如何受到影響。

- (i) 香港經濟下滑 (4分)  
 (ii) 香港人口老化 (4分)

5. 2005.Q11(b)

【「更緊密經貿關係安排」或「緊貿安排」其中兩項措施如下：

1. 九成香港製造的產品輸往中國內地可享零關稅  
 11. 以香港為基地的18個服務行業，更快更易進入內地市場  
 結果，並非以香港作為基地的海外廠商可以夥拍香港一些符合緊貿安排條件的製造商或服務廠商來享受緊貿安排的優待。】

資料來源：香港特區政府，2005年1月8日

(b) 解釋上述措施會如何影響香港的直接稅收益。(4分)

6. 2006.Q11b(i)(i)及(ii)

有兩個話題與香港政府的財政有關：「稅基狹窄」和「政府財政收益不穩定」。

- (i)(i) 假設香港開徵普及銷售稅。解釋這對香港的稅基的影響。(2分)  
 (ii) 解釋在經濟強勁復蘇時，利得稅稅收與薪俸稅稅收會怎樣受影響。(4分)

7. 2009.Q11(a)

公司利得稅稅率從17.5%減至16.5%。解釋政府的利得稅收益會否因利得稅稅率下降而必然減少。(4分)

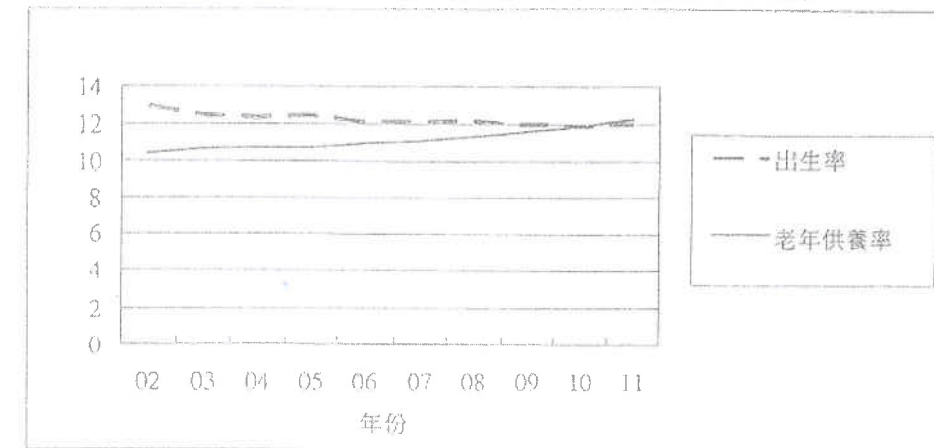
8. 2011.Q11(c)

解釋物業市道暢旺會怎樣影響政府的直接稅收益。(3分)

9. 2014.Q10(a)

人口老化在中國是一個嚴重的問題。

下列資料一顯示由2002至2011年在中國的老年供養率\*和出生率\*\*的趨勢。



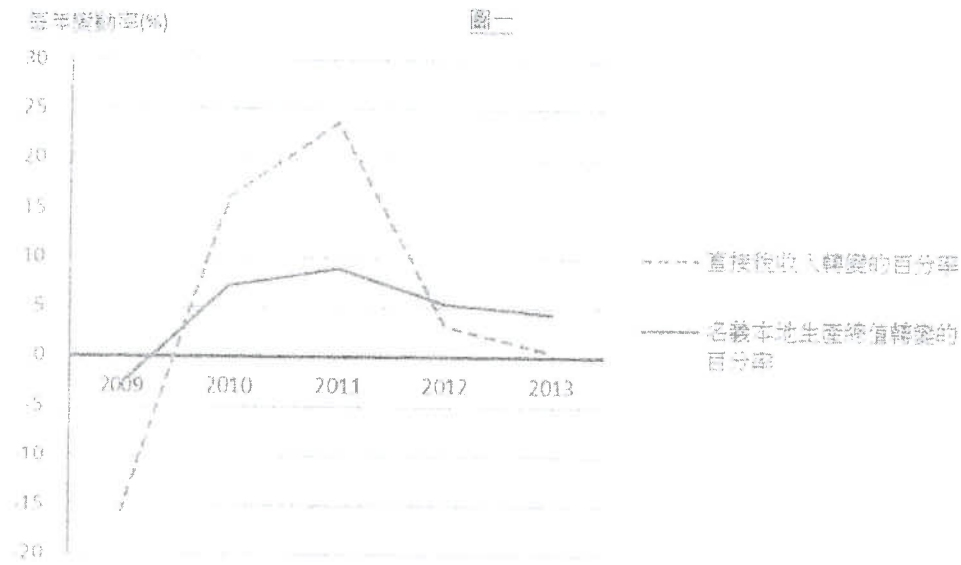
\* 老年供養率是指老年人口對工作年齡人口的比率(以百分率表示)。

\*\* 出生率是指每一千人口中的總出生人數。

- (a) 參考資料一所顯示的趨勢，簡略討論  
 (i) 未來的政府稅收可能的改變。  
 (ii) 未來的公共醫療及福利支出可能的改變。(4分)

10. 2015.Q11(a),(b)

圖一顯示香港 2009 年至 2013 年直接稅收入和名義本地生產總值轉變的百分率。



- (a)
- (i) 參考圖一，描述 2009 年至 2013 年直接稅收入轉變的百分率和名義本地生產總值轉變的百分率兩者的關係，並比較它們的趨勢。(2 分)
- (ii) 簡單解釋你在 (a)(i) 所述的關係。(2 分)
- (b) 一名會計師指出香港的稅基狹窄，建議政府應開徵新種類的間接稅。舉出一個例子，解釋開徵新的間接稅如何會擴闊稅基。(2 分)

- 1991.Q1(a)(i)
- 1992.Q5(c)(i)
- 1997.Q7
- 2004.Q9(a)
  - 經濟下滑使綜援支出及失業救濟增加，導致政府支出增加。另一方面，更多人失業使薪金、利潤及租金收入都減少，導致政府收入減少。
  - 人口老化使社會服務需求增加，導致政府支出增加。另一方面，勞動人口比例下降，導致政府收入減少。
- 2005.Q11(b)
  - 投資增加會增加就業人數  
導致薪俸稅稅收增加
  - 更多生意會增加利潤  
導致利得稅稅收增加
  - 對辦公室及廠房需求增加會增加租金收入  
導致物業稅稅收增加

∴ 直接稅稅收增加

最高：3
- 2006.Q11b(i)(I)及(ii)
  - (I) [在私人消費開支、公司盈利、就業人數和薪俸沒有受到嚴重負面影響的前提下，]  
香港的稅基將會擴闊，因為在開徵普及銷售稅前，大部分貨品和服務都不用徵收稅款；但在普及銷售稅下，大部分貨品和服務都須徵稅。  
(II) 該稅屬間接稅，因為該稅項負擔可由生產者轉嫁至消費者身上。
  - 就業人數 ↑ ⇒ 工資 ↑  
⇒ 薪俸稅稅收 ↑  
  
生意額增多/投資 ↑ ⇒ 利潤 ↑  
⇒ 利得稅稅收 ↑
- 2009.Q11(a)
 

利得稅稅率的下降可推動更多商業投資及使利潤增加。

否，因為由利潤增加所導致的政府稅收增加，有可能足以彌補由利得稅稅率減低所導致的稅收減少。

8. 2011.Q11(c)

- |  |  |               |
|--|--|---------------|
| 從利得稅收取的直接稅收益 ↑<br>∴ 利潤 ↑<br>∴ 物業代理及銀行等的營業額增加 / 投資 ↑ / 營業的盈利增加<br>或<br>從薪俸稅收取的直接稅收益 ↑<br>∴ 工資 ↑<br>∴ 就業 ↑<br>或<br>從物業稅收取的直接稅收益 ↑<br>∴ 租金收入 ↑<br>∴ 對租賃服務需求 ↑ | 1<br>1<br>1<br>1<br>1<br>1<br>1<br>1<br>1<br>1<br>1<br>1 | 任何一項，<br>最高：3 |
|--|--|---------------|

9. 2014.Q10(a)

- (a) (i) 出生率下降意味著工作人口的增長放緩，可能令未來的工作人口較少。較少的工人支付各樣稅項，可能令稅收下降。 (2)
- (ii) 老人供養率上升意味著長者佔人口的百分率未來會較高。長者的收入較低(甚至零收入)及對醫療服務有較大的需要。這可能需要政府在福利和公共醫療服務方面更大的支持。這意味著公共福利和醫療支出上升。 (2)

10. 2015.Q11(a),(b)

- (a)(i) 直接稅收入轉變的百分率和名義 GDP 轉變的百分率往往有相同的移動方向。前者的波幅較後者的大。 (2)
- (ii) 對入息徵課的直接稅(如薪俸稅和利得稅)，甚受宏觀經濟影響。當該經濟增長(GDP 增長)，薪金和利潤也會增加，故所徵取的稅收也會增加。累進稅制是解釋直接稅收入波幅較 GDP 的(波幅)大的一個可能原因。 (2)
- (b) 新類型的間接稅，如一般銷售稅或增值稅，令更多人 / 商品 納入稅網，故能擴闊稅基。 (2)

1. 1990.Q5(a)

解釋一個政府在增設新的稅收項目時，須考慮的其中三項賦稅原則。 (6 分)

2. 1993.Q5(b)

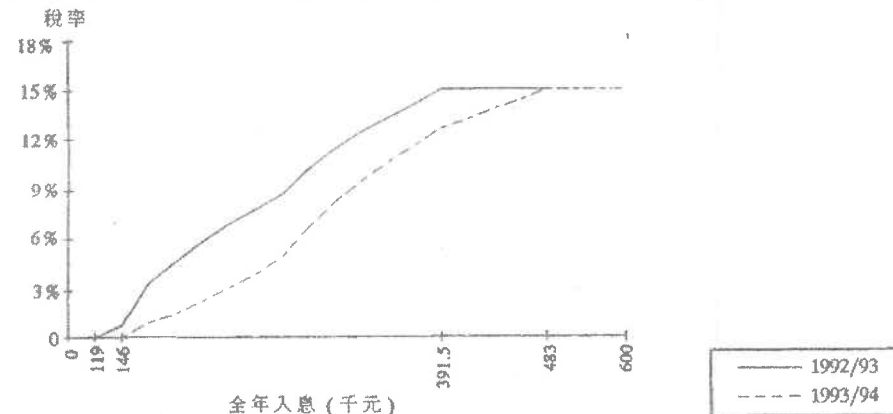
- 如果陳先生將樓宇出租收取租金，他須向香港政府繳付物業稅。
- (i) 解釋物業稅是一項累進稅、累退稅還是比例稅。 (3 分)
- (ii) 從納稅人的觀點，物業稅符合若干賦稅原則。闡述其中兩項原則。 (6 分)

3. 1994.Q7

- (a) 指出下列每一稅項是屬於直接稅還是間接稅：
- (i) 物業稅 (2 分)
- (ii) 差餉 (4 分)
- (b) 解釋物業稅與差餉在稅的歸留方面有何區別。 (4 分)

4. 1994.Q10(b)

香港政府將 1993/94 財政年度薪俸稅制加以修訂。下圖可說明其中若干變動：



\*上圖顯示一個典型的單收入四人家家庭的實際稅率。

參閱上圖作答。

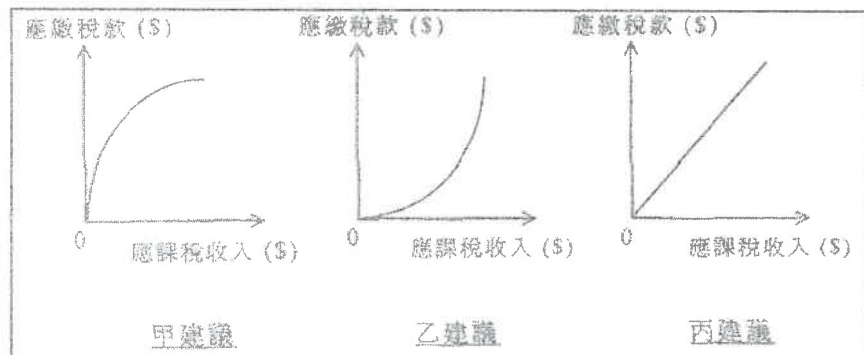
- (i) 解釋圖示入息範圍內薪俸稅是累進的、累退的或是比例的。 (4 分)
- (ii)(i) 圖示稅制有何主要改變？指出其中兩項。 (4 分)
- (ii)(II) 設其他因素不變，圖示兩種稅制哪一種會導致本港的收入分配較為平均？並加以解釋。 (6 分)
- (iii) 舉出一項理由解釋為何在稅制改變後，政府從這類家庭徵收到的薪俸稅稅收可能會有所增加。 (3 分)

5. 1995.Q5

寫出累進稅與比例稅的定義，並各舉一個本地例子。 (6 分)

6. 1998.Q5

下圖所示為某經濟體系對徵收某項入息稅所提出的三個建議：



試就應繳稅款與應課稅收入的關係，解釋上述三個建議有何不同，然後指出哪一個建議最能有效地導致較為平均的收入分配。(7分)

7. 1999.Q8

應繳稅收入	\$10,000	\$20,000	\$30,000
稅款	\$1,000	\$1,900	\$2,700

解釋上表所描述的稅項是否一項累進稅。列出你的計算步驟。(5分)

8. 1999.Q10(c)

吳先生是香港市民。他在中國大陸設廠，賺獲利潤。

- (i) 解釋吳先生是否要向香港政府繳交利得稅。(2分)
- (ii) 吳先生使用香港國際機場前往中國內地，他要向香港政府繳交何種稅項？這裏應用了甚麼賦稅原則？(2分)

9. 2000.Q9(a)

細閱以下資料：

汽油帳單	
售出數量：	50 公升(L)
每公升價格：	3.780 S/L \$189
政府抽稅：	6.060 S/L \$303
銷售總額：	\$492

- (i) 寫出累退稅的定義，並解釋上述汽油稅是屬於累進的、比例的還是累退的。(5分)
- (ii) 從經濟角度上，提出兩個原因來解釋為何政府徵收汽油稅。(4分)

10. 2001.Q7(a)

假設香港政府開徵一項普及銷售稅。

- (a) 解釋銷售稅是一項直接稅還是間接稅。(2分)
- (b) 解釋開徵普及銷售稅對香港收入分配的影響。(3分)

11. 2002.Q8

列舉並解釋亞當史密夫賦稅原則的其中兩項。(4分)

12. 2003.Q8

寫出兩項理由解釋為何香港政府的直接稅收益在經濟衰退時會下降。(4分)

13. 2003.Q10(d)

新進口汽車首次登記稅以車價的一個固定百分比徵稅。解釋該稅項是否屬於比例稅。(3分)

14. 2004.Q10(c)

在香港，每位成人飛機乘客的機場離境稅是\$120。解釋該稅項屬累進稅、比例稅，還是累退稅。(3分)

15. 2005.Q8

除了「方便」和「經濟」以外，解釋亞當史密夫所提出的兩項賦稅原則。(4分)

16. 2006.Q11(b)(i)(II)

解釋普及銷售稅屬直接稅還是間接稅。(2分)

17. 2007.Q9(a),(b)

- (a) 解釋一經濟開徵普及銷售稅會如何影響該經濟直接稅稅收與間接稅稅收的比(即：直接稅稅收除以間接稅稅收)。(2分)
- (b) 解釋經濟衰退會如何影響該經濟直接稅稅收與間接稅稅收的比。(5分)

18. 2008.Q8

香港政府對紅酒以其價值的40%徵收消費稅。

- (a) 解釋該稅項是累進的、累退的，還是比例的。(4分)
- (b) 解釋該稅項是直接稅還是間接稅。(2分)

19. 2009.Q11(b)

大部分物業的差餉都獲寬免。解釋差餉是一項直接稅還是間接稅。(2分)

20. 2010.Q6

除了「明確」和「方便」以外，簡釋亞當史密夫所提出的兩項賦稅原則。(4分)

21. 2011.Q11(d)

政府對於6個月內轉售的住宅物業開徵一項相等於物業售價15%的額外印花稅，目的是壓抑物業市場的投機活動。

解釋該項額外印花稅是一項累進稅、累退稅還是比例稅。(3分)

22. 2017.6b

(b) 從香港直接稅中，舉出一項是符合亞當斯密所提出的「公平」賦稅原則。解釋你的答案。(2分)

23. 2018.6B

政府建議利得稅制度作出以下的轉變：

利潤	現行稅制	新的階級稅制
首2,000,000元	16.5%	8.25%
餘額		16.5%

- (a) 以上稅制的轉變會否必然令利得稅收入下降？試加解釋。  
 (b) 依據亞當斯密所提出的一項賦稅原則，評價以上稅制轉變。

- 1990.Q5(a)
- 1993.Q5(b)
- 1994.Q7
- 1994.Q10(b)
- 1995.Q5

累進稅：收入增加時稅率上升 2

本地一例：薪俸稅/遺產稅 (只批閱首個例子。) 1

比例稅：收入增加時稅率不變 2

本地一例：按標準稅率繳納的薪俸稅/利得稅/物業稅 (只批閱首個例子。) 1

6. 1998.Q5

- 甲建議：當應課稅收入增加時，所繳稅款佔應課稅收入的比例下降。  
 乙建議：當應課稅收入增加時，所繳稅款佔應課稅收入的比例上升。  
 丙建議：當應課稅收入增加時，所繳稅款佔應課稅收入的比例不變。

乙建議最為有效。

7. 1999.Q8

稅額與收入之比率

$$\text{平均稅率是：} \frac{\$1000}{\$10000} = 10\% ; \quad \frac{\$1900}{\$20000} = 9.5\% ; \quad \frac{\$2700}{\$30000} = 9\%$$

或

$$\text{邊際稅率是：} \frac{\$1900 - \$1000}{\$20000 - \$10000} = 9\% ; \quad \frac{\$2700 - \$1900}{\$30000 - \$20000} = 8\%$$

結論：不是累進稅。

因為：邊際稅率下跌 / 平均稅率下跌 / 可稅收入增加時，稅額以較慢速率增加。 3

或

邊際稅率並非上升 / 平均稅率並非上升 / 可稅收入增加時，稅額並非以較快速率增加。 3

8. 1999.Q10(c)

(i) (不需要) 以收入來源作為徵稅的原則，或其收入不是在  
香港賺獲的。 2

(ii) 機場離境稅。  
公平原則 / 明確原則 / 方便原則 / 經濟原則。 1

9. 2000.Q9(a)

(i) 累退稅是一種稅項，其稅率隨收入增加而減少。

2

[ 消費者若購買相同數量的汽油，所支付的汽油稅額也相等。  
 => 與個人收入相比，富人所支付的汽油稅率較窮人為低。  
 ∴ 汽油稅是累退稅。 ]

3

(ii) - 重新分配資源：多使用公共交通工具，少用私家車  
 - 稅收來源之一  
 - 任何一個其他相關的經濟理由  
 [ 只批閱首兩項。 ]

2 @,  
最高：4

10. 2001.Q7(a)

(a) 間接稅  
 ∴ 賦稅負擔可轉移至他人（買家）身上。

2

11. 2002.Q8

(稅率相等 -) 所繳稅款應與納稅人的收入成一比例。  
 (明確/肯定 -) 納稅人的賦稅責任(例如：繳稅的時間、繳稅的方式和繳納多少稅款)應有明確的界定，政府不能隨意更改或任意解說。  
 (便利/方便 -) 繳稅的方式及時間應該是盡量方便納稅人的。  
 (簡省/經濟 -) 相對於所收取的稅款數額來說，應盡可能以最低的行政費用來收取稅款。

2 @,  
最高：4

[ 只批閱首兩項。 ]

12. 2003.Q8

以下的原因可說明該現象：

- 失業增加或減薪導致薪俸稅稅收減少
- 較少利潤或有廠商結業導致利得稅稅收減少
- 租金收入減少或較少租客導致物業稅稅收減少
- 資產價值減少導致遺產稅稅收減少

13. 2003.Q10(d)

否。因為納稅人收入上升時，稅率並非固定 / 稅率下降。

14. 2004.Q10(e)

累退稅，因為收入不同但徵稅額相同。換句話說，稅率隨收入增加而下降。

15. 2005.Q8

(稅率相等 -) 所繳稅款應與納稅人的收入成一比例。

2

(明確/肯定 -) 納稅人的賦稅責任(例如：繳稅的時間、繳稅的方式和繳納多少稅款)應有明確的界定，政府不能隨意更改或任意解說。

2

16. 2006.Q11(b)(i)(II)

(II) 該稅屬間接稅，因為  
 該稅項負擔可由生產者轉嫁至消費者身上。

1

1

17. 2007.Q9(a),(b)

(a) 直接稅稅收與間接稅稅收的比會下降，因為  
 間接稅稅收會增加。

1

1

(b) 經濟衰退有如下的現象：  
 本地生產總值 ↓ / 就業人口 ↓ / 工資 ↓ / 利潤 ↓ / 私人消費 ↓ / 物業及股票交投量  
 及價格 ↓

1 @,  
最高：2

結果，

(1) 直接稅稅收 ↓  
 例子：利得稅稅收 ↓ / 薪俸稅稅收 ↓ / 物業稅稅收 ↓

1

(2) 間接稅稅收 ↓  
 例子：普及銷售稅稅收 ↓ / 印花稅稅收 ↓ / 差餉收入 ↓ / 等等。

1

所以，不能確定經濟衰退對直接稅稅收與間接稅稅收的比的影響。

1

[備註：私人消費的波動一般較收入的波動為低，可導致直接稅稅收與間接稅稅收的比下降。]

18. 2008.Q8

(a) 累退稅，因為  
 - 所有顧客購買同一瓶紅酒都付出相同的稅款。  
 - 高收入者在比例上付出較少的稅款 / 稅率隨收入增加而下降。

1

1

2

(b) 間接稅，因為  
 紅酒商人可將稅項負擔轉嫁給消費者。

1

1

19. 2009.Q11(b)

間接稅  
 因差餉可由業主轉嫁給租客。

1

1

20. 2010.Q6

- (稅率相等：) 所繳稅款應與納稅人的收入成一比例。  
 - (經濟：) 應盡可能以最低的行政費用來收取稅款。  
 [ 只批閱首兩項。 ]

2

2

21. 2011.Q11(d)

累退稅。  
 較高收入人士所繳稅款佔收入較小比例 / 稅率隨收入增加而下降。

1

2

22. 2017.6b

(b) 薪俸稅的標準稅率 / 利得稅 / 物業稅： (2)  
 因為每位納稅人所付的稅款額佔其各類來源（薪金 / 利潤 / 物業）的  
 收入的比例均屬相同。  
 [ 只批閱首項 ]

- (9) 公平：新稅不再是按比例徵收，故此不符合公平原則。  
 經濟：新稅制所涉的行政成本略高，較不符合經濟原則。  
 穩定：新稅制和舊稅制同樣清晰並向公眾公佈，故此和以前無異。  
 方便：徵收稅項的方法沒有轉變，故此稅改沒有影響方便原則。  
 [只批閱此項]

@2  
最高：2

## 1. 1990.Q5(b)

設香港政府實施以下徵稅政策：

- 甲政策 對全部商品開徵 3%銷售稅  
 乙政策 將標準稅率減低 3%

分別解釋以上每項政策如何影響

- (i)貧富間的所得分配。(假設在香港，以消費開支佔收入的百分率來說，窮人較富人為高。)(8 分)  
 (ii)一般物價水平。(6 分)

## 2. 1991.Q1(a)(ii),(iii)

下表顯示香港政府各類收入來源的相對比重

財政年度	直接稅(%)	間接稅(%)	其他收入(%)
85/86	35.4	25.8	38.8
86/87	35.6	28.7	35.7
87/88	37.0	28.5	34.5
88/89	41.0	26.0	33.0
89/90	43.0	24.0	33.0

- (ii)根據以上資料，直接稅佔政府收入相對比重在這五年間的趨勢為何？(2 分)  
 (iii)下列各項怎樣影響間接稅佔政府收入的相對比重？試分別加以解釋。  
 (I)開徵銷售稅 (4 分)  
 (II)香港經濟衰退 (8 分)

## 3. 1993.Q5(d)

有建議開徵資產增值稅如下：若業主將本港樓宇轉售獲利，該業主須繳納此稅。試從政府的觀點，列舉贊成及反對該建議的理由各二。(4 分)

## 4. 1996.Q12(d)

香港的製造業工人正面臨失業率上升的問題。

假設政府以提高薪俸稅的累進程度來設立失業救濟金予失業人士。解釋這會如何影響香港的收入分配。(4 分)

## 5. 1997.Q9(d)

設政府在新界西北興建一條鐵路。

設政府開徵一項普及銷售稅以支付新鐵路的興建費用。解釋該稅項對下列各項有何影響：

- (i)本港的物價水平 (2 分)  
 (ii)本港的收入分配 (3 分)

## 6. 1998.Q7(b)

假設香港的薪俸稅免稅額維持不變。解釋在通脹發生時，為甚麼該項的稅收總額會上升。(3 分)

## 7. 2000.Q8

在 1999 年，政府將薪俸稅和利得稅的 10%退還予納稅人。解釋這會如何影響低收入人士與高收入人士之間的財富差距。(4 分)

8. 2001.Q7b  
 假設香港政府開徵一項普及銷售稅。  
 (b) 解釋開徵普及銷售稅對香港收入分配的影響 (3分)

9. 2001.Q11b  
 假設政府大幅削減物業買賣的印花稅。解釋這會怎樣影響  
 (i) 對建築業的投資；  
 (ii) 在建築業裏的就業機會 (4分)

10. 2012.Q4(b)  
 解釋增加薪俸稅的標準稅率會如何影響香港的除稅後基尼系數。 (3分)

11. 2017.6a  
 (a) 在經濟轉差時，為什麼開徵普及銷售稅能穩定政府收入？

12. 2018.6A  
 政府建議將利得稅制度作出以下的轉變：

利潤	現行稅制	新的兩階稅制
首 2,000,000 元	16.5%	8.25%
餘額		16.5%

(a) 以上稅制的轉變會否必然令利得稅收入下降？試加解釋。

1. 1990.Q5(b)  
 2. 1991.Q1(a)(ii),(iii)  
 3. 1993.Q5(d)  
 4. 1996.Q12(d)

提高累進程度使薪俸較高人士的稅項負擔與低收入人士/失業者來相比，增加得較快。 2

提供失業救濟金有利於低收入人士/失業者，而非高收入人士。  
 ∴ 收入分配更平均。 1

5. 1997.Q9(d)  
 6. 1998.Q7(b)  
 通脹期間，人民的名義收入上升。  
 免稅額不變時，更多人被納入稅網內或進入更高稅階納稅。 2

7. 2000.Q8  
 將高收入人士獲退回的稅款與低收入人士獲退回的稅款作出正確的比較：  
 例一：高收入納稅人獲退回的稅款較低收入納稅人的為多。  
 例二：政府只退稅給納稅人，並非納稅人的窮人則沒有獲得任何退款。 3

這會擴大財富差距。 1

8. 2001.Q7(b)  
 (b) 前者將他們大部分收入花費在購買物品和服務上，  
 或  
 不同收入人士若購買相同的物品要繳付相同的稅款。 1

∴ 低收入人士有較高比例的收入被徵稅。 1

∴ 普及銷售稅會使收入分配更不公平。 1

[註：只提及結論而無解釋：零分]

9. 2001.Q11(b)  
 需求方面：交易成本 ↓ ⇒ 買樓意欲 ↑ 及交易數量 ↑ 1  
 供應方面：建築業的生意數量 / 價值 ↑ ⇒ 建築業擴展生產及對建築工人的引中  
 需求 ↑ 1

∴ (i) 投資 ↑ 1  
 (ii) 就業機會 ↑ 1

[註：只提及結論而無解釋：零分]

10. 2012.Q4(b)  
 較小，因為 (1)  
 較高收入的組別除稅後收入會下降，而較低收入組別的收入維持不變。 (2)



11 2017 6a

- (a) 消費的波動較收入的波動少。故此在經濟下滑時從消費抽取的銷售稅收入減幅較從收入抽取的入息稅收入少，故政府的總收入較穩定。

邊  
際徵普及銷售稅擴闊了稅基，所以稅收波動較少。

分數  
(2)

靈  
(2)

12 2018 6A

- (a) 不會，利得稅率下降可能會令廠商的投資支出上升，他們賺取的利潤(稅務)可能上升，由利潤(稅基)上升引致利得稅收入的上升可能大於由稅率下降引致利得稅收入的下降。

分數  
(4)

經濟科 11D 公共財政(4) 財政政策 問答題 (1990-2015)

1. 1993.Q5(e)  
財政政策的一般目標是甚麼？試述其中三項。

(6分)

2. 2013.Q8

假設某政府正面對財政赤字。一些政客提議政府應提高入息稅率以減低財政赤字。評價 他們的建議。

(4分)

3. 2014.Q7(a) 若未學貨幣政策，只需答(a)部

美國政府嘗試一方面加稅，另一方面減低財政開支，以減低其不斷增加的財政赤字。但是很多人擔心這項政策會導致不良的副作用。

- (a) 解釋上述財政政策對美國整體經濟可能引起的兩個不良效果。  
(b) 另一替代政策是印發鈔票以支付財政赤字。與上述財政政策相比，簡單討論這替代政策對美國經濟的一項好處和一項壞處。

(4分)

(4分)

- 1993.Q5(e)
- 2013.Q8

政府應否提高入息稅率以減輕預算赤字

- (1) 若通脹率上升，稅收的增加由於稅基收窄，課稅收入減少，而稅收的減少，則由於通脹率上升，導致通脹稅的入數下降。
- (2) 因為通脹率上升，而入息稅通脹率比通脹率，甚至是累進，而通脹對通脹稅的淨影響。
- (3) 若出現通脹，債券等類，如利息或股息等，減輕通脹對通脹稅的淨影響。

分數

最多 4

政府不應增加入息稅率以減輕預算赤字

- (1) 若通脹率上升，稅收的增加由於稅基收窄，課稅收入減少，而稅收的減少，則由於通脹率上升，導致通脹稅的入數下降。
- (2) 因為通脹率上升，而通脹稅通脹率比通脹率，而通脹對通脹稅的淨影響。
- (3) 通脹，如利息或股息等類，可能出現通脹，通脹，通脹，通脹。

3. 2014.Q7(a) 若未學財政政策，只需答(a)部

(a) 收縮性財政政策的副作用：

- 對產出的負面影響(本地生產總值下降)：因為政府支出下降令總需求下降
  - 對產出的負面影響(本地生產總值下降)：因為銷售稅/人息稅增加令消費/投資下降，總需求下降
  - 對勞工的負面影響(抑制作用)並對就業(及產出)的負面影響：由增加入息稅所引致
  - 任何其他相關點
- [只批閱首兩項]

@2; 最高: 4

(b) 優點：

- 增加貨幣供應會令利率下降，並增加投資，在短期令實質產出上升，已如該經濟有閒置的資源，有更多的勞工(及/或資本)會用作生產更多產出。這令就業上升，失業下降(而收縮性財政政策不會導致產出和就業上升)。
  - 任何其他相關點
- [只批閱首項]

@2; 最高: 2

缺點：

- 在長期(總供應曲線是垂直)，增加貨幣供應不會影響產出和就業。但如果財政赤字增長太快，令貨幣供應增長率高於實質產生的增長率，高通脹會出現(而收縮性財政政策不會導致通脹上升)。
  - 任何其他相關點
- [只批閱首項]

@2; 最高: 2

收入的分類：經常性 vs 非經常性

1. 1992.MC.Q38

以下哪一項政府收入被歸類為香港政府的非經常性收入？

- A. 利得稅
- B. 差餉
- C. 罰款
- D. 售地

直接稅的定義或描述

2. 1993.MC.Q45

下列哪一項為直接稅的正確描述？

- A. 直接稅是累退的。
- B. 收取直接稅的成本較間接稅的為高。
- C. 在經濟衰退時，直接稅稅收額會下降。
- D. 提高直接稅稅率會引致通貨膨脹。

直接稅及間接稅

3. 1995.MC.Q45

直接稅與間接稅的分別在於直接稅

- A. 是直接向納稅人收取的，但間接稅則不是。
- B. 是累進的，而間接稅是累退的。
- C. 稅項負擔不能轉嫁，但間接稅則可以。
- D. 稅收隨國民收入增減而增減，但間接稅則不是。

4. 2005.MC.Q40

下列哪一(幾)項是直接稅與間接稅的分別？

- A. 直接稅的課稅負擔不能轉嫁他人，間接稅的課稅負擔則可以。
- B. 直接稅令收入分配更平均，間接稅令收入分配更不平均。
- C. 直接稅的稅基較窄，間接稅的稅基較闊。
- D. 以上皆正確。

香港的稅項

5. 2007.MC.Q40

在香港，下列哪一稅項同時是直接稅和累進稅？

- A. 印花稅
- B. 利得稅
- C. 物業稅
- D. 薪俸稅

6. 2011.MC.Q42

下列哪項是香港的直接稅？

- A. 印花稅
- B. 足球博彩稅
- C. 差餉
- D. 物業稅

7. PP.MC.Q36

在香港，下列哪種稅項屬直接稅和比例稅？

- A. 酒店房租稅
- B. 利得稅
- C. 薪俸稅
- D. 差餉

需要繳甚麼稅項？

8. 2009.MC.Q40

下列哪項關於香港稅制的描述是正確的？

- A. 從股票買賣中賺獲的資本增值必須繳納資本增值稅。
- B. 從中國內地一個住宅單位收取的租金收入必須繳納香港的人息稅。
- C. 在汽油上的消費無須繳納任何稅項。
- D. 無須根據自住樓宇的租金估值繳納物業稅。

9. 2010.MC.Q40

在 2009 年，吳先生有下列各項收入：

- (1) 他在銀行存款的利息收入
- (2) 他去世的姨母留給他的金錢
- (3) 他出租樓房獲得的租金收入

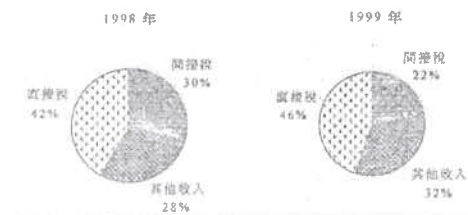
根據香港的稅制，吳先生須繳納甚麼稅項？

- A. 只是物業稅。
- B. 只是物業稅和利息稅。
- C. 只是利息稅和遺產稅。
- D. 只是遺產稅和物業稅。

**圖像分析**

10. 2001.MC.Q37

下圖顯示 1998 年及 1999 年香港政府一般收入帳目的組成部份。



根據上圖資料，在 1999 年，

- A. 直接稅與間接稅的比上升了。
- B. 稅收總額有所增加。
- C. 稅收佔政府總收入的比例有所增加。
- D. 政府的差餉收入下降了 8%。

11. 2016 Q.35

林先生在香港一間資訊科技公司任職流動程式設計師，收入為 \$1 000 000。他亦持有一家本地公司所發行的股票，收取 \$50 000 股息。他買了一輛二手跑車，並經香港國際機場飛往馬爾代夫享受假期。

根據上述資料，林先生要向香港政府支付

- (1) 薪俸稅
  - (2) 股息稅
  - (3) 首次登記稅
  - (4) 飛機乘客離境稅
- A. 只有 (1)、(4)
  - B. 只有 (2)、(3)
  - C. 只有 (1)、(2)、(3)
  - D. 只有 (1)、(3)、(4)

某香港居民在一家位處深圳的內地公司工作，賺取月薪。他亦收取恆生銀行所派發的股息，以及透過出租旺角某單位獲取租金。上個月他在香港國際機場乘坐往首爾的航班。

他須要在香港繳付哪(些)直接稅？

- (1) 物業稅
  - (2) 利得稅
  - (3) 薪俸稅
  - (4) 機場離境稅
- A. 只有 (1)
  - B. 只有 (1)、(4)
  - C. 只有 (1)、(2)及 (3)
  - D. 只有 (2)、(3)及 (4)

**答案**

1.	D
2.	C
3.	C
4.	A
5.	D
6.	D
7.	B
8.	D
9.	A
10.	A

11. A 12. A

個案符合 / 奉行甚麼原則?

1. 1994.MC.Q46

在本港，薪俸稅通常分兩期繳交，而稅款可以通過郵寄方式繳付。這種做法符合徵稅的\_\_\_\_\_原則。

- A. 公平
- B. 方便
- C. 確定
- D. 經濟

2. 1996.MC.Q40

某日本電子廠在香港生產及銷售其產品，故須向香港政府繳交利得稅。香港奉行什麼徵稅原則？

- A. 來源原則
- B. 居民原則
- C. 平等原則
- D. 方便原則

3. 2000.MC.Q40

納稅人可透過繳費聆服務將金錢由自己的銀行戶口轉往政府的戶口，用來繳付薪俸稅和利得稅。這種做法符合賦稅的\_\_\_\_\_原則。

- A. 來源
- B. 確定
- C. 方便
- D. 公平

4. 2002.MC.Q39

假設某經濟的政府宣布每當國民購買貨品或服務時，他們便須繳付一項普及銷售稅，而稅率是售價的2%。該政府同時推行一系列推廣項目，以確保公眾明瞭該新稅項。

上述政府措施說明了下列哪一項賦稅原則？

- A. 公平
- B. 肯定
- C. 方便
- D. 經濟

5. 2009.MC.Q41

香港政府容許市民透過互聯網繳交稅款。該措施符合亞當史密斯提出的\_\_\_\_\_賦稅原則。

- A. 稅率相等
- B. 確定
- C. 方便
- D. 收入來源地

6. PP.MC.Q37

稅務局會透過郵件或稅務易戶口通知每位薪俸稅納稅人應付的稅款總額。這項安排符合亞當史密夫所提出的\_\_\_\_\_賦稅原則。

- A. 公平
- B. 明確
- C. 方便
- D. 經濟

7. 2013.MC.Q35

在二零零九年七月，政府在零售層面開徵每個塑膠購物袋5角的環保費，首階段範圍包括連鎖或大型超市、便利店及個人護理和美容產品店。在首階段小商戶獲得豁免。顧客可使用信用卡、易辦事（EPS）或現金一併支付原初購物金額和環保費。

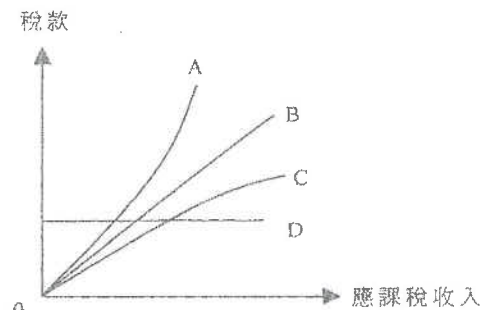
徵收上述的環保費最不符合亞當史密斯所提出的\_\_\_\_\_賦稅原則。

- A. 公平
- B. 經濟
- C. 方便
- D. 明確

圖→符合哪一種原則?

8. 2006.MC.Q41

下列A、B、C、D四線顯示稅款與應課稅收入之間的不同關係。哪條線顯示的關係符合亞當史密夫提出的稅率相等賦稅原則？



- A. A線
- B. B線
- C. C線
- D. D線

以下為稅務局使命的摘要。

我們的使命	
我們致力	
- 以有效率及有成本效益的方法收取稅款	
- 協助員工具備應有的知識、技巧和態度，從而竭盡所能，實踐我們的抱負	

上述使命符合亞當斯密夫所提出的徵稅\_\_\_\_\_原則。

- A. 公平
- B. 確定
- C. 方便
- D. 經濟

10/2020-Q42

下表顯示甲國和乙國於推行國際貿易前對兩種物品的消費數量。假設兩國均使用一單位的資源來生產物品 X 和一單位的資源來生產物品 Y。

	貿易前的消費數量 (單位)	
	物品 X	物品 Y
甲國	100	及 25
乙國	80	及 40

若甲國和乙國均作完全專門化生產並與對方進行貿易，兩國的總產量會有所增加：物品 X 增加\_\_\_\_\_單位，而物品 Y 增加\_\_\_\_\_單位。

- A. 15 ..... 15
- B. 15 ..... 20
- C. 20 ..... 15
- D. 20 ..... 20

11MC2 答案

1.	B
2.	A
3.	C
4.	B
5.	C
6.	B
7.	A
8.	B
9.	D
10.	C

計算→分辨稅項種類

1. 1990.MC.Q55

美珍本年度的收入由\$50,000 增至\$60,000。下列哪一種情況顯示入息稅是一種累進稅？

- A. 由\$1,000 增至\$1,200。
- B. 由\$2,000 增至\$2,500。
- C. 由\$3,000 增至\$3,600。
- D. 由\$4,000 增至\$4,700。

2. 1997.MC.Q40

應課稅收入(\$)	應繳稅款(\$)
10 000	4 000
20 000	7 000
30 000	9 000
40 000	10 000

上述稅項是一種

- A. 累進稅。
- B. 比例稅。
- C. 累退稅。
- D. 定額稅。

3. 2010.MC.Q41

應課稅收入 (\$)	稅款(\$)	
	甲稅制	乙稅制
100 000	4 000	5 000
200 000	4 000	10 000
300 000	4 000	15 000

參閱上表，甲稅制是 \_\_\_\_\_ 而乙稅制是 \_\_\_\_\_。

- A. 比例的 …… 累進的
- B. 累進的 …… 比例的
- C. 累退的 …… 比例的
- D. 累退的 …… 累進的

計算→分辨稅項種類→有關解釋或結論

4. 2000.MC.Q43

應課稅收入(\$)	應繳稅款(\$)
200,000	22,000
250,000	25,000
300,000	27,000

由以上資料，我們可得的結論是：

- A. 該稅項屬於累進稅，因為稅款隨應課稅收入增加而增加。
- B. 該項稅所徵收的稅款佔應課稅收入百分比隨應課稅收入的增加而遞減。
- C. 該稅制有助於縮小收入差距。
- D. 該稅制會減低工作熱誠。

5. 2001.MC.Q36

應課稅收入(\$)	在甲稅項下的應繳稅款(\$)	在乙稅項下的應繳稅款(\$)
10,000	1,500	2,000
20,000	3,800	3,800
30,000	6,600	5,400

從上表資料，我們可得以下結論：

- A. 甲稅項是一直接稅而乙稅項是一間接稅。
- B. 甲稅項下的收入分配會較平均。
- C. 在所有的收入水平，甲稅項的稅率均低於乙稅項。
- D. 當收入出現波動時，政府稅收在甲稅項下的波動會較在乙稅項下的波動為小。

6. 2004.MC.Q41

應課稅收入 (\$)	稅款(\$)		
	甲稅項	乙稅項	丙稅項
10 000	500	800	1 000
20 000	1 000	1 700	1 000
30 000	1 500	2 700	1 000

根據上表，下列哪一項是正確的？

- A. 以上的稅項都不是累退稅。
- B. 亞當史密夫提出的平等賦稅原則適用於以上各稅項。
- C. 要達致收入分配更平均，甲稅項最為有效。
- D. 乙稅項屬累進稅。

## 7. 2007.MC.Q42

應課稅收入 (\$)	所繳稅款 (\$)	
	甲稅制	乙稅制
100 000	6 000	5 000
200 000	12 000	12 000
300 000	18 000	21 000

參閱上表資料，若稅制由甲稅制轉為乙稅制，

- 貧富之間的收入差距會減少。
- 工人的工作熱誠會增加。
- 稅基會擴闊。
- 政府財政狀況會得到改善。

## 已知稅項種類→計算

## 8. 1995.MC.Q46

細閱下列資料：

應課稅入息(\$)	應繳稅款總額 (\$)
10,000	1,000
20,000	3,000
30,000	X

若上述稅項是累進的，X 必須大於

- 3,000。
- 3,500。
- 4,000。
- 4,500。

## 9. 2005.MC.Q39

細閱下列資料：

應課稅入息(\$)	應繳稅款 (\$)
0	0
10 000	1 500
20 000	X

若上述的稅項是累進的，則 X 的值必須

- 小於 3 000。
- 等於 3 000。
- 大於 3 000。
- 沒有足夠資料以供計算。

## 描述→分辨稅項種類

## 10. 1991.MC.Q37

對食物徵收的銷售稅是一種\_\_\_\_\_稅項。

- 直接和累退的
- 間接和累退的
- 直接和比例的
- 間接和累進的

## 11. 1992.MC.Q36

設政府要求每年繳付\$100 稅款。這是一項

- 累退稅。
- 比例稅。
- 入息稅。
- 間接稅。

## 12. 1994.MC.Q47

若繳交的稅款隨著收入的增加，則該稅項可能是一種

- 累進稅。
  - 比例稅。
  - 累退稅。
- 只有(1)
  - (1)或(2)
  - (2)或(3)
  - (1)或(2)或(3)

## 13. 1998.MC.Q39

下列哪一項關於稅項的描述是正確？

- 累進稅稅率較累退稅的為高。
- 累進稅對收入徵稅而累退稅則對物品徵稅。
- 應課稅收入增加時，累退稅應繳稅款下降。
- 應課稅收入增加時，累退稅應繳稅款佔收入的百分比也增加。

## 14. 2002.MC.Q43

香港的煙草稅是一種

- 直接稅及比例稅。
- 直接稅及累退稅。
- 間接稅及比例稅。
- 間接稅及累退稅。

15. 2009.MC.Q42

某經濟向全部貨品及服務徵收 5% 的普及銷售稅。該稅項屬於：

- A. 比例稅，因為每個人在貨品及服務的消費上都要繳付 5% 的稅款。
- B. 累進稅，因為稅款隨貨品及服務的價格上升而增加。
- C. 累退稅，因為在收入上升時，稅款佔收入的比例下降。
- D. 間接稅，因為消費者間接地承受了全部賦稅負擔。

收入→要交什麼稅項?

16. 1995.MC.Q44

1994 年 7 月，陳先生在海田購置一新屋並即時遷入居住。那麼，陳先生在 94-95 年財政年度須繳納的稅項有：

- (1) 印花稅
  - (2) 物業稅
  - (3) 差餉
- A. 只有(1)、(2)
  - B. 只有(1)、(3)
  - C. 只有(2)、(3)
  - D. (1)、(2)及(3)

17. 1997.MC.Q41

以下是國強在 1996 年在香港的全年收入：

收入類別	金額 (\$)
在某中學任教的薪酬	600,000
在本港存款所獲得的利息收入	4,000
出租一住宅單位予日本人所獲得的租金收入	300,000

根據香港的稅制，國強應繳納以下哪一(幾)種稅項？

- A. 只是薪俸稅。
- B. 薪俸稅和利息稅。
- C. 薪俸稅和物業稅。
- D. 薪俸稅、利息稅和物業稅。

18. 1998.MC.Q40

陳先生有下列的收入：

- (1) 年終獎金
- (2) 股息
- (3) 外國投機所賺獲的資產增值
- (4) 從出租物業獲得的租金收入

根據香港稅制，上列哪些收入可被徵稅？

- A. 只有(1)、(2)
- B. 只有(1)、(4)
- C. 只有(2)、(3)
- D. 只有(3)、(4)

19. 2004.MC.Q44

下列是王先生在香港的開銷：

- (1) 在本地一家酒店住宿三晚所支付的租金
- (2) 對香港賽馬會足球博彩下注的金額
- (3) 為妻子購買化妝品的支出。

上述開銷有哪項要繳交香港的間接稅？

- A. 只有(1)、(2)
- B. 只有(1)、(3)
- C. 只有(2)、(3)
- D. (1)、(2)、(3)

20. 2006.MC.Q40

2005年9月，陳先生從香港的股市中購入匯控800股，每股作價\$120。其後又以每股\$130賣出。在2005-06財政年度，陳先生在這事件中應向香港特區政府繳付下列哪一(些)稅項？

- A. 印花稅。
- B. 資產增值稅。
- C. 利得稅。
- D. 以上全部稅項。

21. 2008.MC.Q40

下列是瑪利於2008年在香港的收入及財富來源。根據香港的稅制，哪項必須向政府繳稅？

- A. 她將一層樓出租所賺獲的租金收入。
- B. 她擁有某上市公司股票所賺取的股息。
- C. 她承繼祖父遺下的一項產業。
- D. 她從銀行定期存款收取的利息。

22. 2012.MC.Q33

小玲的收入如下：

- (1) 從出租物業獲得的租金
- (2) 一本地上市公司所派發的股息
- (3) 完成經理合約的酬金
- (4) 作為經紀所收的佣金

根據香港的稅制，上列哪些收入可被徵稅？

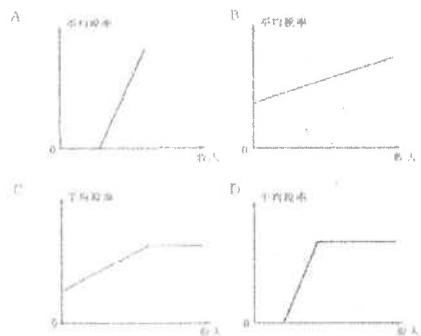
- A. 只有(1)、(3)
- B. 只有(2)、(4)
- C. 只有(1)、(3)、(4)
- D. (1)、(2)、(3) 及 (4)



圖→分辨稅項種類

23. 1990.MC.Q47

下列哪一圖表較能顯示本港的薪俸稅制？



24. 1995.MC.Q48

下圖顯示 X 稅項的稅項結構：

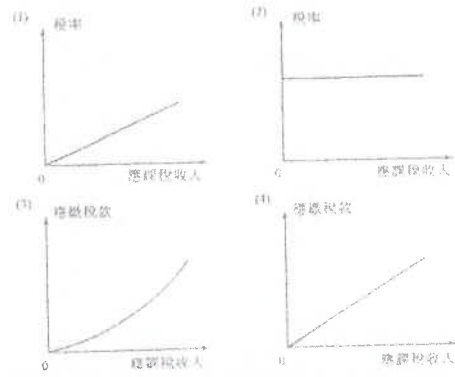


在入息範圍  $OY_1$  內，X 稅項屬\_\_\_\_\_稅；在  $Y_1Y_2$  範圍內，它屬\_\_\_\_\_稅。

- A. 比例.....累進
- B. 比例.....累退
- C. 累進.....比例
- D. 累進.....累退

25. 1996.MC.Q41

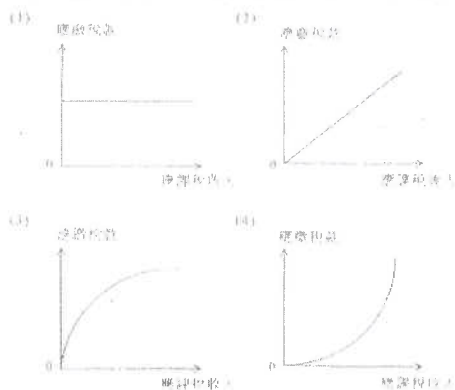
下列哪兩幅圖描繪了累進稅項？



- A. 只有(1)及(3)
- B. 只有(1)及(4)
- C. 只有(2)及(3)
- D. 只有(2)及(4)

26. 2000.MC.Q41

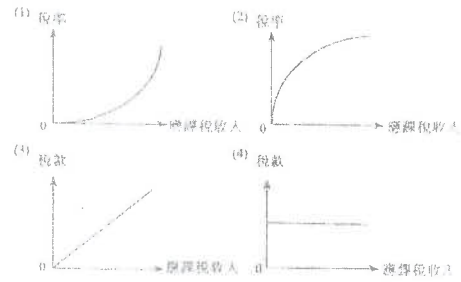
以平均稅率計算，下列哪兩幅圖所顯示的稅項屬於累退稅？



- A. 只有 (1)、(3)
- B. 只有 (1)、(4)
- C. 只有 (2)、(3)
- D. 只有 (2)、(4)

27. 2003.MC.Q38

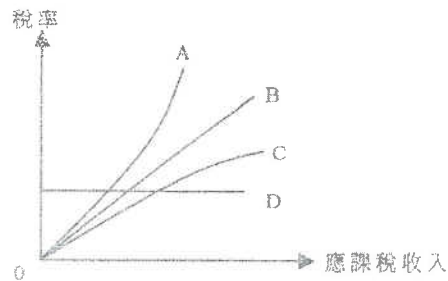
下列哪兩幅圖所顯示的稅項為累進稅？



- A. 只有(1)、(2)
- B. 只有(1)、(3)
- C. 只有(2)、(4)
- D. 只有(3)、(2)

28. 2004.MC.Q42

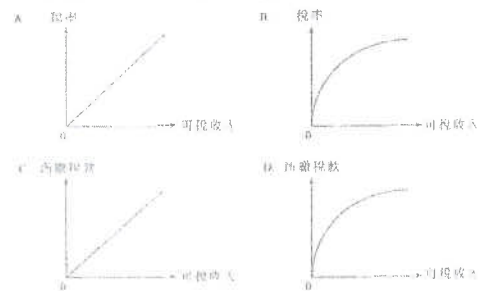
下列A、B、C和D四條線中哪一條顯示在香港利得稅制下，稅率與應課稅收入的關係？



- A. A線
- B. B線
- C. C線
- D. D線

29. 2008.MC.Q43


下列哪幅圖描述一項累退稅？



圖→分辨稅項種類/變化→其他分析

30. 2001.MC.Q35

下圖顯示某稅項在結構改變前後，應繳稅款與收入的關係。

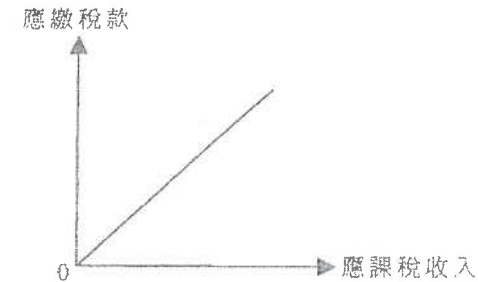


與舊稅制比較，

- A. 新稅制導致收入分配較不公平。
- B. 在同一收入水平，新稅制的稅率較低。
- C. 新稅制的免稅額較大。
- D. 新稅制並不影響工作熱誠。

31. 2005.MC.Q43

參閱下列某稅項的應繳稅款與應課稅收入的關係。

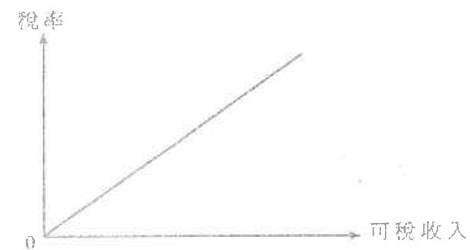


下列哪一項是正確的？

- A. 上述稅項會減低工人的工作熱誠。
- B. 上述稅項符合亞當斯密夫提出的稅率相等賦稅原則。
- C. 上述稅項的免稅額是零。
- D. 每一位僱員都必須繳交上述稅項。

32. 2009.MC.Q43

參閱下列某稅項的稅率與可稅收入的關係。

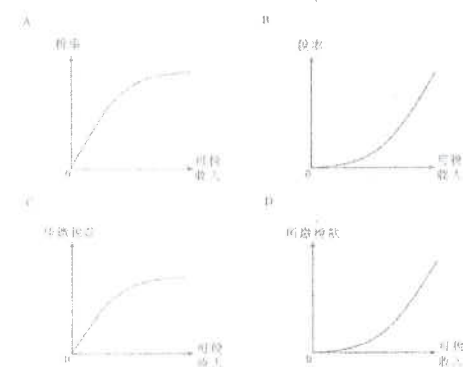


下列哪項是正確的？

- A. 該稅項符合亞當斯提出的稅率相等賦稅原則。
- B. 可稅收入增加時，稅率維持不變。
- C. 開徵該水餉會令間接稅稅收與直接稅稅收的比上升。
- D. 可稅收入增加時，稅款上升的百分比大於可稅收入上升的百分比。

33. 2011.MC.Q44

下列哪幅圖顯示一個會導致收入分配更不公平的稅制？



薪俸稅 / 入息稅

34. 2004.MC.Q43

假設某項入息稅更改如下：

邊際稅階	邊際稅率(%)	
	舊制	新制
第一個 \$30 000應課稅收入	2.0	2.0
下一個 \$30 000	7.5	8.0
下一個 \$30 000	13.0	14.0
其餘	18.5	20.0

在新制度下，

- A. 直接稅收益與間接稅收益之比會下降。
- B. 政府會有財政盈餘。
- C. 更多人會被納入稅網。
- D. 收入差距會下降。

35. 2008.MC.Q44

假設香港的薪俸稅制改變如下：

舊制		新制	
邊際稅階	稅率(%)	邊際稅階	稅率(%)
首\$30 000 可稅收入	2.0	首\$40 000 可稅收入	2.0
其次 \$30 000	7.0	其次 \$40 000	7.0
再其次\$30 000	13.0	再其次\$40 000	13.0
其餘	19.0	其餘	19.0
標準稅率	16.0	標準稅率	16.0

在新稅制下，若全部納稅人薪酬不變，則

- A. 更少人會被納入稅網。
- B. 更少人須按標準稅率繳稅。
- C. 收入差距不會受影響。
- D. 政府會有財政赤字。

**通脹與稅收、收入的關係**

36. 1996.MC.Q44

假設通脹出現時，金錢收入的增率與通脹率一樣。那麼，在比例稅制下，納稅人所繳納的稅款

- (1) 較前為高。
- (2) 與前一一樣。
- (3) 以購買力來說是較前為高。
- (4) 以購買力來說是與前一一樣。

- A. 只有(1)、(3)
- B. 只有(1)、(4)
- C. 只有(2)、(3)
- D. 只有(2)、(4)

37. 2011.MC.Q43

假設香港在某年的一般物價水平及工人的名義工資率皆上升5%。下列哪項陳述是正確的？

- (1) 工人的實質工資率會維持不變。
- (2) 更多工人會被納入稅網。
- (3) 政府的稅收收益會增加。

- A. 只有(1)、(2)
- B. 只有(1)、(3)
- C. 只有(2)、(3)
- D. (1)、(2)、(3)

**未有行細分類**

38. 2014.MC.Q36

政府計劃開徵一項新稅：當應課稅收入下降，它的稅款亦下降。下列哪項有關該項新稅的陳述是正確的？

- A. 該稅屬累退稅，因為隨著應課稅收入下降，稅率會上升。
- B. 該稅屬比例稅，因為應課稅收入和稅款金額有正向關係。
- C. 該稅不會是累進稅，因為隨著稅款金額下降，稅率會上升。
- D. 該稅可能是累進稅、比例稅或累退稅。

39. 2015.MC.Q34

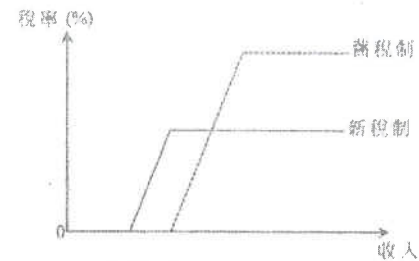
下列哪些屬香港的間接稅？

- (1) 物業稅
- (2) 物業的差餉
- (3) 股票轉讓的印花稅
- (4) 一般銷售稅

- A. 只有 (1)、(2)
- B. 只有 (2)、(3)
- C. 只有 (1)、(3) 及 (4)
- D. 只有 (2)、(3) 及 (4)

40. 2016 Q.36

下圖顯示某經濟新舊稅制的轉變。



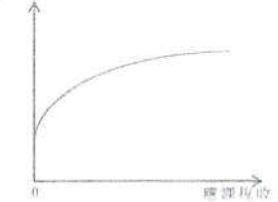
與舊稅制相比，新稅制會 \_\_\_\_\_。

- A. 令收入分布更平均
- B. 減低所有工人的工作意慾
- C. 擴闊稅基
- D. 令總稅收上升


41. 2017 Q35

下列哪些圖描述累進稅？

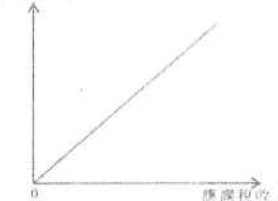
(1) 稅款(\$)



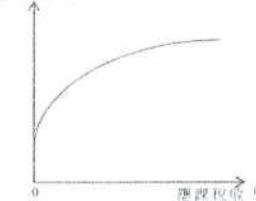
(2) 稅款(\$)



(3) 稅率(%)



(4) 稅率(%)



- A. 只有 (1)、(2)
- B. 只有 (1)、(3)
- C. 只有 (2)、(4)
- D. 只有 (3)、(4)

假設香港的薪俸稅制有如下的改變：

舊制		新制	
應課稅入息	稅率	應課稅入息	稅率
首 \$50 000	2%	首 \$60 000	2%
另 \$50 000	7%	另 \$60 000	7%
另 \$50 000	12%	另 \$60 000	12%
餘額	17%	餘額	17%
標準稅率	15%	標準稅率	15%

若基本免稅額維持不變，下列哪項最有可能是上述稅制改變的結果？

- A. 更少人會跌入稅網。
- B. 更少人須繳付標準稅率。
- C. 人們的工作意慾會減少。
- D. 消費支出會減少。

43 2019 Q34

34. 某年的工資率和一般物價水平均上升 5%，若政府增加薪俸稅免稅額 5%，

- A. 更多人會跌入稅網。
- B. 收入分佈會變得更平均。
- C. 政府的稅收會減少。
- D. 人們的稅後實質收入會增加。

44 2019 Q36

下圖顯示某稅制中應課稅收入和稅款的關係。



下列哪項有關該稅制的陳述是正確的？

- A. 低收入組別以其應課稅收入中較小的百分比支付該稅款。
- B. 它違反了亞當斯密夫所提出的公平賦稅原則。
- C. 它是一項比例稅。
- D. 它令收入分佈更平均。

45 2020 41

在沒有稅項豁免的情況下，約翰需繳付入息稅 \$15 000，而瑪莉則需繳付 \$35 000。

假設政府建議以下入息稅的豁免措施：

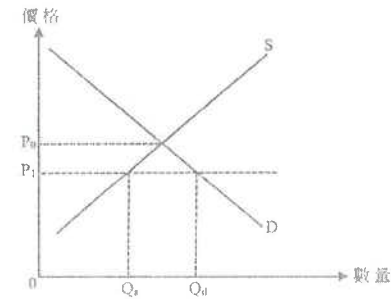
	豁免稅額
措施 I	入息稅的 75%，最高 \$30 000
措施 II	入息稅的 100%，最高 \$20 000

約翰會偏好 \_\_\_\_\_，而瑪莉會偏好 \_\_\_\_\_。

- A. 措施 I ..... 措施 I
- B. 措施 I ..... 措施 II
- C. 措施 II ..... 措施 I
- D. 措施 II ..... 措施 II

46 2020 Q43

下圖顯示在某小型開放經濟中物品 X 的市場情況。



$P_0$  是貿易前的價格，而  $P_1$  是貿易後的價格。在該經濟開放國際貿易後，下列哪些有關物品 X 的陳述是正確的？

- (1) 本地消費者對物品 X 的總支出會是  $P_1 \times Q_d$ 。
- (2) 本地生產物品 X 的價值會是  $P_1 \times Q_s$ 。
- (3) 物品 X 的短缺會是  $Q_d - Q_s$ 。

- A. 只有 (1)、(2)
- B. 只有 (1)、(3)
- C. 只有 (2)、(3)
- D. (1)、(2) 及 (3)

HMC3 答案

1.	B	11.	A	21.	A	31.	B
2.	C	12.	D	22.	A	32.	D
3.	C	13.	D	23.	D	33.	C
4.	B	14.	D	24.	D	34.	D
5.	B	15.	C	25.	A	35.	B
6.	D	16.	B	26.	A	36.	B
7.	A	17.	C	27.	A	37.	D
8.	D	18.	B	28.	D	38.	D
9.	C	19.	A	29.	D	39.	B
10.	B	20.	A	30.	A	40.	C

- 41 A
- 42 B
- 43 A
- 44 B
- 45 C
- 46 A

不同稅種類的比較

1. 1998.MC.Q37

累進稅較比例稅更能有效地達致以下的目的：

- A. 增加政府收益。
- B. 減低政府行政費用。
- C. 達致更公平的收入分配。
- D. 將經濟體系的資源重新分配。

2. 1996.MC.Q45

下列哪一項關於香港的累進稅的描述是正確的？

- A. 它會引致收入分配更不均。
- B. 它是對貨物及勞務徵收的稅項。
- C. 可以將它的稅項負擔轉嫁給別人。
- D. 它可能減低工作熱誠。

稅基

3. 1994.MC.Q48

港府增加間接稅在稅收總額裏的比例，目的是

- A. 提高稅收總額。
- B. 穩定在一個經濟周期中不同階段的稅收。
- C. 減少貧富差距。
- D. 收窄稅基。

4. 2001.MC.Q39

下列哪一項會擴闊香港的稅基？

- A. 提高免稅額。
- B. 降低標準稅率。
- C. 提高利得稅率。
- D. 開徵銷售稅。

5. 2006.MC.Q42

下列哪項會擴闊香港的稅基？

- A. 減少免稅額。
- B. 取消汽車首次登記稅。
- C. 薪俸稅的累進程度增加。
- D. 利得稅稅率增加。

涉及利得稅的調整

6. 1998.MC.Q38

當利得稅率下降時，

- A. 政府收益會下降。
- B. 政府支出會下降。
- C. 投資意欲會增加。
- D. 失業率會上升。

7. 2003.MC.Q40

若政府提高利得稅稅率，則

- A. 政府收益會增加。
- B. 失業率會下降。
- C. 投資意欲會降低。
- D. 一般物價水平會上升。

8. 2007.MC.Q43

為了提高香港的競爭力，若干商人建議減低香港的利得稅稅率。若利得稅稅率減低，

- A. 香港的外匯及黃金儲備會增加。
- B. 投資意欲會增加。
- C. 政府稅收收益會下降。
- D. 公務部門的規模會縮小。

9. 2008.MC.Q41

政府降低利得稅稅率會

- A. 增加失業率。
- B. 增加投資意欲。
- C. 減少政府稅收。
- D. 減少收入不均。

稅務調整對收入分配的影響

10. 1990.MC.Q52

下列哪些政府措施會引致一國有較平均的所得分配？

- (1) 增加基本食物的津貼
  - (2) 增加稅制中的累進度
  - (3) 減低遺產稅的稅率
- A. 只有(1)、(2)
  - B. 只有(1)、(3)
  - C. 只有(2)、(3)
  - D. (1)、(2)、(3)

11. 1993.MC.Q46

在 1990/91 及 1991/92 兩財政年度，應課稅入息相同的納稅人須繳稅款總額並不相同。我們可用若干例子來加以說明：

應課稅 入息總額 (\$)	須繳稅款總額 (\$)	
	1990/91 財政年度 \$	1991/92 財政年度 \$
10,000	200	200
20,000	600	400
30,000	1,500	1,300
40,000	2,700	2,200
50,000	4,200	3,900
60,000	6,000	5,600
70,000	8,100	8,100
80,000	10,600	10,600

須繳稅款總額的改變如何影響香港的所得分配？

- A. 所得分配較平均
- B. 所得分配較不公平
- C. 對所得分配沒有影響
- D. 對所得分配的影響不明確

12. 1993.MC.Q48

在香港，以下哪一政府措施會使財富分配更不公平？

- A. 免除飲品稅
- B. 以較低價格出售更多居者有其屋單位
- C. 提高政府醫院醫療服務的收費
- D. 提高薪俸稅個人免稅額

13. 1996.MC.Q43

下列哪一項會導致收入分配更不均？

- A. 降低銷售稅稅率。
- B. 對奢侈品徵收更多間接稅。
- C. 增加高級公務員的房屋津貼。
- D. 提高薪俸稅的標準稅率。

14. 1999.MC.Q43

下列哪一項政府政策會導致較為平均的收入分配？

- A. 降低累進稅的稅率。
- B. 對必需品開徵更多間接稅。
- C. 增加利得稅的折舊減免。
- D. 降低薪俸稅的標準稅率。

15. 2005.MC.Q41

以下哪一項政府政策會導致本港市民的收入分配更不平均？

- A. 提高薪俸稅的標準稅率。
- B. 減少薪俸稅的個人免稅額。
- C. 提高利得稅稅率。
- D. 降低煙酒的消費稅稅率。

#### 銷售稅 / 普及銷售稅

16. 1990.MC.Q59

如本港實施一般銷售稅，下列哪一項為不正確？

- A. 政府稅收收益的波動會減少。
- B. 直接稅佔政府稅收收益的比重會增加。
- C. 國民所得會重新分配。
- D. 一般物價水平會上升。

17. 1992.MC.Q37

在香港開徵食米銷售稅會

- A. 減少政府稅收。
- B. 鼓勵更多食米入口。
- C. 提高消費物價指數。
- D. 導致收入分配更為平均。

18. 1998.MC.Q41

若將某物品的銷售稅稅率提高，下列哪一項描述是正確的？

- A. 花費在該物品上的總支出會增加。
- B. 通貨膨脹會出現。
- C. 若供應曲線是向上斜的，賣家除稅後的總銷售收益會下跌。
- D. 收入會從貧者重新分配到富者。

19. 2002.MC.Q40

若香港開徵普及銷售稅，

- A. 稅基會擴闊。
- B. 貧富差距會縮窄。
- C. 到深圳購物的港人數目會減少。
- D. 直接稅佔政府稅收收益的比例會增加。

20. 2003.MC.Q31

假設在經濟衰退時，香港政府為求減少財赤，有需要減少失業綜援金額及加徵一項普及銷售稅。上述各項轉變會

- A. 提高就業率。
- B. 使通脹率上升。
- C. 拉闊貧富之間的財富差距。
- D. 增加政府的財政儲備。

21. 2003.MC.Q42

假設香港政府加徵一項普及銷售稅。這會導致

- A. 賣家除稅後的銷售收益減少。
- B. 一般物價水平持續地上升。
- C. 收入從富人轉移至窮人。
- D. 香港的消費支出增加。

22. 2005.MC.Q42

開徵普及銷售稅會導致

- A. 通貨膨脹。
- B. 產出下降。
- C. 消費支出增加。
- D. 本地生產總值增加。

23. 2011.MC.Q45

假若香港政府開徵一項普及銷售稅，

- A. 實質本地生產總值會增加。
- B. 通脹會出現。
- C. 總消費支出會增加。
- D. 稅基會擴闊。



計算 → 分辨稅項種類/變化 → 影響

24. 1991.MC.Q39

收入 (\$)	稅額 (\$)	
	甲政策	乙政策
10,000	1,000	1,000
50,000	5,000	4,000
100,000	10,000	7,000
500,000	50,000	30,000

政府政策有所改變，由甲政策轉為乙政策。以下哪一項可能會發生？

- A. 工作熱誠下降
- B. 國民收入分配會更不平均
- C. 經濟增長率較低
- D. 消費支出下降

25. 2003.MC.Q41

下表描述某稅項：

應課稅收入 (\$)	稅款 (\$)
10 000	2 000
20 000	3 800
30 000	5 400
40 000	6 800
50 000	8 000


上述稅項會

- A. 導致收入分配較不平均。
- B. 減低工人的工作意慾。
- C. 改善經濟的資源分配。
- D. 增加較低收入人士的消費支出。

圖 → 分辨稅項種類 → 影響

26. 1999.MC.Q40

下圖顯示某稅項的稅款與納稅人收入的關係：



下列哪一項對上述稅項的描述是正確的？

- A. 它是一項累進稅，因為稅款隨收入增加而增加。
- B. 它使收入不平均分配。
- C. 它會鼓勵工人更努力工作。
- D. 收入增加時，該稅項的稅率累進程度更大。

薪俸稅 / 入息稅

27. 1993.MC.Q47

若政府提高薪俸稅個人免稅額，則

- A. 依標準稅率納稅的人士將更熱衷於工作。
- B. 我們不能肯定稅收總額會如何改變。
- C. 政府須削減它的開支。
- D. 稅基會被擴闊。

28. 1998.MC.Q42

若香港的政府提高薪俸稅的免稅額，

- A. 收入分配會更不平均。
- B. 較少人會被納入稅網之內。
- C. 以標準稅率繳稅人士會有更多工作熱誠。
- D. 稅階會擴闊。

29. 1999.MC.Q44

若香港人在某財政年度的收入下降 5%，

- A. 更多人會被納入稅網。
- B. 薪俸稅的稅階會變得較窄。
- C. 政府從薪俸稅獲得的稅收會減少超過 5%。
- D. 香港人的財富分配維持不變。

30. 2003.MC.Q39

假設香港的新僱稅免稅額下降，而納稅人的薪酬維持不變，結果

- A. 有些以標準稅率納稅的人可能以較低稅率繳稅。
- B. 中等收入人士須以他們收入的較大比例繳稅。
- C. 較少人跌入稅網中。
- D. 全部納稅人除稅後入息會減少。

31. 2006.MC.Q39

假設某經濟將薪俸稅稅制由甲稅制改為乙稅制。

應課稅收入	甲稅制 邊際稅率	乙稅制 邊際稅率
第一個 \$20 000	3%	2%
第二個 \$20 000	6%	5%
第三個 \$20 000	10%	8%
其餘	15%	12%

結果，

- A. 更少人會跌入稅網。
- B. 工人會有更大的工作誘因。
- C. 收入差距會縮窄。
- D. 直接稅稅收與間接稅稅收之比會上升。

32. 2009.MC.Q44

在2008-09財政年度，薪俸稅的標準稅率由16%降至15%。若其他因素不變，上述措施會

- A. 減少跌入稅網的人數。
- B. 增加香港薪俸稅稅制的累進程度。
- C. 增加香港人的消費開支。
- D. 增加香港低收入人士的除稅後收入。

33. 2010.MC.Q42

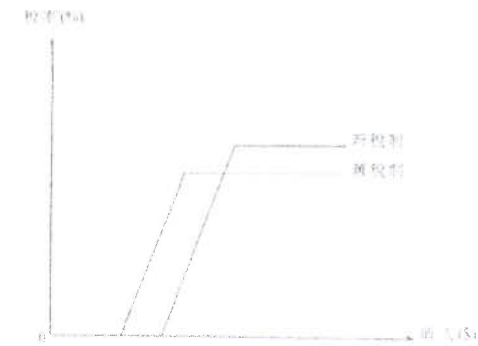
在2008-09財政年度，有一項一次過的稅項寬減，薪俸稅稅款或個人入息課稅稅款最高可減免\$6 000。

此舉會

- A. 縮窄貧富之間的收入差距。
- B. 縮窄香港的稅基。
- C. 提高以標準稅率繳稅人士的工作熱誠。
- D. 增加可獲稅項寬減人士的消費支出。

34. 2013.MC.Q36

下圖顯示某經濟的薪俸稅制的轉變。



與舊薪俸稅制相比，新稅制

- A. 的個人免稅額較少。
- B. 的標準稅率較低。
- C. 會收窄貧富之間的收入差距。
- D. 會擴闊稅基。

通脹及免稅額調整→影響

35. 1992.MC.Q43

在 1990-91 財政年度，政府將免稅額提高約 5%。同期通脹率約為 10%。

以下哪一項是這種情況下的後果？

- A. 政府必須開徵銷售稅。
- B. 更多人被納入稅網。
- C. 香港人的真實收入有所增加。
- D. 政府獲得更多間接稅收。

36. 1997.MC.Q45

假設香港政府提高薪俸稅的免稅額 5%，而同年全港工資率與通脹率都上升 10%。結果，

- A. 更多人被納入稅網。
- B. 納稅人所繳稅款與收入之比會下降。
- C. 稅收會增加，而收入分配會更為平均。
- D. 除稅後，人民的實質收入維持不變。

## 其它

37. 1996.MC.Q39 徵稅→經濟援助→影響

若政府大幅提高薪俸稅率，用以提供更多公援金予失業人士，則

- A. 政府財政預算會達致平衡，因為政府支出的增加會由稅收的增加來支付。
- B. 這個經濟體系的總消費不會改變，因為富人消費的減少會由窮人消費的增加所填補。
- C. 工作熱誠會下降，因為新酬收入有更高比例被徵稅。
- D. 公共部門的大小維持不變，因為增加的支出與增加的稅收相配合。

38. 1999.MC.Q42

## 退稅

經濟衰退時，政府將差餉退回市民會

- A. 使資源運用得更佳。
- B. 減少香港的外匯及黃金儲備。
- C. 增加投資意欲。
- D. 使較低收入人士的消費支出有所增加。

39. 2010.MC.Q44

## 經濟復甦對稅收的影響

在經濟復甦的時候，下列哪一項會增加？

- A. 貿易盈餘
- B. 財政赤字
- C. 政府支出
- D. 直接稅稅收

## 未有仔細分類

40. 2015.MC.Q21

假設某經濟除稅後的基尼系數比稅前的基尼系數高，這意味著

- A. 政府增加了給窮人的轉移支付的金額。
- B. 該經濟的稅制很可能是累退性的。
- C. 收入不均的問題比去年差。
- D. 政府應該改革稅制。

## 11MC4 答案

1.	C	11.	A	21.	A	31.	B
2.	D	12.	C	22.	B	32.	C
3.	B	13.	C	23.	D	33.	D
4.	D	14.	A	24.	B	34.	C
5.	A	15.	B	25.	A	35.	B
6.	C	16.	B	26.	B	36.	A
7.	C	17.	C	27.	B	37.	C
8.	B	18.	C	28.	B	38.	D
9.	B	19.	A	29.	C	39.	D
10.	A	20.	C	30.	B	40.	B

動用財政盈餘 / 興建XX →結果?

1. 1997.MC.Q46

假設香港政府動用 20 億元財政盈餘，興建一條新的公路。下列哪一項最有可能出現？

- A. 貧富差距縮小
- B. 就業率上升
- C. 通貨膨脹率上升
- D. 在建築期內的數年間政府出現財政赤字

2. 2000.MC.Q45

政府參與香港迪士尼樂園計劃。在興建該樂園期間，

- A. 納稅人的賦稅負擔必然增加。
- B. 公共部門的規模必然增加。
- C. 公共支出佔本地生產總值的比例必然增加。
- D. 私人投資誘因必然下降。

3. 2008.MC.Q42

根據特首的2007-08年施政報告，政府會在不久的將來推動十大基建項目。這會導致

- (1) 香港本地生產總值增加。
  - (2) 公營部門的規模擴大。
  - (3) 施工期間政府出現財政赤字。
- A. 只有(1)、(2)
  - B. 只有(1)、(3)
  - C. 只有(2)、(3)
  - D. (1)、(2)、(3)

4. 2010.MC.Q43

在經濟衰退時期，某政府計劃透過發展基建以推動經濟增長。結果，

- (1) 公營部門會擴大。
  - (2) 就業機會會增加。
  - (3) 政府會有財政赤字。
- A. 只有(1)、(2)
  - B. 只有(1)、(3)
  - C. 只有(2)、(3)
  - D. (1)、(2)、(3)

5. 2012.MC.Q34


假設政府耗資30億元興建一郵輪碼頭，該筆開支由政府儲備支付。這會導致下列哪些結果？

- (1) 短期而言，總產出上升。
  - (2) 長期而言，總產出上升。
  - (3) 短期而言，就業增加。
  - (4) 在建築年期內出現財政赤字。
- A. 只有(1)、(2)
  - B. 只有(2)、(4)
  - C. 只有(1)、(2)、(3)
  - D. 只有(1)、(3)、(4)

圖→結論

6. 1991.MC.Q38

政府支出變動百分率 (第 1 年和第 2 年的比較)

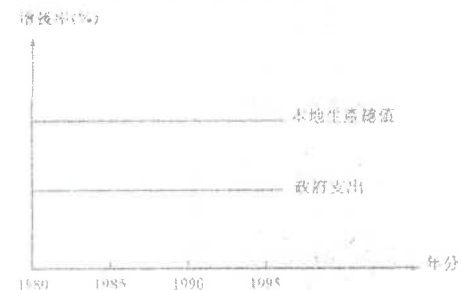


上圖顯示

- A. 經濟服務是政府支出最大項目。
- B. 第 2 年物價比第 1 年的為高。
- C. 政府第 2 年在環境保護方面的支出比第 1 年為低。
- D. 九龍城寨方面的支出由中國支付。

7. 1996.MC.Q42


參閱下圖所示某經濟體系的資料：



根據上圖，從 1980 年到 1995 年，可得以下哪一項結論？

- A. 在這期間，本地生產總值與政府支出兩者都沒有轉變。
- B. 本地生產總值的增長率與政府支出的增長率相同。
- C. 在這期間，政府支出與本地生產總值之比下降。
- D. 本地生產總值增長率保持不變，因為政府支出增長率固定。

8. 2002.MC.Q41

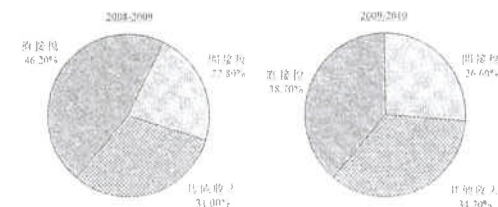


根據上表，政府支出佔本地生產總值的比例

- A. 正在上升。
- B. 正在下降。
- C. 起初上升，跟著下降。
- D. 起初下降，跟著上升。

9. 2012.MC.Q35

下圖顯示2008-2009年度及2009-2010年度香港政府一般收入賬目的組成部分。



根據上圖資料，在2009-2010年度

- A. 香港出現了經濟衰退。
- B. 直接稅與間接稅的比率上升了。
- C. 稅收總額減少了。
- D. 稅收佔政府總收入的比例減少了。

表→結論

10. 1994.MC.Q49

(以百萬元為單位)

年份	1987-88	1988-89	1989-90	1990-91
G	536	648	819	950
GDP	3,690	4,336	4,990	6,588

G：公共開支；GDP：本地生產總值

根據上表，在 1987-88 年 至 1991 年期間，公營部門的規模(以公共開支所佔本地生產總值的比例來量度)是

- A. 持續擴展。
- B. 持續收縮。
- C. 在開始時擴展，但後來收縮。
- D. 沒有變化的。

答案

1.	B
2.	B
3.	A
4.	A
5.	C
6.	C
7.	C
8.	A
9.	D
10.	C

預算案 vs. 實際財政狀況

1. 1994.MC.Q50

一個\_\_\_\_\_預算案是\_\_\_\_\_政府收益大於\_\_\_\_\_政府支出。

- A. 盈餘；實收；實收
- B. 盈餘；預測；預測
- C. 赤字；預測；實收
- D. 赤字；實收；預測

2. 1999.MC.Q41

當一個盈餘預算案出現財政赤字時，政府實際收益\_\_\_\_\_政府實際支出，而政府預算收益\_\_\_\_\_政府預算支出。

- A. 大於 ..... 大於
- B. 小於 ..... 小於
- C. 大於 ..... 小於
- D. 小於 ..... 小於

預算的影響

3. 1992.MC.Q41

盈餘預算案會導致

- A. 政府支出下降。
- B. 政府有財政盈餘。
- C. 國際收支盈餘。
- D. 經濟收縮。

4. 1995.MC.Q49

一般來說，赤字財政預算案

- A. 會減少一國的外匯及黃金儲備。
- B. 對經濟活動有擴張作用。
- C. 會引致收入分配更不公平。
- D. 會增加政府的債務。

5. 2000.MC.Q44

假設政府動用大筆財政盈餘發展資訊科技教育，下列哪一項是正確的？

- A. 其他政府部門的支出會減少。
- B. 政府會有財政赤字。
- C. 平均勞工生產力會更高。
- D. 銀行系統創造存款的能力會下降。

財政政策的工具 / 政策的影響

6. 1991.MC.Q40

以下哪幾項是本港財政政策的工具？

- (1) 聯繫匯率
  - (2) 政府在基本設施的支出
  - (3) 標準稅率
  - (4) 最低現金儲備比率
- A. 只有(1)及(2)  
 B. 只有(1)及(4)  
 C. 只有(2)及(3)  
 D. 只有(3)及(4)

7. 1992.MC.Q39

以下哪一種應付政府開支的融資方法最有可能使貨幣供應增加？

- A. 印製鈔票
- B. 售賣政府債券
- C. 運用政府儲備
- D. 提高稅率

擴張性財政政策

8. 1992.MC.Q40

以下哪一項屬擴張性財政政策？

- A. 開徵新稅項
- B. 興建新機場
- C. 部分政府部門減省支出
- D. 從中國購買更多食水

9. 1993.MC.Q38

下哪一種政府政策會對經濟有擴張作用？

- A. 運用財政儲備以提高轉移支付
- B. 增加在入口方面的花費
- C. 開徵普及的銷售稅
- D. 提高商業銀行的儲備率

10. 1997.MC.Q44

下列哪一項會對香港經濟產生擴張性效果？

- A. 提高公屋單位的租金。
- B. 出售現有公屋單位予其租戶。
- C. 開徵一項稅收以壓抑炒樓活動。
- D. 興建更多居者有其屋單位。

11 2019 Q40

假設某經濟出現通脹（產出）差距和財政盈餘。下列哪項措施有助於縮小通脹（產出）差距，同時推至財政收支平衡？

- A. 減少入境旅客的配額
- B. 提高入息稅率
- C. 為全部 65 歲或以上長者推行全民退休保障計劃
- D. 增加基建方面的政府開支

12 2019 Q41

細閱下表。

政策 I	政策 II	政策 III
<ul style="list-style-type: none"> <li>●在公開市場購入政府債券</li> <li>●提高貼現率</li> </ul>	<ul style="list-style-type: none"> <li>●在公開市場購入政府債券</li> <li>●增加薪俸稅免稅額</li> </ul>	<ul style="list-style-type: none"> <li>●增加薪俸稅免稅額</li> <li>●提高貼現率</li> </ul>

上表哪項／些政策是擴張性的？

- A. 只有政策 I
- B. 只有政策 II
- C. 只有政策 III
- D. 只有政策 I 及政策 III

13 2020 Q35

下列哪些政策會抵銷了投資意願上升對價格水平的影響？

- (1) 利得稅率上升
  - (2) 轉移支付上升
  - (3) 免稅額下降
- A. 只有 (1)、(2)
  - B. 只有 (1)、(3)
  - C. 只有 (2)、(3)
  - D. (1)、(2) 及 (3)

14 2020 Q38

在 2019 年，日本政府調高了向大部分物品和服務所徵收的普及銷售稅，稅率由 8% 調高至 10%。其結果是，

- (1) 收入不均會擴大。
  - (2) 財政赤字會消除。
  - (3) 無形貿易赤字會下降。
- A. 只有 (1)
  - B. 只有 (2)
  - C. 只有 (3)
  - D. (1)、(2) 及 (3)

假設政府向住戶收取稅款為其支出融資，該支出和所收稅款的金額相同，這對總需求的影响屬

- A. 擴張性
- B. 收縮性
- C. 中性
- D. 未能決定

答案

1.	B
2.	B
3.	D
4.	B
5.	C
6.	C
7.	A
8.	B
9.	A
10.	D

- 11 A
- 12 B
- 13 B
- 14 A
- 15 A



**貨幣的定義**

1. 2010.Q5(a)  
(a) 貨幣的定義是\_\_\_\_\_ (2 分)

**判斷某物品是否貨幣**

2. 2002.Q.11(c)  
王小姐在某補習社任教經濟科。 (3 分)  
(c)該補習社學業成績好的學生會獲得書券，那是可用來在指定的書店裏購買書本的。解釋這些書券是否「貨幣」。
3. 2004.Q.11(c)(ii)  
(c) 某著名時裝連鎖店開設新分店。  
(ii) 為慶祝新店開幕，該連鎖店贈送現金券予其顧客，這些現金券可在該連鎖店當作現金使用。解釋為何這些現金券並非貨幣。 (2 分)
4. 2009.Q9(d)  
(d) 有些書店發行書券，持有人可用以支付他們在這些書店內購買的物品。  
(i) 除了「價值的儲藏」及「延期支付的標準」，寫出其他兩項貨幣功能的名稱。 (2 分)  
(ii) 書券不能發揮(d)(i)答案中的兩項貨幣功能。試加以解釋。 (2 分)

**貨幣的功能**

5. 1991.Q.5(a)  
列舉三項貨幣功能。 (3 分)
6. 2005.Q.4  
列舉及解釋兩項貨幣功能。 (4 分)

**通脹/通縮對貨幣功能的影響**

7. 1996.Q.8  
解釋在通脹發生時，有哪兩項貨幣功能受到影響。 (4 分)
8. 2004.Q.9(b)  
(b) 在通縮時期，現金會發揮貨幣哪一項功能比在通脹時期更好？解釋你的答案 (3 分)

**物品A發揮哪一項/些 貨幣功能?**

9. 1994.Q.6  
僱主：「如果你這個月替我工作，我會在月底給你30米布匹作為酬勞。」  
僱員：「請付現金。我不會接受布匹作為報酬。」  
該僱主認為，布匹除可作為交易媒介外，尚可發揮哪一種貨幣功能？並且解釋為何在一般情況下，布匹不能發揮該項功能。 (6 分)
10. 1995.Q.10(b)(i)  
在香港，往來存款或儲蓄存款的存戶可在若干店舖購物後，利用EPS 咭付款。EPS 咭的功用是使該筆金額馬上從存戶的銀行存款戶口轉帳到該等店舖的銀行存款戶口內。  
(i) 上例中，儲蓄存款與 EPS 咭同時運用可扮演一種貨幣功能。寫出該貨幣功能。 (2 分)
11. 1999.Q.11(d)  
有人認為八達通卡或可用作價值的儲藏和的上服務費用的支付工具。  
列舉貨幣其他兩項功能，並解釋為甚麼八達通卡不可能發揮這兩種功能。 (4 分)
12. 2003.Q.7  
在某些亞洲國家的遊客區裏，貨品和服務的價格都以美元來標示。假設遊客用美元現金購物。  
(a) 寫出美元在上文描述中所發揮的兩項貨幣功能的名稱。 (2 分)  
(b) 寫出其他兩項貨幣功能的名稱，並加以解釋。 (4 分)
13. 2006.Q.7  
「自由行」給香港帶來大量中國內地遊客。  
在下表填寫人民幣在每一個案中所發揮的貨幣功能。  
**人民幣所發揮的貨幣功能**
- 個案1：香港有些商店的貨品和服務以人民幣訂價。 \_\_\_\_\_
- 個案2：香港有些商店接受顧客以人民幣現金付款。 \_\_\_\_\_
- 個案3：香港有些銀行接受人民幣儲蓄存款。 \_\_\_\_\_ (3 分)
14. 2007.Q.6  
「澳門很多商店接受港元付款。澳門的銀行也接受港元存款。」  
寫出在上述情況中港元所發揮的兩項貨幣功能的名稱，並解釋這些功能。 (4 分)
15. PP.Q8  
活期存款可被視為貨幣。解釋它能發揮哪兩項貨幣功能。 (4 分)

良好貨幣的特質/不同物品作為貨幣的比較

16. 2001.Q.5  
解釋為甚麼作為一種交易媒介，紙幣會較鑽石更普遍被人接受。 (4 分)

17. 2010.Q5(b)  
(b) 列舉兩項理由解釋為什麼珍珠不是良好的「貨幣」。 (4 分)

18. 2012.Q7  
「當用作貨幣時，9999金較香煙為佳。」提出兩項理由解釋這個論點。 (4 分)

沒有現金 / 電子交易 = 沒有貨幣的言論

19. 1997.Q.4(a)  
在某海島上，居民以他們的貨物和勞務換取鹽，同時又用鹽來購買他們所需的物品。  
(a) 「該海島經濟沒有貨幣。」解釋你是否同意這句說話。 (2 分)

20. 1998.Q.6  
以下是一項關於未來商業城市的推測：「……由於科技進步，貨物和勞務的交易不需要使用現金。在先進的經濟體系裏再沒有現金。」  
小強說：「由於沒有現金，貨幣在這些經濟體系裏並不存在。」  
解釋小強所言是否正確。 (4 分)

以物易物經濟

21. 1997.Q.4(b)  
在某海島上，居民以他們的貨物和勞務換取鹽，同時又用鹽來購買他們所需的物品。  
(b) 解釋島上居民以鹽換貨物和勞務可能遭遇到的兩項困難。 (4 分)

22. 2000.Q.5  
野人甲：「我想用我的一些香蕉交換你的一些蔬菜。」  
野人乙：「但我現在想要的是一些木塊。」  
寫出貨幣的定義，並解釋貨幣如何能解決在上述情況出現的交換難題。 (4 分)

23. 2017.Q5  
由於政薈爭議，某國的貨幣大幅貶值，並變得非常波動。這可能削弱了貨幣哪兩項功能？試加以解釋。 (4 分)

24. 2020.Q5  
(a) 持有貨幣的機會成本是什麼？試加解釋。 (2 分)  
(b) 彼德欠瑪莉\$100，而他的錢包內並無現金。他向瑪莉提議用某連鎖超市發出的現金券（面值\$100）還債。舉出兩個經濟理由解釋為什麼瑪莉會拒絕接受該現金券作為彼德的還款。 (4 分)

24. 2021.Q7

在某國，懲教所大部分的囚犯都使用香煙作為交易媒介，但社會大眾拒絕用香煙結算支付。除了不獲社會普遍接受外，以兩個理由解釋為什麼香煙在社會中並不是一種良好的貨幣形式。 (4 分)

貨幣的定義

1. 2010.Q5(a)

貨幣的定義是 一種人們普遍接受的交易媒介。

2

判斷某物品是否貨幣

2. 2002.Q.11(c)

否。因為

它們沒有被普遍接受作為交易媒介。

沒有被普遍接受是因為它們不能用來購買其他物品或服務。

1

1

1

3. 2004.Q.11(c)(ii)

它們並非普遍被接受，因為它們不能在其他商店用來購物。

4. 2009.Q9(d)

- (i) - 交易媒介
- 記帳單位

1

1

[只批閱首兩項。]

- (ii) - 不是交易媒介因為這些證券並不普遍地被其它商舖接受用作購買商品或服務。

1

- 不是記帳單位因為其它商品的價格並非以這些證券來表達。

1

貨幣的功能

5. 1991.Q.5(a)

6. 2005.Q.4

- 交易媒介  
貨幣是可以幫助人們買賣物品和服務的媒介。
- 記帳單位  
貨幣可用來表達物品和服務的價格及價值。
- 價值的儲藏  
人們可將購買力儲藏起來，留待將來消費在物品和服務上。
- 延期支付的標準  
貨幣可用來表達將來支付的價值。

}  
1)  
1)  
1)  
1)  
1)  
1)

(1+1) @,  
最高：4

[只批閱首兩項。]

通脹/通縮對貨幣功能的影響

7. 1996.Q.8

- 價值的貯藏：相同數量的貨幣但較少購買力
- 延遲付款的標準：貨幣的實質價值下跌 / 債主寧願即時獲得現金，而非未到  
期支票
- 交易媒介：貨幣的實質價值下跌 / (在惡性通脹時期，) 貨幣的普遍接受性備受  
衝擊。

2@,

最高：4

[只批閱首兩項。]

8. 2004.Q.9(b)

儲存價值 / 儲存財富功能。這是因為現金的購買力 / 實質價值在通脹時期不斷減少，但在通縮時期卻不斷增加。

物品A發揮哪一項/些 貨幣功能?

9. 1994.Q.6

10. 1995.Q.10(b)(i)

- 交易媒介
- 支出工具

任何一項，2分

11. 1999.Q.11(d)

- 記帳單位
- 延期付款的標準

1

1

不是記帳單位。Q 其他物品的價格都不以八達通卡來表達。

1

不是延期付款的標準。Q 付車費時都是馬上扣除八達通卡上的數額。

1

12. 2003.Q.7

(a) 這是交易媒介或記帳單位。

(b) 其他功能包括：

- 價值的儲藏  
意思是人們可將購買力儲藏起來，留待將來消費在物品和服務上。
- 延期支付的標準  
這是以貨幣作為將來支付的單位。

13. 2006.Q.7

個案	人民幣所發揮的貨幣功能	
個案1：香港有些商店的貨品和服務以人民幣訂價。	<u>記帳單位</u>	1
個案2：香港有些商店接受顧客以人民幣現金付款。	<u>交易媒介/支付工具</u>	1
個案3：香港有些銀行接受人民幣儲蓄存款。	<u>價值的儲藏</u>	1

14. 2007.Q.6

- 接受港元付款：交易媒介/支付工具 1
  - 接受港元存款：價值儲藏 / 財富儲藏 1
- [只批閱首兩項。]

交易媒介：  
港元在澳門這些商店裏是可以幫助人們買賣物品和服務的媒介。 1

價值儲藏：  
港元存款容許人們把購買力儲存，以作將來購買物品和服務之用。 1

15. PP.Q8

- 交易媒介：支票是可以幫助人們買賣物品和服務媒介。 (2)
- 價值的儲藏：活期存款容許人們把購買力儲存，以作將來購買物品和服務之用。 (2)

良好貨幣的特質/不同物品作為貨幣的比較

16. 2001.Q.5

- (關於可分割性)  
一張紙幣可找換成較細面額的紙幣而總值不變。  
鑽石分割後總值便會下降。
  - (關於一致性)  
同一銀行發行相同面值的紙幣都有一致的外貌特徵 ⇒ 價值一致 鑽石沒有一致的外貌特徵 ⇒ 價值分歧
  - (關於一致性)  
紙幣的價值較易分辨 (因為同等價值的具有一致的外貌特徵)  
鑽石的價值不易分辨 (因為鑽石沒有一致的外貌特徵)
  - 任何其他相關點
- 2@, 最高：4

17. 2010.Q5(b)

- (不為人普遍接受)  
珍珠並非人們普遍接受用作買賣物品和服務的交易媒介。
  - (不可分割)  
珍珠分割後總值便會下降。
  - (非同質)  
珍珠沒有一致的外貌特徵 ⇒ 價值並非一致 / 珍珠的價值不易分辨。
  - 任何其他相關點
- [只批閱首兩項]
- 2@, 最高：4

18. 2012.Q7

- 黃金較耐用，而香煙的價值可能在交易時減低
  - 黃金較香煙廣泛被接受為交易媒介。
  - 黃金較同質而香煙的質素有所不同。
  - 任何其他相關點：[只批閱首兩項]
- 2@, 最高：4

沒有現金 / 電子交易 = 沒有貨幣的言論

19. 1997.Q.4(a)

我不同意這句說話。  
「貨幣」是公眾普遍接受的交易媒介。  
在該海島上，鹽就是「貨幣」。因為它是公眾普遍接受的交易媒介，居民可以用鹽換取他們所需的物品和勞務。

20. 1998.Q.6

錯誤。貨幣仍然存在，因為仍需要一個普遍接受的交易媒介。 3  
它可以其他形式出現，例如電子貨幣/ 其他解釋。 1

以物易物經濟

21. 1997.Q.4(b)

優良貨幣應具備易於攜帶及同質性等特質。  
島上居民可能遇到的兩項困難是：第一，攜帶鹽作交易；第二，以鹽作為訂價單位。  
若要交換的物品或勞務的價值很高 (譬如說要購買一間屋)，便需要大量的鹽作交易，但隨身攜帶大量鹽是十分不方便。  
另一方面，由於各類鹽的品質有異，且不易分辨，故不易被眾人接受為量度價值的單位，以訂定交易時所涉及物品或勞務可換取鹽的數量。

22. 2000.Q.5

貨幣是一個普遍接受的交易媒介。 2  
該情況的交換難題是尋找雙向需求偶合 / 買與賣必須同時進行。 2  
若以貨幣作交易媒介，野人甲可用貨幣向野人乙購買蔬菜而無需向後者出售香蕉。野人乙亦可用貨幣向其他人購買木塊。貨幣出現後，縱使沒有雙向需求偶合，交換仍可進行 / 買與賣不須同時進行。

23. 2017 Q5

貨幣的功能：

- 價值的儲存：  
由於本地貨幣的價值 (以外幣計算) 下跌，其購買力 (以外國的物品和服務數量計算) 會下降。
  - 延遲支付的標準：  
由於貨幣的價值大幅波動，擬訂日後以本地貨幣支付的合約的成本會上升。
  - 交易的媒介：  
若貨幣價值波動太厲害，一些跨國的廠商可能拒收該國貨幣。
- [只批閱首兩項功能]

2分

@2  
最高：4

(a) 名義利息（或利率）

因為某人持有貨幣時便放棄了將該筆金錢存入銀行並賺取利息收入的機會，或將該筆金錢購買可賺取利息的資產（如債券）的機會。

(1)  
(1)

(b) 原因：

- 並非普遍地被接受為交易媒介，因為現金券只能在該連鎖超市使用，其他店舖不能使用。
  - 並非可分割，因為現金券很難兌換成較細金額以幫助交易較便宜的物品。
  - 並非良好價值貯藏，因為當該連鎖超市關店，現金券價值歸零。
  - 不及紙幣耐用，因為該現金券並不防水，容易損壞。
  - 不是法定貨幣，因為其他人可能拒絕接受現金券作支付之用。
  - 任何其他相關點
- [只評閱首兩項。]

} @2  
最高：4

銀行三級制

無須回答此題

中央銀行的功能

1. 1992.Q.3(c)(i)

(i) 列舉兩項由匯豐銀行執行的中央銀行功能。

(4 分)

2. 2002.Q.7

列舉兩項中央銀行的功能。

(2 分)

商業銀行

3. 2001.Q.10(a)

商業銀行的基本經濟角色是甚麼？

(2 分)

中央銀行的功能

1. 1992.Q.3(c)(i)

(i) 匯豐銀行負責發行香港的法定紙幣，亦是香港的政府銀行。

2. 2002.Q.7

- 發行貨幣
- 作為政府的銀行
- 作為政府的顧問
- 監管金融部門例如私人銀行
- 最後的放貸者
- 結算銀行票據的行政機構
- 執行貨幣政策
- 管理國家的外匯儲備
- 其他相關點

[ 只批閱 首 兩 項 ]

1 @ ,  
最高 4 2

商業銀行

3. 2001.Q.10(a)

銀行是將人民的儲蓄轉變成投資的一種金融中介機構。

2

1. 1990.Q.2(d)(i)

假設香港的銀行並不持有超額儲備而法定最低儲備率是 25%。陳先生從甲銀行的儲蓄戶口中提取 10,000 港元後存放家中。

(i) 解釋 M1(港元部分)即時有何改變。 (2 分)

2. 1992.Q.3(a)(ii), (b)(i)

(a)(ii) 解釋為甚麼銀行持有的現金並不包括在 M1 的計算之內。 (3 分)

(b) 在香港，王小姐將\$1000 現金存入匯豐銀行的活期存款戶口內。

(i) 此舉對 M1 即時有甚麼影響？並加解釋。 (3 分)

3. 1993.Q.5(c)(i)

假設陳先生將他的樓宇售予一位加拿大的朋友，獲得相當於三百萬港元的海外匯款。他將這三百萬港元存入他在本港一間銀行的儲蓄戶口。

(i) 解釋此舉對本港貨幣供應定義 1 及 2 有(M1 及 M2)即時有甚麼影響。 (4 分)

4. 1995.Q.10(b)(ii)

在香港，往來存款或儲蓄存款的存戶可在若干店舖購物後，利用EPS 咭付款。EPS 咭的功用是使該筆金額馬上從存戶的銀行存款戶口轉帳到該等店舖的銀行存款戶口內。

(ii) 解釋當某人利用 EPS 咭購物時，貨幣供應定義二 (M2) 是否受到影響。 (2 分)

5. 1996.Q.7

某年，全部商業銀行一月及二月的綜合資產負債表如下：

一月		一月	
資產 (百萬元)		負債 (百萬元)	
現金儲備	40	往來存款	20
放款	60	儲蓄存款	40
		定期存款	40
二月		二月	
資產 (百萬元)		負債 (百萬元)	
現金儲備	50	往來存款	30
放款	50	儲蓄存款	40
		定期存款	30

根據上述綜合資產負債表，貨幣供應定義一和貨幣供應定義二從一月至二月有何變化？寫出計算步驟。 (4 分)

6. 1999.Q.5

分別寫出貨幣供應 (定義一) 及 (定義二) 的定義。 (4 分)

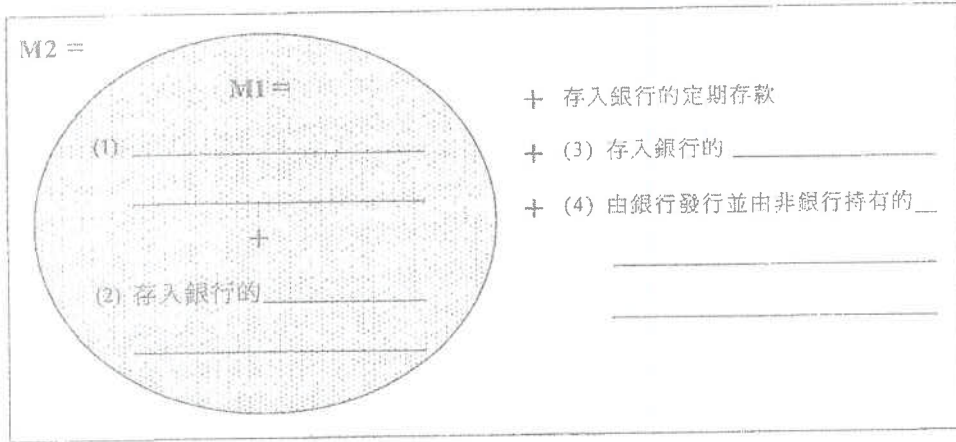
7. 2002.Q.6

在香港，李先生從甲銀行的儲蓄存款戶口提取代\$300 000。他將其中50%存入某接受存款公司，又經銀行將另外 20%匯款往外國，並將餘下的錢存放在乙銀行的保險箱中。

上述情況對香港的貨幣供應定義一 (M1) 及定義三 (M3) 有何即時影響？解釋你的答案。(6 分)

8. 2008.Q.6

在香港，貨幣定義M2有五個組成部分。其中一個組成部分已在下圖顯示出來。在適合的空位上填寫其餘四個組成部分。(4 分)



9. 2011.Q10(c)

王先生預期人民幣在不久的將來升值。為了賺錢，他將\$20 000港元儲蓄存款轉換成人民幣儲蓄存款。同時他將\$5 000港元儲蓄存款轉為他的港元往來存款。以上全部交易都是在香港一家持牌銀行內進行。

以上的交易對港元貨幣供應M1 和 M3 分別有甚麼即時影響？解釋你的答案。(6 分)

1. 1990.Q.2(d)(i)
2. 1992.Q.3(a)(ii), (b)(i)
3. 1993.Q.5(c)(i)
4. 1995.Q.10(b)(ii)
5. 1996.Q.7

$$\begin{aligned} \Delta M1 &= \text{非銀行公眾人士持有現金數額的變動} + \text{持牌銀行往來帳戶存款的變動} \\ &= 0 + (30-20)\text{百萬元} = +(30-20)\text{百萬元} \\ &= +1 \text{ 千萬元} \end{aligned} \quad \left. \vphantom{\Delta M1} \right\} 1$$

$$\begin{aligned} \Delta M2 &= \Delta M1 + \text{持牌銀行定期存款和儲蓄存款的變動} + \text{非銀行公眾人士持有的持牌銀行所發行的可轉讓存款証總值的變動} \\ &= +1 \text{ 千萬元} + [(40 + 30) - (40 + 40)]\text{百萬元} \\ &= 0 \end{aligned} \quad \left. \vphantom{\Delta M2} \right\} 1$$

另一種答案

$$\begin{aligned} \Delta M1 &= \text{非銀行公眾人士持有現金數額的變動} + \text{持牌銀行往來帳戶存款的變動} \\ &= (40 - 50)\text{百萬元} + (30 - 20)\text{百萬元} \\ &= 0 \end{aligned} \quad \left. \vphantom{\Delta M1} \right\} 1$$

$$\begin{aligned} \Delta M2 &= \Delta M1 + \text{持牌銀行定期存款和儲蓄存款的變動} + \text{非銀行公眾人士持有的持牌銀行所發行的可轉讓存款証總值的變動} \\ &= 0 + [(40 + 30) - (40 + 40)]\text{百萬元} + \$ [(40 + 30) - (40+40)]\text{百萬元} \\ &= -1 \text{ 千萬元} \end{aligned} \quad \left. \vphantom{\Delta M2} \right\} 1$$

6. 1999.Q.5

貨幣供應定義一 / M1 = 銀行系統以外公眾人士持有的現金 + 往來存款 2  
 貨幣供應定義二 / M2 = M1 + 儲蓄存款 + 銀行定期存款 + 金融體系以外所持有由銀行發出的可轉讓存款證 2

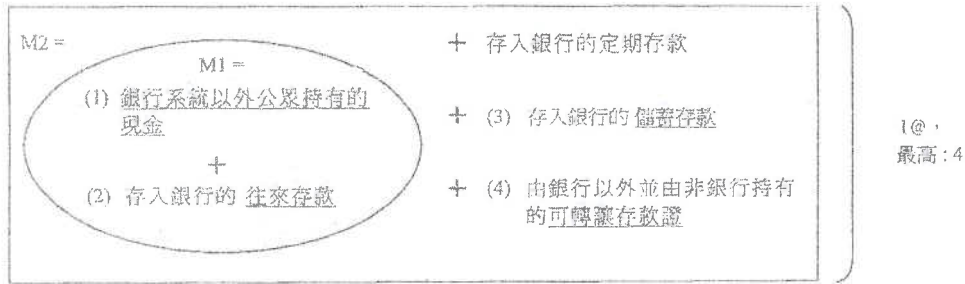
7. 2002.Q.6

M1 增加 1  
 \$90 000 1  
 ∴ 公眾持有的法幣增加 1

M3 減少 1  
 \$60 000 1  
 ∴ 該筆款項不再包括入本港的流通貨幣之內 / 不包括入本港金融部門的存款內。 1

[ 註：只提及 M1 及 / 或 M3 的定義，無分。 ]

8. 2008.Q.6



9. 2011.Q10(c)

港元貨幣供應 M1 會增加  
\$5 000 港元  
因為往來存款包括在 M1 內。

港元貨幣供應 M3 會減少  
\$20 000 港元  
因為人民幣存款不包括在港元貨幣供應內。

I  
I  
I  
  
I  
I  
I

1. 1990.Q.2(d)(ii)

假設香港的銀行並不持有超額儲備而法定最低儲備率是 25%。陳先生從甲銀行的儲蓄戶口中提取 10,000 港元後存放家中。

- (ii)(I) 計算甲銀行的儲備比較法例規定短缺了多少。  
列舉一種可行方法使甲銀行重新符合法定儲備要求。 (5 分)
- (ii)(II) 計算銀行體系內總存款量最多會改變多少。 (3 分)

2. 1991.Q.5(b)(i),(ii),(iii)

設一經濟體系中只有甲、乙兩銀行。它們皆受相同的法定現金儲備率限制。乙銀行並無超額現金儲備。它們的資產負債表如下：

甲銀行			
資產 (\$)		負債 (\$)	
現金	50	存款	100
貸款	50		

乙銀行			
資產 (\$)		負債 (\$)	
現金	200	存款	800
貸款	600		

- (i) 計算這經濟體系的法定現金儲備率。 (2 分)
- (ii) 計算甲銀行的超額現金儲備。 (2 分)
- (iii) 現在假設甲銀行不再持有超額現金儲備。計算整個銀行系統創造存款額最高可增加多少。 (3 分)
- 除上述假設外，列舉達致上述答案所需的其他兩項假設。 (4 分)

3. 1992.Q.3(b)(ii)

在香港，王小姐將\$1000 現金存入匯豐銀行的活期存款戶口內。

- (ii) 在某些情況下，這\$1000 存款不會導致存款進一步增長。解釋其中兩種情況。 (6 分)

4. 1993.Q.5(c)(ii)

假設陳先生將他的樓宇售予一位加拿大的朋友，獲得相當於三百萬港元的海外匯款。他將這三百萬港元存入他在本港一間銀行的儲蓄戶口。

- (ii) 設儲備比率為 25%，計算本地銀行系統內存款的最大可能增值（包括該三百萬元）。並列出計算步驟。 (3 分)



5. 1994.Q.5

設在某經濟體系中，全部銀行不持有超額儲備，而其資產負債表如下：

資產 (\$)		負債 (\$)	
儲備	240	存款	1 200
貸款	960		

設某君將現金\$100 存入銀行。問銀行系統可創造的最高存款額是多少（包括最初的\$100）？寫出你的計算步驟。（4 分）

6. 1995.Q.10(a)(iii)

下列是美國的一段新聞報導：

【本國一位歌手義演兩場相同的演唱會，門票收入全數捐予非洲盧安達難民作購買糧食及醫藥之用。……】

(iii) 為了購買演唱會門票，觀眾在美國的銀行戶口裏提取了\$M。假設美國的銀行的法定儲備率是 20%，它們從沒有超額儲備，亦沒有現金流失的情況。將款項提取及捐予盧安達後，美國的銀行存款總額有何變動？簡單解釋其轉變過程。（8 分）

7. 1996.Q.11(c)

假設某報館以發行股票來集資 5 百萬元，並將全部款項存入本港的銀行中。又設本港銀行的法定儲備比率是 25%，它們不持有超額儲備，亦無現金流失的情況。

在下列各種情況下，試解釋在發行股票集資事件完結以後，香港銀行系統的總存款額有何變化。

- (i) 全部股票由本地人購買，他們從本港的銀行提款以支付。（3 分）
- (ii) 全部股票由外國人購買，他們從海外匯款來港以支付。（4 分）

8. 1997.Q.9(c)

設香港的銀行沒有超額儲備，而最低儲備比率是 25%。又設為了興建該新鐵路，政府從海外借款 100 億元。

引述存款創造的過程來解釋，為甚麼本港銀行因此而創造的真實存款數額比可能創造出來的最高存款額為低。（8 分）

9. 1998.Q.9(a)

王先生收到一筆總值一百萬港元的海外匯款後，將全部款項存入香港某家銀行。後來，他利用部份金錢購買股票，其餘的用來開辦一家食店。

(a) 假設香港的銀行儲備要求是 25%，而銀行沒有現金流失，亦沒有超額儲備。簡釋本地銀行系統因注入一百萬元導致的存款創造過程，並計算所創造的存款總額（總額應包括該一百萬元在內）。（8 分）

10. 1999.Q.6(a)

假設銀行的法定儲備率是 25%，而甲銀行並不持有超額儲備。富城贏取一項海外獎學金，收到\$10,000 的匯款，將它存入甲銀行。甲銀行將全部超額儲備借給詠琪，她將這筆錢存入乙銀行；但乙銀行找不到客戶將款項借出。

(a) 計算這個經濟因以上事件創造了多少存款額。（4 分）

11. 2000.Q.10(a)(i),(ii)

下面為甲經濟的銀行系統資產負債表。假設全部銀行並不持有超額儲備，而公眾人士持有 5 千萬現金。

資產 (百萬元)		負債 (百萬元)	
現金儲備	200	存款	1000
放款	800		

(a) 假設公眾人士現在從銀行系統裏提取 1 千萬現金。

- (i) 計算銀行系統存款額有多少改變。（3 分）
- (ii) 計算及解釋貨幣供應量有多少改變。（4 分）

12. 2001.Q.10(b)

某銀行系統的資產負債表如下：

資產 (百萬元)		負債 (百萬元)	
儲備	250	存款	1,000
貸款	750		

- (i) 已知法定儲備比率是 20%，計算該銀行系統的實際儲備比率及超額儲備。（4 分）
- (ii) 某存戶從該銀行系統提取 40 百萬元，並全數投資於海外。若這系統裏的全部銀行將餘下的超額儲備全數借出，系統裏的總存款額最高可以是多少？解釋你的答案。（4 分）

13. 2002.Q.10(a)

某銀行系統的資產負債表如下：

資產 (百萬元)		負債 (百萬元)	
儲備	20	存款	100
貸款	80		

(a) 公眾人士將 10 百萬元現金存入銀行系統內。

- (i) 假設這些銀行並不持有超額儲備。計算貨幣供應量的最大可能變動，並解釋你的答案。（5 分）
- (ii) 列舉兩項可能原因，解釋為甚麼貨幣供應量的實際變動可以少於它的最大可能變動。（4 分）

14. 2003.Q.11(b)(ii)

假設多間公司結業導致對貸款的需求大幅下跌，因此，部分銀行無法將超額儲備借出。

(ii) 利用存款創造過程，解釋貸款需求下跌會如何影響銀行系統創造存款的能力。（4 分）

15. 2003.Q.11(c)

假設銀行系統的超額儲備是 50 百萬元，而系統的資產負債表如下：

資產 (百萬元)		負債 (百萬元)	
儲備	250	存款	1000
貸款	750		

若沒有銀行持有超額儲備，銀行系統的最大可能總存款額是多少？寫出你的計算步驟。（4 分）

16. 2004.Q.6

以下是甲經濟的銀行系統資產負債表。該經濟的公眾總是持有現金 50 百萬元。起初銀行的超額儲備是 100 百萬元。

資產 (百萬元)		負債 (百萬元)	
儲備	500	存款	2 000
放款	1 500		

假設有人從銀行提走 140 百萬元的存款並匯出國外。

- (a) 計算隨後甲經濟貨幣供應量的最大可能值。 (4 分)
- (b) 簡單解釋上述提款所引起的存款收縮過程。 (4 分)

17. 2005.Q.5

參閱以下某銀行系統的資產負債表：

資產 (百萬元)		負債 (百萬元)	
儲備	120	存款	1 000
放款	880		

假設法定儲備比率是 10%。

- (a) 計算該銀行系統的超額儲備。 (2 分)
- (b) 假設所有銀行將超額儲備全部借出，計算該銀行系統總存款額的最大可能值。 (2 分)

18. 2006.Q.6

某銀行系統的資產負債表如下。

資產 (\$)		負債 (\$)	
儲備	500	存款	1 500
貸款	1 000		

- (a) 假設該銀行系統的超額儲備是 \$350。法定儲備比率是多少？  
法定儲備比率是 \_\_\_\_\_ %。 (1 分)
- (b) 假設有人從該銀行系統中提款 \$350。解釋在剛提款後，銀行系統是否仍然持有超額儲備。 (3 分)

19. 2007.Q.7

參閱以下某銀行系統的資產負債表：

資產 (\$)		負債 (\$)	
儲備	1 700	存款	7 500
放款	5 800		

假設法定儲備比率是 20%。

- (a) 該銀行系統的超額儲備是 \$ \_\_\_\_\_。 (1 分)
- (b) 假設陳先生從該銀行系統提取 \$100，其中 70% 持作現金，其餘的款項匯往海外。
- (i) 該銀行系統總存款額的即時改變是 \_\_\_\_\_。 (1 分)
- (ii) 所以，總貨幣供應量的即時改變是 \_\_\_\_\_。 (2 分)

20. 2008.Q.10

政府可以減少貨幣供應量以冷卻過熱的經濟。該經濟銀行系統的資產負債表如下：

資產 (百萬元)		負債 (百萬元)	
儲備	1 000	存款	5 000
放款	4 000		

假設該經濟的公眾總是持有相同數量的現金，而該銀行系統永不持有超額儲備。中央銀行將法定儲備比率提高 5%。

- (a) 簡單解釋上述儲備比率改變所引起的存款收縮的過程。 (4 分)
- (b) 計算並加以解釋該經濟因上述存款收縮導致其貨幣供應量改變多少。 (5 分)

21. 2009.Q6

參閱以下某銀行體系的資產負債表。

資產 (\$)		負債 (\$)	
儲備	300	存款	1 000
貸款	700		

假設法定儲備比率是 20%。

- (a) 計算該銀行體系的超額儲備。 (2 分)
- (b) 若超額儲備全部借出，計算銀行體系內最高的總存款額可以是多少。 (2 分)

22. 2010.Q11(b)

假設銀行體系的資產負債表如下：

資產 (百萬元)		負債 (百萬元)	
儲備	2 000	存款	8 000
貸出款項	6 000		

當信貸危機出現，各銀行基於安全理由，將儲備率增加至 40%。此舉導致銀行存款額出現變動。

- (i) 計算銀行存款的最大可能變動是多少。 (3 分)
- (ii) 簡釋上述儲備率改變所造成的存款收縮過程。 (4 分)

23. 2011.Q7

參閱以下某銀行系統的資產負債表：

資產 (百萬元)		負債 (百萬元)	
儲備	220	存款	2 000
貸款	1 780		

假設超額儲備是 20 百萬元。

- (a) 計算該銀行系統的法定儲備比率。 (2 分)
- (b) 假設該銀行系統不再持有超額儲備及沒有現金流失。以下是在存款創造過程完成後，該銀行系統的最後資產負債表。請在表中填上三個適當的數字。 (3 分)

資產 (百萬元)		負債 (百萬元)	
儲備	_____	存款	_____
貸款	_____		

## 24. SP.Q5

某銀行系統的資產負債表如下。

資產 (\$)		負債 (\$)	
儲備	500	存款	1500
貸款	1000		

- (a) 假設該銀行系統的超額儲備是\$275。法定儲備比率是多少？ (1分)
- (b) 假設有人從該銀行系統中提款\$300。解釋在剛提款後，銀行系統是否仍然持有超額儲備。 (3分)

## 25. PP.Q14

下表顯示某經濟的銀行體系的資產負債表：

資產 (百萬元)		負債 (百萬元)	
儲備	1 000	存款	4 000
貸款	3 000		

假設這經濟的公眾總是持有 500 百萬元現金，而該銀行體系從不持有超額儲備。

- (a) 計算該經濟的貨幣基礎和貨幣供應量。 (2分)
- (b) 假設中央銀行把銀行體系的最低儲備比率降低 5%。  
 (i) 解釋該經濟的貨幣基礎是否有所改變。 (2分)  
 (ii) 計算新的貨幣供應量。列出你的計算步驟。 (4分)
- (c) 根據貨幣數量論，解釋上述貨幣供應量的改變長期而言如何影響一般物價水平。 (4分)

## 26. 2012.Q13

下表顯示某經濟銀行體系的資產負債表。

資產 (百萬元)		負債 (百萬元)	
儲備	500	存款	2 000
貸款	1 500		

假設公眾不持有現金，而銀行體系內超額儲備是 100 百萬元。

- (a) 求法定儲備比率。列示你的計算。 (2分)
- (b) 若銀行將可貸款項全數借出，求最高可能存款額。列示你的計算。 (2分)
- (c) 中央銀行注入 200 百萬元新印的鈔票到銀行體系。若銀行將超額儲備悉數借出，該經濟的貨幣供應量是多少？列示你的計算。 (4分)
- (d) 根據貨幣量理論，推斷(c)所述的貨幣政策對物價水平的影響。寫出要達至你的結論所需的假設。 (4分)

## 27. 2013.Q12(a)(b)

下表顯示某經濟內銀行系統的資產負債表。

資產 (百萬元)		負債 (百萬元)	
儲備	400	存款	2 000
貸款	1 600		

公眾持有 1 000 百萬元現金，而所有銀行可貸款項全數借出。

- (a) 計算該經濟的貨幣基礎和貨幣供應。寫出你的計算步驟。 (4分)
- (b) 若法定儲備比率調整至 25%，計算該經濟新的貨幣供應。寫出你的計算步驟。 (2分)

## 28. 2014.Q12(a), (b)

2013 年日本首相安倍晉三採取一系列政策以擴張日本經濟。其中一項政策是加大中央銀行購入政府債券和其他金融資產的規模。

- (a) 若日本中央銀行向日本的商業銀行購入政府債券，解釋日本的貨幣基礎會否受影響。 (3分)
- (b) 描述中央銀行購入政府債券可能導致的存款創造/收縮過程。解釋這個過程會否進一步影響日本的貨幣基礎。 (5分)

## 29. 2015.Q6

細閱下列甲國銀行系統的資產負債表。

資產(百萬元)		負債(百萬元)	
儲備	1 000	存款	5 000
貸款	4 000		

- (a) 計算這銀行系統內的下列各項：  
 (i) 法定儲備比率 (1分)  
 (ii) 貨幣供應 (2分)

甲國某廠商從外地收取 50 百萬元，並將這筆款項存入銀行。

- (b) 計算甲國新的貨幣基礎。列出你的步驟。 (2分)
- (c) 計算甲國新的貨幣供應。列出你的步驟。 (3分)

30. 2016.Q8

以下是某銀行系統的資產負債表。

資產(百萬元)		負債(百萬元)	
儲備	1 000	存款	4 000
貸款	3 000		

假設公眾總是持有現金 500 百萬元，而該銀行系統並不持有超額儲備。

(a) 計算貨幣基礎和貨幣供應

(2 分)

中央銀行把法定儲備比率提高至 50%。

(b) 計算貨幣基礎的轉變和貨幣供應的轉變，列示你的計算。

(4 分)

(c)(i) 為甚麼貨幣供應通常是貨幣基礎的數倍？

(3 分)

(ii) 在什麼情況下貨幣供應會相等於貨幣基礎？

(1 分)

31. 2017.Q8

下表顯示某銀行系統的資產負債表。該系統的超額儲備是 \$250。

資產 (\$)		負債 (\$)	
儲備	1 000	存款	3 000
貸款	2 000		

(a) 找出法定儲備比率。

(1 分)

(b) 假設銀行借出全部超額儲備，而公眾沒有持有現金。計算信貸創造後存款的轉變。列示你的計算。

(2 分)

32. 2018.Q7

(a) 以下是某銀行系統的資產負債表。

資產 (百萬元)		負債 (百萬元)	
儲備	500	存款	2 000
貸款	1 500		

原初銀行持有 100 百萬元超額儲備，而公眾持有 100 百萬元現金。假設中央銀行向公眾購買價值 40 百萬元的政府債券。

(i) 計算新的貨幣基礎。列示你的計算。

(2 分)

(ii) 在兩項假設下，貨幣供應的實際轉變會相等於貨幣供應的最大可能轉變。寫出這兩項假設。

(2 分)

(iii) 計算貨幣供應的最大可能轉變。列示你的計算。

(4 分)

(b) 根據貨幣學理論，推斷中央銀行在公開市場購買政府債券對物價水平的影響。寫出要達至你的結論所需要的假設。

(4 分)

33. 2019.Q7

以下是某銀行系統的資產負債表。

資產 (百萬元)		負債 (百萬元)	
儲備	300	存款	1 000
貸款	700		

假設法定儲備比率是 20%，而公眾持有 200 百萬元現金。

(a) 計算該銀行系統的超額儲備。

(1 分)

(b) 假設公眾不再持有現金，而全部銀行借出所有超額儲備。計算貨幣供應的最大可能轉變。列示你的計算。

(4 分)

34. 2020.Q8

細閱以下甲國銀行系統的資產負債表。

資產(百萬元)		負債(百萬元)	
儲備	1 000	存款	4 000
貸款	3 000		

假設公眾總是持有 800 百萬元現金，而銀行系統並沒有持有超額儲備。

(a) 找出甲國的貨幣基礎和貨幣供應。

(2 分)

(b) 假設有廠商從銀行系統提取 700 百萬元並將整筆款項匯出海外。

(i) 找出甲國貨幣基礎的轉變。

(1 分)

(ii) 計算甲國貨幣供應的最大可能轉變。列示你的計算。

(3 分)

35. 2021.Q6

下表顯示某銀行體系的資產負債表。

資產 (百萬元)		負債 (百萬元)	
儲備	600	存款	1 500
貸款	1 200		

原初銀行持有 300 百萬元的超額儲備，而公眾總是持有 100 百萬元現金。

(a) 找出法定儲備比率。

(1 分)

(b) 假設法定儲備比率下調 5%，而銀行借出全部超額儲備。計算信貸創造/收縮後新的貨幣供應。列示你的計算。

(3 分)

1. 1990.Q.2(d)(ii)
2. 1991.Q.5(b)(i),(ii),(iii)
3. 1992.Q.3(b)(ii)
4. 1993.Q.5(c)(ii)
5. 1994.Q.5
6. 1995.Q.10(a)(iii)

1995年以前的題目不提供答案

(iii) 以正確次序簡述轉變過程：

- |   |   |   |       |
|---|---|---|-------|
| (第一步) 最初提取 \$M                              | } | 2 | 最高: 8 |
| = 銀行儲備減少/實際儲備 < 法定儲備                        |   |   |       |
| (第二步) 銀行收回放款/向公眾出售銀行資產                      | } | 2 |       |
| (第三步) -提取銀行存款以償還債項/購買銀行資產<br>-銀行存款不斷緊縮      |   |   |       |
| (第四步) 最後，銀行存款總額緊縮                           | } | 1 |       |
| $\$5M \text{ 或 } \$M \times \frac{1}{20\%}$ |   |   |       |

7. 1996.Q.11(c)

- (i)
- 銀行體系總存款額不變。∵ 只是一間銀行的存款轉換為另一間銀行的存款。
  - 或
  - 銀行體系總存款額不變。∵ 最初可能有一些存款收縮，但其後會被存款擴張所抵銷，結果是中性的。
- (ii)
- 銀行體系獲得超額儲備 1
  - 銀行體系總存款額增加 1
  - $5 \text{ 百萬元} \times 1/25\% = 2 \text{ 千萬元}$  2

8. 1997.Q.9(c)

由於政府把海外借款100億元注入本地的銀行體系，所以銀行會即時擁有  $10 \times 75\% = 7.5$  (十億元) 的超額儲備。在存款創造的過程中，銀行會借出 7.5 (十億元)，然後，公眾便會將這筆貸款再存入該銀行體系。這個過程不斷重覆。最後，整個銀行體系便會創造出  $10 \times \frac{1}{0.25} = 40$  (十億元) 的最高存款額。

而令到創造的真實存款額比最高存款額為低的原因包括：

- (1) 以應付存款者突如其來的提款，銀行通常會保留部分超額儲備。
- (2) 由於缺乏足夠的投資機會，銀行未能借出所有超額儲備。
- (3) 為了購買物品，公眾會保留一部分現金。

9. 1998.Q.9(a)

- (a) 第 1 步  
銀行接受王先生 1 百萬存款後，首先，銀行會借出/投資 75% 或 75 萬元 2
- 第 2 步  
該 75 萬元貸款/投資會再存入銀行系統內 2
- 上述過程，即 (第 1 步 - 第 2 步 - 第 1 步 ...) 會繼續下去，直至 2
- 最後創造的存款總額 = 最初存款額  $\times \frac{1}{\text{法定儲備比率}}$
- $= 1 \text{ 百萬元} \times \frac{1}{0.25}$
- $= 4 \text{ 百萬元}$  2

10. 1999.Q.6(a)

- (a)  $\$10\,000 + \$10\,000 \times (1 - 25\%)$  2  
 $= \$17\,500$  2

11. 2000.Q.10(a)(i),(ii)

- (a) 答案 1 (假設公 人士沒有動用持有的 5 千萬元現金以償還銀行因客戶提取而收回的放款)
- (i)  $-1 \text{ 千萬元} \times 1/(200/1000)$  2  
 $= -5 \text{ 千萬元}$  1
- [註：只提出公式 (提取  $\times 1 / \text{儲備率}$ ) 而欠缺數據：最高 1 分]
- (ii) 貨幣供應量的變動 = 公 人士持有現金的變動 + 銀行存款的變動 1  
 $= (+1 \text{ 千萬元}) + (-5 \text{ 千萬元})$  2  
 $= -4 \text{ 千萬元} / \text{緊縮 } 4 \text{ 千萬元}$  1

答案 2 (假設公 人士考慮動用持有的 5 千萬元現金以償還銀行因客戶提取而收回的放款)

- (i) 最大變動與答案 1 相同，但實際變動須視乎公 人士動用多少所持有的 5 千萬元現金以償還銀行貸款。最小變動是 -1 千萬元。

∴ 任何一個合理的推論，加上正確的結論：最高 3 分

- (ii) 使用答案 1 的公式，銀行存款的變動介乎最多減少 5 千萬元至最少減少 1 千萬元，須視乎公 人士動用多少所持有的 5 千萬元現金以償還銀行貸款。公 人士持有現金的變動則介乎最多增加 1 千萬元至最少增加 2 百萬元。因此，最後答案的數值介乎 -4 千萬元至 -8 百萬元。

∴ 任何一個合理的推論，加上正確的結論：最高 4 分

12. 2001.Q.10(b)

(b) (i)

$$\begin{aligned} \text{實際儲備比率} &= \frac{250}{1000} \\ &= 0.25 \text{ (或 } \frac{1}{4} \text{)} \end{aligned}$$

$$\begin{aligned} \text{超額儲備} &= (0.25 - 0.2) \times 1000 \text{ 百萬元} \\ &= 50 \text{ 百萬元} \end{aligned}$$

(ii) 該項措施使儲備額減少 40 百萬元，變成 210 百萬元。

$$\begin{aligned} \text{這個新儲備額可以支持 } 210 \text{ 百萬元} \times \frac{1}{0.2} \\ = 1050 \text{ 百萬元} \text{ 的存款額} \end{aligned}$$

13. 2002.Q.10(a)

- (a)(i) 法定儲備比率 =  $(20/100) = 1/5$  或 銀行乘數 = 5  
 創造存款最高可達 = 10 百萬元  $\times 5 = 50$  百萬元  
 貨幣供應量的最大可能變動 = 創造存款的最高額 - 市民手中現金減少數量  
 (= 50 百萬元 - 10 百萬元) = 40 百萬元
- (ii) - 有現金流失  
 - 銀行決定持有超額儲備  
 - 借款需求不足  
 [只批閱首兩項。] 2@, 最高: 4

14. 2003.Q.11(b)(ii)

(ii) 由於貸款需求減少，部分銀行未能將超額儲備借出。於是銀行能夠借出的貸款會減少，重新存入銀行系統的款項會減少。因此，存款創造能力下降。

15. 2003.Q.11(c)

$$\text{法定儲備要求} = \frac{1}{5} \text{ 或 } 0.2$$

$$\begin{aligned} \text{最高存款額} &= 250 \text{ 百萬元} \times \frac{1}{0.2} \\ &= 1250 \text{ 百萬元} \end{aligned}$$

16. 2004.Q.6

(a) 貨幣供應量的最大可能值

$$= (500 - 140) \text{ 百萬元} \times \frac{1}{20\%} + 50 \text{ 百萬元} = 1850 \text{ 百萬元}$$

(b) 提取存款會造成 銀行系統儲備流失 / 儲備不足 / 實際儲備低於法定儲備。銀行要追收貸款 / 向公眾人士出售資產，有人再從銀行系統提取存款。上述的過程會不斷重覆進行。

17. 2005.Q.5

(a) 超額儲備 =  $\underbrace{[120 - 1000 \times 10\%]}_{1 \text{ 分}} \text{ 百萬元} = \underbrace{20}_{1 \text{ 分}} \text{ 百萬元}$  2

(b) 銀行存款最大可能值 =  $\underbrace{120 \text{ 百萬元} \times 1/10\%}_{1 \text{ 分}} = \underbrace{1200}_{1 \text{ 分}} \text{ 百萬元}$  2

18. 2006.Q.6

- (a) 10% 1
- (b) 是，因為  
 當總存款減少至 \$1150 (= \$1500 - \$350) 時，所需之法定儲備為 \$115 (= \$1150  $\times$  10%)。而銀行系統內的儲備資產只減少至 \$150 (= \$500 - \$350)。[銀行系統內仍持有 \$35 的超額儲備。] 2

19. 2007.Q.7

- (a) 200 1
- (b)(i) - \$100 1
- (ii) - \$30 2

20. 2008.Q.10

- (a) 儲備比率增加  
 → 銀行儲備不足 / 銀行實際儲備少於法定儲備 1  
 → 銀行要收回部分放款 / 向公眾出售資產 1  
 → 銀行存款被提取 1

上述過程不斷重覆 (直至銀行實際儲備與法定儲備相等)。<sup>\*</sup> 1

[\*註：只有當上述各步驟的順序正確，方能獲得此1分。]

20-2008.Q.10 (續)

(b) 新的法定儲備比率 =  $0.2 + 0.05 = 0.25$

以下 ① 或 ② 其中一項：

①  $\left\{ \begin{aligned} &1000 \text{ 百萬元儲備容許銀行可接受之銀行存款總額} = 1000 \text{ 百萬元} \times \frac{1}{0.25} \\ &= 4000 \text{ 百萬元} \end{aligned} \right.$

②  $\left\{ \begin{aligned} &\text{銀行存款總額的變動} = -250 \text{ 百萬元} \times \frac{1}{0.25} \\ &= -1000 \text{ 百萬元} \end{aligned} \right.$

貨幣供應量的改變 = 銀行系統以外公眾持有的法定貨幣 (包括紙幣及硬幣) 數量的改變 + 銀行存款總額的改變 / 銀行系統以外公眾持有的法定貨幣數量不變 / 貨幣供應量 = 銀行系統以外公眾持有的法定貨幣數量 + 銀行存款總額

∴ 貨幣供應量的改變 = -1000 百萬元

21. 2009.Q6

(a)  $\left\{ \begin{aligned} &\text{最低法定儲備是 } \$1000 \times 20\% = \$200 \\ &\text{或} \\ &\text{超額儲備是 } \$300 - \$200 \end{aligned} \right.$

∴ 超額儲備 = \$100

(b) 最高的總存款額 =  $\$300 \times \left(\frac{1}{20\%}\right)$   
= \$1500

另一答案

創造的存款額 =  $\$100 \times \frac{1}{20\%} = \$500$

∴ 最高的總存款額 = \$1500

22. 2010.Q11(b)

(i) 銀行乘數 =  $1/40\% = 1/0.4$

當儲備率為40%，2000百萬元儲備所能支持的最大存款額  
=  $2000 \text{ 百萬元} \times 1/0.4$   
= 5000 百萬元

所以，銀行存款的最大轉變 =  $5000 \text{ 百萬元} - 8000 \text{ 百萬元} = -3000 \text{ 百萬元}$

(ii) 儲備比率增加

- ⇒ 實際儲備額少於所期望的儲備額
- ⇒ 銀行須追回貸款 / 把資產售予公眾
- ⇒ 存款者向銀行提款

上述過程會不斷重覆 (直至銀行持有的儲備額相等於所期望的儲備額)。

[\* 只有當考生獲取首三分後才考慮給予第四分。]

[# 若考生所描述的過程以「存款者向銀行提款」開始，則(b)(ii)部分最多給予2分。]

23. 2011.Q7

(a)  $(220 \text{ 百萬元} - 20 \text{ 百萬元}) / 2000 \text{ 百萬元}$   
= 10%

(b)

資產(百萬元)		負債(百萬元)	
儲備	220	存款	2200
貸款	1980		

上表中，

儲備 = 220 百萬元

貸款 = 1980 百萬元

存款 = 2200 百萬元

24. SP.Q5

(a) 法定儲備比率 =  $\$(225/1500) = 0.15$

(b) 提款後的法定儲備 =  $\$1200 \times 0.15 = \$180$   
超額儲備 = \$20

25. PP.Q14

(a) 貨幣基礎 =  $1000 \text{ 百萬元} + 500 \text{ 百萬元} = 1500 \text{ 百萬元}$

貨幣供應 =  $4000 \text{ 百萬元} + 500 \text{ 百萬元} = 4500 \text{ 百萬元}$

(b)(i) 不會，因為

該政策不會影響儲備金額或公眾持有的現金。

(b)(ii) 在政策改變前，法定儲備比率 =  $1000 \text{ 百萬元} / 4000 \text{ 百萬元} = 0.25$

新的法定儲備比率 =  $0.25 - 0.05$

= 0.2

銀行會借出其超額儲備。

新的存款 =  $1000 \text{ 百萬元} \times (1/0.2) = 5000 \text{ 百萬元}$

新的貨幣供應 =  $500 \text{ 百萬元} + 5000 \text{ 百萬元} = 5500 \text{ 百萬元}$

(c) 貨幣量理論： $M\bar{V} = PY$ ，其中M = 貨幣存量、V = 貨幣流通速率、

P = 一般價格水平及Y = 實質產出

假設在長期而言Y維持不變。

M的上升會令P有同等百分比的上升。

26. 2012.Q13

- (a) 法定儲備比率 =  $(500 \text{ 百萬元} - 100 \text{ 百萬元}) / 2000 \text{ 百萬元}$   
= 20% (1)  
(1)
- (b) 最高可能的存款額 =  $500 \text{ 百萬元} \times \frac{1}{0.2}$   
= 2500 百萬元 (1)  
(1)
- (c) 存款 =  $700 \text{ 百萬元} \times \frac{1}{0.2} = 3500 \text{ 百萬元}$  (2)  
公眾持有的現金 = 0 (1)  
貨幣供應 = 存款 + 公眾持有的現金  
= 3500 百萬元 (1)
- (d) 貨幣量理論:  $MV = PY$ , 其中  $M$  = 貨幣存量,  $V$  = 貨幣流通速率,  $P$  = 一般價格水平及  $Y$  = 實質產出, 假設  $V$  維持不變。  
- 當  $Y$  上升的百分比比較小,  $M$  的上升會導致  $P$  上升。 (2)  
或  
- 當  $Y$  維持不變,  $M$  的上升會導致  $P$  上升相同的百分比。 (2)
- } 最高: 2

27. 2013.Q12(a)(b)

- (a) 貨幣基礎 =  $300 \text{ 百萬元} + 1000 \text{ 百萬元} = 1300 \text{ 百萬元}$  (2)  
貨幣供應 =  $1000 \text{ 百萬元} + 2000 \text{ 百萬元} = 3000 \text{ 百萬元}$  (2)
- (b) 新的貨幣供應  
 $1000 \text{ 百萬元} + 1600 \text{ 百萬元} \times 1.25\% = 2600 \text{ 百萬元}$  (2)

28. 2014.Q12(a), (b)

- (a) 貨幣基礎 = 在公眾流通的現金 + 商業銀行的儲備 (1)  
貨幣基礎增加, 因為商業銀行有更多儲備。 (2)
- (b) 信貸創造的過程:  
當中央銀行向商業銀行購入債券, 更多的現金會注入商業銀行成為儲備, 而銀行系統會有超額儲備。 (1)  
銀行會借出其超額儲備。 (1)  
銀行貸款會再存入銀行系統。  
該過程會繼續(直到實際儲備等於法定儲備)。
- 否。貨幣基礎會維持不變, 因為在公眾流通的現金和銀行系統內的儲備總和不會受信貸創造的過程影響。 (2)

29. 2015.Q6

- 6(a)(i) 法定儲備比率:  $1000 \text{ 百萬元} / 5000 \text{ 百萬元} = 0.2$  (1)
- (ii) 貨幣供應:  $150 \text{ 百萬元} + 5000 \text{ 百萬元} = 5150 \text{ 百萬元}$  (2)
- (b) 新的貨幣基礎:  $150 \text{ 百萬元} + 1050 \text{ 百萬元} = 1200 \text{ 百萬元}$  (2)
- (c) 新的貨幣供應:  $150 \text{ 百萬元} + 1050 \text{ 百萬元} / 0.2 = 5400 \text{ 百萬元}$  (3)

30. 2016 Q.8

- (a) 貨幣基礎 =  $500 \text{ (百萬元)} + 1000 \text{ (百萬元)} = 1500 \text{ (百萬元)}$   
貨幣供應 =  $500 \text{ (百萬元)} + 4000 \text{ (百萬元)} = 4500 \text{ (百萬元)}$  (1)  
(1)
- (b) 貨幣基礎的轉變 =  $1500 \text{ (百萬元)} - 1500 \text{ (百萬元)} = 0$  (2)
- 貨幣供應的轉變  
= 新的貨幣供應 - 原始的貨幣供應  
=  $(500 \text{ 百萬元} + 1000 \text{ 百萬元} \times 2) - 4500 \text{ 百萬元} = -2000 \text{ 百萬元}$  (2)
- 或  
貨幣供應的轉變  
= 非銀行公眾所持現金的轉變 + 存款的轉變  
=  $0 + (1000 \text{ 百萬元} \times 2 - 4000 \text{ 百萬元}) = -2000 \text{ 百萬元}$  (2)
- (c) (i) 部分儲備銀行系統下, 銀行只須保存部分的存款作儲備, 令銀行能以下列的方法創造存款: 借出剩餘部分的存款, 成為商業和私人貸款。這些貸款最終會成為存款回流銀行系統, 這令存款有倍數增加。銀行乘數會大於一。 (3)
- (ii) 若法定儲備比率是 100% (RRR=1) 則即使  $RRR < 1$  時所有銀行並不會借出它們的超額儲備 (如在金融危機時積累的比率很高), 貨幣基礎便會相等於貨幣供應。 (1)

31. 2017 Q.8

- (a) 法定儲備比率 (RRR) =  $(\$1000 - \$250) / \$3000 = 0.25$  (1)  
(1)
- (b) 存款的轉變 =  $\$250 \times \frac{1}{0.25} = \$1000$  (2)  
(2)



32. 2018 (Q7)

(a) (i) 新  $M_2 = 500 \text{ 百萬元} + 100 \text{ 百萬元} + 40 \text{ 百萬元} = 640 \text{ 百萬元}$

(2)

(ii) 銀行不持有超額儲備，公眾對貸款有足夠需求，沒有現金流失。

(2)

(iii) 舊  $M_2 = 2000 \text{ 百萬元} + 100 \text{ 百萬元} = 2100 \text{ 百萬元}$   
 $RRR = (500 \text{ 百萬元} - 100 \text{ 百萬元}) / 2000 \text{ 百萬元} = 0.2$   
 新  $M_2 = 100 \text{ 百萬元} + (500 \text{ 百萬元} + 40 \text{ 百萬元}) / 0.2 = 2800 \text{ 百萬元}$   
 $\therefore M_2$  增加 700 百萬元  $(= 2800 \text{ 百萬元} - 2100 \text{ 百萬元})$

(4)

(b)  $MV = PY$ ， $M$ ：貨幣供應， $V$ ：貨幣流通速率， $P$ ：物價水平， $Y$ ：產出

(4)

假設  $V$  和  $Y$  不變，當  $M$  上升， $P$  會按比例上升。

或

假設  $V$  下變，當  $M$  上升的百分率高於  $Y$  的上升百分率， $P$  會上升。

33. 2019 (Q7)

(a) 超額儲備 =  $300 \text{ 百萬元} - 1000 \text{ 百萬元} \times 20\% = 100 \text{ 百萬元}$

(1)

(b) 舊的貨幣供應 =  $1000 \text{ 百萬元} + 200 \text{ 百萬元}$   
 $= 1200 \text{ 百萬元}$

(4)

新的貨幣供應 =  $(300 \text{ 百萬元} + 200 \text{ 百萬元}) \times 1/20\% + 0 \text{ 百萬元}$   
 $= 2500 \text{ 百萬元}$

貨幣供應的最大可能轉變 =  $2500 \text{ 百萬元} - 1200 \text{ 百萬元}$   
 $= 1300 \text{ 百萬元}$

34. 2020 (Q8)

(a) 貨幣基礎:  $1000 \text{ 百萬元} + 800 \text{ 百萬元} = 1800 \text{ 百萬元}$

(1)

貨幣供應:  $800 \text{ 百萬元} + 4000 \text{ 百萬元} = 4800 \text{ 百萬元}$

(1)

(b) (i) 貨幣基礎的改變 =  $-700 \text{ 百萬元}$

(1)

(ii) 貨幣供應的改變 =

(3)

$(300 \text{ 百萬元} \times \frac{1}{0.25} + 800 \text{ 百萬元}) - 4800 \text{ 百萬元} = -2800 \text{ 百萬元}$

1. 2014.Q7

美國政府嘗試一方面加稅，另一方面減低財政開支，以減低其不斷增加的財政赤字。但是很多人擔心這項政策會導致不良的副作用。

(a) 解釋上述財政政策對美國整體經濟可能引起的兩個不良效果。 (4 分)

(b) 另一替代政策是印發鈔票以支付財政赤字。與上述財政政策相比，簡單討論這替代政策對美國經濟的一項好處和一項壞處。 (4 分)

1. 2014.Q7

(a) 收縮性財政政策的副作用：

- 對產出的負面影響(本地生產總值下降)：因為政府支出下降令總需求下降
- 對產出的負面影響(本地生產總值下降)：因為銷售稅/人息稅增加令消費/投資下降，總需求下降
- 對勞工的負面影響(抑制作用)並對就業(及產出)的負面影響：由增加人息稅所引致
- 任何其他相關點

[只批閱首兩項]

(b) 優點：

- 增加貨幣供應會令利率下降，並增加投資，在短期令實質產出上升。已知該經濟有閒置的資源，有更多的勞工(及/或資本)會用作生產更多產出。這令就業上升，失業下降(而收縮性財政政策不會導致產出和就業上升)。
- 任何其他相關點

[只批閱首項]

缺點：

- 在長期(總供應曲線是垂直)，增加貨幣供應不會影響產出和就業。但如果財政赤字增長太快，令貨幣供應增長率高於實質產生的增長率，高通脹會出現(而收縮性財政政策不會導致通脹上升)。
- 任何其他相關點

[只批閱首項]

@2;  
最高: 4

@2;  
最高: 2

@2;  
最高: 2

1. SP.Q6

- (a)(i) 名義利率與實質利率有何不同? (2 分)
- (ii) 解釋在什麼條件下名義利率會低於實質利率。 (2 分)
- (b) 解釋為何名義利率是持有貨幣的代價。 (3 分)

2. PP.Q14(c)

下表顯示某經濟的銀行體系的資產負債表：

資產 (百萬元)		負債 (百萬元)	
儲備	1 000	存款	4 000
貸款	3 000		

假設這經濟的公眾總是持有 500 百萬元現金，而該銀行體系從不持有超額儲備。

- (a) 計算該經濟的貨幣基礎和貨幣供應量。 (2 分)
- (b) 假設中央銀行把銀行體系的最低儲備比率降低 5%。  
(i) 解釋該經濟的貨幣基礎是否有所改變。 (2 分)
- (ii) 計算新的貨幣供應量。列出你的計算步驟。 (4 分)
- (c) 根據貨幣數量論，解釋上述貨幣供應量的改變長期而言如何影響一般物價水平。 (4 分)

3. 2012.Q11(a)

- (a) 什麼是通脹? (2 分)

4. 2012.Q11(c),(d)

為舒緩通脹對市民的影響，政府發行了與通脹掛鈎的債券(ibonds)，每六個月向債券持有人支付利息。其利率與過去半年的實際通脹率有正向關係。

- (c) 持有現金而不持有與通脹掛鈎的債券的機會成本是甚麼? (2 分)
- (d) 解釋與通脹掛鈎的債券會如何舒緩通脹對其持有人的影響。 (2 分)

5. 2012.Q13(d)

下表顯示某經濟銀行體系的資產負債表。

資產 (百萬元)		負債 (百萬元)	
儲備	500	存款	2 000
貸款	1 500		

假設公眾不持有現金，而銀行體系內超額儲備是 100 百萬元。

- (a) 求法定儲備比率。列示你的計算。 (2 分)
- (b) 若銀行將可貸款項全數借出，求最高可能存款額。列示你的計算。 (2 分)
- (c) 中央銀行注入 200 百萬元新印的鈔票到銀行體系。若銀行將超額儲備悉數借出，該經濟的貨幣供應量是多少? 列示你的計算。 (4 分)
- (d) 根據貨幣量理論，推斷(c)所述的貨幣政策對物價水平的影響。寫出要達至你的結論所需的假設。 (4 分)

6. 2013.Q3

- (a) 名義利率與實質利率有什麼關係? (2 分)
- (b) 「當實際通貨收縮出現，名義利率會低於實質利率。」你同意嗎? 試加解釋。 (3 分)

7. 2014.Q5(b)

解釋以消費物價指數和以本地生產總值平減物價指數量度物價水平轉變的一個不同之處。(2分)

8. 2014.Q5(a), (c)(ii)

細閱以下有關某經濟的資料。

年份	消費物價指數 (CPI)
2012	120
2013	126

(a) 計算2013年的通脹率。(1分)

假設人們預期由2012年至2013年物價水平沒有任何轉變。當上表所示的物價改變出現，解釋以下各人會獲益還是受損。

(ii) 在2012年，瑪蓮投資了一個項目，其預期名義回報率為每年12%。在2013年，她發現該計劃的實際名義回報率為每年15%。(3分)

9 2019 Q6

細閱表1及表2，然後回答以下問題。

表1：綜合消費物價指數 (CCPI) 的變化

2016年	2017年
+2.3%	+1.7%

表2：每小時的最低工資率

2016年	2017年
\$32.5	\$34.5

(a) 根據表1，指出在2017年一般物價水平的變化。(1分)

(b) 2017年1月1日，小強預計該年CCPI的變化是+2.3%，並以5%年利率將一筆款項借給潔文。2017年12月31日，潔文連本帶利把錢還給小強。參考表1，解釋小強會得益還是會損失。(3分)

(c) 潔文一直按每小時的最低工資率領取工資。參考表1及表2，解釋在2017年她的實質工資率會如何轉變。(3分)

10 2020 Q4

細閱以下有關某經濟的資料。

年份	消費物價指數 (CPI)
2018	110
2019	117

(a) 計算2019年的通脹率。(1分)

(b) 解釋以消費物價指數和以本地生產總值平減指數去量度物價水平轉變的一項不同之處。(2分)

(c) 「中央銀行在公開市場持續購入政府債券是該經濟出現通脹的成因。」參考古典貨幣數量理論，論證這陳述。(4分)

1. SP.Q6

- (a)(i) 名義利率 = 實質利率 + 預期通脹率 (2)
- (ii) 若預期通脹率是負數，名義利率會低於實質利率。 (2)
- (b) 名義利率是持有有意資產的回報。持有貨幣亦即放棄了持有有意資產的選擇，其成本是名義利率。 (3)

2. PP.Q14(c)

- (a) 貨幣基礎 = 1 000 百萬元 + 500 百萬元 = 1 500 百萬元 (1)
- 貨幣供應 = 4 000 百萬元 + 500 百萬元 = 4 500 百萬元 (1)
- (b)(i) 不會，因為 (1)
- 該政策不會影響儲備金額或公眾持有的現金。 (1)
- (b)(ii) 在政策改變前，法定儲備比率 = 1 000百萬元 / 4 000百萬元 = 0.25 (1)
- 新的法定儲備比率 = 0.25 - 0.05 (1)
- = 0.2 (1)
- 銀行會借出其超額儲備。 (1)
- 新的存款 = 1 000 百萬元 x (1/0.2) = 5 000百萬元 (1)
- 新的貨幣供應 = 500 百萬元 + 5 000 百萬元 = 5 500 百萬元 (1)
- (c) 貨幣量理論： $M\bar{V} = PY$ ，其中M = 貨幣存量、V = 貨幣流通速率、 (1)
- P = 一般價格水平及Y = 實質產出 (1)
- 假設在長期而言Y維持不變。 (1)
- M的上升會令 P 有同等百分比的上升。 (2)

3. 2012.Q11(a)

- (a) 一般物價水平持續上升。 (2)

4. 2012.Q11(c),(d)

- (c) 該機會成本是與通脹掛鈎的債券的名義回報。 (2)
- (d) 與通脹掛鈎的債券幫助保存所投資的款項的購買力。因為該債券的利息回報率的增加會和實際通脹率的增加相同。 (2)

5. 2012.Q13(d)

- (a) 法定儲備比率 = (500 百萬元 - 100 百萬元) / 2 000 百萬元 (1)
- = 20% (1)
- (b) 最高可能的存款額 = 500 百萬元  $\times \frac{1}{0.2}$  (1)
- = 2 500 百萬元 (1)
- (c) 存款 = 700 百萬元  $\times \frac{1}{0.2}$  = 3 500 百萬元 (2)
- 公眾持有的現金 = 0 (1)
- 貨幣供應 = 存款 + 公眾持有的現金 (1)
- = 3 500 百萬元 (1)
- (d) - 貨幣量理論： $MV = PY$ ，其中M = 貨幣存量、V = 貨幣流通速率、 (2)
- P = 一般價格水平及Y = 實質產出，假設 V 維持不變。 (2)
- 當 Y 上升的百分比比較小，M 的上升會導致 P 上升。 (2)
- 或 (2)
- 當 Y 維持不變，M 的上升會導致 P 上升相同的百分比。 (2)
- } 最高：2

6. 2013.Q3

- (a) 名義利率(R) = 預期通脹率 + 實質利率 (r) (2)
- (b) 不會，因為只有當預期通脹率是負數時，名義利率(R)低於實質利率(r)。實際通 (1)
- 縮的出現並不意味著通縮是預期的。 (1)
- 最高：3
- 或 (1)
- 會。因為人們可能預期了通縮的出現，而預期通縮會導致名義利率低於實質利率。 (1)
- 或 (1)
- 會。因為當實際通縮出現，實際的實質利率會高於名義利率。 (1)

7. 2014.Q5(b)

- (b) 不同之處： (1)
- ◆ 消費物價指數只包括消費者物品而本地生產總值平減物價指數包括消費者和生產者物品。 (1)
  - ◆ 消費物價指數計算一籃子的物品，比重每 5 年修訂，而本地生產總值平減物價指數每年的比重均不同。 (1)
- [只批閱首項]
- 任何一項：最高：2

8. 2014.Q5(a), (c)(ii)

- (a) 2013 年的通脹率： $(126-120)/120 \times 100\% = 5\%$  (1)
- (c)(ii) 瑪蓮會損失， (1)
- 因為已知實際名義回報率為 15%而實際通脹率為 5%，她的實際實質回報率為 10% (=15% - 5%)。這低於預期實質回報率(12%)。

10.2019 Q6

(a) 上升 (+1.7%)。

分數  
(1)

(b) 他會得益，因為實際通脹率 (1.7%) 低於預期通脹率 (2.3%)，所以他獲得的實際實質利率 (3.3%) 高於預期實質利率 (2.7%)，或所收取利息的購買力高於預期。

(3)

(c) 實質工資率上升，因為名義工資率上升 6.2% 高於通脹率 1.7%。

(3)

10.2020 Q1

(a) 通脹率 =  $(117 - 110) / 110 \times 100\% = 6.36\%$

分數  
(1)

(b) 分別：

- CPI 只包括消費者物品而 GDP 平減指數包括消費者物品及生產者物品。
  - CPI 的計算基於某固定籃子物品 (其比重不會經常調整)，而 GDP 平減指數的計算每年計算的物品籃子是可變的 (其比重每年不同)。
  - 任何其他相關點
- [只評閱首項。]

} @2  
最高：2

(c)  $MV=PY$ ，而 M：貨幣供應；V：貨幣流通速率；P：物價水平及 Y：產出。

(2)

假設 V 及 Y 維持不變。

M 的持續增加 (由公開市場購買債券引起) 會令 P 持續上升，即出現通脹。

(2)

12MC3 中央銀行的角色 答案

1.	C
2.	A
3.	B
4.	C
5.	D
6.	B
7.	A
8.	C
9.	A
10.	C

11A

12MC1 貨幣的性質與功能 答案

1.	A	11.	A	21.	C	31.	D	41.	C
2.	A	12.	B	22.	A	32.	C	42.	C
3.	A	13.	C	23.	B	33.	C	43.	A
4.	B	14.	C	24.	B	34.	B	44.	D
5.	D	15.	B	25.	C	35.	D	45.	
6.	C	16.	D	26.	B	36.	A	46.	
7.	C	17.	D	27.	A	37.	C	47.	
8.	C	18.	D	28.	B	38.	A	48.	
9.	B	19.	D	29.	C	39.	C	49.	
10.	D	20.	C	30.	B	40.	D	50.	

12MC4 貨幣供應 M1、M2 及 M3 答案

1.	C	11.	A	21.	D	31.	A
2.	C	12.	D	22.	A	32.	A
3.	A	13.	B	23.	A	33.	C
4.	C	14.	C	24.	D	34.	B
5.	C	15.	B	25.	C	35.	A
6.	A	16.	B	26.	C	36.	
7.	A	17.	D	27.	C	37.	
8.	A	18.	A	28.	D	38.	
9.	B	19.	A	29.	B	39.	
10.	B	20.	A	30.	B	40.	

12MC7 貨幣數量論及利率 答案

1.	B	11.	A
2.	C	12.	D
3.	B	13.	C
4.	B	14.	C
5.	D	15.	A
6.	A	16.	
7.	B	17.	
8.	A	18.	
9.	D	19.	
10.	B	20.	

1. 1990.MC.Q29

作為記帳單位貨幣必須是

- A. 同質。
- B. 方便攜帶。
- C. 稀少。
- D. 耐用。

2. 1990.MC.Q58

下列哪一項描述為不正確？

- A. 信用卡是一種貨幣，因為它是一種支付的工具。
- B. 貨幣使雙重需求巧合不再成為交易的必需條件。
- C. 通貨膨脹嚴重時，貨幣作為價值儲藏的能力減弱。
- D. 在以物換物經濟中，一個人購買物品必須同時出售另一物品。

3. 1991.MC.Q29

以下哪一項是沙漠中最佳的貨幣？

- A. 貝殼
- B. 沙粒
- C. 水
- D. 馬鈴薯

4. 1992.MC.Q33

定期存款有以下的貨幣功能：

- A. 交易媒介
- B. 價值儲藏
- C. 記帳單位
- D. 延期付款標準

5. 1992.MC.Q57

馬鈴薯並非一種良好的貨幣，主要因為它們是\_\_\_\_\_的。

- A. 不可分割
- B. 可攜帶
- C. 同質
- D. 易壞

6. 1992.MC.Q59

以下哪一項關於「實物交易」的描述是錯誤的？

- A. 實物交易指直接以物易物。
- B. 只有當雙方的需求有雙重巧合時才能出現實物交易。
- C. 實物交易只存在於沒有交易媒介的社會裡。
- D. 以實物交易方式進行國際貿易通常較進行本土貿易為困難。

7. 1993.MC.Q31

現時，我們可以信用咭或硬幣來使用公眾電話。電話公司接受顧客以信用咭打電話是因為

- (1) 信用咭是法幣。
  - (2) 信用咭是延期支付的工具。
  - (3) 信用咭持有人是更值得信任的人。
  - (4) 此舉可減低處理硬幣的成本。
- A. 只有(1)、(2)  
B. 只有(1)、(3)  
C. 只有(2)、(4)  
D. 只有(3)、(4)

8. 1993.MC.Q58

在以下哪一種情況中，貨幣不會存在？

- A. 沒有銀行系統。  
B. 只接受信用咭付款。  
C. 地球上只有一個人。  
D. 國與國之間完全禁絕貿易。

9. 1994.MC.Q41

作為支付工具，紙幣較支票為佳，因為前者

- A. 更能分拆為較細單位。  
B. 更為普遍地被接受。  
C. 更易於攜帶。  
D. 更為稀有。

10. 1995.MC.Q38

下列哪一項關於貨幣的描述是正確的？

- A. 它必須具有內在價值。  
B. 它必須由法律確定為交易媒介。  
C. 它必須能兌換成某些貴重金屬。  
D. 它必須被普遍接受為交易媒介。

11. 1995.MC.Q39

作為貨幣，紙幣較往來戶口存款為佳，因為前者較

- A. 普遍為人接受。  
B. 易分拆為較小的單位。  
C. 耐用。  
D. 易攜帶。

12. 1995.MC.Q40

將下列各項資產依流動性由高至低排列：

- (1) 普通股股票
  - (2) 房地產
  - (3) 紙幣
  - (4) 往來戶口存款
- A. (1)、(3)、(4)、(2)  
B. (3)、(4)、(1)、(2)  
C. (3)、(4)、(2)、(1)  
D. (4)、(3)、(2)、(1)

13. 1995.MC.Q50

利用貨幣進行交易跟以物易物不同之處在於前者

- A. 被政府控制，但後者則不是。  
B. 每一物品都有一價格，但後者則不是。  
C. 不須雙方的需求偶合，但後者則須。  
D. 牽涉競爭，但後者則不會。

14. 1996.MC.Q38

將下列銀行資產根據流動性由高至低加以排列：

- (1) 放款和墊款
  - (2) 在其他銀行的存款
  - (3) 銀行本身擁有的物業
- A. (1)、(2)、(3)  
B. (1)、(3)、(2)  
C. (2)、(1)、(3)  
D. (3)、(2)、(1)

15. 1997.MC.Q32

作為一種貨幣，九九金較鑽石為佳，因為前者

- (1) 較易分拆為細單位。
  - (2) 數量較稀少。
  - (3) 品質較為一致
- A. 只有(1)、(2)  
B. 只有(1)、(3)  
C. 只有(2)、(3)  
D. (1)、(2)、(3)

16. 1997.MC.Q39

\_\_\_\_\_ 持有人所承受的風險最低，而資金流動性最高。

- A. 公司長期債券
- B. 普通股股票
- C. 優先股股票
- D. 儲蓄存款戶

17. 1998.MC.Q32

作為大額交易中的交易媒介，支票較紙幣及硬幣為佳，因為支票較為

- A. 耐用。
- B. 被普遍接受。
- C. 稀少。
- D. 易於攜帶。

18. 1999.MC.Q35

9999 金與翡翠比較，前者會是一種較佳的貨幣形式，這是由於前者更為

- (1) 被普遍接受。
  - (2) 容易折細。
  - (3) 品質一致。
- A. 只有(1)、(2)
  - B. 只有(1)、(3)
  - C. 只有(2)、(3)
  - D. (1)、(2)、(3)

19. 2001.MC.Q48

在香港，駕駛人士可向隧道公司購買隧道券來使用隧道。這些隧道券並非延期支付的標準。換句話說

- A. 儲存在隧道券的購買力只可以在某些隧道使用。
- B. 大部份香港人不使用隧道券。
- C. 大部份貨品和服務的價值都不是用隧道券來量度的。
- D. 未來的付款一般都不是以隧道券作為付款單位。

20. 2002.MC.Q34

下列哪幾項對貨幣的描述是正確的？

- (1) 在通縮時期，貨幣的購買力仍會維持不變。
  - (2) 當電子貨幣更普及時，市民持有的現金會減少。
  - (3) 貨幣有助於人民累積購買力。
- A. 只有(1)、(2)
  - B. 只有(1)、(3)
  - C. 只有(2)、(3)
  - D. (1)、(2)及(3)

21. 2003.MC.Q50

魚並非良好的記帳單位，主因是它並不

- A. 耐用。
- B. 稀少。
- C. 同質。
- D. 便於攜帶。

22. 2004.MC.Q35

當「以物易物」的經濟轉變為「在交易中使用貨幣」的經濟，人們會

- (1) 較容易尋獲交易對象。
  - (2) 較為容易達成在未來結賬的交易。
  - (3) 花費更多時間達成買賣雙方都同意的價格。
- A. 只有(1) 和 (2)
  - B. 只有(1) 和 (3)
  - C. 只有(2) 和 (3)
  - D. (1)、(2)、(3)

23. 2004.MC.Q36

定期存款比往來存款更能發揮貨幣的\_\_\_\_\_ 功能，因為前者\_\_\_\_\_

- A. 計算單位 ..... 有一個共同單位
- B. 價值儲藏 ..... 有利息收入
- C. 交易媒介 ..... 為人普遍接受
- D. 延期支付標準 ..... 是一項流動資產

24. 2004.MC.Q40

下列哪一類資產的資金流動性最低？

- A. 手頭現金
- B. 普通股股票
- C. 往來存款
- D. 儲蓄存款

25. 2005.MC.Q35

甲國原以黃金作為貨幣。假設該國的科學家找到一種方法，可以近乎零成本製造黃金，因此，該國政府決定放棄以黃金作為貨幣。這說明優良貨幣必須是

- A. 方便攜帶。
- B. 可分割。
- C. 稀少。
- D. 耐用。



26. 2006.MC.Q33

下列哪項對貨幣的描述是正確的？

- (1) 在電子化付款系統裡，交易仍然是以貨幣來完成的。
- (2) 通貨收縮減低貨幣購買力。
- (3) 在交易中使用貨幣，「雙向需求偶合」便不再需要了。

- A. 只有(1)、(2)
- B. 只有(1)、(3)
- C. 只有(2)、(3)
- D. (1)、(2)、(3)

27. 2006.MC.Q34

與麥粒相比，9999 金是一種較佳的貨幣形式，因為後者更為

- (1) 耐用。
- (2) 品質一致。
- (3) 容易拆細。

- A. 只有(1)、(2)
- B. 只有(1)、(3)
- C. 只有(2)、(3)
- D. (1)、(2)、(3)

28. 2007.MC.Q35

通脹期間，人們較不願意以持有現金的方式來儲存財富。這是因為在那時貨幣的\_\_\_\_\_功能減弱了。

- A. 交易媒介
- B. 價值儲藏
- C. 記賬單位
- D. 付款工具

29. 2008.MC.Q34

一個經濟從以物易物轉變為藉金錢來交易會減少

- A. 專門化的需要。
- B. 交易的需要。
- C. 尋找交易夥伴的時間。
- D. 支付的頻率。

30. 2008.MC.Q35

作為一種貨幣，塑膠鈔票較紙質鈔票更\_\_\_\_\_。

- A. 同質
- B. 耐用
- C. 可分割
- D. 容易攜帶

31. 2008.MC.Q36

電子貨幣更趨普及可帶來哪些好處？

- (1) 減少需要處理的硬幣和紙幣的數量。
- (2) 減少收到偽鈔的機會。
- (3) 該筆金錢可存入銀行一段較長的時間以賺取更多利息。

- A. 只有(1)、(2)
- B. 只有(1)、(3)
- C. 只有(2)、(3)
- D. (1)、(2)、(3)

32. 2009.MC.Q35

下列哪種資產的流動性最高？

- A. 樓房物業
- B. 政府債券
- C. 儲蓄存款
- D. 定期存款

33. 2009.MC.Q36



當香港部分商店將出售貨品的價格在價錢牌上以人民幣標示時，人民幣正在發揮\_\_\_\_\_的功能。

- A. 法定貨幣
- B. 價值儲藏
- C. 記賬單位
- D. 延期支付的標準

34. 2010.MC.Q34

下列哪項對貨幣的描述是正確的？

- (1) 貨幣的使用可降低尋找交易夥伴的訊息費用。
- (2) 沒有銀行，貨幣便不會存在。
- (3) 即使全部交易都以電子轉賬（或在互聯網上）完成，貨幣仍會存在。

- A. 只有(1)、(2)
- B. 只有(1)、(3)
- C. 只有(2)、(3)
- D. (1)、(2)、(3)

35. 2010.MC.Q37

\_\_\_\_\_ 持有人的資金流動性最低。

- A. 可轉讓存款證
- B. 普通股
- C. 儲蓄存款
- D. 物業

36. 2011.MC.Q36

純銀與鑽石相比，以\_\_\_\_\_來衡量，純銀是一種較佳的貨幣形式。

- A. 可分割性
- B. 易攜性
- C. 耐用性
- D. 稀少性

37. 2011.MC.Q37

在香港，八達通卡的使用愈趨普及。這會帶來什麼影響？

- A. 銀行乘數會減少。
- B. 貨幣供應量會減少。
- C. 銀行體系的存款創造能力會增加。
- D. 貨幣作為交易媒介的功能會被削弱。

38. 2011.MC.Q38

下列哪種資產的流動性最高？

- A. 活期存款
- B. 定期存款
- C. 債券
- D. 股票

39. SP.MC.Q27

下列哪項有關貨幣的陳述是正確的？

- A. 通貨收縮減低貨幣的購買力。
- B. 在一個沒有現金的社會中，所有交易都透過電子繳費系統支付，貨幣在該社會並不存在。
- C. 若交易中使用貨幣，縱使交易雙方沒有雙重需求偶合，交易仍是可能的。
- D. 以上均正確。

40. PP.MC.Q29

若某一資產可以在短時間內輕易地轉為現金，並且不會招致損失，那麼它可被視為一種\_\_\_\_\_的資產。

- A. 便攜
- B. 耐用
- C. 容易拆細
- D. 流動

41. 2015.MC.Q35

細閱以下的新聞撮要。

餘額寶是阿里巴巴新推出的網上投資基金。餘額寶受歡迎的主要原因是它可向客戶提供像活期存款般的方便，即他們可隨時提取其資金，但它的回報遠高於銀行可提供的利息。餘額寶近日宣傳指其每年回報為 5.25%，但自該基金成立以來，回報水平有時高於 7%。相對而言銀行一年定期存款的利率為 3.3%，儲蓄存款則近乎沒有利息。

與銀行存款相比，餘額寶是較佳的\_\_\_\_\_，因為\_\_\_\_\_。

- A. 記賬單位 ... 它提供同質的付款方法。
- B. 記賬單位 ... 它能促進人們買賣物品及服務
- C. 價值儲存 ... 它令顧客在將來有更高的購買力
- D. 價值儲存 ... 顧客可將他們未用的資金存在餘額寶

42. 2016 Q.30

參閱下圖。



阿健看到以上廣告後，就以分期付款的方式購買了新手機。在這次付費中，貨幣發揮了下列哪些功能？

- (1) 價值儲藏
  - (2) 記賬單位
  - (3) 延後支付標準
- A. 只有 (1)、(2)
  - B. 只有 (1)、(3)
  - C. 只有 (2)、(3)
  - D. (1)、(2) 及 (3)

43. 2017 Q30

電子支付系統使顧客毋需以現金付費。例子有：ApplePay、Visa payWave、及 MasterCard paypass。



當更多店舖接受這些支付系統作付款方法。

- (1) 它們處理輸幣和鈔票的成本會下降。
- (2) 實際銀行乘數可能上升。
- (3) 貨幣的交易需求會上升。

- A. 只有(1)、(2)
- B. 只有(1)、(3)
- C. 只有(2)、(3)
- D. (1)、(2)及(3)

44. 2019 Q30

參考以下的假設個案：

自2018年初美國公佈一系列針對T國的貿易制裁措施後，T國的貨幣「T元」貶值了40%。結果，T國的一些店舖以美元而非T元訂價。黑市的店舖拒絕接受T元。一些市民購買外幣以保障他們的資產。

T元的哪些貨幣功能被削弱了？

- (1) 交易媒介
- (2) 記帳單位
- (3) 價值儲存

- A. 只有(1)、(2)
- B. 只有(1)、(3)
- C. 只有(2)、(3)
- D. (1)、(2)及(3)

45. 2021 Q30

細閱以下有關比特幣 (Bitcoin) 的新聞摘要。

2018年，加拿大府德萊斯將推出「比特幣桶裝」，該公司開設了繪畫直播，顯示購買該桶裝所需的比特幣數量（如下圖所示）。該「比特幣桶裝」只能在網上購買，並會直接外運至購買者家中。



在以上個案中，比特幣用作

- (1) 交易媒介
- (2) 記帳單位
- (3) 劃單支付的標準

- A. 只有(1)、(2)
- B. 只有(1)、(3)
- C. 只有(2)、(3)
- D. (1)、(2)及(3)

1. 1993.MC.Q34

在本港，一間有限牌照銀行較一間持牌銀行在以下哪一方面更受限制？

- (1) 可以接受的存款種類
- (2) 可以接受的最低存款額
- (3) 可以提供的最高存款利率

- A. 只有(1)、(2)
- B. 只有(1)、(3)
- C. 只有(2)、(3)
- D. (1)、(2)、(3)

2. 1994.MC.Q39

芬妮計劃將 HK\$250,000 在財務機構中存放三個月。下列哪些機構可以接受她的存款？

- (1) 持牌銀行
- (2) 有限牌照銀行
- (3) 接受存款公司

- A. 只有(1)、(2)
- B. 只有(1)、(3)
- C. 只有(2)、(3)
- D. (1)、(2)、(3)

3. 2000.MC.Q31

張先生手頭有\$100,000 現金。他兩個月後需要該筆金錢以支付他的新屋部分費用。他可將該筆金錢存放於：

- (1) 一家持牌銀行內。
- (2) 一家有限牌照銀行內。
- (3) 一家接受存款公司內。

- A. 只有(1)
- B. 只有(1)、(2)
- C. 只有(1)、(3)
- D. 只有(2)、(3)

4. 2001.MC.Q27

偉強計劃將\$80,000 存放在香港四個月。下列哪一種財務機構可以接受他的存款。

- A. 持牌銀行
- B. 有限牌照銀行
- C. 接受存款公司
- D. 以上各機構均可

5. 2002.MC.Q32

下列哪一種香港的財務機構可以接受儲蓄存款？

- A. 持牌銀行
- B. 有限制牌照銀行
- C. 接受存款公司
- D. 以上答案皆正確

6. 2003.MC.Q33

玉珊想將\$300000 存款一個月，下列哪一些機構可接受它的存款？

- (1) 持牌銀行
  - (2) 有限制牌照銀行
  - (3) 接受存款公司
- A. 只有(1)
  - B. 只有(1)、(3)
  - C. 只有(2)、(3)
  - D. (1)、(2)、(3)

7. 2005.MC.Q36

陳先生計劃將\$500 000 存款一個月。下列哪些機構可接受他的存款？

- (1) 持牌銀行
  - (2) 有限制牌照銀行
  - (3) 接受存款公司
- A. 只有(1)、(2)
  - B. 只有(1)、(3)
  - C. 只有(2)、(3)
  - D. (1)、(2)、(3)

8. 2007.MC.Q38

某君計劃將 200 000 港元存入本港一家金融機構中三個月。下列哪些機構可接受該項存款？

- (1) 持牌銀行
  - (2) 有限制牌照銀行
  - (3) 接受存款公司
- A. 只有(1)、(2)
  - B. 只有(1)、(3)
  - C. 只有(2)、(3)
  - D. (1)、(2)、(3)

9. 2010.MC.Q38

大偉計劃在本港一家財務機構存入 400 000 港元，為期六個月。下列哪些機構可接受他的存款？

- (1) 持牌銀行
  - (2) 有限制牌照銀行
  - (3) 接受存款公司
- A. 只有(1)、(2)
  - B. 只有(1)、(3)
  - C. 只有(2)、(3)
  - D. (1)、(2)、(3)

10. 2014.MC.Q31

瑪姬計劃在香港的金融機構存入\$500 000，為期兩個月。下列哪些機構可接受這筆存款？

- (1) 持牌銀行
  - (2) 有限制牌照銀行
  - (3) 接受存款公司
- A. 只有(1)、(2)
  - B. 只有(1)、(3)
  - C. 只有(2)、(3)
  - D. (1)、(2)、(3)

11. 2021 Q32

杰克想存款 \$400 000，為期 5 個月。下列哪些本港的金融機構可以接受他的存款？

- (1) 一家有限制牌照銀行
  - (2) 一家被歸類為持牌銀行的虛擬銀行
  - (3) 一家接受存款公司
- A. 只有 (1)、(2)
  - B. 只有 (1)、(3)
  - C. 只有 (2)、(3)
  - D. (1)、(2) 及 (3)

## 12MC2 金融機構的分類 答案

1.	A
2.	B
3.	A
4.	A
5.	A
6.	A
7.	A
8.	B
9.	B
10.	A (73)

11C

## 1. 1994.MC.Q45

下列哪一項關於本港發鈔制度的描述是正確的？

- A. 任何人都可用美元以 US\$1=HK\$7.8 的匯率向金融管理局兌換港元。
- B. 港元紙幣是金管局發行的。
- C. 在外匯市場中，港元與美元的兌現率被固定在 US\$1=HK\$7.8。
- D. 要發行港元紙幣時，發鈔銀行須向金管局交出美元以換取負債證明書。

## 2. 1995.MC.Q41

下列哪些是由香港金融管理局所執行的中央銀行功能？

- (1) 監察銀行業務
  - (2) 籌集資金以填補財政預算赤字
  - (3) 維持港元匯率的穩定
  - (4) 結算銀行支票
- A. 只有(1)及(3)
  - B. 只有(1)及(4)
  - C. 只有(2)及(3)
  - D. 只有(2)及(4)

## 3. 1996.MC.Q60

下列哪一項並非香港金融管理局的功能？

- A. 管理政府財政儲備
- B. 作為票據交換中心
- C. 監察銀行系統
- D. 作為銀行的最後放貸者

## 4. 2000.MC.Q32

下列哪一項關於中央銀行的功能如何在香港運作的描述是正確的？

- A. 匯豐銀行負責為整個銀行系統作中央結算。
- B. 外匯基金扮演政府銀行的角色。
- C. 金融管理局替政府實施貨幣政策。
- D. 香港銀行公會監察各銀行的活動。

## 5. 2001.MC.Q49

下列哪一項並非香港金融管理局的功能？

- A. 管理外匯儲備
- B. 執行貨幣政策
- C. 作為最後貸款者
- D. 釐定最優惠利率

6. 2003.MC.Q37

香港金融管理局發揮下列那些中央銀行的功能？

- (1) 管理外匯儲備
  - (2) 釐定銀行存款利率
  - (3) 作為最後放貸者
- A. 只有(1)、(2)  
B. 只有(1)、(3)  
C. 只有(2)、(3)  
D. (1)、(2)、(3)

7. 2007.MC.Q37

下列哪項是香港金融管理局的功能？

- (1) 維持聯繫匯率的穩定性
  - (2) 監管私營銀行機構的資產流動性
  - (3) 釐定香港的市場利率
- A. 只有(1)、(2)  
B. 只有(1)、(3)  
C. 只有(2)、(3)  
D. (1)、(2)、(3)

8. 2008.MC.Q37

在香港的金融體系中，香港金融管理局扮演的角色包括：

- (1) 處理中央結算所的日常事務。
  - (2) 穩定港元的匯率。
  - (3) 最後的放貸者。
- A. 只有(1)、(2)  
B. 只有(1)、(3)  
C. 只有(2)、(3)  
D. (1)、(2)、(3)

9. 2012.MC.Q29

下列哪項不是香港金融管理局的功能？

- A. 決定香港的銀行同業拆息
- B. 監督私人銀行機構的流動性狀況
- C. 管理及投資外匯基金
- D. 維持聯繫匯率的穩定

10. 2018.Q32

參考有關某經濟的以下資料：

貨幣供應	\$35 000
實際儲備比率	25%
超額儲備	\$1 150

假設公眾總是持有現金 \$12 000。若所有銀行借出其超額儲備，而所有貸款均再存入銀行系統，則

- A. 貨幣供應的最大可能金額會是 \$28 750。
- B. 該經濟的貨幣基礎會是 \$16 600。
- C. 貸款的最大可能金額會是 \$23 000。
- D. 最大銀行乘數會是 4。

11. 2018.Q33

下列哪項不是香港金融管理局的功能？

- A. 穩定按揭利率
- B. 發行鈔票
- C. 監管商業銀行
- D. 管理外匯基金

1. 1990.MC.Q32

若黃先生將港幣\$100 從他的儲蓄戶口轉存入往來戶口，則

- A. 銀行存款總額會增加。
- B. 貨幣供應量 M1 會減少。
- C. 貨幣供應量 M2 不會改變。
- D. 貨幣供應量 M3 會增加。

2. 1990.MC.Q45

下列哪一種情況會增加貨幣供應量？

- A. 一市民從銀行提取現金後，將它收藏於夾萬內。
- B. 一廠家償還它的銀行貸款。
- C. 一銀行提供貸款予一地產發展商。
- D. 一銀行增加它所持有超額儲備的數量。

3. 1991.MC.Q34

以下哪一項是香港貨幣供應定義 M2 的組成部分？

- A. 存於持牌銀行的儲蓄存款
- B. 存於接受存款公司的定期存款
- C. 銀行所持有的可轉讓存款證
- D. 銀行所持有的由港府發行的千元面額金幣

4. 1992.MC.Q32

在香港，存於持牌銀行的儲蓄戶口存款是

- A. 法幣
- B. 包括在貨幣供應定義一(M1)內。
- C. 包括在貨幣供應定義二(M2)內。
- D. 包括在貨幣供應定義二(M2)，卻不包括在貨幣供應定三(M3)內。

5. 1994.MC.Q43

若某君在收到他的朋友簽付的 \$1,000 支票後存入他的儲蓄戶口，香港的貨幣供應量定義 1 會\_\_\_\_\_ 而貨幣供應量定義 2 會\_\_\_\_\_。

- A. 上升；上升
- B. 不變；上升
- C. 下降；不變
- D. 不變；不變

6. 1995.MC.Q43

陳先生從一商業銀行的儲蓄戶口提取\$600,000，然後將\$500,000 存於一有限牌照銀行的戶口內，餘下的\$100,000 則留在家中。上述事件的即時後果是

- A. 貨幣供應定義一 (M1)會增加\$100,000。
- B. 貨幣供應定義二 (M2)會減少\$600,000。
- C. 貨幣供應定義二 (M2)維持不變。
- D. 貨幣供應定義三 (M3)會增加\$500,000。

7. 1996.MC.Q37

陳先生以現金 20 萬元向王先生購買由某接受存款公司發行的存款証。王先生再將這 20 萬元存入他的儲蓄戶口中。即時效果是：

- (1) 貨幣供應量定義一減少 20 萬元。
- (2) 貨幣供應量定義二維持不變。
- (3) 貨幣供應量定義三增加 20 萬元。

- A. 只有(1)、(2)
- B. 只有(1)、(3)
- C. 只有(2)、(3)
- D. (1)、(2)、(3)

8. 1997.MC.Q35

在香港，往來存款或儲蓄存款的存戶可在若干店舖購物後，利用 EPS 咭付款。EPS 咭的功用是使該筆金額馬上從存戶的銀行存款戶口轉到該等店舖的銀行存款戶口內。

香港人普遍使用 EPS，會

- A. 增加整個銀行系統創造信貸的能力。
- B. 增加買家購買物品和服務的成本。
- C. 增加香港的貨幣供應量定義一。
- D. 令全部銀行存款都可以發揮交易媒介這種功能。

9. 1997.MC.Q36

下列哪一項會增加香港的貨幣供應量定義一？

- A. 某人利用支票償還香港一家銀行港幣\$5,000 的貸款。
- B. 某銀行放款港幣\$5,000 現金予香港一位市民。
- C. 香港某銀行收到一項新的儲蓄存款，為數港幣\$5,000。
- D. 香港某銀行一位客戶的往來存款戶口被提取港幣\$5,000 現金。

10. 1997.MC.Q37

設香港貨幣供應量的資料如下：

(以億元為單位)	
法幣總發行業	3
法幣流通量	2
往來存款	7
存於持牌銀行的存款及持牌銀行發出的可轉讓存款證(認可機構持有者除外)	10
存於有限牌照銀行及接受存款公司的存款及持牌銀行發出的可轉讓存款證(認可機構持有者除外)	80

貨幣供應量定義二是

- A. 9 億元。  
B. 12 億元。  
C. 13 億元。  
D. 92 億元。

11. 1998.MC.Q35

在香港，一些服務的使用者可以利用繳費靈(PPS)以繳交費用。在登記後，他們只要打一個電話，便可以將錢從他們的銀行戶口（儲蓄或往來）轉存入該服務供應商的銀行戶口。

當使用繳費靈服務愈趨普遍

- A. 貨幣供應量定義一會下降。  
B. 貨幣供應量定義二會下降。  
C. 貨幣供應量定義三會下降。  
D. 銀行的儲蓄或往來存款會下降。

12. 1998.MC.Q36

以下哪一項導致本港貨幣供應量定義一即時有所改變？

- A. 你將父親給予你的\$500 現金存入往來存款戶口內。  
B. 你支付屋主的\$4,000 現金，他存入夾萬中。  
C. 一場大火燒毀一間銀行內大部分紙幣。  
D. 你用支票買入價值\$10,000 的傢俬，店主將支票存入他的定期存款戶口內。

13. 1999.MC.Q39

假設在香港某銀行裏，紅玉從儲蓄戶口中提取港幣 3,000 元，並用它換取了美元現金。下列哪一項關於港元貨幣供應的描述是正確的？

- A. 港元貨幣供應(定義 1) 會上升，而港元貨幣供應(定義 2) 會維持不變。  
B. 港元貨幣供應(定義 1) 會維持不變，而港元貨幣供應(定義 3) 會下跌。  
C. 港元貨幣供應(定義 1) 及(定義 3) 均維持不變。  
D. 港元貨幣供應(定義 1) 及(定義 2) 均會下跌。

14. 2000.MC.Q27

王先生在某接受存款公司提取\$500,000 現金。他將\$300,000 存放於某銀行做定期存款，又將其餘的\$200,000 匯往海外來還債。

以下哪一項關於貨幣供應定義 1 (M1) 和貨幣供應定義 3 (M3) 的描述是正確的？

- A. M1 和 M3 兩者都會上升。  
B. M1 和 M3 兩者都會下降。  
C. M1 會維持不變而 M3 會下降。  
D. M1 和 M3 兩者都會維持不變。

15. 2000.MC.Q28

假設某年香港的貨幣供應如下所示：

(以 10 億元為單位)

流通的法幣	10
全部接受存款機構所持有的法幣	2
存於持牌銀行的往來存款	15
存於持牌銀行的儲蓄及定期存款	60
持牌銀行所發出由公眾人士持有的可轉讓存款證	25
有限牌照銀行的客戶存款及有限牌照銀行發行而由公眾人士持有的可轉讓存款證	32

當時的貨幣供應定義 2 (以 10 億元為單位) 是

- A. 85  
B. 110  
C. 112  
D. 144

16. 2001.MC.Q25

在交易時使用「易辦事」付款，某數量的金額便會即時由買家的銀行戶口轉帳至賣家的銀行戶口。由於「易辦事」服務的收費增加，一些商舖已經停止接受客戶使用「易辦事」來付款。

下列哪一項是以上改變對貨幣供應定義一 (M1) 及定義二 (M2) 的即時影響？

- A. M1 及 M2 均會增加。  
B. M1 會增加而 M2 會維持不變。  
C. M1 會增加而 M2 會減少。  
D. M1 及 M2 均會減少。

17. 2002.MC.Q33

「在市民手中流通的貨幣」和「儲蓄存款」同時算進了香港的\_\_\_\_之內。

- (1) 貨幣供應定義一(M1)  
(2) 貨幣供應定義二(M2)  
(3) 貨幣供應定義三(M3)
- A. 只有(2)  
B. 只有(3)  
C. 只有(1)及(2)  
D. 只有(2)及(3)



## 18. 2003.MC.Q32

陳先生從他在香港一家銀行的儲蓄戶口提取港幣\$50000，將其中\$40000 港幣經銀行匯往英國，其餘的集 10000 港幣換成新發行的\$10 港幣，並放在他在銀行開設的保險箱。

下列哪那一項是上述行動對港元貨幣供應量的即時影響？

- A. 港元貨幣供應量定義 2 和定義 3 都會減少 40000 港元。
- B. 港元貨幣供應量定義 1 會增加 10000 港元，而港元貨幣供應量定義 2 都會減少 50000 港元。
- C. 港元貨幣供應量定義 2 會減少 50000 港元，而港元貨幣供應量定義 3 會維持不變。
- D. 港元貨幣供應量定義 1 會維持不變，而港元貨幣供應量定義 2 會減少 40000 港元。

## 19. 2004.MC.Q37

下列哪一項會減少香港貨幣供應量定義二(M2)？

- A. 區先生以現金償還港幣 10 000 元的債項予香港某持牌銀行。
- B. 邊先生從香港某持牌銀行的儲蓄戶口提取港幣 20 000 元，並以現金方式持有。
- C. 陳先生從香港某持牌銀行的儲蓄戶口轉賬港幣 30 000 元至同一銀行的支票戶口。
- D. 丁先生從香港某有限牌照銀行的定期存款戶口提取港幣 40 000 元，並全數匯往外國。

## 20. 2005.MC.Q38

假設黃太從一家商業銀行的儲蓄戶口提取港幣\$300 000，將其中港幣\$200 000 轉換為人民幣，並存於同一銀行的人民幣儲蓄戶口內，餘下的港幣\$100 000 則留在家中。上述事件的即時後果是

- A. 港元貨幣供應定義一(M1)會增加\$100 000。
- B. 港元貨幣供應定義二(M2)會減少\$300 000。
- C. 港元貨幣供應定義二(M2)會維持不變。
- D. 港元貨幣供應定義三(M3)會增加\$100 000。

## 21. 2006.MC.Q35

陳先生從本港某有限牌照銀行的存款中提取 20 000 港元，然後將其中 15 000 港元存放於本港某持牌銀行中作為定期存款，其餘 5 000 港元則持作現金。

上述行動對港元貨幣供應量的即時影響會是：

- A. 貨幣供應 M2 及 M3 皆減少。
- B. 貨幣供應 M1 及 M2 皆維持不變。
- C. 貨幣供應 M1 增加而貨幣供應 M2 維持不變。
- D. 貨幣供應 M1 增加而貨幣供應 M3 維持不變。

## 22. 2007.MC.Q39

若某君將現金\$600 000 存入一家接受存款公司的定期存款戶口中，香港的貨幣供應 M1 會 \_\_\_\_\_ 而貨幣供應 M2 會 \_\_\_\_\_。

- A. 減少 ... 減少
- B. 減少 ... 維持不變
- C. 維持不變 ... 增加
- D. 增加 ... 增加

## 23. 2008.MC.Q37

假設在發生一連串利用易辦事為八達通卡增值失敗但卡主的銀行戶口仍被扣數的事件後，有更多卡主利用現金來增值。此舉馬上會增加\_\_\_\_\_。

- A. 貨幣供應定義 M1
- B. 貨幣供應定義 M2
- C. 銀行儲蓄存款額
- D. 銀行定期存款額

## 24. 2010.MC.Q39

慧詩從外國收到一筆 530 000 港元的匯款。她將其中 500 000 港元以定期存款形式存入一家有限牌照銀行，其餘則以活期存款形式存入一家持牌銀行。

以上舉動對香港的貨幣供應量有甚麼即時影響？

- A. M1 會增加 30 000 港元，而 M2 會增加 530 000 港元。
- B. M1 會增加 30 000 港元，而 M3 會增加 500 000 港元。
- C. M2 會增加 30 000 港元，而 M3 會增加 500 000 港元。
- D. M2 會增加 30 000 港元，而 M3 會增加 530 000 港元。

## 25. 2011.MC.Q40

下列哪項在香港進行的交易會減少香港的貨幣供應 M2？

- A. 陳先生從他在持牌銀行的儲蓄戶口裡提取\$7 000，並持作現金。
- B. 李先生將他在持牌銀行的往來戶口中的\$100 000 轉存入他的儲蓄戶口。
- C. 王小姐將她在持牌銀行的定期存款戶口中的\$500 000 轉存入有限牌照銀行的定期存款戶口。
- D. 張小姐將現金\$6 000 存入她在持牌銀行的定期存款戶口。

## 26. SP.MC.Q29

陳先生從本港某有限牌照銀行的存款中提取 4 000 000 港元。然後將其中 3 500 000 港元存入本港某持牌銀行作定期存款，並將餘下的 500 000 港元持作現金。

上述行動對港元貨幣供應量的即時影響會是：

- A. 貨幣供應 M2 和貨幣供應 M3 都維持不變。
- B. 貨幣供應 M1 增加而貨幣供應 M2 維持不變。
- C. 貨幣供應 M2 增加而貨幣供應 M3 維持不變。
- D. 貨幣供應 M2 增加而貨幣供應 M3 減少。

## 27. SP.MC.Q30

下列哪項可能會導致貨幣供應量增加？

- (1) 中央銀行提高貼現率。
  - (2) 中央銀行降低法定儲備比率。
  - (3) 中央銀行向一家商業銀行購買政府債券。
- A. 只有(1)、(2)
  - B. 只有(1)、(3)
  - C. 只有(2)、(3)
  - D. (1)、(2)、(3)

28. PPMC.Q28

若陳先生從他在接受存款公司的戶口提取港幣 500 000 元，並將該筆款項匯給在加拿大的親人，香港的貨幣供應定義二 ( M2 ) 會 \_\_\_\_\_ 而定義三 ( M3 ) 會 \_\_\_\_\_。

- A. 減少 ... 減少
- B. 維持不變 ... 維持不變
- C. 減少 ... 維持不變
- D. 維持不變 ... 減少

29. 2012.MC.Q28

雲妮在一家接受存款公司提取港幣\$500 000 定期存款，然後她在持牌銀行存入港幣\$200 000 作定期存款，及\$100 000 作活期存款。她將\$50 000 放在家中的夾萬，並將餘額匯至海外。

上述的行動會對港元貨幣供應量有甚麼即時的影響？

- A. 貨幣供應定義一會上升港幣\$50 000 而貨幣供應定義二會上升港幣\$350 000。
- B. 貨幣供應定義一會上升港幣\$150 000 而貨幣供應定義三會下跌港幣\$150 000。
- C. 貨幣供應定義二會上升港幣\$150 000 而貨幣供應定義三會下跌港幣\$150 000。
- D. 貨幣供應定義二會上升港幣\$350 000 而貨幣供應定義三會下跌港幣\$500 000。

30. 2013.MC.Q25

下列哪項是包括在貨幣供應定義二之內？

- (1) 持牌銀行持有的法定貨幣
- (2) 存於持牌銀行的活期存款
- (3) 存於有限制牌照銀行的定期存款
- (4) 持牌銀行發出而非銀行的公眾人士持有的可轉讓存款證

- A. 只有(2)、(3)
- B. 只有(2)、(4)
- C. 只有(1)、(2)、(4)
- D. 只有(1)、(3)、(4)

31. 2015.MC.Q30

下列哪項交易會增加香港貨幣供應定義二 (M2)？

- A. 陳女士從一家有限制牌照銀行的定期存款戶口轉賬了\$500 000 至一家持牌銀行的定期存款戶口。
- B. 李先生從一家持牌銀行的往來戶口轉賬了\$200 000 至該銀行的儲蓄戶口。
- C. 文先生將 \$100 000 現金存入一家持牌銀行的儲蓄戶口。
- D. 鍾女士將 \$600 000 現金存入接受存款公司的定期存款戶口。

32. 2016 Q.32

雲妮從她在持牌銀行的儲蓄戶口提取港幣 \$500 000，她將一半存入她的往來戶口，另一半存入一間接受存款公司。下列哪項顯示她此舉對香港貨幣供應的即時影響？

- A. 貨幣供應定義一(M1)上升，而貨幣供應定義二(M2)下降。
- B. 貨幣供應定義一(M1)上升，而貨幣供應定義三(M3)下降。
- C. 貨幣供應定義一(M1)和貨幣供應定義二(M2)均下降。
- D. 貨幣供應定義二(M2)和貨幣供應定義三(M3)均下降。

33 2018 Q31

拜仁想在香港的認可機構以可轉讓存款證的方式存入 80 000 元，為期兩個月。下列哪項陳述是正確的？

- A. 由於存款期長於一個月，接受存款公司可以接納其存款。
- B. 由於存款期短於三個月，有限制牌照銀行可以接納其存款。
- C. 由於存款額少於 500 000 元，有限制牌照銀行不可以接納其存款。
- D. 由於持牌銀行沒有發售可轉讓存款證，持牌銀行不可以接納其存款。

34 2019 Q31

當一名香港市民把 \$500 000 由他在某有限制牌照銀行的定期存款戶口轉至在某持牌銀行的儲蓄戶口，

- (1) 貨幣供應定義一會上升。
- (2) 貨幣供應定義二會上升。
- (3) 貨幣供應定義三會上升。

- A. 只有 (1)
- B. 只有 (2)
- C. 只有 (3)
- D. 只有 (2)、(3)

35 2020 Q29

在香港，持牌銀行持有的法定貨幣包括在 \_\_\_\_\_ 之內。

- (1) 貨幣基礎
- (2) 貨幣供應定義二
- (3) 貨幣供應定義三

- A. 只有 (1)
- B. 只有 (2)
- C. 只有 (2)、(3)
- D. (1)、(2) 及 (3)

1. 1991.MC.Q31

從銀行提款會使

- A. 銀行乘數的最大可能值減少。
- B. 銀行持有的現金儲備減少。
- C. 創造的存款增加。
- D. 法定最低儲備率下降。

2. 1991.MC.Q32

甲銀行擁有的全部存款為 1,000 百萬元，而儲備為 240 百萬元。假設政府規定的儲備比率為 25%。以下哪一項可使甲銀行符合政府的儲備要求？

- A. 甲銀行增加對顧客貸款 40 百萬元。
- B. 甲銀行從同業拆息市場中借取 10 百萬元。
- C. 顧客在甲銀行增加存款 10 百萬元。
- D. 顧客在甲銀行增加存款 40 百萬元。

3. 1992.MC.Q34

設法定儲備率為 20%。當銀行體系有超額儲備\$20,000 時，它最多可創造若干存款？

- A. \$80,000
- B. \$100,000
- C. 等同它的總儲備
- D. 等同它的超額儲備

4. 1992.MC.Q35

下表顯示一銀行的總儲備、放款及存款：

資產 (\$)		負債 (\$)	
儲備	200	存款	500
放款	300		

由上表可得出下列哪一項結論？

- A. 法定最低儲備是\$200。
- B. 該銀行擁有超額儲備\$100。
- C. 實際銀行乘數是 4。
- D. 實際儲備率是 40%。

5. 1994.MC.Q40

若銀行的法定儲備率是 100%，下列哪一項正確？

- A. 貨幣供應量不會因銀行接受公眾存款而改變。
- B. 銀行的貸款總額必定與存款總額相等。
- C. 銀行並無機會賺取利潤。
- D. 銀行乘數是零。

6. 1994.MC.Q42

設銀行的法定最低儲備率是 25%。以下是某銀行的資產負債表：

資產 (\$)		負債 (\$)	
儲備	600	存款	1,500
放貸	900		

下列哪一項正確？

- A. 該銀行的實際儲備率是 45%。
- B. 該銀行的超額儲備是 \$300。
- C. 銀行乘數是 5。
- D. 該銀行系統的放貸額最多可增加 \$900。

7. 1995.MC.Q42

設法定儲備率是 100%。若某君將\$500 現金存入他的往來戶口，則

- (1) 貨幣流通量會減少\$500。
- (2) 銀行存款額維持不變。
- (3) 銀行貸款額會增加\$500。
- (4) 貨幣供應量維持不變。

- A. 只有(1)及(2)
- B. 只有(1)及(4)
- C. 只有(2)及(3)
- D. 只有(3)及(4)

8. 1996.MC.Q35

參閱以下銀行系統的資產負債表，回答第 1996.MC.Q35題。

資產 (\$)		負債 (\$)	
現金儲備	250	存款	1,000
放款	750		

假設法定最低儲備比率是 25%及某君從銀行中提取\$40。銀行系統的現金儲備較法定要求短缺了多少？

- A. \$10
- B. \$20
- C. \$30
- D. \$40

9. 1996.MC.Q36 參閱以下銀行系統的資產負債表，回答第 1996.MC.Q36 題。

資產 (\$)		負債 (\$)	
現金儲備	250	存款	1,000
放款	750		

假設法定最低儲備比率是 25%及某君從銀行中提取\$40。提款後，銀行系統可持有的存款額最高是

- A. \$750
- B. \$840
- C. \$880
- D. \$960

10. 1997.MC.Q33

設法定儲備比率是 25%。若某君將\$200 現金存入他的儲蓄存款戶口中，則下列各項增減最多是少？

- A. 銀行貸款最多可增加\$800。
- B. 銀行儲備最多可增加\$200。
- C. 貨幣供應量定義一最多可減少\$50。
- D. 貨幣供應量定義二最多可增加\$800。

11. 1997.MC.Q34

設將\$100 新印製的鈔票存入一家銀行，會引致銀行系統的總存款額增加\$400，則我們可得以下的結論：

- A. 上述存款創造的銀行乘數是 4。
- B. 法定儲備比率是 0.25。
- C. 貨幣供應量增加\$500。
- D. 並無現金流失的情況。

12. 1998.MC.Q33

細閱下列甲銀行的資產負債表。

資產 (\$)		負債 (\$)	
儲備	1,000	存款	3,000
放款	2,000		

若銀行系統的最低儲備要求由 20%調升到 25%，甲銀行的超額儲備會下跌多少？

- A. 150
- B. 250
- C. 400
- D. 600

13. 1998.MC.Q34 設銀行系統的最低儲備要求是 20%。下表顯示它的資產負債表。

資產 (\$)		負債 (\$)	
儲備	500	存款	1,000
放款	500		

下列哪一項描述正確？

- A. 銀行系統的超額儲備是\$200。
- B. 銀行系統的實際銀行乘數是 5。
- C. 銀行系統可將總存款額擴充至\$5,000。
- D. 銀行系統的放款額最高是\$2,000。

14. 1998.MC.Q52

將一筆現金存入銀行不會導致

- A. 銀行向公眾放款的數額增加。
- B. 銀行系統的總存款額增加。
- C. 銀行乘數的最大值增加。
- D. 銀行持有的現金儲備增加。

15. 1999.MC.Q36 參閱下列某銀行系統的資產負債表：

資產 (\$)		負債 (\$)	
儲備	100	存款	400
放款	300		

法定儲備要求是 20%。假設所有銀行將超額儲備全部借出，而所有借款均會新存入銀行系統之內。在信用創造過程完成後，銀行系統所持有的儲備 \_\_\_\_\_ 而增加的放款金額 \_\_\_\_\_。

- A. 少於 \$100 ..... 多於 \$100
- B. 等於 \$100 ..... 相等於 \$100
- C. 等於 \$100 ..... 多於 \$100
- D. 多於 \$100 ..... 少於 \$100

16. 1999.MC.Q38

下列哪一情況會減少在信用創造過程中創造出來的存款量？

- A. 公眾人士增加所持現金數目。
- B. 公眾人士更廣泛地使用支票。
- C. 公眾人士更廣泛地使用電子貨幣。
- D. 銀行借出更多款項予公眾人士。

17. 2000.MC.Q29

銀行接受一筆從外國來的存款\$1,000。在創造存款的過程完成後，該筆從海外來的匯款使整個銀行系統的存款額增加了\$4,000。根據以上資料，我們可得出結論如下：

- A. 法定儲備率是 25%。
- B. 銀行並不持有超額儲備。
- C. 總貨幣供應量最少增加了\$4,000。
- D. 在存款創造的過程中，有現金流失的現象。

18. 2000.MC.Q30

人們在公共運輸中使用八達通卡更為普遍時，

- A. 貨幣供應量會上升，因為該卡有貨幣的功能。
- B. 法幣的流通量會下降。
- C. 貨幣的價值會下降，因為現金需求較少。
- D. 銀行系統創造存款的最高存款額會下降。

## 19. 2001.MC.Q26

資產 (\$)		負債 (\$)	
儲備	200	存款	600
放款	400		

假設該銀行系統的法定儲備比率是 20%。如果所有銀行不再持有超額儲備，銀行系統的存款總額最多可增加

- A. \$80
- B. \$160
- C. \$400
- D. \$1,000

## 20. 2002.MC.Q35

參閱下列某銀行系統的資產負債表，該銀行系統有超額儲備\$200。

資產 (\$)		負債 (\$)	
儲備	500	存款	1 200
放款	700		

法定儲備比率是

- A. 15%
- B. 20%
- C. 25%
- D. 30%

## 21. 2002.MC.Q36

參閱下列某銀行系統的資產負債表，該銀行系統有超額儲備\$200。

資產 (\$)		負債 (\$)	
儲備	500	存款	1 200
放款	700		

假設有人從該銀行系統裏提取\$250，結果，該銀行系統裏的最高可能存款額便會是

- A. \$200。
- B. \$600。
- C. \$800。
- D. \$1 000。

## 22. 2002.MC.Q37

下列那種情況會削弱銀行系統創造存款的能力？

- (1) 公眾更廣泛地使用信用卡
- (2) 公眾增加現金持有量
- (3) 提高對銀行的法定儲備要求

- A. 只有(1)、(2)
- B. 只有(1)、(3)
- C. 只有(2)、(3)
- D. (1)、(2)及(3)

## 23. 2002.MC.Q38

假設整個銀行系統都不持有超額儲備，而法定儲備比率是 20%。若某甲從一家銀行提取\$100，則

- A. 該銀行系統的放貸最多減少\$400。
- B. 貨幣供應量最少減少\$400。
- C. 該銀行系統的存款額最少減少\$500。
- D. 該銀行系統的現金儲備最多減少\$80。

## 24. 2003.MC.Q34

在一個銀行系統中，若實際儲備大於法定儲備，則

- A. 該銀行系統有現金流失現象。
- B. 有些銀行決定持有超額儲備。
- C. 市場對銀行的放貸需求不足。
- D. 該銀行系統可以創造更多存款。

## 25. 2003.MC.Q35

參閱下列某銀行系統的資產負債表，回答2003.MC.Q35。假設法定儲備比率是 20%。

資產 (\$)		負債 (\$)	
儲備	500	存款	2 000
放款	1 500		

下列哪一項對上述銀行系統的描述是正確的？

- A. 銀行系統的乘數最高是 4。
- B. 放款額增加的最大可能值，與存款額增加的最大可能值相同。
- C. 實際儲備比率相等於法定儲備比率。
- D. 若全部銀行貸出它們的超額儲備，則儲備額會下跌。

## 26. 2003.MC.Q36 參閱下列某銀行系統的資產負債表，回答MC.Q36。假設法定儲備比率是 20%。

資產 (\$)		負債 (\$)	
儲備	500	存款	2 000
放款	1 500		

若政府將法定儲備比率增加至 40%，則該銀行系統的

- A. 儲備額會增加至\$800。
- B. 存款額不會改變。
- C. 放款額的最大可能值是\$750。
- D. 存款額的最大可能值是\$1600。

27. 2004.MC.Q38

下表顯示某經濟某銀行的資產負債表：

資產 (\$)		負債 (\$)	
現金儲備	500	存款	1 250
放款及投資	750		

假設該銀行的顧客提取\$50現金。即時的影響是：現金儲備會變成\_\_\_\_\_，而存款會變成\_\_\_\_\_。

- A. \$450 ... \$1 200  
 B. \$450 ... \$1 250  
 C. \$500 ... \$1 200  
 D. \$500 ... \$1 250

28. 2004.MC.Q39

某銀行系統資產負債表如下，它的超額儲備是\$200。

資產 (\$)		負債 (\$)	
儲備	500	存款	1 500
放款	1 000		

假設在該銀行系統中，有\$300 存款被提取了。那麼，銀行存款的最大可能值會是多少？

- A. \$500  
 B. \$1 000  
 C. \$1 200  
 D. \$6 000

29. 2005.MC.Q37

以下是某銀行系統的資產負債表。

資產 (\$)		負債 (\$)	
現金儲備	500	存款	2 000
放款	1 500		

假設該銀行系統並沒有任何超額儲備。某君從銀行提取\$100後，銀行系統的最高可能存款額會是多少？

- A. \$1 600  
 B. \$1 700  
 C. \$1 800  
 D. \$1 900

30. 2005.MC.Q50

乙國的中央銀行調高法定儲備比率，以壓抑國內過度的借貸活動。假設該國的銀行系統沒有任何超額儲備。中央銀行的上述措施不會減少

- A. 銀行系統的存款創造能力  
 B. 銀行系統的儲備。  
 C. 銀行乘數。  
 D. 貨幣供應。

31. 2006.MC.Q36

下表顯示某銀行系統的資產負債表。它的超額儲備是\$800。

資產 (\$)		負債 (\$)	
儲備	1 000	存款	2 000
放貸	1 000		

下列哪項關於銀行系統的陳述是正確的？

- A. 法定儲備比率是50%。  
 B. 最高存款額是\$8 000。  
 C. 最大銀行乘數是5。  
 D. 實際銀行乘數是2。

32. 2006.MC.Q37

每年農曆新年期間，香港有不少人從他們的銀行存款戶口中提取現金。因此，公眾持有的現金增加。

下列哪項是上述情況的必然結果？

- A. 香港銀行系統的銀行乘數最大值下降。  
 B. 香港銀行系統的最高可能存款額下降。  
 C. 銀行放貸予公眾的款額下降。  
 D. 香港的貨幣供應量下降。

33. 2006.MC.Q38

下列哪項有可能減低一個銀行系統的實際銀行乘數？

- A. 公眾增加使用支票。  
 B. 向銀行借款的需求增加。  
 C. 銀行不獲得還款的風險增加。  
 D. 法定儲備比率下降。

34. 2007.MC.Q36

以下是某銀行系統的資產負債表，它的超額儲備是\$50。

資產 (\$)		負債 (\$)	
儲備	250	存款	1 000
放款	750		

下列哪一項描述是正確的？

- A. 法定儲備比率是 25%。  
 B. 實質儲備比率是 20%。  
 C. 若有 \$100 現金存入該銀行系統中，存款總額會是 \$1 500。  
 D. 若有 \$100 現金從該銀行系統中提走，存款的最大可能值會是 \$750。

## 35. 2008.MC.Q38

某銀行系統永不持有超額儲備，它的資產負債表如下：

資產 (\$)		負債 (\$)	
儲備	600	存款	3 000
貸款	2 400		

假設該經濟的公眾總是持有相同數量的現金。若銀行存款被提取\$200，則該銀行系統的最高放款額會變成\_\_\_\_\_。

- A. \$1 200
- B. \$1 600
- C. \$2 000
- D. \$2 200

## 36. 2008.MC.Q39

下列哪項會增加銀行乘數的最大值？

- A. 八達通卡被廣泛使用。
- B. 經濟快速發展，遍地有投資機會。
- C. 銀行系統持有更多儲備以避免銀行擠提的風險。
- D. 商業銀行獲准提高其顧客存款額的可借出比例。

## 37. 2009.MC.Q38

假設在某銀行體系內，實際銀行乘數少於最大銀行乘數。下列哪項會是一個可能的原因？

- A. 銀行貸款需求不足。
- B. 銀行體系面對儲備不足問題。
- C. 銀行體系內最大的可能總存款額減少。
- D. 實際儲備比率少於法定儲備比率。

## 38. 2009.MC.Q39

以下是某銀行體系的資產負債表，該銀行體系有\$50超額儲備。

資產 (\$)		負債 (\$)	
儲備	350	存款	1 200
貸款	850		

假設全部銀行將超額儲備借出，而全部貸款都再存入銀行體系內。在存款創造過程完成後，銀行持有的儲備會是\_\_\_\_\_，而其貸款額會是\_\_\_\_\_。

- A. \$300 ..... \$1 400
- B. \$300 ..... \$1 100
- C. \$350 ..... \$1 400
- D. \$350 ..... \$1 050

## 39. 2010.MC.Q35

在下列哪一種情況下，銀行體系的最大銀行乘數會減少？

- A. 銀行持有的超額儲備增加了。
- B. 法定儲備比率提高了。
- C. 銀行體系的現金流失額增加了。
- D. 貸款的需求減少了。

## 40. 2010.MC.Q36

資產 (\$)		負債 (\$)	
儲備	2 500	存款	10 000
貸款	7 500		

假設公眾從銀行提走 \$1 000 現金。若銀行不持有超額儲備，又沒有現金流失的情況出現，在存款收縮過程全部完成後，最終有甚麼結果？

- A. 銀行存款會減少\$5 000。
- B. 銀行貸款會減少\$2 500。
- C. 貨幣供應量會減少 \$1 500。
- D. B項及C項皆正確。

## 41. 2011.MC.Q39

參閱下列某銀行體系的資產負債表。該銀行體系有 100 百萬元超額儲備。

資產 (百萬元)		負債 (百萬元)	
儲備	500	存款	2 000
貸款	1 500		

假設有人從銀行體系提取 200 百萬元。銀行存款金額最高可達至\_\_\_\_\_。

- A. 500百萬元
- B. 1 000 百萬元
- C. 1 500 百萬元
- D. 2 000 百萬元

## 42. 2011.MC.Q41

下列哪項會增加銀行體系的存款創造能力？

- A. 公眾減少使用銀行支票。
- B. 減少對銀行按揭貸款的限制。
- C. 提高銀行的法定儲備比率。
- D. 公眾增持現金。

43. SP.MC.Q31

下表顯示某銀行系統的資產負債表，假設公眾持有\$500 現金而銀行系統的超額儲備是\$600。

資產 (\$)		負債 (\$)	
儲備	1 000	存款	2 000
貸款	1 000		

下列哪項有關該銀行系統的陳述是正確的？

- A. 法定儲備比率是40%。
- B. 最高存款額是\$4 000。
- C. 最大銀行乘數是5。
- D. 貨幣基礎是\$2 500。

44. PP.MC.Q27

假設某銀行體系的資產負債表如下。

資產 (\$)		負債 (\$)	
儲備	150	存款	500
貸款	350		

該銀行體系的超額儲備是 \$50。現在一名客戶從他的銀行戶口提取 \$50。若該銀行體系將可貸出款項全數借出，該銀行體系的貸款額最大為 \_\_\_\_\_。

- A. \$350
- B. \$400
- C. \$450
- D. \$500

45. 2012.MC.Q27

下表顯示某銀行體系的資產負債表。

資產 (百萬元)		負債 (百萬元)	
儲備	400	存款	1 000
貸款	600		

假設該銀行體系的法定儲備比率是25%。下列哪項陳述是正確的？

- A. 該銀行體系的超額儲備是 200 百萬元。
- B. 該銀行體系的實際銀行乘數是 4。
- C. 該銀行體系可擴大其總存款至 1 600百萬元。
- D. 該銀行體系可製造的最大貸款額為1 000百萬元。

46. 2013.MC.Q26

某銀行系統原初的超額儲備是 160 百萬元，而公眾持有 200 百萬元的現金。該銀行系統的資產負債表如下：

資產 (百萬元)		負債 (百萬元)	
儲備	400	存款	1 200
貸款	800		

假設公眾從該銀行系統提取 100 百萬元並以現金方式持有。若銀行借出全部超額儲備，貨幣供應會是多少？

- A. 1 500 百萬元
- B. 1 700 百萬元
- C. 1 800 百萬元
- D. 2 300 百萬元

47. 2014.MC.Q30

參閱以下某銀行系統的資產負債表。

資產 (百萬元)		負債 (百萬元)	
儲備	400	存款	1 200
貸款	800		

假設法定儲備比率是25%。若所有銀行借出其超額儲備，下列哪項有關上述銀行系統的陳述是正確的？

- A. 銀行持有的儲備金額會下降。
- B. 最大銀行乘數會上升。
- C. 貨幣供應會維持不變。
- D. 貸款額增加的最大可能值，與存款額增加的可能最大值相同。

48. 2014.MC.Q33

細閱下列有關某經濟的資料。

貨幣基礎	500 十億元
公眾流通的硬幣和紙幣	300 十億元
法定儲備比率	20%

若所有銀行將可貸款項全數借出，存款的金額會是 \_\_\_\_\_。

- A. 1 000 十億元
- B. 1 500 十億元
- C. 2 500 十億元
- D. 4 000 十億元



49. 2015.MC.Q29

參閱以下某銀行系統的資產負債表。法定儲備比率為 20%。

資產 (百萬元)		負債 (百萬元)	
儲備	300	存款	1 000
貸款	700		

若中央銀行發行價值 200 百萬元的新印製鈔票，非銀行公眾人士持有的現金會增加 100 百萬元，而貨幣供應會增加 500 百萬元，則該銀行系統超額儲備的總額會是\_\_\_\_\_。

- A. 100 百萬元
- B. 120 百萬元
- C. 280 百萬元
- D. 400 百萬元

50. 2016 Q.31

參閱以下某銀行系統的資產負債表。該系統的超額儲備是 125 百萬元。

資產 (百萬元)		負債 (百萬元)	
儲備	250	存款	500
貸款	250		

下列哪項陳述是不正確的？

- A. 法定儲備比率是 25%。
- B. 最高的貸款金額是 750 百萬元。
- C. 該銀行系統能把存款總額擴大至 1 000 百萬元。
- D. 實際銀行乘數是 4。

51. 2017 Q31

下表顯示某銀行系統的資產負債表。

資產 (\$)		負債 (\$)	
儲備	300	存款	900
貸款	600		

假設公眾並沒有持有現金，而法定儲備比率調低至 25%。在存款創造後，銀行系統的貸款額是 \$750。下列哪項有關該銀行系統的陳述是正確的？

- A. 貨幣供應增加 \$300。
- B. 實際銀行乘數為 3.5。
- C. 存款增加 \$600。
- D. 銀行儲備是 \$450。

52. 2018 Q30

下列哪項會令貨幣基礎下降？

- A. 中央銀行增加法定儲備比率。
- B. 中央銀行從公眾購入政府債券。
- C. 中央銀行提高貼現率。
- D. 商業銀行持有更多超額儲備。

53. 2019 Q28

下表顯示甲國銀行系統的資產負債表。甲國的貨幣供應是 \$2800，而所有銀行並不持有超額儲備。

資產 (\$)		負債 (\$)	
儲備	500	存款	2500
貸款	2000		

假設公眾將 \$200 現金存入該銀行系統。在存款創造的過程完成後，下列哪項有關該銀行系統的陳述是正確的？

- A. 存款會增加 \$3500。
- B. 貨幣供應會增加 \$1000。
- C. 貨幣基礎會增加 \$200。
- D. 貸款會增加 \$800。

54. 2020 Q33

下列哪項會令實際銀行乘數上升？

- A. 公眾傾向持有更多的現金。
- B. 信用卡的使用日漸普及。
- C. 中央銀行調高法定儲備比率。
- D. 銀行存款的利率下降。

55. 2021 Q31

下表顯示某國的貨幣資料。

貨幣供應	250 百萬元
公眾持有的法定貨幣	50 百萬元
法定儲備比率	20%
超額儲備	10 百萬元

下列哪些陳述是正確的？

- (1) 貨幣基礎是 100 百萬元。
- (2) 實際儲備是 40 百萬元。
- (3) 在借貸創造後，最大存款金額是 250 百萬元。

- A. 只有 (1)、(2)
- B. 只有 (1)、(3)
- C. 只有 (2)、(3)
- D. (1)、(2) 及 (3)

1.	B	11.	A	21.	D	31.	D	41.	C
2.	B	12.	A	22.	C	32.	B	42.	B
3.	B	13.	D	23.	A	33.	C	43.	C
4.	D	14.	C	24.	D	34.	D	44.	B
5.	A	15.	B	25.	B	35.	B	45.	C
6.	D	16.	A	26.	C	36.	D	46.	C
7.	B	17.	C	27.	A	37.	A	47.	D
8.	C	18.	B	28.	B	38.	D	48.	A
9.	B	19.	C	29.	A	39.	B	49.	B
10.	B	20.	C	30.	B	40.	C	50.	D

- 51 B
- 52 C
- 55 D
- 54 B
- 55 B

1. SP.MC.Q30

下列哪項可能會導致貨幣供應量增加？

- (1) 中央銀行提高貼現率。
  - (2) 中央銀行降低法定儲備比率。
  - (3) 中央銀行向一家商業銀行購買政府債券。
- A. 只有(1)、(2)
  - B. 只有(1)、(3)
  - C. 只有(2)、(3)
  - D. (1)、(2)、(3)

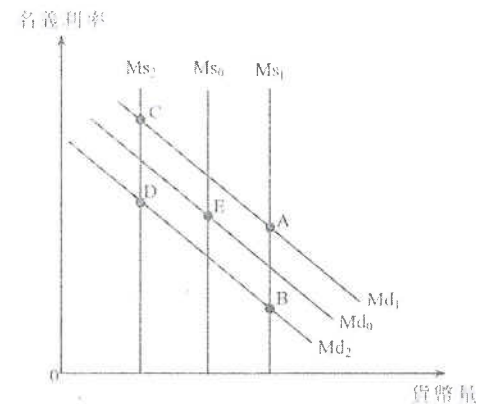
2. PP.MC.Q25

下列哪項能解釋貨幣需求曲線向左移？

- A. 利率上升
- B. 住戶收入增加
- C. 人們更廣泛使用八達通卡
- D. 法定儲備比率增加

3. PP.MC.Q26

下圖顯示某經濟的貨幣需求和貨幣供應曲線。起初的均衡點是 E。



假設國民收入增加而政府在公開市場購入債券。新的均衡點是 \_\_\_\_\_。

- A. A
- B. B
- C. C
- D. D

4. 2012.MC.Q30

網上購物日漸普及，人們因而持有較少現金作交易用途。中央銀行可採用下列哪些措施以減低上述情況對利率的影響？

- (1) 提高貼現率
- (2) 提高法定儲備比率
- (3) 在公開市場購入政府債券

- A. 只有(1)、(2)
- B. 只有(1)、(3)
- C. 只有(2)、(3)
- D. (1)、(2)、(3)

5. 2013.MC.Q28

在下列哪種情況下，中國正採取擴張性貨幣政策？

- (1) 財政部向農民提供現金補貼
- (2) 中國人民銀行調低所有商業銀行的存款準備金率 (即法定儲備比率)
- (3) 中國銀行減低對中小企業的借貸利率

- A. 只有(1)
- B. 只有(2)
- C. 只有(3)
- D. (1)、(2) 及 (3)

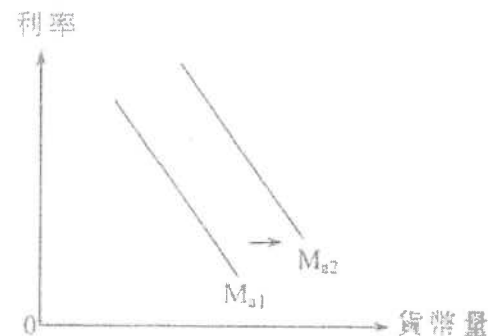
6. 2013.MC.Q30

假設某經濟的消費意欲下降，其淨出口會 \_\_\_\_\_，而持有作交易用途的貨幣金額會 \_\_\_\_\_。

- A. 下跌 ... 下降
- B. 下跌 ... 維持不變
- C. 上升 ... 上升
- D. 上升 ... 下降

7. 2015.MC.Q28

參閱下圖。



在下列哪種情況下，資產貨幣需求曲線會由  $M_{a1}$  移至  $M_{a2}$ ？

- A. 在股票市場投資的風險上升。
- B. 利率下跌。
- C. 一般物價水平上升。
- D. 政府減低入息稅率。

8. 2015.MC.Q32

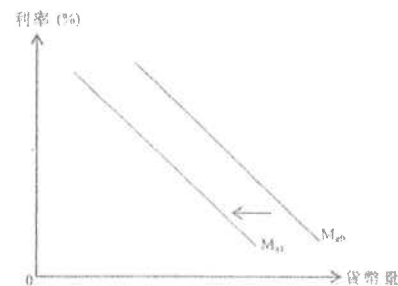
當 \_\_\_\_\_，貨幣基礎增加。

- A. 商業銀行持有較少超額儲備
- B. 商業銀行向公眾購買政府債券
- C. 中央銀行向公眾購買政府債券
- D. 中央銀行調高貼現率

9. 2016 Q.29

(2014)

參閱下圖。

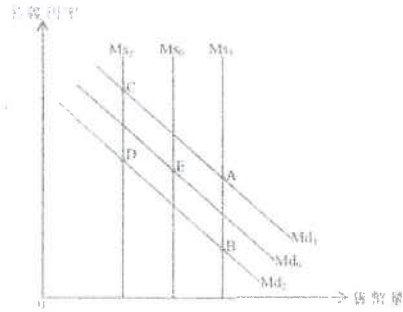


下列哪項會引致資產貨幣需求曲線有以上的改變？

- A. 股票市場變得較少波動。
- B. 預期一般物價水平持續下跌。
- C. 中央銀行提高貼現率。
- D. 住戶的可用收入下跌。

9. A

下圖顯示某經濟的貨幣需求和貨幣供應曲線。原初均衡點是 E。



假設持有債券資產 (例如債券) 的風險增加, 而中央銀行, 讓其貼現率 (新的均衡點) 點會是

- A. A
- B. B
- C. C
- D. D

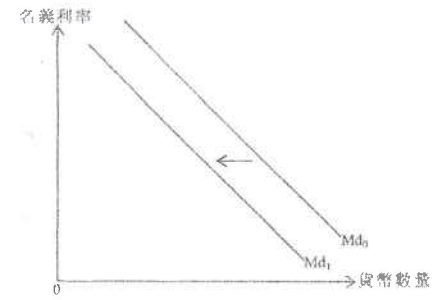
下列哪些政策最有可能會令總產出下降?

- A. 政府向公眾購入債券而同時提高免稅額。
- B. 政府向公眾出售債券而同時減少給予個人的轉移支付。
- C. 政府調低法定儲備比率而同時調高入息稅的累進程度。
- D. 政府調高貼現率而同時調低利率。

為了減低財政赤字, 政府可以採用緊縮性財政政策 (例如加稅及 / 或減少財政開支) 或是擴張性貨幣政策 (例如印發鈔票為赤字融資)。

參考短期總供應曲線為向上斜的情況。與緊縮性財政政策相比, 下列哪些是採用擴張性貨幣政策以減低財政赤字的優勝之處?

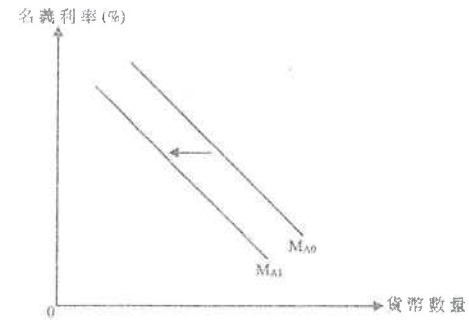
- (1) 就業水平會較高。
  - (2) 貨幣的購買力會較高。
  - (3) 實質產出水平會較高。
- A. 只有 (1) 及 (2)
  - B. 只有 (1) 及 (3)
  - C. 只有 (2) 及 (3)
  - D. (1) 及 (3) 是



下列哪項會導致貨幣需求如上圖般改變?

- A. 中央銀行發行更大面額的鈔票流通市面。
- B. 預期通脹率下降。
- C. 在股票市場投資的風險下降。
- D. 主要電子支付系統出現保安問題。

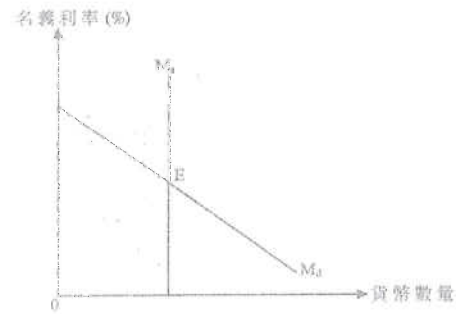
下圖顯示某經濟的資產貨幣需求。



下列哪項會引致以上的資產貨幣需求轉變?

- A. 名義利率增加。
- B. 貨幣基礎收縮。
- C. 電子錢包 (如支付寶 Alipay) 的使用日趨普及。
- D. 持有債券的預期回報率上升。

下圖顯示某經濟的貨幣供應曲線 ( $M_s$ ) 和貨幣需求曲線 ( $M_d$ )。假設原初均衡點是 E。



若公眾的收入增加，而中央銀行向公眾發售政府債券，則利率\_\_\_\_\_，貨幣數量\_\_\_\_\_。

- A. 會減少 ..... 會增加
- B. 會增加 ..... 可能增加或減少
- C. 可能增加或減少 ..... 會減少
- D. 會增加 ..... 會減少

下列哪項屬收縮性貨幣政策？

- A. 增加貼現率
- B. 增加薪俸稅率
- C. 減低法定儲備比率
- D. 減低移民的配額

假設實際通脹率和名義利率分別是 -1% 和 3%。下列哪些陳述是正確的？

- (1) 持有現金的成本是 3%。
- (2) 預期實質利率高於名義利率。
- (3) 持有現金的實際實質回報率是 1%。

- A. 只有 (1)、(2)
- B. 只有 (1)、(3)
- C. 只有 (2)、(3)
- D. (1)、(2) 及 (3)

下列哪項會抵銷擴張性財政政策對總產出的影響？

- A. 公眾持有更多現金。
- B. 使用電子錢包日漸普及。
- C. 銀行同業拆息下降。
- D. 政府增加外籍家傭入境的配額。

12MC6 貨幣政策及貨幣市場 答案

1.	C
2.	C
3.	A
4.	A
5.	B
6.	D
7.	A
8.	C
9.	A
10.	A

11 B      12 B      13 C      14 D      15 D  
 16 A  
 17 B  
 18 A

經濟 12MC7 貨幣數量論及利率 多項選擇題 (SP-2015)

1. SP.MC.Q28

若一年期債券的名義利率為 10%，而預期通脹率為 2%，持有現金的名義回報率和預期成本分別為 \_\_\_\_\_ 及 \_\_\_\_\_。

- A. 0% ..... 8%
- B. 0% ..... 10%
- C. -2% ..... 8%
- D. -10% ..... 10%

2. SP.MC.Q32

古典貨幣量理論

- (1) 推斷貨幣供應的轉變可能不會影響一般物價水平。
- (2) 推斷名義國民收入的轉變與貨幣供應的轉變有正向關係。
- (3) 假設貨幣流動速度不變。

- A. 只有(1)、(2)
- B. 只有(1)、(3)
- C. 只有(2)、(3)
- D. (1)、(2)、(3)

3. SP.MC.Q33

在長期而言，貨幣供應的轉變不會影響

- A. 物價水平。
- B. 實質產出。
- C. 名義貨幣需求。
- D. 以上均正確。

4. PP.MC.Q30

當 \_\_\_\_\_ 正在上升，貨幣的實質價值下降。

- A. 通縮率
- B. 一般物價水平
- C. 貨幣需求
- D. 名義利率

5. PP.MC.Q33

下列哪項有關古典貨幣量理論的陳述是 不 正確的？

- A. 貨幣流通速度和實質產出均假設為不變。
- B. 貨幣供應的任何改變會導致名義產出產生同等比例的改變。
- C. 當貨幣供應不斷下降時，通縮便會出現。
- D. 物價水平的任何改變會導致貨幣供應產生同等比例的改變。

6. P.P.MC.Q35

當名義利率高於實質利率，預期通脹率必定

- A. 是正數。
- B. 是負數。
- C. 在上升。
- D. 在下降。

7. 2013.MC.Q32

若經濟的實質產出有正增長，其增長率較貨幣供應的增長率為低。根據貨幣數量理論，我們可得出結論如下：

- (1) 物價水平正上升。
- (2) 失業率正下降。
- (3) 貨幣流通速率正下降。
- (4) 名義產出正上升。

- A. 只有(1)、(2)
- B. 只有(1)、(4)
- C. 只有(2)、(3)
- D. 只有(3)、(4)

8. 2014.MC.Q32

一年期債券的名義利率和預期通脹率分別是 8% 和 3%。若實際通脹率是 6%，則實際實質利率是 \_\_\_\_\_，而持有現金的實際回報率是 \_\_\_\_\_。

- A. 2% ..... -6%
- B. 2% ..... -8%
- C. 5% ..... -6%
- D. 5% ..... 8%

9. 2014.MC.Q37

假設貨幣流通速率維持不變。若中央銀行減少貨幣供應 10%，

- A. 物價水平會下跌 10%。
- B. 實質產出會下跌 10%。
- C. 名義產出可能下跌少於 10%。
- D. 實質產出可能下跌少於 10%。

10. 2015.MC.Q31

若名義利率是 5%，而預期通脹率是 3%，則持有貨幣的成本是 \_\_\_\_\_，持有貨幣的名義回報是 \_\_\_\_\_，而預期實質利率是 \_\_\_\_\_。

- A. 5% ..... -3% ..... 2%
- B. 5% ..... 0% ..... 2%
- C. 8% ..... -3% ..... 3%
- D. 8% ..... 0% ..... 3%

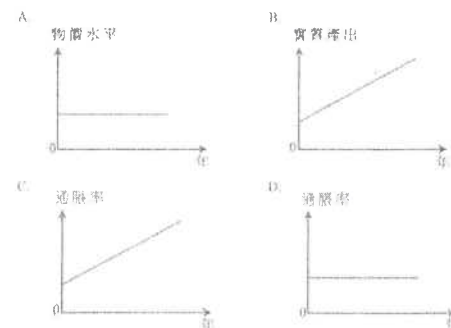
11. 2015.MC.Q33

貨幣數量理論意味著

- A. 當實質產出正在下降，增加貨幣供應會令物價水平上升。
- B. 該經濟經常處於全民就業產出水平。
- C. 當實質產出維持不變，增加貨幣供應會令貨幣流通速率下降。
- D. 增加貨幣供應會令實質產出有相同比例的提升。

12. 2016 Q.34

根據古典貨幣數量理論，當每年的貨幣供應以一個固定的百分率增長時，下列哪個圖是正確的？



13 2018 Q34

假設實質利率是 6%，預期通脹率是 3%。若實際通脹率是 5%，持有貨幣的成本會是 \_\_\_\_\_。

- A. 4%
- B. 6%
- C. 9%
- D. 11%

14 2019 Q32

在通脹的時期，假設某債券的名義利率高於預期通脹率，若實際通脹率高於預期通脹率，

- (1) 實際通脹率會高於該債券的名義利率。
- (2) 該債券的預期實質回報率會高於實際實質回報率。
- (3) 該債券的實際實質回報率可能是負數。
- (4) 持有現金的實質回報率會大於零。

- A. 只有 (1)、(2)
- B. 只有 (1)、(4)
- C. 只有 (2)、(3)
- D. 只有 (3)、(4)

下列哪些有關貨幣數量理論的陳述是正確的？

- (1) 若某經濟的貨幣供應相對於物品供應增長得太快，通脹便會出現。  
 (2) 若貨幣供應增加，名義產出便會以相同的百分率增加。  
 (3) 若通脹率是固定的，實質產出和貨幣供應會以相同的百分率增長。

- A. 只有 (1)、(2)  
 B. 只有 (1)、(3)  
 C. 只有 (2)、(3)  
 D. (1)、(2) 及 (3)

## 匯率

1. 1992.Q.2c

部份香港成衣製造廠商從日本入口原料。解釋港幣兌日元貶值會如何影響該等廠商生產的單位成本。

(4 分)

2. 1999.Q10(d)

以下顯示港元與部份亞洲貨幣的兌換率的轉變

日期	100 港元相等於		
	日圓	印尼盾	泰銖
15/10/1996	1,448	29,412	324.7
10/10/1998	1,515.15	166,666.7	512.82

解釋這些轉變對輸往美國的香港出口的影響，並進一步解釋這種情況對香港的失業額有何影響。

(6 分)

3. 2010.Q8

假設從2008年到2009年，以港元(HK\$)計算香港出口往日本的牛仔褲售價維持不變，而以日圓(¥)計算日本出口往香港的電腦售價也維持不變。但是，港元與日圓的兌換率則有以下的改變：

日期	兌換率
2008年8月18日	HK\$7.1 = ¥100
2009年8月18日	HK\$8.2 = ¥100

上述匯率的改變會對下列(a)、(b)、(c)各項有什麼影響？下列為填充題，每題的正確答案，都是從以下四者中選取其一。

增加	減少	維持不變	不能確定
----	----	------	------

	項目 (以港元計算)	影響
(a)	日本出口往香港的電腦售價	.....
(b)	日本出口往香港的電腦總值	.....
(c)	香港出口往日本的牛仔褲總值	.....

(3 分)



4. PP.Q10

假設美元兌歐元貶值。在聯繫匯率制度下，下列項目會如何受到影響？

- (a) 前往歐洲國家旅遊的香港遊客總數
- (b) 出口到歐洲的香港玩具的價格（以歐元計算）
- (c) 香港對進口歐洲汽車的總支出（以港元計算）

(3 分)

匯率及供需圖分析

5. 1998.Q.11(b)

假設日圓兌港元貶值，而港人對日本車的需求屬彈性強。

以圖輔助，解釋這些因素會如何影響日本汽車在香港的（以港元計算）銷售收益。

(8 分)

6. 1999.Q.9(b)

日元兌港元大幅貶值。其他因素不變，該事件對法國汽車在香港的銷售收益有何影響？以一供需圖輔助解釋。

(9 分)

7. 2003.Q.9(a)

香港自 1998 年起出現通貨收縮。

一位政府官員說：「香港出現通貨收縮會刺激它的出口。」

以圖輔助，解釋在什麼條件下香港出現通貨收縮會增加它的出口總值（以港元為計算單位）。

(7 分)

8. 2004.Q.11(b)

香港有很多時裝從歐洲進口。假設美元對歐羅貶值。

(i) 解釋在聯繫匯率下，以港元計算的歐洲時裝的進口價格會如何改變。

(2分)

(ii) 以圖輔助，解釋在甚麼條件下，以港元計算的歐洲時裝的進口總值會減少。

(6分)

9. 2005.Q.1


2004年雅典舉辦奧運期間，當地旅遊業的生意未如預期般理想。一般相信是歐元升值和遊客害怕當地發生恐怖襲擊所致。

上述兩項因素其中一項會導致雅典旅遊服務的需求變動，而另一項因素會導致旅遊服務的需求量變動。用以下兩圖輔助，分別解釋上述每一項因素的影響。

(5 分)


(i) 歐元升值的影響

單位價格  
(以美元計算)



(ii) 遊客害怕發生恐怖襲擊的影響：

單位價格  
(以美元計算)



10. 2006.Q10(a)

下表顯示歐元 (€) 匯率的變動。

日期	匯率
2005年12月1日	€1 = HK\$ 9.07
2006年1月18日	€1 = HK\$ 9.37

(a) 假設在上述期間，香港進口的歐洲汽車的價格以歐元來計算是沒有改變的。

(i) 解釋上表所示匯率的變動會怎樣影響以港元計算香港進口的歐洲汽車的價格。

(2 分)

(ii) 以圖輔助，解釋為何上表所示匯率的變動可能導致以港元計算香港進口的歐洲汽車的總支出增加。

(6 分)

(iii) 解釋上表所示匯率的變動會怎樣影響以歐元計算香港進口的歐洲汽車的總值。

(2 分)

11. 2008.Q.11(a)

貿易赤字是很多國家關注的問題。美國政府正設法減低從中國輸入的進口價值。建議方法有二：

1. 向中國政府施壓使人民幣升值。
2. 向從中國輸入的進口實施配額限制。

解釋在什麼條件下人民幣升值會導致美國從中國輸入的進口價值（以美元計算）下降。以圖+圖輔助說明你的答案。

(7 分)

12. 2011.Q.10(a)

匯率已成為今天很多人關注的問題。

(a) 美國政府強烈要求中國政府將人民幣升值，以降低美國從中國輸入的進口價值。

(i) 解釋人民幣升值怎樣影響美國從中國輸入的進口數額。 (3 分)

(ii) 解釋在甚麼條件下，人民幣升值會令美國從中國輸入得進口總值(以美元計算)增加。以圖輔助說明你的答案。 (6 分)

13. 2012.Q8

相對於其貿易夥伴的貨幣，某國的貨幣貶值。這貶值是否必然降低該國的進口總值(以本國貨幣計算)? 以圖輔助，試加解釋。 (7分)

14. 2014.Q11(a)

下表顯示港元兌日元匯率的改變。

日期	一單位港元的價格
2012年8月1日	10.2 日圓
2013年8月1日	12.5 日圓

日本出口汽車至香港。

(a) 假設日本汽車的價格(以日圓計算)沒有改變。以圖輔助，解釋為什麼上述匯率的改變會導致出口至香港的日本汽車總值(以日圓計算)上升。 (7分)

15 2018 Q12

(-2015)

旅遊業是香港其中一項「支柱产业」。

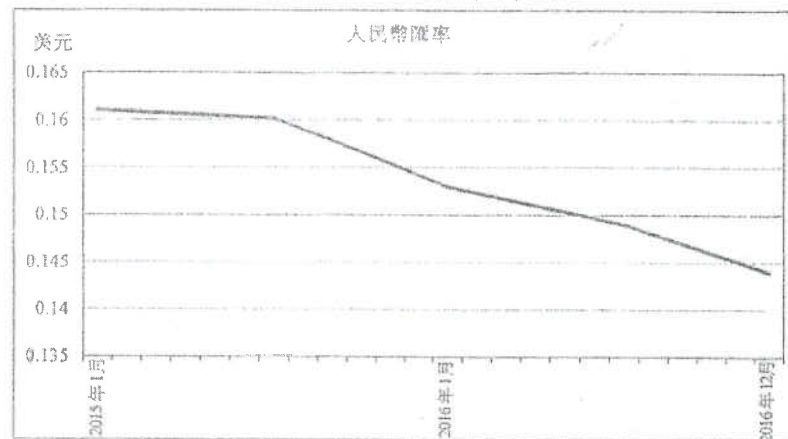
資料一：從某預訂酒店網站上搜尋的結果

酒店A 九龍尖沙咀東部	☆☆☆☆☆ 30 平方米 2 張單人床	免費取消	立即預訂! HK\$2100 或 RMB¥1750
酒店B 九龍尖沙咀東部	☆☆☆☆☆ 32 平方米 2 張單人床 免費無線上網	不可退款	立即預訂! HK\$2040 或 RMB¥1700

資料二：2016 年香港旅遊業的統計資料

	2016 年	與 2015 年比較 (%)
內地旅客	4280 萬	-6.7%
旅客總數	5665 萬	-4.5%
與入境旅遊相關的總消費	HK2962 億元	-10.1%

資料三：2015 年至 2016 年間人民幣(RMB)兌美元(USD)的匯率



(a) 參考資料一，提出兩項理由解釋為什麼香港酒店業的市場結構不屬完全競爭。(4分)

(b) 在資料一，人民幣發揮哪兩項貨幣的功能? 試加解釋。(4分)


(c) 參考資料二，「與入境旅遊相關的總消費」屬本地生產總值中的哪一個組成部分? (1分)

(d) 某記者指出：「人民幣兌美元匯率的改變是導致與入境旅遊相關的總消費改變的一項主要因素。」根據資料二及三，論證他的陳述。(6分)

16 2019 Q11C

假設高鐵的票價以人民幣計算是固定的。在香港出售的高鐵車票價格(以港元計算)會跟隨人民幣兌港元的匯率而調整。

(e) 「人民幣兌美元貶值會引致在香港出售的高鐵車票的總收入(以港元計算)上升。」以圖 2 輔助，解釋在什麼條件下，這項陳述會是正確的。(8分)



匯率

1. 1992.Q.2(c)

港元兌日元的貶值令香港成衣製造商在購買同樣數量的原料時，需要給予較多港元予日本原料的供應商。

2. 1999.Q10(d)

港元相對該等亞洲貨幣升值

- ⇒ 在美國市場裏，該等亞洲國家的出口貨較香港貨廉宜
- ⇒ 港貨有（更廉價的）替代品
- ⇒ 港貨的需求 ↓
- ⇒ 香港出口部門的勞力需求 ↓
- ⇒ 香港的失業額很可能上升

3. 2010.Q8


- (a) 增加
- (b) 不能確定
- (c) 增加

4. PP.Q10

- (a) 下跌（因為歐洲關的價格會上升）
- (b) 下跌（因為港元兌歐元會貶值）
- (c) 未能確定（因為以港元計算的價格會上升而數量會下降）

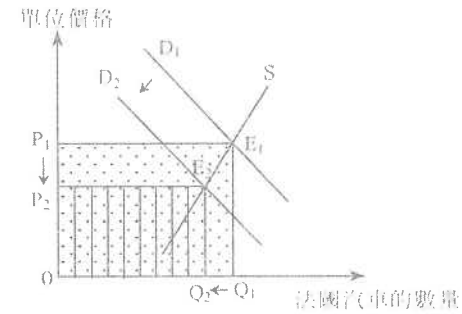
匯率及供需圖分析

5. 1998.Q.11(b)



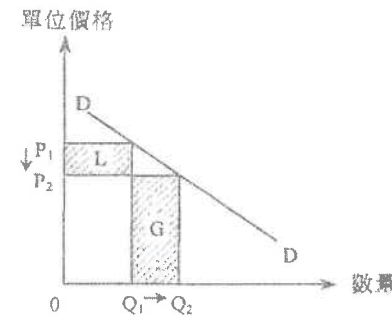
- 日本車價格（以港元表示）下跌
- 日本車需求量大上升
- 需求彈性強意指需求數量百分比的變動大過價格百分比的變動
- 銷貨收益上升 或 收益的損失 < 收益的賺獲

6. 1999.Q.9(b)



- 貶值 ⇒ 日本車的港元價格 ↓
- 日本車與法國車是替代品
- ∴ 法國車的需求 ↓
- ⇒ 法國車的均衡價格及數量皆 ↓
- ⇒ 法國車的銷售收益 ↓ (從  $OP_1E_1Q_1$  變成  $OP_2E_2Q_2$ )

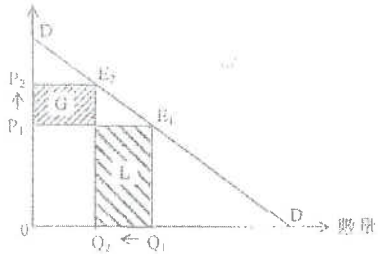
7. 2003.Q.9(a)



出口價格下降使出口量增加，  
而由於香港出口的需求彈性大，  
出口價格下降的百分率低於數量增加的百分率，  
故出口總值增加。

8. 2004.Q.11(b)

- (i) 增加。因為在聯繫匯率下，港元兌歐羅贬值。  
 (ii) 單位價格

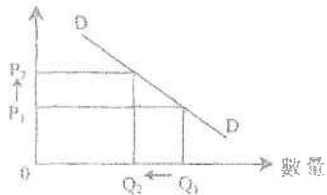


價格上升導致需求數量減少。  
 由於進口屬彈性需求，  
 價格改變百分比小於需求改變百分比。  
 進口總值的賺獲(G)小於進口總值的損失(L)。

9. 2005.Q.1

文字解釋：  
 [歐元匯價上升導致雅典旅遊服務的價格(以美元計算)上升，]  
 該旅遊服務的需求量便會減少。

單位價格(以美元計算)

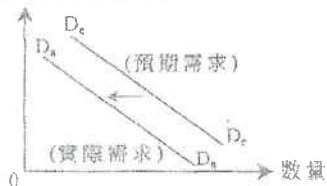


在圖上顯示：

P 升  
 Q 跌

- (ii) 文字解釋：  
 [遊客害怕會發生恐怖襲擊，]會減少對雅典旅遊服務的需求。

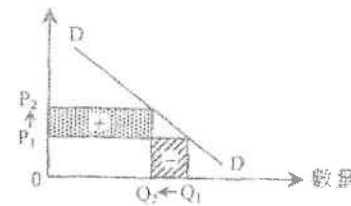
單位價格(以美元計算)



在圖上顯示：  
 需求線向左移

10. 2006.Q.10(a)

- (i) 它會增加，因為  
 歐元兌港元升值。  
 (ii) 單位價格(港元)



在圖上顯示：

- 價格 ↑, 需求量 ↓
- 圖示「總支出增加」和「總支出減少」的位置正確
- 「總支出增加」的面積 > 「總支出減少」的面積

文字解釋：

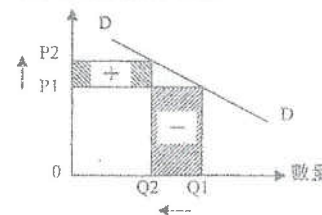
- 以港元計算，香港進口的歐洲汽車的價格增加，而其進口數量下降。
- 若需求彈性低，
- 價格改變[增加]的百分比 > 需求量改變[減少]的百分比。

(iii)

以歐元計算，香港進口的歐洲汽車的總值減少。這是因為  
 進口的數量減少，而以歐元來計算的進口價格並沒有改變。

11. 2008.Q.11(a)

單位價格(以美元為單位)



在圖上顯示：

- 價格上升及數量下降
- 圖示「進口價值增加」和「進口價值減少」的位置正確
- 「進口價值增加」的面積 < 「進口價值減少」的面積

文字解釋：

- 由於人民幣升值，進口價格增加而進口數量下降。
- 條件：需求彈性高
- 價格改變的百分比 < 需求量改變的百分比

12. 2011.Q.10(a)

(i) 人民幣升值令美國從中國輸入的進口價格 (以美元計算) 上升，這會導致美國從中國輸入的進口數量減少。

2  
1

(ii) 學生標紙 (ISS)



在圖上顯示：

- 沿同一需求線，價格上升及數量下降
- 進口價值的減少 < 進口價值的增加

文字解釋：

- 條件：從中國輸入的進口需求彈性低
- 進口量減少的百分比 < 進口價格上升的百分比

1  
2  
1  
2

13. 2012.Q8

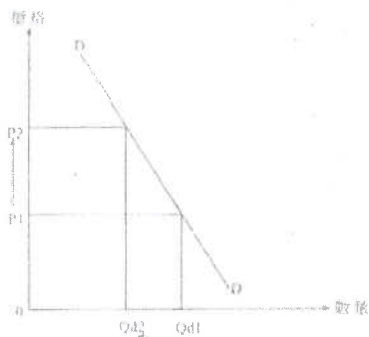
否，因為若入口貨物屬低彈性，入口價值不會下降。原因是價格上升的百分比比較需求下降的百分比為高。

(1)  
(1)  
(2)

在圖中顯示：

- 價格↑，需求量↓
- 入口價值增加 > 入口價值減少

(1)  
(2)



14. 2014.Q11(a)

文字解說：

- 日圓兌港元貶值。
- 日本汽車的價格不變，該種汽車 (以港元計算) 變得較便宜，香港進口商會購買更多日本汽車
- 對日本出口汽車的需求上升，
- 交易量上升。
- 因此，日本出口汽車的總值上升了。

;  
(1)  
(1)  
(1)

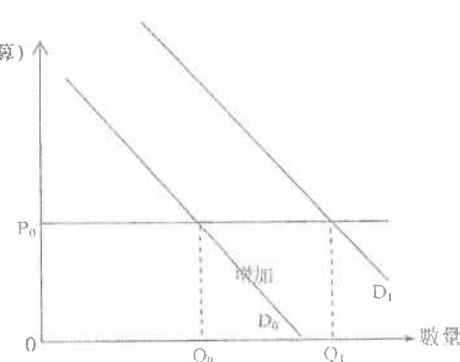
在圖中顯示：

- 需求曲線向右移
- 較高的交易量
- 總值的增加

(1)  
(1)  
(1)

價格

(以日圓計算)



15 2018 Q12

(a) 原因：

- 賣家提供異質服務，例如提供不同大小和特色的房間。
  - 市場訊息並不完全，例如有關服務質素的訊息。
  - 尋價者/在競爭下出現不同的價格，例如不同酒店所提供的房間收取不同價錢。
  - 任何其他相關點
- [只批閱首兩項]

分數

@2  
最高：4

(b) 功能：

- 記帳單位：酒店住宿服務的價格以人民幣標示。
  - 交易媒介：人民幣在該網站是可以幫助人們買賣服務的媒介。
- [只批閱首兩項]

(2)  
(2)

(c) 服務出口/淨出口

(d) 在 2015-16 年間，人民幣兌美元貶值。在聯繫匯率制度下，港元價值會跟隨美元，故此人民幣兌港元貶值。

人民幣貶值意味著香港物品的價格以人民幣計算會變得較貴，故此較少內地遊客會到港，而到港旅客也會花費較少。由於內地遊客是本港旅客的主要來源，與入境旅遊相關的總消費下降幅度會很顯著。

最高：6

16.2019.Q11C:

(c) 文字統制：

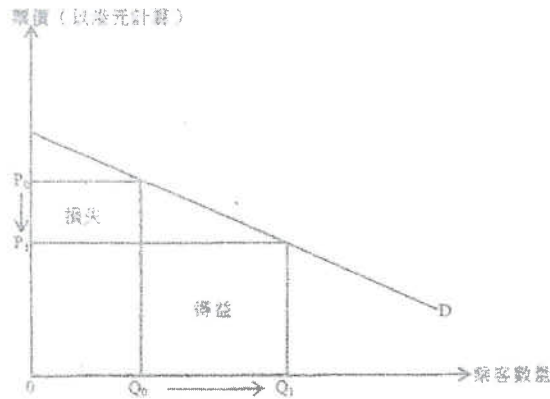
因為聯繫匯率制度，人民幣兌港元的匯率會隨之貶值，這會令票價（以港元計算）下降。若需求屬高彈性，票價下降的百分率會低於乘客數量上升的百分率，總車票總收入因而上升。

(6)

在圖中顯示：

- 得益和損失的正確位置
- 得益 > 損失

(2)



1. 1990.Q.3(a)(i)

以下是按當年市價計算香港 1988 年本地生產總值的成份：

	十億元
私人消費開支	255
政府消費開支	30
本地固定資本投資總值	109
存貨增長	10
本地出口貨物	218
轉口貨物	275
入口貨物	501
出口服務	86
入口服務	56

(1980 年本地生產總值平減指數=100)

(i) 計算有形貿易差額。 (2 分)

2. 1991.Q.4(b)

每天早上陳先生從深圳一所農場運載蔬菜來香港。解釋

(i) 蔬菜的進口價值，及

(ii) 陳先生運輸服務的價值

應否紀錄在香港的有形貿易帳目中，並分別舉述兩者對香港國際收支的影響。 (6 分)

3. 1992.Q.4(c)

寫出下列每項對香港的無形貿易差額及國際收支差額有甚麼影響。 (4 分)

(i) 乙公司將 1000 英鎊存入它在英國某銀行的儲蓄存款戶口內

(ii) 乙公司收取從外地投資所獲派的股息

4. 1993.Q.4(a)(iii)

下表顯示香港 1980 年及 1990 年本地生產總值的組成：

本地生產總值成份	與本地生產總值的比例	
	1980 年	1990 年
私人消費開支	62%	62%
政府消費開支	4%	6%
投資	36%	28%
出口	88%	165%
入口	93%	161%

(iii) 1980 年的貿易有赤字還是有盈餘？1990 年又如何？列舉兩項原因說明為甚麼貿易差額有上述的轉變。 (6 分)

5. 1994.Q.8

解釋在甚麼情況下，一國可同時有貿易赤字和國際收支盈餘。 (4 分)

6. 1995.Q.9(b)

以下各項，先列出美國的國際收支帳內受影響的帳目名稱，後解釋美國的國際收支帳如何受影響。

(i) 外國遊客在美國購置香港製造的紀念品。 (5 分)

(ii) 外國投資者在賽事舉行之前，在美國建造了若干酒店。 (2 分)

7. 1996.Q.9

下表所示為某年某國家國際收支帳的項目 (以百萬元計) :

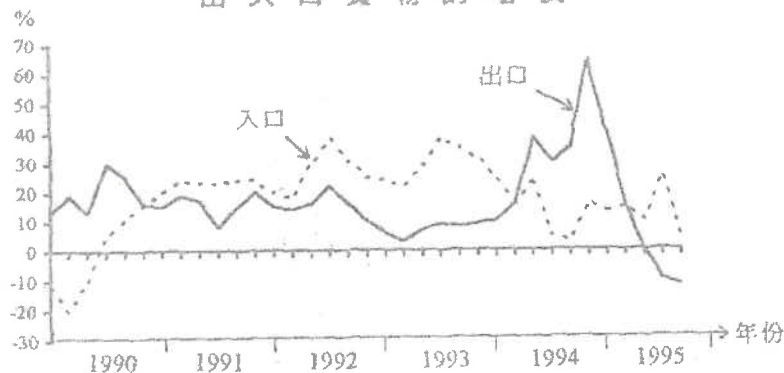
	借方 (百萬元)	貸方 (百萬元)
貨物出口		24
貨物入口	35	
服務出口		17
服務入口	19	
資本流入		50
資本流出	65	
外匯及黃金帳		28
總額	119	119

(a) 計算經常帳的差額。 (1 分)

(b) 「該國沒有國際收支平衡問題，因為借方總額相等於貸方總額。」解釋你是否同意上述說法。 (3 分)

8. 1997.Q.6

進出口貨物的增長



解釋在甚麼條件之下，從上表可獲得以下結論：該經濟在 1991 至 1993 年期間的有形貿易有盈餘。 (3 分)

9. 1997.Q.11(a)(i)

設有價值 1 百萬元的海鮮入口香港。半數以 0.8 百萬元售予本地家庭，而其餘半數則以 0.7 百萬元售予本地的酒家。這些酒家將海鮮烹煮後以 1.6 百萬元售賣給顧客，其中 0.6 百萬元是遊客消費。

- (i) 解釋上述各交易的綜合結果是否可改善本港的
- (I) 有形貿易差額。 (4 分)
- (II) 國際收支差額。

11. 1998.Q.8

參閱下表：

年份	人口 (百萬元)	本地出口 (百萬元)	轉口 (百萬元)
1996	1 535 582	212 160	1 185 758

資料來源：香港 1997

解釋上表資料可否達致以下結論：在 1996 年，香港的國際收支差額出現赤字。 (3 分)

12. 1998.Q.11(c)(ii),(iii)

某年，日本汽車在香港的銷售收益下降。原因是本地對這些汽車的需求下降，而轉口輸往中國大陸的需求亦減少。

- (ii) 香港國際收支帳中哪一帳目受到影響？ (2 分)
- (iii) 解釋上述兩項需求變動對香港國際收支帳有甚麼綜合影響。 (5 分)

13. 1999.Q.6(b)

[...] 富城贏取一項海外獎學金，收到 \$10,000 的匯款，將它存入甲銀行。 [...]

(b) 解釋這筆 \$10,000 款項應否包括入該海外經濟的無形貿易差額的計算之內。 (2 分)

14. 2001.Q.8

根據香港國際收支平衡表回答以下問題：

- (a) (i) 經常帳的其中兩個組成部分是「要素收益」和「經常轉移」，寫出其他兩個組成部分名稱。 (2 分)
- (ii) 舉出一個「要素收益」的例子。 (2 分)
- (b) 除經常帳外，寫出國際收支平衡表上另一個帳目的名稱。 (2 分)

15. 2004.Q.8

以下資料顯示某經濟在某年的貿易統計數字。

	百萬元
有形貿易盈餘	40
本地出口貨物	10
進口貨物	30
進口服務	50
出口服務	25

計算該經濟的轉口值。 (3 分)

16. 2006.Q.11(a)

私人消費開支的增加通常會影響有形貿易差額及政府的財政。

- (a)(i) 解釋香港私人消費開支的增加可能會怎樣影響她的有形貿易差額。 (3 分)
- (ii) 下表資料顯示香港的經濟在 2004 年有強勁復甦的跡象。

	價值的變動(按年變動率)
私人消費開支	+6.8%
貨品出口總值	+15.9%

資料來源：香港特區政府

已知上述資料，解釋在甚麼條件下香港在 2004 年的有形貿易差額會變差。 (2 分)

17. 2008.Q.11(c)

若一國的進口貨品價值下降，解釋其有形貿易差額是否必然獲得改善。 (4 分)

18. 2009.Q.8

假設某年香港的國際收支平衡表如下：

		億元	
1. 經常帳		R	S
	貨物		3 000
	收益流動		300
	經常轉移流動		-200
2. 資本帳		-1800	
		總和 = 0	

- (a) 經常帳組成部分 P 的名稱是 \_\_\_\_\_。(1 分)
- (b) 在國際收支平衡表中，Q 帳的名稱是 \_\_\_\_\_ 帳。(1 分)
- (c) 在上表中，R 及 S 分別代表經常帳差額及有形貿易差額。假設沒有誤差及遺漏。
- (i) 有形貿易差額 = \_\_\_\_\_ 億元。(1 分)
- (ii) 本地貨物出口是 1 470 億元，而貨物進口是 26 000 億元，所以貨物轉口是 \_\_\_\_\_ 億元。(1 分)

19. 2010.Q.9(d)

很多內地來港遊客所購買的紀念品，都是從內地進口本港的。解釋為什麼這些交易會改善香港國際收支平衡表中的經常帳差額。(5 分)

20. 2011.Q.10(b)

假設美國從中國進口的貨品總值(以美元計算)上升，解釋美國對華貿易時，美國的有形貿易差額是否有可能或改善。(4 分)

21. 2012.Q.5(b)

甲國對物品 X 實施一有效的價格上限。

(b) 在實施該價格上限後，乙國很多市民前往甲國購買物品 X。甲國的無形貿易差額會受影響嗎？試加解釋。(3 分)

22. 2013.Q6

下表顯示甲國在某年度國際收支表的項目。

	借方 (百萬元)	貸方 (百萬元)
物品出口		35
物品進口	50	
服務出口		47
服務進口	27	
資金流入		70
資金流出	85	
外匯和儲備資產		10
總額	162	162

- (a) 計算甲國的經常帳差額。(1 分)
- (b) 「甲國的國際收支出現盈餘，因為在該年外匯儲備增加了。」解釋你是否同意這項陳述。(3 分)

23. 2015.Q12(a)

研究顯示內地旅客的「個人遊」計劃為香港帶來經濟利益。不過，越來越多的香港居民要求政府減少透過該計劃到港的內地旅客人數。

- (a) 若政府限制該計劃的規模而令內地旅客訪港人數減少，香港的經常帳會如何受到影響？試加解釋。(2 分)

24. 2016.Q13(b)(i)

H 國的機場管理公司是一間公營公司。它聘請了不同職員營運機場，例如有保安員、技術員、工程師和財務經理。

(b) 該機場管理公司計劃興建多一條跑道，當中有兩個為該跑道融資的提案。

提案 A：政府增加人息稅

提案 B：機場管理公司向每位出境的旅客徵收一項定額費用

討論這兩個提案對 H 國下列方面的影響：

- (i) 國際收支平衡中的經常帳

(5 分)

(-2015)



25 2017 12c

在英國人民投票反對留在歐盟（即英國脫歐）之前，來自歐盟的工人可以自由在英國工作，反之亦然。英國脫歐引起歐洲經濟震盪，下表顯示關於英國脫歐的一些看法：

英國政府： 歐盟低技術工人應該需要申請簽證才可在英國工作。	英國廠商東主： 該項對歐盟工人的新簽證要求影響到英國經濟的大部分廠商。
環球投資者： 英國政局不穩增加當地投資項目的風險。	歐盟官員： 英國國民前往歐盟國家遊覽或工作可能需要簽證。

- (a) 參考英國政府的看法，解釋來自歐盟的低技術工人的勞工流動性會如何受影響。(3分)
- (b) 參考英國廠商東主和環球投資者的看法，並以圖輔助，討論英國脫歐於短期而言對其總產出的影響。(8分)
- (c) 參考歐盟官員的看法，指出英國國際收支平衡的經常帳中，哪兩個部分可能受影響。解釋你的答案。(4分)

26 2018 Q11

為了發展核武並增強軍力，Z國把投放在國防的政府開支份額由10%提高至20%。而且所有20-25歲的男性都要被徵召入軍隊兩年。

為此，聯合國通過一項決議，對Z國大部分的出口物品實施禁運，以應對Z國不斷增加的軍事威脅。

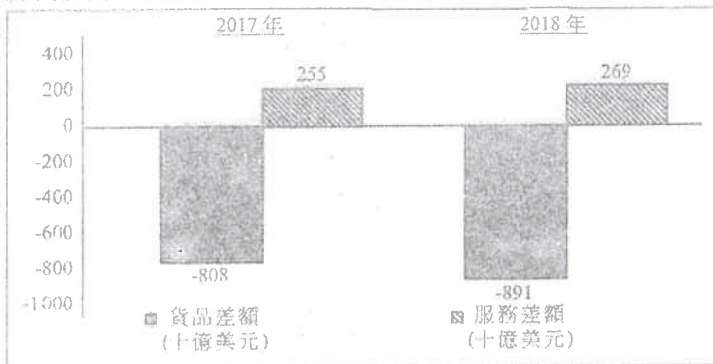
分析上述情況對Z國以下方面的影響：

- 一般生活水平
- 短期總產出
- 國際收支平衡

(10分)

27 2020 Q10A

以下資料顯示美國在2017年及2018年的經常帳數據。



- (a) (i) 描述在以上資料中，美國經常帳數據的轉變。(2分)
- (ii) 「根據以上資料，我們可以得出以下結論：美國2018年經常帳赤字必然增加。」你同意嗎？試加解釋。(2分)

309

1. 1990.Q.3(a)(i)

有形貿易差額 =  $(218 + 275) - 501 = -8$  (十億元)

2. 1991.Q.4(b)

- (i) 蔬菜的人口價應記錄在有形貿易內，因為蔬菜是實際性物品的交易。這項人口是香港的支出項，所以對香港的國際收支額不利。
- (ii) 陳先生生產的運輸服務不應記錄在有形貿易內，因為運輸屬服務而非物品交易。這項生產時香港的無形貿易的收入，對香港的國際收支額有利。

3. 1992.Q.4(c)

- (i) 此舉並不影響香港的無形貿易，但對香港的國際收支差額不利。
- (ii) 此舉會改善香港的無形貿易，對國際收支差額有利。

4. 1993.Q.4(a)(iii)

1980年出現貿易赤字，而1990年則有貿易盈餘。

中國對外貿易的開放擴大了中港兩地的貿易，對香港的出口業及轉口業均有利。另外，香港經濟的多元化令香港開創了很多新興工業，亦開拓了港產貨的市場。

5. 1994.Q.8

貿易平衡（有形貿易）只是經常帳的一部分。若資本帳或無形貿易的收支或兩者的盈餘足以抵消有形貿易赤字，香港的國際收支差額仍然會有盈餘。

6. 1995.Q.9(b)

- (i) 甲效果：外國遊客購買紀念品是從香港輸入的，這對美國的經常帳/有形貿易帳目有不利影響 1
- 乙效果：外國遊客購買紀念品對美國的經常帳/無形貿易帳目有利影響 1
- 若 甲效果 < 乙效果 => 對美國國際收支帳有利。 1
- (ii) 影響資本帳 1
- 這是有利的影響=>對美國國際收支帳有利。 1

7. 1996.Q.9

- (a)  $(24 + 35 + 17 - 19)$ 百萬元 / -13 百萬元 1
- (b) 有國際收支赤字 2 千 8 百萬元 / 經常帳和資本帳總和有赤字。 3

8. 1997.Q.6

由1991年至1993年，入口貨的增長比出口貨的增長高。但是，若1991年的出口貨值遠高於1991年的入口貨價值，而這差異又大於於出口貨的增長率的差異，則1991年至1993年出口貨的價值高於入口貨的價值，有形貿易會出現盈餘。

9. 1997.Q.11(a)(i)
- (i) 上述的交易並不能改善本港的有形貿易差額。因為交易中，只有入口貨（海鮮）而沒有出口貨。
- (ii) 由於對外的總收入(0.6 百萬元)比總支出(1 百萬元)小，所以上述的貿易並不能改善本港的國際收支差額。
10. 1998.Q.8
- 否。沒有資本帳/ 無形貿易帳的資料。
11. 1998.Q.11(c)(ii),(iii)
- (ii) 經常帳/ (資本及金融帳) 2
- (iii) \* 本港對入口需求下降會改善香港的有形貿易差額/ 經常帳 / (但對資本及金融帳不利) 2
- \* 轉口需求下降會
- ⊗ 對香港的有形貿易差額不利。
- 或
- ⊙ 對香港的無形貿易差額/ 經常帳差額/ (資本及金融帳差額)的影響不確定，有利或不利。
- \* 對香港國際收支差額的綜合影響要視乎上述兩種不同影響哪一種影響較大而定/ 並不確定。[此部分答案應與 (i) 及 (ii) 的答案相配合。]
- 或
- 對香港國際收支帳的綜合影響是：貸方與借方有等額的變動。
- (c)(iii) 部分總共 2 + 2 + 1 = 5 分
12. 1999.Q.6(b)
- (b) 不包括在內，該 \$10 000 不是勞務的價值。
13. 2001.Q.8
- (a)(i) 貨物 1
- 服務 1
- [只批閱首兩項。]
- (ii) 例如：在外國所賺獲的利息 / 向外國支付的利息（其他例子有股息，租金收入和工資） 2
- (b) 資本及金融帳 2
14. 2004.Q.8
- 轉口值 = 有形貿易盈餘 + 進口貨物 - 本地出口貨物
- = (40 + 30 - 10) 百萬元
- = 60 百萬元

15. 2006.Q.11(a)
- 顯示有形貿易差額的概念：
- 有形貿易差額 = 貨品出口總值 - 貨品進口總值 1
- [香港大部分的消費品都是進口的。]在香港，私人消費開支增加通常會帶來進口貨品總值的增加。
- (i) 有形貿易差額很可能會變差。 1
- [假設出口貨品總值不變或其他因素不變]
- (ii) 條件是： 2
- 出口貨品總值的增加 < 進口貨品總值的增加
16. 2008.Q.11(c)
- 顯示有形貿易差額的如下概念：
- 有形貿易差額 = 出口貨品價值 - 進口貨品價值 1
- 否，因為 1
- 出口貨品價值亦可能減少， 1
- 而這減少大於進口貨品價值的減少。 1
17. 2009.Q.8
- (a) P 的名稱是 服務。 1
- (b) Q 帳的名稱是 資本及金融帳。 1
- (c)(i) 有形貿易差額 = -1 300 億元 1
- (ii) 貨物轉口 = 23 230 億元 1
18. 2010.Q.9(d)
- (d) 從內地進口紀念品會減少(本港的有形貿易差額，因而減少)本港經常帳的差額 1
- 向內地來港遊客出售紀念品會增加本港經常帳內的無形貿易差額。 1+1
- 經常帳差額下降之幅度小於經常帳差額上升之幅度 1
- 這是本地出售這些紀念品的服務提供者所貢獻的增值。 1
19. 2011.Q.10(b)
- 顯示有形貿易差額的概念：
- 有形貿易差額 = 出口貨品總值 - 進口貨品總值 1
- 有可能。在下列情況下會有可能： 1
- 美國對華出口貨品的價值增加 1
- 而遠增加大於從中國進口貨品的價值的上升。 1
20. 2012.Q.5(b)
- (b) 是，因為 1
- 交通和其他旅客有關開支會增加，這些開支被視為服務出口。故此無形貿易戶口增加。 (2)

21. 2013.Q6

- (a) 經常帳差額 =  $35 - 50 + 47 - 27 = 5$  百萬元 (1)
- (b) 否，因為國際收支平衡是  $-10$  百萬元，這意味著國際收支赤字。 (3)

(a) (i) 貿易赤字增加了，而無形貿易盈餘輕微增加。 (2)

(ii) 否。我們仍然需要外部要素收入流動（即外部收入淨額）及經常轉移等資料數據以得出結論。 (2)

22. 2015.Q12(a)

- 對內地旅客的服務出口下跌 (1)
- 會令經常帳的盈餘下降（或赤字會上升）。 (1)

23. 2016 13bi

- (b) (i) 提案A對經常帳的影響：  
增加入稅稅令可用收入下降。  
故此消費減少，AD和產出水平下降。  
進口會減少。  
經常帳會有更多盈餘/赤字下降。

提案B對經常帳的影響：  
對出境旅客收費會令人們使用機場的成本上升。  
對旅遊業會有負面影響，入境和出境的旅客人數均會下降。  
嚴厲的進口壟和出口壟會下降。  
對經常帳的影響未能確定。

25. 2017 12c

- (c) 經常帳的組成部分：
  - 無形貿易：旅遊的成本增加令往歐盟的遊客減少，故此服務進口下跌。
  - 要素收入（初級收入）：較少工人前往歐盟工作會令英國工人的薪資額下降。
  - 單向轉移（次級收入）：較少工人前往歐盟工作會令工人匯款到英國的金額下降。

@2  
最高：4

26. 2018 Q11

- 一般生活水平：  
生活水平下降因為政府支出或資源/產出較大部分投放在國防方面，對一般生活水平貢獻不大。  
整體來說市民享用較少的物品和服務。被征召入伍的男士被迫離開他們現有的工作，因而減低了他們住戶的收入(和消費)。

- 總產出：  
SRAS 曲線向左移，因為更少的勞工用作生產。  
AD 曲線向左移，因為聯合國禁運令Z國出口下跌。  
總產出因而下降。

最高：10

- 國際收支平衡：  
國際收支平衡會變差。  
因為禁運令物品出口下跌。  
出口服務也會下降，由於戰爭威脅，較少遊客會到該國旅遊。  
外國會撤走在Z國的投資，資本可能流出該國。

某貨幣升值/貶值的影響

1. 1991.MC.Q51

日本貨幣升值會導致

- A. 日本貨在香港跌價。
- B. 前往日本的香港遊客數目減少。
- C. 日本出口數量增加。
- D. 日本在國外的投資減少。

2. 1993.MC.Q55

年份	匯率
1990	576 港元 = 10,000 日圓
1991	622 港元 = 10,000 日圓

上述港元兌日圓的匯率變動會導致

- A. 日本貨入口增長率減慢。
- B. 港製成衣輸往日本的出口數量下降。
- C. 日本人在本地地產投資下降。
- D. 香港對日本出現貿易盈餘。

3. 1994.MC.Q57

若港元兌日圓貶值，

- A. 較少日本遊客願意來港遊覽。
- B. 日本貨入口價會下降。
- C. 港貨在日本競爭力下降。
- D. 持有日圓存款者會得益。

4. 1997.MC.Q54

港元相對英鎊升值，會導致

- A. 輸往英國的香港出口貨數量增加。
- B. 香港入口的英國貨數量增加。
- C. 香港入口的美國貨數量增加。
- D. 從英國流入香港的資金增加。

5. 1998.MC.Q48

若匯率由加幣\$1=港幣\$5.7 變為加幣\$1=港幣\$5，香港與加拿大雙邊貿易會受到什麼影響？

- A. 香港出口往加拿大貨物數量會增加。
- B. 香港入口加拿大貨物數量會增加。
- C. 香港入口加拿大貨物價錢會更昂貴。
- D. 香港入口加拿大貨物的港元支出會增加。

6. 2003.MC.Q47

港元兌日圓兌換率以下的改變會導致什麼結果？

2月15日	6.4 港元 = 100 日圓
同年3月15日	6.1 港元 = 100 日圓

- (1) 香港從日本進口的貨物數量會增加。
  - (2) 香港日本遊客人數會增加。
  - (3) 香港出口往日本的貨物價格（以日圓計算）會上升。
- A. 只有(1)、(2)
  - B. 只有(1)、(3)
  - C. 只有(2)、(3)
  - D. (1)、(2)、(3)

7. 2010.MC.Q39

日期	兌換率
2010年9月	10 港元 = 1 歐元
2011年7月	11.3 港元 = 1 歐元

上述港元兌歐元的匯率變動會導致

- A. 從歐洲來港的遊客人數減少。
- B. 來自歐洲的進口貨物價格（以港元計算）下降。
- C. 來自歐洲的進口貨物總值（以歐元計算）下降。
- D. 美元兌歐元的匯率下跌。

8. 2013.MC.Q37

相對於其貿易夥伴的貨幣，某國的貨幣升值，若該國對進口的需求屬 \_\_\_\_\_，貨幣升值會令進口總值（以本國貨幣計算）\_\_\_\_\_。

- A. 單一彈性 ... 上升
- B. 低彈性 ... 上升
- C. 高彈性 ... 下跌
- D. 低彈性 ... 下跌

聯繫匯率制度(1) - 美元匯率影響港元匯率

9. 1995.MC.Q55

在聯繫匯率制度下，若美元兌日元大幅貶值，

- A. 會有較多美國遊客到日本旅遊。
- B. 會有較多日本遊客到香港旅遊。
- C. 會有較少香港產品出口往美國。
- D. 會有較少香港產品出口往日本。

10. 2000.MC.Q52

假設日圓相對美元大幅升值。由於聯繫匯率，

- A. 港元相對日圓會大幅貶值。
- B. 美元相對日圓會大幅貶值。
- C. 美元相對歐羅會大幅貶值。
- D. 港元相對歐羅會大幅貶值。

11. 2001.MC.Q46

在香港的聯繫匯率制度下，

- A. 港元與美元的市場兌換率是固定的。
- B. 除美元外，港元與其他貨幣的市場兌換率是固定的。
- C. 若美元對澳元升值，則港元會對澳元貶值。
- D. 若美元對日圓升值，則港元亦會對日圓升值。

聯繫匯率制度(2) 美元匯率變動→港元匯率變動→分析影響

12. 2005.MC.Q49

某年	匯率
一月	1美元 = 120 日圓
五月	1美元 = 105 日圓

在聯繫匯率制度下，上述美元兌日圓的匯率變動會導致

- A. 往美國旅遊的香港人數目減少。
- B. 往日本旅遊的香港人數目增加。
- C. 日本電器輸往香港的出口數量減少。
- D. 港製時裝輸往日本的出口數量減少。

13. 2008.MC.Q50

下表顯示美元兌日圓匯率的改變。

日期	兌換率
2007年7月11日	1美元 = 122 日圓
2007年11月14日	1美元 = 111 日圓

在香港的聯繫匯率制度下，上述匯率改變會導致\_\_\_\_\_。

- (1) 香港的出口在日本的競爭力增加
  - (2) 香港到日本旅遊的人數下降
  - (3) 香港從日本輸入的進口總值（以港元計算）下降
- A. 只有(1)、(2)
  - B. 只有(1)、(3)
  - C. 只有(2)、(3)
  - D. (1)、(2)、(3)

14. 2009.MC.Q49

日期	兌換率
1.12.2007	1美元 = 930 南韓圓
1.12.2008	1美元 = 1468 南韓圓

在香港的聯繫匯率制度下，上述南韓圓與美元匯率的變動會導致

- A. 訪港的韓國遊客更多。
- B. 訪韓的香港遊客更多。
- C. 訪港的美國遊客更少。
- D. 訪韓的美國遊客更少。

15. 2010.MC.Q50

在聯繫匯率制度下，當英鎊對美元貶值時，

- A. 香港出口往英國的電器產品數量會增加。
- B. 香港人在英國購買的紀念品數量會減少。
- C. 香港人訪美的人數會增加。
- D. 英國人訪港的人數會減少。

16. 2011.MC.Q49

日期	兌換率
2009年6月26日	US\$1 = £0.605
2010年6月26日	US\$1 = £0.665

在香港的聯繫匯率制度下，上述英鎊(£)兌美元(US\$)的匯率變動會導致\_\_\_\_\_。

- A. 訪港的英國遊客數目增加
- B. 英國的出口在香港的競爭力上升
- C. 從香港輸往英國的進口總值（以英鎊計算）下降
- D. 從英國輸往香港的出口總值（以港元計算）下降

17. SP.MC.Q40

某年	匯率
四月	1 歐元 = 1.12 美元
七月	1 歐元 = 1.35 美元

在聯繫匯率制度下，上述歐元兌美元的匯率變動會導致

- A. 訪港的歐洲旅客人數減少。
- B. 訪美的香港旅客人數減少。
- C. 歐洲出口到香港的汽車數量增加。
- D. 香港出口到歐洲的成衣產品數量增加。

18. 2014.MC.Q42

假設南韓圓兌美元貶值。在香港聯繫匯率制度下，下列哪些會是上述匯率改變的結果？

- (1) 從南韓進口至香港的物品數量會增加。
  - (2) 從香港出口至南韓的物品價格(以港元計算)會上升。
  - (3) 到訪香港的南韓遊客人數會下跌。
- A. 只有(1)、(2)
  - B. 只有(1)、(3)
  - C. 只有(2)、(3)
  - D. (1)、(2)、(3)

聯繫匯率制度(3) – 有關制度的描述

19. 1993.MC.Q33

下列哪一項有關香港聯繫匯率的描述是正確的？

- A. 它由市場力量所決定。
- B. 它曾多次被政府修改。
- C. 該匯率制度是用來穩定港元匯價的。
- D. 它是港元兌一籃子外國貨幣的匯率。

20. 1996.MC.Q52

香港實施聯繫匯率制度。在外匯市場上，港元兌美元的匯率\_\_\_\_\_而港元兌其他貨幣的匯率\_\_\_\_\_。

- A. 固定在 1 美元=7.8 港元...是固定的
- B. 固定在 1 美元=7.8 港元...不是固定的
- C. 不是固定的...是固定的
- D. 不是固定的...不是固定的

21. 1998.MC.Q49

在香港的聯繫匯率制度下，下列哪一項描述是正確？

- A. 港元兌人民幣的匯率是固定的。
- B. 港元兌美元的市場匯率固定在美元\$1=港元\$7.8。
- C. 美元相對其他貨幣升值時，香港出口貨的競爭力減弱。
- D. 香港不會出現國際收支不平衡的問題。

22. 2006.MC.Q47

在香港的聯繫匯率制度下，下列哪項是正確的？

- A. 在外匯市場裡，港元與美元之間的兌換率固定在1美元 = 7.8港元。
- B. 若中國內地有形貿易出現盈餘，香港也會出現有形貿易盈餘。
- C. 當美元相對歐元貶值時，港元相對歐元也會貶值。
- D. 以上全部皆正確。

23. 2009.MC.Q50

在香港的聯繫匯率制度下，

- A. 港元在外匯市場上兌換美元的匯率是固定的。
- B. 香港政府無須持有大量外匯儲備。
- C. 香港市民可按聯繫匯率從香港政府手上把港元轉換為美元。
- D. 港元現鈔有外匯儲備作出十足支持。

24. 2011.MC.Q50

在香港的聯繫匯率制度下，

- A. 港元兌美元的市場兌換率被固定在US\$1 = HK\$7.8。
- B. 香港三家發鈔銀行有責任為公眾按聯繫匯率將港元兌換成美元。
- C. 港元紙幣毋須全部由外匯儲備作擔保。
- D. 港元兌歐元的市場兌換率會跟隨美元兌歐元的市場兌換率的變動方向來變動。

25. 2013.MC.Q40

下列哪項有關香港聯繫匯率制度的陳述是正確的？

- (1) 港元鈔票由人民幣和美元十足支持。
  - (2) 香港金融管理局持有相當數量的外匯儲備。
  - (3) 所有發鈔銀行可按聯繫匯率與香港金融管理局兌換美元。
  - (4) 港元兌美元在外匯市場的兌換率是固定的。
- A. 只有(1)、(2)
  - B. 只有(1)、(4)
  - C. 只有(2)、(3)
  - D. 只有(3)、(4)

26. 2015.MC.Q42

在香港聯繫匯率制度之下，下列哪項陳述是正確的？

- A. 香港的貨幣供應定義一 (M1) 必須全部由美元支持。
- B. 港元兌美元的市場匯率由香港金融管理局固定在 1 美元兌 7.8 港元。
- C. 當美元兌其他貨幣升值，香港的進口量會上升。
- D. 美國經常帳赤字會導致香港經常帳出現赤字。

影響匯率的因素

27. 1993.MC.Q36

在下列哪一種情況下港元價值下降？

- A. 美元兌其他貨幣升值。
- B. 政府發行新的\$10 硬幣以代替\$10 紙幣。
- C. 名義收入有所增加。
- D. 本地生產總值平減指數有所增加。

28. 2016 Q:44

假設某地區中的國家都是出口物品往英國的競爭對手，除了X國的貨幣外，在該地區中其他國家的貨幣兌美元均贬值。結果，X國出口往英國的物品數量會

- A. 下降。
- B. 上升。
- C. 維持不變。
- D. 未能確定。

29. 2016 Q:45

日期	匯率
2015年2月15日	1美元 = 0.8773 歐元
2015年8月15日	1美元 = 0.8965 歐元

在香港聯繫匯率制度下，上述歐元兌美元匯率的改變會引致

- A. 到訪香港的歐洲遊客人數上升
- B. 歐洲出口往香港的物品總值上升（以港元計算）
- C. 香港出口往美國的物品數量下降
- D. 香港出口往歐洲的物品總值下降（以港元計算）

30. 2017 Q:44

日期	匯率
2015年11月22日	1美元 = 6.39 元人民幣
2016年11月22日	1美元 = 6.89 元人民幣

以上美元兌人民幣匯率的改變會令

- (1) 到訪美國的中國旅客人數減少。
- (2) 美國出口往中國的物品競爭力下降。
- (3) 美國出口往中國的物品總值上升（以美元計算）。

- A. 只有 (1) 及 (2)
- B. 只有 (1) 及 (3)
- C. 只有 (2) 及 (3)
- D. (1) 及 (2) 是 (3)

31. 2017 Q:45

在香港聯繫匯率制度之下，下列哪項陳述是正確的？

- A. 非銀行公眾可以在任何時間將所持有的港幣賣給香港金融管理局以換取美元。
- B. 它讓香港金融管理局可以實施擴張性貨幣政策以刺激私人投資。
- C. 美元兌港元的市場匯率是固定於1美元 = 7.8港元。
- D. 人民幣兌美元持續升值，會對本港消費物價指數構成向下壓力。

32. 2018 Q:45

黃先生以港幣 10000 元在第一天購入人民幣，並在第二天出售該筆款項以獲取港幣，其兌換率如下表所示：

匯率	
第一天	1 港元 = 0.83 人民幣
第二天	1 港元 = 0.77 人民幣

在以上的交易，黃先生大約

- A. 損失了港幣 779 元
- B. 損失了港幣 600 元
- C. 賺取了港幣 600 元
- D. 賺取了港幣 779 元

33. 2019 Q:45

細閱 iPhone X 在香港的價格（以港元計算）與在內地的價格（以人民幣計算）。

香港	內地
8588 港元	8316 人民幣

已知匯率是 1 港元兌 0.875 元人民幣，下列哪項陳述是正確的？

- A. 遊客傾向於在內地而非在香港購買 iPhone X。
- B. 人民幣的幣值被低估，因為 iPhone X 在內地的價格比在香港的便宜。
- C. 若運費是 950 港元，在香港購買一部 iPhone X 並在內地轉售便再不能獲利。
- D. 當本港 iPhone X 的價格高於 9504 港元，「低買高賣」的潛在利益便會消失。

34. 2020 Q:44

下表顯示歐元兌美元的匯率轉變。

日期	匯率
2018年9月22日	1 歐元 = 1.176 美元
2019年8月22日	1 歐元 = 1.109 美元

上述匯率的轉變會引致

- A. 到訪美國的歐洲遊客人數
- B. 從歐洲出口至美國的物品數量
- C. 美國出口至歐洲的貨物總值（以歐元計算）
- D. 歐洲出口至美國的貨物總值（以美元計算）

35. 2020 Q:45

在香港的聯繫匯率制度下，下列哪項陳述是正確的？

- A. 本港的貨幣供應定義一必須有美元的全數支持。
- B. 當美元兌其他貨幣贬值，香港的出口量會上升。
- C. 港元相對美元的市場匯率是固定的。
- D. 本港市民可以向三家發鈔銀行賣出 1 美元以換得 7.8 港元。

相關下表。

	匯率
2019年12月3日	1港元 = 0.902人民幣
2020年12月3日	1港元 = 0.923人民幣

在2019年12月3日，陳先生用港幣兌換了300,000人民幣，並將該筆款項存入銀行作定期存款，年利率0.8%。假設他在2020年12月3日提取該筆款項，並把它兌回港幣。

在上述的交易後，陳先生

- A. 損失了約港幣 \$4,967
- B. 損失了約港幣 \$7,570
- C. 賺取了約港幣 \$6,300
- D. 賺取了約港幣 \$8,515

### 13MC1 匯率 答案

1.	A	11.	C	21.	C
2.	A	12.	A	22.	C
3.	D	13.	B	23.	D
4.	B	14.	D	24.	D
5.	B	15.	D	25.	C
6.	C	16.	B	26.	C
7.	A	17.	D	27.	D
8.	B	18.	B	28.	A
9.	D	19.	C	29.	D
10.	D	20.	D	30.	A

31D

32D

33C

34 A

35 B

36 A

### 有形/無形貿易(1) - 項目分辨

1. 1998.MC.Q46

下列哪一項是香港國際收支帳中的一項無形出口？

- A. 一間日本公司在香港股市購買股票。
- B. 一位香港市民購買日本的航空公司的機票。
- C. 一位香港市民匯錢給他日本的兒子。
- D. 一位日本遊客在香港向一位本地醫生求診。

2. 2006.MC.Q45

不少中國內地的遊客在香港迪士尼樂園購買紀念品。假設這些紀念品是在中國內地製造的。那麼上述遊客的花費是香港的一項\_\_\_\_\_

- A. 本地出口貨物。
- B. 轉口貨物。
- C. 出口服務。
- D. 進口服務。

3. 2008.MC.Q46

下列哪項應包括入香港無形進口的計算之內？

- A. 一名香港市民在本港股票市場購買國企股票。
- B. 一名香港市民購買中國內地航空公司的機票。
- C. 一名內地學生支付在香港一所大學學習的學費。
- D. 一名內地投資者在香港購買一間住宅。

4. 2009.MC.Q47

瑪麗是泰國某百貨公司的時裝採購員。她前來香港，從一家香港成衣製造商購買了價值\$300,000的成衣。該批成衣直接由製造商運往該百貨公司。在瑪麗留港期間，她又從電器店購買了一台價值\$10,000的個人電腦，作私人用途。該批\$300,000的成衣被視為香港的一項\_\_\_\_\_出口，而該台價值\$10,000的電腦被視為香港的一項\_\_\_\_\_出口。

- A. 有形 ... 有形
- B. 有形 ... 無形
- C. 無形 ... 有形
- D. 無形 ... 無形

5. 2010.MC.Q49

下列哪項應包括入香港無形進口的計算之中？

- A. 一位香港市民購買一場在澳門舉行的音樂會的人場券所支出的款項。
- B. 一位馬來西亞遊客為購買在香港舉辦的2009年東亞運動會的人場券所支出的款項。
- C. 一位香港市民捐予海地受地震影響的災民的款項。
- D. 一位香港市民透過本地一家銀行購買人民幣國債所支出的款項。

6. 2011.MC.Q48

某內地遊客在香港停留期間用了\$400作為交通費，又在一家商店購買了價值\$2,000的數碼相機。該筆\$400的交通費被歸類為香港的\_\_\_\_\_出口，該部價值\$2,000的數碼相機被歸類為香港的\_\_\_\_\_出口。

- A. 有形 ... 有形
- B. 有形 ... 無形
- C. 無形 ... 有形
- D. 無形 ... 無形

7. 2012.MC.Q40

下列哪項是香港經常帳中的無形進口？

- A. 一名香港旅客在北京購買門票遊覽當地的博物館。
- B. 一名內地居民在香港向醫院求診。
- C. 一名內地億萬富翁捐款予香港一間大學。
- D. 一家香港製造商向一家內地廠商購買原料。

### 有形/無形貿易(2) - 計算金額

8. 1992.MC.Q52

運用以下資料計算淨出口：

本地出口	\$300
轉口	\$150
入口	\$350

- A. -\$50
- B. \$100
- C. \$450
- D. \$800



9. 1994.MC.Q51

從下列資料求轉口值：

本地出口	\$500
貿易差額	\$250
入口	\$450

- A. \$50
- B. \$200
- C. \$250
- D. \$300

10. 1997.MC.Q50

參閱以下某年某經濟體系的資料回答

1997.MC.Q50：

	以十億元為單位
本地出口貨物	15
轉口	8
入口貨物	20
出口勞務	7
入口勞務	4
淨資金流入	-2

有形貿易差額（以十億元計算）是

- A. -5
- B. -2
- C. 3
- D. 6

11. 1999.MC.Q47

以下資料顯示某年某經濟的貿易數據：

	\$百萬元
本地貨物出口	30
轉口	40
貨物進口	50
服務輸出	60
服務輸入	80

根據以上資料，該經濟的有形貿易

- A. 順差。
- B. 逆差。
- C. 不是順差，亦非逆差。
- D. 沒有足夠資料找出答案。

12. 2003.MC.Q43

參閱以下某經濟在某年的資料：

	\$10 億
本地出口貨物	20
進口貨物	50
有形貿易差額	-5

其轉口（以 10 億元為單位）為

- A. 15。
- B. 25。
- C. 30。
- D. 35

13. 2007.MC.Q48

參閱下表某經濟某年的資料：

	億元
本地貨物出口	20
轉口	25
貨物進口	40
服務輸出	23
服務輸入	19

有形貿易差額是 \_\_\_\_\_ 億元。

- A. -20
- B. -5
- C. 5
- D. 9

14. 2008.MC.Q47

參閱下列某經濟某年的資料：

	億元
本地貨物出口	50
轉口	35
貨物進口	60
服務輸出	25
服務輸入	10

該經濟有 \_\_\_\_\_ 億元的 \_\_\_\_\_。

- A. 25 ..... 有形貿易盈餘
- B. 10 ..... 有形貿易赤字
- C. 40 ..... 無形貿易盈餘
- D. 15 ..... 無形貿易赤字

15. 2010.MC.Q48

參閱以下某經濟某年的貿易數據：

	十億元
貨物總出口	140
轉口	50
出口服務	33
進口貨物	72
進口服務	20

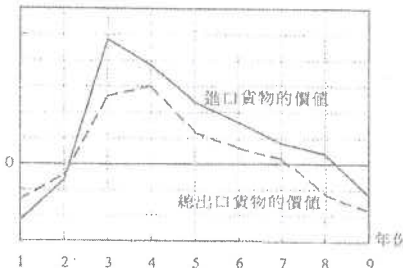
有形貿易差額是 \_\_\_\_\_ 十億元。

- A. 68
- B. 81
- C. 118
- D. 131

有形/無形貿易(3) - 圖表分析/計算概念

16. 2003.MC.Q48

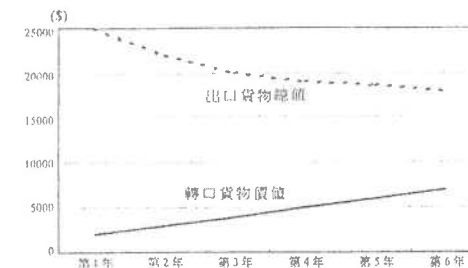
變動率 (%)



根據上圖，從第 4 年到第 6 年，

- A. 該經濟出現有形貿易赤字。
- B. 進口貨物的價值減少了。
- C. 總出口貨物的價值增加了。
- D. 有形貿易赤字改善了。

17. 2005.MC.Q47



根據上圖，從第 2 年到第 5 年，本地出口貨物的價值

- A. 正在減少。
- B. 正在增加。
- C. 維持不變。
- D. 未能確定。

18. 2007.MC.Q50

X 國的出口值增加和進口值減少會

- A. 減低它的本地生產總值。
- B. 導致它的貿易帳出現盈餘。
- C. 改善它的經常帳差額。
- D. 導致它的貨幣貶值。

經常帳(1) 計算的項目

19. 1999.MC.Q54

在計算香港的經常帳差額時，下列哪一項 並不包括入計算之內？

- A. 某美國公司對香港一間電腦公司的投資。
- B. 在香港銷售的日本汽車。
- C. 遊客在香港所觀看的一場戲劇表演。
- D. 利用香港貨櫃港口設施所處理的中國出口貨物。

20. 2000.MC.Q51

下列哪一項應包括入香港經常帳差額的計算之內？

- A. 一家香港公司向英國某銀行借款所支付的利息。
- B. 一名香港居民在深明購置一層新樓。
- C. 一名美國投資者購買\$5,000 個單位盈富基金。
- D. 一名香港作家售賣他一本新書的版權予一名台灣出版商。

21. 2002.MC.Q48

在計算香港的經常帳時，下列哪一項應包括入內？

- A. 一位香港居民向美國一家保險公司購買了人壽保險。
- B. 香港一家公司從一家英國製片商購入一套影片的版權。
- C. 一位香港居民購買一所在美國的房子。
- D. 一位香港投資者購買在美國的一家上市公司的股票。

22. 2004.MC.Q50

王先生是一位中國內地居民，前來香港旅遊一星期。下列哪一項應被包括在香港的經常帳內？

- A. 他向內地一家航空公司購買的交通服務。
- B. 他向本港一家酒店購買的住宅服務。
- C. 他購買的一向位於尖沙咀的住宅。
- D. 他購買的「中國銀行（香港）」股票。

23. 2006.MC.Q48

一名印尼女傭在香港為某家庭工作，將部分工資匯款至印尼。該筆匯款應記錄在香港國際收支平衡表下經常帳中哪一組成部分之內？

- A. 貨物
- B. 服務
- C. 收益
- D. 經常轉移

24. 2008.MC.Q49

一名美國工程師在香港工作。下列哪筆款項應包括入香港經常帳差額的計算之中？

- A. 她薪金收入的一部分，她將該筆款項存入本港一家銀行。
- B. 她薪金收入的一部分，她將該筆款項匯給她在美國的家人。
- C. 她支出的一筆款項，那是用來購買香港股票市場上的一些國企股票。
- D. 她支出的一筆款項，那是用來購買香港一些衣物及玩具，並送了給她在美國的子女。

**資本帳 (KA) – 包括的項目**

25. 1992.MC.Q60

以下哪一項並不包括在香港國際收支的資本帳內？

- A. 一香港市民在日本購買一間工廠。
- B. 一香港市民購買一台美國製造的電腦。
- C. 一香港市民在倫敦股票市場購買證券。
- D. 一香港市民在美國購買一所房子。

**對經常帳/資本帳 (CA/KA) 有利的活動**

26. 1990.MC.Q36

下列情況會對香港的國際收支平衡帳中的經常帳有利？

- (1) 一日本遊客在海洋公園遊玩一天。
- (2) 一美資銀行在香港設立辦事處。
- (3) 香港政府從美國購入一電腦系統。
- (4) 一香港居民收取他的美國股票的股息。

- A. 只有(1)、(2)
- B. 只有(1)、(4)
- C. 只有(2)、(3)
- D. 只有(3)、(4)

27. 1994.MC.Q55

下列哪一項對本港國際收支帳項中的經常帳有利？

- A. 一位澳門市民使用本港汽墊船公司的服務離開香港。
- B. 一位中國商人在本港地產市場投資。
- C. 一間本地銀行支付利息予一位海外存款客戶。
- D. 一間中國公司在本港發行股票。

28. 1996.MC.Q50

下列哪一事項對香港國際收支帳中的資本帳有利？

- A. 美國一廠商購買香港某銀行發行的存款証。
- B. 美國一廠商捐款予香港某慈善機構。
- C. 香港一廠商在加拿大購買一間酒店。
- D. 香港一廠商從投資美國賺獲利息和股息。

**BOP 項目的計算**

29. 1991.MC.Q50

下表顯示某國的國際收支帳目。

	\$億
出口	30
入口	X
流入資金	50
流出資金	60
	外匯及黃金儲備減少\$20 億

X 為何值？

- A. 10
- B. 20
- C. 30
- D. 40

30. 1993.MC.Q40

於參閱下列某經濟某年的資料後，作答 1993.MC.Q40

	百萬元
私人消費開支	40
政府消費開支	10
本地固定資本形成總額	10
存貨增減	1
貨物出口總額	80
本地產品出口	70
轉口	10
貨物入口	60
服務出口	20
服務入口	30
流入的資金	30
流出的資金	15

該經濟當年的國際收支差額為：

- A. 10 百萬元
- B. 15 百萬元
- C. 20 百萬元
- D. 25 百萬元

31. 1995.MC.Q54

細閱下列某經濟體系的國際收支帳：

	百萬元
貨物及服務出口	2,800
貨物及服務進口	3,200
流入資金	Z
流出資金	700
外匯及黃金儲備的增加	40

Z 值是

- A. 260。
- B. 340。
- C. 1,060。
- D. 1,140。

32. 1996.MC.Q51

以下是某國際收支帳的資料：

	(以十億元為單位)
有形出口	15
有形入口	13
無形出口	8
無形入口	11
流入資金	9
流出資金	12

該國有形貿易 \_\_\_\_\_ 而國際收支 \_\_\_\_\_。

- A. 順差...順差
- B. 順差...逆差
- C. 逆差...順差
- D. 逆差...逆差

33. 1997.MC.Q51

參閱以下某年某經濟體系的資料回答

1997.MC.Q51 :

	以十億元為單位
本地出口貨物	15
轉口	8
入口貨物	20
出口勞務	7
入口勞務	4
淨資金流入	-2

國際收支差額 (以十億元計算) 是

- A. -4
- B. 0
- C. 1
- D. 4

34. 2000.MC.Q50

假設由國在第 1 年有國際收支赤字。在第 2 年，國際收支項目的變動如下所示：

	以十億元為單位
貨物出口	+28
服務輸出	+7
貨物進口	+35
服務輸入	+13
資金流入	+5
資金流出	+8

根據以上資料，我們可以得結論如下：

- A. 有形貿易赤字在第 2 年上升了。
- B. 有形貿易赤字在第 2 年下降了。
- C. 國際收支赤字在第 2 年上升了。
- D. 國際收支赤字在第 2 年下降了。

35. 2001.MC.Q45

香港國際收支平衡表：

	百萬元
經常帳	72,000
貨物	-25,000
服務	81,000
要素收益	27,000
經常轉移	-11,000
資本及金融帳	-76,000
淨資產及遺漏	4,000
總額	= 0

根據上表資料，

- (1) 有形貿易赤字是 25,000 百萬元。
  - (2) 無形貿易盈餘是 81,000 百萬元。
  - (3) 該國際收支平衡表達致平衡。
- A. 只有(1)、(2)
  - B. 只有(1)、(3)
  - C. 只有(2)、(3)
  - D. (1)、(2)、(3)

國際收支差額

36. 1999.MC.Q53

王先生是一位香港居民。他在香港工作，賺取收入。他與在中國內地居住的美玲結為夫婦。下列哪一項對香港的國際收支並無影響？

- A. 他在香港購買結婚戒指，親自送給美玲。
- B. 他經銀行匯一筆款項給美玲的父母作為聘禮。
- C. 他支付往泰國度假月的旅費。
- D. 他在深圳租買一個住宅單位給美玲居住。

37. 1997.MC.Q52

下列哪一項會對甲國的國際收支差額有利？

- A. 甲國國民增加在外國的投資。
- B. 甲國政府取消徵收入口關稅。
- C. 甲國國民從他們所持有的美國政府債券收取利息。
- D. 甲國政府支付費用予外國顧問公司。

國際收支差額及貿易差額

38. 1990.MC.Q46

在下列哪一種情況下，國際收支差額及貿易差額均會變壞？

- A. 出口增加
- B. 轉口減少
- C. 該國對外投資減少
- D. 該國政府對外國增加援助

39. 1996.MC.Q48

下列哪一項不會使香港的貿易差額變壞，但卻會使它的國際收支差額變壞？

- A. 一名日本流行歌手取消他在香港舉行的音樂會。
- B. 香港某慈善機構減少對中國大陸的捐款。
- C. 美國商人減少在香港投資。
- D. 香港輸往中國大陸的轉口減少。

概念

40. SP.MC.Q38

若一國有經常帳赤字，

- A. 該國必定有貿易赤字。
- B. 該國的資本及金融帳必定有盈餘。
- C. 該國的外匯儲備必定會減少。
- D. 以上均正確。

交易活動→影響

41. 1991.MC.Q49

香港市民從加拿大物業中賺取的租金收入在匯返香港後

- A. 包括在香港的本地生產總值之內。
- B. 對香港的有形貿易平衡有利。
- C. 對香港的收支平衡有利。
- D. 須在香港繳稅。

42. 1991.MC.Q60

當貨物輸入香港時，以下哪一項不會受到影響？

- A. 香港的有形貿易差額
- B. 香港的經常帳
- C. 香港的資本帳
- D. 香港的外匯與黃金帳

43. 1994.MC.Q56

陳先生是本港一位輸入勞工，他將收入匯給在中國的家人。下列哪一項正確？

- A. 陳先生的收入包括在本港國民生產總值內。
- B. 該筆匯款對本港有形貿易差額不利。
- C. 該筆匯款對本港無形貿易差額有利。
- D. 該筆匯款對中國國際收支有利。

44. 1995.MC.Q56

若一美國遊客施捨金錢予本地一些乞丐，香港的本地生產總值 \_\_\_\_\_，而國際收支 \_\_\_\_\_。

- A. 會增加.....會改善
- B. 會增加.....維持不變
- C. 維持不變.....會改善
- D. 維持不變.....維持不變

45. 1998.MC.Q47

香港一家僱傭中心安排一位女傭從菲律賓來港工作。在該女傭來港之前，該中心向女傭及本港僱主分別收取佣金。下列哪一（幾）項的描述是正確的？

- (1) 香港的本地生產總值上升。
  - (2) 香港的國際收支差額有所改善。
  - (3) 香港的有形貿易差額有所改善。
- A. 只有(1)  
 B. 只有(2)  
 C. 只有(1)、(2)  
 D. (1)、(2)、(3)

46. 2005.MC.Q44

在個人遊計劃實施後，中國政府容許內地居民以個人身份到香港旅遊。這措施會增加香港的

- (1) 第三級生產。
  - (2) 本地生產總值。
  - (3) 無形貿易盈餘。
- A. 只有(1)、(2)  
 B. 只有(1)、(3)  
 C. 只有(2)、(3)  
 D. (1)、(2)、(3)

47. 2008.MC.Q48

去年某電影公司的攝製組到香港拍攝一套蝙蝠俠的電影。在香港拍攝該電影會

- (1) 改善香港的有形貿易差額。
  - (2) 改善香港的無形貿易差額。
  - (3) 增加香港的本地生產總值。
- A. 只有(1)、(2)  
 B. 只有(1)、(3)  
 C. 只有(2)、(3)  
 D. (1)、(2)、(3)

**事件→影響分析**

48. 1990.MC.Q60

下列哪一種情況不是由於建築業輸入外地熟練工人所引致的影響？

- A. 對香港的國際收支差額有利
- B. 對香港的社會服務產生壓力
- C. 香港建築工人的實質工資率增長較慢
- D. 對香港本地生產總值有利

49. 1992.MC.Q30

本地利率勁升對經濟有什麼影響？

- A. 投資增加
- B. 失業率下降
- C. 更多資金流入
- D. 貨幣供應量增加

**其他**

50. 1992.MC.Q44

以下哪一項屬於「存量」的概念？

- A. 一儲蓄存款戶口在 1991 年 12 月 31 日的結餘
- B. 香港國際收支差額
- C. 香港本地生產總值
- D. 香港總出口

51. 1996.MC.Q54

旅遊業

- (1) 只牽涉到第三級生產。
  - (2) 使一國家的本地生產總值增加。
  - (3) 收益屬於國外收入淨值。
  - (4) 收益是記錄在國家的經常帳上。
- A. 只有(1)、(3)  
 B. 只有(1)、(4)  
 C. 只有(2)、(3)  
 D. 只有(2)、(4)

52. 1998.MC.Q53

下列各句與放煙花慶祝香港回歸中國有關。哪一句是錯誤的？

- A. 人們觀看煙花匯演是一種消費行為。
- B. 香港的名義本地生產總值有所增加。
- C. 這對香港的有形貿易差額有利。
- D. 煙花匯演有機會成本，因為所花費的金錢有其他用途。

53. 2007.MC.Q49

在下列哪一種情況下，從日本輸入香港進口量會增加？

- A. 香港人的收入下降。
- B. 日本的國民收入上升。
- C. 港元兌日元的兌換率由 6.7 港元 = 100 日圓轉為 6.9 港元 = 100 日圓。
- D. 香港經濟正在復甦。

54. 2016 Q.43

下表顯示某國有關國際收支平衡的資料：

	百萬元
有形貿易	20
無形貿易	X
資本流入	70
資本流出	50

假設該國的外匯儲備上升了 30 百萬元，X 的值是多少？

- A. -70
- B. -10
- C. +10
- D. +70

55. 2018 Q44

香港旅遊發展局在 2017 年夏天籌辦了電競音樂節。有外國電競選手和韓國流行巨星參與盛會，吸引了本地觀眾及來自世界各地的遊客到場。籌辦該節目會導致

- (1) 香港的私人消費支出增加。
  - (2) 香港的服務出口增加。
  - (3) 香港的國際收支平衡逆差下降。
- A. 只有 (1)、(2)  
 B. 只有 (1)、(3)  
 C. 只有 (2)、(3)  
 D. (1)、(2) 及 (3)

一名本港億萬富翁到俄羅斯旅遊，欣賞世界盃賽事，下列哪些會包括在本港國際收支平衡的計算之內？

- (1) 他向一家本港代理為他的俄國之旅購買旅遊保險。
- (2) 他在莫斯科購買一件俄羅斯國家隊球衣做紀念品。
- (3) 他投資於俄羅斯一家球會，成為大股東。

- A. 只有 (1)、(2)
- B. 只有 (1)、(3)
- C. 只有 (2)、(3)
- D. (1)、(2) 及 (3)

答案

1.	D	11.	A	21.	A	31.	D	41.	C	51.	D
2.	C	12.	B	22.	B	32.	B	42.	C	52.	C
3.	B	13.	C	23.	D	33.	D	43.	D	53.	D
4.	B	14.	A	24.	B	34.	C	44.	C	54.	B
5.	A	15.	A	25.	B	35.	D	45.	C	55.	A
6.	D	16.	C	26.	B	36.	A	46.	D	56.	C
7.	A	17.	A	27.	A	37.	C	47.	C	57.	
8.	B	18.	C	28.	A	38.	B	48.	A	58.	
9.	B	19.	A	29.	D	39.	C	49.	C	59.	
10.	C	20.	A	30.	B	40.	B	50.	A	60.	

1. 1990.MC.Q36

下列情況會對香港的國際收支平衡帳中的經常帳有利？

- (1) 一日本遊客在海洋公園遊玩一天。
- (2) 一美資銀行在香港設立辦事處。
- (3) 香港政府從美國購入一電腦系統。
- (4) 一香港居民收取他的美國股票的股息。

- A. 只有(1)、(2)
- B. 只有(1)、(4)
- C. 只有(2)、(3)
- D. 只有(3)、(4)

2. 1990.MC.Q46

在下列哪一種情況下，國際收支差額及貿易差額均會變壞？

- A. 出口增加
- B. 轉口減少
- C. 該國對外地投資減少
- D. 該國政府對外國增加援助

3. 1990.MC.Q60

下列哪一種情況不是由於建築業輸入外地熟練工人所引致的影響？

- A. 對香港的國際收支差額有利
- B. 對香港的社會服務產生壓力
- C. 香港建築工人的實質工資率增長較慢
- D. 對香港本地生產總值有利

4. 1991.MC.Q49

香港市民從加拿大物業中賺取的租金收入在匯返香港後

- A. 包括在香港的本地生產總值之內。
- B. 對香港的有形貿易平衡有利。
- C. 對香港的收支平衡有利。
- D. 須在香港繳稅。

5. 1991.MC.Q50

下表顯示某國的國際收支帳目。

	\$億
出口	30
入口	X
流入資金	50
流出資金	60
	外匯及黃金儲備減少\$20 億

X 為何值？

- A. 10
- B. 20
- C. 30
- D. 40

6. 1991.MC.Q60

當貨物輸入香港時，以下哪一項不會受到影響？

- A. 香港的有形貿易差額
- B. 香港的經常帳
- C. 香港的資本帳
- D. 香港的外匯與黃金帳

7. 1992.MC.Q30

本地利率勁升對經濟有什麼影響？

- A. 投資增加
- B. 失業率下降
- C. 更多資金流入
- D. 貨幣供應量增加

8. 1992.MC.Q52

本地出口	\$300
轉口	\$150
入口	\$350

- A. -\$50
- B. \$100
- C. \$450
- D. \$800

## 9. 1992.MC.Q60

以下哪一項並不包括在香港國際收支的資本賬目內？

- A. 一香港市民在日本購買一間工廠。
- B. 一香港市民購買一台美國製造的電腦。
- C. 一香港市民在倫敦股票市場購買證券。
- D. 一香港市民在美國購買一所房子。

## 10. 1993.MC.Q40

於參閱下列某經濟某年的資料後，作答 1993.MC.Q40

	百萬元
私人消費開支	40
政府消費開支	10
本地固定資本形成總額	10
存貨增減	1
貨物出口總額	80
本地產品出口	70
轉口	10
貨物入口	60
服務出口	20
服務入口	30
流入的資金	30
流出的資金	15

該經濟當年的國際收支差額為：

- A. 10 百萬元
- B. 15 百萬元
- C. 20 百萬元
- D. 25 百萬元

## 11. 1994.MC.Q51

從下列資料求轉口值：

本地出口	\$500
貿易差額	\$250
入口	\$450

- A. \$50
- B. \$200
- C. \$250
- D. \$300

## 12. 1994.MC.Q55

下列哪一項對本港國際收支帳項中的經常帳有利？

- A. 一位澳門市民使用本港汽墊船公司的服務離開香港。
- B. 一位中國商人在本港地產市場投資。
- C. 一間本地銀行支付利息予一位海外存款客戶。
- D. 一間中國公司在本港發行股票。

## 13. 1994.MC.Q56

陳先生是本港一位輸入勞工，他將收入匯給在中國的家人。下列哪一項正確？

- A. 陳先生的收入包括在本港國民生產總值內。
- B. 該筆匯款對本港有形貿易差額不利。
- C. 該筆匯款對本港無形貿易差額有利。
- D. 該筆匯款對中國國際收支有利。

## 14. 1995.MC.Q54

細閱下列某經濟體系的國際收支帳：

	百萬元
貨物及服務出口	2,800
貨物及服務進口	3,200
流入資金	Z
流出資金	700
外匯及黃金儲備的增加	40

Z 值是

- A. 260。
- B. 340。
- C. 1,060。
- D. 1,140。

## 15. 1995.MC.Q56

若一美國遊客施捨金錢予本地一些乞丐，香港的本地生產總值\_\_\_\_\_，而國際收支\_\_\_\_\_。

- A. 會增加.....會改善
- B. 會增加.....維持不變
- C. 維持不變.....會改善
- D. 維持不變.....維持不變

## 16. 1996.MC.Q48

下列哪一事項不會使香港的貿易差額變壞，但卻會使它的國際收支差額變壞？

- A. 一名日本流行歌手取消他在香港舉行的音樂會。
- B. 香港某慈善機構減少對中國大陸的捐款。
- C. 美國商人減少在香港投資。
- D. 香港輸往中國大陸的轉口減少。

17. 1996.MC.Q50

下列哪一事項對香港國際收支帳中的資本帳有利？

- A. 美國一廠商購買香港某銀行發行的存款証。
- B. 美國一廠商捐款予香港某慈善機構。
- C. 香港一廠商在加拿大購買一間酒店。
- D. 香港一廠商從投資美國賺獲利息和股息。

18. 1996.MC.Q51

以下是某國際收支帳的資料：

	(以十億元為單位)
有形出口	15
有形入口	13
無形出口	8
無形入口	11
流入資金	9
流出資金	12

該國有形貿易 \_\_\_\_\_ 而國際收支 \_\_\_\_\_。

- A. 順差...順差
- B. 順差...逆差
- C. 逆差...順差
- D. 逆差...逆差

19. 1996.MC.Q54

旅遊業

- (1) 只牽涉到第三級生產。
- (2) 使一國家的本地生產總值增加。
- (3) 收益屬於國外收入淨值。
- (4) 收益是記錄在國家的經常帳上。

- A. 只有(1)、(3)
- B. 只有(1)、(4)
- C. 只有(2)、(3)
- D. 只有(2)、(4)

20. 1997.MC.Q50

參閱以下某年某經濟體系的資料回答第 197.MC.Q50 及 197.MC.Q51：

	以十億元為單位
本地出口貨物	15
轉口	8
入口貨物	20
出口勞務	7
入口勞務	4
淨資金流入	-2

有形貿易差額 (以十億元計算) 是

- A. -5
- B. -2
- C. 3
- D. 6

21. 1997.MC.Q51

國際收支差額 (以十億元計算) 是

- A. -4
- B. 0
- C. 1
- D. 4

22. 1997.MC.Q52

下列哪一項會對甲國的國際收支差額有利？

- A. 甲國國民增加在外國的投資。
- B. 甲國政府取消徵收入口關稅。
- C. 甲國國民從他們所持有的美國政府債券收取利息。
- D. 甲國政府支付費用予外國顧問公司。

23. 1998.MC.Q46

下列哪一項是香港國際收支帳中的一項無形出口？

- A. 一間日本公司在香港股市購買股票。
- B. 一位香港市民購買日本的航空公司的機票。
- C. 一位香港市民匯錢給他在日本的兒子。
- D. 一位日本遊客在香港向一位本地醫生求診。



24. 1998.MC.Q47

香港一家僱傭中心安排一位女傭從菲律賓來港工作。在該女傭來港之前，該中心向女傭及本港僱主分別收取佣金。下列哪一（幾）項的描述是正確的？

- (1) 香港的本地生產總值上升。
  - (2) 香港的國際收支差額有所改善。
  - (3) 香港的有形貿易差額有所改善。
- A. 只有(1)  
B. 只有(2)  
C. 只有(1)、(2)  
D. (1)、(2)、(3)

25. 1998.MC.Q53

下列各句與放煙花慶祝香港回歸中國有關。哪一句是錯誤的？

- A. 人們觀看煙花匯演是一種消費行為。
- B. 香港的名義本地生產總值有所增加。
- C. 這對香港的有形貿易差額有利。
- D. 煙花匯演有機會成本，因為所花費的金錢有其他用途。

26. 1999.MC.Q47

以下資料顯示某年某經濟的貿易數據：

	\$百萬元
本地貨物出口	30
轉口	40
貨物進口	50
服務輸出	60
服務輸入	80

根據以上資料，該經濟的有形貿易

- A. 順差。
- B. 逆差。
- C. 不是順差，亦非逆差。
- D. 沒有足夠資料找出答案。

27. 1999.MC.Q53

王先生是一位香港居民。他在香港工作，賺取收入。他與在中國內地居住的美玲結為夫婦。下列哪一項對香港的國際收支並無影響？

- A. 他在香港購買結婚戒指，親自送給美玲。
- B. 他經銀行匯一筆款項給美玲的父母作為聘禮。
- C. 他支付往泰國度蜜月的旅費。
- D. 他在深圳租賃一個住宅單位給美玲居住。

28. 1999.MC.Q54

在計算香港的經常帳差額時，下列哪一項並不包括入計算之內？

- A. 某美國公司對香港一間電腦公司的投資。
- B. 在香港銷售的日本汽車。
- C. 遊客在香港所觀看的一場戲劇表演。
- D. 利用香港貨櫃港口設施所處理的中國出口貨物。

29. 2000.MC.Q50

假設由國在第 1 年有國際收支赤字。在第 2 年，國際收支項目的變動如下所示：

	以十億元為單位
貨物出口	+28
服務輸出	+7
貨物進口	+35
服務輸入	+13
資金流入	+5
資金流出	+8

根據以上資料，我們可以得結論如下：

- A. 有形貿易赤字在第 2 年上升了。
- B. 有形貿易赤字在第 2 年下降了。
- C. 國際收支赤字在第 2 年上升了。
- D. 國際收支赤字在第 2 年下降了。

30. 2000.MC.Q51

下列哪一項應包括入香港經常帳差額的計算之內？

- A. 一家香港公司向英國某銀行借款所支付的利息。
- B. 一名香港居民在深圳購置一層新樓。
- C. 一名美國投資者購買\$5,000 個單位盈富基金。
- D. 一名香港作家售賣他一本新書的版權予一名台灣出版商。

31. 2001.MC.Q45

香港國際收支平衡表：

	百萬元
經常帳	72,000
本地貨物出口	-25,000
轉口	81,000
貨物進口	27,000
服務輸出	-11,000
資本及金融帳	-76,000
淨誤差及遺漏	4,000
	總額 = 0

根據上表資料，

- (1) 有形貿易赤字是 25,000 百萬元。
  - (2) 無形貿易盈餘是 81,000 百萬元。
  - (3) 該國際收支平衡表達致平衡。
- A. 只有(1)、(2)  
 B. 只有(1)、(3)  
 C. 只有(2)、(3)  
 D. (1)、(2)、(3)

32. 2002.MC.Q48

在計算香港的經常帳時，下列哪一項應包括入內？

- A. 一位香港居民向美國一家保險公司購買了人壽保險。
- B. 香港一家公司從一家英國製片商購入一套影片的版權。
- C. 一位香港居民購買一所在美國的房子。
- D. 一位香港投資者購買在美國的一家上市公司的股票。

33. 2003.MC.Q43

參閱以下某經濟在某年的資料：

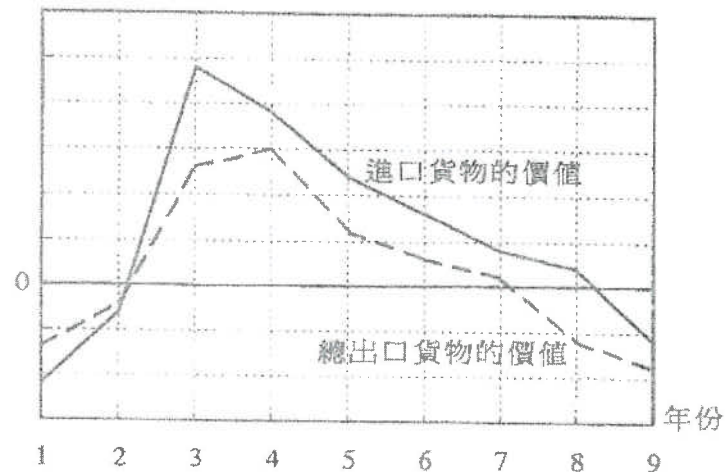
	\$10 億
本地出口貨物	20
進口貨物	50
有形貿易差額	-5

其轉口（以 10 億元為單位）為

- A. 15。
- B. 25。
- C. 30。
- D. 35。

34. 2003.MC.Q48

變動率 (%)



根據上圖，從第 4 年到第 6 年，

- A. 該經濟出現有形貿易赤字。
- B. 進口貨物的價值減少了。
- C. 總出口貨物的價值增加了。
- D. 有形貿易赤字改善了。

35. 2004.MC.Q50

王先生是一位中國內地居民，前來香港旅遊一星期。下列哪一項應被包括在香港的經常帳內？

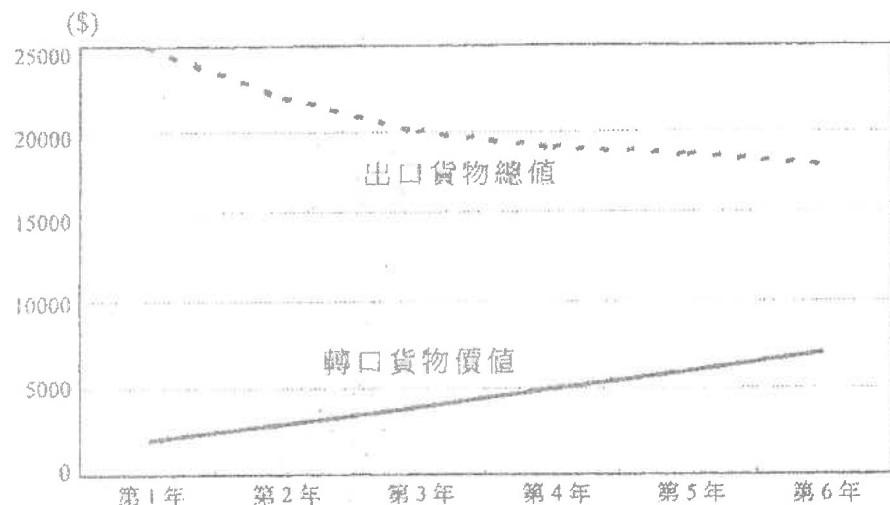
- A. 他向內地一家航空公司購買的交通服務。
- B. 他向本港一家酒店購買的住宅服務。
- C. 他購買的一所位於尖沙咀的住宅。
- D. 他購買的「中國銀行（香港）」股票。

36. 2005.MC.Q44

在個人遊計劃實施後，中國政府容許內地居民以個人身份到香港旅遊。這措施會增加香港的

- (1) 第三級生產。
  - (2) 本地生產總值。
  - (3) 無形貿易盈餘。
- A. 只有(1)、(2)  
 B. 只有(1)、(3)  
 C. 只有(2)、(3)  
 D. (1)、(2)、(3)

37. 2005.MC.Q47



根據上圖，從第 2 年到第 5 年，本地出口貨物的價值

- A. 正在減少。
- B. 正在增加。
- C. 維持不變。
- D. 未能確定。

38. 2006.MC.Q45

不少中國內地的遊客在香港迪士尼樂園購買紀念品。假設這些紀念品是在中國內地製造的。那麼上述遊客的花費是香港的一項

- A. 本地出口貨物。
- B. 轉口貨物。
- C. 出口服務。
- D. 進口服務。

39. 2006.MC.Q48

一名印尼女傭在香港為某家庭工作，將部分工資匯款至印尼。該筆匯款應記錄在香港國際收支平衡表下經常帳中哪一組成部分之內？

- A. 貨物
- B. 服務
- C. 收益
- D. 經常轉移

40. 2007.MC.Q48

參照下表某經濟某年的資料：

	億元
本地貨物出口	20
轉口	25
貨物進口	40
服務輸出	23
服務輸入	19

有形貿易差額是 \_\_\_\_\_ 億元。

- A. -20
- B. -5
- C. 5
- D. 9

41. 2007.MC.Q49

在下列哪一種情況下，從日本輸入香港進口量會增加？

- A. 香港人的收入下降。
- B. 日本的國民收入上升。
- C. 港元兌日元的兌換率由 6.7 港元 = 100 日圓轉為 6.9 港元 = 100 日圓。
- D. 香港經濟正在復甦。

42. 2007.MC.Q50

X 國的出口值增加和進口值減少會

- A. 減低它的本地生產總值。
- B. 導致它的貿易帳出現盈餘。
- C. 改善它的經常帳差額。
- D. 導致它的貨幣貶值。

43. 2008.MC.Q46

下列哪項應包括入香港無形進口的計算之內？

- A. 一名香港市民在本港股票市場購買國企股票。
- B. 一名香港市民購買中國內地航空公司的機票。
- C. 一名內地學生支付在香港一所大學學習的學費。
- D. 一名內地投資者在香港購買一間住宅。

44. 2008.MC.Q47

參閱下列某經濟某年的資料：

	億元
本地貨物出口	50
轉口	35
貨物進口	60
服務輸出	25
服務輸入	10

該經濟有\_\_\_\_\_億元的\_\_\_\_\_。

- A. 25 ... 有形貿易盈餘
- B. 10 ... 有形貿易赤字
- C. 40 ... 無形貿易盈餘
- D. 15 ... 無形貿易赤字

45. 2008.MC.Q48

去年某電影公司的攝製組到香港拍攝一套蝙蝠俠的電影。在香港拍攝該電影會

- (1) 改善香港的有形貿易差額。
- (2) 改善香港的無形貿易差額。
- (3) 增加香港的本地生產總值。

- A. 只有(1)、(2)
- B. 只有(1)、(3)
- C. 只有(2)、(3)
- D. (1)、(2)、(3)

46. 2008.MC.Q49

一名美國工程師在香港工作。下列哪筆款項應包括入香港經常帳差額的計算之中？

- A. 她薪金收入的一部分，她將該筆款項存入本港一家銀行。
- B. 她薪金收入的一部分，她將該筆款項匯給她在美國的家人。
- C. 她支出的一筆款項，那是用來購買香港股票市場上的一些國企股票。
- D. 她支出的一筆款項，那是用來購買香港一些衣物及玩具，並送了給她在美國的子孫。

47. 2009.MC.Q47

瑪麗是泰國某百貨公司的時裝採購員。她前來香港，從一家香港成衣製造商購買了價值\$300 000 的成衣。該批成衣直接由製造商運往該百貨公司。在瑪麗留港期間，她又從電器店購買了一台價值\$10 000 的個人電腦，作私人用途。

該批\$300 000 的成衣被視為香港的一項\_\_\_\_\_出口，而該台價值\$10 000 的電腦被視為香港的一項\_\_\_\_\_出口。

- A. 有形 ... 有形
- B. 有形 ... 無形
- C. 無形 ... 有形
- D. 無形 ... 無形

48. 2010.MC.Q48

參閱以下某經濟某年的貿易數據：

	十億元
貨物總出口	140
轉口	50
出口服務	33
進口貨物	72
進口服務	20

有形貿易差額是\_\_\_\_\_十億元。

- A. 68
- B. 81
- C. 118
- D. 131

49. 2010.MC.Q49

下列哪項應包括入香港無形進口的計算之中？

- A. 一位香港市民購買一場在澳門舉行的音樂會の入場券所支出的款項。
- B. 一位馬來西亞遊客為購買在香港舉辦的 2009 年東亞運動會の入場券所支出的款項。
- C. 一位香港市民捐予海地受地震影響的災民的款項。
- D. 一位香港市民透過本地一家銀行購買人民幣國債所支出的款項。

50. 2011.MC.Q48

某內地遊客在香港停留期間用了\$400 作為交通費，又在一家商店購買了價值\$2 000 的數碼相機。該筆\$400 的交通費被歸類為香港的\_\_\_\_\_出口，該部價值\$2 000 的數碼相機被歸類為香港的\_\_\_\_\_出口。

- A. 有形 ... 有形
- B. 有形 ... 無形
- C. 無形 ... 有形
- D. 無形 ... 無形

51. SP.MC.Q38

若一國有經常帳赤字，

- A. 該國必定有貿易赤字。
- B. 該國的資本及金融帳必定有盈餘。
- C. 該國的外匯儲備必定會減少。
- D. 以上均正確。

## 52. 2012.MC.Q40

下列哪項是香港經常帳中的無形進口？

- A. 一名香港旅客在北京購買門票遊覽當地的博物館。
- B. 一名內地居民在香港向醫院求診。
- C. 一名內地億萬富翁捐款予香港一間大學。
- D. 一家香港製造商向一家內地廠商購買原料。

## 53. 2014.MC.Q43

下列哪項包括在香港經常帳差額的計算之內？

- A. 一位內地投資者在香港購買一間房屋。
- B. 一位香港投資者購買一家內地上市公司發行的股票。
- C. 一位內地居民從一家內地航空公司購買前往香港的機票。
- D. 一位香港居民從一家內地保險公司購買人壽保險。

## 54. 2015.MC.Q43

一位來自美國的講師在香港已工作了 10 年。下列哪些會包括在香港經常帳差額的計算之內？

- (1) 他給予在香港的太太的款項
- (2) 他用來購買在美國股市上市的股票的款項
- (3) 他捐給非洲慈善機構的款項
- (4) 他到美國探望父母所花的款項

- A. 只有(1)、(2)
- B. 只有(1)、(4)
- C. 只有(2)、(3)
- D. 只有(3)、(4)

## 55. 2015.MC.Q44

下表顯示甲國有關國際收支平衡的一些資料。

項目	百萬元
物品差額	-1 200
服務差額	700
海外要素收入淨值	200
經常轉移淨值	-100
儲備資產上升	180

根據以上資料，下列哪些陳述是正確的？

- (1) 經常帳的赤字是 400 百萬元。
- (2) 甲國的本地生產總值小於其本地居民生產總值。
- (3) 國際收支平衡的盈餘是 180 百萬元。

- A. 只有(1)、(2)
- B. 只有(1)、(3)
- C. 只有(2)、(3)
- D. (1)、(2)、(3)

(-2015)

## 56. 2021 Q42

參考以下有關香港的統計數據。

	2020 年第一季 (按年變動)	2020 年第二季 (按年變動)
物品出口	-9.7%	-2.5%
服務出口	-37.5%	-47.5%
物品進口	-10.7%	-7.4%
服務進口	-26.2%	-44.6%

根據以上資料，我們可得出結論：

- A. 香港 2020 年第二季無形貿易出現赤字。
- B. 香港 2020 年第二季的淨出口較 2019 年第二季的為低。
- C. 香港 2020 年第二季的物品出口較 2020 年第一季的為低。
- D. 香港 2020 年第二季的物品和服務進口總值較 2019 年第二季的為低。

13MC2 答案

1.	B	11.	B	21.	D	31.	D	41.	D	51.	B
2.	B	12.	A	22.	C	32.	A	42.	C	52.	A
3.	A	13.	D	23.	D	33.	B	43.	B	53.	D
4.	C	14.	D	24.	C	34.	C	44.	A	54.	D
5.	D	15.	C	25.	C	35.	B	45.	C	55.	D
6.	C	16.	C	26.	A	36.	D	46.	B	56.	D
7.	C	17.	A	27.	A	37.	A	47.	B	57.	
8.	B	18.	B	28.	A	38.	C	48.	A	58.	
9.	B	19.	D	29.	C	39.	D	49.	A	59.	
10.	D	20.	C	30.	A	40.	C	50.	D	60.	

1. 1991.Q.3(c)

假設世界上只有兩個國家和兩種商品。兩國每年各有 20 個生產資源單位，而它們每年各用 10 個資源單位生產每一種商品，每個生產資源單位的年產量見下表：

	食物 (單位)		衣服 (單位)
甲國	6	或	12
乙國	5	或	20

- (i) 哪一國生產食物享有比較優勢？並加解釋。 (7 分)
- (ii) 根據比較優勢原理，計算兩國在作出全面專門生產後，每一商品的每年總產出分別增加多少。 (4 分)
- (iii) 我們需要哪一項資料來決定增加了的產出如何在兩國間分配？ (2 分)

2. 1992.Q.2(a)(ii),(iii),(iv)

下表顯示兩國於某年每個資源單位的產出：

	衣服 (單位)		食米 (單位)
甲國	1	或	2
乙國	3	或	4

- (i) 根據比較優勢原理，甲國應專門生產哪一種產品？試以機會成本的概念加以解釋。 (6 分)
- (ii) 如果透過貿易 10 單位的衣服可換取 18 單位的食米，解釋甲國如何從中獲利。 (4 分)
- (iii) 如果甲國生產力有所增加，該國現在可以一個資源單位生產 2 單位的衣服或 4 單位的食米，則(a)(ii)的答案會否改變？並加以解釋。 (4 分)

3. 1993.Q.2(a)

設美國及中國每單位資源的年產量如下：

	成衣 (單位)		玩具 (單位)
美國	2	或	4
中國	1	或	2

- (i) 在美國，生產一單位成衣的機會成本是甚麼？生產一單位玩具的機會成本又是甚麼？ (2 分)  
只根據上面的答案，解釋在玩具生產方面相對於中國，美國是否享有「比較優勢」。 (3 分)
- (ii) 試述「比較優勢原理」。根據該原理，解釋上述兩國能否透過專門生產及貿易而獲益。 (6 分)
- (iii) 假設中國現在可以 1 單位資源生產 2 單位成衣或 3 單位玩具，解釋上述兩國能否透過專門生產及貿易而獲益。 (5 分)

4. 1994.Q.9(c)

日本和美國的汽車及蘋果生產情況假設如下：

	一單位資源可生產	
	汽車 (單位)	蘋果 (單位)
日本	2	5
美國	1	4

設兩國並無貿易障礙。兩國貿易時 3 單位蘋果可換取 1 單位汽車。試找出兩國的比較優勢。並以每單位出口計算，求兩國在貿易中賺獲多少。解釋你的答案。 (9 分)

5. 1995.Q.8

下表顯示甲、乙兩國以一單位資源生產貨品 X 及 Y 的情形：

國家	貨品 X (單位)		貨品 Y (單位)
甲	1	或	4
乙	2	或	3

- (a)根據一項經濟原理，兩國皆可從專門生產及貿易得益。寫出該原理的名稱並描述該原理。(4分)  
 (b)若兩國皆從貿易得益，貨品 X 及 Y 的交換比率必須在一個特定範圍之內。計算該範圍。(4分)

6. 1996.Q.10(a)

下表為甲、乙兩國某年的每單位資源產出：

	衣服 (單位)		食米 (單位)
甲國	2	或	6
乙國	6	或	9

- (a) (i) 解釋哪一國家在生產衣服方面享有比較優勢。寫出你的計算步驟。(3分)  
 (ii) 設甲、乙兩國間 1 單位衣服可交換 2 單位食米。在下列各情況下，計算及解釋甲國可從貿易中獲得多少利益。  
 (i) 貿易時沒有其他費用。(3分)  
 (ii) 甲國須付運費，費用是每入口 1 單位貨品就要付出 1 單位食米。(3分)

7. 1997.Q.10(a)

以一單位資源計算，甲、乙兩國的食物及衣服產出量分列如下：

	食物 (單位)		衣服 (單位)
甲國	4	或	8
乙國	3	或	6

- (i) 解釋在該兩國之間有沒有一些可以互利的交易比率。(3分)  
 (ii) 設只是甲國享有科技發展的利益，而它現在可以一單位資源生產 5 單位食物或 20 單位衣服。  
 (i) 解釋哪一國生產食物享有比較優勢。(3分)  
 (ii) 若在兩國之間 1 單位食物可交換 3 單位衣服，計算乙國每出口一單位貨物可賺獲多少(3分)

8. 1998.Q.10(a)

假設香港、中國大陸和台灣三個經濟體系每單位資源的產出如下：

	玩具 (單位)		電腦 (單位)
香港	40	或	40
中國大陸	50	或	20
台灣	50	或	10

- (i) 計算每個經濟體系生產電腦的機會成本，然後指出哪一個經濟體系在生產電腦方面享有比較優勢。(4分)  
 (ii) 若 10 單位玩具可交換 1 單位電腦，解釋香港及中國大陸可否從貿易中得益。(6分)

9. 1999.Q.9(a)

假設法國與日本各以一單位資源生產紅酒與汽車的產出如下：

	紅酒 (單位)		汽車 (單位)
法國	4	或	2
日本	1	或	2

假設法國與日本貿易，交換率是 3 單位紅酒換 2 單位汽車。計算法國從每單位入口可賺得多少。(6分)

10. 2000.Q.11(a)

下表顯示甲、乙兩國的實際產出量，它們各用 40%的資源生產白酒，60%的資源生產衣服。

	白酒 (單位)	衣服 (單位)
甲國	1200	900
乙國	400	2400

- (i) 分別計算甲、乙兩國每生產一單位白酒的機會成本，並據此解釋兩國貿易時哪一國會出口白酒。(6分)  
 (ii) 令兩國皆無法從貿易中得益的一單位白酒的最低運輸成本(以衣服單位來表示)應是多少? 解釋你的答案。(4分)

11. 2001.Q.9(a)

假設香港和美國這兩個經濟體系，以 1 單位資源可以生產的成衣和電腦產出如下：

	成衣 (單位)		電腦 (單位)
香港	4	或	2
美國	4	或	5

- (i)計算每個經濟體系生產 1 單位成衣的機會成本。解釋哪一個經濟體系會出口成衣。(4分)  
 (ii)假設出口成衣的經濟體系每出口 1 單位成衣便要支付相等於0.5 單位電腦的運輸費用。求可使雙方皆有利的貿易比率(用以交換 1 單位成衣)的可能範圍。(3分)

12. 2002.Q.9

下表顯示甲國與乙國各自在一年內使用國內全部資源所能生產玩具及電腦的最高產量。

解釋我們可否從上表得出以下的結論：

	玩具 (單位)		電腦 (單位)
甲國	15	或	5
乙國	10	或	5

- 甲國在生產玩具方面享有  
 (a)絕對優勢，  
 (b)比較優勢。(7分)

13. 2003.Q.10(c)

假設甲、乙兩國每單位資源的紙張及汽車產量分別如下：

	紙張 (單位)		汽車 (單位)
甲國	10	或	10
乙國	15	或	30

- (i) 解釋哪一個國家製造紙張有比較優勢。計算兩國每交換 1 單位紙張總共可賺獲多少。(5 分)
- (ii) 假設 X 國是新發展國家，願意以 1 單位紙張交換 0.5 單位汽車的交換比率售賣紙張。解釋乙國會否從甲國進口紙張。(3 分)

14. 2004.Q.11(a)

假設甲經濟的資源是香港的兩倍。兩個經濟都使用全部資源來生產。以下是它們全年的最高產量。

	衣服 (單位)		汽車 (單位)
甲經濟	20	或	10
香港	12	或	3

- (i) 解釋甲經濟生產衣服是否享有絕對優勢。(3 分)
- (ii) 解釋甲經濟生產哪一種物品享有比較優勢。若兩個經濟進行貿易，5 單衣服可換取 2 單位汽車，計算甲經濟每單位出口的賺獲。(6 分)

15. 2005.Q.10(a),(b)(i),(ii)

以相同數量的資源，甲、乙兩國的手錶和電視機產量分別如下：

國家	手錶 (單位)		電視機 (單位)
甲	10	或	5
乙	20	或	15

- (a) (i) 解釋哪一國生產電視機有絕對優勢。(2 分)
- (ii) 兩國生產手錶所使用的資源數量是相同的，但兩國的手錶產量不同。列舉導致上述差異的三項可能原因。(3 分)
- (b) (i) 寫出比較優勢原理。根據此原理，解釋哪一國會出口手錶。(5 分)
- (ii) (I) 指出可使兩國皆有利的貿易比率 (用以交換 1 單位手錶) 的範圍。(2 分)
- (ii) (II) 解釋為何在此貿易比率範圍以外，兩國貿易不會是互利的。(4 分)
- (iii) 在通商時，兩國增加各自的專業化程度。解釋這會如何
- (I) 提高兩國的勞工生產力。
- (II) 減低兩國的平均生產成本。(4 分)

16. 2006.Q.8

假設甲國和乙國每單位資源的衣服產出和電腦產出如下：

	衣服 (單位)		電腦 (單位)
甲國	100	或	200
乙國	150	或	450

- (a) 解釋哪一國生產衣服享有比較優勢。(3 分)
- (b) 假設兩國貿易時，以 1 單位衣服交換 2.5 單位電腦。計算甲國在貿易中從每一單位出口賺獲多少。(2 分)

17. 2007.Q.10(b)

假設兩地各以一單位資源生產蔬菜和珠寶的產出數量如下：

	蔬菜 (單位)		珠寶 (單位)
香港	5	或	1
深圳	12	或	1

- (i) 假設兩國的交易比率是 1 單位珠寶 = 10 單位蔬菜。計算香港每輸出 1 單位出口可賺取多少。(3 分)
- (ii) 假設颱風後水浸導致深圳 1 單位資源只能生產 9 單位蔬菜。對該兩地都有利的新的交易比率範圍是甚麼？(3 分)

18. 2008.Q.7

甲國的資源數量是乙國的一半。兩國使用全部資源來生產，它們每年的最高產量如下：

	食物 (單位)		機器 (單位)
甲國	20	或	50
乙國	40	或	60

分別解釋乙國是否在生產食物方面享有

- (a) 絕對優勢。
- (b) 比較優勢。(7 分)

19. 2009.Q.10(b)

假設下表顯示中國內地及台灣每單位資源的產出。

	電腦 (單位)		玩具 (單位)
中國內地	50	或	90
台灣	200	或	250

- (i) 解釋哪一個經濟生產電腦會享有比較優勢。(4 分)
- (ii) 假設兩地在貿易時以 1 單位電腦交換 1.5 單位玩具。若出口電腦的經濟要為每單位出口支付相等於 0.2 單位玩具的運輸成本，計算並解釋這個經濟每出口 1 單位電腦的賺獲是多少。(3 分)

20. 2010.Q.10(b)

假設下表顯示香港和日本每單位資源的產出。

	藥品 (單位)		手錶 (單位)
香港	40	或	100
日本	20	或	40

- (i) 寫出比較優勢原理。(2 分)
- (ii) 根據比較優勢原理，找出對兩個經濟皆有利的交換比率 (以 1 單位藥品計算) 的範圍。(4 分)



21. 2011.Q8

下表顯示甲國及乙國每單位資源的產出。

	電腦 (單位)	或	食米 (單位)
甲國	30	或	10
乙國	20	或	10

- (a) 解釋哪國生產食米會享有比較優勢。 (3 分)
- (b) 假設兩國貿易時，以1單位食米交換2.5單位電腦。計算乙國在貿易中從每一單位出口賺獲多少。 (2 分)

22. PP.Q9

甲國和乙國擁有相同數量的資源。甲國用一半資源生產食物，而另一半資源則用來生產電腦。乙國用三分之一資源生產食物，三分之二資源則用作生產電腦。它們一年內的總產出如下：

	食物 (單位)	電腦 (單位)
甲國	100	50
乙國	200	100

解釋乙國生產食物是否有

- (a) 絕對優勢；及
- (b) 比較優勢。 (6 分)

23. 2012.Q9

甲國需要 2 工時生產一單位的恤衫而乙國則需要 1 工時。另一方面，甲國需要10工時生產一單位的手錶而乙國則需要 4 工時。假設生產恤衫和手錶唯一所需的資源是勞力。

- (a) 計算甲乙兩國生產 1 單位恤衫 (以手錶計算) 的機會成本。 (2 分)
- (b) 寫出比較優勢原理。根據此原理，解釋哪國會出口恤衫。 (3 分)
- (c) 指出在交易中能令兩國皆有利的貿易比率範圍。 (2 分)

24. 2013.Q5

甲乙兩國每單位資源可用作生產以下數量的物品：

	食物 (單位)	或	智能電話 (單位)
甲國	30	或	40
乙國	40	或	80

- (a) 解釋哪一國生產智能電話有比較優勢。 (3 分)
- (b) 假設每交易一單位智能電話的運輸成本是0.2單位食物。這兩國是否能有互利的貿易？試加解釋。 (3 分)

25. 2014.Q8

假設甲、乙兩國每單位資源可生產的紙張及手錶數量分別如下：

	紙張 (單位)	或	手錶 (單位)
甲國	12	或	3
乙國	8	或	4

- (a) 乙國會根據其比較優勢出口哪種物品？試加以解釋。 (3 分)
- (b) 假設甲國和乙國貿易，交換率是2單位手錶換5單位紙張。計算甲國從每單位進口可賺得多少。 (3 分)

26. 2015.Q7

假設甲、乙兩國用上所有資源進行生產。它們的最高產量如下表所示：

	稻米 (單位)	或	成衣 (單位)
甲國	15	或	3
乙國	8	或	4

- (a) 解釋乙國生產成衣是否擁有絕對優勢。 (2 分)
- (b) 稻米出口國出口 12 單位的稻米，換取 3 單位的成衣。計算成衣出口國的總貿易得益。列出你的步驟。 (4 分)

27. 2016.Q7

在甲國，生產每單位的成衣和每單位的玩具所需的投入分別是 6 單位和 12 單位。甲國和乙國以 2 單位成衣換取 11 單位玩具的交易比率進行貿易。

- (a) 甲國會出口哪項物品？試加以解釋。 (3 分)
- (b) 假設交易 1 單位的成衣需要 2 單位的玩具作為運輸成本，而該成本由甲國承擔。計算甲國每單位出口的得益。 (3 分)

28. 2017.Q7

甲國和乙國都是分配一半資源生產食物，而另一半資源則生產電腦。他們的總產出如下：

	食物 (單位)	電腦 (單位)
甲國	100	50
乙國	100	100

- (a) 解釋乙國是否
- (i) 在生產電腦享有絕對優勢，
- (ii) 會出口電腦。 (5 分)
- (b) 假設交換比率是 4 單位的電腦可換取 7 單位的食物。計算電腦出口國出口 16 單位電腦時的貿易得益。列示你的計算。 (3 分)

假設中國和日本生產玩具和成衣所需的勞力如下：

	1 單位玩具	1 單位成衣
中國	10 工時	2 工時
日本	8 工時	4 工時

- (a) 分別計算中國和日本生產一單位玩具的機會成本。(2分)
- (b) 算出比較優勢原理。根據原理，解釋哪個國家會出口玩具。(3分)
- (c) 假設每交易一單位玩具的運輸成本是 0.1 單位的成衣，該成本將由兩國平均分擔。指出能令兩國在交易中互利的貿易比率範圍。(2分)

30. 2019 Q8

甲國的資源是乙國的两倍。兩國均分配一半的資源生產汽車，另一半生產玩具。以下是兩國的總產出：

	汽車 (單位)	玩具 (單位)
甲國	100	100
乙國	100	60

- (a) 解釋乙國生產汽車是否享有
- (i) 絕對優勢。
- (ii) 比較優勢。(5分)
- (b) 假設交易比率是以 5 單位汽車交換 4 單位玩具。計算汽車進口國進口 10 單位汽車時的貿易得益。列示你的計算。(3分)

31. 2020 Q7

假設甲、乙兩國每單位資源的產出如下：

	玩具 (單位)	汽車 (單位)
甲國	10	或 10
乙國	20	或 10

- (a) 乙國會根據其比較優勢出口哪種物品？試加解釋。(3分)
- (b) 假設甲國和乙國進行貿易，交換比率是 5 單位的玩具可換取 4 單位的汽車。每交易 1 單位玩具的運輸費用是 0.2 單位汽車，而運費是由兩國平均分擔。計算乙國每單位出口的獲益。列示你的計算。(3分)

32. 2021 Q8

假設甲、乙兩國每單位資源的產出如下：

	稻米 (單位)	小麥 (單位)
甲國	10	或 4
乙國	6	或 3

找出能令兩國在交易中互利的貿易比率範圍。列示你的計算。

1. 1991.Q.3(c)

- (i) 甲國及乙國生產 1 單位食物的機會成本分別是 2 單位衣服及 4 單位衣服。所以，在生產食物方面，甲國享有比較優勢因為其生產食物的機會成本較低。

	專門化生產前的產量	專門化生產後的產量	得益
食物	$60 + 50 = 110$	$6 \times 20 = 120$	10
衣服	$120 + 200 = 320$	$20 \times 20 = 400$	80

- (iii) 我們要先知道兩種物品的交換比率才可決定產量得益的分配。

2. 1992.Q.2(a)(ii),(iii),(iv)

- (ii) 甲國及乙國生產 1 單位衣服的機會成本分別是 2 單位食米及  $\frac{4}{3}$  單位食米。甲國及乙國在生產 1 單位食米的機會成本分別是  $\frac{1}{2}$  單位衣服及  $\frac{3}{4}$  單位衣服。由此可見，在生產食米方面，甲國的機會成本較乙國低，所以甲國應專門生產食米。

- (iii) 生產 9 單位衣服，甲國要放棄 18 單位的食米。現在透過貿易，甲國用 18 單位食米便可換得 10 單位衣服。所以，當甲國出售 18 單位食米給乙國時，甲國便可賺取  $(10 - 9) = 1$  單位衣服。

- (iv) (a)(ii) 的答案會保持不變。因為提高的生產力只增加了生產量，並沒有改變物品的機會成本，即比較優勢維持不變。生產 1 單位食米的機會成本仍是  $\frac{1}{2}$  單位衣服；生產 1 單位衣服的機會成本仍是 2 單位食米。

## 3. 1993.Q.2(a)

- (i) 美國生產 1 單位衣服及 1 單位玩具的機會成本分別是  $\frac{4}{2} = 2$  單位玩具及  $\frac{2}{4} = 0.5$  單位衣服。只是根據以上的數據，我們不能說美國在生產玩具方面較中國有比較優勢。要決定哪國有比較優勢，我們先要計算中國生產玩具的機會成本，再比較兩國的機會成本，看看哪國生產玩具的機會成本較低。
- (ii) 比較優勢法則指出若每個國家也專門生產其機會成本比別國較低的物品，這個國家的總產量便會增加，而貿易對兩國也會有利。中國生產 1 單位衣服及 1 單位玩具的機會成本分別是  $\frac{2}{1} = 2$  單位玩具及  $\frac{1}{2}$  單位衣服。由於中美兩國生產兩種物品的機會成本相同，專門生產及進行貿易對兩國都不會有任何得益。

- (iii) 由於中國的生產力提高了，中國生產 1 單位衣服的新機會成本便是  $\frac{3}{2} = 1.5$  單位玩具，比美國的低。因此，中國應專門生產衣服，然後出口衣服。另外，由於中國生產 1 單位玩具的新機會成本是  $\frac{2}{3} = 0.67$  單位衣服，比美國的高。所以，美國應專門生產玩具，然後出口玩具。在這情況下，專門生產及貿易對兩國都有利，這是因為兩國的機會成本都不同。

## 4. 1994.Q.9(c)

日本生產 1 單位汽車及 1 單位蘋果的機會成本分別是 2.5 單位蘋果  $\frac{5}{2}$  及  $\frac{2}{5}$  單位汽車。而美國生產 1 單位汽車及 1 單位蘋果的機會成本分別是 4 單位蘋果及  $\frac{1}{4}$  單位汽車。因此，日本在生產汽車方面享有比較優勢，因為其機會成本較低；而美國在生產蘋果方面享有比較優勢，因為其機會成本較低。所以，若兩國進行專門生產及貿易，日本應出口汽車到美國。根據已供給的交換比率，而日本生產 1 單位汽車的機會成本是 2.5 單位蘋果，所以，每出口 1 單位汽車，日本便可賺取  $(3 - 2.5) = 0.5$  單位蘋果。同理，每出口 1 單位蘋果，美國便可賺取  $(\frac{1}{3} - 0.25) = 0.08$  單位汽車。

## 5. 1995.Q.8

- (a) 根據比較優勢原理，兩國皆可從專門化及貿易得益。該定律指出若每國皆專門生產它能以較低機會成本生產的物品，則貿易各國產出的總和會增加。
- (b) 甲國生產一單位貨品 X 的機會成本是 4 單位 Y，而乙國生產一單位貨品 X 的機會成本是 1.5 單位 Y。因此，欲使兩國皆從貿易得益，貨品 X 及 Y 的交換比率的特定範圍是：  
1.5 單位貨品 Y < 1 單位貨品 X < 4 單位貨品 Y

6. 1996.Q.10(a)

(a)(i) 乙國在生產衣服方面享有比較優勢。

若一個國家生產某物品的機會成本較其他國家為低時，這個國家在該項生產上便享有比較優勢。  
 在甲國，1 單位衣服的生產成本是 3 單位食米(6/2)；而在乙國，1 單位衣服的生產成本是 1.5(9/6) 單位食米。由於乙國生產衣服較甲國的成本為低，故乙國在生產衣服方面享有比較優勢。

(a)(ii)(I) 甲國每出口 1 單位食米便可賺獲 1/6 單位衣服。

通商前，甲國國內衣服的單位價是 3 單位食米，食米的單位價格是 1/3 單位衣服。通商後，1 單位食米的出口價格是 1/2 單位衣服，高於甲國的國內價。因此，甲國會出口食米。甲國每出口 1 單位食米便可賺獲  $1/6 (= 1/2 - 1/3)$  單位衣服。

(a)(ii)(II) 甲國從貿易中不會得到任何利益。

若甲國須付運費，費用是每入口 1 單位貨品就要付出 1 單位食米，則每單位衣服的人口價格將增至 3 單位食米，這等於甲國國內衣服的單位生產成本。因此，甲國不可以在貿易中得到任何利益。

7. 1997.Q.10(a)

	1單位食物的機會成本	1單位衣服的機會成本
甲國	2 單位衣服	0.5 單位食物
乙國	2 單位衣服	0.5 單位食物

該兩國之間沒有一些可以互利的交易比率。

交易比率是一個國家為要獲取 1 個單位的入口物品所必須付出的出口物品數量。互利的交易比率必須介乎兩國獲取相關物品的本地機會成本。

則兩國的機會成本必須有差距。

根據上表，兩國生產食物及衣服的本地機會成本一樣，因此兩國皆不能從交易獲取任何利益。

(a)(ii)

	1單位食物的機會成本	1單位衣服的機會成本
甲國	4 單位衣服	0.25 單位食物
乙國	2 單位衣服	0.5 單位食物

(a)(ii)(I) 乙國生產食物享有比較優勢。

比較優勢指一個國家可以較低的機會成本生產一種物品。

如上表所示，乙國生產 1 單位食物的機會成本是 2 單位的衣服，較甲國的為低 (4 單位衣服)。

(a)(ii)(II) 乙國每出口 1 單位貨物可賺獲 1 單位的衣服。

一個國家會出口它具比較優勢的物品。出口國所賺獲的相等於換取物品的數量與出口物品機會成本的差額。

乙國會出口它具比較優勢的食物。每出口 1 單位食物它可換取 3 單位衣服。與它生產食物的 2 單位衣服的本地成本比較，乙國每出口一單位食物即可賺獲 1 單位衣服。

8. 1998.Q.10(a)

(a)(i) 生產 1 單位電腦的機會成本分別如下：

- 香港：10 單位玩具 1
- 中國大陸：25 單位玩具 1
- 台灣：5 單位玩具 1
- 台灣生產電腦享有比較優勢（因為她的機會成本是三個經濟體系中最低的）。 1

(ii) 比較香港在貿易前、後的交換率： 2

香港的機會成本 (1 單位電腦可換 10 單位玩具) 與國際價格 (1 單位電腦可換 10 單位玩具) 相同，

∴ 香港不能從貿易中得益。 1

比較中國大陸在貿易前、後的交換率： 2

中國大陸生產玩具的機會成本 (生產 1 單位玩具的成本是 0.04 單位的電腦) 低於她所生產玩具的出口價 (1 單位玩具可換 0.1 單位電腦)

或

中國大陸生產電腦的機會成本 (生產 1 單位電腦的成本是 25 單位玩具) 高於電腦入口價 (出口 10 單位玩具以換取 1 單位入口電腦)

∴ 中國大陸可從貿易中得益。 1

9. 1999.Q.9(a)

法國生產汽車的成本較日本為高，∴

法國生產一單位汽車的機會成本是 2 (= 4/2) 單位紅酒， 1

而日本生產一單位汽車的機會成本是 1/2 (= 1/2) 單位紅酒。 /

法國每一單位汽車的進口價格是 1.5 (= 3/2) 單位紅酒。 1

∴ 法國應從日本進口汽車。 1

法國賺獲 = 2 單位紅酒 - 1.5 單位紅酒 = 0.5 單位紅酒 3

10. 2000.Q.11(a)

(a)(i) 甲國可生產 (1200/0.4) 單位白酒或 (900/0.6) 單位衣服。 2

∴ 甲國生產白酒的機會成本是 (900/0.6) / (1200/0.4) = 1/2 單位衣服。

乙國可生產 (400/0.4) 單位白酒或 (2400/0.6) 單位衣服。 2

∴ 乙國生產白酒的機會成本是 (2400/0.6) / (400/0.4) = 4 單位衣服。

甲國生產白酒的機會成本較低 / 有比較優勢 1

⇒ 甲國出口白酒 1

(ii) 當一單位白酒的運輸成本 ≥ 一單位白酒的兩國貿易利益總和 / 兩國國內生產 2

的機會成本的差異時，兩國皆無法從貿易中得益。

∴ 最低運輸成本 =  $\left(4 - \frac{1}{2}\right) 3\frac{1}{2}$  單位衣服 2

11. 2001.Q.9(a)

(a)(i) 在香港生產的機會成本：1G = 0.5C 1

在美國生產的機會成本：1G = 1.25C 1

香港在生產成衣方面的機會成本較低 / 有比較優勢。

∴ 香港會出口成衣。 2

(ii) 運送運費在內，貿易比率的範圍是 1C < 1G < 1.25C 3

12. 2002.Q.9

(a) 不能得出該結論，因為 1

不知兩國資源的數量。 2

- (b) 可得出該結論，因為  
 在中國，1 單位玩具的成本是  $5/15 = 1/3$  單位電腦，  
 在乙國，1 單位玩具的成本是  $5/10 = 1/2$  單位電腦，  
 ∴ 甲國生產玩具的成本較低。

13. 2003.Q.10(c)  
 (i) 甲國生產1單位紙張的機會成本是1單位汽車，而在乙國的機會成本是2單位。  
 甲國生產紙張的機會成本較低，故生產紙張有比較優勢。  
 甲、乙兩國交換1單位紙張的總賺獲是  $(2-1 = 1)$  單位汽車。  
 (ii) 否。因為在甲國，1單位紙張的機會成本是1單位汽車，而X國出售1單位紙張的價格是0.5單位汽車。  
 甲國的最低可能售價高於X國的售價。/乙國向X國購買紙張的賺獲大於向甲國購買的最高可能賺獲。

14. 2004.Q.11(a)  
 (a) (i) 否。這是因為當甲經濟和香港使用相同數量的資源生產衣服時，甲經濟的產量比香港的產量少 / 甲經濟生產衣服的生產力較香港低。

- (ii) 甲經濟生產一單位汽車的機會成本是 2 單位衣服，而香港生產一單位汽車的機會成本是 4 單位衣服。即甲經濟生產汽車的機會成本較香港低，故此甲經濟生產汽車享有比較優勢。

以 5 單位衣服可換取 2 單位汽車計算，甲經濟每單位汽車出口可賺取  $[(5/2 - 2) = ] 0.5$  單位衣服。

15. 2005.Q.10(a),(b)(i),(ii)  
 (a)(i) 乙國，因為  
 (用相同數量的資源)，乙國的產出數量較甲國多。  
 (ii) - 資源的質素不相同  
 - 教育及培訓不同  
 - 科技的發達程度不同  
 - 管理的效率有所不同 / 分工程度不同  
 - 工作環境不同  
 - 勞工福利及獎賞不同  
 - 任何其他相關點  
 [只批閱首三項。]  
 (b)(i) 比較優勢原理：若美國專業生產機會成本較低的產品，則各國產量總和會增加。  
 甲國生產 1 單位手錶的機會成本是 0.5 單位電視機。  
 乙國生產 1 單位手錶的機會成本是 0.75 單位電視機。

- (即是說：甲國生產手錶的機會成本較乙國低。)  
 故此，甲國應該生產及出口手錶。  
 (ii)(I) 貿易比率的範圍是  $0.5$  單位電視機  $<$  1單位手錶  $<$   $0.75$  單位電視機  
 (II) (一個國家須將貿易比率與國內的機會成本加以比較，以決定應出口還是進口該貨品。)  
 若甲國 (手錶出口國) 的出口價低於甲國國內的機會成本即  $0.5$  單位電視機，甲國會  
 有損失  
 或  
 若乙國 (手錶進口國) 的進口價高於乙國國內的機會成本即  $0.75$  單位電視機，乙國會  
 有損失。

16. 2006.Q.8  
 (a) 甲國生產1單位衣服的機會成本是  $\frac{200}{100} = 2$  單位電腦，  
 乙國生產1單位衣服的機會成本是  $\frac{450}{150} = 3$  單位電腦，  
 故此，甲國生產衣服享有比較優勢。  
 (b) 甲國每一單位出口賺獲  $2.5 - 2 = 0.5$  單位電腦。

17. 2007.Q.10(b)  
 (i)  $(10 - 5)$  單位蔬菜  
 $= 5$  單位蔬菜  
 (ii)  $5$  單位蔬菜  $<$   $1$  單位珠寶  $<$   $9$  單位蔬菜  
 或  
 $\frac{1}{9}$  單位珠寶  $<$   $1$  單位蔬菜  $<$   $\frac{1}{5}$  單位珠寶

18. 2008.Q.7  
 (a) 否，因為  
 他們使用同等數量的資源時，食物的產量是相同的。  
 (b) 在中國，生產食物的機會成本 = 2.5 單位機器。  
 在乙國，生產食物的機會成本 = 1.5 單位機器。  
 是，因為  
 乙國生產食物的機會成本較低。

19. 2009.Q.10(b)  
 兩地生產一單位電腦的機會成本分別為：  
 在中國內地： $(90/50 = ) 1.8$  單位玩具  
 在台灣： $(250/200 = ) 1.25$  單位玩具  
 台灣生產一單位電腦的機會成本較中國內地低，  
 所以台灣生產電腦享有比較優勢。

20. 2010.Q10(b)

- (i) 比較優勢原理：若每國專業生產它享有比較優勢的產品 / 其機會成本較低的產品，則各國產量總和會增加。 1  
1
- (ii) 在香港，生產一單位藥品的機會成本 = 2.5 單位手錶 4  
在日本，生產一單位藥品的機會成本 = 2 單位手錶  
對兩個經濟皆有利的交換比率範圍是  
2 單位手錶 < 1單位藥品 < 2.5 單位手錶

21. 2011.Q8

- (a) 在甲國，生產一單位食米的成本 = (30/10 = 3) 單位電腦 1  
在乙國，生產一單位食米的成本 = (20/10 = 2) 單位電腦 1  
∴ 乙國生產食米享有比較優勢。 1
- (b) 乙國從每一單位出口可賺取 (2.5 - 2) 單位電腦 1  
= 0.5 單位電腦 1

22. PP.Q9

- (a) 當兩國運用所有的資源生產食物或電腦時，總產出如下：

	食物	電腦	
甲國	100 x 2 = 200	50 x 2 = 100	2
乙國	200 x 3 = 600	100 x 3/2 = 150	

乙國生產食物享有絕對優勢。 1

- (b) 甲國生產一單位食物的機會成本 = 100/200 = 0.5 單位的電腦 1  
乙國生產一單位食物的機會成本 = 150/600 = 0.25 單位的電腦 1  
∴ 乙國生產食物的機會成本較低，所以享有生產食物的比較優勢。 1

23. 2012.Q9

- (a) 在甲國，生產 1 單位恤衫 (S) 的機會成本 = 0.2 手錶 (W) (1)  
在甲國，生產 1 單位恤衫 (S) 的機會成本 = 0.25 手錶 (W) (1)
- (b) 若每國專門生產機會成本較低的物品，總產出會上升。 (2)  
甲國會出口恤衫。 (1)
- (c)  $0.2W < 1S < 0.25W$  或  $4S < 1W < 5S$  (2)

24. 2013.Q5

- (a) 在甲國，生產一單位智能電話 (S) 的機會成本 = 0.75 單位食物 (F) 3  
在乙國，生產一單位智能電話 (S) 的機會成本 = 0.5 單位食物 (F)  
乙國生產智能電話有比較優勢
- (b) 是，因為每交易一單位 S 的潛在貿易得益 (0.75F - 0.5F = 0.25F) 大於運輸成本 (0.2F)。 3

25. 2014.Q8

- (a) 在甲國，生產一單位手錶 (W) 的機會成本 = 4 單位的紙張 (P)。 (3)  
在乙國，生產一單位手錶 (W) 的機會成本 = 2 單位的紙張 (P)。  
乙國會專門化生產手錶並出口手錶，因為生產手錶的機會成本較甲國低。
- (b) 貿易比率是  $1W=2.5P$ 。每進口一單位的手錶，甲國會獲益 1.5P (=4-2.5)。 (3)

26. 2015.Q7

- (a) 未能判斷，因為並不知道兩國擁有的資源數量，故未能找出兩國的生產力 (即產出/投入的比率)作比較。 (2)
- (b) 設 R=稻米及 C=成衣  
在甲國，生產每單位 C 的機會成本 =  $15R/3C = 5R$  (1)  
在乙國，生產每單位 C 的機會成本 =  $8R/4C = 2R$  (1)  
因此甲國(乙國)生產 R(C)有比較優勢。

乙國每單位貿易得益 =  $4R - 2R = 2R$

總貿易得益 =  $(4R - 2R) \times 3 = 6R$

或

換言之，乙國會是成衣生產國，生產 4C，出口 3C 以換取 12R 並保留 1C 作本國消費之用。

沒有貿易時，乙國可以自行生產 1C 和 6R。它的總貿易得益是  $6R (=12R - 6R)$ <sup>1</sup>

任何一項；  
最高：2

(-2015)

<sup>1</sup> 運用選修單元二的知識，考生可能得到不同的答案，視乎他們假設的原初貿易前的生產點。(實際上我們需要知道乙國消費者的偏好以決定乙國沒有貿易時的均衡，並找出貿易得益。)假設沒有貿易時乙國生產  $R_0$  單位稻米及  $C_0$  單位成衣。其貿易總得益為  $(12-R_0)$  單位稻米加  $(1-C_0)$  單位成衣。已知貿易比率(TOT)等於每單位的成衣交換  $4(=12/3)$ 單位的稻米，貿易的得益的總額為  $(12-R_0)/4+(1-C_0)$ 單位成衣 或  $(12-R_0)+(1-C_0) \times 4$  單位稻米。

27. 2016 Q.7

分數  
(3)

- (a) 在甲國，生產一單位成衣 (C) 的機會成本 =  $6/2 = 3$  單位玩具 (T)  
貿易比率：一單位成衣 (C) 可交易  $(1/2) = 5.5$  單位玩具 (T)  
由於生產一單位成衣的機會成本低於貿易比率，  
甲國會生產並出口成衣 (C)。

- (b) 每單位成衣出口的貿易得益 =  $5.5 - 3 = 2 = 0.5$  單位玩具 (T)

28. 2017 Q.7

分數  
(2)

- (a) (i) 不確定，若未知兩國的資源總數量，則無從計算出食物和電腦的生產力（每單位資源的產量）。

- (ii) 當兩國運用其全部資源生產食物或電腦時可生產的總產出如下：

	食物	電腦
甲國	200	100
乙國	200	200

甲國生產每單位電腦的機會成本：  
=  $200/100 = 2$  單位的食物 (1)

乙國生產每單位電腦的機會成本：  
=  $200/200 = 1$  單位的食物 (1)

乙國生產電腦的機會成本較低，所以它會生產並出口電腦。 (1)

29. 2018 Q.8

分數  
(2)

- (a) 在中國，生產每單位玩具 (T) 的機會成本 = 5 單位成衣 (C)  
在日本，生產每單位玩具 (T) 的機會成本 = 2 單位成衣 (C)

- (b) 若每個國家專門生產機會成本較低的物品，總產量會上升。  
由於日本的成本較低，日本會出口玩具。 (3)

- (c) 貿易比率的範圍： $2.05C \leq 1T < 4.95C$  (2)

30. 2019 Q.8

分數  
(2)

- (a) (i) 是。  
當乙國擁有和甲國相同數量的資源，汽車的產量會是 200 單位，  
高於甲國汽車的產量。

- (ii) 是。 (3)  
假設汽車 = C，玩具 = T  
甲國生產 1C 的機會成本 = 1T  
乙國生產 1C 的機會成本 = 0.6T  
乙國生產汽車有比較優勢。

- (b) 貿易比率：1C = 0.8T (3)  
汽車進口國（即甲國）每單位的得益 =  $1T - 0.8T = 0.2T$   
其貿易總得益 =  $0.2T \times 10 = 2T$

31. 2020 Q.7

- (a) 甲國生產每單位玩具 (T) 的機會成本 = 1C (汽車) (3)  
乙國生產每單位玩具 (T) 的機會成本 = 0.5C (汽車)  
乙國生產 T 的機會成本較低，故此它會出口 T。

- (b) 貿易比率：1T : 0.8C (3)  
貿易得益 =  $0.8C - 0.5C = 0.3C/2 = 0.2C$

**配額**

1. 1990.Q.4(c)(ii),(iii)

- (ii) 解釋美國實施配額限制如何影響香港出口往美國的成衣的品質。 (4 分)
- (iii) 解釋以下各項如何影響配額在香港的市價：
  - (I) 香港成衣的生產成本下降 (3 分)
  - (II) 美國成衣的生產成本下降 (5 分)

2. 2008.Q11(b)

從前，美國曾對進口的香港製成衣實施配額限制。但是在配額限制下，美國輸入的港製成衣價值(以美元計算)仍然上升。提出一項理由解釋為什麼會如此。 (2 分)

**關稅**

3. 1993.Q.2(c)

假如美國對中國成衣徵收很高的人口關稅，試解釋

- (i) 南韓的成衣製造商，及
  - (iii) 香港的銀行
- 會因此而得益還是受損。 (5 分)

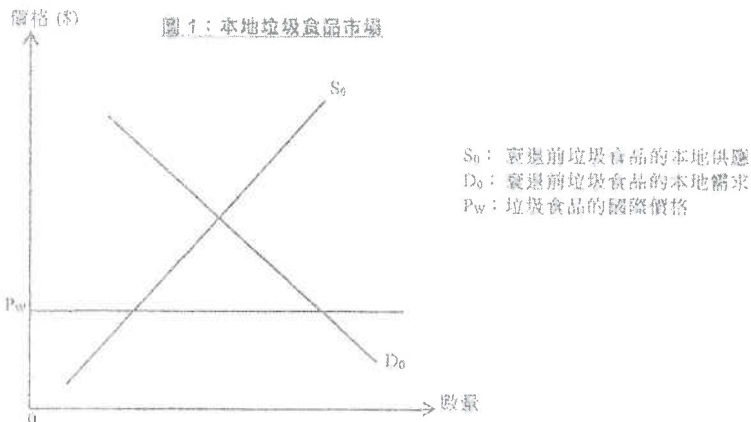
4. 2020Q10D

- (d) 美國政府可以實施配額限制進口。從美國政府的角度，舉出採用關稅而非配額以限制進口的一項優點和一項缺點。 (2 分)

5. 2021 Q9

雖然甚小型開放經濟有本地製造商生產垃圾食品，但仍有從其他國家進口該類食品。在經濟衰退期間，當地居民消費更多垃圾食品。為了改善公眾健康，政府對進口垃圾食品實施一有效的配額。

- (a) 解釋在該經濟中垃圾食品屬正常物品還是劣等物品。 (2 分)
- (b) 就經濟衰退時實施的有效配額，在圖1分別標示配額量為  $Q_A$  和最終均衡點為  $E_A$ 。 (4 分)



**配額**

1. 1990.Q.4(c)(ii),(iii)

- (ii) 香港出口到美國的成衣的質素會有所改善。這是因為限額限制了成衣的出口量。增加出口成衣的價值及出口商收入的唯一途徑是改善成衣的質素，使其能以較高的價格出售。

- (iii) (I) 當生產成本下降時，出口商的利潤會增加。他們會嘗試增加出口，此舉會引致限額在香港的需求增加及價格上升。

- (II) 美國成衣的生產成本的下降使美國成衣更具競爭力，由於美國成衣和香港成衣都是替代品，所以美國對香港成衣的需求會減少。這會引致香港成衣的售價下降，使出口商的利潤減少。他們會嘗試減少出口，此舉會引致限額在香港的需求減少及價格下降。

2. 2008.Q11(b)

港製成衣的質素有所改善。美國實施進口限額之後進口更多較高價格的港製成衣，(代替了那些面對限額問題的較低價格的港製成衣)。

2

[只批閱 首項。]

**關稅**

3. 1993.Q.2(c)

- (i) 南韓的製造商會獲利。徵收高昂的關稅會令從中國入口的成衣變得非常昂貴。由於南韓成衣與中國成衣是代替品，美國消費者會因而需求更多的南韓成衣。

- (ii) 香港的銀行會有損失。由於徵收關稅會減少中美貿易，對轉口服務 (例如保險和匯票) 和銀行的貸款的需求會減少。

(-2013)



- (d) 優點：  
= 政府能賺取關稅收入（而政府未必獲取配額租金）。 (1)

- 缺點：  
= 關稅對進口量的影響更大程度視乎彈性（而配額對進口量的影響是確定的）。 (1)

參與國際貿易的原因 / 國際貿易的好處

1. 1990.MC.Q42

一國可從貿易中得益是因為

- A. 它可以較低的機會成本獲得貨品。
- B. 它有關稅收益。
- C. 它的出口比入口多。
- D. 它專精生產享有絕對優勢的貨品。

2. 1992.MC.Q53

在以下哪一種情況下，國際貿易對一國家是有好處的？

- A. 該國出口較入口為多
- B. 該國人口較出口為多
- C. 貿易令資源運用更為有效
- D. 政府可藉貿易收取關稅

3. 1996.MC.Q47

在下列哪一種情況下，一國家會從國際貿易中得益？

- A. 專門生產它享有比較優勢的貨品。
- B. 它的出口貨品價格高於入口貨品價格。
- C. 它的出口量大於入口量。
- D. 它的入口貨品價格低於在本國生產這些貨品的單位生產成本。

4. 1999.MC.Q46

若某國專門生產及出口物品 X，這意味著：

- A. 與別國比較，該國生產物品 X 可以放棄較少其他物品。
- B. 與別國比較，該國有更多資源可以生產物品 X。
- C. 與別國比較，該國可用較少資源生產相同數量的物品 X。
- D. 與生產其他物品比較，該國可用較低成本生產物品 X。

5. 2006.MC.Q43

在自由貿易下，某國出口電腦和進口汽車。下列哪項對該國的描述必然正確？  
該國生產

- A. 汽車有絕對優勢。
- B. 電腦有絕對優勢。
- C. 汽車有比較劣勢。
- D. 每單位電腦所需資源數量較少。

絕對優勢

6. 1994.MC.Q52

設某國生產貨品 X 享有絕對優勢。下列哪一項正確？

- A. 該國生產貨品 X 有可能較另一國家的機會成本高。
- B. 用同樣資源，該國家生產貨品 X 的數量可比生產另一貨品為多。
- C. 該國生產貨品 X 亦會享有比較優勢。
- D. 該國生產另一貨品會有絕對劣勢。

7. 2006.MC.Q46

若 X 國生產任何物品的生產力都比 Y 國高，則

- A. 兩國仍可能會進行貿易。
- B. X 國從貿易中的得益較 Y 國為多。
- C. X 國生產任何物品的機會成本都比 Y 國低。
- D. 兩國不會進行貿易。

8. SP.MC.37

若甲國生產每一物品的生產力都比乙國高，

- A. 甲國在貿易中的賺獲會比乙國多。
- B. 兩國間仍可能有互惠互利的貿易。
- C. 乙國會從甲國入口每一物品，而非由自己生產。
- D. 甲國生產每一物品的機會成本可能低於乙國。

比較優勢的含義

9. 1995.MC.Q51

若一國生產 X 物品有比較優勢，

- A. 它生產 X 會有絕對優勢。
- B. 它生產某些其他物品則有比較劣勢。
- C. 它會專門生產 X 及將全部 X 產品出口往其他國家。
- D. 它會專門生產 X，不生產其他物品。

10. 1999.MC.Q48

假設中國、日本和美國的每小時產出如下：

	DVD影碟 (單位)		VCD光碟 (單位)
中國	10	或	30
日本	20	或	20
美國	30	或	50

根據上表，

- A. 美國生產兩種物品皆有比較優勢。
- B. 美國只在生產 VCD 光碟享有比較優勢。
- C. 中國只在生產 DVD 影碟享有比較優勢。
- D. 日本只在生產 DVD 影碟享有比較優勢。

11. 2000.MC.Q46

假設只有物品 X 和物品 Y。若某國生產物品 X 有比較優勢，它生產物品 Y

- A. 會有絕對優勢。
- B. 會有絕對劣勢。
- C. 也會有比較優勢。
- D. 的機會成本較高。

12. 2002.MC.Q47

考慮 X、Y 兩國間的貿易，兩者之生產成衣及電腦兩種物品。若 X 國生產成衣有比較優勢，則 X 國

- A. 每單位資源可生產成衣數量較 Y 國為多。
- B. 所生產成衣的品質較 Y 國為高。
- C. 為了生產一單位成衣所須放棄的電腦數量較 Y 國為少。
- D. 在兩國貿易中的賺獲較 Y 國的為多。

13. 2004.MC.Q45

甲、乙兩國皆生產物品 X 及 Y。在下列哪一種情況下，甲國生產 X 享有比較優勢？

- A. 一單位 X 在甲國較在乙國可換得更多 Y。
- B. 為了生產一單位 X，甲國較乙國放棄較少 Y。
- C. 甲國生產 X 的機會成本低於乙國生產 Y 的機會成本。
- D. 甲國生產一單位 X 所用的資源數量少於乙國。

14. 2008.MC.Q45

假設有甲、乙兩國。下表顯示兩國於某年每單位資源的產出。

	物品 X (單位)	或	物品 Y (單位)
甲國	3		4
乙國	3		1

由上表，甲國在生產物品\_\_\_\_\_方面有比較優勢，因為\_\_\_\_\_。

- A. Y ... 以相同數量的資源投入，甲國生產 Y 的數目較乙國為多
- B. Y ... 甲國生產 1 單位 Y 的機會成本低於生產 1 單位 X 的機會成本
- C. Y ... 甲國生產 1 單位 Y 的機會成本較乙國為低
- D. X ... 甲國生產 1 單位 X 的機會成本較乙國為低

15. 2011.MC.Q47

在下列哪種情況下，與乙國相比，甲國享有生產物品 X 的比較優勢？

- A. 若以全部資源來生產，甲國較乙國生產更多數量的物品 X。
- B. 若生產 1 單位物品 X，甲國較乙國犧牲較少數量的其他物品。
- C. 甲國的物品 X 總產量高於乙國的物品 X 總產量。
- D. 若生產 1 單位物品 X，甲國較乙國需要使用更多數量的資源。

事件與經濟原理

16. 1996.MC.Q53

下列哪一個經濟原理最能解釋為何一名城中打字最快的醫生，僱用一名打字員替他做全部打字工作？

- A. 規模經濟  
B. 比較優勢  
C. 工作多元化  
D. 報酬遞減定律

17. 1997.MC.Q48

物品 X 的生產過程涉及兩個工序。當秀麗只參與其中一個工序，而小明則只做另外一個工序，兩人的每日總產出，多於他們每人都要做兩個不同的工序的每日總產出。這現象可用下列的原因解釋：

- (1) 規模經濟  
(2) 比較優勢原理  
(3) 分工的好處  
A. 只有(1)、(2)  
B. 只有(1)、(3)  
C. 只有(2)、(3)  
D. (1)、(2)、(3)

18. 2002.MC.Q44

假設王太是某家成衣廠的獨資擁有着，她的廚藝全城最佳，但她把家中的烹飪工作全都留給女傭去做。

下列哪一項會是正確的？

- A. 該女傭在烹飪方面有比較優勢。  
B. 王太與該女傭都提供勞力服務及獲取工資。  
C. 該個案說明了複雜分工。  
D. 王太與該女傭都是第三及生產者。

判斷 絕對優勢 或 比較優勢

19. 1992.MC.Q51

參閱下表：

	玩具 (單位)	或	機器 (單位)
香港工人 每工時產出	30	或	20
美國工人 每工時產出	50	或	40

- (1) 美國生產兩種貨品都享有絕對優勢。  
(2) 美國只於生產機器時享有絕對優勢。  
(3) 香港生產玩具享有比較優勢。  
(4) 香港生產機器享有比較優勢。  
A. 只有(1)、(3)  
B. 只有(1)、(4)  
C. 只有(2)、(3)  
D. 只有(2)、(4)

20. 2004.MC.Q47

甲、乙兩國皆生產米和紅酒。假設甲國有 1 單位 資源，乙國有 2 單位資源。每國用一半資源生產每一種物品。兩國的產出如下：

	米 (單位)	及	紅酒 (單位)
甲國	6	及	9
乙國	10	及	8

下列哪一項是正確的？

- A. 根據比較優勢原理，甲國會進口紅酒。  
B. 根據比較優勢原理，乙國會進口米。  
C. 甲國生產紅酒有絕對優勢。  
D. 乙國生產米有絕對優勢。

21. 2005.MC.Q45

下表顯示甲、乙兩國生產玩具盒手錶所需的工時數目。

	1單位玩具	1單位手錶
甲國	1 工時	3 工時
乙國	2 工時	4 工時

下列哪幾項描述是正確的？

- (1) 甲國生產兩種物品都享有絕對優勢。  
(2) 甲國只於生產玩具享有絕對優勢。  
(3) 乙國生產玩具享有比較優勢。  
(4) 乙國生產手錶享有比較優勢。  
A. 只有(1)、(3)  
B. 只有(1)、(4)  
C. 只有(2)、(3)  
D. 只有(2)、(4)

22. 2010.MC.Q47

下表分別顯示X、Y兩國生產手錶及橙所需的勞力投入數量。

	手錶 (單位)	或	橙 (單位)
X 國	2 工時	或	2 工時
Y 國	4 工時	或	8 工時

根據以上資料，在手錶生產方面，\_\_\_\_\_享有絕對優勢和\_\_\_\_\_享有比較優勢。

- A. X 國 ... X 國  
B. X 國 ... Y 國  
C. Y 國 ... X 國  
D. Y 國 ... Y 國

23. PP.MC.Q39

假設甲、乙兩國只生產及消費物品 X 及物品 Y。若甲國比乙國可用較少資源生產一單位的物品 X，

- (1) 甲國生產物品 X 有絕對優勢。
  - (2) 甲國生產物品 X 有相對優勢。
  - (3) 乙國生產物品 Y 有絕對優勢。
  - (4) 乙國生產物品 Y 有相對優勢。
- A. 只有 (1)  
 B. 只有 (1) 及 (2)  
 C. 只有 (2) 及 (4)  
 D. (1)、(2)、(3) 及 (4)

**判斷出口與入口**

24. 1990.MC.Q48

下表是兩國生產兩種貨品情形：

	每單位資源可生產	
	衣服 (單位)	玩具 (單位)
X 國	10	5
Y 國	2	1

設兩國間沒有貿易障礙。

- A. X 國會出口衣服及玩具予 Y 國。
- B. X 國會出口衣服而從 Y 國入口玩具。
- C. Y 國會出口玩具而從 X 國入口衣服。
- D. 兩國皆不能從其相互貿易中得益。

25. 1991.MC.Q53

下表顯示甲、乙兩國生產兩物品 X 和 Y 所需的工時數目。

	甲國	乙國
1 單位 X	1 工時	2 工時
1 單位 Y	3 工時	4 工時

根據比較優勢原理，

- A. 甲國會出口 X 和入口 Y。
- B. 甲國會出口 Y 和入口 X。
- C. 甲國會從乙國入口 X 和 Y。
- D. 甲國會出口 X 和 Y 往乙國。

26. 1993.MC.Q52

國家	每單位資源的產出	
	小麥 (單位)	棉花 (單位)
X	2	4
Y	1	3

根據上表，X 國生產小麥的機會成本\_\_\_\_\_，Y 國生產\_\_\_\_\_享有比較優勢。因此，Y 國會從 X 國入口\_\_\_\_\_。

- A. 較低；棉花；小麥
- B. 較低；小麥；棉花
- C. 較高；小麥；小麥
- D. 較高；棉花；棉花

27. 1996.MC.Q46

下表顯示甲國與乙國分別以一單位投入獲得的產出：

	衣服 (單位)	鞋 (單位)
甲國	2	6
乙國	4	8

下列哪一(幾)項描述是正確的？

- (1) 乙國生產鞋的機會成本低於甲國。
  - (2) 乙國生產兩種貨品都享有絕對優勢。
  - (3) 若兩國可通商，乙國會出口衣服和入口鞋。
- A. 只有(1)  
 B. 只有(3)  
 C. 只有(1)、(2)  
 D. 只有(2)、(3)

28. 1997.MC.Q53

設在中國內地和在美國生產汽車和恤衫的情況如下：

	一單位資源可生產	
	汽車 (單位)	恤衫 (單位)
中國內地	1	4
美國	2	3

設香港願意以 45 單位的恤衫換取 9 單位的汽車。在自由貿易的情況下，為求獲得出口或入口一單位物品時的最大得益，

- A. 中國內地會出口恤衫往香港。
- B. 美國會出口汽車往香港。
- C. 香港會從美國入口恤衫。
- D. 中國內地會從美國入口恤衫。

29. 1998.MC.Q43

根據下表回答第 98.43 及 98.44 題。設只有兩個國家：甲國和乙國。它們各以一單位投入生產香蕉和鞋的產量如下：

	香蕉 (單位)	或	鞋 (單位)
甲國	4	或	12
乙國	2	或	4

下列哪一項描述正確？

- A. 甲國生產香蕉享有絕對及比較優勢。
- B. 甲國會出口鞋。
- C. 乙國會入口香蕉。
- D. 若 1 單位香蕉可與 4 單位鞋交換，兩國皆得益。

30. 1998.MC.Q44

每國都有 4 單位資源。在通商前，兩國都用 1 單位投入生產香蕉和 3 單位投入生產鞋。若兩國的生產都完全專門化，則兩國香蕉及鞋的總產量有什麼改變？

- A. 只有香蕉生產量會增加。
- B. 只有鞋的生產量會增加。
- C. 香蕉生產量會增加，但是鞋的生產量會減少。
- D. 香蕉和鞋的生產量皆會增加。

## 判斷出口及入口 + 貿易比率

31. 2005.MC.Q46

下表顯示甲、乙兩國生產玩具盒手錶所需的工時數目。

	1 單位玩具	1 單位手錶
甲國	1 工時	3 工時
乙國	2 工時	4 工時

根據比較優勢原理，在兩國貿易時，甲國會出口\_\_\_\_\_和進口\_\_\_\_\_，而一個令兩國皆得益的交換比率可以是 1 單位玩具等於\_\_\_\_\_。

- A. 玩具 ..... 手錶 ..... 0.4 單位手錶
- B. 玩具 ..... 手錶 ..... 2.5 單位手錶
- C. 手錶 ..... 玩具 ..... 0.4 單位手錶
- D. 手錶 ..... 玩具 ..... 2.5 單位手錶

32. 2010.MC.Q45

參閱下表回答第 2010.MC.Q45 及 2010.MC.Q46。它顯示甲、乙兩國每單位資源的玩具產量和成衣產量。

	成衣 (單位)	或	玩具 (單位)
甲國	10	或	40
乙國	5	或	10

下列哪項是正確的？

- A. 甲國生產一單位玩具所放棄的成衣數量較乙國少。
- B. 甲國生產成衣的機會成本較乙國低。
- C. 甲國生產一單位成衣所用的資源數量較乙國多。
- D. 甲國的玩具總產量較乙國高。

33. 2010.MC.Q46

兩國通商後，1 單位玩具可交換 0.4 單位成衣。根據比較優勢原理，

- A. 甲國每單位出口賺獲 0.15 單位成衣。
- B. 乙國每單位出口賺獲 0.1 單位成衣。
- C. 甲國每單位進口賺獲 2 單位玩具。
- D. 乙國每單位進口賺獲 2 單位玩具。

## 計算產出

34. 2000.MC.Q47

參閱下表回答第 2000.MC.Q47 及 2000.MC.Q48。下表顯示甲國和乙國生產 1 單位物品 X 或 1 單位物品 Y 所需的資源數目（以工時量度）。

	物品 X	物品 Y
甲國	1	2
乙國	3	4

若使用 1 單位資源，甲國可生產\_\_\_\_\_單位 X 或\_\_\_\_\_單位 Y，而乙國可生產\_\_\_\_\_單位 X 或\_\_\_\_\_單位 Y。

- A. 1 .....  $\frac{1}{2}$  .....  $\frac{1}{3}$  .....  $\frac{1}{4}$
- B. 1 ..... 2 ..... 3 ..... 4
- C. 1 .....  $\frac{1}{2}$  ..... 1 .....  $\frac{3}{4}$
- D. 2 ..... 1 .....  $\frac{3}{4}$  ..... 1

35. 2000.MC.Q48

若 1 單位 X 可與\_\_\_\_\_單位 Y 交換，兩國皆可從貿易得益。

- A. 0.5
- B. 0.6
- C. 0.75
- D. 1

36. 2001.MC.Q43

下表顯示甲國的資料，參閱下表，回答第 01.43 和 01.44 題：

	物品X (單位)		物品Y (單位)
沒有外貿時的總產量	40	和	60
有外貿時及專門生產時的總量	0	和	110
有外貿時的總消費量	50	和	80

實行專門生產後，甲國生產物品 X 減少了\_\_\_\_\_單位和生產物品 Y 增加了\_\_\_\_\_單位。由此可知，生產一單位物品 Y 的機會成本是\_\_\_\_\_單位的物品 X。

- A. 40 ... 50 ...  $\frac{4}{5}$
- B. 40 ... 50 ...  $\frac{5}{4}$
- C. 50 ... 30 ...  $\frac{3}{5}$
- D. 50 ... 30 ...  $\frac{5}{3}$

37. 2001.MC.Q44

在貿易時，甲國出口\_\_\_\_\_單位的物品 Y 和進口\_\_\_\_\_單位的物品 X。故此，交易比率是\_\_\_\_\_。

- A. 20 ... 10 ...  $1Y = \frac{1}{2}X$
- B. 20 ... 10 ...  $1Y = 2X$
- C. 30 ... 50 ...  $1Y = \frac{3}{5}X$
- D. 30 ... 50 ...  $1Y = \frac{5}{3}X$

38. 2004.MC.Q46

甲、乙兩國皆生產米和紅酒。假設甲國有 1 單位資源，乙國有 2 單位資源。每國用一半資源生產每一種物品。兩國的產出如下：

	米 (單位)		紅酒 (單位)
甲國	6	及	9
乙國	10	及	8

以1單位資源生產，

- (1) 甲國可生產 6 單位米或 9 單位紅酒。
- (2) 甲國可生產 12 單位米或 18 單位紅酒。
- (3) 乙國可生產 5 單位米或 4 單位紅酒。
- (4) 乙國可生產 10 單位米或 8 單位紅酒。

- A. 只有(1)、(3)
- B. 只有(1)、(4)
- C. 只有(2)、(3)
- D. 只有(2)、(4)

判斷 絕對優勢 或 比較優勢 + 貿易比率/產量

39. 2007.MC.Q44

甲國使用一單位資源可生產 10 單位物品 X 或 5 單位物品 Y。我們可推論

- A. 甲國生產物品 X 享有比較優勢。
- B. 甲國生產物品 Y 享有比較優勢。
- C. 若國際交換比率是  $1X = 1Y$ ，甲國有可能因出口物品 X 而得益。
- D. 若國際交換比率是  $1X = 1Y$ ，甲國有可能因出口物品 Y 而得益。

40. 2009.MC.Q46

甲國和乙國以全部資源生產成衣和皮鞋的產量如下：

	成衣 (單位)		皮鞋 (單位)
甲國	10	或	30
乙國	10	或	20

下列哪項是正確的？

- (1) 甲國生產皮鞋有絕對優勢。
- (2) 根據比較優勢原理，甲國會出口皮鞋。
- (3) 若乙國可以 1 單位成衣交換多於 2 單位皮鞋，乙國會從出口成衣中得益。

- A. 只有(1)、(2)
- B. 只有(1)、(3)
- C. 只有(2)、(3)
- D. (1)、(2)、(3)

41. 2011.MC.Q46

下表顯示甲、乙兩國分別使用所有資源生產的食物產量和成衣產量。

	食物 (單位)		成衣 (單位)
甲國	30	或	20
乙國	40	或	20

下列哪項描述是正確的？

- A. 甲國享有生產食物的比較優勢。  
 B. 若貿易比率是 1 單位成衣 = 1.2 單位食物，甲國 不會 與乙國貿易。  
 C. 乙國享有生產食物的絕對優勢。  
 D. 乙國會出口成衣。

42. 2013.MC.Q38

貿易前，泰國和日本將他們所有的資源平均分配在生產白米和電腦上，其產量如下：

	白米 (單位)		電腦 (單位)
泰國	15	及	5
日本	24	及	12

下列哪項有關以上個案的陳述是正確的？

- (1) 日本生產電腦有比較優勢  
 (2) 日本生產電腦有絕對優勢  
 (3) 當兩國完全專門化生產，白米和電腦的總產量均會增加。  
 A. 只有 (1)  
 B. 只有 (1)、(2)  
 C. 只有 (2)、(3)  
 D. (1)、(2) 及 (3)

運輸費用 / 運輸成本

43. 2007.MC.Q45

若運輸費用增加，下列哪一項對國際貿易的描述是正確的？

- A. 若出口國要負擔運輸費，出口貨品的價格會增加。  
 B. 若貿易夥伴繼續通商，他們從貿易中獲得的淨收益會維持不變。  
 C. 若運輸費用高於貿易總得益，比較優勢會消失。  
 D. 只有當運輸費用低於貿易總得益，才有可能出現互利的貿易。

未有仔細分類

44. 2015.MC.Q41

某國生產物品 X 擁有絕對優勢。下列哪項有關該國的陳述是正確的？

- A. 應用相同數量的資源，該國可生產的物品 X 數量較另一種物品多。  
 B. 該國生產物品 X 擁有比較優勢。  
 C. 該國生產另一種物品有絕對劣勢。  
 D. 該國可能從國際市場進口物品 X。

45. 2016.MC.Q41

下表顯示甲國和乙國以相同數量資源可生產的玩具或汽車的數量。

	玩具		汽車
甲國	50	或	80
乙國	20	或	60

每單位玩具的運輸成本是 0.4 單位汽車，由進口國家負擔。下列哪項是甲乙兩國之間有互利的貿易比率？

- A. 1 單位玩具 = 1.6 單位汽車  
 B. 1 單位玩具 = 2 單位汽車  
 C. 1 單位玩具 = 2.6 單位汽車  
 D. 1 單位玩具 = 3 單位汽車

14MC1 答案

1.	A	11.	D	21.	B	31.	A	41.	B
2.	C	12.	C	22.	B	32.	A	42.	A
3.	D	13.	B	23.	A	33.	A	43.	D
4.	A	14.	C	24.	D	34.	A	44.	D
5.	C	15.	B	25.	A	35.	B	45.	B
6.	A	16.	B	26.	A	36.	A	46.	
7.	A	17.	C	27.	D	37.	D	47.	
8.	B	18.	A	28.	B	38.	D	48.	
9.	B	19.	A	29.	B	39.	C	49.	
10.	D	20.	C	30.	A	40.	C	50.	

參與國際貿易的原因 / 國際貿易的好處

1. 1990.MC.Q42

一國可從貿易中得益是因為

- A. 它可以較低的機會成本獲得貨品。
- B. 它有關稅收益。
- C. 它的出口比入口多。
- D. 它專精生產享有絕對優勢的貨品。

2. 1992.MC.Q53

在以下哪一種情況下，國際貿易對一國家是有好處的？

- A. 該國出口較入口為多
- B. 該國入口較出口為多
- C. 貿易令資源運用更為有效
- D. 政府可藉貿易收取關稅

3. 1996.MC.Q47

在下列哪一種情況下，一國家會從國際貿易中得益？

- A. 專門生產它享有比較優勢的貨品。
- B. 它的出口貨品價格高於入口貨品價格。
- C. 它的出口量大於入口量。
- D. 它的入口貨品價格低於在本國生產這些貨品的單位生產成本。

4. 1999.MC.Q46

若某國專門生產及出口物品 X，這意味著：

- A. 與別國比較，該國生產物品 X 可以放棄較少其他物品。
- B. 與別國比較，該國有更多資源可以生產物品 X。
- C. 與別國比較，該國可用較少資源生產相同數量的物品 X。
- D. 與生產其他物品比較，該國可用較低成本生產物品 X。

5. 2006.MC.Q43

在自由貿易下，某國出口電腦和進口汽車。下列哪項對該國的描述必然正確？

該國生產

- A. 汽車有絕對優勢。
- B. 電腦有絕對優勢。
- C. 汽車有比較劣勢。
- D. 每單位電腦所需資源數量較少。



**絕對優勢**

6. 1994.MC.Q52

設某國生產貨品 X 享有絕對優勢。下列哪一項正確？

- A. 該國生產貨品 X 有可能較另一國家的機會成本高。
- B. 用同樣資源，該國家生產貨品 X 的數量可比生產另一貨品為多。
- C. 該國生產貨品 X 亦會享有比較優勢。
- D. 該國生產另一貨品會有絕對劣勢。

7. 2006.MC.Q46

若 X 國生產任何物品的生產力都比 Y 國高，則

- A. 兩國仍可能會進行貿易。
- B. X 國從貿易中的得益較 Y 國為多。
- C. X 國生產任何物品的機會成本都比 Y 國低。
- D. 兩國不會進行貿易。

8. SP.MC.37

若甲國生產每一物品的生產力都比乙國高，

- A. 甲國在貿易中的賺獲會比乙國多。
- B. 兩國間仍可能有互惠互利的貿易。
- C. 乙國會從甲國入口每一物品，而非由自己生產。
- D. 甲國生產每一物品的機會成本可能低於乙國。

**比較優勢的含義**

9. 1995.MC.Q51

若一國生產 X 物品有比較優勢，

- A. 它生產 X 會有絕對優勢。
- B. 它生產某些其他物品則有比較劣勢。
- C. 它會專門生產 X 及將全部 X 產品出口往其他國家。
- D. 它會專門生產 X，不生產其他物品。

10. 1999.MC.Q48

假設中國、日本和美國的每工時產出如下：

	DVD影碟 (單位)	或	VCD光碟 (單位)
中國	10	或	30
日本	20	或	20
美國	30	或	50

根據上表，

- A. 美國生產兩種物品皆有比較優勢。
- B. 美國只在生產 VCD 光碟享有比較優勢。
- C. 中國只在生產 DVD 影碟享有比較優勢。
- D. 日本只在生產 DVD 影碟享有比較優勢。

11. 2000.MC.Q46

假設只有物品 X 和物品 Y。若某國生產物品 X 有比較優勢，它生產物品 Y

- A. 會有絕對優勢。
- B. 會有絕對劣勢。
- C. 也會有比較優勢。
- D. 的機會成本較高。

12. 2002.MC.Q47

考慮 X、Y 兩國間的貿易，兩者之生產成衣及電腦兩種物品。若 X 國生產成衣有比較優勢，則 X 國

- A. 每單位資源可生產成衣數量較 Y 國為多。
- B. 所生產成衣的品質較 Y 國為高。
- C. 為了生產一單位成衣所須放棄的電腦數量較 Y 國為少。
- D. 在兩國貿易中的賺獲較 Y 國的為多。

13. 2004.MC.Q45

甲、乙兩國皆生產物品 X 及 Y。在下列哪一種情況下，甲國生產 X 享有比較優勢？

- A. 一單位 X 在甲國較在乙國可換得更多 Y。
- B. 為了生產一單位 X，甲國較乙國放棄較少 Y。
- C. 甲國生產 X 的機會成本低於乙國生產 Y 的機會成本。
- D. 甲國生產一單位 X 所用的資源數量少於乙國。

14. 2008.MC.Q45

假設有甲、乙兩國。下表顯示兩國於某年每單位資源的產出。

	物品 X (單位)	或	物品 Y (單位)
甲國	3	或	4
乙國	3	或	1

由上表，甲國在生產物品\_\_\_\_\_方面有比較優勢，因為\_\_\_\_\_。

- A. Y ... 以相同數量的資源投入，甲國生產 Y 的數目較乙國為多
- B. Y ... 甲國生產 1 單位 Y 的機會成本低於生產 1 單位 X 的機會成本
- C. Y ... 甲國生產 1 單位 Y 的機會成本較乙國為低
- D. X ... 甲國生產 1 單位 X 的機會成本較乙國為低

15. 2011.MC.Q47

在下列哪種情況下，與乙國相比，甲國享有生產物品 X 的比較優勢？

- A. 若以全部資源來生產，甲國較乙國生產更多數量的物品 X。
- B. 若生產 1 單位物品 X，甲國較乙國犧牲較少數量的其他物品。
- C. 甲國的物品 X 總產量高於乙國的物品 X 總產量。
- D. 若生產 1 單位物品 X，甲國較乙國需要使用更多數量的資源。

**事件與經濟原理**

16. 1996.MC.Q53

下列哪一個經濟原理最能解釋為何一名城中打字最快的醫生，僱用一名打字員替他做全部打字工作？

- A. 規模經濟
- B. 比較優勢
- C. 工作多元化
- D. 報酬遞減定律

17. 1997.MC.Q48

物品 X 的生產過程涉及兩個工序。當秀麗只參與其中一個工序，而小明則只做另外一個工序，兩人的每日總產出，多於他們每人都要做兩個不同的工序的每日總產出。這現象可用下列的原因解釋：

- (1) 規模經濟
- (2) 比較優勢原理
- (3) 分工的好處
- A. 只有(1)、(2)
- B. 只有(1)、(3)
- C. 只有(2)、(3)
- D. (1)、(2)、(3)

18. 2002.MC.Q44

假設王太是某家成衣廠的獨資擁有者，她的廚藝全城最佳，但她把家中的烹飪工作全都留給女傭去做。下列哪一項會是正确的？

- A. 該女傭在烹飪方面有比較優勢。
- B. 王太與該女傭都提供勞力服務及獲取工資。
- C. 該個案說明了複雜分工。
- D. 王太與該女傭都是第三及生產者。

**判斷：絕對優勢 或 比較優勢**

19. 1992.MC.Q51

參閱下表：

	玩具 (單位)	或	機器 (單位)
香港工人 每工時產出	30	或	20
美國工人 每工時產出	50	或	40

- (1) 美國生產兩種貨品都享有絕對優勢。
- (2) 美國只於生產機器時享有絕對優勢。
- (3) 香港生產玩具享有比較優勢。
- (4) 香港生產機器享有比較優勢。
- A. 只有(1)、(3)
- B. 只有(1)、(4)
- C. 只有(2)、(3)
- D. 只有(2)、(4)

20. 2004.MC.Q47

甲、乙兩國皆生產米和紅酒。假設甲國有 1 單位 資源，乙國有 2 單位資源。每國用一半資源生產每一種物品。兩國的產出如下：

	米 (單位)	及	紅酒 (單位)
甲國	6	及	9
乙國	10	及	8

下列哪一項是正確的？

- A. 根據比較優勢原理，甲國會進口紅酒。
- B. 根據比較優勢原理，乙國會進口米。
- C. 甲國生產紅酒有絕對優勢。
- D. 乙國生產米有絕對優勢。

21. 2005.MC.Q45

下表顯示甲、乙兩國生產玩具盒手錶所需的工時數目。

	1單位玩具	1單位手錶
甲國	1 工時	3 工時
乙國	2 工時	4 工時

下列哪幾項描述是正確的？

- (1) 甲國生產兩種物品都享有絕對優勢。
- (2) 甲國只於生產玩具享有絕對優勢。
- (3) 乙國生產玩具享有比較優勢。
- (4) 乙國生產手錶享有比較優勢。
- A. 只有(1)、(3)
- B. 只有(1)、(4)
- C. 只有(2)、(3)
- D. 只有(2)、(4)

22. 2010.MC.Q47

下表分別顯示X、Y兩國生產手錶及橙所需的勞力投入數量。

	手錶 (單位)	或	橙 (單位)
X 國	2 工時	或	2 工時
Y 國	4 工時	或	8 工時

根據以上資料，在手錶生產方面，\_\_\_\_\_ 享有絕對優勢和 \_\_\_\_\_ 享有比較優勢。

- A. X 國 ... X 國
- B. X 國 ... Y 國
- C. Y 國 ... X 國
- D. Y 國 ... Y 國

## 23. PP.MC.Q39

假設甲、乙兩國只生產及消費物品 X 及物品 Y。若甲國比乙國可用較少資源生產一單位的物品 X，

- (1) 甲國生產物品 X 有絕對優勢。
- (2) 甲國生產物品 X 有相對優勢。
- (3) 乙國生產物品 Y 有絕對優勢。
- (4) 乙國生產物品 Y 有相對優勢。

- A. 只有 (1)
- B. 只有 (1)、(2)
- C. 只有 (2)、(4)
- D. (1)、(2)、(3) 及 (4)

## 判斷出口與入口

## 24. 1990.MC.Q48

下表是兩國生產兩種貨品情形：

	每單位資源可生產	
	衣服 (單位)	玩具 (單位)
X 國	10	5
Y 國	2	1

設兩國間沒有貿易障礙。

- A. X 國會出口衣服及玩具予 Y 國。
- B. X 國會出口衣服而從 Y 國入口玩具。
- C. Y 國會出口玩具而從 X 國入口衣服。
- D. 兩國皆不能從其相互貿易中得益。

## 25. 1991.MC.Q53

下表顯示甲、乙兩國生產兩物品 X 和 Y 所需的工時數目。

	甲國	乙國
1 單位 X	1 工時	2 工時
1 單位 Y	3 工時	4 工時

根據比較優勢原理，

- A. 甲國會出口 X 和入口 Y。
- B. 甲國會出口 Y 和入口 X。
- C. 甲國會從乙國入口 X 和 Y。
- D. 甲國會出口 X 和 Y 往乙國。

## 26. 1993.MC.Q52

國家	每單位資源的產出	
	小麥 (單位)	棉花 (單位)
X	2	4
Y	1	3

根據上表，X 國生產小麥的機會成本\_\_\_\_\_，Y 國生產\_\_\_\_\_享有比較優勢。因此，Y 國會從 X 國入口\_\_\_\_\_。

- A. 較低；棉花；小麥
- B. 較低；小麥；棉花
- C. 較高；小麥；小麥
- D. 較高；棉花；棉花

## 27. 1996.MC.Q46

下表顯示甲國與乙國分別以一單位投入獲得的產出：

	衣服 (單位)	鞋 (單位)
甲國	2	6
乙國	4	8

下列哪一(幾)項描述是正確的？

- (1) 乙國生產鞋的機會成本低於甲國。
  - (2) 乙國生產兩種貨品都享有絕對優勢。
  - (3) 若兩國可通商，乙國會出口衣服和入口鞋。
- A. 只有(1)
  - B. 只有(3)
  - C. 只有(1)、(2)
  - D. 只有(2)、(3)

## 28. 1997.MC.Q53

設在中國內地和在美國生產汽車和恤衫的情況如下：

	一單位資源可生產	
	汽車 (單位)	恤衫 (單位)
中國內地	1	4
美國	2	3

設香港願意以 45 單位的恤衫換取 9 單位的汽車。在自由貿易的情況下，為求獲得出口或入口一單位物品時的最大得益，

- A. 中國內地會出口恤衫往香港。
- B. 美國會出口汽車往香港。
- C. 香港會從美國入口恤衫。
- D. 中國內地會從美國入口恤衫。

29. 1998.MC.Q43

根據下表回答第 98.43 及 98.44 題。設只有兩個國家：甲國和乙國。它們各以一單位投入生產香蕉和鞋的產量如下：

	香蕉 (單位)	或	鞋 (單位)
甲國	4	或	12
乙國	2	或	4

下列哪一項描述正確？

- A. 甲國生產香蕉享有絕對及比較優勢。
- B. 甲國會出口鞋。
- C. 乙國會入口香蕉。
- D. 若 1 單位香蕉可與 4 單位鞋交換，兩國皆得益。

30. 1998.MC.Q44

每國都有 4 單位資源。在通商前，兩國都用 1 單位投入生產香蕉和 3 單位投入生產鞋。若兩國的生產都完全專門化，則兩國香蕉及鞋的總產量有什麼改變？

- A. 只有香蕉生產量會增加。
- B. 只有鞋的生產量會增加。
- C. 香蕉生產量會增加，但是鞋的生產量會減少。
- D. 香蕉和鞋的生產量皆會增加。

**判斷出口及入口 + 貿易比率**

31. 2005.MC.Q46

下表顯示甲、乙兩國生產玩具盒手錶所需的工時數目。

	1單位玩具	1單位手錶
甲國	1 工時	3 工時
乙國	2 工時	4 工時

根據比較優勢原理，在兩國貿易時，甲國會出口\_\_\_\_\_和進口\_\_\_\_\_，而一個令兩國皆得益的交換比率可以是 1 單位玩具等於\_\_\_\_\_。

- A. 玩具 ... 手錶 ... 0.4 單位手錶
- B. 玩具 ... 手錶 ... 2.5 單位手錶
- C. 手錶 ... 玩具 ... 0.4 單位手錶
- D. 手錶 ... 玩具 ... 2.5 單位手錶

32. 2010.MC.Q45

參閱下表回答第2010.MC.Q45及2010.MC.Q46。它顯示甲、乙兩國每單位資源的玩具產量和成衣產量。

	成衣 (單位)	或	玩具 (單位)
甲國	10	或	40
乙國	5	或	10

下列哪項是正確的？

- A. 甲國生產一單位玩具所放棄的成衣數量較乙國少。
- B. 甲國生產成衣的機會成本較乙國低。
- C. 甲國生產一單位成衣所用的資源數量較乙國多。
- D. 甲國的玩具總產量較乙國高。

33. 2010.MC.Q46

兩國通商後，1 單位玩具可交換 0.4 單位成衣。根據比較優勢原理，

- A. 甲國每單位出口賺獲 0.15 單位成衣。
- B. 乙國每單位出口賺獲 0.1 單位成衣。
- C. 甲國每單位進口賺獲 2 單位玩具。
- D. 乙國每單位進口賺獲 2 單位玩具。

**計算產出**

34. 2000.MC.Q47

參閱下表回答第 2000.MC.Q47 及 2000.MC.Q48。下表顯示甲國和乙國生產 1 單位物品 X 或 1 單位物品 Y 所需的資源數目 (以工時量度)。

	物品 X	物品 Y
甲國	1	2
乙國	3	4

若使用 1 單位資源，甲國可生產 \_\_\_\_\_ 單位 X 或 \_\_\_\_\_ 單位 Y，而乙國可生產 \_\_\_\_\_ 單位 X 或 \_\_\_\_\_ 單位 Y。

- A. 1 ...  $\frac{1}{2}$  ...  $\frac{1}{3}$  ...  $\frac{1}{4}$
- B. 1 ... 2 ... 3 ... 4
- C. 1 ...  $\frac{1}{2}$  ... 1 ...  $\frac{3}{4}$
- D. 2 ... 1 ...  $\frac{3}{4}$  ... 1

35. 2000.MC.Q48

若 1 單位 X 可與 \_\_\_\_\_ 單位 Y 交換，兩國皆可從貿易得益。

- A. 0.5
- B. 0.6
- C. 0.75
- D. 1

36. 2001.MC.Q43

下表顯示甲國的資料，參閱下表，回答第 01.43 和 01.44 題：

	物品X (單位)		物品Y (單位)
沒有外貿時的總產量	40	和	60
有外貿時及專門生產時的總量	0	和	110
有外貿時的總消費量	50	和	80

實行專門生產後，甲國生產物品 X 減少了\_\_\_\_\_單位和生產物品 Y 增加了\_\_\_\_\_單位。由此可知，生產一單位物品 Y 的機會成本是\_\_\_\_\_單位的物品 X。

- A. 40 ... 50 ...  $\frac{4}{5}$
- B. 40 ... 50 ...  $\frac{5}{4}$
- C. 50 ... 30 ...  $\frac{3}{5}$
- D. 50 ... 30 ...  $\frac{5}{3}$

37. 2001.MC.Q44

在貿易時，甲國出口\_\_\_\_\_單位的物品 Y 和進口\_\_\_\_\_單位的物品 X。故此，交易比率是\_\_\_\_\_

- A. 20 ... 10 ...  $1Y = \frac{1}{2}X$
- B. 20 ... 10 ...  $1Y = 2X$
- C. 30 ... 50 ...  $1Y = \frac{3}{5}X$
- D. 30 ... 50 ...  $1Y = \frac{5}{3}X$

38. 2004.MC.Q46

甲、乙兩國皆生產米和紅酒。假設甲國有 1 單位資源，乙國有 2 單位資源。每國用一半資源生產每一種物品。兩國的產出如下：

	米 (單位)		紅酒 (單位)
甲國	6	及	9
乙國	10	及	8

以 1 單位資源生產，

- (1) 甲國可生產 6 單位米或 9 單位紅酒。
- (2) 甲國可生產 12 單位米或 18 單位紅酒。
- (3) 乙國可生產 5 單位米或 4 單位紅酒。
- (4) 乙國可生產 10 單位米或 8 單位紅酒。
- A. 只有(1)、(3)
- B. 只有(1)、(4)
- C. 只有(2)、(3)
- D. 只有(2)、(4)

判斷 絕對優勢 或 比較優勢 + 貿易比率/產量

39. 2007.MC.Q44

甲國使用一單位資源可生產 10 單位物品 X 或 5 單位物品 Y。我們可推論

- A. 甲國生產物品 X 享有比較優勢。
- B. 甲國生產物品 Y 享有比較優勢。
- C. 若國際交換比率是  $1X = 1Y$ ，甲國有可能因出口物品 X 而得益。
- D. 若國際交換比率是  $1X = 1Y$ ，甲國有可能因出口物品 Y 而得益。

40. 2009.MC.Q46

甲國和乙國以全部資源生產成衣和皮鞋的產量如下：

	成衣 (單位)		皮鞋 (單位)
甲國	10	或	30
乙國	10	或	20

下列哪項是正確的？

- (1) 甲國生產皮鞋有絕對優勢。
- (2) 根據比較優勢原理，甲國會出口皮鞋。
- (3) 若乙國可以 1 單位成衣交換多於 2 單位皮鞋，乙國會從出口成衣中得益。
- A. 只有(1)、(2)
- B. 只有(1)、(3)
- C. 只有(2)、(3)
- D. (1)、(2)、(3)

41. 2011.MC.Q46

下表顯示甲、乙兩國分別使用所有資源生產的食物產量和成衣產量。

	食物 (單位)		成衣 (單位)	
甲國	30	或	20	
乙國	40	或	20	

下列哪項描述是正確的？

- A. 甲國享有生產食物的比較優勢。
- B. 若貿易比率是 1 單位成衣 = 1.2 單位食物，甲國 不會 與乙國貿易。
- C. 乙國享有生產食物的絕對優勢。
- D. 乙國會出口成衣。

42. 2013.MC.Q38

貿易前，泰國和日本將他們所有的資源平均分配在生產白米和電腦上，其產量如下：

	白米 (單位)		電腦 (單位)	
泰國	15	及	5	
日本	24	及	12	

下列哪項有關以上個案的陳述是正確的？

- (1) 日本生產電腦有比較優勢
  - (2) 日本生產電腦有絕對優勢
  - (3) 當兩國完全專門化生產，白米和電腦的總產量均會增加。
- A. 只有 (1)
  - B. 只有 (1)、(2)
  - C. 只有 (2)、(3)
  - D. (1)、(2) 及 (3)

**運輸費用 / 運輸成本**

43. 2007.MC.Q45

若運輸費用增加，下列哪一項對國際貿易的描述是正確的？

- A. 若出口國要負擔運輸費，出口貨品的價格會增加。
- B. 若貿易夥伴繼續通商，他們從貿易中獲得的淨收益會維持不變。
- C. 若運輸費用高於貿易總得益，比較優勢會消失。
- D. 只有當運輸費用低於貿易總得益，才有可能出現互利的貿易。

**未有仔細分類**

44. 2015.MC.Q41

某國生產物品 X 擁有絕對優勢。下列哪項有關該國的陳述是正確的？

- A. 運用相同數量的資源，該國可生產的物品 X 數量較另一種物品多。
- B. 該國生產物品 X 擁有比較優勢。
- C. 該國生產另一種物品有絕對劣勢。
- D. 該國可能從國際市場進口物品 X。

(-2015)

**14MC1 答案**

1.	A	11.	D	21.	B	31.	A	41.	B
2.	C	12.	C	22.	B	32.	A	42.	A
3.	D	13.	B	23.	A	33.	A	43.	D
4.	A	14.	C	24.	D	34.	A	44.	D
5.	C	15.	B	25.	A	35.	B	45.	
6.	A	16.	B	26.	A	36.	A	46.	
7.	A	17.	C	27.	D	37.	D	47.	
8.	B	18.	A	28.	B	38.	D	48.	
9.	B	19.	A	29.	B	39.	C	49.	
10.	D	20.	C	30.	A	40.	C	50.	

## 可獲利的貿易比率範圍

1. 1994.MC.Q53

下列顯示兩國生產兩種貨品的情況：

	一單位資源可生產	
	時鐘	玩具
甲國	2	或 4
乙國	6	或 8

若貿易時 1 單位時鐘可換取 2 單位玩具，

- A. 甲、乙兩國會從貿易中得益。  
 B. 甲、乙兩國不會從貿易中得益。  
 C. 甲國不能從貿易中得益。  
 D. 乙國不能從貿易中得益。

2. 2002.MC.Q45

下表顯示甲、乙兩國每單位資源產出 X 及 Y 的數量：

物品 \ 國家	X (單位)		Y (單位)
甲	1	或	3
乙	2	或	4

下列那項貿易比率可使兩國從貿易中互利？

- A.  $1X = 2Y$   
 B.  $1X = 3Y$   
 C.  $2X = 5Y$   
 D. 以上答案皆正確。

3. 2003.MC.Q46

參閱下表，通商前，甲國和乙國各自將全部資源平均分配，以生產 X 物品和 Y 物品。兩國的實質產出如下圖所示：

	X 物品 (單位)		Y 物品 (單位)
甲國	100	和	250
乙國	100	和	50

每交易 1 單位 Y 物品，每國都要付出相等於 0.5 單位 X 物品的運費，則下列哪一項是互利的交易比率？

- A.  $1Y = 0.5X$   
 B.  $1Y = 1X$   
 C.  $1Y = 1.5X$   
 D.  $1Y = 2X$

4. 2007.MC.Q46

下表分別顯示甲、乙兩國生產物品 X 及物品 Y 所需要的資源數量。

	1 單位物品 X	1 單位物品 Y
甲國	20 單位	25 單位
乙國	10 單位	25 單位

下列哪一項是互利的交換比率？

- A.  $1X = 0.4 Y$   
 B.  $1X = 0.5 Y$   
 C.  $1X = 0.8 Y$   
 D.  $1X = 0.9 Y$

## 計算賺獲 / 得益

5. 1995.MC.Q52

設甲國用一單位資源可生產 1 單位 X 或 3 單位 Y。若在對外貿易時 1 單位 X 可換取 2 單位 Y，甲國會出口\_\_\_\_\_及從每單位出口中賺獲\_\_\_\_\_。

- A. X.....1 單位 Y  
 B. X.....1/6 單位 Y  
 C. Y.....1 單位 X  
 D. Y.....1/6 單位 X

6. 2001.MC.Q42

甲國生產 1 單位食物的機會成本是 3 單位的成衣。當甲國與乙國通商時，它每出口 0.2 單位食物便可換取 1 單位進口成衣。若甲國出口 10 單位食物往乙國，則甲國的貿易總得益是

- A. 20 單位的成衣。  
 B. 30 單位的成衣減去 10 單位的食物。  
 C. 50 單位的成衣。  
 D. 50 單位的成衣減去 10 單位的食物。

7. PP.MC.Q40

下表顯示甲、乙兩國每單位資源的產出：

	平板電腦 (單位)	手提電話 (單位)
甲國	8	12
乙國	10	30

若甲國出口 10 單位的平板電腦至乙國，以換取 25 單位的手提電話，甲國的貿易總得益是\_\_\_\_\_單位的手提電話。

- A. 1  
 B. 5  
 C. 6.667  
 D. 10

8. 2012.MC.Q57

下表顯示甲、乙兩國一單位的資源可生產玩具或成衣的數量。

	玩具 (單位)	成衣 (單位)
甲國	10	10
乙國	4	10

若貿易比率是2單位成衣 = 1單位玩具，

- A. 甲國每一單位進口可獲利5單位玩具。
- B. 甲國每一單位出口可獲利0.6單位成衣。
- C. 乙國每一單位進口可獲利0.5單位成衣。
- D. 乙國會出口玩具，每一單位出口可獲利0.6單位成衣。

9. 2013.MC.Q39

貿易前，泰國和日本將他們所有的資源平均分配在生產白米和電腦上，其產量如下：

	白米 (單位)		電腦 (單位)	
泰國	15	及	5	
日本	24	及	12	

假設貿易比率是 1 單位電腦 = 2.4 單位白米，而出口電腦的國家每單位出口須支付 0.1 單位白米的運輸成本。當該國出口5單位的電腦，該國的淨得益是 \_\_\_\_\_ 單位白米。

- A. 1.5
- B. 2
- C. 2.5
- D. 3

概念

10. 1998.MC.Q45

X 國與 Y 國相比，若 X 國在每一種物品的生產上都能用較少資源生產出相同的數量，則

- A. 在 X 國與 Y 國之間，並不存在對雙方都有利的交易比率。
- B. Y 國仍可能以較低機會成本生產部分物品。
- C. 兩國仍可能基於絕對優勢而通商。
- D. X 國在所有物品上都享有比較優勢。

11. 2012.MC.Q38

兩國對某物品進行貿易。假設我們知道兩國各自生產該物品的機會成本，在不知道貿易比率的情況下，我們可以判斷

- (1) 貿易比率的可能範圍。
  - (2) 兩國交易一單位該物品各自的總得益。
  - (3) 兩國交易一單位該物品的總得益。
- A. 只有(1)、(2)
  - B. 只有(1)、(3)
  - C. 只有(2)、(3)
  - D. (1)、(2) 及 (3)

綜合

12. 2003.MC.Q45

參閱下表，通商前，甲國和乙國各自將全部資源平均分配，以生產 X 物品和 Y 物品。兩國的實質產出如下圖所示：

	X 物品 (單位)		Y 物品 (單位)
甲國	100	和	250
乙國	100	和	50

下列哪一項關於上述兩國的描述是正確的？

- A. 乙國生產 Y 物品有比較優勢。
- B. 甲國可以較少資源生產同樣數量的 Y 物品。
- C. 若每交易單位 X 物品的運費是 2 單位 Y 物品，則通商不會對兩國都有利。
- D. 每交易 1 單位 X 物品，甲國比乙國賺得更多。

13. 2006.MC.Q44

甲、乙兩國每單位投入的DVD光碟產量及MP3播放機產量分別如下：

	DVD光碟 (單位)		MP3播放機 (單位)	
甲國	10	或	30	
乙國	8	或	12	

若兩國都有3單位投入，並根據比較優勢原理作完全專業化生產，則兩國的總產量是 \_\_\_\_\_ 單位DVD光碟和 \_\_\_\_\_ 單位MP3播放機。

- A. 24 ... .. 36
- B. 24 ... .. 90
- C. 30 ... .. 36
- D. 30 ... .. 90

14. 2014.MC.Q41

下表顯示甲、乙兩國生產物品X、Y時所需的工作時數。

	一單位物品X	一單位物品Y
甲國	10單位	25單位
乙國	5單位	15單位

當貿易比率是 \_\_\_\_\_，甲、乙兩國之間的貿易是互惠互利的。

- A.  $1X = 0.35Y$
- B.  $1X = 0.4Y$
- C.  $1X = 1.25Y$
- D.  $1X = 2.75Y$



15. 2015.MC.Q40

假設日本和香港生產電腦和玩具須投入的勞力如下所示：

	1 單位電腦	1 單位玩具
日本	2 工時	6 工時
香港	4 工時	8 工時

假設沒有運輸費用。要使日本和香港均可從貿易得益，下列哪項是可能的貿易比率？

- A. 1 單位電腦交換 0.4 單位玩具
- B. 1 單位電腦交換 0.5 單位玩具
- C. 1 單位電腦交換 1 單位玩具
- D. 1 單位電腦交換 2.5 單位玩具

16. 2016 Q41

下表顯示甲國和乙國以相同數量的資源可生產的玩具或汽車的數量。

	玩具	或	汽車
甲國	50	或	80
乙國	20	或	60

每單位玩具的運輸成本是 0.4 單位汽車，由進口國家負擔。下列哪項是甲乙兩國之間有互利的貿易比率？

- A. 1 單位玩具 = 1.6 單位汽車
- B. 1 單位玩具 = 2 單位汽車
- C. 1 單位玩具 = 2.6 單位汽車
- D. 1 單位玩具 = 3 單位汽車

17. 2017 Q43

下表顯示甲國和乙國生產玩具和手錶所需的工時：

	每單位玩具	每單位手錶
甲國	4	8
乙國	5	20

假設每單位玩具的運輸成本是 0.1 單位手錶，並且由出口國家負擔。下列哪項是甲乙兩國互利的貿易比率？

- A. 1 單位玩具 = 0.5 單位手錶
- B. 1 單位玩具 = 0.4 單位手錶
- C. 1 單位玩具 = 2.5 單位手錶
- D. 1 單位玩具 = 6 單位手錶

18. 2018 Q43

下表顯示甲、乙兩國每單位資源的產出：

	電腦 (單位)	或	稻米 (單位)
甲國	16	或	16
乙國	12	或	3

假設電腦生產國出口 10 單位的電腦以換取 5 單位的稻米。電腦進口國的貿易總得益是多少？

- A. 0.5 單位的電腦
- B. 1 單位的電腦
- C. 2.5 單位的電腦
- D. 5 單位的電腦

19. 2019 Q42

下表顯示在甲、乙兩國各以 1 單位資源可生產物品的數量：

	物品 X (單位)	或	物品 Y (單位)
甲國	8	或	12
乙國	2	或	4

假設一單位物品 X 的運輸成本是 0.2 單位物品 Y，並由出口國承擔。下列哪項是甲、乙兩國互利的貿易比率？

- A. 一單位物品 X = 1.3 單位物品 Y
- B. 一單位物品 X = 1.7 單位物品 Y
- C. 一單位物品 X = 1.8 單位物品 Y
- D. 一單位物品 X = 2.6 單位物品 Y

20. 2021 Q43

甲、乙兩國只生產玩具和電腦。下表顯示甲、乙兩國生產玩具和電腦所需的投入數量。

	每單位的玩具	每單位的電腦
甲國	2	5
乙國	2	2

根據以上資料，下列哪項陳述是正確的？

- A. 相對乙國，甲國生產電腦有絕對優勢。
- B. 乙國生產兩種物品均沒有比較優勢，因為它生產玩具的機會成本與生產電腦的相等。
- C. 若交易 1 單位玩具需要 1 單位的電腦作為運輸費用，則互利貿易沒有可能出現。
- D. 由於該兩國生產玩具的生產力相等，所以沒有可能出現互利貿易。

14MC2 答案

1.	C	11.	B
2.	C	12.	C
3.	B	13.	B
4.	B	14.	A
5.	D	15.	A
6.	A	16.	B
7.	D	17.	B
8.	C	18.	D
9.	A	19.	C
10.	B	20.	C

保護主義及有關措施

1. 1991.MC.Q54

以下哪一項被歸類為「保護主義」的措施？

- A. 政府對與入口競爭的本地行業給予津貼。
- B. 政府對本地製造及入口的飲料同樣徵收銷售稅。
- C. 政府禁售香煙予少年人。
- D. 政府支持國際協議保護大象，禁止象牙貿易。

2. 1992.MC.Q54

「在我們國家有大量紡織工人失業。我們應該用盡各種方法減少從外國輸入紡織品。」在以上的句子裏，保護主義的論據為

- A. 保護初階工業。
- B. 保護本地紡織工人。
- C. 保護紡織品的質素。
- D. 保護本地消費者。

關稅

3. 1991.MC.Q52

對一物品徵收入口關稅會

- A. 助長互利貿易。
- B. 消除兩國間的成本差異，因而助長公平競爭。
- C. 對本地消費者有利。
- D. 增加這物品的本地生產。

4. 1992.MC.Q55

以下哪一項是入口附加稅由 5%增至 10%的必然結果？

- A. 入口數量更多
- B. 支付予外國出口商的金額減少
- C. 入口附加稅的稅收增加
- D. 本地替代品的消費下降

5. 1997.MC.Q11

若一個家對入口電腦徵收從量關稅，令入口電腦的數量減半，則

- (1) 該國的關稅收益會增加。
- (2) 本土生產的電腦的需求會增加。
- (3) 貿易易差額會改善。

- A. 只有(1)、(2)
- B. 只有(1)、(3)
- C. 只有(2)、(3)
- D. (1)、(2)、(3)

6. 1999.MC.Q49

考慮甲、乙兩國之間的貿易。假設甲國對從乙國進口的物品增收從量關稅，則

- A. 甲國由於進口價格上升，它的進口總值會上升。
- B. 甲國由於進口價格下降，它的進口總值會下跌。
- C. 甲國由於上述關稅的增加，它的關稅收益會增加。
- D. 乙國由於出口數量下降，它的出口總值會下降。

7. 2002.MC.Q46

現在中國已成為世界貿易組織會員，中國政府須將進口的從量稅削減。結果是：在中國，

- A. 政府的進口稅收會減少，但進口量會增加。
- B. 進口供應會增加，但進口貨的本地價格會下降。
- C. 進口供應會增加，但進口價值會減少。
- D. 進口需求及進口量均會增加。

8. 2003.MC.Q6

若某國減低徵收進口成衣的從量關稅，則該國

- A. 對進口成衣的需求會增加。
- B. 消費者在進口成衣方面的支出會增加。
- C. 成衣生產者的銷售收益會減少。
- D. 從進口成衣收取的關稅收益會減少。

9. 2007.MC.Q47

中國對棉花徵收從量關稅。若中國政府減少棉花進口的從量關稅，

- A. 棉花會更加短缺。
- B. 棉花的進口總值（不包括關稅）會增加。
- C. 棉花的進口量會減少。
- D. 關稅收益會減少。

配額

10. 1994.MC.Q54

對一人口物品實施限額政策會

- A. 使它的質素下降。
- B. 使入口國消費者得益。
- C. 使入口國貿易差額惡化。
- D. 鼓勵與該入口物品競爭的本國工業提高生產

11. 1995.MC.Q53

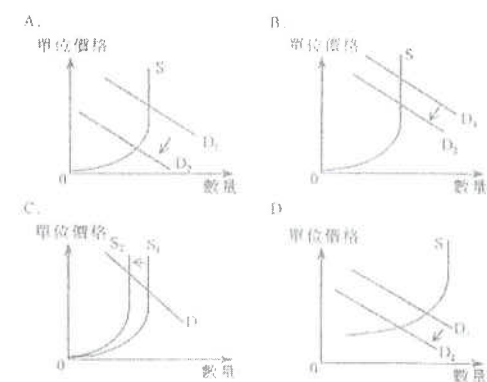
若一國對進口貨實施有效的配額限制，則下列哪種情況會在該國發生？

- A. 本國生產的物品的質素會改善。
- B. 進口貨的質素會下降。
- C. 進口貨的供應彈性會增加，及本國消費者會花費較多金錢於進口貨上。
- D. 若進口貨的需求缺乏彈性，本國消費者會花費較多金錢於進口貨上。

12. 1999.MC.Q45

新聞報道謂由於與亞洲其他國家競爭激烈，香港成衣的美國進口配額使用量下降，導致首次出現一些配額沒有人使用的情況。

下列哪一幅圖正確顯示上述香港出口成衣在美國市場裏的情況？



13. 2000.MC.Q49

假設美國政府將香港成衣出口往美國的配額減少。此舉會導致

- A. 在美國的香港成衣出現短缺現象。
- B. 美國成衣製造商的收入增加。
- C. 美國貿易差額出現盈餘。
- D. 美國消費者購買香港成衣的支出減少。

14. 2005.MC.Q48

若美國政府對進口的香港紡織品取消有效配額限制，則香港紡織品輸往美國的進口價格會\_\_\_\_\_，而美國購買香港紡織品的進口支出會\_\_\_\_\_。

- A. 上升 ..... 增加
- B. 上升 ..... 未能確定
- C. 下降 ..... 增加
- D. 下降 ..... 未能確定

**關稅 vs. 配額**

15. 1993.MC.Q53

中國認為採用配額比採用關稅來限制入口數量較為適當。下列哪一項是這種想法的可能原因？

- A. 政府希望增加稅收。
- B. 配額對入口數量有較明確的影響。
- C. 本地消費者可享用較廉價的入口。
- D. 可減低出口國對中國的報復。

16. 2009.MC.Q48

下列哪項是向進口實施配額限制而非徵收關稅的一項好處？

- A. 進口數量能更有效受到控制。
- B. 進口價值能更有效地減少。
- C. 本地消費者可以較低價格購買進口貨。
- D. 遭到貿易夥伴報復的機會較低。

**其他 / 未有仔細分類**

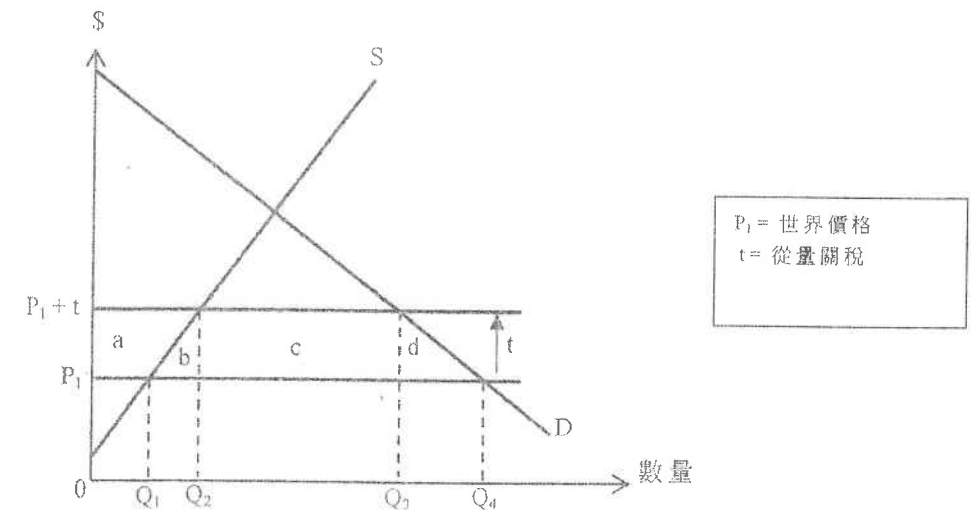
17. 2004.MC.Q48

下列哪項會增加一國的出口數量？

- (1) 提高進口關稅
  - (2) 本國貨幣貶值
  - (3) 本國貨幣升值
  - (4) 貿易夥伴國的收入增加
- A. 只有(1)、(2)
  - B. 只有(1)、(3)
  - C. 只有(2)、(4)
  - D. 只有(3)、(4)

18. 2014.MC.Q45 [刪去答案C]

下圖顯示一小型開放經濟對某物品開徵進口關稅。



在這經濟開徵進口關稅後，下列哪項有關該物品的陳述是不正確的？

- A. 進口物品的數量為  $(Q_3 - Q_2)$  單位。
- B. 本地消費量為  $Q_4$  單位。
- C. 本地生產商生產量隨關稅增加而增加。
- D. 關稅總額為面積  $b$ 、 $c$ 、 $d$  之和。

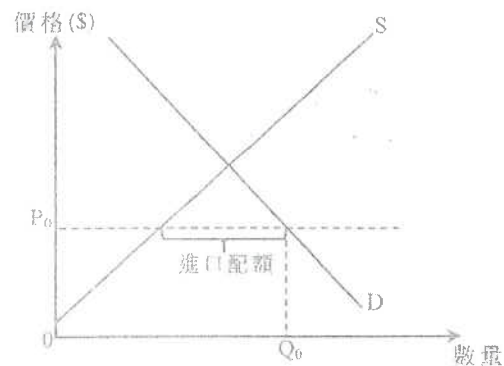
19. 2015.MC.Q45 [刪去答案B]

在一個小型開放經濟內某物品的供應曲線是向右上斜的。對該物品實施有效進口配額和徵收關稅的主要分別是什麼？

- A. 實施有效進口配額會降低進口量，而徵收關稅則不會。
- B. 實施有效進口配額會提高該物品的消費者支付價格，而徵收關稅可能不會。
- C. 徵收關稅會提高該物品的國際價格，而實施有效進口配額則不會。
- D. 徵收關稅會令政府收入增加，而實施有效進口配額可能不會。

20. 2016.MC.Q42

參閱以下有關某小國物品 X 的供需圖。

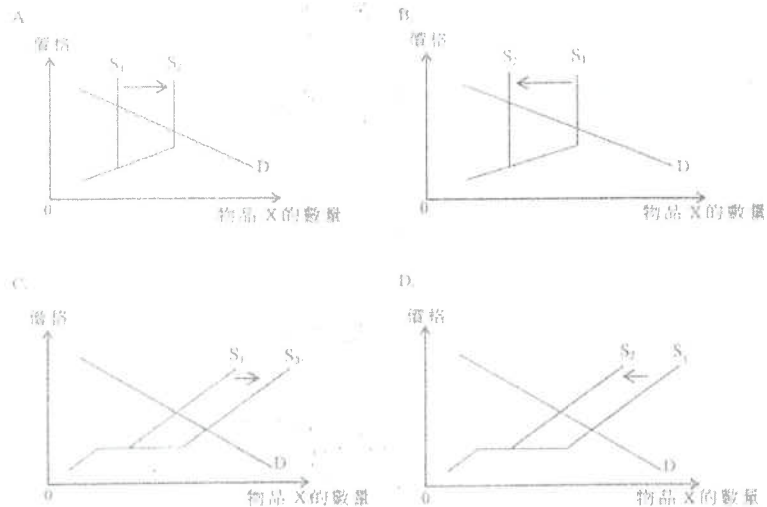


該國對物品 X 實施進口配額，而價格和交易量分別是  $P_0$  和  $Q_0$ 。若物品 X 在該國的需求上升，

- (1) 進口量會上升
  - (2) 物品 X 在該國的價格會上升
  - (3) 物品 X 在該國的銷量會上升
- A. 只有 (1)、(2)  
 B. 只有 (1)、(3)  
 C. 只有 (2)、(3)  
 D. (1)、(2) 及 (3)

21. 2017.Q42

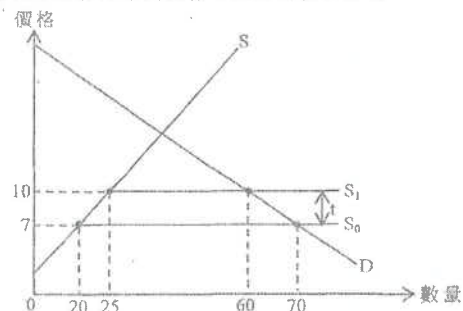
某小型開放經濟增加對物品 X 的入口配額，下列哪圖最能說明該轉變的影響？



412

22. 2018.Q41

下圖顯示一小型開放經濟對某物品徵收進口關稅的情況。

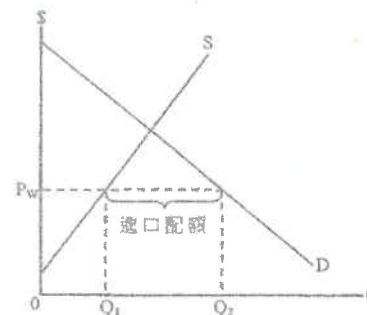


參考上圖，在徵收進口關稅 (t) 後，下列哪些陳述是正確的？

- (1) 政府收取的關稅總金額是 \$105。
  - (2) 本地生產商的收入會上升 \$110。
  - (3) 進口數量下降 15 單位。
- A. 只有 (1)、(2)  
 B. 只有 (1)、(3)  
 C. 只有 (2)、(3)  
 D. (1)、(2) 及 (3)

23. 2019.Q43

以下是某小型開放經濟中物品 X 的供需圖。

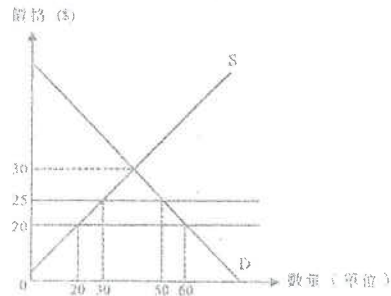


原初該經濟以國際價格 ( $P_w$ ) 進口物品 X，而政府實施的進口配額為  $(Q_2 - Q_1)$  單位。假設物品 X 的國際價格下跌，下列哪項陳述是正確的？

- A. 物品 X 的本地價格會維持在  $P_w$ 。
- B. 物品 X 的本地價格會下跌。
- C. 本地供應曲線會向右移。
- D. 本地所生產的物品 X 的數量會增加。

413

假設大豆的國際價格為 \$20。某小型開放經濟對進口大豆徵收從量關稅 \$5。下圖顯示該經濟的大豆的供應和需求曲線。



下列哪項有關大豆的陳述是正確的？

- A. 在徵收關稅後，本地生產商的總收入是 \$400。
- B. 包括關稅在內的進口總值是 \$500。
- C. 若運費提高至 \$45，該經濟會變成大豆出口國。
- D. 若取消關稅，進口總值會變 \$400。

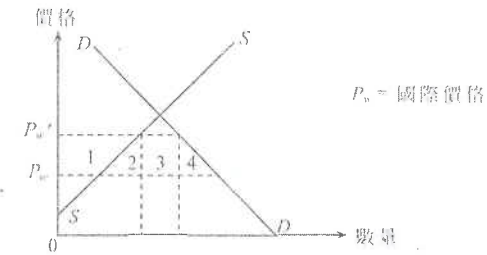
## 14MC3 答案

1.	D	11.	D	21.	C
2.	B	12.	A	22.	D
3.	D	13.	B	23.	A
4.	B	14.	D	24.	D
5.	D	15.	B	25.	
6.	D	16.	A	26.	
7.	B	17.	C	27.	
8.	C	18.	D	28.	
9.	B	19.	D	29.	
10.	D	20.	C	30.	

## 不在課程範圍內

## 21. SP.MC.Q39

假設某國對某進口物品徵收關稅。下圖顯示該國對該物品的供求：



若該關稅導致該物品的本地價格由  $P_w$  上升至  $P_w'$

- A. 淨損失總量為面積 4。
- B. 消費者盈餘的總損失為面積 2、3、4 之和。
- C. 生產者盈餘的增加為面積 1。
- D. 這對消費者盈餘及生產者盈餘的影響是不確定的。

## 22. PP.MC.Q38

若某小型開放經濟減低一進口物品的關稅。

- A. 該物品的本地生產量和消費量均會增加。
- B. 關稅收益和進口量均會減少。
- C. 消費者盈餘會增加，而生產者盈餘則會減少。
- D. 該物品的全球價格會下跌，而總社會盈餘則會增加。