

**計算失業率**

1. 2011.Q5(b)

(b) 參閱以下在 2010 年 6 月至 2010 年 8 月期間的香港就業資料：

	人數
就業人口	3 512 600
就業不足人口	70 500
失業人口	1 675 500

計算在上述期間的失業率。(2 分)

**失業引致的經濟損失**

2. 1994.Q.10(a)(i)

失業對一國的經濟帶來甚麼損失？列舉其中兩項。(4 分)

3. 2004.Q.7

寫出失業對社會造成的兩項損失。(4 分)

4. 2011.Q5(a)

(a) 寫出失業對社會造成的兩項損失。(2 分)

5. 2012.Q6(a)

經濟衰退其中一個現象是失業增加。

(a) 寫出失業對社會造成的兩項損失。(2 分)

**失業率變動 vs. 失業人口/就業人口變動**

6. 1995.Q.6

每年夏天，很多畢業生開始尋找工作，九月的失業率會因此受影響。解釋為甚麼該失業率可能上升，亦可能下跌。(5 分)

7. 2000.Q.7

某政府宣佈失業率下降而失業人數則上升，解釋為何雖然失業率下降但是失業人數上升。(4 分)

8. 2006.Q.9(c)

去年夏天，不少零售店生意興旺，促使香港的就業人口增加；但在同一時期失業率卻維持不變。解釋為什麼即使就業人口增加了，失業率仍可以維持不變。(4 分)

**事件→判斷對失業的影響**

9. 1999.Q.10(a)

香港有嚴重的失業問題。

(a) (i) 假設工資率不變。解釋為何降低利得稅率可能會減少失業。(3 分)

10. 2003.Q.6

假設有一班公務員在政府的自願退休計劃下退休，解釋此舉會否增加香港的失業率。(4 分)

11. 2007.Q.8(b)(i)

香港的大學不僅取錄本地學生，由去年開始，它們取錄大量內地尖子學生。假設所有學生的學費相同。

(b) 假設這些從內地來的尖子學生畢業後留在香港工作，而且香港的職位數量不變。

(i) 解釋這會如何影響香港的失業率。(4 分)

12. Practice Paper.Q6

以下是一則有關甲經濟的新聞報道。

開展新的高速鐵路系統建築計劃需要很多高技術建築工人。一位政府官員宣佈實施一項輸入勞工計劃以滿足對高技術工人的需要。

假設輸入的勞工不會取代任何本地工人。解釋該計劃會如何影響失業率。(4 分)

**供應和需求分析**

13. 1997.Q.2

香港的製造業工人有失業問題。在某些情況下，製造業失業人數會下降。以一供需圖輔助，解釋其中一種情況。(6 分)

**未有仔細分類**

14. 2015.Q5

澳門近年發展迅速，吸引了一些香港的工人到當地工作。假設香港的職位數量不變，上述的現象會對香港的失業率有甚麼影響？試加以解釋。(4 分)

15. 2016.Q6(a)(b)

以下是某國的就業數據。

就業人口	3 800 000
就業不足人口	800 000
失業人口	200 000

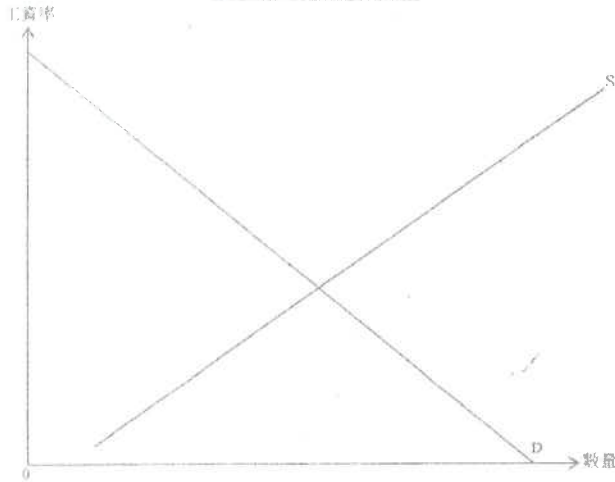
(a) 計算該國的失業率。(2 分)

(b) 舉出三項失業對社會造成的損失。(3 分)

香港的外籍家庭傭工在兩年合約期間獲支付每月港幣 \$4410 的最低工資。

- (a) 解釋為什麼外籍家庭傭工是按月計薪，而非以件計薪。 (2分)
- (b) 若在合約期間出現非预期的通脹，哪一方（僱主還是外籍家庭傭工）會有損失？試加解釋。 (2分)
- (c) 假設香港外籍家庭傭工市場的最低工資是有效的。以圖二輔助，解釋這如何可能引致經濟缺乏效率。 (4分)

圖二：香港的外籍家庭傭工



有報導指內地流向來自菲律賓的女傭開放市場，所給予的薪金為香港外籍家庭傭工最低工資的數倍。

- (d) 香港部分僱主聲稱：「內地向菲律賓女傭開放市場後，即便我們給予外籍家庭傭工較高的工資，香港仍會出現外籍家庭傭工不足的情況。」以圖二輔助，解釋為什麼上述聲稱可能是正確的。 (6分)
- (e) 除外籍家庭傭工不足之外，提出香港外籍家庭傭工市場在內地向菲律賓女傭開放市場後可能出現的一個現象。 (1分)

### 計算失業率

1. 2011.Q5(b)

$$\text{失業率} = \frac{\text{失業人口}}{\text{勞動人口}} \times 100\% = \frac{167\,500}{3\,512\,600 + 167\,500} \times 100\% = 4.55\%$$

### 失業引致的經濟損失

2. 1994.Q.10(a)(i)

首先，失業令本地生產總值下降或總產量的減少。另外，失業令社會問題增多，例如較嚴重的罪案。

3. 2004.Q.7

### 兩項可能損失包括：

- 生產資源閒置 / 產出下降
- 政治不穩定 / 社會不安
- 工人技術流失

4. 2011.Q5(a)

- 有生產資源被閒置 / 產出水平會下降
  - 政治不穩 / 社會動盪
  - 失去技能
  - 任何其他相關點
- [只批閱首兩項。]

5. 2012.Q6(a)

- 產出的損失
- 人力資本的損失
- 政治動盪

[只批閱首兩項]

### 失業率變動 vs. 失業人口/就業人口變動

6. 1995.Q.6

新加入尋找工作者使勞動人口數目增加

$$\text{失業率}(R) = \frac{\text{失業人口}(U)}{\text{勞動人口}(L)} \times 100\%$$

- ✓ 新加入尋找工作者若有很大的比例找到工作，失業率會下降；
- ✓ 反之亦然
- ◇ 勞動人口與失業人口的相對改變決定失業率的增或減。
  - - U 改變的百分比 > L 改變的百分比 => R ↑
  - - U 改變的百分比 > L 改變的百分比 => R ↓

1@, 最高: 2

1@: 最高: 2

1  
1  
2 4 最  
2 4 高;  
4 5  
2 4  
2

7. 2000.Q.7

失業人數較勞動人口增加得慢。

[註：只能顯示以下概念：失業率 = (失業人數 / 勞動人口) × 100% 而欠缺其他解說：最高 1 分]

4

8. 2006.Q.9(c)

- 失業率 =  $\frac{\text{失業人口}}{\text{勞動人口}} \times 100\%$

- 失業人口增加，
- 而且勞動人口與失業人口兩者增加的百分比相同。

1

1

2

事件→判斷對失業的影響

9. 1999.Q.10(a)

- ✓ 除稅後利潤會增加
  - ✓ 投資(誘因)增加
  - ✓ 對勞工的(引申)需求有可能增加
- (⇒ 其他因素不變，失業會減少)

1

1

1

10. 2003.Q.6

退休人口上升不會改變失業人口，但會導致勞動人口/就業人口下降。由於

$$\text{失業率} = \frac{\text{失業人口}}{\text{勞動人口}} \text{ 或 } \frac{\text{失業人口}}{\text{就業人口} + \text{失業人口}}$$

失業率會上升。

11. 2007.Q.8(b)(i)

- 總勞動人口增加
- 失業人口增加

1

1

(在總就業人口不變的情況下，)

- 總勞動人口的增加 = 失業人口的增加
- 或 失業人口增加百分比 > 總勞動人口增加百分比
- 結果，失業率上升。

1

1

12. Practice Paper.Q6

失業率 =  $\frac{\text{失業人口}}{\text{勞動人口}} \times 100\%$

(1)

勞動人口上升

(1)

而失業人口維持不變

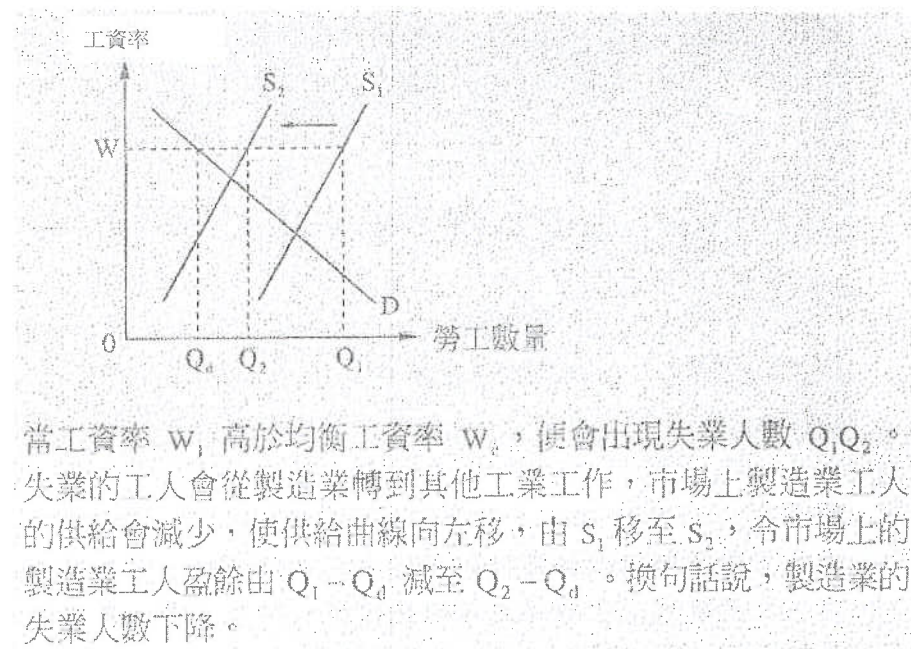
(1)

因此失業率會下降。

(1)

供應和需求分析

13. 1997.Q.2



當工資率  $w_1$  高於均衡工資率  $w$ ，便會出現失業人數  $Q_1Q_2$ 。失業的工人會從製造業轉到其他工業工作，市場上製造業工人的供給會減少，使供給曲線向左移，由  $s_1$  移至  $s_2$ ，令市場上的製造業工人盈餘由  $Q_1 - Q_d$  減至  $Q_2 - Q_d$ 。換句話說，製造業的失業人數下降。

未有仔細分類

14. 2015.Q5

失業率 =  $(\text{失業人數} / \text{總勞動人口}) \times 100\%$

(4)

由於總勞動人口和失業人數下跌的人數相同，

失業人數下跌的百分率大於總勞動人口下跌的百分率，意味著失業率下跌。

15. 2016.Q.6

(a) 失業率 =  $200\,000 / (3\,800\,000 + 200\,000) \times 100\% = 5\%$

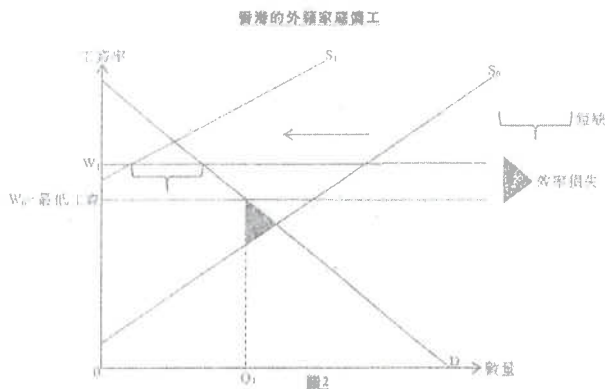
(b) 失業所造成的損失：

- 產出下降
  - 人力資本下降
  - 政治和社會不穩
  - 任何其他相關點
- [只批閱首三項]

(b) 非預期通脹令外傭家庭傭工有所損失，因為固定工資的購買力會下降。

(c) 文字解說：  
在  $O_1$ ，實際利益高於選擇成本。

在圖2顯示：  
 - 最低工資的正確位置  
 -  $O_1$  的正確位置  
 - 效率損失的正確位置



(d) 在內地工作的新傭和在港的新傭屬競爭性供應。若來自內地的競爭令本港外傭家庭傭工的供應大幅減少，即使在工資率提高的情況仍會出現短缺。

在圖2顯示：  
 - 供應曲線向左移  
 - 在工資率較高的情況下短缺的正確位置

(e) 可能的現象：  
 - 僱主可能嘗試從其他國家招請家庭傭工到港工作。  
 - 政府可能提高/取消最低工資。

計算(1) - 只計算失業率

1. 1997.MC.Q26

細閱下列某年關於香港的資料：

	人數
就業人數	2,931,000
就業不足人數	33,000
失業人數	69,000

失業率是

- A. 2.27%
- B. 2.30%
- C. 3.36%
- D. 3.40%

2. 2003.MC.Q30

參閱以下香港在 2002 年 7 月至 2002 年 9 月的資料：

	人數
就業人口	3 243 000
就業不足人口	101 000
失業人口	267 000

該期間內的失業率是

- A. 7.4%。
- B. 7.6%。
- C. 8.2%。
- D. 10.2%。

3. 2008.MC.Q30

參閱下列某經濟的數據。

	人數
失業人口	20 000
就業不足人口	60 000
就業人口	480 000
15 歲或以上人口	1 000 000

該經濟的失業率是\_\_\_\_\_。

- A. 2.0%
- B. 3.7%
- C. 4.0%
- D. 4.17%

計算(2) - 計算多於一項數字或未知數

4. 2002.MC.Q29

	人數
15 歲或以上人口	10 000 000
就業人口	6 800 000
失業人口	1 200 000
就業不足人口	800 000

根據上表，下列哪項描述是正確的？

- (1) 勞動人口總數是 8 000 000。
  - (2) 就業不足率是 10%。
  - (3) 失業率是 12%。
- A. 只有(3)
  - B. 只有(1)、(2)
  - C. 只有(1)、(3)
  - D. 只有(2)、(3)

5. 2005.MC.Q32

	人數
15 歲或以上人口	10 000 000
就業人口	6 800 000
失業人口	1 200 000
就業不足人口	1 600 000

根據以上資料，

- A. 勞動人口總數是 9 600 000。
- B. 就業不足率是 20%。
- C. 失業率是 12.5%。
- D. 失業率是 16%。

6. 2006.MC.Q30

假設某經濟的失業人口是 500 000 而失業率是 5%。就業人口是

- A. 500 000
- B. 1 000 000
- C. 9 500 000
- D. 10 000 000

7. 2009.MC.Q32

勞動人口(人數)	600 000
失業率	10%
就業不足率	5%

根據上表關於某經濟的資料，

- A. 年屆 15 歲或以上的人口是 600 000 人。
- B. 就業率是 85%。
- C. 就業人口是 540 000 人。
- D. 失業人口佔總人口的 10%。

8. SPMC.Q23

假設某經濟的失業人口是 300 000，而失業率是 6%。該經濟的就業人口是\_\_\_\_\_。

- A. 1 800 000
- B. 2 100 000
- C. 4 700 000
- D. 5 000 000

人口分類：失業 / 就業 / 非勞動人口

9. 1994.MC.Q37

在香港，下列何者被歸類為「失業者」？

- A. 積克，30 歲，在贏取六合彩後便退了休。
- B. 彼得，14 歲，中三畢業後仍未找到工作。
- C. 約翰辭去工作，現正在歐洲旅行。
- D. 瑪麗於五周前失去工作，過去一個月內她不斷尋找新的工作。

10. 1996.MC.Q33

小明辭去他的工作已有兩個月，因為他病了，一直臥床休息。香港政府現時將他視為下列哪一類？

- A. 失業
- B. 就業不足
- C. 就業
- D. 不在勞動力行列之內

11. 1998.MC.Q24

下列何者計算在香港的勞動人口中？

- (1) 在香港某律師樓工作的外籍僱員
  - (2) 失業的陳先生正在尋找工作
  - (3) 王先生退休後在社區中心當義工
- A. 只有(1)、(2)
  - B. 只有(1)、(3)
  - C. 只有(2)、(3)
  - D. (1)、(2)、(3)

## 事件 → 對失業率的影響 (升 / 跌 / 不變?)

12. 1998.MC.Q28

若部分移民外國的香港市民回流，並將懸空一段長時間而未能聘得入選的職位填補了，則香港的勞動人口會\_\_\_\_\_而失業比率會\_\_\_\_\_。

- A. 增加...下跌
- B. 減少...下跌
- C. 增加...上升
- D. 減少...上升

13. 1999.MC.Q32

留港數年興建新機場的外來勞工很多已返回他們的家鄉。這批人離開香港會對香港的失業率有什麼影響？

- A. 失業率會上升。
- B. 失業率會下降。
- C. 失業率會維持不變。
- D. 未能確定有什麼影響。

14. 2004.MC.Q33

	人數
就業人口	18 400
失業人口	1 600

現有 1 000 名新增加的尋找工作的人。若其中90%的人成功尋獲工作，該經濟的失業率

- A. 會增加。
- B. 會減少。
- C. 不會變。
- D. 可能增加，亦可能減少。

15. 2010.MC.Q32

以下顯示某國的就業數據。

	人數
就業人口	18 000
失業人口	2 000

假設有學校畢業生投入勞工市場尋找職位，其中只有 85%成功。這樣，該國的失業率\_\_\_\_\_。

- A. 會上升
- B. 會下降
- C. 會維持不變
- D. 可能會上升，亦可能會下降

16. 2012.MC.Q24

許多香港建築工人留在澳門工作數年。若他們受香港新的基建工程所提供的就業機會所吸引，回港尋找工作，這對香港的失業率會有甚麼影響？

- A. 失業率會上升。
- B. 失業率會下降。
- C. 失業率會維持不變。
- D. 對失業率的影響未能確定。

## 事件 → 對失業率的影響 + 其他影響

17. 1997.MC.Q55

中七畢業生升讀大學的人數增加會導致

- (1) 現時勞力供應下降。
  - (2) 現時失業率下降。
  - (3) 將來的平均勞動生產力上升。
- A. 只有(1)、(2)
  - B. 只有(1)、(3)
  - C. 只有(2)、(3)
  - D. (1)、(2)、(3)

## 失業的損失 / 代價

18. 1995.MC.Q37

下列各項中，哪些是因失業而可能導致的社會的損失？

- (1) 產出的損失
  - (2) 犯罪率較高
  - (3) 公共援助支出較大
  - (4) 稅收下降
- A. 只有(1)及(2)
  - B. 只有(1)及(3)
  - C. 只有(2)及(4)
  - D. 只有(3)及(4)

19. 2002.MC.Q31

下列那幾項有可能是失業對社會造成的損失？

- (1) 由於犯罪率上升，政府為保障公眾部門安全而增加支出
  - (2) 政府提供更多失業援助
  - (3) 產出水平下降
  - (4) 生活費用下降
- A. 只有(1)、(3)
  - B. 只有(2)、(4)
  - C. 只有(1)、(2)及(3)
  - D. 只有(2)、(3)及(4)

20. 2007.MC.Q30

社會要為失業代價，因為

- A. 就業人士要繳交更多稅款。
- B. 潛在本地生產總值會下降。
- C. 經濟的實質產出會下降。
- D. 失業救濟金是社會的一種負擔。

**影響就業/失業人數的政策 / 事件**

21. 2000.MC.Q38

下列哪一項最有可能在經濟下滑時使就業人數上升？

- A. 將私人廠商重組，提高生產效率。
- B. 生產程序更為電腦化及自動化。
- C. 政府注入大量資金以幫助小型企業。
- D. 實質利率上升。

22. 2001.MC.Q30

下列哪一項轉變會使一國家的失業人數下降？

- A. 引入最低工資法。
- B. 提高利得稅率。
- C. 很多本地廠商嘗試使用更多可節省人手的機器。
- D. 外國對其出口貨品的需求增加。

23. 2005.MC.Q6

根據新聞報道，於2004年終，中國內地的農村有數以百萬計的人失業。另一方面，珠江三角洲的廠商則有勞工短缺問題。

下列哪項會減少農村的失業人口？

- (1) 在珠江三角洲，工人的社會福利保障有所改善。
  - (2) 珠江三角洲的工資下降。
  - (3) 珠江三角洲的廠商搬往農村生產。
- A. 只有(1)、(2)
  - B. 只有(1)、(3)
  - C. 只有(2)、(3)
  - D. (1)、(2)、(3)

**行業規模**

24. 1995.MC.Q15

	佔總就業人數的百分率	
	1982年	1992年
製造業	45%	19%
服務業	50%	78%
其他	5%	3%
總計	100%	100%

從上表，可得以下結論：

- A. 與 1982 年比較，製造業就業人數在 1992 年大幅下降。
- B. 與 1982 年比較，服務業就業人數在 1992 年大幅攀升。
- C. 在 1992 年，服務業在各行業中聘用最多勞動人口。
- D. 在 1992 年，服務業比製造業佔本地生產總值較大的比例。

**其他 / 跨課題**

25. 1993.MC.Q49

在一個有失業的經濟中，施行赤字預算會導致

- A. 失業率下降。
- B. 國民所得下降。
- C. 家庭消費下降。
- D. 政府負債減少。

26. 2016 Q.25

下列哪項會減低某國的失業率？

- A. 一些大學畢業生加入勞動人口。
- B. 一些工廠搬遷到勞工成本較低的鄰近國家。
- C. 一些失業工人放棄了尋找工作。
- D. 政府增加失業撥助金。

27 2019 Q24

下表是某經濟的資料：

15歲或以上的人口	6 500 000
勞動人口參與率*	60%
就業人口	3 780 000
就業不足的人口	100 000

\*勞動人口參與率 = 15歲或以上的人口中的勞動人口所佔比例

根據以上資料，該經濟的失業率是 \_\_\_\_\_。

- A. 1.85%
- B. 3.08%
- C. 3.38%
- D. 5.64%

下表顯示 2019 年 4 至 6 月本港的就業數據。

	人數 ('000)
人口	7 524
15 歲或以上人士	6 590
就業人口	3 871
失業人口	114
就業不足人口	41

根據以上數據，就業不足率是\_\_\_\_\_。

- A. 0.55%
- B. 0.62%
- C. 1.02%
- D. 1.06%

29. 2021 Q25

假設某經濟的失業率是 8%。下列哪些會令失業率上升？

- (1) 15% 的新畢業生未能成功找到工作。
- (2) 一些僱主結束其本地業務並移居外國。
- (3) 一些兼職的工人因為生產自動化而失去工作。

- A. 只有 (1)、(2)
- B. 只有 (1)、(3)
- C. 只有 (2)、(3)
- D. (1)、(2) 及 (3)

答案

1.	B	11.	A	21.	C
2.	B	12.	A	22.	D
3.	C	13.	A	23.	B
4.	B	14.	A	24.	C
5.	B	15.	A	25.	A
6.	C	16.	D	26.	C
7.	C	17.	B	27.	B
8.	C	18.	A	28.	C
9.	D	19.	A	29.	D
10.	D	20.	C	30.	

## 計算(1) – 本地生產總值平減物價指數

1. 1990.MC.Q53

參閱下表：

年份	實質本地生產總值 (百萬元)	名義本地生產總值 (百萬元)
1985	150	180
1982	120	120

1985 年的本地生產物價平減指數為

- A. 100。
- B. 120。
- C. 150。
- D. 180。

2. 1994.MC.Q34

參閱下列該經濟體系的資料後，回答 1994.MC.Q34

	1992年 價格 (\$)	1993年 價格 (\$)	1994年 產出 (單位)
麵包	10	12	50
恤衫	20	25	20

用國民生產總值平減指數計算，1992 年至 1993 年的通脹率是

- A. 18.2%
- B. 22.2%
- C. 33.3%
- D. 122.2%

計算(2) -  $\% \Delta PQ = \% \Delta P + \% \Delta Q$ 

3. 1995.MC.Q33

年份	1994	1995
本地生產總值平減指數	120	132

根據上列資料，可得以下結論：從 1994 年到 1995 年，該經濟的

- A. 名義本地生產總值上升 12%。
- B. 實質本地生產總值上升 10%。
- C. 通貨緊縮率是 12%。
- D. 一般物價水平上升 10%。



4. 1996.MC.Q32

參閱下列某國的資料：

年份	名義國民收入 (以百萬元計)	物價指數
1988	8 000	100
1989	10 000	120

將 1988 年與 1989 年比較得結論如下：

- A. 1989 年的生活費用提高 20%。
- B. 1989 年的生活水準普遍較高。
- C. 1989 年實質國民生產總值的增長率是 25%。
- D. 1989 年全部貨物及勞務的價格上升 20%。

5. 2010.MC.Q33

年份	按年變動百分率	
	以當時市價計算的本地生產總值	以2000年固定市價計算的本地生產總值
2007	9.5%	6.4%
2008	3.8%	2.4%

根據上述資料，我們可得以下結論：在2008年

- A. 一般物價水平下降了。
- B. 實質本地生產總值下降了。
- C. 本地生產總值平減指數上升了。
- D. 一般是生活水準上升了。

6. Practice Paper.MC.Q22

在一段時間內，某經濟以當時市價計算的本地生產總值增加 15%，而通脹率則由10% 減至 5%。根據以上資料，實質本地生產總值 \_\_\_\_\_，而一般物價水平 \_\_\_\_\_。

- A. 增加 ... 上升
- B. 增加 ... 下降
- C. 減少 ... 上升
- D. 減少 ... 下降

物價水平 / CPI / GDP Deflator

7. 1990.MC.Q56

當物價水平和名義收入水平都上升時，

- A. 生活水準會下降，因為貨幣價值下跌。
- B. 生活水準會上升，因為市民有較多貨幣使用。
- C. 生活水準維持不變，因為物價的上升和收入的增加互相抵銷。
- D. 對生活水準的影響未確定，因為未知兩者改變的幅度。

8. 1992.MC.Q50

年份	1990	1991
消費物價指數	100	125

根據上表資料，以下哪一項為正確？

- A. 1990 年的生活費用較低。
- B. 1990 年的生活水準較低。
- C. 1991 年的貨幣購買力較高。
- D. 1991 年的消費支出較高。

9. 1997.MC.Q31

某年，本地生產總值平減指數由 100 上升至 110，這意味

- A. 每個家庭的生活費用增加了 10%。
- B. 一般物價水平上升了 10%。
- C. 當年生產的全部貨物的價格都上升了 10%。
- D. 市民的名義收入增加了 10%。

10. 2001.MC.Q32

參閱下列某經濟的數據：

年份	第一年	第二年
本地生產總值平減指數	150	180

我們可以得到以下的結論：由第一年到第二年，

- A. 貨幣的購買力下降了。
- B. 實質國民收入減少了。
- C. 平均生活水準下降了。
- D. 收入分配變得更不公平。

11. 2003.MC.Q28

假設某經濟的本地生產總值平減指數由 100 減至 90。這意味著

- A. 它的本地生產總值下降了 10%。
- B. 一般物價水平下降了 10%。
- C. 人民的實質收入增加了 10%。
- D. 人民的生活水準下降了 10%。

12. 2006.MC.Q31

香港於2005年第三季的甲類消費物價指數上升了。這表示香港的 \_\_\_\_\_ 上升了。

- A. 全部貨品的價格
- B. 進口貨品的價格
- C. 名義國民收入
- D. 生活費用

13. 2008.MC.Q33

下表顯示香港從2004年至2006年的甲類消費物價指數。

年份	甲類消費物價指數
2004	99.3
2005	100.3
2006	102.1

根據上表，我們可得結論如下：在該時期內，

- A. 人均名義本地生產總值上升了。
- B. 生活水準變差了。
- C. 生活費用增加了。
- D. 以上全部正確。

14. 2009.MC.Q34

某經濟的消費物價指數由100上升至110，這意味著：

- A. 計算該指數中涉及的全部消費品的價格都上升了10%。
- B. 生活費用增加了。
- C. 生活水準提高了。
- D. 人們的名義收入增加了。

通脹的定義

15. 1991.MC.Q46

通脹發生時會出現以下哪一項情況？

- A. 生活費用會減少
- B. 財政赤字會減少
- C. 生活水準會有所改善
- D. 貨幣價值會下跌

16. 2007.MC.Q33

下列哪一項對通貨膨脹的描述是正確的？

- A. 一件物品的價格持續上升並非通脹。
- B. 通脹發生時，每個人的損失都相同。
- C. 通脹發生時，收入和物價都以相同的百分比增加。
- D. 通脹可能使某些人得益，尤其是那些收入是固定的人。

非預期通脹的財富再分配

17. 1991.MC.Q48

意想不到的通脹發生時會

- (1) 增加政府收益。
  - (2) 鼓勵出口。
  - (3) 改變國民收入的分配。
  - (4) 導致短期資金的流入。
- A. 只有(1)及(2)
  - B. 只有(1)及(4)
  - C. 只有(2)及(4)
  - D. 只有(3)及(4)

18. 1994.MC.Q38

當非預期通貨膨脹出現時，下列何者會有損失？

- A. 李太；她聘用了一位傭傭
- B. 陳先生；他購買了十張餅券，可以從麵包店換取糕餅
- C. 傅先生；他經營一間酒樓
- D. 王先生；他已將全部金錢存入定期存款戶口

19. 1995.MC.Q36

非預期通脹發生時，下列哪些人得益？

- (1) 長期政府債券持有者
  - (2) 存款證持有者
  - (3) 用信用卡購買了物品的人
  - (4) 發行了長期定息債券的公司的股東
- A. 只有(1)及(2)
  - B. 只有(1)及(3)
  - C. 只有(2)及(4)
  - D. 只有(3)及(4)

20. 2000.MC.Q39

甲先生以固定年息 7%向某銀行借入一筆房屋按揭貸款。之後，一般物價水平一直下降。在這件事中，甲先生有損失而該銀行有得益。這是因為

- A. 所按房屋的價值一直下降。
- B. 甲先生的薪酬收入一直下降。
- C. 若甲先生未能還款予銀行，銀行可以將該房屋賣掉。
- D. 若一般物價水平一直下降，定額利息的購買力會上升。

21. 2005.MC.Q33

下列何者會因非預期通脹出現而得益？

- A. 銀行定期存款的持有人
- B. 按通脹調整薪酬的僱員
- C. 領取定額失業援助的人
- D. 發行了定息債券的政府

22. 2008.MC.Q31

下列哪些人 / 機構會於非預期通貨膨脹出現時蒙受損失？

- A. 在非預期通脹出現前已簽了固定租約的住客。
- B. 在非預期通脹出現前已將發放了僱員的工資數目固定了的僱主。
- C. 在非預期通脹出現前以固定利率借出一筆款項的債主。
- D. 提供賠償的保險公司，該賠償額在非預期通脹出現前已固定了。

23. Practice Paper.MC.Q31

當非預期通脹出現時，下列哪位人士會有損失？

- A. 一位銀行定期存款持有人
- B. 一名政府債券持有人，而該債券利率隨通脹率調整
- C. 一名正在償還固定息按揭貸款的樓宇業主
- D. 一名以黃金保存全部財富的億萬富翁

24. 2012.MC.Q32

美國政府已累積的債務金額非常龐大，在2011年約為14萬億美元，若美國出現非預期通脹，下列哪類人士 / 機構最有可能從中得益？

- A. 在聯繫匯率制度下，持有港元現金的香港居民
- B. 持有定期存款的美國國民
- C. 持有大量美國國庫債券的國家，如中國及日本
- D. 美國政府

25. 2013.MC.Q34

下列哪位人士會受惠於非預期通脹？

- A. 一位放高利貸者，以浮動利率借出一筆金錢
- B. 一位經理，在兩年合約內收取固定薪金
- C. 一位物業業主，償還固定息按揭貸款
- D. 一位退休教師，收取多間上市公司的股息

預期通脹發生

26. 2009.MC.Q33

人們預期通貨膨脹時，

- (1) 債主會向借款者收取更高的名義利率。
- (2) 工人會要求提高他們的名義工資率。
- (3) 人們會傾向持有更多貨幣性資產來取代實物資產。

- A. 只有(1)、(2)
- B. 只有(1)、(3)
- C. 只有(2)、(3)
- D. (1)、(2)、(3)

27. 2011.MC.Q35

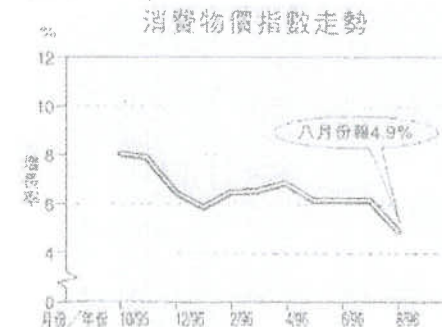
當人們預期有通脹出現，

- (1) 人們會傾向增持實質資產以代替貨幣資產。
- (2) 僱員會要求僱主提高他們的名義工資率，以補償他們損失了的購買力。
- (3) 債主會得益，而欠債人會受損，因為所還款項的購買力會下降。

- A. 只有(1)、(2)
- B. 只有(1)、(3)
- C. 只有(2)、(3)
- D. (1)、(2)、(3)

圖表分析

28. 1997.MC.Q27



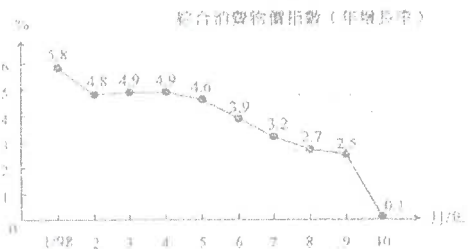
資料來源：香港經濟日報

上圖資料反映在該段時期內，

- A. 市民的消费力減弱。
- B. 經濟正走下坡。
- C. 市民的消费減少而儲蓄增加。
- D. 生活費用的增加減慢。

29. 1999.MC.Q33

參閱下表中西港物價指數的改變。

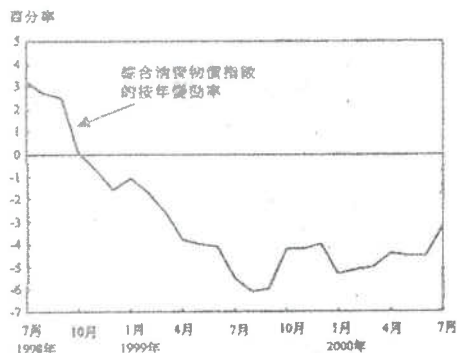


由上表，我們可得以下結論：

- A. 物價持續下跌，通貨膨脹終止。
- B. 工資下降。
- C. 生活費用以較慢的速度增長。
- D. 部分用按揭方法借錢供樓的負債者近期蒙受損失。

30. 2001.MC.Q31

表一 綜合消費物價指數的變動情況

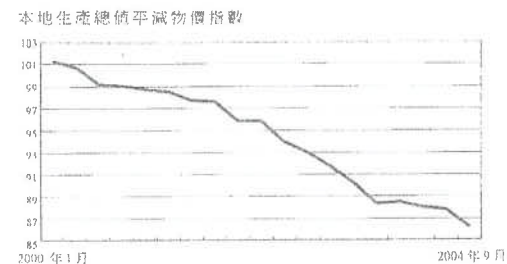


根據表一的資料，在 1999 年 7 月至 2000 年 7 月這一段時期內，陳先生會在甚麼情況下得益？

- A. 在此段時期前，他已用固定利率由銀行借入一筆款項。
- B. 在此段時期內，他的薪金維持不變。
- C. 他根據物價水平的變動來調整他收取租客的租金。
- D. 他早已收藏了一批古董花瓶。

31. 2005.MC.Q34

參閱下列關於香港於 2000 年 1 月至 2004 年 9 月期間的本地生產總值平減物價指數的圖。



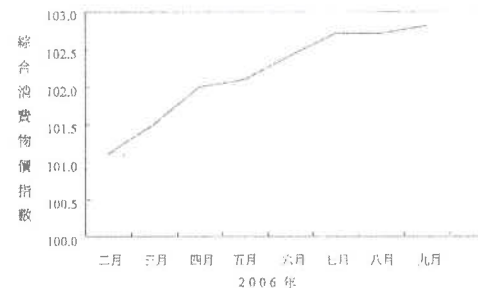
資料來源：香港特區政府

根據上圖，我們可得出結論如下：在該期間，

- A. 名義本地生產總值正在減少。
- B. 實質本地生產總值正在減少。
- C. 生活費用正在增加。
- D. 貨幣購買力正在增加。

32. 2007.MC.Q34

下表顯示香港綜合消費物價指數的資料。

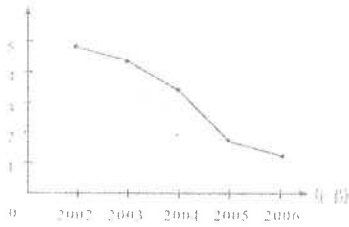


我們可從上述資料得出如下結論：在 2006 年該段期間內，

- A. 名義本地生產總值正在下降。
- B. 名義本地生產總值正在上升。
- C. 貨幣的購買力正在下降。
- D. 貨幣的購買力正在上升。

33. Sample Paper.MC.Q34

香港生活指數年減指數增長率(%)



上圖顯示，在該段時期

- A. 該經濟有通貨收縮。
- B. 貨幣供應量增長率為負數。
- C. 一般物價水平正在上升。
- D. 生活水準正在上升。

與通脹有關的政策

34. 1990.MC.Q44

下列哪一項是用以減低通貨膨脹的財政政策？

- A. 直接管制工人薪金的上升幅度
- B. 增加失業救濟金
- C. 增加銀行法定儲備比率
- D. 減少環境保護計劃方面的開支

35. 1991.MC.Q45

以下哪一項最有可能導致通脹率下降？

- A. 貨幣供應量增加
- B. 利率上升
- C. 增加政府支出
- D. 提高間接稅

36. 1993.MC.Q60

在香港，下列哪一種應付政府開支的融資方法不會引起通貨膨脹？

- A. 印製更多鈔票
- B. 增加稅收
- C. 運用財政儲備
- D. 向外國舉債

通脹與稅收 / 收入的關係

37. 1990.MC.Q34

通貨膨脹時期，國民的 \_\_\_\_\_ 上升，同時有更多人士被納入稅網或較高課稅組別。若免稅額不變，實際上他們的 \_\_\_\_\_ 增加了。

- A. 名義所得，稅務負擔
- B. 實質所得，名義所得
- C. 名義所得，實質所得
- D. 稅務負擔，名義所得

38. 1992.MC.Q43

在 1990-91 財政年度，政府將免稅額提高約 5%。同期通脹率約為 10%。以下哪一項是這種情況下的後果？

- A. 政府必須開徵銷售稅。
- B. 更多人被納入稅網。
- C. 香港人的真實收入有所增加。
- D. 政府獲得更多間接稅收。

39. 2002.MC.Q42

假設某經濟的政府將漸俸稅的免稅額削減 10%，同年工資率及一般物價水平比下跌 5%。因此，

- A. 政府的稅收收益會增加。
- B. 較多人會納入稅網之中。
- C. 除稅前，市民的實質收入會普遍增加。
- D. 市民所繳稅款預與其名義收入之比會普遍下降。

其他、跨課題題目

40. 1990.MC.Q38

下列哪一種情況會令在本港存款的人士將他的港幣存款轉為外幣存款？

- A. 相對外國而言，本港利率上升。
- B. 一般人都認為港幣匯率偏高。
- C. 本港的政治發展理想。
- D. 本港出口總值增加

41. 1991.MC.Q30

以下哪一項會影響貨幣的價值？

- A. 消費物價指數上升。
- B. 名義收入與實質收入的增加百分率相同。
- C. 印製紙幣的成本增加。
- D. 發行新紙幣以替換舊紙幣

未有仔細分類

42. 2014.MC.Q26

假設某封閉經濟只生產食物和成衣。第一年和第二年的產量如下：

年	食物產量 (單位)	食物的單位價格 (\$)	成衣產量 (單位)	成衣的單位價格 (\$)
1	44	5	25	10
2	36	6	22	9

下列那些有關該經濟的陳述是正確的？

- (1) 第一年的名義本地生產總值高於第二年的。
  - (2) 第一年的實質本地生產總值高於第二年的。
  - (3) 第一年的生活成本高於第二年的。
- A. 只有 (1)、(2)  
 B. 只有 (1)、(3)  
 C. 只有 (2)、(3)  
 D. (1)、(2) 及 (3)

43. 2015.MC.Q36

非預期的通縮出現，下列哪些人士會受損？

- A. 支付定額租金的人
- B. 收取儲蓄存款利息的人
- C. 償還浮息按揭貸款的人
- D. 在固定名義工資合約下工作的人

44. 2019.Q37

在非預期通縮下，下列哪(幾)位人士會有所損失？

- (1) 葉女士在一家接受存款公司持有一百萬定期存款。
- (2) 盧先生持有銀色債券收取利息，債券的回報率和通脹掛勾，最低回報為 3%。
- (3) 陸先生與一家網絡電視公司簽約兩年，每月以固定費用訂購其服務。

- A. 只有 (1)  
 B. 只有 (2)  
 C. 只有 (3)  
 D. 只有 (2)、(3)

09MC2答案

1.	B	11.	B	21.	D	31.	D	41.	A
2.	B	12.	D	22.	C	32.	C	42.	A
3.	D	13.	C	23.	A	33.	C	43.	A
4.	A	14.	B	24.	D	34.	D	44.	C
5.	C	15.	D	25.	C	35.	B	45.	
6.	A	16.	A	26.	A	36.	B	46.	
7.	D	17.	B	27.	A	37.	A	47.	
8.	A	18.	D	28.	D	38.	B	48.	
9.	B	19.	D	29.	C	39.	B	49.	
10.	A	20.	D	30.	B	40.	B	50.	