

1. 1990.1 (a)  
王太是一位律師，也擅長打理家務，但是她僱用一名菲傭為她打理家務。  
(ii) 菲傭工作屬於何種生產級別？並加解釋。 (2 分)
2. 1996.2  
「意粉屋」是一間快餐店，出售意大利薄餅和其他意式食物。  
寫出該店所屬生產級別的名稱，並加以解釋。 (4 分)
3. 2004.9(d)  
解釋汽車代理商屬何種生產類別。 (2 分)
4. PP.Q11(b)  
高中教科書的價格大幅上升，這是因為教科書出版商需要為新課程出版新教科書。  
(b) 解釋這些教科書內的知識是否共用品。 (3 分)
5. 2015.Q2(a)  
很多電子產品零售商位於旺角。  
(a) 電子產品零售商屬於哪一種類的生產？試加以解釋。 (2 分)

6 2017 Q13a

為了應付香港人口變遷老化的問題，政府建議一項退休保障計劃，計劃下合資格長者每年可領取 \$38 760。

(a) 陳先生是一位獨居者。在該計劃下，他合資格領取 \$38 760。他便從僱傭安老院服務，並會花費其中的 \$30 000 支付一年的院費。

(i) 安老院服務屬哪一類別的生產？ (1 分)

(ii) 若陳先生入住安老院，解釋香港的本地生產總值會如何受影響。 (2 分)

1. 1990.1(a)(ii)  
菲傭的工作屬第三級生產，因為工作是勞務的一種。
2. 1996.2  
這是第二級及第三級生產。  
第二級生產是將原料加工為半製成品或製成品的生產活動。  
「意粉屋」將食物原料蒸煮，變成煮好的食物，符合第二級生產的定義。  
第三級生產是指提供各種不同服務。  
顧客到「意粉屋」進餐時，有侍應生提供招待服務，正符合第三級生產的定義。
3. 2004.9(d)  
第三級生產，因為他們提供服務。
4. PP.Q11(b)  
是 (1)  
✓ 知識屬非競爭性消費，一個人消費該物品不會減少他人可享用該物品的數量。 任何一項：  
✓ 知識屬非排他性消費，要排除他人使用該物品的成本很大。 最高：2
5. 2015.Q2(a)  
第三類生產， (1)  
因為它提供零售服務。 (1)
- 6 2017 Q13a
- (a) (i) 三級生產 (1)
- (ii) GDP 上升，因為安老院的服務收費是陳先生花費在最終物品和服務上的消費支出。 (2)

1. 1995.Q2

電視台製作每天的新聞報導時，不同的人擔任不同的職務例如：記者、編輯、拍攝人員等。這說明哪一項經濟原理？列舉兩項理由解釋為何在製作該節目時應用該原理可以提高勞動生產力。(5 分)

2. 2001.Q1

列出分工可以增加勞工生產力的三項理由。(3 分)

3. 2003.Q10(a)

編製教科書時，不同人士擔任不同的職責，例如編輯、打字員和校對員。上文說明了哪一個經濟學原理？建議三項理由解釋為何應用該原理可以提高勞工生產力。(4 分)

4. 2005.Q10(b)(iii)

在通商時，兩國增加各自的專業化程度。解釋這會如何  
(I) 提高兩國的勞工生產力。  
(II) 減低兩國的平均生產成本。(4 分)

5. PP.Q11(a)

高中教科書的價格大幅上升，這是因為教科書出版商需要為新課程出版新教科書。  
(a) 生產教科書會涉及各種專家，如作者、編輯、繪圖設計師等。這說明了什麼經濟原理？列舉三項理由，解釋為什麼這原理能提升勞工生產力。(4 分)

6. 2013.Q10(a)

餐廳的工作人員包括廚師、侍應、經理和帶位員。  
(b) 上述現象說明了什麼經濟原理？列出三個該原理能提高勞工生產力的原因。(4 分)

7. 2016.Q13(a)

H 國的機場管理公司是一間公營公司。它聘請了不同職員營運機場，例如有保安員、技術員、工程師和財務經理。  
(a) 該做法說明了哪項經濟原理？舉出三項理由，解釋為什麼應用該原理能提高勞工的生產力。(4 分)

1. 1995.Q2

分工/專業化 1  
- 可以根據天份和技能來指派工作 2@ x 2;  
- 不斷練習使生手工人變成手工人 最高: 4 分  
- 只須從事一種工序生產，不須從一種工序轉到另一種工序，可節省時間 (只批閱首兩項。)  
- 不須學懂所有工序，可節省時間  
- 鼓勵使用資本物品/較先進資本物品

2. 2001.Q1

- 促進機械化的生產  
- 熟能生巧  
- 節省學習時間  
- 節省從一個工序轉換到另一個工序的時間  
- 知人善任  
- 任何其他相關點  
只批閱首三項，1@，最高 3 分

3. 2003.Q10(a)

這是分工。勞工生產力增加的原因包括：  
- 用最適人選來工作  
- 熟能生巧  
- 節省訓練時間  
- 節省從一個工序轉換至另一工序工作的時間  
- 刺激機械化

4. 2005.Q10(b)(iii)

(I) 專業化行業的工人和經理會更有效率，因為專業化容許他們學識更多專門知識及技術(即從實踐中學習)。 2  
(II) 專業化會擴大生產規模，故帶來規模經濟。(減低平均成本) 2

5. PP.Q11(a)

分工/專門化生產 (1)  
- 熟能生巧 1@ x 3;  
- 用最適人選來工作 最高: 3 分  
- 節省員工訓練的時間 (只批閱首三項。)  
- 節省轉換工作崗位的時間  
- 任何其他相關點

6. 2013.Q10(a)

熟練技巧  
挑選適合屬的員工擔任工作  
節省訓練員工的時間  
促進機械化  
任何其他相關點  
[只批閱首三個]

7. 2016.13a

(a) 分工 / 專門化  
原因：

熟練技巧  
挑選適合屬的員工擔任工作  
節省訓練員工的時間  
促進機械化  
任何其他相關點  
[只批閱首三個]

} 1分  
餘分 3

1. 1995.11(b)

葉先生擁有一物業代理行，並僱用瑪麗擔任文員一職。試將葉先生與瑪麗所扮演的經濟角色加以區分。解釋你的答案。 (4 分)

2. 1996.4(b)

解釋為甚麼交通燈是一種資本。 (2 分)

3. 1997.Q1

國強在新界擁有一幅土地作農耕用途。他僱用了工人在他的農場內與他一起工作。國強屬於哪幾類型的生產因素？解釋你的答案。 (4 分)

4. 2004.9(c)

解釋在陳列室中展示的汽車屬何種生產要素。 (2 分)

5. 2005.2

家明是一家冷氣器維修公司的東主。他也會為客戶維修冷氣機。家明屬於哪幾類的生產要素？試加解釋。 (4 分)

6. 2013.Q11(b)(i)

政府已推出「鼓勵就業交通津貼計劃」，目標如下：

- (1) 減輕低收入住戶在職人士往返工作地點的交通費負擔
- (2) 鼓勵持續就業

申請人必須符合住戶每月入息和資產限額（以單身人士為例，每月入息不可超過\$7 300，而資產不可超過\$72 000）及每月工作不少於 72 小時以申請每月\$600 的津貼。

討論該計劃對下列各項的影響：

(b)(i) 勞力流動性 (3 分)

7. 2015.Q10(c)

職業足球員通常在三十多歲退休。雖然他們大多在當球員時薪酬可觀，但有些在退休後只能找到低薪工作。以勞工流動性為依據，解釋上述現象。 (3 分)

8. 2016.Q10(b)

在中國西部省份，很多住宅樓宇的屋頂都安裝了太陽能電池板以進行太陽能發電。

(b) 解釋陽光在生產太陽能時屬於哪種生產要素。 (2 分)

1. 1995.11(b)

葉先生的經濟角色是代理行的企業家，而瑪麗只是勞力。因此，在職能方面葉先生須要作最後決策和承擔企業風險，但瑪麗只須在工作上付出智力和體力。

2. 1996.4(b)

資本是指一切在生產過程中使用的人造資源。

交通燈是提供指揮交通服務中使用的一種人造資源，因此是一種資本。

3. 1997.1

國強屬於企業家職能及勞力。

在生產過程中，企業家職能是負責決策及承擔風險。

國強擁有一幅土地和僱用了工人作生產用途，因此承擔了生產的風險及負責了農場的決策工作。

另一方面，勞力在生產過程中提供體力和腦力。

國強和工人一起工作，因此亦提供了體力和腦力。

4. 2004.9(c)

資本，因為這些汽車是人造資源（用以協助生產）。

5. 2005.2

企業家職能：他承擔風險 / 決策

(1+1)

勞力：他在生產過程中提供人力服務

(1+1)

6. 2013.Q11(b)(i)

(i) 它令地域流動性上升，因為工人較願意到其他地區工作。

(3)

7. 2016.10b

(b) 土地，因為它是大自然賦予的一種天然資源。

1. 1990.1(a)(iii)

列舉兩項理由說明為何僱用華傭是用「時計」而非「件計」方式付酬的。

(4 分)

2. 1992.1(c)

設某的士車主聘用一位司機提供的士服務並與司機攤分總營業額。對這位車主來說，這種

(6 分)

支付酬勞的方式有甚麼優點和缺點？

分別舉述一項，並加解釋。

3. 1993.1(d)

「好味棧」是一快餐店。

「好味棧」的經理，除了收取固定月薪外，還可分享該店的部分利潤。上述兩種支付酬勞

(4 分)

的方式對該店有甚麼好處？試各舉一項。

4. 1996.12(b)

件計是製造業常用的付酬方式。試從僱主的觀點出發，解釋該付酬方式的優、劣點各一。

(4 分)

5. 1998.11(a)

汽車代理商一般支付基本月薪予他們的售貨員，並且在他們每賣出一部汽車時，另外再付佣金。從汽車代理商的角度，解釋兩項上述付酬方式的好處。

(4 分)

6. 1999.3 比較下列兩則廣告：

<p>甲公司 招聘貨車司機 工資：每月\$10 000</p>	<p>乙公司 招聘貨車司機 工資：每程\$200</p>
---	--------------------------------------

寫出上述兩種付酬方式的名稱。並從僱主的角度將它們加以比較，各舉一項較對方優勝之處。解釋你的答案。

(6 分)

7. 2001.9(c)

陳先生是某製衣廠的東主，以「件計」方式支付員工的工資。與「時計」方式比較，件計方式對陳先生有何利弊？試各舉一項。

(2 分)

8. 2007.2

細閱下列甲職位和乙職位的工作概況：

<p><b>甲職位</b> 打字文員 工作時間：上午 9 時至下午 5 時 每周工作 5 天 薪酬：每月 \$8 000</p>	<p><b>乙職位</b> 打字服務 將文件轉為 WORD 檔案 報酬：每張 A4 紙 (約 200 字) 為 \$4</p>
--	---

(a) 甲職位和乙職位的付酬方式分別是甚麼？

(2 分)

(b) 從僱主的角度出發，分別解釋使用

(i) 甲職位的付酬方式的一項缺點。

(2 分)

(ii) 乙職位的付酬方式的一項缺點。

(2 分)

9. 2008.9(c)

證券行以下列方式付酬予它部份的員工：基本薪酬加佣金。  
舉出採用該項付酬方式而非計時方式對 *僱主* 的兩項好處。

(4 分)

10. 2009.4

以下是對甲工作及乙工作的描述。

<p>甲工作 蒸餾水送貨司機 薪酬：每運送 1 單位 蒸餾水，得\$1</p>	<p>乙工作 蒸餾水送貨司機 薪酬：每天得\$300</p>
---	--

- (a) 甲工作的付酬方式是 \_\_\_\_\_。(1 分)  
乙工作的付酬方式是 \_\_\_\_\_。(1 分)
- (b) 相對於乙工作的付酬方式，解釋甲工作的付酬方式對 *僱主* 的利弊 各一。(4 分)

11. 2010.3

很多大型電器零售店推銷員的付酬方式都是底薪加上佣金。  
從店主的角度出發，解釋這種付酬方式較只是採用底薪的付酬方式的一項優點，及這種付酬方式較只是採用佣金的付酬方式的一項優點。

(4 分)

12. 2013.Q10(b)

以下是某餐廳招聘經理的廣告。

<p>經理</p> <p>工作時間：中午 12:00 – 下午 10:00 每週工作六天 薪金：每月\$15 000 + 按表現發放花紅</p>
--

- (i) 從餐廳東主的角度，解釋上述支薪方法相對時薪的一項優點。(2 分)
- (ii) 從經理的角度，解釋上述支薪方法相對利潤分享制度的一項優點。(2 分)

13. 2015.Q10(b)

下列是兩位職業足球員的合約。

<p>合約甲 球員甲 每週 \$10 000</p>	<p>合約乙 球員乙 每場比賽 \$8 000 + 每進一球 \$10 000</p>
------------------------------------	---

從僱主的角度，解釋合約乙較合約甲兩項優勝之處。(4 分)

14. 2017 Q2

史提芬是某餐廳的車主，他以月薪支付其侍應的工資，並容許他們保留顧客給予的小費。

- (a) 以下列角度解釋為什麼上述安排較按時計薪為佳：
- (i) 僱員的角度
- (ii) 僱主的角度 (4 分)
- (b) 由於開設了數間分店，該餐廳的平均生產成本上升了。以兩項理由，解釋為什麼出現這情況。(4 分)

15 2018 10A

香港的外籍家庭傭工在兩年合約期間獲支付每月港幣 \$4 410 的最低工資。

- (a) 解釋為什麼外籍家庭傭工是按月計薪，而非以件計薪。

16 2019 Q9CD

她打算聘請兩名員工營運她的網站：

<p>私人助理</p> <p>職務： 安排每天日程和會議</p> <p>薪金： 每月 12 000 元</p>	<p>短片設計師</p> <p>職務： 製作上傳至社交媒體的短片</p> <p>薪金： 每段短片 1 000 元</p>
---	--

- (c) 從歐愛英小姐的角度，舉出該私人助理的支薪方法的一個優點和一個缺點。(2 分)
- (d) 從僱員的角度，舉出該短片設計師的支薪方法的一個優點和一個缺點。(2 分)

1. 1990.1(a)(iii)

車舖的工作涉及不同類型的工序及活動，若以計件工資來計算車舖的產出量，會是十分繁瑣，同時亦付出現大的代價。以計時工資來計算的成本遠比以計件工資來計算的為低。

2. 1992.1(c)

與司機分享利潤的好處是此舉能提高司機的工作意欲，令他們更努力地工作。因此，提高了車舖的收入。此舉的劣點是車上可能要負擔較高的保養費，因為司機會為賺取較高的收入而擅自過量使用。

3. 1993.1(d)

經理的工作是一種勞務，難以難於計算他的產出量。故此，每月在昂貴的薪金總額中工資的計算，實際上是與經理的經理工作不具可比性。這可視為經理的工作更難，但他們更有效率經營店舖。

4. 1996.12(b)

件計付酬是指按所生產物品的數量計算酬金。由於多勞多得，故工人更有工作熱誠。因此，勞工的生產力會提高。由於多勞多得，工人只著重產出量，故容易忽略產品的質素。因此，這會增加品質控制的成本。

5. 1998.11(a)

首先，此方式會提高銷售員的工作意欲，因為他們賣出的汽車越多，所得的佣金亦越多。另外，代理商的監督成本會下降，因為代理商所取得的佣金已能反映其生產力，從而減少售貨員偷懶的機會。

6. 1999.3

甲公司採用「時計」，而乙公司則採用「件計」付酬方式。對僱主來說，採用「時計」方式的方好處在於其量度成本比「件計」方式低；因為貨車司機的產出並不標準化，難以量度。

可是，若採用「件計」方式付酬，僱主需直接量度司機的產出，成本比較昂貴；反之，採用「時計」方式，僱主只需計算司機的工作時間，量度成本會大幅減低。

另一方面，採用「件計」方式付酬，在提高生產力方面則較「時計」方式優勝。由於司機的報酬與其產出成正比，採用「件計」方式會鼓勵司機努力工作，並可避免在採用「時計」方式時，員工在工作時間內偷懶的問題。

7. 2001.9(c)

「件計」的好處是員工會有較高的意欲去工作，因為他們的收入與他們的產量成正比。其壞處是顧客產品質素的成本很高，因為當員工只著重於提高其產量去賺取多些收入時，他們往往會忽略產量的質素。

8. 2007.2

- (a)甲工作：時計 1
- 乙工作：件計 1

- (b)(i) 監察員工工作表現費用較高 / 員工工作意欲較低 / 生產力下降 2

[只批閱 首 項。]

- (ii) 產品質素下降 / 量度產出的費用較高 2

[只批閱 首 項。]

9. 2008.9(c)

- 可提升員工的工作意欲 2@
- 可減少監察員工工作表現的成本 最高 4
- 可與員工共同分擔經營風險
- 任何其他相關點

[只批閱 首兩 項。]

10. 2009.4

- (a)甲工作：件計 1
- 乙工作：時計 1

- (b) 一項優點：監察員工工作表現的費用較低 / 員工工作意欲較高 / 生產力較高 2

[只批閱 首 項。]

- 一項缺點：量度產出的費用較高 / 監察服務質素的費用較高

[只批閱 首 項。]

11.

2010.3

這種付酬方式較只是採用底薪的付酬方式對僱主的優點：

- 可提升店員推銷意欲
- 可減少監察店員工作表現的成本 2
- 店員也要承擔部分經營風險
- 任何其他相關點

[只批閱 首 項。]

這種付酬方式較只是採用佣金的付酬方式對僱主的優點：

- 可穩定員工團隊 2
- 任何其他相關點

[只批閱 首 項。]

12. 2013.Q10(b)

- (i) - 這會改善經理的工作意欲。 2@, 最高：2
- 任何其他相關點
- [只批閱 首 項。]
- (ii) - 這令收入較穩定，因為即使生意欠佳經理仍然獲發底薪。 2@, 最高：2
- 任何其他相關點
- [只批閱 首 項。]

13. 2015.Q10(b)

合約乙較合約甲優勝之處：

- 足球隊的東主分擔部分商業風險予球員乙，因為當球員乙沒有比賽 / 沒有進球時，所需支付給球員乙的酬勞較低。 @2;
- 足球隊的東主降低檢查球員表現的成本，因為球員乙在訓練和比賽的工作意欲較高。 最高：4
- 任何其他相關點

[只批閱首兩項]

14. 2017 Q2

- (a) (i) 以僱員的角度： 分數 (2)
- 努力工作 / 提供更好服務有可能獲取更高收入
- (ii) 以僱主的角度： (2)
- 監察侍應表現的成本下降及 / 或侍應努力工作和提供更好服務的意欲會較強

(b) 原因：

- 該廠商的規模可能變得過大，以致管理效率開始下降。
- 該廠商可能有大量未償還的貸款，以致再借貸的邊際成本上升。
- 該市場可能飽和，以致市場推廣成本上升。
- 任何其他相關點

[只批閱首兩項原因]

} @2  
最高：4

(iv) 量度外發廠廠工產出的成本太高／家僱的工作並不穩定。

分數  
(2)

16 2019 (Q9C1)

(c) 優點：可節省計算員工產量的成本。  
缺點：工作意欲未必很高。  
【只批閱首項優點和首項缺點】

(2)

(d) 優點：多勞多得。  
缺點：收入或欠穩定。  
【只批閱首項優點和首項缺點】

(2)

1. 1994.2

平均勞動生產力的意思是甚麼？請建議可提高勞動生產力的兩種方法。

(6 分)

2. 1997.10(c)

寫出勞工平均生產力的定義，並舉述兩項理由以解釋為甚麼專門化生產可以提高一國的勞工平均生產力。

(6 分)

3. 2000.11(c)

假設乙國的平均勞工生產力高於甲國。寫出平均勞工生產力的定義，並舉出三項原因解釋為何乙國有較高的平均勞工生產力。

(5 分)

4. 2002.3

	甲廠商	乙廠商
聘用工人數目	100	120
每工人工作時數	500	800
產出（單位）	100 000	144 000

計算兩廠商各自的勞工平均生產力，並列舉兩項理由說明為甚麼它們勞工平均生產力是不同的。

(4 分)

5. 2008.2

參閱下列某工廠的資料：

	2006	2007
聘用工人數目	40	50
每名工人工作時數	300	200
產出的數量單位	36 000	40 000

(a) 分別計算該工廠於 2006 年及 2007 年的勞工生產力。

(2 分)

(b) 舉出兩項可能的原因來解釋為什麼勞工生產力有所轉變。

(2 分)

6. 2010.2

參閱以下甲、乙廠商的資料，兩廠商都從事同一行業。

	甲廠商	乙廠商
聘用工人的數目	20	12
每名工人工作時數	100	200
產出的數量（單位）	100 000	120 000

(a) 解釋甲廠商的勞力供應是否大於乙廠商。

(3 分)

(b) 解釋乙廠商勞工的平均生產力是否高於甲廠商。

(3 分)

- (a) 來自歐盟的低技術工人的地域流動性會下降。因為簽證的要求令來自歐盟的工人到英國工作的成本上升。

分數  
(3)

經濟 勞力供應及勞工平均生產力 - 參考答案

1. 1994.2

平均勞工生產力是每人每小時的產出，亦可由總產量除以聘請勞工數目計算出來。

$$\text{平均勞工生產力} = \frac{\text{總產量}}{\text{聘請勞工數目}}$$

要提高勞工生產力，可提供勞工教育和訓練，使他們的工作技巧掌握得更純熟。

另外，增加資本物品的數量及提高其質素會提高勞工的工作效率，使勞工生產力提高。

2. 1997.10(c)

勞工平均生產力是指每單位勞力投入的產出。

專門化生產可以提高一國的勞工平均生產力的兩項理由如下：

首先，勞工會因不斷操作同一種工作而變得熟練，勞工變得更有效率。

另一方面，專門化可節省時間，每一位工人只須接受一個工序的訓練。

工人亦節省了從一個工序轉到另一個工序的時間。

3. 2000.11(c)

平均勞工生產力的定義是每單位勞力的產出。

三項導致乙國有較高的平均勞工生產力的原因如下：

首先，在提供教育和訓練方面，乙國可能較甲國優勝。因此，乙國的勞工的技術水平和生產力會較高。

其次，乙國的科技水平可能較甲國先進。這樣，乙國的勞工會有較高質素的機器裝備，他們的生產力也會提高。

最後，乙國有較佳的管理方式，導致生產因素的運用和協調更有效率，令工人的生產力較甲國高。

4. 2002.3

甲廠商： $100\,000 / (100 \times 500) = 2$  單位工時產出

乙廠商： $144\,000 / (120 \times 800) = 1.5$  單位工時產出

不同訓練和不同工作條件，可以導致它們的勞工平均生產力是不同的。

由於甲廠商為工人提供更佳訓練，使工人的生產力因而提高；此外，甲廠商為工人提供更佳工作條件，亦使工人的生產力提高。

5. 2008.2

(a) 2006年： $[36\,000 / (40 \times 300)] = 3$  單位 / 工時

2007年： $[40\,000 / (50 \times 200)] = 4$  單位 / 工時

(b) - 有更好的資本物品配合勞力的生產 / 機械化

- 更好的工作訓練 / 教育

- 更好的工作環境

- 更好的管理。例：實施分工

- 更大誘因。例：由時計改為件計

- 科技進步

- 任何其他相關點

[只抵閱 首兩項。]

1 @,  
最高：2



6. 2010.2

(a)

甲廠商的勞力供應 =  $(20 \times 100) = 2\,000$  工時。 (1)乙廠商的勞力供應 =  $(12 \times 200) = 2\,400$  工時。 (1)

∴ 結論是：甲廠商的勞力供應（是）小於（而）並非大於乙廠商。

(1)

(b)

乙廠商的勞工平均生產力 =  $(120\,000 / 2\,400) = 50$  單位產出/工時。 (1)甲廠商的勞工平均生產力 =  $(100\,000 / 2\,000) = 50$  單位產出/工時。 (1)

∴ 結論是：乙廠商的勞工平均生產力並非高於甲廠商（，兩者是一樣的）。

(1)

7.2017 Q12a

在英國人民投票反對留在歐盟（即英國脫歐）之前，來自歐盟的工人可以自由在英國工作，反之亦然。英國脫歐引起歐洲經濟震盪，下表顯示關於英國脫歐的一些看法：

英國政客： 歐盟低技術工人應該需要申請簽證才可在英國工作。	英國廠商東主： 這項對歐盟工人的新簽證要求影響到英國經濟的大部分廠商。
環球投資者： 英國政局不穩增加當地投資項目的風險。	歐盟官員： 英國國民前往歐盟國家遊覽或工作可能需要簽證。

(a) 參考英國政客的看法，解釋來自歐盟的低技術工人的勞工流動性會如何受影響。

(3分)

1. 1992.MC.Q4

以下哪一項被歸類為「消費」？

- A. 一位學生將未用過的聖誕咭留待來年聖誕節用。
- B. 一位學生協助清潔他的課室。
- C. 康太教導電視觀眾如何烹飪。
- D. 一位學生觀看音樂電視節目。

2. 1993.MC.Q4

下列哪幾項是三級生產者的例子？

- (1) 一流作曲歌星
  - (2) 一麵包師傅
  - (3) 一銀行櫃檯員
  - (4) 一貨車司機
  - (5) 一菲林顯影操作員
- A. 只有(1)、(2)、(5)
  - B. 只有(1)、(3)、(4)
  - C. 只有(1)、(3)、(5)
  - D. 只有(2)、(3)、(4)

3. 1994.MC.Q60

下列哪一種活動並非歸類為生產？

- A. 一位母親教導她的孩子閱讀。
- B. 一位兒子幫他的母親在家裡預備晚餐。
- C. 一位父親在家裡修理電視機。
- D. 一位女兒在家裡與她的小貓玩耍。

4. 1995.MC.Q4

瑪麗在日間是某製衣廠的車衣女工。晚上，她是某餐館的女侍應。瑪麗是\_\_\_\_\_生產者。

- A. 二級
- B. 三級
- C. 初級及二級
- D. 二級及三級

5. 1999.MC.Q13

羅先生是香港某津貼中學的一位全職教師。他是一位\_\_\_\_\_生產者，以\_\_\_\_\_方式支薪。

- A. 第二級 ..... 「時計」
- B. 第二級 ..... 「件計」
- C. 第三級 ..... 「時計」
- D. 第三級 ..... 「件計」

6. 2002.MC.Q12

下列哪一項關於生產的描述是正確的？

- A. 已發展國家沒有第一級生產。
- B. 學生為慈善機構賣旗籌款是一種生產活動。
- C. 一家印度餐廳的生產只涉及第三級生產。
- D. 維修車輛屬於第二級生產。

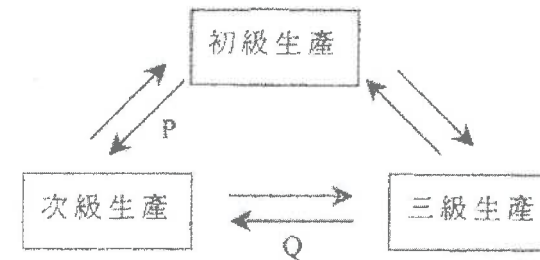
7. 2003.MC.Q15

下列哪項活動被歸類為經濟學上的生產？

- (1) 一位男士派送報紙。
  - (2) 一位女孩縫製她的裙子。
  - (3) 一位男孩售賣翻版光碟。
- A. 只有(1)、(2)
  - B. 只有(1)、(3)
  - C. 只有(2)、(3)
  - D. (1)、(2)、(3)

8. 2005.MC.Q14

下圖顯示各級生產的關係。P及Q分別代表甚麼？



- A. 服務；消費品
- B. 生產者物品；消費品
- C. 原料；服務
- D. 天然資源；生產者物品

9. 2007.MC.Q13

下表顯示香港就業分布的情況。

年份 \ 部門	1985	1997	2005
第一級生產	2.2 %	0.5 %	0.4 %
第二級生產	43.5 %	20.4 %	13.7 %
第三級生產	54.3 %	79.1 %	86.0 %
(總計)	100 %	100 %	100 %

由上表，我們可推論從 1985 年至 2005 年，

- A. 第一級及第二級生產的就業人數減少了，第三級生產的就業人數則增加了。
- B. 整體失業率維持不變。
- C. 第三級生產對本地生產總值的貢獻增加了。
- D. 第二級生產在就業上的重要性相對地減少了。

10. 2009.MC.Q14

在日本，一些度假酒店為顧客提供天然溫泉。這些度假酒店參與 \_\_\_\_\_，而這些溫泉被歸類為 \_\_\_\_\_。

- A. 初級生產 ..... 生產者物品
- B. 三級生產 ..... 生產者物品
- C. 二級生產 ..... 消費者物品
- D. 三級生產 ..... 消費者物品

11. 2010.MC.Q15

細閱下列某經濟的資料。

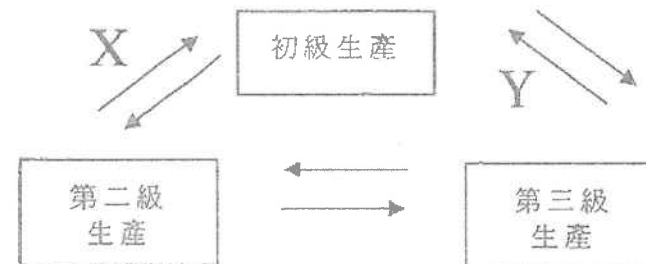
	佔總就業人口百分比 (%)	
	1999 年	2009 年
初級生產	39	5
第二級生產	21	30
第三級生產	40	65
(總計)	100	100

由上表，我們可得以下哪項結論？

- A. 在 2009 年，初級生產在總就業人口中的相對重要性下降了，因為它的勞工平均生產力增加了。
- B. 多數人在 2009 年的生活水準較在 1999 年為佳。
- C. 2009 年的第二級生產工人數目可能大於或小於 1999 年的數目。
- D. 在 2009 年，第三級生產佔本地生產總值的百分比最大。

12. 2011.MC.Q14

下圖顯示三個生產級別的相互關係。X和Y分別代表什麼？



- A. 生產者物品；服務
- B. 生產者物品；消費品
- C. 原料；服務
- D. 天然資源；生產者物品

13. SP.MC.Q5

下列哪項是共用品的例子？

- A. 某慈善機構提供的一個自修室
- B. 一個公眾足球場
- C. 一首李白的詩
- D. 一幢被棄置的工廠大廈

14. PP.MC.Q4

下列哪項對三類生產之間的關係的描述是正確的？

- A. 第一級生產為其他類型的生產提供原材料。
- B. 第二級生產毋須依賴第三級生產去製造完成品。
- C. 第三級生產只依賴第一級生產。
- D. 三類生產是獨立的，其中第三級生產為最重要。

15. 2012.MC.Q4

政府總部的某車位是預留給各政府官員使用的。這個車位屬\_\_\_\_\_，因為\_\_\_\_\_。

- A. 私用品 ... 它只作私人用途
- B. 私用品 ... 它不可能被同時共享
- C. 共用品 ... 政府擁有它
- D. 共用品 ... 沒有人享有其獨有使用權

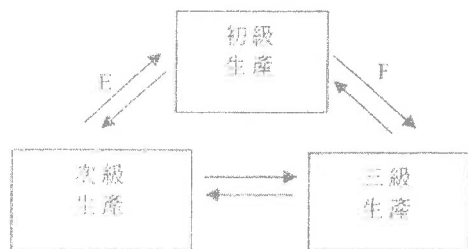
16. 2013.MC.Q6

下列哪項有關歐洲足球賽事的電視廣播的陳述是正確的？

- A. 若市民可在公眾場所如餐廳和卡拉 OK 欣賞賽事廣播，這些賽事的電視廣播便是共用品。
- B. 若某本地電視台購買了在本地的獨家播映權，這些賽事的電視廣播便是私用品。
- C. 這些賽事的電視廣播是免費物品，因為服務額外一位觀眾是沒有成本的。
- D. 若足球訓練學校播放這些比賽作教導兒童之用，這些賽事的電視廣播便是生產者物品。

17. 2014.MC.Q10

下圖顯示三個生產級別的關係。E 和 F 分別代表什麼？



- A. 消費者物品；原料
- B. 生產者物品；服務
- C. 原料；服務
- D. 生產者物品；原料

18. 2015.MC.Q23

下表顯示某經濟的就業分佈。

產業 \ 年	2010	2014
初級	0.4%	0.4%
二級	23.6%	18.5%
三級	76.0%	81.1%
整體	100%	100%

從上表我們可以得出以下結論：由 2010 年至 2014 年，

- A. 從事初級產業的工人數量維持不變。
- B. 整體就業率是相同的。
- C. 三級產業對本地生產總值的貢獻增加了。
- D. 以就業而言二級產業的相對重要性減低了。

19. 2016.MC.Q2

在香港電腦通訊展期間，主辦單位派發 USB 快閃隨身碟給參加者作為禮物。對主辦單位來說，這些 USB 快閃隨身碟是\_\_\_\_\_。

- (1) 經濟物品
- (2) 生產者物品
- (3) 消費者物品

- A. 只有 (2)
- B. 只有 (3)
- C. 只有 (1)、(2)
- D. 只有 (1)、(3)

20. 2016.MC.Q6

學校是提供教育服務的生產單位。以下是一些在學校常見的人物和物件：

- (1) 校舍
- (2) 教師
- (3) 學生
- (4) 教師擁有的私家車
- (5) 洗手間的洗手液

上述哪些是學校的資本？

- A. 只有 (1)、(4)
- B. 只有 (1)、(5)
- C. 只有 (2)、(3)
- D. 只有 (1)、(4)、(5)

04MC0 生產級別、消費品、資本物品、共用品及私用品 答案

1.	D	11.	C	21.	
2.	B	12.	A	22.	
3.	D	13.	C	23.	
4.	D	14.	A	24.	
5.	C	15.	B	25.	
6.	B	16.	D	26.	
7.	D	17.	D	27.	
8.	C	18.	D	28.	
9.	D	19.	C	29.	
10.	B	20.	B	30.	

1. 1990.MC.Q13

在經濟學上，下列哪一項為「土地」的例子？

- A.水塘
- B.工廠
- C.橡膠園
- D.礦藏

2. 1991.MC.Q10

以下哪一項是經濟學上「土地」的一個例子？

- A.填海所得的土地
- B.地下的原油
- C.貯藏於地下的汽油
- D.經改良的維多利亞海港

3. 1992.MC.Q7

中東戰爭導致科威特油井大火。救火隊員冒生命危險去撲滅火災。經濟學者將原油歸類為\_\_\_\_\_、抽油機為\_\_\_\_\_、救火隊員為\_\_\_\_\_、油井擁有者為\_\_\_\_\_。

- A.資本；資本；企業家；企業家
- B.資本；土地；勞力；勞力
- C.土地；土地；資本；企業家
- D.土地；資本；勞力；企業家

4. 1992.MC.Q8

「企業家職能」的主要功能是

- A.設計新產品。
- B.承擔風險。
- C.提供技術專才。
- D.對日常經營事務作出決定。

5. 1993.MC.Q8

下列哪一項屬於「土地」這一生產因素？

- A.西九龍填海區
- B.南中國海漁場
- C.麥理浩徑
- D.海洋公園

6. 1994.MC.Q15

在經濟學裏，政府中學的兩天操場被歸類為\_\_\_\_\_，而校長則被歸類為\_\_\_\_\_。

- A.資本；企業家
- B.資本；勞工
- C.土地；企業家
- D.土地；勞工

7. 1994.MC.Q16

資本不同於土地，例如：

- A.資本是由稀少的資源製造的，而土地則非。
- B.資本的供應彈性較低。
- C.資本的需求屬引伸需求，而土地的則非。
- D.資本為它的擁有者提供較高的回報。

8. 1995.MC.Q19

下列哪一項關於企業家職能的報酬的描述是正確的？

- A. 在商品售價前已可決定它有多少。
- B. 它可以是正值或負值。
- C. 它不跟隨其廠商的營業狀況好壞而變動。
- D. 它高於勞動力的報酬。

9. 1996.MC.Q15

下列哪一項是土地的一個例子？

- A.某能源廠從陽光收集到的太陽能
- B.在水塘收集到的雨水
- C.填海得來的土地
- D.早上農地上的露水

10. 1997.MC.Q13

下列哪一項在經濟學上被歸類為土地？

- A.海鮮酒家出售的活魚
- B.礦藏裏的銀礦
- C.西九龍新填海區的土地
- D.一塊開墾了的土地

11. 1998.MC.Q12

在經濟學上，下列哪一項歸類為土地？

- A.沿維多利亞港填海獲得的土地。
- B.在公海裏捕獲的魚。
- C.郊野公園裏種植的植物。
- D.新發現的地下原油。

12. 1998.MC.Q16

知識

- A.不是資本，因為它沒有一種形體。
- B.不是資本，因為它的擁有權不能轉讓。
- C.是資本，因為人人想擁它。
- D.是資本，因為它能增加將來的財富。

13. 1999.MC.Q11

土地有異於資本，由於

- A. 土地不能增加，而資本是可以增加的。
- B. 土地的需求彈性較資本為低。
- C. 使用土地沒有成本，而應用資本卻是有成本的。
- D. 土地的職業流動性較資本為低。

14. 2000.MC.Q13

下列哪一項被歸類為資本？

- A. 超級巨星的歌唱技巧。
- B. 人們在沙灘上享受的陽光。
- C. 海洋裏強烈的洋流。
- D. 沙漠裏的綠洲。

15. 2000.MC.Q14

「森林裏的野鳥在經濟學上被歸類為土地。」這句子是

- A. 正確的，因為牠們是「免費物品」。
- B. 正確的，因為牠們是天然資源。
- C. 不正確的，因為牠們可以移動而土地沒有地域流動性。
- D. 不正確的，因為牠們的供應並非固定。

16. 2001.MC.Q9

下列哪一項關於土地和資本的描述是正確的？

- A. 土地沒有職業流動性，但資本是有的。
- B. 製造土地沒有成本，但製造資本卻有成本。
- C. 土地是免費物品，但資本卻是經濟物品。
- D. 長遠而言，土地的数量是固定的，但資本的数量卻是可變的。

17. 2001.MC.Q11

下列哪一項被歸類為「資本」？

- A. 加州的陽光
- B. 科威特的油井
- C. 撒哈拉沙漠的沙
- D. 阿爾卑斯山上的新鮮空氣

18. 2001.MC.Q12

丹尼開設一家便利店，並聘用他的朋友國強打理店務。丹尼的工作被歸類為\_\_\_\_\_，而國強的工作被歸類為\_\_\_\_\_。

- A. 二級生產 ... 勞力
- B. 三級生產 ... 企業家職能
- C. 勞力 ... 二級生產
- D. 企業家職能 ... 三級生產

19. 2002.MC.Q15

在經濟學上，下列哪一項關於資本的描述是正確的？

- A. 在短期而言，固定資本的数量是不能改變的。
- B. 在所有生產因素當中，資本的回報率最高。
- C. 資本是製造出來以直接滿足消費者的慾望。
- D. 資本的地域流動性較土地的為高

20. 2003.MC.Q10

假如地鐵在新年前夕延長服務時間，下列哪些是地鐵延長服務時間的可變成本？

- (1) 電費支出
- (2) 司機的超時工作津貼
- (3) 向銀行借錢因而要支付的利息

- A. 只有(1)、(2)
- B. 只有(1)、(3)
- C. 只有(2)、(3)
- D. (1)、(2)、(3)

21. 2003.MC.Q16

下列哪一項關於「土地」的描述是正確的？

- A. 人力可增加土地供應。
- B. 土地供應可能隨時間而改變。
- C. 土地是「免費物品」，因為它是大自然的一部分。
- D. 土地是「缺乏的物品（又稱稀少性物品）」，因為它是不能製造出來的。

22. 2004.MC.Q14

米高奧雲是利物浦足球會一位著名足球員。在經濟學上，他提供\_\_\_\_\_服務，他的工作屬於\_\_\_\_\_生產。

- A. 企業家職能 ... 第二級
- B. 企業家職能 ... 第三級
- C. 勞力 ... 第二級
- D. 勞力 ... 第三級

23. 2005.MC.Q15

下列哪一項在經濟學上被歸類為土地？

- A. 加了化學肥料的泥土
- B. 植林區裡的樹木
- C. 蘊藏於地下的煤礦
- D. 經開墾的土地

24. 2006.MC.Q13

陳先生擁有一家印刷廠，聘用瑪莉做會計。該工廠屬\_\_\_\_\_生產而瑪莉提供\_\_\_\_\_這種生產要素的服務。

- A. 第二級 ... 勞力
- B. 第二級 ... 企業家職能
- C. 第三級 ... 勞力
- D. 第三級 ... 企業家職能

25. 2007.MC.Q16

下列哪一項對土地的描述是正確的？

- A. 未開採的原油是土地，因為它的供應是固定的。
- B. 海洋是土地，因為它沒有地域流動性。
- C. 降在一片農地上的雨水是土地，因為它是用作生產的天賜之物。
- D. 在熱帶森林裡砍下來的木頭是土地，因為它有生產用途。

26. 2007.MC.Q17

土地有別於資本是因為

- A. 土地的供應不能控制，而資本是可以的。
- B. 土地是「免費物品」，但資本是經濟物品。
- C. 土地的職業流動性較資本的為低。
- D. 土地的供應彈性較資本的為高。

27. 2007.MC.Q18

在經濟學上，計程車被歸類為\_\_\_\_\_；而計程車車主將車子出租予司機的收入被歸類為\_\_\_\_\_。

- A. 土地 ... 租值
- B. 資本 ... 利息
- C. 土地 ... 利息
- D. 資本 ... 利潤

28. 2008.MC.Q14

下列哪項是經濟學上的土地？

- (1) 在大嶼山一帶水域生活的中華白海豚
  - (2) 在香港海洋公園裡生活的大熊貓
  - (3) 在後海灣裡出現的候鳥
- A. 只有(1)、(2)
  - B. 只有(1)、(3)
  - C. 只有(2)、(3)
  - D. (1)、(2)、(3)

29. 2009.MC.Q15

下列哪項屬於生產要素「土地」？

- A. 在青藏高原上發現的瀕危動物藏羚羊。
- B. 在香港迪士尼樂園內種植的花朵。
- C. 在香港濕地公園內生活的鱷魚。
- D. 在青藏高原行駛的火車上供應的氧氣。

30. 2010.MC.Q17

下列哪項關於「土地」和「資本」的描述是正確的呢？

- A. 兩者的數量皆可人為地增加。
- B. 兩者皆為固定生產要素。
- C. 土地的供應較資本更具彈性。
- D. 土地較資本更缺乏地域流動性。

31. 2011.MC.Q16

在經濟學上，公立醫院裡的醫生提供\_\_\_\_\_的服務，而他涉及\_\_\_\_\_生產。

- A. 企業家職能 ... 第二級
- B. 企業家職能 ... 第三級
- C. 勞力 ... 第二級
- D. 勞力 ... 第三級

32. 2011.MC.Q17

陳小姐租用一間錄音室來錄製歌曲。在經濟學上，該錄音室被歸類為\_\_\_\_\_，而錄音室擁有人的租金收入被歸類為\_\_\_\_\_。

- A. 土地 ... 租值
- B. 土地 ... 利潤
- C. 資本 ... 利潤
- D. 資本 ... 利息

33. 2016.MC.Q7

學校是提供教育服務的生產單位。以下是一些在學校常見的人物和物件：

- (1) 校舍
- (2) 教師
- (3) 學生
- (4) 教師擁有的私家車
- (5) 洗手間的洗手液

長期而言，上述哪些是學校的可變生產要素？

- A. 只有 (1)、(5)
- B. 只有 (1)、(2)、(5)
- C. 只有 (2)、(3)、(4)
- D. (1)、(2)、(3)、(4) 及 (5)

34. 2016 Q.6

- (1) 校舍
- (2) 教師
- (3) 學生
- (4) 教師擁有的私家車
- (5) 洗手間的洗手液

1. 上述哪些是學校的資本？

- A. 只有 (1)、(4)
- B. 只有 (1)、(5)
- C. 只有 (2)、(3)
- D. 只有 (1)、(4)、(5)

35 2019 Q8

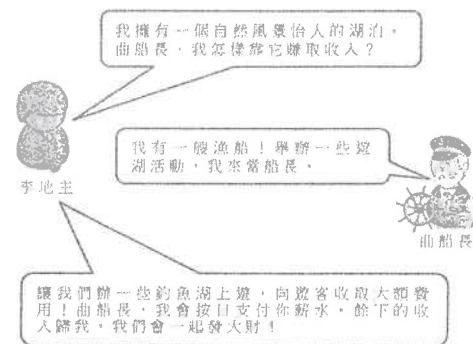
下列哪些是一家咖啡店的資本？

- (1) 咖啡機
- (2) 咖啡豆
- (3) 顧客帶來開派對用的遊戲機
- (4) 可供顧客免費借閱的漫畫書

- A. 只有 (1)、(2)
- B. 只有 (1)、(2)、(4)
- C. 只有 (1)、(3)、(4)
- D. 只有 (2)、(3)、(4)

36 2020 Q6

參閱以下對話。



已知土地的回報是租金，勞工的回報是工資，資本的回報是利息，企業家的回報是利潤。曲船長的收入包含了 \_\_\_\_\_，而李地主所賺取的餘下收入包含了 \_\_\_\_\_。

- A. 工資 ..... 利潤
- B. 利息 ..... 租金及利潤
- C. 工資及利息 ..... 租金
- D. 工資及利息 ..... 租金及利潤

04MC1 生產要素 生產要素的分類、報酬及特性- 多項選擇題 答案

1	D	11	D	21	B	31	D
2	B	12	D	22	D	32	D
3	D	13	A	23	C	33	B
4	B	14	A	24	A	34	B
5	B	15	B	25	C	35	B
6	B	16	B	26	A	36	D
7	A	17	B	27	B	37	
8	B	18	D	28	B	38	
9	D	19	D	29	A	39	
10	B	20	A	30	D	40	

1. 1991.MC.Q8

私家補習一般是依照「計時」方式支付報酬的。這是因為

- A. 這種計酬方法可以提高工作熱誠。
- B. 這種計酬方法可以保證有更佳考試成績。
- C. 補習費用可以較低。
- D. 這種工作的產出量難以量度。

2. 1994.MC.Q18

香港的酒店侍應一般都不是只收取固定月薪，而是在低廉的基本工資上再加上客人給予的小費。對酒店東主來說，後一種支酬方法較前一種為

優之處是

- A. 更容易計算侍應的產出。
- B. 所需侍應數目較少。
- C. 各侍應間關係更好。
- D. 侍應提供更佳服務。

3. 1995.MC.Q17

香港的中學教師一般都是以「時計方式」計酬的，因為

- (1) 教師擔當多種不同性質的工作。
- (2) 教師的產出不易量度。
- (3) 這可以提高工作的積極性。

- A. 只有(1)、(2)
- B. 只有(1)、(3)
- C. 只有(2)、(3)
- D. (1)、(2)及(3)

4. 1996.MC.Q16

某僱主改變了他對僱員的付薪方法，觀察得下列結果：

	舊方法	新方法
每工人每天的產出數量	200	300
水準以下的產品數目	20	50

舊方法極可能是\_\_\_\_\_而新方法極可能是\_\_\_\_\_。

- A. 時計...件計
- B. 件計...時計
- C. 分享利潤法...時計
- D. 件計...分享利潤法

5. 1998.MC.Q17

私人鋼琴教師的酬勞一般都是「以時計薪」而非「以件計酬」。下列哪幾項是正確的？

- (1) 他們傾向工作更長時間。
- (2) 僱主不鼓勵他們每課倉猝地教授更多樂章。
- (3) 他們的產出不易量度。

- A. 只有(1)、(2)
- B. 只有(1)、(3)
- C. 只有(2)、(3)
- D. (1)、(2)、(3)

6. 1999.MC.Q51

假設部分公務員的支薪方式由「時計」改變「件計」。這種改變 不會 使

- A. 他們的收入增加。
- B. 他們的工作質素改善。
- C. 監督他們工作的成本上升。
- D. 他們完成的工作數量更多。

7. 2000.MC.Q15

參閱以下的招聘職員廣告：

ABC 公司 信差	XYZ 公司 信差
職位要求：20-30 歲 男性/女性 薪酬：每月\$8,000 及 每次派遞另加酬勞\$5	職位要求：20-30 歲 男性/女性 薪酬：每月\$12,000

- A. XYZ 公司量度薪酬支出的成本較高。
- B. XYZ 公司信差的工作熱誠較高。
- C. ABC 公司信差的收入較高。
- D. ABC 公司監察信差的成本較低。

8. 2002.MC.Q16

陳太發現她的員工在舊有的薪酬制度下是懶惰的。現在，她採用另一套薪酬制度，因而公司的產出無論量與質都有所改善。這可能是因為舊薪酬制度是\_\_\_\_\_而新薪酬制度是\_\_\_\_\_。

- A. 件計.....時計
- B. 件計.....利潤分享
- C. 時計.....件計
- D. 時計.....利潤分享



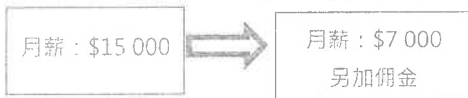
9. 2003.MC.Q18

某工廠東主發現在他改變支付員工薪酬的方式後，員工生產力提高，但產品質素下降。舊的薪酬方式最有可能是\_\_\_\_\_而新的薪酬方式最有可能是\_\_\_\_\_。

- A. 時間薪酬.....作工
- B. 作工.....時間薪酬
- C. 利潤分享制.....時間薪酬
- D. 作工.....利潤分享制

10. 2006.MC.Q16

假設 ABC 公司聘用的推銷員的工資制度改變如下：



結果：

- A. 計算工資的成本下降。
- B. 監察推銷員工作表現的成本下降。
- C. 推銷員的收入下降。
- D. 推銷員的服務水平下降。

11. 2009.MC.Q18

在下列人士中，誰的僱主要付出最高成本以監察其工作表現？

- A. 一位辦公室文員，他收取固定月薪作為報酬。
- B. 一位地產經紀，他收取佣金作為報酬。
- C. 一位導遊，他收取小費作為報酬。
- D. 一位明星，他與製片公司分享利潤作為報酬。

12. PP.MC.Q6

某工人是以他所生產的產品數量計算工資而非領取月薪。下列哪項陳述是不正確的？

- A. 該工人傾向提高其產量。
- B. 產出的質素傾向較低。
- C. 監察該工人駱懶的成本減低。
- D. 該工人的收入會增加。

13. 2012.MC.Q7

一些物業經紀行以基本薪金加佣金支付員工的薪金，因為

- (1) 這可提高員工的工作意欲。
- (2) 這可將部分經營風險轉嫁給員工。
- (3) 計算工資的成本較低。

- A. 只有(1)、(2)
- B. 只有(1)、(3)
- C. 只有(2)、(3)
- D. (1)、(2)及(3)

14. 2013.MC.Q7

中學教師一般按工時支薪，因為

- A. 這可改善他們的工作意欲。
- B. 他們偏好穩定收入。
- C. 大部分教師都是勤力的一
- D. 量度他們產出的成本很高

15. 2016.MC.Q10

下列哪位最有可能以件工計酬？

- A. 一位報章專欄作家
- B. 一位小學教師
- C. 一位消防員
- D. 一位巴士司機

16. 2021.Q5

	工廠 A	工廠 B
聘用的工人數目	90	78
每位工人工作時數 / 每月	125	155
總產出 / 每月	79 850	82 800
產出質素不達標的百分比	37%	11%

參閱上表，下列哪項最能解釋工廠 A 和工廠 B 產出質素的差別？

- A. 與工廠 B 相比，工廠 A 聘請較少勞工服務。
- B. 與工廠 B 相比，工廠 A 進行較高度的分工。
- C. 與工廠 B 相比，工廠 A 機械化的程度較高。
- D. 工廠 A 是以件計薪而工廠 B 是以時計薪。

17. 2021 Q7

某名牌產品店的售貨員是按下列安排計薪：

每月薪金：HK\$12 000  
遠標花紅：當遠成銷售目標，會  
發放花紅。

從該店的角度看，下列哪些是採用上述安排而非只以時計薪的可能原因？

- (1) 售貨員的生產力會較高。
- (2) 監察服務質素的成本會較低。
- (3) 每月賺取的薪金有可能較高。

- A. 只有 (1) 及 (2)
- B. 只有 (1) 及 (3)
- C. 只有 (2) 及 (3)
- D. (1) 及 (2) 及 (3)

04MC2 生產要素 – 付酬方式 – 多項選擇題 答案

1.	D	11.	A
2.	D	12.	D
3.	A	13.	A
4.	A	14.	D
5.	D	15.	A
6.	B	16.	D
7.	D	17.	A
8.	D	18.	
9.	A	19.	
10.	B	20.	

1. 1992.MC.Q11

夏家與黃家為鄰，他們的小孩子都在同一幼稚園就讀。夏先生送他們上學，黃太太接他們放學回家。這是一個\_\_\_\_\_的例子。

- A. 分工
- B. 規模不經濟
- C. 報酬遞減
- D. 絕對優勢

2. 1993.MC.Q15

專業化對經濟有好處是因為

- A. 可有更多資源使用在生產資本物品上。
- B. 可免受保護主義的威脅。
- C. 失業的可能性較低。
- D. 生產因素的生產力獲得提高。

3. 1994.MC.Q59

下列哪一項 **不是** 分工的好處？

- A. 有更大工作熱誠
- B. 勞動生產力更高
- C. 需要較少量的工具
- D. 合適的人員做合適的工作

4. 1999.MC.Q52

下列哪一項 **並非** 分工的好處？

- A. 可享有更多規模經濟
- B. 經濟地使用工具
- C. 提高勞工生產力
- D. 透過更多練習使技巧得以改進

5. 2000.MC.Q19

若實施分工，

- A. 工人會有更大的工作滿足感。
- B. 機器的使用率會更高。
- C. 生產商會生產更多種類的貨品以適合顧客的不同口味。
- D. 工人的職業流動性會增加。

6. 2001.MC.Q16

下列哪一項是分工的好處？

- A. 有更多種類的物品和服務以供選擇。
- B. 工人更有工作熱誠。
- C. 工人的職業流動性較高。
- D. 訓練工人需時較少。

7. 2003.MC.Q 17

在一所中學裏，不同的教員負責任教不同的科目。下的哪項是上述安排的原因？

- (1) 減低訓練成本。
  - (2) 熟能生巧。
  - (3) 不同教員擅長任教不同的科目。
- A. 只有(1)、(2)
  - B. 只有(1)、(3)
  - C. 只有(2)、(3)
  - D. (1)、(2)、(3)

8. 2004.MC.Q 17

若實施分工，

- A. 廠商會享有規模經濟。
- B. 工人的職業流動性會更高。
- C. 工人會有更多收入。
- D. 每工時產出會上升。

9. 2006.MC.Q15

若實施分工，工人的職業流動性會\_\_\_\_\_，因為\_\_\_\_\_。

- A. 提高 …… 勞工生產力獲得提升
- B. 提高 …… 資本工具更能物盡其用
- C. 降低 …… 工作變得沉悶單調
- D. 降低 …… 工人只獲得某一特定技能的培訓

10. 2007.MC.Q14

分工可提高勞工生產力，其中一個原因是

- A. 使用較少工具
- B. 增加地域流動性。
- C. 節省時間，因為工人毋須轉換工序。
- D. 不同工序之間的依賴性較高。

11. 2009.MC.Q17

下列哪項是因實施分工而導致平均勞工生產力上升的一個可能的原因？

- A. 所需資本物品較少。
- B. 工人的職業流動性較高。
- C. 工人的總工資收入較高。
- D. 節省了工人在不同工序之間轉換工作所需的時間。

12. 2010.MC.Q16

一家大型超市連鎖店設有下列部門：市場推廣、銷售、送貨、會計及管理。上述安排有以下的優點：

- A. 員工會有更大的工作誘因。
- B. 可以向顧客提供更多種類的服務。
- C. 該超市連鎖店可享有規模經濟。
- D. 該超市連鎖店可節省訓練員工的成本。

13. 2011.MC.Q15

下列哪項是分工的好處？

- A. 資本物品可以更物盡其用。
- B. 失業的風險下降。
- C. 不同的生產階段變得更獨立。
- D. 可以提供更多物品和服務的選擇。

14. 2018.Q11

一位教授決定改變所任教科目的試卷評改方法：他不再要求其助教們批改他們所屬同別的整份試卷，而是指派每位助教批改全體考生整份試卷的其中一題。下列哪項情況可能會出現？

- (1) 評改會更準確，因為熟能生巧。
  - (2) 訓練的時間會減少，因為每位助教只需要了解評卷參考的一部分。
  - (3) 評改所需的工具會減少，例如需用較少的紅色原子筆。
- A. 只有 (1)、(2)
  - B. 只有 (1)、(3)
  - C. 只有 (2)、(3)
  - D. (1)、(2)及 (3)

04MC3 分工與專門化 多項選擇題 答案

1.	A	11.	D
2.	D	12.	D
3.	A	13.	A
4.	A	14.	A
5.	B	15.	
6.	D	16.	
7.	D	17.	
8.	D	18.	
9.	D	19.	
10.	C	20.	

1. 1990.MC.Q20

下列哪些情況可使勞力的供應增加？

- (1)提高法定最低工作年齡
  - (2)政府推出失業救濟計劃
  - (3)在工資不變的情況下，工人願意工作更長時間
  - (4)延遲退休工作年齡
- A. 只有(1)、(2)
  - B. 只有(1)、(4)
  - C. 只有(2)、(3)
  - D. 只有(3)、(4)

2. 1991.MC.Q9

以下哪一項會提高勞工平均生產力？

- A. 人口增加
- B. 延長工作時間
- C. 有更多機會可接受專上教育
- D. 熟練工人移民到外國去

3. 1991.MC.Q56

以下哪一項不會影響勞工的供應？

- A. 人口數目
- B. 人口組成
- C. 法定最低工作年齡
- D. 勞工生產力

4. 1992.MC.Q10

以下哪項可提高工廠工人的生產力？

- (1)放棄「件計」工資制度
  - (2)裝設更多機器
  - (3)從中國大陸輸入勞工
  - (4)提供較佳的工作環境
- A. 只有(1)、(2)
  - B. 只有(1)、(3)
  - C. 只有(2)、(4)
  - D. 只有(3)、(4)

5. 1993.MC.Q2

下列哪一項能提高一經濟中工人的平均生產力？

- (1)擴充強迫教育至較高程度
  - (2)提高退休年齡
  - (3)增加資本物品的數量
  - (4)增加失業救濟金
- A. 只有(1)、(3)
  - B. 只有(1)、(4)
  - C. 只有(2)、(3)
  - D. 只有(2)、(4)

6. 1993.MC.Q19

下表顯示一工廠在 1991 年和 1992 年生產衫襪的情況。

年份	1991	1992
僱用工人數目	20	25
生產衫襪數目	90 000	80 000
每名工人的工時	3 000	2 000

在 1992 年，這工廠僱用較\_\_\_\_\_勞動力。該年的勞工平均生產力較\_\_\_\_\_。

- A. 多；高
- B. 多；低
- C. 少；高
- D. 少；低

7. 1994.MC.Q17

以下哪種因素有可能使本港的勞力供應增加？

- (1)政府再聘用一些已退休的公務員
  - (2)每年有更多公眾假期
  - (3)男性佔較高的人口比例
  - (4)工人的教育水平提高
- A. 只有(1)、(3)
  - B. 只有(1)、(4)
  - C. 只有(2)、(3)
  - D. 只有(2)、(4)

8. 1995.MC.Q16

下列哪些情況會增加勞工的平均生產力？

- (1) 較大的勞動人口  
 (2) 工人的教育水平及訓練較佳  
 (3) 生產的組織較佳  
 (4) 較少公眾假期

- A. 只有(1)及(2)  
 B. 只有(1)及(4)  
 C. 只有(2)及(3)  
 D. 只有(3)及(4)

9. 1996.MC.Q12

下列哪一項會使一國的勞力供應減少？

- A. 職位空缺減少。  
 B. 大學提供更多學位以供學生就讀。  
 C. 勞工的退休年齡提高了。  
 D. 人口移民數目增加。

10. 1996.MC.Q13

參閱下表，然後回答 1996Q13 及 1996Q14：

	甲廠商	乙廠商
聘用工人數目	200	120
每一工人的工作時數	1 000	1 900
產品數量	100 000	110 000

在下列各項比較中，哪一項是正確的？

- A. 乙廠商工人的生產力較高。  
 B. 乙廠商聘用較多勞力。  
 C. 乙廠商享有較大規模經濟。  
 D. 乙廠商的生產較為資本密集。

11. 1996.MC.Q14

下列哪一項是甲、乙廠商有不同的勞工生產力的可能原因？

- A. 甲廠商工人有較佳訓練。  
 B. 乙廠商有較佳的工作環境。  
 C. 甲廠商有較多勞工。  
 D. 乙廠商的工資率較高。

12. 1998.MC.Q14

在下列哪些情況下，勞工平均生產力會上升？

- (1) 機器數目有所增加。  
 (2) 勞動人口數目有所增加。  
 (3) 勞工的健康狀況有所改善。  
 (4) 勞工每天工作時數有所增加。

- A. 只有(1)、(2)  
 B. 只有(1)、(3)  
 C. 只有(2)、(4)  
 D. 只有(3)、(4)

13. 1998.MC.Q15

下列哪一項會導致香港的勞力供應增加？

- A. 輸入勞工的需求增加。  
 B. 全部婦女不准超時工作。  
 C. 更多僱主提供幼兒托管服務予其僱員。  
 D. 有更多職位空缺。

14. 1999.MC.Q14

下列哪一項會增加香港的勞力供應？

- A. 提供更多日間託管兒服務。  
 B. 付酬方式由「件計」改為「時計」。  
 C. 增加每年公眾假期的日數。  
 D. 移民往外國的人數下降

15. 1999.MC.Q20

參閱下表：

	甲廠商	乙廠商
聘用的工人數目	100	60
每個工人的工作時數	350	650
產量 (單位)	140 000	156 000

下列哪一項對於甲廠商和乙廠商的描述是正確的？

- A. 乙廠商的平均勞動生產較甲廠商高。  
 B. 甲廠商的平均勞動生產較乙廠商高。  
 C. 甲廠商的勞力供應較乙廠商多。  
 D. 乙廠商的勞力供應較甲廠商多。

16. 2001.MC.Q13

在下列哪一項情況中，香港的勞力供應會減少？

- A. 所有香港的大學都減少招收全日制學生。  
 B. 香港有更多公司在上班時間提供培訓課程予他們的員工。  
 C. 更少香港居民獲批准移民到美國。  
 D. 香港政府提供津貼予私人機構安裝高科技儀器。

17. 2001.MC.Q15

參閱下表：

	甲廠商	乙廠商
聘用工人數目	60	40
總工作時數	1,200	1,000
總產量 (單位)	10,800	9,500

以下哪一項是甲、乙廠商有不同勞工生產力的一個可能原因？

- A. 乙廠商的工作環境較佳。  
 B. 甲廠商的分工程度較高。  
 C. 甲廠商享有較大的規模經濟。  
 D. 乙廠商使用較為勞力密集的生產方法。

18. 2002.MC.Q14

勞工的平均生產力較高，意指

- A. 每工人的平均產出較高。  
 B. 每人的邊際產量較高。  
 C. 每工人的總產出較高。  
 D. 每單位勞力的總產量較高。

19. 2004.MC.Q16

在下列哪一種情況下，勞力供應會增加？

- A. 有更多職位空缺。  
 B. 有更多大學提供四年大學學位課程，以代替三年大學學位課程。  
 C. 一年裡的公眾假期減少。  
 D. 退休年齡下降。

20. 2005.MC.Q16

參閱下表：

經濟體系	甲	乙	丙	丁
工人數目	20	5	30	15
每工人每星期的工作時數	5	25	5	20
總產出	11 000	12 000	9 000	10 000

哪一經濟體系的勞力供應最高？

- A. 甲  
 B. 乙  
 C. 丙  
 D. 丁

21. 2005.MC.Q17

下列哪項會增加勞工的平均生產力？

- A. 僱用更多工人  
 B. 延長工作時數  
 C. 由時計工資轉為件計工資  
 D. 減低分工的程度

22. 2006.MC.Q14

下列哪項會提高勞工的平均生產力？

- A. 勞動人口增加。  
 B. 公眾假期減少。  
 C. 先進機械機器的數量增加。  
 D. 勞工的職業流動性減低。

23. 2007.MC.Q15

	甲國	乙國
工人數量	100	X
工人平均每天工作時數	8	Y
總產量 (單位)	7200	7200

上表中，若乙國的勞工生產力較高，X 和 Y 的可能值可能分別是\_\_\_\_\_和\_\_\_\_\_。

- A. 140 ... .. 6  
 B. 150 ... .. 5  
 C. 200 ... .. 4  
 D. 300 ... .. 3

24. 2009.MC.Q16

若政府提高法定退休年齡，

- A. 工人的職業流動性會增加。
- B. 平均勞工生產力會增加。
- C. 勞力供應會增加。
- D. 廠商會實施更多分工。

25. 2010.MC.Q18

下列哪項會提升勞工的平均生產力？

- (1) 晉升職位的數目增加
- (2) 退休工人的數目增加
- (3) 生產方式變得更加資本密集

- A. 只有(1)、(2)
- B. 只有(1)、(3)
- C. 只有(2)、(3)
- D. (1)、(2)、(3)

26. 2010.MC.Q20

下列哪項會減少香港的勞力供應？

- A. 中國內地有更佳及更多就業機會。
- B. 香港實施低技術工人的最低工資法。
- C. 香港新僱稅的平均稅率下降。
- D. 提高香港人的退休年齡。

27. 2011.MC.Q18

下列哪項會提高勞工的平均生產力？

- (1) 擴展免費教育至大專程度
- (2) 提高退休年齡
- (3) 提供更多職業訓練予勞工

- A. 只有(1)、(2)
- B. 只有(1)、(3)
- C. 只有(2)、(3)
- D. (1)、(2)、(3)

28. SP.MC.Q6

下列哪項會提高勞工的平均生產力？

- A. 輸入外地專才的數目增加
- B. 平均工時增加
- C. 禁止使用對環境有害的機械
- D. 削減政府對持續進修的補貼

29. 2012.MC.Q6

下列哪項政策會令香港的勞動人口增加？

- A. 免費教育由九年延長至十二年
- B. 提高資本投資者入境計劃的最低資本要求
- C. 增加內地優才入境計劃的限額
- D. 訂立最高工時

30. 2012.MC.Q10

參考下表。

	甲工廠	乙工廠
聘用勞工的人數	60	10
總工作時數	2 000	5 000
總產量 (單位)	12 000	20 000

下列哪項是甲工廠和乙工廠勞工生產力有差別的可能原因？

- A. 乙工廠提供較多員工訓練。
- B. 乙工廠使用較多機器。
- C. 甲工廠的工作環境較差。
- D. 甲工廠採用計件工資而乙工廠採用計時工資。

31. 2014.MC.Q9

下列哪項會增加某經濟的勞力供應？

- A. 更多廠商允許男性僱員請侍產假。
- B. 更多公司為加班的僱員提供免費交通。
- C. 大學為中學畢業生開辦更多全日制副學士學位課程。
- D. 政府對公務員實施最高工時。

32. 2015.MC.Q6

細閱下表。

	工廠甲	工廠乙
全職工人的人數	25	0
兼職工人的人數	0	50
全職工人的平均工作時數	8	0
兼職工人的平均工作時數	0	6
總產出 (單位)	12 000	15 000

下列哪項是工廠甲和工廠乙在勞工生產力上有差異的一個可能原因？

- A. 工廠甲以時薪支付工資，工廠乙則以件工計算。
- B. 工廠甲向工人提供較多的訓練。
- C. 工廠乙聘請的兼職工人有較高技術。
- D. 工廠乙運用較多資本物品。

33. 2016.MC.Q8

在下列哪種情況下，某國的勞力供應會增加？

- A. 向現有的勞動人口提供更多訓練。
- B. 法定最低工作年齡由 16 歲降低至 15 歲。
- C. 外國直接投資增加。
- D. 政府提高薪俸稅率。

34. 2047.MC.11

某廠商的投入與產出的關係如下：

	第一年	第二年
工人數目	30	35
每日每名工人的工作時數	10	8
產出數量 (單位)	3 000	2 900

根據上述資料，勞力供應會 \_\_\_\_\_，而平均勞工生產力會 \_\_\_\_\_。

- A. 增加，增加
- B. 增加，減少
- C. 減少，增加
- D. 減少，減少

35. 2018.Q9

若 \_\_\_\_\_，香港的勞力供應會增加。

- A. 更多香港人移民外國
- B. 更多香港學生入讀大專院校
- C. 政府降低「優才入境計劃」的資歷要求
- D. 所有在職父親可多得兩天的侍產假

36. 2018.Q10

下表顯示某廠商投入與產出的關係。其生產所需的投入只有資本和勞力。

資本 (單位)	勞力 (單位)	勞力的邊際產出 (單位)
2	1	5
2	2	7
2	3	9
2	4	8
2	5	6

在勞力的數量是 \_\_\_\_\_ 單位時，勞力的平均產出最高。

- A. 2
- B. 3
- C. 4
- D. 5

37. 2019.Q6

在 2018-19 年度財政預算案，香港政府將持續維修基金的資助上限由每位申請人 \$10000 提高至 \$20000，以鼓勵市民繼續維修。

該政策會引致將來 \_\_\_\_\_ 和 \_\_\_\_\_ 上升。

- A. 勞力供應 ..... 地域流動性
- B. 勞力供應 ..... 職業流動性
- C. 勞工生產力 ..... 地域流動性
- D. 勞工生產力 ..... 職業流動性

1. 1990.MC.Q9

一般來說，禁售象牙對\_\_\_\_\_的雕刻工人打擊最大，因為他們的\_\_\_\_\_流動性比較\_\_\_\_\_。

- A. 較年青，職業，低
- B. 較年青，地理，高
- C. 較年長，職業，低
- D. 較年長，地理，高

2. 1991.MC.Q6

假設政府對於在同一所學校裏服務超過 10 年的教員提供房屋津貼。此舉會\_\_\_\_\_這批教員的職業流動性和\_\_\_\_\_他們的地理流動性。

- A. 增加，增加
- B. 減少，減少
- C. 增加，減少
- D. 減少，增加

3. 1992.MC.Q9

以下哪一項可增加勞工的職業流動性？

- A. 發展高科技工業
- B. 設立更多專業團體
- C. 擴展職業訓練課程
- D. 伸延地下鐵路網絡

4. 1993.MC.Q14

律師的職業流動性普遍為低，因為

- A. 他們享有社會地位。
- B. 他們在其他行業並無專長。
- C. 他們轉職的機會成本高。
- D. 他們是律師公會會員。

5. 1995.MC.Q21

下列哪些情況會提高勞工的職業流動性？

- (1) 技術更專門化
  - (2) 有更多關於職位空缺的訊息
  - (3) 工會權力更大
  - (4) 提供再培訓計劃
- A. 只有(1)及(2)
  - B. 只有(1)及(3)
  - C. 只有(2)及(4)
  - D. 只有(3)及(4)

04MC4 生產要素：勞力供應、勞工平均生產力- 多項選擇題 答案

1	D	11	A	21	C	31.	B
2	C	12	B	22	C	32.	B
3	D	13	C	23	B	33.	B
4	C	14	A	24	C	34.	C
5	A	15	D	25	B	35.	C
6	C	16	B	26	A	36.	C
7	A	17	A	27	B	37.	D
8	C	18	D	28	A	38.	
9	B	19	C	29	C	39.	
10	B	20	D	30	D	40.	



6. 1999.MC.Q16

下列哪一類人的職業流動性較高？

- A. 大學裏的經濟學教授
- B. 會計師
- C. 售貨員
- D. 公司秘書

7. 2001.MC.Q14

假設政府開始從中國內地招聘有經驗的普通話教師來港任教。這會\_\_\_\_\_中國內地有經驗普通話教師的\_\_\_\_\_流動性。

- A. 減少 ... 職業
- B. 減少 ... 地域
- C. 增加 ... 職業
- D. 增加 ... 地域

8. 2004.MC.Q15

為了吸引更多內地專才來港工作，有些公司既話向他們提供房屋津貼，此舉會\_\_\_\_\_這些內地專才的\_\_\_\_\_。

- A. 減少... 職業流動性
- B. 增加 ... 職業流動性
- C. 減少... 地域流動性
- D. 增加 ... 地域流動性

9. 2008.MC.Q15

下列哪些情況會提高勞工的職業流動性？

- A. 改善運輸網絡
- B. 收緊獲取執業牌照的規限
- C. 提供更多再培訓計劃
- D. 提高法定退休年齡

10. 2012.MC.Q5

當 \_\_\_\_\_，該經濟中勞工的職業流動性會上升。

- A. 跨境鐵路網有所改善
- B. 勞力市場中有更多類型的工作需要牌照
- C. 持續進修能獲免稅額
- D. 生產更高度專門化

11. 2014.MC.Q11

下列哪項最有可能增加某經濟中勞工的職業流動性？

- A. 工會有更大的討價還價能力為其會員爭取福利。
- B. 勞工處為再培訓計劃的參加者提供學費回贈。
- C. 高速公路的擴展改善了交通網絡。
- D. 政府停止為職位空缺網上資料系統提供資金。

12. 2015.MC.Q4

若 \_\_\_\_\_，勞工的 \_\_\_\_\_ 流動性會下降。

- A. 政府在所有火車站推行「城市單車租賃計劃」 ..... 地域
- B. 數家大公司在其辦公室設立幼兒託管中心 ..... 地域
- C. 政府所提供的交通津貼因財政赤字而減少 ..... 職業
- D. 政府在更多的行業規定從業員須具備執業牌照 ..... 職業

13. 2016.MC.Q9

就職業流動性而言，下列哪項的流動性最高？

- A. 一位職業籃球員
- B. 一位持牌水喉匠
- C. 一位律師行的大學畢業實習生
- D. 一位會計師行的文員

14. 2017 Q7

某些中國的餐廳發現能運用機械人代替部分工人接待顧客而不會令產出下降。這會 \_\_\_\_\_。

- A. 增加餐廳工人的供應量。
- B. 增加這些餐廳的勞工生產力。
- C. 減低餐廳工人的地域流動性。
- D. 減低餐廳工人的職業流動性。

15. 2017 Q22

「鼓勵就業交通津貼計劃」協助低收入有職人士減低往返工作地點的交通費負擔，並鼓勵他們就業。工人只要符合指定條件，例如每月收入限額及資產限額，便有資格獲得津貼。

在上述計劃推行後，下列哪些會可能出現？

- (1) 勞力供應會增加。
  - (2) 勞工生產力會增加。
  - (3) 勞工的地域流動性會增加。
  - (4) 收入平均會下降。
- A. 只有 (1)、(2)
  - B. 只有 (3)、(4)
  - C. 只有 (1)、(3) 及 (4)
  - D. 只有 (2)、(3) 及 (4)

04MC5 生產要素：勞工的地域流動性及職業流動性 - 多項選擇題 答案

1.	C	11.	B
2.	B	12.	D
3.	C	13.	B
4.	C	14.	B
5.	C	15.	C
6.	C	16.	
7.	D	17.	
8.	D	18.	
9.	C	19.	
10.	C	20.	