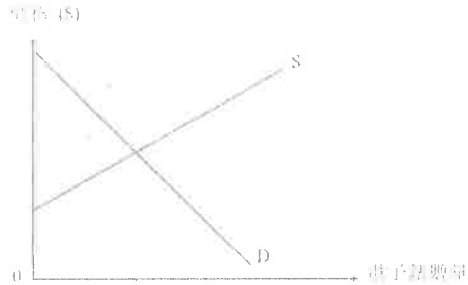


1. SP.Q9(a)(b)

下圖顯示電子錶的市場供需情況。假設電子錶的市場屬於完全競爭。

圖一



(a) 在圖一顯示消費者盈餘及生產者盈餘。 (2 分)

假設科技改進導致生產電子錶的邊際成本下降。

(b) 上述的科技改進會如何影響電子錶的市價、交易量、消費者盈餘及生產者盈餘？ (5 分)

2. PP.Q4

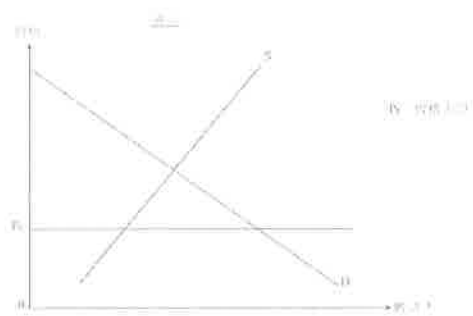

(a) 什麼是「效率損失」(deadweight loss)? (2 分)

(b)

一位老師說：「有效的價格上限可能增加消費者盈餘。」  
他的學生回答：「若是這樣，該價格上限可能提升經濟效率！」

(i) 你可意該老師的說法嗎？以圖一說明你的答案。 (3 分)

(ii) 你可意該學生的說法嗎？以圖二輔助，解釋你的答案。 (5 分)



3. PP.Q12(b)(i)

於 2010 年 11 月，電子動態版清明上河圖在本港展出。600 000 張門票透過城市電腦售票網售票處和互聯網發售，每張作價 \$10。門票在短時間內售罄。很多市民投訴他們未能購得門票。

(b) 有些人付出 \$200 從黃牛黨購買一張門票。

(i) 寫出上述個案中價格所發揮的功能。 (1 分)

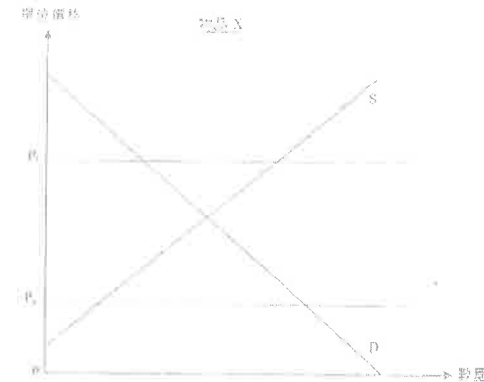
4. 2012.Q5(c)

甲國對物品 X 實施一有效的價格上限。

假設該有效的價格上限被調低了。該價格上限的轉變會改善經濟效率嗎？以圖輔助，解釋你的答案。 (4 分)

5. 2014.Q3

圖一顯示物品 X 的市場供應和市場需求曲線。假設政府將價格下限由  $P_a$  提升至  $P_b$ 。



圖一

以圖一輔助，解釋這樣提升價格下限能否改善經濟效率。 (6 分)

6. 2014.Q9(a),(b)

許多國家以國民健康為理由考慮徵收「汽水稅」。假設某國決定對賣家在市場中售出的每瓶汽水徵收一項從量稅。

(a) 在什麼條件下該國的汽水買家會比賣家承受較高的稅項負擔？以一供需圖加以說明。 (5 分)

(b) 利用 (a) 部的圖，表示在開徵該稅項後消費者盈餘的改變。 (1 分)

7. 2015.Q3

增加某物品在市場的有效配額會令效率損失減少。你同意嗎？以圖輔助，加以解釋。 (6 分)

8. 2015.Q4(a)

細閱下列的新聞摘要。

人們對小型單位有強烈偏好，以致近月 400 平方呎以下單位的樓價被推至新高，預期未來會有越來越多的小型單位出售。

(a) 從以上新聞摘要找出價格的一項功能，並加以解釋。 (2 分)

9. 2015.Q12(d)

研究顯示內地旅客的「個人遊」計劃為香港帶來經濟利益。不過，越來越多的香港居民要求政府減少透過該計劃到港的內地旅客人數。

(d) 部分居民投訴大量旅客令公共交通系統不勝負荷，導致所有乘客的交通時間大幅增加。以界外影響為依據，解釋為什麼當交通系統過分擁擠時可能出現無效率。(4分)

10. 2016.Q4

近年來，很多顧客喜愛在餐廳拍攝他們享用的食物，並將照片在社交媒體分享。不過一些高級餐廳不准顧客拍照，解釋顧客「拍照並分享」這行為如何可能帶來界外影響。(3分)

11. 2016.Q11(b)

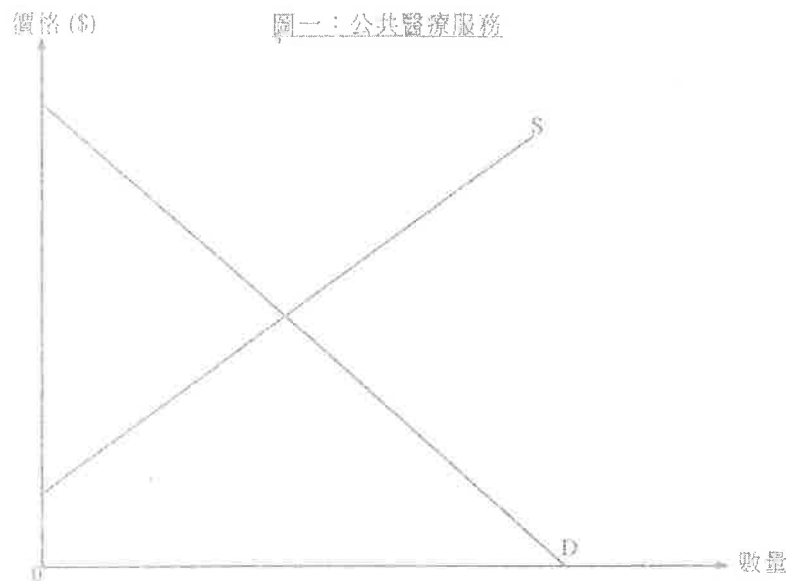
醫療服務是人類的其中一項基本需要。

資料甲：在本港某家公立診所外的一段對話

兒子：爸爸，我很不舒服呀。  
 父親：糟了！排隊等候的人很多。  
 兒子：為甚麼我們不去看私家醫生？  
 父親：公立診所的收費只是45元，遠低於私家醫生的收費。

(b) 參考資料甲，並以圖一輔助，解釋公立診所釐訂的價格如何可能導致提供公共醫療服務時出現經濟沒有效率。(6分)

(假設圖一中的供應曲線全數反映公共醫療服務的邊際社會成本。)



12. 2017 Q4

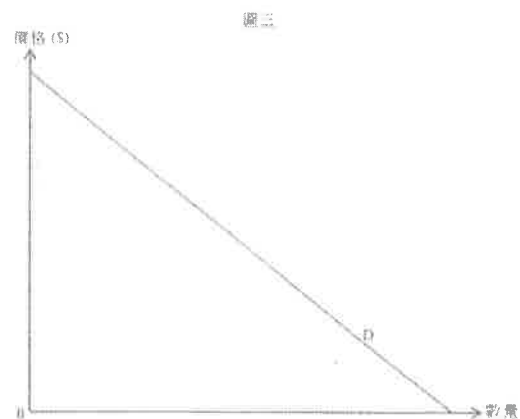
「Pokemon Go」是一款熱門遊戲，玩家需要攜帶智能手機前往不同的地點捕捉虛擬寵物。遊戲發源商在不同地區放置熱點，而這些熱點會吸引很多玩家聚集，一些在偏遠地區的餐廳發現生意急升，原因是它們位處這些熱點附近。

- (a) 根據上述資料，以界外影響為依據，解釋放置熱點如何可能導致缺乏效率。(3分)
- (b) 市場如何可以減輕這種缺乏效率的問題？(2分)

13. 2017 Q11B

X 國政府向私立大學的教育服務提供一項從量補貼。

- (b) 「即便學生和大學均獲得益，該補貼仍會導致缺乏效率。」透過在圖三中比較邊際成本和邊際得益，為以上陳述辯護。(3分)
- (c) 解釋補貼教育能否促進公平。(3分)

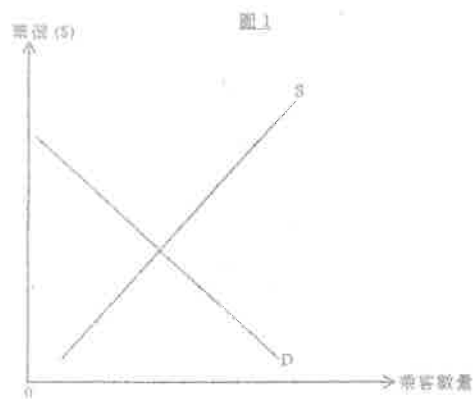


14. 2019 Q4

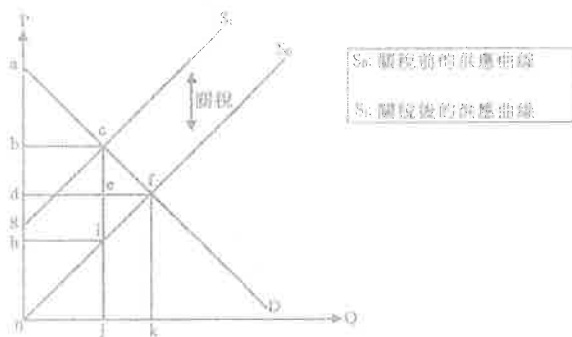
接受疫苗注射是防止感染流感病毒及保護自己的一個有效方法。運用界外影響的概念，解釋為什麼政府對接種季節性流感疫苗提供補貼可能會改善經濟效率。(4分)

廣深港高鐵路（高鐵）在 2018 年 9 月啟用。

- (a) 解釋高鐵應用對本港勞工流動性的影響。(3 分)
- (b) 在非假日時段，部分高鐵列車有很多的空置座位。以圖 1 輔助，解釋為什麼上述情況可能缺乏效率。(4 分)



- (a) 假設準交控為關稅可能推高消費者及生產者。



參閱以上供應圖，完成下表。

(3 分)

	關稅前	關稅後
消費者盈餘	面積 $adfc$	
生產者盈餘		

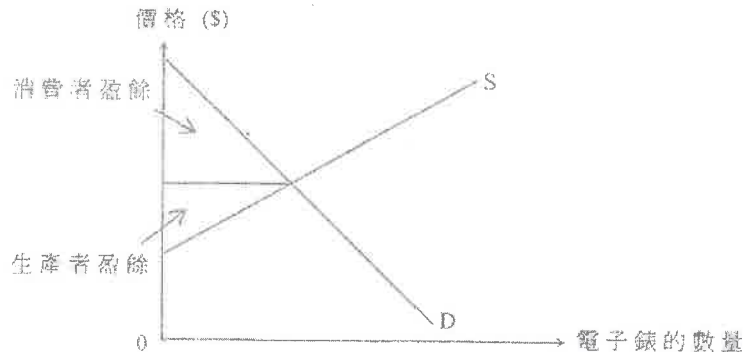
16. 由於在很多公眾地方市民都要強制配戴口罩，口罩成為生活必需品。

為了穩定本港外科口罩的供應，政府推出「本地口罩生產資助計劃」，提供補貼予本地口罩生產商。

- (c) 以圖輔助，解釋在什麼情況下消費者對外科口罩的總支出會因為該補貼而下降。(7 分)  
(為了簡化，假設該補貼屬從價。)
- (d) 配戴外科口罩能減低個人患上疾病的機會，也能預防將疾病傳染給他人。以對外購買為依據，解釋該補貼如何可以改善經濟效率。(4 分)

1. SP.Q9(a)(b)

(a)



2

(b) 供應會增加，導致市價下降、交易量上升，消費者盈餘及生產者盈餘都增加\*

\*註：生產者盈餘增加是基於供應線平行移動的假設

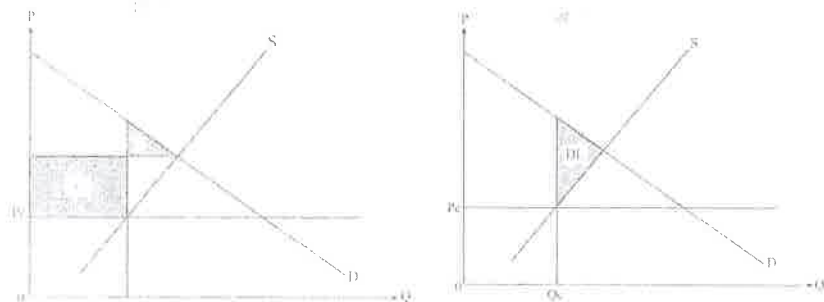
2. PP.Q4

(a) 效率損失是指當邊際得益和邊際成本不相等時所引致的總社會盈餘的損失，或導致潛在得益未能全部攫取。 (2)

(b)(i) 同意 (1)

在圖上顯示：

- 消費者盈餘的得益 (+) (1)
- 消費者盈餘的損失 (-) (1)



(b)(ii) 在圖上顯示：效率損失 (DL) (1)

量為  $Q_c$  (1)

文字說明：

- 不同意 (1)
- 當價格訂在均衡之下，交易量會減少。 (1)
- 賣方的邊際成本低於消費者的邊際得益 / 出現效率損失。 (1)

3. PP.Q12(b)(i)

(b)(i) 配給的功能：門票分配給願意支付最少\$200的買家 (1)

4. 2012.Q5(c)

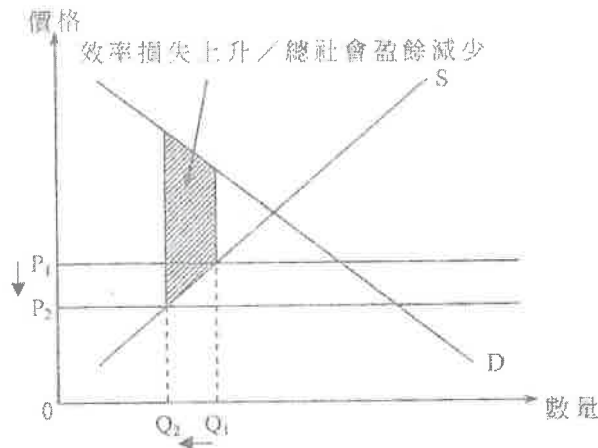
✓ 否，因為 (1)

✓ 會出現較大的效率損失 / 總社會盈餘下降。 (1)

在圖上顯示：

✓ 價格上限下降 (1)

✓ 效率損失上升 / 總社會盈餘減少的正確位置 (1)



5. 2014.Q3

否。 (1)

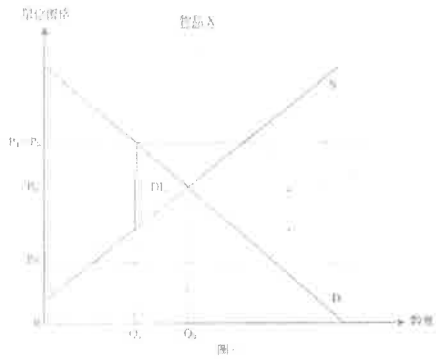
文字解說：

該無效的價格下限( $P_1$ )變成了有效的價格下限( $P_0$ )，在新的產量(在水平的 $P_0$ 線和簡求曲線D相交的位置)，邊際得益(人們願意支付的最大金額)高於邊際成本而出現效率損失。 (1)

在圖中顯示：

- 正確的  $P_0, Q_0$  (1)
- 正確的  $P_1, Q_1$  (1)
- 效率損失 (DL) 的正確位置 (1)

最高：6

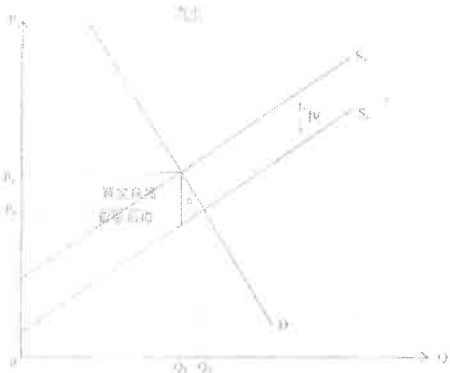


6. 2014.Q9(a),(b)

(a) 該條件是該物品的需求彈性低於其供應彈性。

在圖中顯示：

- 供應曲線向上平行移動（由從量稅所引致）
- P 上升和 Q 下跌
- 買家和賣家稅項負擔的正確位置
- 買家負擔 > 賣家負擔



(b) 在圖上顯示：

消費者盈餘的減少：買家負擔 + 面積 a

7. 2015.Q3

同意。

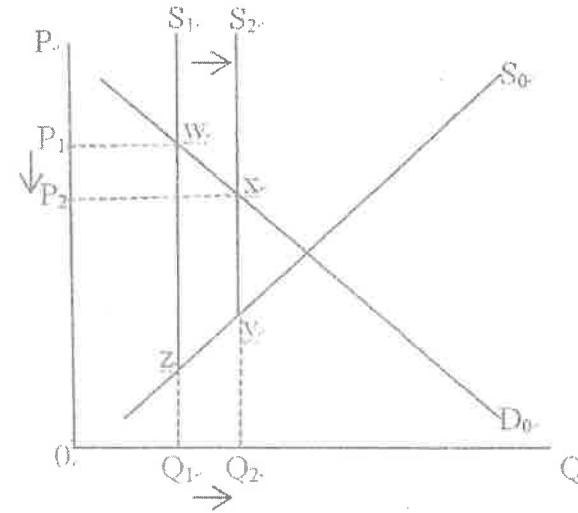
文字解說：

增加有效配額會增加供應並導致交易量上升和價格下跌。

邊際利益和邊際成本的差距會減少，因為生產量增加，更貼近有效率水平。

在圖中顯示：

- 有效配額增加對應供應曲線向右移
- P 減少而 Q 上升
- 效率損失減少的正確位置（面積 wxyz）



8. 2015.Q4(a)

價格的功能：

- 小型單位上升價格引導地產商分配更多的資源生產小型單位 [分配功能]
  - 價格傳遞有關消費者需求(相對生產者供應)的資訊 [訊息功能]
- [只批閱首項]

@2.最高：2

9. 2015.Q12(d)

負面界外影響 / 私人成本與社會成本分歧。

當公共交通工具過份擠迫（即達致飽和），任何額外的乘客都會令其他乘客的時間成本上升，卻沒有對這額外成本作出補償（意味著私人成本與社會成本分歧）。由於邊際社會成本大於邊際社會得益，在公共交通工具的乘客的數量高於有效率的水平。

10. 2016 Q4

(-2015)

在餐廳拍照可能會騷擾他人 / 在社交媒體分享照片可能會透露了食品的設計。這可能對餐廳的收益 / 利潤有負面的影響，但拍照者卻沒有對其影響作出（金錢或其他方面的）補償。這拍照並分享的行為可能造成負面界外效應。（涉及界外成本）

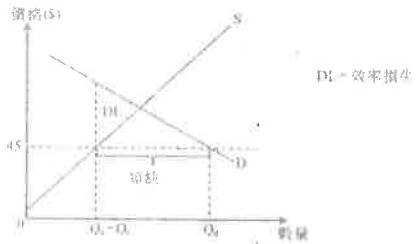
分數  
(3)

或

拍照並在社交網絡分享可能有推廣作用，吸引更多顧客到餐廳，為餐廳帶來更高的收益 / 利潤，而讓額外的利益卻沒有被補償。這拍照並分享的行為可能造成正面界外效應。（涉及界外利益）

或  
(3)

- (a) 在圖中顯示：  
價格訂在均衡水平  
Q 的正確位置  
效率損失的正確位置



文字解說：  
價格訂在 \$45，低於均衡水平  
交易量低於均衡數量，出現生產不足或短缺  
邊際利益 (MB)、邊際成本 (MC)

- (1)  
(1)  
(1)

12.2017 Q4

- (a) 正向外部影響。偏遠地區的餐廳因遊客發覺而所選地點的位置得益，但沒有補償發覺商。故此出現了外部得益，而邊際社會得益大於邊際社會成本。這些餐廳附近的現有熱點數目是低於效率水平。

- (b) 餐廳可計入了遊客發覺而以增加其附近的熱點。

遊客發覺商可能向這些餐廳收費，以便在其附近放置更多熱點。

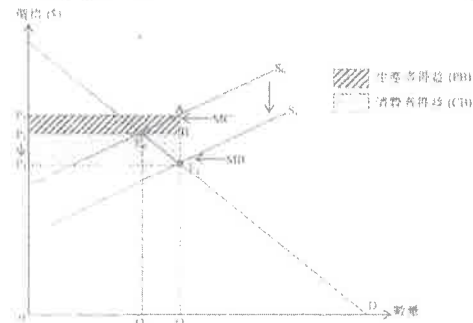
分數  
(3)

(2)

並  
(2)

13.2017 Q11B

- 在圖中顯示：  
生產商賺取的盈餘 equal 于平均利率  
新價格的正確位置 (P)  
新數量 (Q) 的正確位置 (Q)  
生產商利益 (PS) 和消費者利益 (CS) 的正確位置  
新價格 (P) 和生產者利益 (PS) 的正確位置



- (a) 文字解說：  
在 Q1，邊際成本 (MC) 等於邊際利益 (MB)

(1)

正確位置顯示：  
邊際利益 (MB) 的正確位置  
邊際成本 (MC) 的正確位置

(1)  
(1)

146

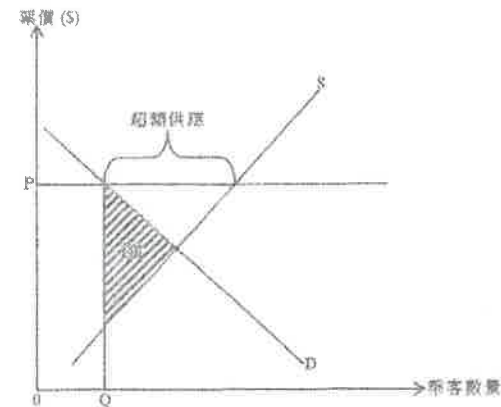
注射疫苗保護自己之餘也會減低他人被流感傳染的機會。由於接受疫苗的人沒有向其他（被流感傳染的機會減低的）人士收取補償，故此出現外部得益，邊際社會得益高於邊際社會成本。這意味著接受疫苗注射的人數低於效率水平。補貼可以令疫苗注射人數增加至較接近效率水平，因而縮窄邊際社會得益和邊際社會成本的差距。

15.2019 Q11AB

- (a) 高鐵開通會增加勞工的地域流動性，因為交通網絡改善了。 (3)

- (b) 文字解說：  
所訂票價高於市場均衡（或均衡）水平，故此鐵路服務的邊際得益高於邊際成本。 (2)

在圖中顯示：  
- P 和 Q 的正確位置 (1)  
- DL（效率損失）的正確位置 (1)



16.2020 Q10C

	關稅前	關稅後
消費者盈餘	-	面積 abc
生產者盈餘	面積 dfg	面積 hi0

分數  
(3)

1. PP.11(d)

高中教科書的價格大幅上升，這是因為教科書出版商需要為新課程出版新教科書。

(d) 在學校書簿津貼計劃下，有需要的學生會獲得津貼，用以支付教科書的費用和與學校有關的雜項支出。解釋學校書簿津貼計劃如何能提升香港社會的公平性。(4分)

2. 2012.Q10(b)

財政司司長在 2011 年公佈「\$6000 計劃」：向每位十八歲或以上的香港永久居民派發\$6000。

(b) 你認為政府應否推行「\$6000 計劃」以令香港社會更公平？試加解釋。(4分)

3. 2015.Q8

政府正考慮從其財政盈餘撥出一筆款項，用於下列兩項提案：

提案 1：將免費教育延長至 15 年

提案 2：提供失業援助金

試以公平為依據，評價該兩項提案。(4分)

4. 2016.Q11(c)(d)

醫療服務是人類的其中一項基本需要。

資料乙：摘錄自醫院管理局的網頁

醫院管理局致力提供以社區為本的基礎醫療服務，服務對象包括長者、低收入人士和長期病患者。

(c) 參考資料乙，解釋醫院管理局提供的服務如何可以促進公平。(2分)

(d) 很多人認為公立診所應該提高收費以減少輪候時間。以公平和經濟效率為依據，評價這種看法。(4分)

5. 2017.11C

△ 圖政府對私立大學的教育服務提供一項從量補貼。

(a) 在什麼條件下學生享受的補貼得益份額會大於私立大學的份額？以圖三輔助，說明你的答案。(7分)

(b) 即使學生和大學均能得益，該補貼仍會導致效率。透過在圖三中比較選擇成本和邊際得益，為以上陳述辯護。(3分)

(c) 解釋補貼教育能否促進公平。(3分)

6. 2019.Q2

李嘉誠基金會以「善用錢」計劃的名義，向在元朗、屯門及離島區居住並應考 2018 年香港中學文憑考試的每名考生無條件發放 5000 元現金。

陳述 A：該計劃可以改善這些地區考生的公開考試成績。

陳述 B：該計劃可以令香港更公平。

(a) 解釋陳述 A 是否一項實證性陳述。(2分)

(b) 論證陳述 B。(4分)

1. PP.11(d)

– STAS 增加有需要學生家庭的收入而富有家庭不能獲益。

– STAS 有助促進機會平等，因為它會幫助有需要學生繼續學業。

– 教育可增加有需要學生們將來的收入，長遠或有助收窄收入差距。

– 任何其他相關點

2@；最高：4

2. 2012.Q10(b)

✓ 公平等是一個主觀的概念，涉及價值判斷。／不同人對公平有不同的準則。(1)

✓ 是，\$6 000 令窮人的收入有較大百分比的上升。(2)

✓ 否，因為計劃沒有幫助機會平等化。相對富人來說，窮人沒有取得較多的資源以改善他們的生產力／增加將來的收入。(2)

✓ 否，因為計劃沒有幫助結果平等化，因為不是每個人能在計劃中得益，例如非永久居民和未夠 18 歲的居民沒有資格領取\$6 000。(2)

✓ 任何其他相關點

最高：4

3. 2015.Q8 (partial)

提案 1：

– 機會均等：免費教育的年期增加令窮人能接受更多的教育，從而提高他們未來的生產力及賺錢能力。

提案 2：

– 收入/結果均等：給予失業人士較多福利縮減就業人士（富人）和失業人士（窮人）的收入差距。<sup>1</sup>

– 任何其他相關點

@2，最高：4

5. 2017.11C

(e) 是，補貼教育是令機會均等化的一種方法，故此窮人不會因為財務上的限制而不能獲得大學教育。教育亦改善他們將來的收入，故此能減輕代收入不均。(3)

6. 2019.Q2

(a) 陳述 A 是一項實證性陳述，因為它有可能被事實所推証。

分數  
(2)

(b) 收入均等化：這些區域的平均住戶收入較低，故此該筆現金會幫助縮窄收入差距。

機會均等化：補貼教育會提高低收入人士獲得高等教育的機會，避免他們受其背景所累。

} @2  
最高：4

<sup>1</sup> 在有高技術工人失業的情況下，這未必能所見貧富人的收入差距。

1. SP.Q2

提出一個經濟出現收入不均的兩項原因。

(4 分)

2. 2012.Q4

根據聯合國 2008 年的一份報告，香港及北京的堅尼系數分別是 0.53 及 0.22。

(a) 與北京比較，香港貧富之間的收入差距屬較闊或較窄？

(1 分)

(b) 解釋增加薪俸稅的標準稅率會如何影響香港的除稅後堅尼系數。

(3 分)

3. 2013.Q7

表一顯示香港在 2006 年及 2011 年按職業分類的堅尼系數。

表一

	堅尼系數	
	2006	2011
建造業	0.362	0.385
金融、保險、地產和商用服務業	0.544	0.548

(a) 根據表一，哪項職業的從業員之間收入不均情況較輕微？舉出兩個可能原因解釋這收入不均出現差異的情況。

(4 分)

表二顯示香港在 2006 年及 2011 年按行業分類的就業分布。

表二

	按行業分類的就業分布	
	2006	2011
	建造業	8.0%
金融、保險、地產和商用服務業	17.0%	19.2%

表三顯示香港在 2006 年及 2011 年的堅尼系數。

表三

	2006	2011
堅尼系數	0.533	0.537

(b) 表一及表二提供的資料如何可以幫助解釋表三所反映香港收入不均情況的轉變？

(4 分)

4. 2013.Q11(b)(ii)

政府已推出「鼓勵就業交通津貼計劃」，目標如下：

(1) 減輕低收入住戶在職人士往返工作地點的交通費負擔

(2) 鼓勵持續就業

申請人必須符合住戶每月入息和資產限額（以單身人士為例，每月入息不可超過\$7 300，而資產不可超過\$72 000）及每月工作不少於 72 小時以申請每月\$600 的津貼。

討論該計劃對下列各項的影響：

(ii) 收入不均

(3 分)

5. 2018 Q4

除了教育程度差異以外，解釋可能導致收入不均的兩個因素。


6. 2021 Q10a

由於在很多公眾地方市民都要強制配戴口罩，口罩成為生活必需品。

(a) 「強制配戴口罩對低收入組別造成的負擔較對高收入組別為大」，論證這陳述。

(2 分)

(b) 政府向香港市民免費派發「網忘口罩」。



解釋「網忘口罩」是否

(i) 免費物品。

(2 分)

(ii) 共用物品。

(2 分)



1. SP.Q2

以下任何兩項理由：

- ✓ 人力資本不同：教育程度較高的人有較高的收入；
- ✓ 歧視：受歧視的性別/族裔有較低的收入；
- ✓ 其他可能理由

2@，  
最高：4

2. 2012.Q4

- (a) 更闊 (1)
- (b) 較小，因為 (1)  
較高收入組別的可稅後收入會下降，而較低收入組別的收入維持不變。 (2)

3. 2013.Q7

- (a) ✓ 建造業。 (1)  
✓ 這是因為一個人能否加入某特定職業，是與他的人力資本有密切關係。相對於金融專業人士，建造業工人的人力資本傾向較同質。 (2)  
  
✓ 建造業向工人支付的薪金通常以工時計算，工人的薪金大致相同。金融及商業服務業的僱員的報酬除了底薪，通常亦包括根據表現發放的佣金、花紅及利潤分享。這可引致該行業內薪金有較大差異。 (2)  
以上：(1+2)，最高：3
- (b) ✓ 對香港整體經濟來說，反映收入不均程度的堅尼系數是上升了。 (1)  
✓ 表一所示，在建造業和金融及商用服務業的收入不均情況皆變得較嚴重。其他因素不變，這會令整體經濟的收入不均變得較嚴重。 (2)  
  
✓ 表二所示，收入不均較嚴重的行業（金融、保險、地產及商用服務業）所佔勞動人口的比例上升，而收入不均較輕微的（建造業）所佔勞動人口的比例下降。其他因素不變，兩個行業之間就業形態的改變會令整體經濟的收入不均情況變得較嚴重。 (2)  
以上：(1+2)，最高：3

4. 2013.Q11(b)(ii)

- (ii) 它有助減低收入不均，因為它只提供額外金錢予低收入人士，有助成果均等化／它增加低收入人士找到一份收入較高的工作機會，因為他們可到距離居住區域較遠的地方工作。

(-2014)

因素三

- 種族，因為職場可能有種族歧視，部分少數族裔在相同工作的工資率可能較低。
  - 性別，因為職場可能出現性別歧視，女性平均工資率在相同職級會較低。
  - 身體條件，因為較健康、高大或外表較佳的人平均收入可能較高，原因是這些人在部分職位發揮較高的生產力。(例如運動員、模特兒)。
  - 任何其他相關點
- (只批閱首兩項)

才數

} @2  
最高：4

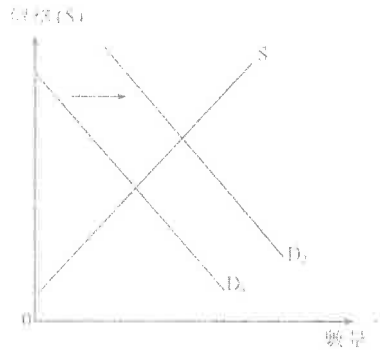
1. Sample Paper.MC.Q20

假設政府向某物品的生產商提供從量補貼，這會導致

- A. 消費者盈餘上升及生產者盈餘下降，因此對效率的影響不明確。
- B. 生產者盈餘上升及消費者盈餘下降，因此對效率的影響不明確。
- C. 效率的改善，因買家及買家均會從補貼得益。
- D. 淨損失，因政府提供的補貼額大於消費者盈餘及生產者盈餘上升的總和。

2. Practice Paper.MC.Q14

下圖顯示在一個完全競爭市場內物品 X 的需求和供應曲線。

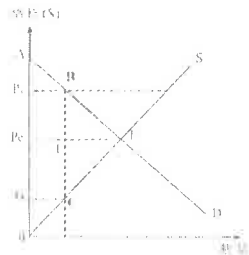


物品 X 的需求曲線由  $D_1$  移至  $D_2$ 。結果，

- A. 公司享有較多的生產者盈餘。
- B. 生產最後一單位的邊際成本會下降。
- C. 物品 X 的供應會增加。
- D. 消費者享有較少的消費者盈餘。

3. Practice Paper.MC.Q15

下圖顯示在一個完全競爭市場內物品 X 的需求和供應曲線。



假設價格上限設在  $P_1$ 。結果，

- A. 效率損失(deadweight loss) 等於面積 BEF。
- B. 生產者盈餘等於面積  $P_1BCO$ 。
- C. 消費者盈餘等於面積 AEPe。
- D. 總社會盈餘等於面積  $P_1BCG$ 。

4. Practice Paper.MC.Q17

在下列哪些情況下，會導致經濟效率？

- (1) 消費者得到最大的總利益。
  - (2) 所有潛在得益可以完全攫取。
  - (3) 邊際社會利益等於邊際社會成本。
- A. 只有 (1)、(2)
  - B. 只有 (1)、(3)
  - C. 只有 (2)、(3)
  - D. (1)、(2) 及 (3)

5. 2012.MC.Q14

由 2011 年 7 月 10 日開始，市區的士服務首兩公里的車費由 18 元增加至 20 元。下列哪些有關市區的士服務的陳述是正確的？

- (1) 的士服務的需求下降。
  - (2) 相對短程的士服務，長程的士服務的價格下降。
  - (3) 的士服務的消費者盈餘下降。
- A. 只有 (1)、(2)
  - B. 只有 (1)、(3)
  - C. 只有 (2)、(3)
  - D. (1)、(2) 及 (3)

6. 2012.MC.Q19

增加對某物品的有效配額會導致

- (1) 該物品的交易量上升。
  - (2) 該物品的質素進一步提升。
  - (3) 效率損失較小。
- A. 只有 (1)、(2)
  - B. 只有 (1)、(3)
  - C. 只有 (2)、(3)
  - D. (1)、(2) 及 (3)


7. 2013.MC.Q18

假設市場均衡產出水平高於效率產出水平。這意味著

- A. 若減少產出令其更接近效率產出水平，總社會盈餘會上升。
- B. 在均衡產出水平，邊際得益大於邊際成本。
- C. 消費者盈餘和生產者盈餘之和達到最大，因為市場產出水平滿足均衡條件。
- D. 政府有需要作出干預以令產出下降，因為出現過度生產。

8. 2013.MC.Q19

參閱以下某物品的供需圖，政府為該物品設立配額  $Q_1$ 。

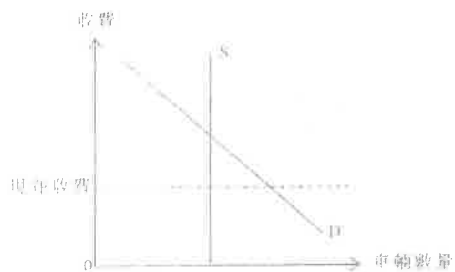


下列哪項是減少該物品配額的結果？

- (1) 對該物品的總支出可能上升或下降。
  - (2) 消費者盈餘會下降。
  - (3) 總社會盈餘可能上升或下降。
- A. 只有 (1)
- B. 只有 (1)、(2)
- C. 只有 (2)、(3)
- D. (1)、(2) 及 (3)

9. 2014.MC.Q15

參閱以下有關海底隧道的供需圖。



政府建議提高海底隧道的收費，以減輕繁忙時段的交通擠塞情況。假設隧道最大型車流量是固定的。

下列哪些陳述是正確的？

- (1) 對海底隧道服務的需求會減少。
  - (2) 海底隧道的總收益會上升。
  - (3) 由交通擠塞引起的效率損失會減少。
  - (4) 司機使用該隧道的機會成本會上升。
- A. 只有 (1)、(3)
- B. 只有 (1)、(4)
- C. 只有 (2)、(3)
- D. 只有 (2)、(4)

10. 2014.MC.Q21

下列哪些是政府降低對某物品的有效價格上限的結果？

- (1) 生產者盈餘下降
  - (2) 超額需求上升
  - (3) 若需求屬高彈性，總銷售收益會上升。
- A. 只有 (1)、(2)
- B. 只有 (1)、(3)
- C. 只有 (2)、(3)
- D. (1)、(2) 及 (3)

11. 2014.MC.Q22

政府對化妝品開徵從量銷售稅會

- A. 引致對化妝品的總支出下降
- B. 引致除稅後總銷售收益下降
- C. 增加化妝品市場的總社會盈餘
- D. 增加化妝品市場的生產者盈餘

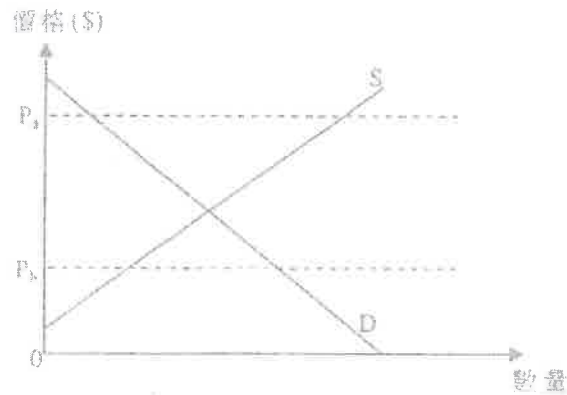
12. 2014.MC.Q23

假設汽車和汽油的供應曲線是向右上傾斜的。若政府對汽車的生產實施一有效的配額，

- A. 汽車市場的總社會盈餘會上升。
- B. 汽車市場的生產者盈餘會下降。
- C. 汽油市場的總社會盈餘會下降。
- D. 汽油市場的消費者盈餘會上升。

13. 2015.MC.Q19

細閱下圖。

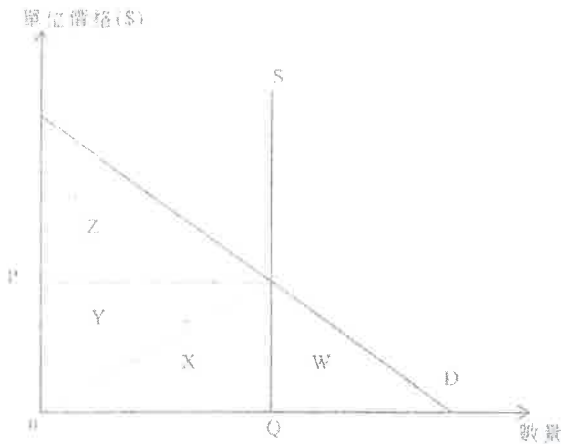


若政府將價格上限由  $P_0$  調低至  $P_1$ 。

- A. 交易量會上升。
- B. 效率損失會下降。
- C. 生產者盈餘會減少。
- D. 消費者盈餘會增加。

14. 2015.MC.Q22

細閱下圖。



最大的總社會盈餘等於 \_\_\_\_\_。

- A. 面積 Z。
- B. 面積 (Y+Z)。
- C. 面積 (W+X+Y)。
- D. 面積 (X+Y+Z)。

15. 2016.MC.Q21

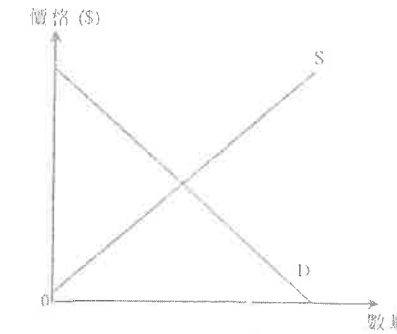
下列哪種情況會導致有效率？

- A. 總社會得益等於總社會成本。
- B. 生產者盈餘等亦消費者盈餘。
- C. 邊際社會得益和邊際社會成本的差額為零。
- D. 市場上全部消費者的消費者盈餘達至最高。

16. 2016.MC.Q22

下圖顯示物品 X 的供應和需求曲線。

物品 X

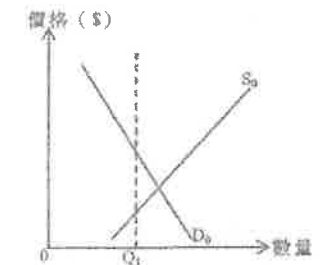


物品 X 和物品 Y 屬於競爭性供應。物品 Y 的需求上升會令物品 X 市場的消費者盈餘 \_\_\_\_\_，而生產者盈餘 \_\_\_\_\_。

(假設物品 X 的供應和需求曲線平行移動。)

- A. 增加 ... 增加
- B. 增加 ... 減少
- C. 減少 ... 增加
- D. 減少 ... 減少

17. 2019 Q21 參閱以下物品 X 的供需圖。



若政府把配額設定為  $Q_1$ ，\_\_\_\_\_ 會下降。

- (1) 總社會盈餘
- (2) 物品 X 的總支出
- (3) 消費者盈餘
- (4) 生產者盈餘

- A. 只有 (1)、(2)
- B. 只有 (1)、(3)
- C. 只有 (2)、(4)
- D. 只有 (3)、(4)

假設全球暖化導致鮮花收成欠佳，鮮花的邊際利益會 \_\_\_\_\_，而總交易價值 \_\_\_\_\_。

- A. 減少……會減少
- B. 增加……會增加
- C. 減少……可能減少或增加
- D. 增加……可能減少或增加

19.2020 Q13

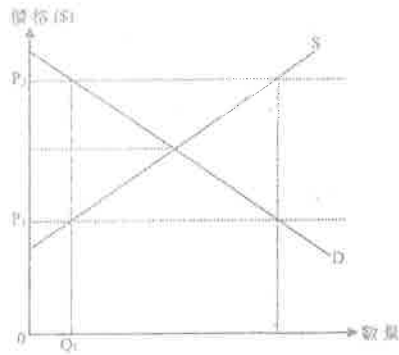
近年，中國對私家車的需求上升，這吸引了福士汽車（一家德國汽車製造商）在中國開設汽車製造工廠。

上述國家說明了價格的 \_\_\_\_\_ 功能，因為 \_\_\_\_\_。

- A. 配給……在中國，私家車賣給最高價值的用家
- B. 配給……在德國，較少買家願意購買私家車
- C. 分配……在德國，私家車的供應下降
- D. 分配……在中國，更多的資源投資在私家車的生產上

20.2020 Q20

會閱以下物品 X 的供需圖。



若物品 X 的價格下限由  $P_1$  轉變至  $P_2$ 。

- A. 生產者盈餘會上升。
- B. 物品 X 的交易量會維持在  $Q_1$ 。
- C. 效率損失會增加。
- D. 物品 X 的種類需求會轉變為超額供應。

21.2021 Q19

由於大部分學校進行網上授課，更多學生需要購買平板電腦。最後一單位的平板電腦的邊際成本會 \_\_\_\_\_，而生產者盈餘會 \_\_\_\_\_。

- A. 下降 … 上升
- B. 下降 … 下降
- C. 上升 … 上升
- D. 上升 … 下降

22.2021 Q20

原初某國對咖啡豆生產實施有效配額。

若現在更多人愛喝咖啡，下列哪些有關咖啡豆市場的陳述是正確的？

- (1) 總支出會上升。
- (2) 效率損失會上升。
- (3) 消費者盈餘會上升。

- A. 只有 (1)、(2)
- B. 只有 (1)、(3)
- C. 只有 (2)、(3)
- D. (1)、(2) 及 (3)

## 03MC1 答案

1	D	11.	B (72)
2	A	12.	C (66)
3	B	13.	C
4	C	14.	D
5	C	15.	C
6	B	16.	D
7	A	17.	B
8	B	18.	D
9	C	19.	D
10	A (65)	20.	C

21C

22A

## 經濟 03MC2 界外效應 多項選擇題 (Sample – 2016)

## 1. Sample Paper.MC.Q18

在下列哪種情況下，私人與社會的成本/利益將不會出現分歧？

- A. 一家位於上游的化工廠污染一條河流，而沒有考慮對下游漁民造成的損害。
- B. 一名食客於酒樓吸煙而沒有考慮對附近的人的影響。
- C. 一個農夫飼養的羊群破壞鄰近農地的農作物，而該農地是該農夫所擁有。
- D. 一名鋼琴好手在家彈奏鋼琴而沒有向享受這些音樂的鄰居收取任何款項。

## 2. 2013.MC.Q20

養蜂者養蜂是為獲取蜂蜜。養蜂對附近果園的居民有利，因為蜜蜂幫助果園的果樹傳播花粉。下列哪項有關上述個案的陳述是正確的？

- A. 私人和社會得益分歧會出現，而蜂蜜會過度生產。
- B. 養蜂者應獲政府補貼以改善經濟效率。
- C. 若蜂蜜的價值高於水果的價值，政府毋須介入改正界外效應。
- D. 若附近果園屬該養蜂者所擁有，私人和社會得益分歧不會出現。

## 3. 2014.MC.Q18

韓國的流行歌手在香港越來越受歡迎。對這些歌手來說，下列哪些屬於他們的私人得益？

- (1) 出售他們的唱片所得的版稅收入增加了。
  - (2) 韓國所設計的服裝其銷售收益增加了。
  - (3) 到訪韓國的遊客人數增加了。
  - (4) 他們在香港舉行演唱會所分成的收益增加了。
- A. 只有 (1)、(3)
  - B. 只有 (1)、(4)
  - C. 只有 (2)、(3)
  - D. 只有 (2)、(4)

## 4. 2014.MC.Q19

在香港，下列哪些是減輕私人與社會成本分歧這個問題的方法？

- (1) 收取排污費
  - (2) 收取大學學費
  - (3) 收取電費
  - (4) 對使用膠袋徵費
- A. 只有 (1)、(3)
  - B. 只有 (1)、(4)
  - C. 只有 (2)、(3)
  - D. 只有 (2)、(4)

5. 2015.MC.Q17

下列哪項是私人利益和社會利益分歧的一個例子？

- A. 一名保安員在演奏廳當值時觀看到現場音樂會。
- B. 一名遊客在欣賞街頭歌手的音樂表演而沒有付費。
- C. 一名住客在士拉 OK 酒廊隔鄰的居民因噪音不能入睡。
- D. 機場遷離後，該地區的住宅樓宇的市場價值上升。

6. 2017 Q12

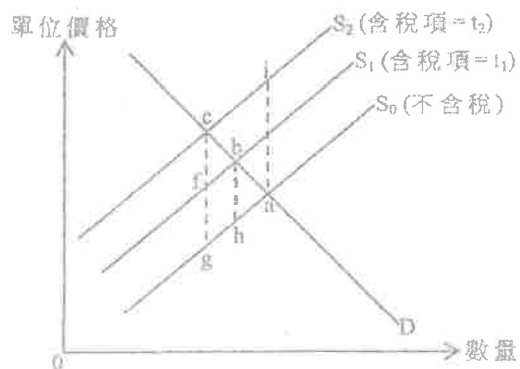
著名藝人于華舉辦了一場表演，很多人抱怨未能購得門票。門票黃牛黨在互聯網上轉售這些門票，有買家付出高於港幣 \$10 000 購入一張門票。

上述標來說明「價格的 \_\_\_\_\_ 功能，因為 \_\_\_\_\_。

- A. 配給……這些門票配給了最高價值的買家。
- B. 配給……價格愈高，需求便會下降。
- C. 分配……價格愈高，利潤便會增加。
- D. 分配……更多的資源應該分配予生產商以增加供應。

7. 2018 Q22

下圖顯示物品 X 的供需曲線。



假設政府對物品 X 的稅項由  $t_1$  提高至  $t_2$ 。下列哪項陳述是正確的？

- A. 效率損失會增加面積  $bcgh$ 。
- B. 效率損失會減少面積  $abh$ 。
- C. 新的效率損失是面積  $bcf$ 。
- D. 新的效率損失是面積  $aci$ 。

8. 2018 Q23

近年，無人飛行系統變得十分普及，但在市區使用這些飛行器引起人們對它在噪音和安全方面的關注。民航處正考慮對生產、進口和銷售無人飛行系統作出監管。



這是私人 and 社會 \_\_\_\_\_ 分歧的一個例子，而 \_\_\_\_\_ 的方法正被考慮用作減少該分歧。

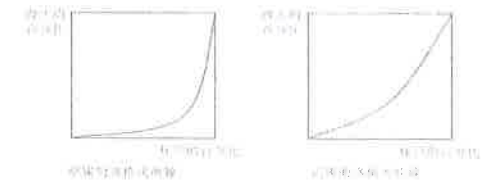
- A. 成本 ..... 市場
- B. 成本 ..... 政府
- C. 利益 ..... 市場
- D. 利益 ..... 政府

03MC2 界外效應 答案

1.	C
2.	D
3.	B
4.	B
5.	B
6.	A
7.	A
8.	B
9.	
10.	

1. Sample Paper.MC.Q19

細閱下列兩個經濟的洛倫茨曲線。



從上圖，我們可得出結論如下：

- A. 甲國的收入分配較乙國的平均。
- B. 乙國的收入分配較甲國的平均。
- C. 甲國的高收入組別人士較乙國的有更高收入。
- D. 乙國的高收入組別人士較甲國的有更高收入。

2. Practice Paper.MC.Q18

下表顯示甲經濟由年份 1 至年份 4 的堅尼系數。

年份	堅尼系數
1	0.534
2	0.563
3	0.609
4	0.614

根據以上資料，下列哪項／些陳述是正確的？

- (1) 高收入住戶的收入增加，而低收入住戶的收入則減少。
  - (2) 收入分布愈變不均。
  - (3) 一般生活水準下降。
- A. 只有 (1)
  - B. 只有 (2)
  - C. 只有 (3)
  - D. (1)、(2) 及 (3)

3. Practice Paper.MC.Q19

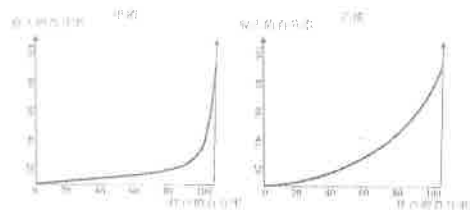
下列哪項是有效的最低工資法最有可能帶來的影響？

- A. 收入分布會變得較平均。
- B. 工人的總工資收入會上升。
- C. 就業人口會增加。
- D. 非價格競爭會出現。



4. 2012.MC.Q20

下圖顯示甲、乙兩國的洛倫茨曲線。



根據以上兩圖，

- A. 乙國的國民收入較甲國高。
- B. 乙國的低收入組別的收入高於甲國低收入組別的收入。
- C. 甲國的低收入分配較乙國平均。
- D. 甲國的基尼系數較乙國高。

5. 2012.MC.Q21

下列哪些是導致不同人之間收入不均的可能原因？

- (1) 種族的差異
  - (2) 資本擁有權的差異
  - (3) 健康的差異
- A. 只有 (1)、(2)
  - B. 只有 (1)、(3)
  - C. 只有 (2)、(3)
  - D. (1)、(2) 及 (3)

6. 2014.MC.Q20

下列哪項政策能減低香港按除稅及福利轉移後住戶每月收入計算的堅尼系數？

- A. 增加薪俸稅的標準稅率
- B. 減低薪俸稅的邊際稅率
- C. 減低綜合社會保障援助的金額
- D. 向每位僱員的強積金戶口注入一筆等額的金錢

7. 2015.MC.Q21

假設某經濟除稅後的堅尼系數比稅前的堅尼系數高，這意味著

- A. 政府增加了給窮人的轉移支付的金額。
- B. 該經濟的稅制很可能是累退性的。
- C. 收入不均的問題比去年差。
- D. 政府應該改革稅制。

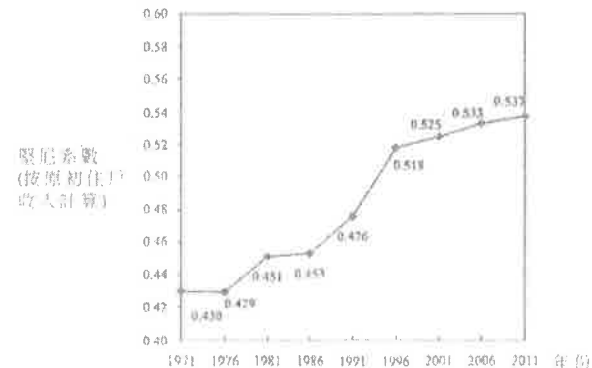
8. 2017.Q20

李嘉誠基金會向每位居住在那些平均住戶收入較低之偏遠地區的 2017 年香港中學文憑考試考生派發港幣 5 000 元。下列哪項有關該無條件餽贈的陳述是正確的？

- A. 這減低了收入不均，因為收到該餽贈的人較大部分來自低收入組別。
- B. 這增加了收入不均，因為對居住在非偏遠地區的考生並不公平。
- C. 因為該獎項是給予那些居住在偏遠地區的所有考生，所以收入分配維持不變。
- D. 這有助機會均等化，因為那些考生會更用功讀書以提高其考試成績。

9. 2017.Q21

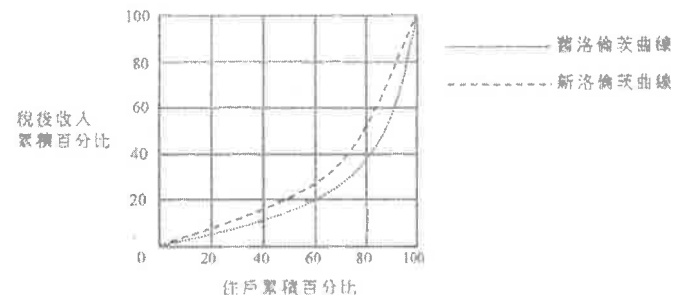
圖顯示香港的堅尼系數(按原初住戶收入計算)。



根據上圖，我們可以得出的結論是：

- A. 香港人的收入水平上升。
- B. 高收入住戶的收入增加而低收入住戶的收入減少。
- C. 福利政策未能減低收入不均。
- D. 收入差距日漸擴大。

10. 2019.Q19



下列哪項政策會使香港的洛倫茨曲線有以上的轉變？

- A. 減低利得稅率
- B. 減少薪俸稅免稅額
- C. 提高薪俸稅的累進程度
- D. 增加機場離境稅

由 2017 課學年起，香港政府向修讀本地私立教育機構所開辦的全日制自資學士學位課程的學生提供每年 \$30000 的資助。

下列哪些是這資助計劃的可能影響？

- (1) 失業率會下降，因為勞動人口會增加。
  - (2) 該計劃有助於機會均等化，因為來自低收入住戶的學生有更大機會接受高等教育。
  - (3) 全民就業產出水平將來會上升，因為人們接受更佳的教育和培訓後平均生產力會上升。
- A. 只有 (1)、(2)  
B. 只有 (1)、(3)  
C. 只有 (2)、(3)  
D. (1)、(2) 及 (3)

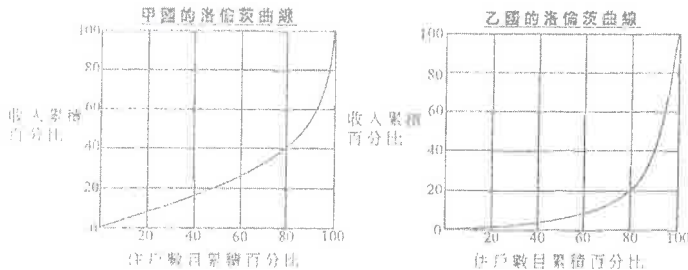
細閱下列的新聞撮要：

近十年來，由於需求持續上升，柏林住宅單位的租金已上升一倍。為了應付該問題，柏林政府實施「租金凍結法」，限制住宅單位的租金最少 5 年內不能增加。

假設香港推行類似的法例，下列哪項陳述是正確的？

- A. 堅尼系數會上升。
- B. 政府的物業稅收入會上升。
- C. 若住宅單位的需求持續上升，效率損失會出現。
- D. 物業擁有人會有較高意欲裝修其單位。

細閱以下兩條洛倫茲曲線。



與乙國相比，

- A. 甲國的堅尼系數較高。
- B. 甲國的生活水準較高。
- C. 甲國最高層 20% 的住戶的總收入較低。
- D. 甲國的收入分佈較均等。

下表顯示 2018 年女性與男性按年齡劃分的平均年收入資料。

年齡	女性平均年收入 (港幣 \$)	男性平均年收入 (港幣 \$)
20 - 29	122 000	121 000
50 - 59	482 000	645 000

下列哪些可能解釋以上資料所示的現象？

- (1) 女性傾向於比男性更早離開職場以照顧家庭，以致擔任公司高職的女性較少。
  - (2) 勞動市場的性別歧視存在於年長一輩中。
  - (3) 人力資本的積累導致不同年齡組別的收入差異。
- A. 只有 (1)  
B. 只有 (2)  
C. 只有 (3)  
D. (1)、(2) 及 (3)

參閱以下香港的政策建議。

- 建議 (1): 向在公屋輪候冊上超過五年的人士提供現金補貼  
建議 (2): 將長者綜合社會保障援助計劃的合資格年齡由 60 歲提高至 65 歲  
建議 (3): 將薪俸稅的標準稅率提高

以上哪些建議會降低香港按稅及福利轉移後住戶每月收入計算的堅尼系數？

- A. 只有 (1)、(2)
- B. 只有 (1)、(3)
- C. 只有 (2)、(3)
- D. (1)、(2) 及 (3)

下表顯示有關兩個頂級足球聯賽的資料。

足球聯賽	球員的每年平均收入	
	防守球員	進攻球員
英格蘭	£1 751 537	£3 839 875
意大利	£1 536 945	£2 675 975

下列哪項／些是球員之間收入差異的可能原因？

- (1) 英格蘭頂級足球聯賽的電視轉播收入較意大利的為高。
  - (2) 英格蘭的物價水平較意大利的為高。
  - (3) 進攻球員的商業價值較防守球員的為高，因為進攻球員較受歡迎。
- A. 只有 (1)  
B. 只有 (2)  
C. 只有 (3)  
D. (1)、(2) 及 (3)

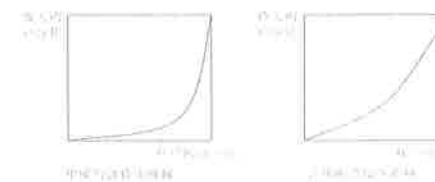
03MC3 收入不均 答案

1.	B
2.	B
3.	D
4.	D
5.	D
6.	A
7.	B
8.	A
9.	D
10.	C

- 11 C
- 12 C
- 13 D
- 14 D
- 15 B
- 16 D

1. Sample Paper.MC.Q19

細閱下列兩個經濟的洛倫茨曲線。



從上圖，我們可得出結論如下：

- A. 甲國的收入分配較乙國的平均。
- B. 乙國的收入分配較甲國的平均。
- C. 甲國的高收入組別人士較乙國的有更高收入。
- D. 乙國的高收入組別人士較甲國的有更高收入。

2. Practice Paper.MC.Q18

下表顯示甲經濟由年份 1 至年份 4 的堅尼系數。

年份	堅尼系數
1	0.534
2	0.563
3	0.609
4	0.614

根據以上資料，下列哪項／些陳述是正確的？

- (1) 高收入住戶的收入增加，而低收入住戶的收入則減少。
  - (2) 收入分布愈變不均。
  - (3) 一般生活水準下降。
- A. 只有 (1)
  - B. 只有 (2)
  - C. 只有 (3)
  - D. (1)、(2) 及 (3)

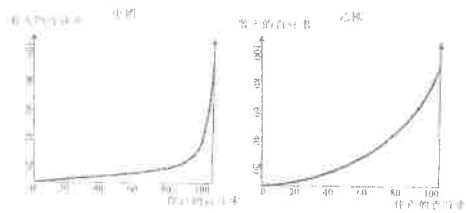
3. Practice Paper.MC.Q19

下列哪項是有效的最低工資法最有可能帶來的影響？

- A. 收入分布會變得較平均。
- B. 工人的總工資收入會上升。
- C. 就業人口會增加。
- D. 非價格競爭會出現。

4. 2012.MC.Q20

下圖顯示甲、乙兩國的洛倫茨曲線。



根據以上兩圖，

- A. 乙國的國民收入較甲國高。
- B. 乙國的低收入組別的收入高於甲國低收入組別的收入。
- C. 甲國的低收入分配較乙國平均。
- D. 甲國的基尼系數較乙國高。

5. 2012.MC.Q21

下列哪些是導致不同人之間收入不均的可能原因？

- (1) 種族的差異
  - (2) 資本擁有權的差異
  - (3) 健康的差異
- A. 只有 (1)、(2)
  - B. 只有 (1)、(3)
  - C. 只有 (2)、(3)
  - D. (1)、(2) 及 (3)

6. 2014.MC.Q20

下列哪項政策能減低香港按除稅及福利轉移後住戶每月收入計算的基尼系數？

- A. 增加薪俸稅的標準稅率
- B. 減低薪俸稅的邊際稅率
- C. 減低綜合社會保障援助的金額
- D. 向每位僱員的強積金戶口注入一筆等額的金錢

7. 2015.MC.Q21

假設某經濟除稅後的基尼系數比稅前的基尼系數高，這意味著

- A. 政府增加了給窮人的轉移支付的金額。
- B. 該經濟的稅制很可能是累退性的。
- C. 收入平均的問題比去年差。
- D. 政府應該改革稅制。

答案

1.	B
2.	B
3.	D
4.	D
5.	D
6.	A
7.	B
8.	
9.	
10.	