

匯率

1. 1992.Q.2c

部份香港成衣製造廠商從日本入口原料。解釋港幣兌日元貶值會如何影響該等廠商生產的單位成本。
(4 分)

2. 1999.Q10(d)

以下顯示港元與部份亞洲貨幣的兌換率的轉變

日期	100 港元相等於		
	日圓	印尼盾	泰銖
15/10/1996	1,448	29,412	324.7
10/10/1998	1,515.15	166,666.7	512.82

解釋這些轉變對輸往美國的香港出口的影響，並進一步解釋這種情況對香港的失業額有何影響。
(6 分)

3. 2010.Q8

假設從2008年到2009年，以港元(HK\$)計算香港出口往日本的牛仔褲售價維持不變，而以日圓(¥)計算日本出口往香港的電腦售價也維持不變。但是，港元與日圓的兌換率則有以下的改變：

日期	兌換率
2008年8月18日	HK\$7.1 = ¥100
2009年8月18日	HK\$8.2 = ¥100

上述匯率的改變會對下列(a)、(b)、(c)各項有什麼影響？下列為填充題，每題的正確答案，都是從以下四者中選取其一。

增加	減少	維持不變	不能確定
----	----	------	------

	項目 (以港元計算)	影響
(a)	日本出口往香港的電腦售價
(b)	日本出口往香港的電腦總值
(c)	香港出口往日本的牛仔褲總值

(3 分)

4. PP.Q10

假設美元兌歐元貶值。在聯繫匯率制度下，下列項目會如何受到影響？

- (a) 前往歐洲國家旅遊的香港遊客總數
- (b) 出口到歐洲的香港玩具的價格（以歐元計算）
- (c) 香港對進口歐洲汽車的總支出（以港元計算）

(3 分)

匯率及供需圖分析

5. 1998.Q.11(b)

假設日圓兌港元貶值，而港人對日本車的需求屬彈性強。

以圖輔助，解釋這些因素會如何影響日本汽車在香港的（以港元計算）銷售收益。

(8 分)

6. 1999.Q.9(b)

日元兌港元大幅貶值。其他因素不變，該事件對法國汽車在香港的銷售收益有何影響？以一供需圖輔助解釋。

(9 分)

7. 2003.Q.9(a)

香港自 1998 年起出現通貨收縮。

一位政府官員說：「香港出現通貨收縮會刺激它的出口。」

以圖輔助，解釋在什麼條件下香港出現通貨收縮會增加它的出口總值（以港元為計算單位）。

(7 分)

8. 2004.Q.11(b)

香港有很多時裝從歐洲進口。假設美元對歐羅貶值。

(i) 解釋在聯繫匯率下，以港元計算的歐洲時裝的進口價格會如何改變。

(2分)

(ii) 以圖輔助，解釋在甚麼條件下，以港元計算的歐洲時裝的進口總值會減少。

(6分)

9. 2005.Q.1


2004年雅典舉辦奧運期間，當地旅遊業的生意未如預期般理想。一般相信是歐元升值和遊客害怕當地發生恐怖襲擊所致。

上述兩項因素其中一項會導致雅典旅遊服務的需求變動，而另一項因素會導致旅遊服務的需求量變動。用以下兩圖輔助，分別解釋上述每一項因素的影響。

(5 分)


(i) 歐元升值的影響

單位價格
(以美元計算)



(ii) 遊客害怕發生恐怖襲擊的影響：

單位價格
(以美元計算)



10. 2006.Q10(a)

下表顯示歐元 (€) 匯率的變動。

日期	匯率
2005年12月1日	€1 = HK\$ 9.07
2006年1月18日	€1 = HK\$ 9.37

(a) 假設在上述期間，香港進口的歐洲汽車的價格以歐元來計算是沒有改變的。

(i) 解釋上表所示匯率的變動會怎樣影響以港元計算香港進口的歐洲汽車的價格。

(2 分)

(ii) 以圖輔助，解釋為何上表所示匯率的變動可能導致以港元計算香港進口的歐洲汽車的總支出增加。

(6 分)

(iii) 解釋上表所示匯率的變動會怎樣影響以歐元計算香港進口的歐洲汽車的總值。

(2 分)

11. 2008.Q.11(a)

貿易赤字是很多國家關注的問題。美國政府正設法減低從中國輸入的進口價值。建議方法有二：

1. 向中國政府施壓使人民幣升值。
2. 向從中國輸入的進口實施配額限制。

解釋在什麼條件下人民幣升值會導致美國從中國輸入的進口價值（以美元計算）下降。以圖+圖輔助說明你的答案。

(7 分)

12. 2011.Q.10(a)

匯率已成為今天很多人關注的問題。

(a) 美國政府強烈要求中國政府將人民幣升值，以降低美國從中國輸入的進口價值。

(i) 解釋人民幣升值怎樣影響美國從中國輸入的進口數額。 (3 分)

(ii) 解釋在甚麼條件下，人民幣升值會令美國從中國輸入得進口總值(以美元計算)增加。以圖輔助說明你的答案。 (6 分)

13. 2012.Q8

相對於其貿易夥伴的貨幣，某國的貨幣貶值。這貶值是否必然降低該國的進口總值(以本國貨幣計算)? 以圖輔助，試加解釋。 (7分)

14. 2014.Q11(a)

下表顯示港元兌日元匯率的改變。

日期	一單位港元的價格
2012年8月1日	10.2 日圓
2013年8月1日	12.5 日圓

日本出口汽車至香港。

(a) 假設日本汽車的價格(以日圓計算)沒有改變。以圖輔助，解釋為什麼上述匯率的改變會導致出口至香港的日本汽車總值(以日圓計算)上升。 (7分)

15 2018 Q12

(-2015)

旅遊業是香港其中一項「支柱产业」。

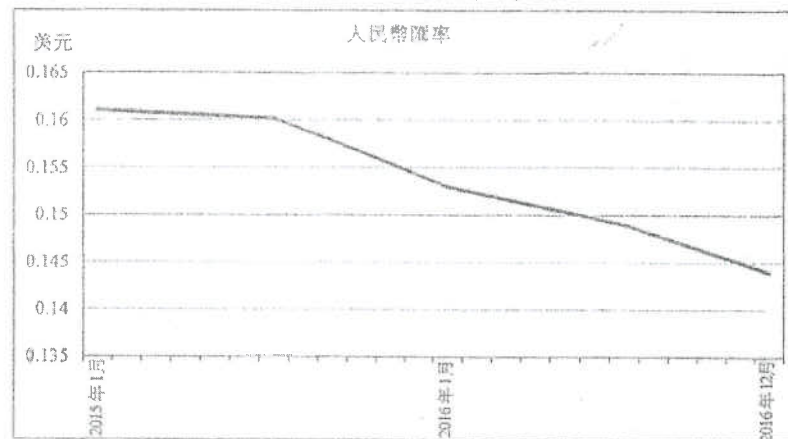
資料一：從某預訂酒店網站上搜尋的結果

酒店A 九龍尖沙咀東部	☆☆☆☆☆ 30 平方米 2 張單人床	免費取消	立即預訂! HK\$2100 或 RMB¥1750
酒店B 九龍尖沙咀東部	☆☆☆☆☆ 32 平方米 2 張單人床 免費無線上網	不可退款	立即預訂! HK\$2040 或 RMB¥1700

資料二：2016 年香港旅遊業的統計資料

	2016 年	與 2015 年比較 (%)
內地旅客	4280 萬	-6.7%
旅客總數	5665 萬	-4.5%
與入境旅遊相關的總消費	HK2962 億元	-10.1%

資料三：2015 年至 2016 年間人民幣(RMB)兌美元(USD)的匯率



(a) 參考資料一，提出兩項理由解釋為什麼香港酒店業的市場結構不屬完全競爭。(4分)

(b) 在資料一，人民幣發揮哪兩項貨幣的功能? 試加解釋。(4分)


(c) 參考資料二，「與入境旅遊相關的總消費」屬本地生產總值中的哪一個組成部分? (1分)

(d) 某記者指出：「人民幣兌美元匯率的改變是導致與入境旅遊相關的總消費改變的一項主要因素。」根據資料二及三，論證他的陳述。(6分)

16 2019 Q11C

假設高鐵的票價以人民幣計算是固定的。在香港出售的高鐵車票價格(以港元計算)會跟隨人民幣兌港元的匯率而調整。

(e) 「人民幣兌美元貶值會引致在香港出售的高鐵車票的總收入(以港元計算)上升。」以圖 2 輔助，解釋在什麼條件下，這項陳述會是正確的。(8分)



匯率

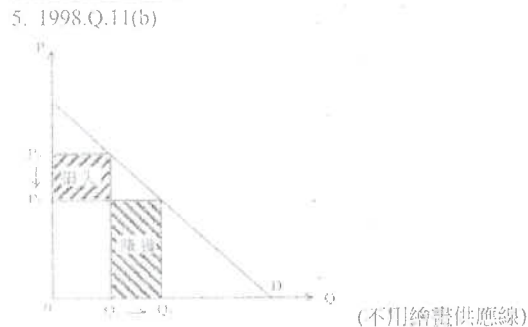
1. 1992.Q.2(c)
 港元兌日元的貶值令香港成衣製造商在購買同樣數量的原料時，需要給予較多港元予日本原料的供應商。

2. 1999.Q10(d)
 港元相對該等亞洲貨幣升值
 ⇒ 在美國市場裏，該等亞洲國家的出口貨較香港貨廉宜
 ⇒ 港貨有（更廉價的）替代品
 ⇒ 港貨的需求 ↓
 ⇒ 香港出口部門的勞力需求 ↓
 ⇒ 香港的失業額很可能上升

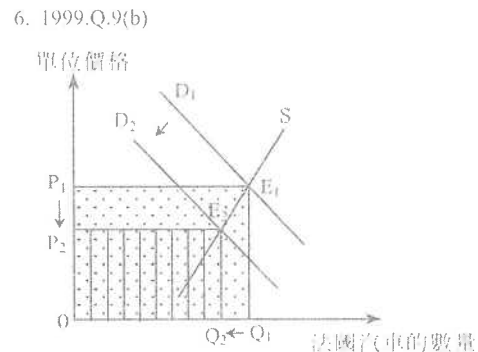
3. 2010.Q8
 (a) 增加 1
 (b) 不能確定 1
 (c) 增加 1

4. PP.Q10
 (a) 下跌（因為歐洲關的價格會上升） (1)
 (b) 下跌（因為港元兌歐元會貶值） (1)
 (c) 未能確定（因為以港元計算的價格會上升而數量會下降） (1)

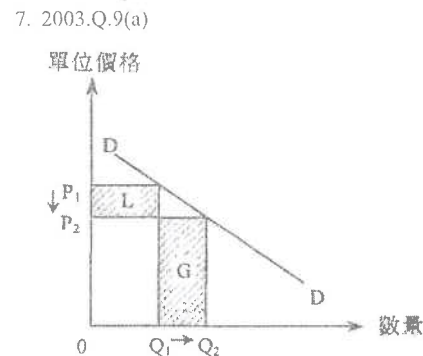
匯率及供需圖分析



■ 日本車價格（以港元表示）下跌 1
 ■ 日本車需求量大上升 1
 ■ 需求彈性強意指需求數量百分比的變動大過價格百分比的變動 2
 ■ 銷貨收益上升 或 收益的損失 < 收益的賺獲 1



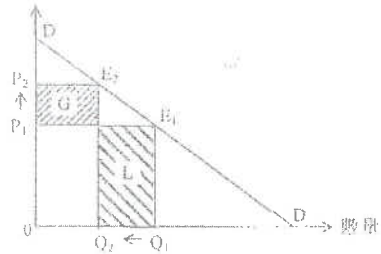
■ 貶值 ⇒ 日本車的港元價格 ↓ 1
 ■ 日本車與法國車是替代品 1
 ■ ∴ 法國車的需求 ↓ 1
 ■ ⇒ 法國車的均衡價格及數量皆 ↓ 1+1
 ■ ⇒ 法國車的銷售收益 ↓ (從 $OP_1E_1Q_1$ 變成 $OP_2E_2Q_2$) 1



出口價格下降使出口量增加，
 而由於香港出口的需求彈性大，
 出口價格下降的百分率低於數量增加的百分率，
 故出口總值增加。

8. 2004.Q.11(b)

- (i) 增加。因為在聯繫匯率下，港元兌歐羅贬值。
 (ii) 單位價格

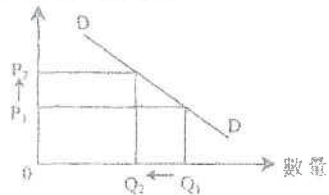


價格上升導致需求數量減少。
 由於進口屬彈性需求，
 價格改變百分比小於需求改變百分比。
 進口總值的賺獲(G)小於進口總值的損失(L)。

9. 2005.Q.1

文字解釋：
 [歐元匯價上升導致雅典旅遊服務的價格(以美元計算)上升，]
 該旅遊服務的需求量便會減少。

單位價格(以美元計算)

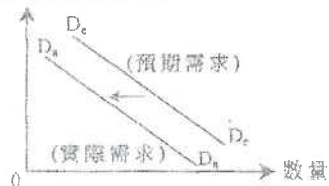


在圖上顯示：

P 升
 Q 跌

- (ii) 文字解釋：
 [遊客害怕會發生恐怖襲擊，]會減少對雅典旅遊服務的需求。

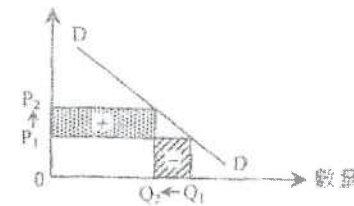
單位價格(以美元計算)



在圖上顯示：
 需求線向左移

10. 2006.Q.10(a)

- (i) 它會增加，因為
 歐元兌港元升值。
 (ii) 單位價格(港元)



在圖上顯示：

- 價格 ↑, 需求量 ↓
- 圖示「總支出增加」和「總支出減少」的位置正確
- 「總支出增加」的面積 > 「總支出減少」的面積

文字解釋：

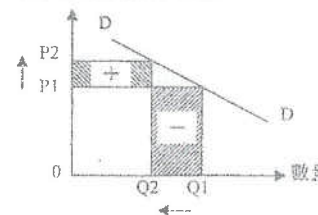
- 以港元計算，香港進口的歐洲汽車的價格增加，而其進口數量下降。
- 若需求彈性低，
- 價格改變[增加]的百分比 > 需求量改變[減少]的百分比。

(iii)

以歐元計算，香港進口的歐洲汽車的總值減少。這是因為
 進口的數量減少，而以歐元來計算的進口價格並沒有改變。

11. 2008.Q.11(a)

單位價格(以美元為單位)



在圖上顯示：

- 價格上升及數量下降
- 圖示「進口價值增加」和「進口價值減少」的位置正確
- 「進口價值增加」的面積 < 「進口價值減少」的面積

文字解釋：


- 由於人民幣升值，進口價格增加而進口數量下降。
- 條件：需求彈性高
- 價格改變的百分比 < 需求量改變的百分比

12. 2011.Q.10(a)

(i) 人民幣升值令美國從中國輸入的進口價格 (以美元計算) 上升，這會導致美國從中國輸入的進口數量減少。

2
1

(ii) 學生標紙 (ISS)



在圖上顯示：

- 沿同一需求線，價格上升及數量下降
- 進口價值的減少 < 進口價值的增加

文字解釋：

- 條件：從中國輸入的進口需求彈性低
- 進口量減少的百分比 < 進口價格上升的百分比

1
2
1
2

13. 2012.Q8

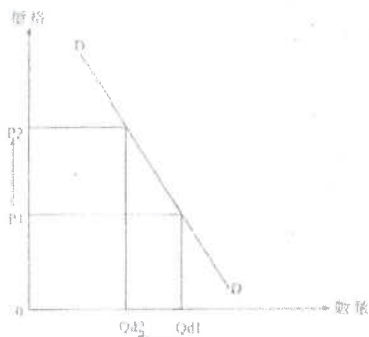
否，因為若入口貨物屬低彈性，入口價值不會下降。原因是價格上升的百分比比較需求下降的百分比為高。

(1)
(1)
(2)

在圖中顯示：

- 價格↑，需求量↓
- 入口價值增加 > 入口價值減少

(1)
(2)



14. 2014.Q11(a)

文字解說：

- 日圓兌港元貶值。
- 日本汽車的價格不變，該種汽車 (以港元計算) 變得較便宜，香港進口商會購買更多日本汽車
- 對日本出口汽車的需求上升，
- 交易量上升。
- 因此，日本出口汽車的總值上升了。

;
(1)
(1)
(1)

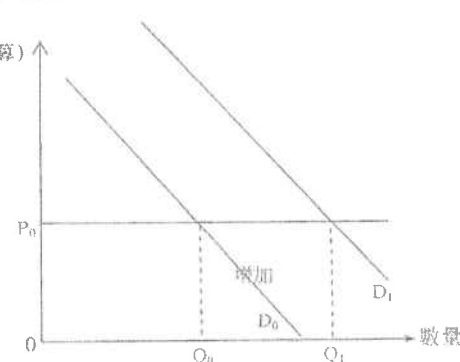
在圖中顯示：

- 需求曲線向右移
- 較高的交易量
- 總值的增加

(1)
(1)
(1)

價格

(以日圓計算)



15 2018 Q12

(a) 原因：

- 賣家提供異質服務，例如提供不同大小和特色的房間。
 - 市場訊息並不完全，例如有關服務質素的訊息。
 - 尋價者/在競爭下出現不同的價格，例如不同酒店所提供的房間收取不同價錢。
 - 任何其他相關點
- [只批閱首兩項]

分數

} @2
最高：4

(b) 功能：

- 記帳單位：酒店住宿服務的價格以人民幣標示。
 - 交易媒介：人民幣在該網站是可以幫助人們買賣服務的媒介。
- [只批閱首兩項]

(2)
(2)

(c) 服務出口/淨出口

(d) 在 2015-16 年間，人民幣兌美元貶值。在聯繫匯率制度下，港元價值會跟隨美元，故此人民幣兌港元貶值。

人民幣貶值意味著香港物品的價格以人民幣計算會變得較貴，故此較少內地遊客會到港，而到港旅客也會花費較少。由於內地遊客是本港旅客的主要來源，與入境旅遊相關的總消費下降幅度會很顯著。

最高：6

16. 2019 (Q11C)

(c) 文字統制：

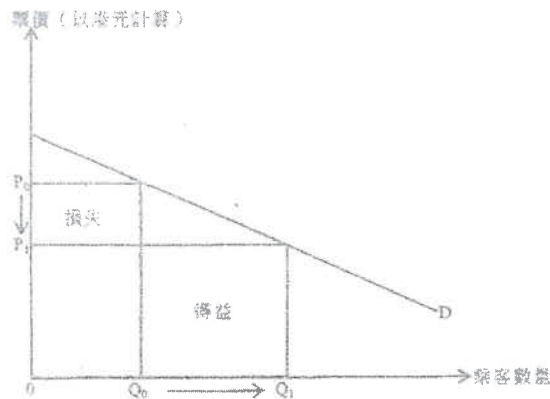
因為聯繫匯率制度，人民幣兌港元的匯率會隨之貶值，這會令票價（以港元計算）下降。若需求屬高彈性，票價下降的百分率會低於乘客數量上升的百分率，總車票總收入因而上升。

(6)

在圖中顯示：

- 得益和損失的正確位置
- 得益 > 損失

(2)



1. 1990.Q.3(a)(i)

以下是按當年市價計算香港 1988 年本地生產總值的成份：

	十億元
私人消費開支	255
政府消費開支	30
本地固定資本投資總值	109
存貨增長	10
本地出口貨物	218
轉口貨物	275
入口貨物	501
出口服務	86
入口服務	56

(1980 年本地生產總值平減指數=100)

(i) 計算有形貿易差額。 (2 分)

2. 1991.Q.4(b)

每天早上陳先生從深圳一所農場運載蔬菜來香港。解釋

(i) 蔬菜的進口價值，及

(ii) 陳先生運輸服務的價值

應否紀錄在香港的有形貿易帳目中，並分別舉述兩者對香港國際收支的影響。 (6 分)

3. 1992.Q.4(c)

寫出下列每項對香港的無形貿易差額與及國際收支差額有甚麼影響。 (4 分)

(i) 乙公司將 1000 英鎊存入它在英國某銀行的儲蓄存款戶口內

(ii) 乙公司收取從外地投資所獲派的股息

4. 1993.Q.4(a)(iii)

下表顯示香港 1980 年及 1990 年本地生產總值的組成：

本地生產總值成份	與本地生產總值的比例	
	1980 年	1990 年
私人消費開支	62%	62%
政府消費開支	4%	6%
投資	36%	28%
出口	88%	165%
入口	93%	161%

(iii) 1980 年的貿易有赤字還是有盈餘？1990 年又如何？列舉兩項原因說明為甚麼貿易差額有上述的轉變。 (6 分)

5. 1994.Q.8

解釋在甚麼情況下，一國可同時有貿易赤字和國際收支盈餘。 (4 分)

6. 1995.Q.9(b)

以下各項，先列出美國的國際收支帳內受影響的帳目名稱，後解釋美國的國際收支帳如何受影響。

(i) 外國遊客在美國購置香港製造的紀念品。 (5 分)

(ii) 外國投資者在賽事舉行之前，在美國建造了若干酒店。 (2 分)

7. 1996.Q.9

下表所示為某年某國家國際收支帳的項目 (以百萬元計) :

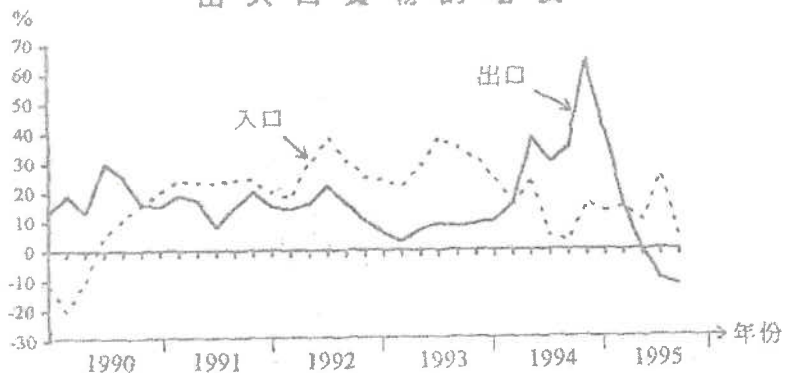
	借方 (百萬元)	貸方 (百萬元)
貨物出口		24
貨物入口	35	
服務出口		17
服務入口	19	
資本流入		50
資本流出	65	
外匯及黃金帳		28
總額	119	119

(a) 計算經常帳的差額。 (1 分)

(b) 「該國沒有國際收支平衡問題，因為借方總額相等於貸方總額。」解釋你是否同意上述說法。 (3 分)

8. 1997.Q.6

進出口貨物的增長



解釋在甚麼條件之下，從上表可獲得以下結論：該經濟在 1991 至 1993 年期間的有形貿易有盈餘。 (3 分)

9. 1997.Q.11(a)(i)

設有價值 1 百萬元的海鮮入口香港。半數以 0.8 百萬元售予本地家庭，而其餘半數則以 0.7 百萬元售予本地的酒家。這些酒家將海鮮烹煮後以 1.6 百萬元售賣給顧客，其中 0.6 百萬元是遊客消費。

(i) 解釋上述各交易的綜合結果是否可改善本港的

(I) 有形貿易差額。 (4 分)

(II) 國際收支差額。

11. 1998.Q.8

參閱下表：

年份	人口 (百萬元)	本地出口 (百萬元)	轉口 (百萬元)
1996	1 535 582	212 160	1 185 758

資料來源：香港 1997

解釋上表資料可否導致以下結論：在 1996 年，香港的國際收支差額出現赤字。 (3 分)

12. 1998.Q.11(c)(ii),(iii)

某年，日本汽車在香港的銷售收益下降。原因是本地對這些汽車的需求下降，而轉口輸往中國大陸的需求亦減少。

(ii) 香港國際收支帳中哪一帳目受到影響？ (2 分)

(iii) 解釋上述兩項需求變動對香港國際收支帳有甚麼綜合影響。 (5 分)

13. 1999.Q.6(b)

[...] 富城贏取一項海外獎學金，收到 \$10,000 的匯款，將它存入甲銀行。 [...]

(b) 解釋這筆 \$10,000 款項應否包括入該海外經濟的無形貿易差額的計算之內。 (2 分)

14. 2001.Q.8

根據香港國際收支平衡表回答以下問題：

(a) (i) 經常帳的其中兩個組成部分是「要素收益」和「經常轉移」，寫出其他兩個組成部分名稱。 (2 分)

(ii) 舉出一個「要素收益」的例子。 (2 分)

(b) 除經常帳外，寫出國際收支平衡表上另一個帳目的名稱。 (2 分)

15. 2004.Q.8

以下資料顯示某經濟在某年的貿易統計數字。

	百萬元
有形貿易盈餘	40
本地出口貨物	10
進口貨物	30
進口服務	50
出口服務	25

計算該經濟的轉口值。 (3 分)

16. 2006.Q.11(a)

私人消費開支的增加通常會影響有形貿易差額及政府的財政。

(a)(i) 解釋香港私人消費開支的增加可能會怎樣影響她的有形貿易差額。 (3 分)

(ii) 下表資料顯示香港的經濟在 2004 年有強勁復甦的跡象。

	價值的變動(按年變動率)
私人消費開支	+6.8%
貨品出口總值	+15.9%

資料來源：香港特區政府

已知上述資料，解釋在甚麼條件下香港在 2004 年的有形貿易差額會變差。 (2 分)

17. 2008.Q.11(c)

若一國的進口貨品價值下降，解釋其有形貿易差額是否必然獲得改善。 (4 分)

18. 2009.Q.8

假設某年香港的國際收支平衡表如下：

		億元	
1. 經常帳		R	S
	貨物		3 000
	收益流動		300
	經常轉移流動		-200
2. 資本帳		-1800	
		總和 = 0	

- (a) 經常帳組成部分 P 的名稱是 _____。(1 分)
- (b) 在國際收支平衡表中，Q 帳的名稱是 _____ 帳。(1 分)
- (c) 在上表中，R 及 S 分別代表經常帳差額及有形貿易差額。假設沒有誤差及遺漏。
- (i) 有形貿易差額 = _____ 億元。(1 分)
- (ii) 本地貨物出口是 1 470 億元，而貨物進口是 26 000 億元，所以貨物轉口是 _____ 億元。(1 分)

19. 2010.Q.9(d)

很多內地來港遊客所購買的紀念品，都是從內地進口本港的。解釋為什麼這些交易會改善香港國際收支平衡表中的經常帳差額。(5 分)

20. 2011.Q.10(b)

假設美國從中國進口的貨品總值(以美元計算)上升，解釋美國對華貿易時，美國的有形貿易差額是否有可能或改善。(4 分)

21. 2012.Q.5(b)

甲國對物品 X 實施一有效的價格上限。

(b) 在實施該價格上限後，乙國很多市民前往甲國購買物品 X。甲國的無形貿易差額會受影響嗎？試加解釋。(3 分)

22. 2013.Q6

下表顯示甲國在某年度國際收支表的項目。

	借方 (百萬元)	貸方 (百萬元)
物品出口		35
物品進口	50	
服務出口		47
服務進口	27	
資金流入		70
資金流出	85	
外匯和儲備資產		10
總額	162	162

- (a) 計算甲國的經常帳差額。(1 分)
- (b) 「甲國的國際收支出現盈餘，因為在該年外匯儲備增加了。」解釋你是否同意這項陳述。(3 分)

23. 2015.Q12(a)

研究顯示內地旅客的「個人遊」計劃為香港帶來經濟利益。不過，越來越多的香港居民要求政府減少透過該計劃到港的內地旅客人數。

- (a) 若政府限制該計劃的規模而令內地旅客訪港人數減少，香港的經常帳會如何受到影響？試加解釋。(2 分)

24. 2016.Q13(b)(i)

H 國的機場管理公司是一間公營公司。它聘請了不同職員營運機場，例如有保安員、技術員、工程師和財務經理。

(b) 該機場管理公司計劃興建多一條跑道，當中有兩個為該跑道融資的提案。

提案 A：政府增加人息稅

提案 B：機場管理公司向每位出境的旅客徵收一項定額費用

討論這兩個提案對 H 國下列方面的影響：

- (i) 國際收支平衡中的經常帳

(5 分)

(-2015)

25 2017 12c

在英國人民投票反對留在歐盟（即英國脫歐）之前，來自歐盟的工人可以自由在英國工作，反之亦然。英國脫歐引起歐洲經濟震盪，下表顯示關於英國脫歐的一些看法：

英國政府： 歐盟低技術工人應該需要申請簽證才可在英國工作。	英國廠商東主： 該項對歐盟工人的新簽證要求影響到英國經濟的大部分廠商。
環球投資者： 英國政局不穩增加當地投資項目的風險。	歐盟官員： 英國國民前往歐盟國家遊覽或工作可能需要簽證。

- (a) 參考英國政府的看法，解釋來自歐盟的低技術工人的勞工流動性會如何受影響。(3分)
- (b) 參考英國廠商東主和環球投資者的看法，並以圖輔助，討論英國脫歐於短期而言對其總產出的影響。(8分)
- (c) 參考歐盟官員的看法，指出英國國際收支平衡的經常帳中，哪兩個部分可能受影響。解釋你的答案。(4分)

26 2018 Q11

為了發展核武並增強軍力，Z國把投放在國防的政府開支份額由10%提高至20%。而且所有20-25歲的男性都要被徵召入軍隊兩年。

為此，聯合國通過一項決議，對Z國大部分的出口物品實施禁運，以應對Z國不斷增加的軍事威脅。

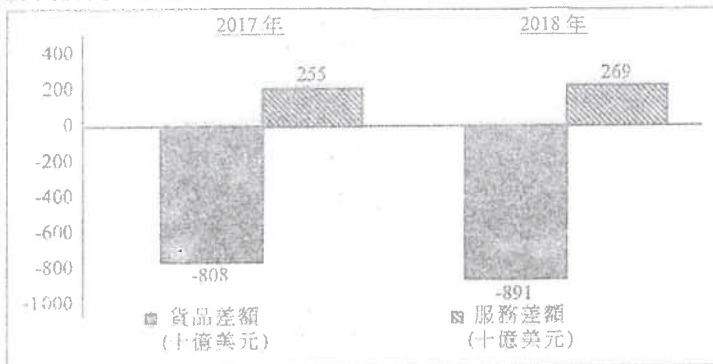
分析上述情況對Z國以下方面的影響：

- 一般生活水平
- 短期總產出
- 國際收支平衡

(10分)

27 2020 Q10A

以下資料顯示美國在2017年及2018年的經常帳數據。



- (a) (i) 描述在以上資料中，美國經常帳數據的轉變。(2分)
- (ii) 「根據以上資料，我們可以得出以下結論：美國2018年經常帳赤字必然增加。」你同意嗎？試加解釋。(2分)

309

1. 1990.Q.3(a)(i)

有形貿易差額 = $(218 + 275) - 501 = -8$ (十億元)

2. 1991.Q.4(b)

- (i) 蔬菜的人口價應記錄在有形貿易內，因為蔬菜是實際性物品的交易。這項人口是香港的支出項，所以對香港的國際收支額不利。
- (ii) 陳先生生產的運輸服務不應記錄在有形貿易內，因為運輸屬服務而非物品交易。這項生產時香港的無形貿易的收入，對香港的國際收支額有利。

3. 1992.Q.4(c)

- (i) 此舉並不影響香港的無形貿易，但對香港的國際收支差額不利。
- (ii) 此舉會改善香港的無形貿易，對國際收支差額有利。

4. 1993.Q.4(a)(iii)

1980年出現貿易赤字，而1990年則有貿易盈餘。

中國對外貿易的開放擴大了中港兩地的貿易，對香港的出口業及轉口業均有利。另外，香港經濟的多元化令香港開創了很多新興工業，亦開拓了港產貨的市場。

5. 1994.Q.8

貿易平衡（有形貿易）只是經常帳的一部分。若資本帳或無形貿易的收支或兩者的盈餘足以抵消有形貿易赤字，香港的國際收支差額仍然會有盈餘。

6. 1995.Q.9(b)

- (i) 甲效果：外國遊客購買紀念品是從香港輸入的，這對美國的經常帳/有形貿易帳目有不利影響 1
- 乙效果：外國遊客購買紀念品對美國的經常帳/無形貿易帳目有利影響 1
- 若 甲效果 < 乙效果 => 對美國國際收支帳有利。 1
- (ii) 影響資本帳 1
- 這是有利的影響=>對美國國際收支帳有利。 1

7. 1996.Q.9

- (a) $(24 + 35 + 17 - 19)$ 百萬元 / -13 百萬元 1
- (b) 有國際收支赤字 2 千 8 百萬元 / 經常帳和資本帳總和有赤字。 3

8. 1997.Q.6

由1991年至1993年，入口貨的增長比出口貨的增長高。

但是，若1991年的出口貨值遠高於1991年的入口貨價值，而

這差異又大於於出口貨的增長率的差異，

則1991年至1993年出口貨的價值高於入口貨的價值，有形貿易會出現盈餘。

9. 1997.Q.11(a)(i)
- (i) 上述的交易並不能改善本港的有形貿易差額。因為交易中，只有入口貨（海鮮）而沒有出口貨。
- (ii) 由於對外的總收入(0.6 百萬元)比總支出(1 百萬元)小，所以上述的貿易並不能改善本港的國際收支差額。
10. 1998.Q.8
- 否。 沒有資本帳/ 無形貿易帳的資料。 3
11. 1998.Q.11(c)(ii),(iii)
- (ii) 經常帳/ (資本及金融帳) 2
- (iii) * 本港對入口需求下降會改善香港的有形貿易差額/ 經常帳 / (但對資本及金融帳不利) 2
- * 轉口需求下降會
- ⊗ 對香港的有形貿易差額不利。
 - 或
 - ⊙ 對香港的無形貿易差額/ 經常帳差額/ (資本及金融帳差額)的影響不確定，有利或不利。
- * 對香港國際收支差額的綜合影響要視乎上述兩種不同影響哪一種影響較大而定/ 並不確定。[此部分答案應與 (i) 及 (ii) 的答案相配合。] 1
- 或
- 對香港國際收支帳的綜合影響是：貸方與借方有等額的變動。
- (c)(iii) 部分總共 2 + 2 + 1 = 5 分
12. 1999.Q.6(b)
- (b) 不包括在內，該 \$10 000 不是勞務的價值。 2
13. 2001.Q.8
- (a)(i) 貨物 1
- 服務 1
- [只批閱首兩項。]
- (ii) 例如：在外國所賺獲的利息 / 向外國支付的利息（其他例子有股息，租金收入和工資） 2
- (b) 資本及金融帳 2
14. 2004.Q.8
- 轉口值 = 有形貿易盈餘 + 進口貨物 - 本地出口貨物
- = (40 + 30 - 10) 百萬元
- = 60 百萬元

15. 2006.Q.11(a)
- 顯示有形貿易差額的概念：
- 有形貿易差額 = 貨品出口總值 - 貨品進口總值 1
- [香港大部分的消費品都是進口的。]在香港，私人消費開支增加通常會帶來進口貨品總值的增加。
- (i) 有形貿易差額很可能會變差。 1
- [假設出口貨品總值不變或其他因素不變]
- (ii) 條件是： 2
- 出口貨品總值的增加 < 進口貨品總值的增加
16. 2008.Q.11(c)
- 顯示有形貿易差額的如下概念：
- 有形貿易差額 = 出口貨品價值 - 進口貨品價值 1
- 否，因為 1
- 出口貨品價值亦可能減少， 1
- 而這減少大於進口貨品價值的減少。 1
17. 2009.Q.8
- (a) P 的名稱是 服務。 1
- (b) Q 帳的名稱是 資本及金融帳。 1
- (c)(i) 有形貿易差額 = -1 300 億元 1
- (ii) 貨物轉口 = 23 230 億元 1
18. 2010.Q.9(d)
- (d) 從內地進口紀念品會減少(本港的有形貿易差額，因而減少)本港經常帳的差額 1
- 向內地來港遊客出售紀念品會增加本港經常帳內的無形貿易差額。 1+1
- 經常帳差額下降之幅度小於經常帳差額上升之幅度 1
- 這是本地出售這些紀念品的服務提供者所貢獻的增值。 1
19. 2011.Q.10(b)
- 顯示有形貿易差額的概念：
- 有形貿易差額 = 出口貨品總值 - 進口貨品總值 1
- 有可能。在下列情況下會有可能： 1
- 美國對華出口貨品的價值增加 1
- 而遠增加大於從中國進口貨品的價值的上升。 1
20. 2012.Q.5(b)
- (b) 是，因為 1
- 交通和其他旅客有關開支會增加，這些開支被視為服務出口。故此無形貿易戶口增加。 (2)

21. 2013.Q6

- (a) 經常帳差額 = $35 - 50 + 47 - 27 = 5$ 百萬元 (1)
- (b) 否，因為國際收支平衡是 -10 百萬元，這意味著國際收支赤字。 (3)

(a) (i) 貿易赤字增加了，而無形貿易盈餘輕微增加。 (2)

(ii) 否。我們仍然需要外部要素收入流動（即外部收入淨額）及經常轉移等資料數據以得出結論。 (2)

22. 2015.Q12(a)

- 對內地旅客的服務出口下跌 (1)
- 會令經常帳的盈餘下降（或赤字會上升）。 (1)

23. 2016 13bi

- (b) (i) 提案A對經常帳的影響：
增加入稅稅令可用收入下降。
故此消費減少，AD和產出水平下降。
進口會減少。
經常帳會有更多盈餘/赤字下降。

提案B對經常帳的影響：
對出境旅客收費會令人們使用機場的成本上升。
對旅遊業會有負面影響，入境和出境的旅客人數均會下降。
嚴厲的進口壟和出口壟會下降。
對經常帳的影響未能確定。

25. 2017 12c

- (c) 經常帳的組成部分：
 - 無形貿易：旅遊的成本增加令往歐盟的遊客減少，故此服務進口下跌。
 - 要素收入（初級收入）：較少工人前往歐盟工作會令英國工人的薪資額下降。
 - 單向轉移（次級收入）：較少工人前往歐盟工作會令工人匯款到英國的金額下降。

@2
最高：4

26. 2018 Q11

- 一般生活水平：
生活水平下降因為政府支出或資源/產出較大部分投放在國防方面，對一般生活水平貢獻不大。
整體來說市民享用較少的物品和服務。被征召入伍的男士被迫離開他們現有的工作，因而減低了他們住戶的收入(和消費)。

- 總產出：
SRAS 曲線向左移，因為更少的勞工用作生產。
AD 曲線向左移，因為聯合國禁運令Z國出口下跌。
總產出因而下降。

最高：10

- 國際收支平衡：
國際收支平衡會變差。
因為禁運令物品出口下跌。
出口服務也會下降，由於戰爭威脅，較少遊客會到該國旅遊。
外國會撤走在Z國的投資，資本可能流出該國。

某貨幣升值/貶值的影響

1. 1991.MC.Q51

日本貨幣升值會導致

- A. 日本貨在香港跌價。
- B. 前往日本的香港遊客數目減少。
- C. 日本出口數量增加。
- D. 日本在國外的投資減少。

2. 1993.MC.Q55

年份	匯率
1990	576 港元 = 10,000 日圓
1991	622 港元 = 10,000 日圓

上述港元兌日圓的匯率變動會導致

- A. 日本貨入口增長率減慢。
- B. 港製成衣輸往日本的出口數量下降。
- C. 日本人在本地地產投資下降。
- D. 香港對日本出現貿易盈餘。

3. 1994.MC.Q57

若港元兌日圓貶值，

- A. 較少日本遊客願意來港遊覽。
- B. 日本貨入口價會下降。
- C. 港貨在日本競爭力下降。
- D. 持有日圓存款者會得益。

4. 1997.MC.Q54

港元相對英鎊升值，會導致

- A. 輸往英國的香港出口貨數量增加。
- B. 香港入口的英國貨數量增加。
- C. 香港入口的美國貨數量增加。
- D. 從英國流入香港的資金增加。

5. 1998.MC.Q48

若匯率由加幣\$1=港幣\$5.7 變為加幣\$1=港幣\$5，香港與加拿大雙邊貿易會受到什麼影響？

- A. 香港出口往加拿大貨物數量會增加。
- B. 香港入口加拿大貨物數量會增加。
- C. 香港入口加拿大貨物價錢會更昂貴。
- D. 香港入口加拿大貨物的港元支出會增加。

6. 2003.MC.Q47

港元兌日圓兌換率以下的改變會導致什麼結果？

2 月 15 日	6.4 港元 = 100 日圓
同年 3 月 15 日	6.1 港元 = 100 日圓

- (1) 香港從日本進口的貨物數量會增加。
 - (2) 香港日本遊客人數會增加。
 - (3) 香港出口往日本的貨物價格（以日圓計算）會上升。
- A. 只有(1)、(2)
 - B. 只有(1)、(3)
 - C. 只有(2)、(3)
 - D. (1)、(2)、(3)

7. 2010.MC.Q39

日期	兌換率
2010年9月	10 港元 = 1 歐元
2011年7月	11.3 港元 = 1 歐元

上述港元兌歐元的匯率變動會導致

- A. 從歐洲來港的遊客人數減少。
- B. 來自歐洲的進口貨物價格（以港元計算）下降。
- C. 來自歐洲的進口貨物總值（以歐元計算）下降。
- D. 美元兌歐元的匯率下跌。

8. 2013.MC.Q37

相對於其貿易夥伴的貨幣，某國的貨幣升值，若該國對進口的需求屬 _____，貨幣升值會令進口總值（以本國貨幣計算）_____。

- A. 單一彈性 ... 上升
- B. 低彈性 ... 上升
- C. 高彈性 ... 下跌
- D. 低彈性 ... 下跌

聯繫匯率制度(1) - 美元匯率影響港元匯率

9. 1995.MC.Q55

在聯繫匯率制度下，若美元兌日元大幅貶值，

- A. 會有較多美國遊客到日本旅遊。
- B. 會有較多日本遊客到香港旅遊。
- C. 會有較少香港產品出口往美國。
- D. 會有較少香港產品出口往日本。

10. 2000.MC.Q52

假設日圓相對美元大幅升值。由於聯繫匯率，

- A. 港元相對日圓會大幅貶值。
- B. 美元相對日圓會大幅貶值。
- C. 美元相對歐羅會大幅貶值。
- D. 港元相對歐羅會大幅貶值。

11. 2001.MC.Q46

在香港的聯繫匯率制度下，

- A. 港元與美元的市場兌換率是固定的。
- B. 除美元外，港元與其他貨幣的市場兌換率是固定的。
- C. 若美元對澳元升值，則港元會對澳元貶值。
- D. 若美元對日圓升值，則港元亦會對日圓升值。

聯繫匯率制度(2) 美元匯率變動→港元匯率變動→分析影響

12. 2005.MC.Q49

某年	匯率
一月	1美元 = 120 日圓
五月	1美元 = 105 日圓

在聯繫匯率制度下，上述美元兌日圓的匯率變動會導致

- A. 往美國旅遊的香港人數目減少。
- B. 往日本旅遊的香港人數目增加。
- C. 日本電器輸往香港的出口數量減少。
- D. 港製時裝輸往日本的出口數量減少。

13. 2008.MC.Q50

下表顯示美元兌日圓匯率的改變。

日期	兌換率
2007年7月11日	1美元 = 122 日圓
2007年11月14日	1美元 = 111 日圓

在香港的聯繫匯率制度下，上述匯率改變會導致_____。

- (1) 香港的出口在日本的競爭力增加
 - (2) 香港到日本旅遊的人數下降
 - (3) 香港從日本輸入的進口總值（以港元計算）下降
- A. 只有(1)、(2)
 - B. 只有(1)、(3)
 - C. 只有(2)、(3)
 - D. (1)、(2)、(3)

14. 2009.MC.Q49

日期	兌換率
1.12.2007	1美元 = 930 南韓圓
1.12.2008	1美元 = 1468 南韓圓

在香港的聯繫匯率制度下，上述南韓圓與美元匯率的變動會導致

- A. 訪港的韓國遊客更多。
- B. 訪韓的香港遊客更多。
- C. 訪港的美國遊客更少。
- D. 訪韓的美國遊客更少。

15. 2010.MC.Q50

在聯繫匯率制度下，當英鎊對美元貶值時，

- A. 香港出口往英國的電器產品數量會增加。
- B. 香港人在英國購買的紀念品數量會減少。
- C. 香港人訪美的人數會增加。
- D. 英國人訪港的人數會減少。

16. 2011.MC.Q49

日期	兌換率
2009年6月26日	US\$1 = £0.605
2010年6月26日	US\$1 = £0.665

在香港的聯繫匯率制度下，上述英鎊(£)兌美元(US\$)的匯率變動會導致_____。

- A. 訪港的英國遊客數目增加
- B. 英國的出口在香港的競爭力上升
- C. 從香港輸往英國的進口總值（以英鎊計算）下降
- D. 從英國輸往香港的出口總值（以港元計算）下降

17. SP.MC.Q40

某年	匯率
四月	1 歐元 = 1.12 美元
七月	1 歐元 = 1.35 美元

在聯繫匯率制度下，上述歐元兌美元的匯率變動會導致

- A. 訪港的歐洲旅客人數減少。
- B. 訪美的香港旅客人數減少。
- C. 歐洲出口到香港的汽車數量增加。
- D. 香港出口到歐洲的成衣產品數量增加。

18. 2014.MC.Q42

假設南韓圓兌美元貶值。在香港聯繫匯率制度下，下列哪些會是上述匯率改變的結果？

- (1) 從南韓進口至香港的物品數量會增加。
 - (2) 從香港出口至南韓的物品價格(以港元計算)會上升。
 - (3) 到訪香港的南韓遊客人數會下跌。
- A. 只有(1)、(2)
 - B. 只有(1)、(3)
 - C. 只有(2)、(3)
 - D. (1)、(2)、(3)

聯繫匯率制度(3) – 有關制度的描述

19. 1993.MC.Q33

下列哪一項有關香港聯繫匯率的描述是正確的？

- A. 它由市場力量所決定。
- B. 它曾多次被政府修改。
- C. 該匯率制度是用來穩定港元匯價的。
- D. 它是港元兌一籃子外國貨幣的匯率。

20. 1996.MC.Q52

香港實施聯繫匯率制度。在外匯市場上，港元兌美元的匯率_____而港元兌其他貨幣的匯率_____。

- A. 固定在 1 美元=7.8 港元...是固定的
- B. 固定在 1 美元=7.8 港元...不是固定的
- C. 不是固定的...是固定的
- D. 不是固定的...不是固定的

21. 1998.MC.Q49

在香港的聯繫匯率制度下，下列哪一項描述是正確？

- A. 港元兌人民幣的匯率是固定的。
- B. 港元兌美元的市場匯率固定在美元\$1=港元\$7.8。
- C. 美元相對其他貨幣升值時，香港出口貨的競爭力減弱。
- D. 香港不會出現國際收支不平衡的問題。

22. 2006.MC.Q47

在香港的聯繫匯率制度下，下列哪項是正確的？

- A. 在外匯市場裡，港元與美元之間的兌換率固定在1美元 = 7.8港元。
- B. 若中國內地有形貿易出現盈餘，香港也會出現有形貿易盈餘。
- C. 當美元相對歐元貶值時，港元相對歐元也會貶值。
- D. 以上全部皆正確。

23. 2009.MC.Q50

在香港的聯繫匯率制度下，

- A. 港元在外匯市場上兌換美元的匯率是固定的。
- B. 香港政府無須持有大量外匯儲備。
- C. 香港市民可按聯繫匯率從香港政府手上把港元轉換為美元。
- D. 港元現鈔有外匯儲備作出十足支持。

24. 2011.MC.Q50

在香港的聯繫匯率制度下，

- A. 港元兌美元的市場兌換率被固定在US\$1 = HK\$7.8。
- B. 香港三家發鈔銀行有責任為公眾按聯繫匯率將港元兌換成美元。
- C. 港元紙幣毋須全部由外匯儲備作擔保。
- D. 港元兌歐元的市場兌換率會跟隨美元兌歐元的市場兌換率的變動方向來變動。

25. 2013.MC.Q40

下列哪項有關香港聯繫匯率制度的陳述是正確的？

- (1) 港元鈔票由人民幣和美元十足支持。
 - (2) 香港金融管理局持有相當數量的外匯儲備。
 - (3) 所有發鈔銀行可按聯繫匯率與香港金融管理局兌換美元。
 - (4) 港元兌美元在外匯市場的兌換率是固定的。
- A. 只有(1)、(2)
 - B. 只有(1)、(4)
 - C. 只有(2)、(3)
 - D. 只有(3)、(4)

26. 2015.MC.Q42

在香港聯繫匯率制度之下，下列哪項陳述是正確的？

- A. 香港的貨幣供應定義一 (M1) 必須全部由美元支持。
- B. 港元兌美元的市場匯率由香港金融管理局固定在 1 美元兌 7.8 港元。
- C. 當美元兌其他貨幣升值，香港的進口量會上升。
- D. 美國經常帳赤字會導致香港經常帳出現赤字。

影響匯率的因素

27. 1993.MC.Q36

在下列哪一種情況下港元價值下降？

- A. 美元兌其他貨幣升值。
- B. 政府發行新的\$10 硬幣以代替\$10 紙幣。
- C. 名義收入有所增加。
- D. 本地生產總值平減指數有所增加。

28. 2016 Q44

假設某地區中的國家都是出口物品往英國的競爭對手，除了X國的貨幣外，在該地區中其他國家的貨幣兌美元均贬值。結果，X國出口往英國的物品數量會

- A. 下降。
- B. 上升。
- C. 維持不變。
- D. 未能確定。

29. 2016 Q45

日期	匯率
2015年2月15日	1美元 = 0.8773 歐元
2015年8月15日	1美元 = 0.8965 歐元

在香港聯繫匯率制度下，上述歐元兌美元匯率的改變會引致

- A. 到訪香港的歐洲遊客人數上升
- B. 歐洲出口往香港的物品總值上升（以港元計算）
- C. 香港出口往美國的物品數量下降
- D. 香港出口往歐洲的物品總值下降（以港元計算）

30. 2017 Q44

日期	匯率
2015年11月22日	1美元 = 6.39 元人民幣
2016年11月22日	1美元 = 6.89 元人民幣

以上美元兌人民幣匯率的改變會令

- (1) 到訪美國的中國旅客人數減少。
- (2) 美國出口往中國的物品競爭力下降。
- (3) 美國出口往中國的物品總值上升（以美元計算）。

- A. 只有 (1) 及 (2)
- B. 只有 (1) 及 (3)
- C. 只有 (2) 及 (3)
- D. (1) 及 (2) 是 (3)

31. 2017 Q45

在香港聯繫匯率制度之下，下列哪項陳述是正確的？

- A. 非銀行公眾可以在任何時間將所持有的港幣賣給香港金融管理局以換取美元。
- B. 它讓香港金融管理局可以實施擴張性貨幣政策以刺激私人投資。
- C. 美元兌港元的市場匯率是固定於1美元 = 7.8港元。
- D. 人民幣兌美元持續升值，會對本港消費物價指數構成向下壓力。

32. 2018 Q45

黃先生以港幣 10000 元在第一天購入人民幣，並在第二天出售該筆款項以獲取港幣，其兌換率如下表所示：

匯率	
第一天	1 港元 = 0.83 人民幣
第二天	1 港元 = 0.77 人民幣

在以上的交易，黃先生大約

- A. 損失了港幣 779 元
- B. 損失了港幣 600 元
- C. 賺取了港幣 600 元
- D. 賺取了港幣 779 元

33. 2019 Q45

細閱 iPhone X 在香港的價格（以港元計算）與在內地的價格（以人民幣計算）。

香港	內地
8588 港元	8316 人民幣

已知匯率是 1 港元兌 0.875 元人民幣，下列哪項陳述是正確的？

- A. 遊客傾向於在內地而非在香港購買 iPhone X。
- B. 人民幣的幣值被低估，因為 iPhone X 在內地的價格比在香港的便宜。
- C. 若運費是 950 港元，在香港購買一部 iPhone X 並在內地轉售便再不能獲利。
- D. 當本港 iPhone X 的價格高於 9504 港元，「低買高賣」的潛在利益便會消失。

34. 2020 Q44

下表顯示歐元兌美元的匯率轉變。

日期	匯率
2018年9月22日	1 歐元 = 1.176 美元
2019年8月22日	1 歐元 = 1.109 美元

上述匯率的轉變會引致

- A. 到訪美國的歐洲遊客人數
- B. 從歐洲出口至美國的物品數量
- C. 美國出口至歐洲的貨物總值（以歐元計算）
- D. 歐洲出口至美國的貨物總值（以美元計算）

35. 2020 Q45

在香港的聯繫匯率制度下，下列哪項陳述是正確的？

- A. 本港的貨幣供應定義一必須有美元的全數支持。
- B. 當美元兌其他貨幣贬值，香港的出口量會上升。
- C. 港元相對美元的市場匯率是固定的。
- D. 本港市民可以向三家發鈔銀行賣出 1 美元以換得 7.8 港元。

相關下表。

	匯率
2019年12月3日	1港元 = 0.902人民幣
2020年12月3日	1港元 = 0.923人民幣

在2019年12月3日，陳先生用港幣兌換了300,000人民幣，並將該筆款項存入銀行作定期存款，年利率0.8%。假設他在2020年12月3日提取該筆款項，並把它兌回港幣。

在上述的交易後，陳先生

- A. 損失了約港幣 \$4,967
- B. 損失了約港幣 \$7,570
- C. 賺取了約港幣 \$6,300
- D. 賺取了約港幣 \$8,515

13MC1 匯率 答案

1.	A	11.	C	21.	C
2.	A	12.	A	22.	C
3.	D	13.	B	23.	D
4.	B	14.	D	24.	D
5.	B	15.	D	25.	C
6.	C	16.	B	26.	C
7.	A	17.	D	27.	D
8.	B	18.	B	28.	A
9.	D	19.	C	29.	D
10.	D	20.	D	30.	A

31D

32D

33C

34 A

35 B

36 A

有形/無形貿易(1) - 項目分辨

1. 1998.MC.Q46

下列哪一項是香港國際收支帳中的一項無形出口？

- A. 一間日本公司在香港股市購買股票。
- B. 一位香港市民購買日本的航空公司的機票。
- C. 一位香港市民匯錢給他日本的兒子。
- D. 一位日本遊客在香港向一位本地醫生求診。

2. 2006.MC.Q45

不少中國內地的遊客在香港迪士尼樂園購買紀念品。假設這些紀念品是在中國內地製造的。那麼上述遊客的花費是香港的一項_____

- A. 本地出口貨物。
- B. 轉口貨物。
- C. 出口服務。
- D. 進口服務。

3. 2008.MC.Q46

下列哪項應包括入香港無形進口的計算之內？

- A. 一名香港市民在本港股票市場購買國企股票。
- B. 一名香港市民購買中國內地航空公司的機票。
- C. 一名內地學生支付在香港一所大學學習的學費。
- D. 一名內地投資者在香港購買一間住宅。

4. 2009.MC.Q47

瑪麗是泰國某百貨公司的時裝採購員。她前來香港，從一家香港成衣製造商購買了價值\$300,000的成衣。該批成衣直接由製造商運往該百貨公司。在瑪麗留港期間，她又從電器店購買了一台價值\$10,000的個人電腦，作私人用途。該批\$300,000的成衣被視為香港的一項_____出口，而該台價值\$10,000的電腦被視為香港的一項_____出口。

- A. 有形 ... 有形
- B. 有形 ... 無形
- C. 無形 ... 有形
- D. 無形 ... 無形

5. 2010.MC.Q49

下列哪項應包括入香港無形進口的計算之中？

- A. 一位香港市民購買一場在澳門舉行的音樂會的人場券所支出的款項。
- B. 一位馬來西亞遊客為購買在香港舉辦的2009年東亞運動會的人場券所支出的款項。
- C. 一位香港市民捐予海地受地震影響的災民的款項。
- D. 一位香港市民透過本地一家銀行購買人民幣國債所支出的款項。

6. 2011.MC.Q48

某內地遊客在香港停留期間用了\$400作為交通費，又在一家商店購買了價值\$2,000的數碼相機。該筆\$400的交通費被歸類為香港的_____出口，該部價值\$2,000的數碼相機被歸類為香港的_____出口。

- A. 有形 ... 有形
- B. 有形 ... 無形
- C. 無形 ... 有形
- D. 無形 ... 無形

7. 2012.MC.Q40

下列哪項是香港經常帳中的無形進口？

- A. 一名香港旅客在北京購買門票遊覽當地的博物館。
- B. 一名內地居民在香港向醫院求診。
- C. 一名內地億萬富翁捐款予香港一間大學。
- D. 一家香港製造商向一家內地廠商購買原料。

有形/無形貿易(2) - 計算金額

8. 1992.MC.Q52

運用以下資料計算淨出口：

本地出口	\$300
轉口	\$150
入口	\$350

- A. -\$50
- B. \$100
- C. \$450
- D. \$800

9. 1994.MC.Q51

從下列資料求轉口值：

本地出口	\$500
貿易差額	\$250
入口	\$450

- A. \$50
- B. \$200
- C. \$250
- D. \$300

10. 1997.MC.Q50

參閱以下某年某經濟體系的資料回答

1997.MC.Q50：

	以十億元為單位
本地出口貨物	15
轉口	8
入口貨物	20
出口勞務	7
入口勞務	4
淨資金流入	-2

有形貿易差額（以十億元計算）是

- A. -5
- B. -2
- C. 3
- D. 6

11. 1999.MC.Q47

以下資料顯示某年某經濟的貿易數據：

	\$百萬元
本地貨物出口	30
轉口	40
貨物進口	50
服務輸出	60
服務輸入	80

根據以上資料，該經濟的有形貿易

- A. 順差。
- B. 逆差。
- C. 不是順差，亦非逆差。
- D. 沒有足夠資料找出答案。

12. 2003.MC.Q43

參閱以下某經濟在某年的資料：

	\$10 億
本地出口貨物	20
進口貨物	50
有形貿易差額	-5

其轉口（以 10 億元為單位）為

- A. 15。
- B. 25。
- C. 30。
- D. 35。

13. 2007.MC.Q48

參閱下表某經濟某年的資料：

	億元
本地貨物出口	20
轉口	25
貨物進口	40
服務輸出	23
服務輸入	19

有形貿易差額是 _____ 億元。

- A. -20
- B. -5
- C. 5
- D. 9

14. 2008.MC.Q47

參閱下列某經濟某年的資料：

	億元
本地貨物出口	50
轉口	35
貨物進口	60
服務輸出	25
服務輸入	10

該經濟有 _____ 億元的 _____。

- A. 25 有形貿易盈餘
- B. 10 有形貿易赤字
- C. 40 無形貿易盈餘
- D. 15 無形貿易赤字

15. 2010.MC.Q48

參閱以下某經濟某年的貿易數據：

	十億元
貨物總出口	140
轉口	50
出口服務	33
進口貨物	72
進口服務	20

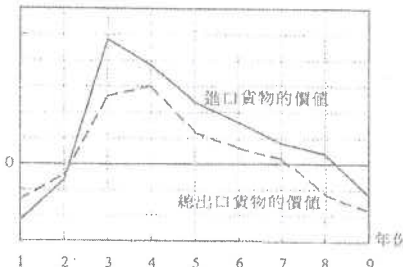
有形貿易差額是 _____ 十億元。

- A. 68
- B. 81
- C. 118
- D. 131

有形/無形貿易(3) - 圖表分析/計算概念

16. 2003.MC.Q48

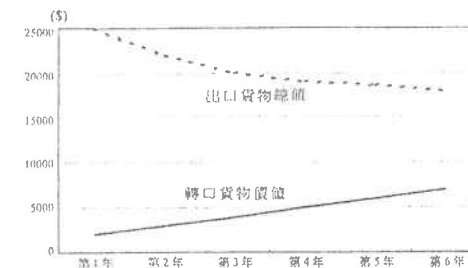
變動率 (%)



根據上圖，從第 4 年到第 6 年，

- A. 該經濟出現有形貿易赤字。
- B. 進口貨物的價值減少了。
- C. 總出口貨物的價值增加了。
- D. 有形貿易赤字改善了。

17. 2005.MC.Q47



根據上圖，從第 2 年到第 5 年，本地出口貨物的價值

- A. 正在減少。
- B. 正在增加。
- C. 維持不變。
- D. 未能確定。

18. 2007.MC.Q50

X 國的出口值增加和進口值減少會

- A. 減低它的本地生產總值。
- B. 導致它的貿易帳出現盈餘。
- C. 改善它的經常帳差額。
- D. 導致它的貨幣貶值。

經常帳(1) 計算的項目

19. 1999.MC.Q54

在計算香港的經常帳差額時，下列哪一項 並不包括入計算之內？

- A. 某美國公司對香港一間電腦公司的投資。
- B. 在香港銷售的日本汽車。
- C. 遊客在香港所觀看的一場戲劇表演。
- D. 利用香港貨櫃港口設施所處理的中國出口貨物。

20. 2000.MC.Q51

下列哪一項應包括入香港經常帳差額的計算之內？

- A. 一家香港公司向英國某銀行借款所支付的利息。
- B. 一名香港居民在深明購置一層新樓。
- C. 一名美國投資者購買\$5,000 個單位盈富基金。
- D. 一名香港作家售賣他一本新書的版權予一名台灣出版商。

21. 2002.MC.Q48

在計算香港的經常帳時，下列哪一項應包括入內？

- A. 一位香港居民向美國一家保險公司購買了人壽保險。
- B. 香港一家公司從一家英國製片商購入一套影片的版權。
- C. 一位香港居民購買一所在美國的房子。
- D. 一位香港投資者購買在美國的一家上市公司的股票。

22. 2004.MC.Q50

王先生是一位中國內地居民，前來香港旅遊一星期。下列哪一項應被包括在香港的經常帳內？

- A. 他向內地一家航空公司購買的交通服務。
- B. 他向本港一家酒店購買的住宅服務。
- C. 他購買的一向位於尖沙咀的住宅。
- D. 他購買的「中國銀行（香港）」股票。

23. 2006.MC.Q48

一名印尼女傭在香港為某家庭工作，將部分工資匯款至印尼。該筆匯款應記錄在香港國際收支平衡表下經常帳中哪一組成部分之內？

- A. 貨物
- B. 服務
- C. 收益
- D. 經常轉移

24. 2008.MC.Q49

一名美國工程師在香港工作。下列哪筆款項應包括入香港經常帳差額的計算之中？

- A. 她薪金收入的一部分，她將該筆款項存入本港一家銀行。
- B. 她薪金收入的一部分，她將該筆款項匯給她在美國的家人。
- C. 她支出的一筆款項，那是用來購買香港股票市場上的一些國企股票。
- D. 她支出的一筆款項，那是用來購買香港一些衣物及玩具，並送了給她在美國的子女。

資本帳 (KA) – 包括的項目

25. 1992.MC.Q60

以下哪一項並不包括在香港國際收支的資本帳內？

- A. 一香港市民在日本購買一間工廠。
- B. 一香港市民購買一台美國製造的電腦。
- C. 一香港市民在倫敦股票市場購買證券。
- D. 一香港市民在美國購買一所房子。

對經常帳/資本帳 (CA/KA) 有利的活動

26. 1990.MC.Q36

下列情況會對香港的國際收支平衡帳中的經常帳有利？

- (1) 一日本遊客在海洋公園遊玩一天。
- (2) 一美資銀行在香港設立辦事處。
- (3) 香港政府從美國購入一電腦系統。
- (4) 一香港居民收取他的美國股票的股息。

- A. 只有(1)、(2)
- B. 只有(1)、(4)
- C. 只有(2)、(3)
- D. 只有(3)、(4)

27. 1994.MC.Q55

下列哪一項對本港國際收支帳項中的經常帳有利？

- A. 一位澳門市民使用本港汽墊船公司的服務離開香港。
- B. 一位中國商人在本港地產市場投資。
- C. 一間本地銀行支付利息予一位海外存款客戶。
- D. 一間中國公司在本港發行股票。

28. 1996.MC.Q50

下列哪一事項對香港國際收支帳中的資本帳有利？

- A. 美國一廠商購買香港某銀行發行的存款証。
- B. 美國一廠商捐款予香港某慈善機構。
- C. 香港一廠商在加拿大購買一間酒店。
- D. 香港一廠商從投資美國賺獲利息和股息。

BOP 項目的計算

29. 1991.MC.Q50

下表顯示某國的國際收支帳目。

	\$億
出口	30
入口	X
流入資金	50
流出資金	60
	外匯及黃金儲備減少\$20 億

X 為何值？

- A. 10
- B. 20
- C. 30
- D. 40

30. 1993.MC.Q40

於參閱下列某經濟某年的資料後，作答 1993.MC.Q40

	百萬元
私人消費開支	40
政府消費開支	10
本地固定資本形成總額	10
存貨增減	1
貨物出口總額	80
本地產品出口	70
轉口	10
貨物入口	60
服務出口	20
服務入口	30
流入的資金	30
流出的資金	15

該經濟當年的國際收支差額為：

- A. 10 百萬元
- B. 15 百萬元
- C. 20 百萬元
- D. 25 百萬元

31. 1995.MC.Q54

細閱下列某經濟體系的國際收支帳：

	百萬元
貨物及服務出口	2,800
貨物及服務進口	3,200
流入資金	Z
流出資金	700
外匯及黃金儲備的增加	40

Z 值是

- A. 260。
- B. 340。
- C. 1,060。
- D. 1,140。

32. 1996.MC.Q51

以下是某國際收支帳的資料：

	(以十億元為單位)
有形出口	15
有形入口	13
無形出口	8
無形入口	11
流入資金	9
流出資金	12

該國有形貿易 _____ 而國際收支 _____。

- A. 順差...順差
- B. 順差...逆差
- C. 逆差...順差
- D. 逆差...逆差

33. 1997.MC.Q51

參閱以下某年某經濟體系的資料回答

1997.MC.Q51 :

	以十億元為單位
本地出口貨物	15
轉口	8
入口貨物	20
出口勞務	7
入口勞務	4
淨資金流入	-2

國際收支差額 (以十億元計算) 是

- A. -4
- B. 0
- C. 1
- D. 4

34. 2000.MC.Q50

假設由國在第 1 年有國際收支赤字。在第 2 年，國際收支項目的變動如下所示：

	以十億元為單位
貨物出口	+28
服務輸出	+7
貨物進口	+35
服務輸入	+13
資金流入	+5
資金流出	+8

根據以上資料，我們可以得結論如下：

- A. 有形貿易赤字在第 2 年上升了。
- B. 有形貿易赤字在第 2 年下降了。
- C. 國際收支赤字在第 2 年上升了。
- D. 國際收支赤字在第 2 年下降了。

35. 2001.MC.Q45

香港國際收支平衡表：

	百萬元
經常帳	72,000
貨物	-25,000
服務	81,000
要素收益	27,000
經常轉移	-11,000
資本及金融帳	-76,000
淨匯兌及遺漏	4,000
總額	= 0

根據上表資料，

- (1) 有形貿易赤字是 25,000 百萬元。
 - (2) 無形貿易盈餘是 81,000 百萬元。
 - (3) 該國際收支平衡表達致平衡。
- A. 只有(1)、(2)
 - B. 只有(1)、(3)
 - C. 只有(2)、(3)
 - D. (1)、(2)、(3)

國際收支差額

36. 1999.MC.Q53

王先生是一位香港居民。他在香港工作，賺取收入。他與在中國內地居住的美玲結為夫婦。下列哪一項對香港的國際收支並無影響？

- A. 他在香港購買結婚戒指，親自送給美玲。
- B. 他經銀行匯一筆款項給美玲的父母作為聘禮。
- C. 他支付往泰國度假月的旅費。
- D. 他在深圳租買一個住宅單位給美玲居住。

37. 1997.MC.Q52

下列哪一項會對甲國的國際收支差額有利？

- A. 甲國國民增加在外國的投資。
- B. 甲國政府取消徵收入口關稅。
- C. 甲國國民從他們所持有的美國政府債券收取利息。
- D. 甲國政府支付費用予外國顧問公司。

國際收支差額及貿易差額

38. 1990.MC.Q46

在下列哪一種情況下，國際收支差額及貿易差額均會變壞？

- A. 出口增加
- B. 轉口減少
- C. 該國對外投資減少
- D. 該國政府對外國增加援助

39. 1996.MC.Q48

下列哪一項不會使香港的貿易差額變壞，但卻會使它的國際收支差額變壞？

- A. 一名日本流行歌手取消他在香港舉行的音樂會。
- B. 香港某慈善機構減少對中國大陸的捐款。
- C. 美國商人減少在香港投資。
- D. 香港輸往中國大陸的轉口減少。

概念

40. SP.MC.Q38

若一國有經常帳赤字，

- A. 該國必定有貿易赤字。
- B. 該國的資本及金融帳必定有盈餘。
- C. 該國的外匯儲備必定會減少。
- D. 以上均正確。

交易活動→影響

41. 1991.MC.Q49

香港市民從加拿大物業中賺取的租金收入在匯返香港後

- A. 包括在香港的本地生產總值之內。
- B. 對香港的有形貿易平衡有利。
- C. 對香港的收支平衡有利。
- D. 須在香港繳稅。

42. 1991.MC.Q60

當貨物輸入香港時，以下哪一項不會受到影響？

- A. 香港的有形貿易差額
- B. 香港的經常帳
- C. 香港的資本帳
- D. 香港的外匯與黃金帳

43. 1994.MC.Q56

陳先生是本港一位輸入勞工，他將收入匯給在中國的家人。下列哪一項正確？

- A. 陳先生的收入包括在本港國民生產總值內。
- B. 該筆匯款對本港有形貿易差額不利。
- C. 該筆匯款對本港無形貿易差額有利。
- D. 該筆匯款對中國國際收支有利。

44. 1995.MC.Q56

若一美國遊客施捨金錢予本地一些乞丐，香港的本地生產總值 _____，而國際收支 _____。

- A. 會增加.....會改善
- B. 會增加.....維持不變
- C. 維持不變.....會改善
- D. 維持不變.....維持不變

45. 1998.MC.Q47

香港一家僱傭中心安排一位女傭從菲律賓來港工作。在該女傭來港之前，該中心向女傭及本港僱主分別收取佣金。下列哪一（幾）項的描述是正確的？

- (1) 香港的本地生產總值上升。
 - (2) 香港的國際收支差額有所改善。
 - (3) 香港的有形貿易差額有所改善。
- A. 只有(1)
 B. 只有(2)
 C. 只有(1)、(2)
 D. (1)、(2)、(3)

46. 2005.MC.Q44

在個人遊計劃實施後，中國政府容許內地居民以個人身份到香港旅遊。這措施會增加香港的

- (1) 第三級生產。
 - (2) 本地生產總值。
 - (3) 無形貿易盈餘。
- A. 只有(1)、(2)
 B. 只有(1)、(3)
 C. 只有(2)、(3)
 D. (1)、(2)、(3)

47. 2008.MC.Q48

去年某電影公司的攝製組到香港拍攝一套蝙蝠俠的電影。在香港拍攝該電影會

- (1) 改善香港的有形貿易差額。
 - (2) 改善香港的無形貿易差額。
 - (3) 增加香港的本地生產總值。
- A. 只有(1)、(2)
 B. 只有(1)、(3)
 C. 只有(2)、(3)
 D. (1)、(2)、(3)

事件→影響分析

48. 1990.MC.Q60

下列哪一種情況不是由於建築業輸入外地熟練工人所引致的影響？

- A. 對香港的國際收支差額有利
- B. 對香港的社會服務產生壓力
- C. 香港建築工人的實質工資率增長較慢
- D. 對香港本地生產總值有利

49. 1992.MC.Q30

本地利率勁升對經濟有什麼影響？

- A. 投資增加
- B. 失業率下降
- C. 更多資金流入
- D. 貨幣供應量增加

其他

50. 1992.MC.Q44

以下哪一項屬於「存量」的概念？

- A. 一儲蓄存款戶口在 1991 年 12 月 31 日的結餘
- B. 香港國際收支差額
- C. 香港本地生產總值
- D. 香港總出口

51. 1996.MC.Q54

旅遊業

- (1) 只牽涉到第三級生產。
 - (2) 使一國家的本地生產總值增加。
 - (3) 收益屬於國外收入淨值。
 - (4) 收益是記錄在國家的經常帳上。
- A. 只有(1)、(3)
 B. 只有(1)、(4)
 C. 只有(2)、(3)
 D. 只有(2)、(4)

52. 1998.MC.Q53

下列各句與放煙花慶祝香港回歸中國有關。哪一句是錯誤的？

- A. 人們觀看煙花匯演是一種消費行為。
- B. 香港的名義本地生產總值有所增加。
- C. 這對香港的有形貿易差額有利。
- D. 煙花匯演有機會成本，因為所花費的金錢有其他用途。

53. 2007.MC.Q49

在下列哪一種情況下，從日本輸入香港進口量會增加？

- A. 香港人的收入下降。
- B. 日本的國民收入上升。
- C. 港元兌日元的兌換率由 6.7 港元 = 100 日圓轉為 6.9 港元 = 100 日圓。
- D. 香港經濟正在復甦。

54. 2016 Q.43

下表顯示某國有關國際收支平衡的資料：

	百萬元
有形貿易	20
無形貿易	X
資本流入	70
資本流出	50

假設該國的外匯儲備上升了 30 百萬元，X 的值是多少？

- A. -70
- B. -10
- C. +10
- D. +70

55. 2018 Q44

香港旅遊發展局在 2017 年夏天籌辦了電競音樂節。有外國電競選手和韓國流行巨星參與盛會，吸引了本地觀眾及來自世界各地的遊客到場。籌辦該節目會導致

- (1) 香港的私人消費支出增加。
 - (2) 香港的服務出口增加。
 - (3) 香港的國際收支平衡逆差下降。
- A. 只有 (1)、(2)
 B. 只有 (1)、(3)
 C. 只有 (2)、(3)
 D. (1)、(2) 及 (3)

一名本港億萬富翁到俄羅斯旅遊，欣賞世界盃賽事，下列哪些會包括在本港國際收支平衡的計算之內？

- (1) 他向一家本港代理為他的俄國之旅購買旅遊保險。
- (2) 他在莫斯科購買一件俄羅斯國家隊球衣做紀念品。
- (3) 他投資於俄羅斯一家球會，成為大股東。

- A. 只有 (1)、(2)
- B. 只有 (1)、(3)
- C. 只有 (2)、(3)
- D. (1)、(2) 及 (3)

答案

1.	D	11.	A	21.	A	31.	D	41.	C	51.	D
2.	C	12.	B	22.	B	32.	B	42.	C	52.	C
3.	B	13.	C	23.	D	33.	D	43.	D	53.	D
4.	B	14.	A	24.	B	34.	C	44.	C	54.	B
5.	A	15.	A	25.	B	35.	D	45.	C	55.	A
6.	D	16.	C	26.	B	36.	A	46.	D	56.	C
7.	A	17.	A	27.	A	37.	C	47.	C	57.	
8.	B	18.	C	28.	A	38.	B	48.	A	58.	
9.	B	19.	A	29.	D	39.	C	49.	C	59.	
10.	C	20.	A	30.	B	40.	B	50.	A	60.	

1. 1990.MC.Q36

下列情況會對香港的國際收支平衡帳中的經常帳有利？

- (1) 一日本遊客在海洋公園遊玩一天。
- (2) 一美資銀行在香港設立辦事處。
- (3) 香港政府從美國購入一電腦系統。
- (4) 一香港居民收取他的美國股票的股息。

- A. 只有(1)、(2)
- B. 只有(1)、(4)
- C. 只有(2)、(3)
- D. 只有(3)、(4)

2. 1990.MC.Q46

在下列哪一種情況下，國際收支差額及貿易差額均會變壞？

- A. 出口增加
- B. 轉口減少
- C. 該國對外地投資減少
- D. 該國政府對外國增加援助

3. 1990.MC.Q60

下列哪一種情況不是由於建築業輸入外地熟練工人所引致的影響？

- A. 對香港的國際收支差額有利
- B. 對香港的社會服務產生壓力
- C. 香港建築工人的實質工資率增長較慢
- D. 對香港本地生產總值有利

4. 1991.MC.Q49

香港市民從加拿大物業中賺取的租金收入在匯返香港後

- A. 包括在香港的本地生產總值之內。
- B. 對香港的有形貿易平衡有利。
- C. 對香港的收支平衡有利。
- D. 須在香港繳稅。

5. 1991.MC.Q50

下表顯示某國的國際收支帳目。

	\$億
出口	30
入口	X
流入資金	50
流出資金	60
	外匯及黃金儲備減少\$20 億

X 為何值？

- A. 10
- B. 20
- C. 30
- D. 40

6. 1991.MC.Q60

當貨物輸入香港時，以下哪一項不會受到影響？

- A. 香港的有形貿易差額
- B. 香港的經常帳
- C. 香港的資本帳
- D. 香港的外匯與黃金帳

7. 1992.MC.Q30

本地利率勁升對經濟有什麼影響？

- A. 投資增加
- B. 失業率下降
- C. 更多資金流入
- D. 貨幣供應量增加

8. 1992.MC.Q52

本地出口	\$300
轉口	\$150
入口	\$350

- A. -\$50
- B. \$100
- C. \$450
- D. \$800

9. 1992.MC.Q60

以下哪一項並不包括在香港國際收支的資本賬目內？

- A. 一香港市民在日本購買一間工廠。
- B. 一香港市民購買一台美國製造的電腦。
- C. 一香港市民在倫敦股票市場購買證券。
- D. 一香港市民在美國購買一所房子。

10. 1993.MC.Q40

於參閱下列某經濟某年的資料後，作答 1993.MC.Q40

	百萬元
私人消費開支	40
政府消費開支	10
本地固定資本形成總額	10
存貨增減	1
貨物出口總額	80
本地產品出口	70
轉口	10
貨物入口	60
服務出口	20
服務入口	30
流入的資金	30
流出的資金	15

該經濟當年的國際收支差額為：

- A. 10 百萬元
- B. 15 百萬元
- C. 20 百萬元
- D. 25 百萬元

11. 1994.MC.Q51

從下列資料求轉口值：

本地出口	\$500
貿易差額	\$250
入口	\$450

- A. \$50
- B. \$200
- C. \$250
- D. \$300

12. 1994.MC.Q55

下列哪一項對本港國際收支帳項中的經常帳有利？

- A. 一位澳門市民使用本港汽墊船公司的服務離開香港。
- B. 一位中國商人在本港地產市場投資。
- C. 一間本地銀行支付利息予一位海外存款客戶。
- D. 一間中國公司在本港發行股票。

13. 1994.MC.Q56

陳先生是本港一位輸入勞工，他將收入匯給在中國的家人。下列哪一項正確？

- A. 陳先生的收入包括在本港國民生產總值內。
- B. 該筆匯款對本港有形貿易差額不利。
- C. 該筆匯款對本港無形貿易差額有利。
- D. 該筆匯款對中國國際收支有利。

14. 1995.MC.Q54

細閱下列某經濟體系的國際收支帳：

	百萬元
貨物及服務出口	2,800
貨物及服務進口	3,200
流入資金	Z
流出資金	700
外匯及黃金儲備的增加	40

Z 值是

- A. 260。
- B. 340。
- C. 1,060。
- D. 1,140。

15. 1995.MC.Q56

若一美國遊客施捨金錢予本地一些乞丐，香港的本地生產總值_____，而國際收支_____。

- A. 會增加.....會改善
- B. 會增加.....維持不變
- C. 維持不變.....會改善
- D. 維持不變.....維持不變

16. 1996.MC.Q48

下列哪一事項不會使香港的貿易差額變壞，但卻會使它的國際收支差額變壞？

- A. 一名日本流行歌手取消他在香港舉行的音樂會。
- B. 香港某慈善機構減少對中國大陸的捐款。
- C. 美國商人減少在香港投資。
- D. 香港輸往中國大陸的轉口減少。

17. 1996.MC.Q50

下列哪一事項對香港國際收支帳中的資本帳有利？

- A. 美國一廠商購買香港某銀行發行的存款証。
- B. 美國一廠商捐款予香港某慈善機構。
- C. 香港一廠商在加拿大購買一間酒店。
- D. 香港一廠商從投資美國賺獲利息和股息。

18. 1996.MC.Q51

以下是某國際收支帳的資料：

	(以十億元為單位)
有形出口	15
有形入口	13
無形出口	8
無形入口	11
流入資金	9
流出資金	12

該國有形貿易 _____ 而國際收支 _____。

- A. 順差...順差
- B. 順差...逆差
- C. 逆差...順差
- D. 逆差...逆差

19. 1996.MC.Q54

旅遊業

- (1) 只牽涉到第三級生產。
- (2) 使一國家的本地生產總值增加。
- (3) 收益屬於國外收入淨值。
- (4) 收益是記錄在國家的經常帳上。

- A. 只有(1)、(3)
- B. 只有(1)、(4)
- C. 只有(2)、(3)
- D. 只有(2)、(4)

20. 1997.MC.Q50

參閱以下某年某經濟體系的資料回答第 1997.MC.Q50 及 1997.MC.Q51 ：

	以十億元為單位
本地出口貨物	15
轉口	8
入口貨物	20
出口勞務	7
入口勞務	4
淨資金流入	-2

有形貿易差額 (以十億元計算) 是

- A. -5
- B. -2
- C. 3
- D. 6

21. 1997.MC.Q51

國際收支差額 (以十億元計算) 是

- A. -4
- B. 0
- C. 1
- D. 4

22. 1997.MC.Q52

下列哪一項會對甲國的國際收支差額有利？

- A. 甲國國民增加在外國的投資。
- B. 甲國政府取消徵收入口關稅。
- C. 甲國國民從他們所持有的美國政府債券收取利息。
- D. 甲國政府支付費用予外國顧問公司。

23. 1998.MC.Q46

下列哪一項是香港國際收支帳中的一項無形出口？

- A. 一間日本公司在香港股市購買股票。
- B. 一位香港市民購買日本的航空公司的機票。
- C. 一位香港市民匯錢給他在日本的兒子。
- D. 一位日本遊客在香港向一位本地醫生求診。

24. 1998.MC.Q47

香港一家僱傭中心安排一位女傭從菲律賓來港工作。在該女傭來港之前，該中心向女傭及本港僱主分別收取佣金。下列哪一（幾）項的描述是正確的？

- (1) 香港的本地生產總值上升。
- (2) 香港的國際收支差額有所改善。
- (3) 香港的有形貿易差額有所改善。

- A. 只有(1)
- B. 只有(2)
- C. 只有(1)、(2)
- D. (1)、(2)、(3)

25. 1998.MC.Q53

下列各句與放煙花慶祝香港回歸中國有關。哪一句是錯誤的？

- A. 人們觀看煙花匯演是一種消費行為。
- B. 香港的名義本地生產總值有所增加。
- C. 這對香港的有形貿易差額有利。
- D. 煙花匯演有機會成本，因為所花費的金錢有其他用途。

26. 1999.MC.Q47

以下資料顯示某年某經濟的貿易數據：

	\$百萬元
本地貨物出口	30
轉口	40
貨物進口	50
服務輸出	60
服務輸入	80

根據以上資料，該經濟的有形貿易

- A. 順差。
- B. 逆差。
- C. 不是順差，亦非逆差。
- D. 沒有足夠資料找出答案。

27. 1999.MC.Q53

王先生是一位香港居民。他在香港工作，賺取收入。他與在中國內地居住的美玲結為夫婦。下列哪一項對香港的國際收支並無影響？

- A. 他在香港購買結婚戒指，親自送給美玲。
- B. 他經銀行匯一筆款項給美玲的父母作為聘禮。
- C. 他支付往泰國度蜜月的旅費。
- D. 他在深圳租賃一個住宅單位給美玲居住。

28. 1999.MC.Q54

在計算香港的經常帳差額時，下列哪一項並不包括入計算之內？

- A. 某美國公司對香港一間電腦公司的投資。
- B. 在香港銷售的日本汽車。
- C. 遊客在香港所觀看的一場戲劇表演。
- D. 利用香港貨櫃港口設施所處理的中國出口貨物。

29. 2000.MC.Q50

假設由國在第 1 年有國際收支赤字。在第 2 年，國際收支項目的變動如下所示：

	以十億元為單位
貨物出口	+28
服務輸出	+7
貨物進口	+35
服務輸入	+13
資金流入	+5
資金流出	+8

根據以上資料，我們可以得結論如下：

- A. 有形貿易赤字在第 2 年上升了。
- B. 有形貿易赤字在第 2 年下降了。
- C. 國際收支赤字在第 2 年上升了。
- D. 國際收支赤字在第 2 年下降了。

30. 2000.MC.Q51

下列哪一項應包括入香港經常帳差額的計算之內？

- A. 一家香港公司向英國某銀行借款所支付的利息。
- B. 一名香港居民在深圳購置一層新樓。
- C. 一名美國投資者購買\$5,000 個單位盈富基金。
- D. 一名香港作家售賣他一本新書的版權予一名台灣出版商。

31. 2001.MC.Q45

香港國際收支平衡表：

	百萬元
經常帳	72,000
本地貨物出口	-25,000
轉口	81,000
貨物進口	27,000
服務輸出	-11,000
資本及金融帳	-76,000
淨誤差及遺漏	4,000
	總額 = 0

根據上表資料，

- (1) 有形貿易赤字是 25,000 百萬元。
 - (2) 無形貿易盈餘是 81,000 百萬元。
 - (3) 該國際收支平衡表達致平衡。
- A. 只有(1)、(2)
 B. 只有(1)、(3)
 C. 只有(2)、(3)
 D. (1)、(2)、(3)

32. 2002.MC.Q48

在計算香港的經常帳時，下列哪一項應包括入內？

- A. 一位香港居民向美國一家保險公司購買了人壽保險。
- B. 香港一家公司從一家英國製片商購入一套影片的版權。
- C. 一位香港居民購買一所在美國的房子。
- D. 一位香港投資者購買在美國的一家上市公司的股票。

33. 2003.MC.Q43

參閱以下某經濟在某年的資料：

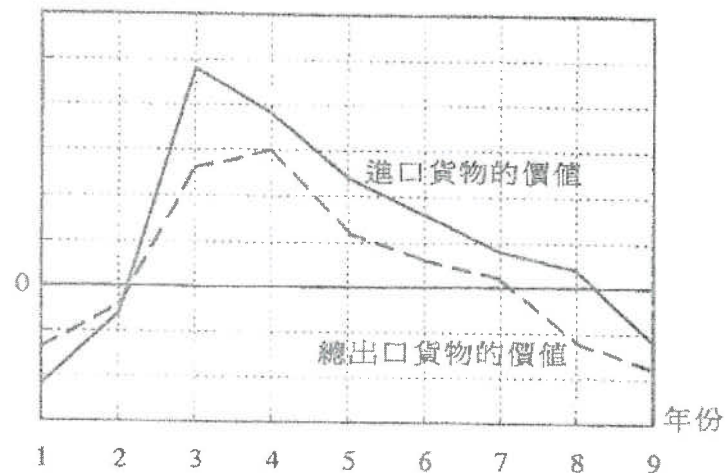
	\$10 億
本地出口貨物	20
進口貨物	50
有形貿易差額	-5

其轉口（以 10 億元為單位）為

- A. 15。
- B. 25。
- C. 30。
- D. 35。

34. 2003.MC.Q48

變動率 (%)



根據上圖，從第 4 年到第 6 年，

- A. 該經濟出現有形貿易赤字。
- B. 進口貨物的價值減少了。
- C. 總出口貨物的價值增加了。
- D. 有形貿易赤字改善了。

35. 2004.MC.Q50

王先生是一位中國內地居民，前來香港旅遊一星期。下列哪一項應被包括在香港的經常帳內？

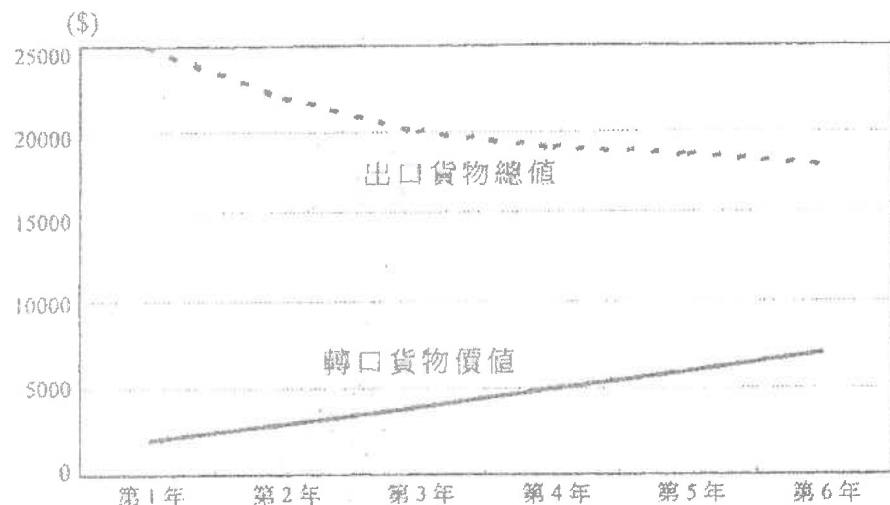
- A. 他向內地一家航空公司購買的交通服務。
- B. 他向本港一家酒店購買的住宅服務。
- C. 他購買的一所位於尖沙咀的住宅。
- D. 他購買的「中國銀行（香港）」股票。

36. 2005.MC.Q44

在個人遊計劃實施後，中國政府容許內地居民以個人身份到香港旅遊。這措施會增加香港的

- (1) 第三級生產。
 - (2) 本地生產總值。
 - (3) 無形貿易盈餘。
- A. 只有(1)、(2)
 B. 只有(1)、(3)
 C. 只有(2)、(3)
 D. (1)、(2)、(3)

37. 2005.MC.Q47



根據上圖，從第 2 年到第 5 年，本地出口貨物的價值

- A. 正在減少。
- B. 正在增加。
- C. 維持不變。
- D. 未能確定。

38. 2006.MC.Q45

不少中國內地的遊客在香港迪士尼樂園購買紀念品。假設這些紀念品是在中國內地製造的。那麼上述遊客的花費是香港的一項

- A. 本地出口貨物。
- B. 轉口貨物。
- C. 出口服務。
- D. 進口服務。

39. 2006.MC.Q48

一名印尼女傭在香港為某家庭工作，將部分工資匯款至印尼。該筆匯款應記錄在香港國際收支平衡表下經常帳中哪一組成部分之內？

- A. 貨物
- B. 服務
- C. 收益
- D. 經常轉移

40. 2007.MC.Q48

參照下表某經濟某年的資料：

	億元
本地貨物出口	20
轉口	25
貨物進口	40
服務輸出	23
服務輸入	19

有形貿易差額是 _____ 億元。

- A. -20
- B. -5
- C. 5
- D. 9

41. 2007.MC.Q49

在下列哪一種情況下，從日本輸入香港進口量會增加？

- A. 香港人的收入下降。
- B. 日本的國民收入上升。
- C. 港元兌日元的兌換率由 6.7 港元 = 100 日圓轉為 6.9 港元 = 100 日圓。
- D. 香港經濟正在復甦。

42. 2007.MC.Q50

X 國的出口值增加和進口值減少會

- A. 減低它的本地生產總值。
- B. 導致它的貿易帳出現盈餘。
- C. 改善它的經常帳差額。
- D. 導致它的貨幣貶值。

43. 2008.MC.Q46

下列哪項應包括入香港無形進口的計算之內？

- A. 一名香港市民在本港股票市場購買國企股票。
- B. 一名香港市民購買中國內地航空公司的機票。
- C. 一名內地學生支付在香港一所大學學習的學費。
- D. 一名內地投資者在香港購買一間住宅。

44. 2008.MC.Q47

參閱下列某經濟某年的資料：

	億元
本地貨物出口	50
轉口	35
貨物進口	60
服務輸出	25
服務輸入	10

該經濟有_____億元的_____。

- A. 25 ... 有形貿易盈餘
- B. 10 ... 有形貿易赤字
- C. 40 ... 無形貿易盈餘
- D. 15 ... 無形貿易赤字

45. 2008.MC.Q48

去年某電影公司的攝製組到香港拍攝一套蝙蝠俠的電影。在香港拍攝該電影會

- (1) 改善香港的有形貿易差額。
- (2) 改善香港的無形貿易差額。
- (3) 增加香港的本地生產總值。

- A. 只有(1)、(2)
- B. 只有(1)、(3)
- C. 只有(2)、(3)
- D. (1)、(2)、(3)

46. 2008.MC.Q49

一名美國工程師在香港工作。下列哪筆款項應包括入香港經常帳差額的計算之中？

- A. 她薪金收入的一部分，她將該筆款項存入本港一家銀行。
- B. 她薪金收入的一部分，她將該筆款項匯給她在美國的家人。
- C. 她支出的一筆款項，那是用來購買香港股票市場上的一些國企股票。
- D. 她支出的一筆款項，那是用來購買香港一些衣物及玩具，並送了給她在美國的子孫。

47. 2009.MC.Q47

瑪麗是泰國某百貨公司的時裝採購員。她前來香港，從一家香港成衣製造商購買了價值\$300 000 的成衣。該批成衣直接由製造商運往該百貨公司。在瑪麗留港期間，她又從電器店購買了一台價值\$10 000 的個人電腦，作私人用途。

該批\$300 000 的成衣被視為香港的一項_____出口，而該台價值\$10 000 的電腦被視為香港的一項_____出口。

- A. 有形 ... 有形
- B. 有形 ... 無形
- C. 無形 ... 有形
- D. 無形 ... 無形

48. 2010.MC.Q48

參閱以下某經濟某年的貿易數據：

	十億元
貨物總出口	140
轉口	50
出口服務	33
進口貨物	72
進口服務	20

有形貿易差額是_____十億元。

- A. 68
- B. 81
- C. 118
- D. 131

49. 2010.MC.Q49

下列哪項應包括入香港無形進口的計算之中？

- A. 一位香港市民購買一場在澳門舉行的音樂會の入場券所支出的款項。
- B. 一位馬來西亞遊客為購買在香港舉辦的 2009 年東亞運動會の入場券所支出的款項。
- C. 一位香港市民捐予海地受地震影響的災民的款項。
- D. 一位香港市民透過本地一家銀行購買人民幣國債所支出的款項。

50. 2011.MC.Q48

某內地遊客在香港停留期間用了\$400 作為交通費，又在一家商店購買了價值\$2 000 的數碼相機。該筆\$400 的交通費被歸類為香港的_____出口，該部價值\$2 000 的數碼相機被歸類為香港的_____出口。

- A. 有形 ... 有形
- B. 有形 ... 無形
- C. 無形 ... 有形
- D. 無形 ... 無形

51. SP.MC.Q38

若一國有經常帳赤字，

- A. 該國必定有貿易赤字。
- B. 該國的資本及金融帳必定有盈餘。
- C. 該國的外匯儲備必定會減少。
- D. 以上均正確。

52. 2012.MC.Q40

下列哪項是香港經常帳中的無形進口？

- A. 一名香港旅客在北京購買門票遊覽當地的博物館。
- B. 一名內地居民在香港向醫院求診。
- C. 一名內地億萬富翁捐款予香港一間大學。
- D. 一家香港製造商向一家內地廠商購買原料。

53. 2014.MC.Q43

下列哪項包括在香港經常帳差額的計算之內？

- A. 一位內地投資者在香港購買一間房屋。
- B. 一位香港投資者購買一家內地上市公司發行的股票。
- C. 一位內地居民從一家內地航空公司購買前往香港的機票。
- D. 一位香港居民從一家內地保險公司購買人壽保險。

54. 2015.MC.Q43

一位來自美國的講師在香港已工作了 10 年。下列哪些會包括在香港經常帳差額的計算之內？

- (1) 他給予在香港的太太的款項
- (2) 他用來購買在美國股市上市的股票的款項
- (3) 他捐給非洲慈善機構的款項
- (4) 他到美國探望父母所花的款項

- A. 只有(1)、(2)
- B. 只有(1)、(4)
- C. 只有(2)、(3)
- D. 只有(3)、(4)

55. 2015.MC.Q44

下表顯示甲國有關國際收支平衡的一些資料。

項目	百萬元
物品差額	-1 200
服務差額	700
海外要素收入淨值	200
經常轉移淨值	-100
儲備資產上升	180

根據以上資料，下列哪些陳述是正確的？

- (1) 經常帳的赤字是 400 百萬元。
- (2) 甲國的本地生產總值小於其本地居民生產總值。
- (3) 國際收支平衡的盈餘是 180 百萬元。

- A. 只有(1)、(2)
- B. 只有(1)、(3)
- C. 只有(2)、(3)
- D. (1)、(2)、(3)

(-2015)

56. 2021 Q42

參考以下有關香港的統計數據。

	2020 年第一季 (按年變動)	2020 年第二季 (按年變動)
物品出口	-9.7%	-2.5%
服務出口	-37.5%	-47.5%
物品進口	-10.7%	-7.4%
服務進口	-26.2%	-44.6%

根據以上資料，我們可得出結論：

- A. 香港 2020 年第二季無形貿易出現赤字。
- B. 香港 2020 年第二季的淨出口較 2019 年第二季的為低。
- C. 香港 2020 年第二季的物品出口較 2020 年第一季的為低。
- D. 香港 2020 年第二季的物品和服務進口總值較 2019 年第二季的為低。

13MC2 答案

1.	B	11.	B	21.	D	31.	D	41.	D	51.	B
2.	B	12.	A	22.	C	32.	A	42.	C	52.	A
3.	A	13.	D	23.	D	33.	B	43.	B	53.	D
4.	C	14.	D	24.	C	34.	C	44.	A	54.	D
5.	D	15.	C	25.	C	35.	B	45.	C	55.	D
6.	C	16.	C	26.	A	36.	D	46.	B	56.	D
7.	C	17.	A	27.	A	37.	A	47.	B	57.	
8.	B	18.	B	28.	A	38.	C	48.	A	58.	
9.	B	19.	D	29.	C	39.	D	49.	A	59.	
10.	D	20.	C	30.	A	40.	C	50.	D	60.	