

中國歷史 試卷一

兩小時十五分鐘完卷(上午八時三十分至上午十時四十五分)

考生須知

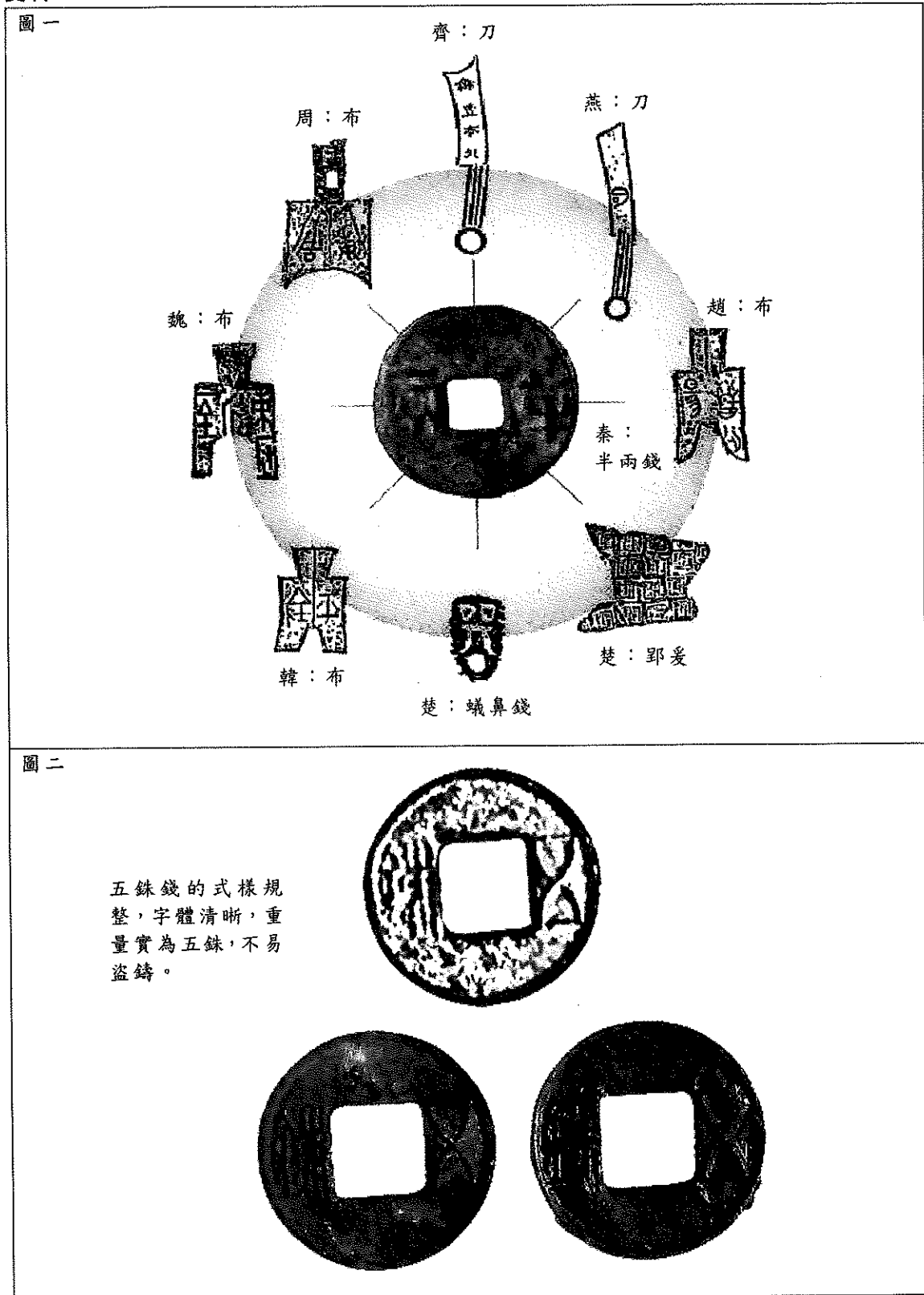
- (一) 本試卷共分兩部分，第一部分於甲部及乙部各設1題，考生只需選答1題，佔20分(佔全科總分31%)；第二部分於甲部及乙部各設3題，考生可從6題中自由選答2題，不受從甲部及乙部各選答一題的限制，佔50分(佔全科總分39%)。
- (二) 全部答案寫在答題簿內，每題(非指分題)必須另起新頁作答。

考試結束前不可
將試卷攜離試場

第一部分：甲部及乙部各設1題，考生只需選答1題，佔20分(佔全科總分31%)。

甲部：上古至十九世紀中葉

1. 資料一：



資料二：

- 秦朝的廷尉 A 認為周文王、武王所封的子弟同姓甚多，血統疏遠，而且互相攻打好像仇敵一樣，連周天子都不能禁止。現在全國統一了，全部作為郡縣，這樣比較容易管理。
- 漢武帝採用 B 的建議，頒行推恩之令。
- 漢武帝元封五年設置部刺史，監視地方官。

整理自韓復智等編著《秦漢史》

資料三：

「漢武之置五經博士，設博士弟子員，即猶(好像)始皇之焚非博士官書，以吏為師，統私學於王官之制。」

錢穆《秦漢史》

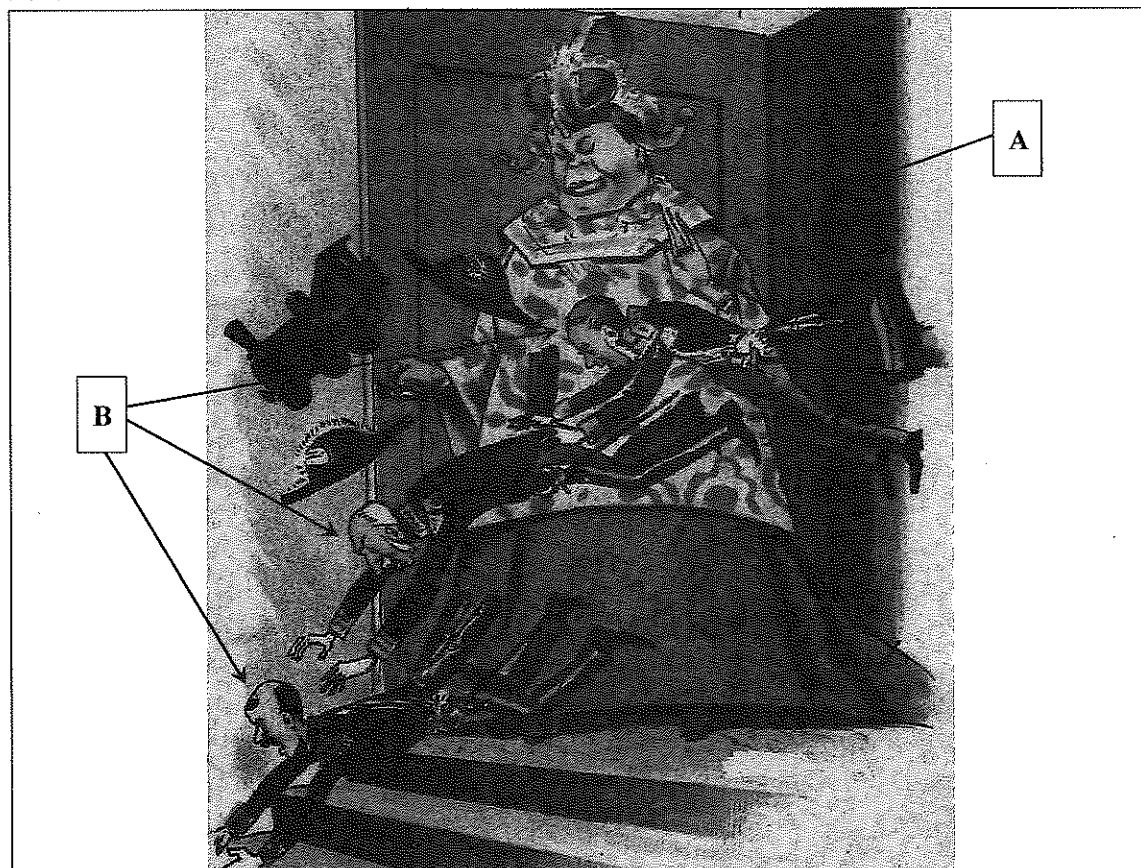
- (a) 根據資料一，秦始皇及漢武帝分別面對什麼管治問題？(2分)兩人又如何解決所面對的問題？(2分)
- (b) 資料二的A和B分別代表以下哪位人物？把英文字母連同代表正確答案的數字寫在答題簿內。(2分)
- ① 王綰
 - ② 李斯
 - ③ 蒙恬
 - ④ 主父偃
 - ⑤ 公孫弘
 - ⑥ 董仲舒
- (c) 根據資料二，並援引史實，闡述秦始皇和漢武帝如何透過資料提及的三項措施，加強中央集權管治。(6分)
- (d) 根據資料三，並援引史實，闡述秦始皇和漢武帝如何透過資料提及的四項措施，把私學納入官學系統。(8分)

乙部：十九世紀中葉至二十世紀末

2. 資料一：崩裂了的中國巨人



資料二：



資料三：

「條約所受損失之大，為歷次和約之冠。從此京城門戶洞開，一國首都之主權亦不完整，國民心理和國家威信都受極大的傷害。」

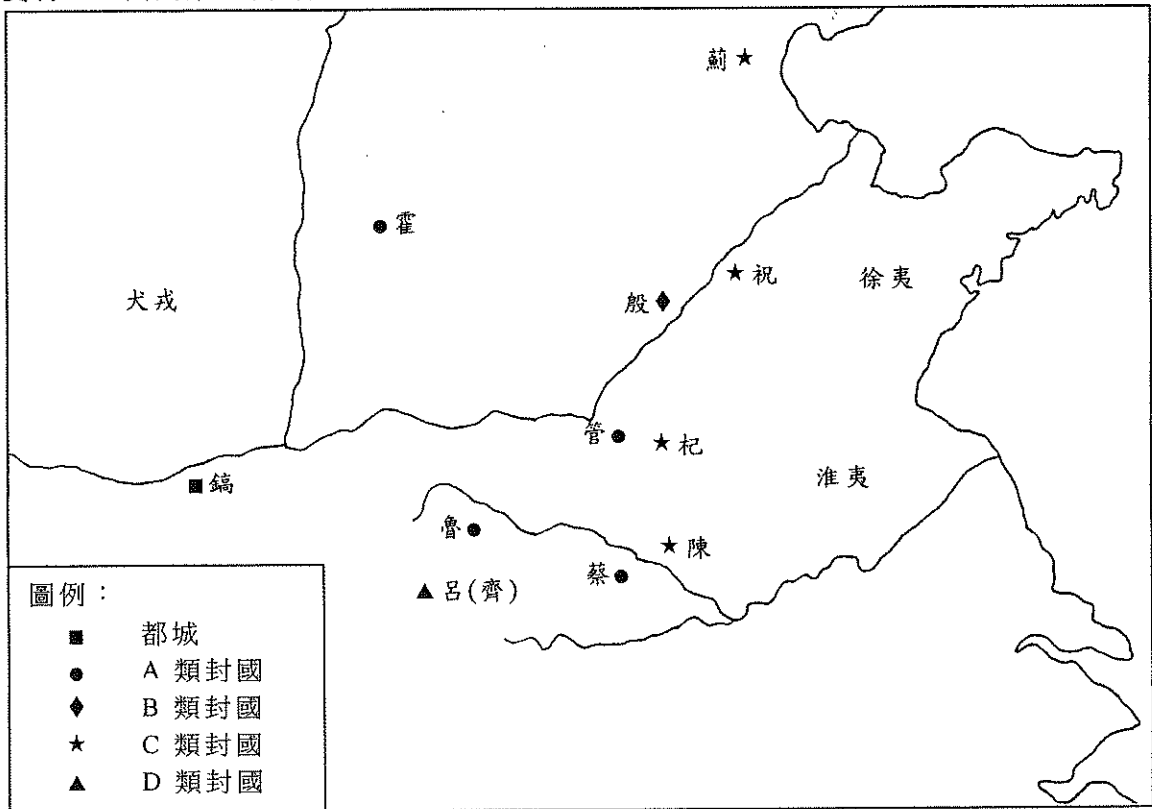
李定一《中國近代史》

- (a) 資料一是指哪一場戰爭？(1分)試從資料找出一項證據支持你的看法。(1分)
- (b) (i) 資料二的A是誰？(1分)
- (ii) 根據資料二，A對B持什麼態度？(1分)試從資料找出一項證據支持你的看法。(1分)
- (iii) 承上題，為什麼A對B持這樣的態度？試援引史實，加以解釋。(2分)
- (c) 有人認為資料二的A對資料一所示的戰爭的爆發須負全責。你同意嗎？試援引史實，加以闡述。(6分)
- (d) 資料一所示的戰爭使清朝成為「崩裂了的中國巨人」。試根據資料三，並援引史實，印證這觀點。(7分)

第二部分：甲部及乙部各設 3 題，考生可從 6 題中自由選答 2 題，不受從甲部及乙部各選答一題的限制，佔 50 分(佔全科總分 39%)。

甲部：上古至十九世紀中葉

3. 資料一：西周第一次封建圖



整理自學管《中國歷史地圖大圖鑑》、錢穆《國史大綱》、陳致平《中華通史》和傅樂成《中國通史》

資料二：

	春秋時期	戰國時期
政治方面	周室雖已衰微，但諸侯中尚有打着尊王攘夷的旗號。	出現卿大夫篡奪諸侯的事件。
經濟方面	以農業為主，也有少數的工人和商人。	工商業興盛，商人階級興起。
教育方面	教育仍為貴族專利品，春秋末年，學術始流入民間。	平民受教育的機會大增，游說各國君主，學術思想大為昌盛。

整理自傅樂成《中國通史》

(a) 根據資料一，回答下列各題：

(i) A、B、C和D分別代表哪類分封對象？把英文字母連同代表正確答案的數字寫在答題簿內。(4分)

- ① 古代聖王後裔
- ② 殷商後裔
- ③ 異姓功臣
- ④ 姬姓宗室

(ii) 說明西周分封A類封國的兩項目的。(2分)

(iii) 針對B類封國，西周推行第二次封建時有什麼安排？舉出其中兩項，加以說明。(4分)

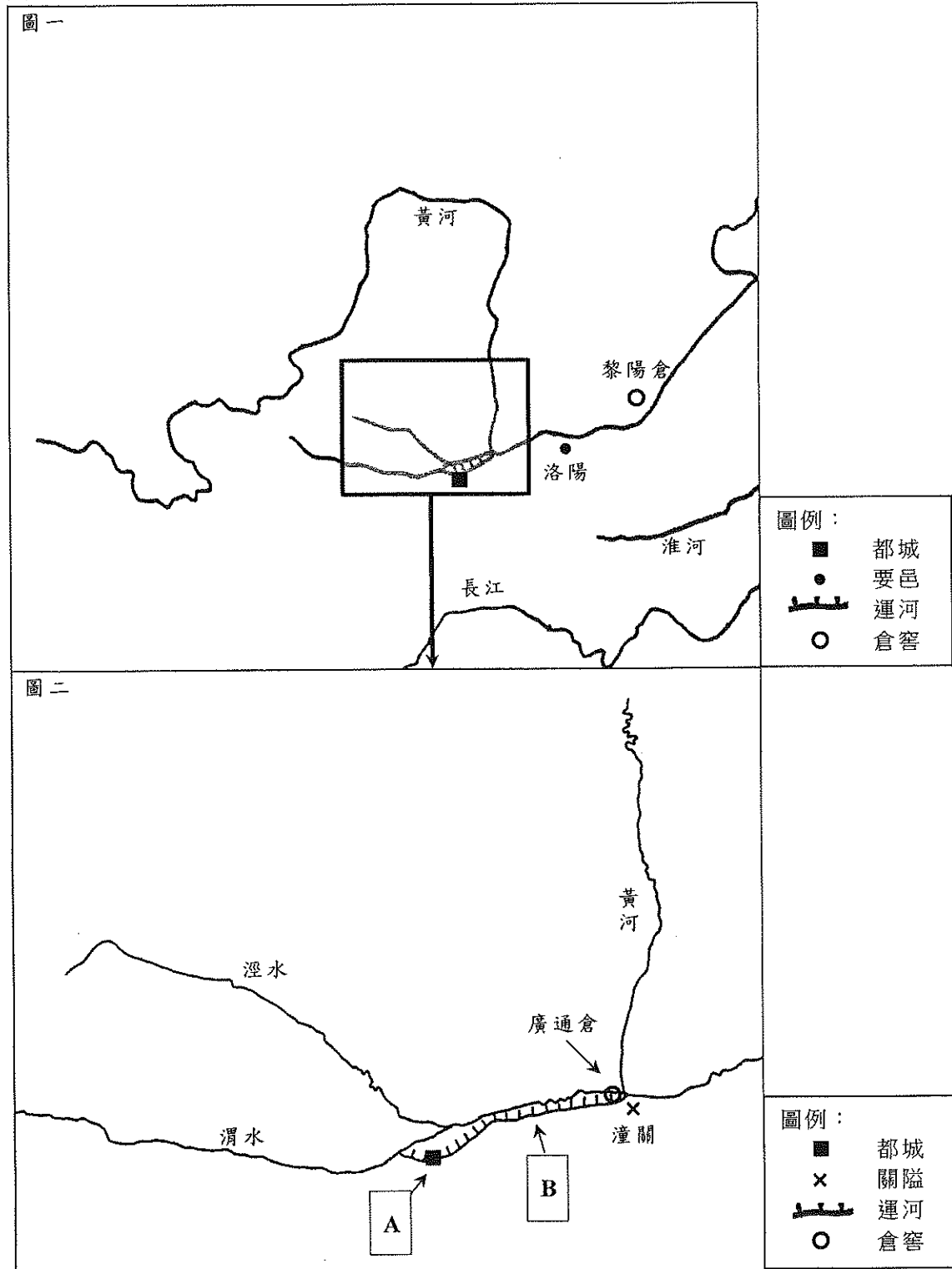
(b) 根據資料二，並援引史實，闡析春秋至戰國時期在政治、經濟和教育三方面的轉變。(15分)

4. 資料一：

這時山東還沿襲着北齊的民風，機詐奸偽，逃避勞役游手好閒者十居六七。四方疲困的百姓，有的詐稱年老，有的詐稱年少，逃避租稅。

整理自魏徵等《隋書》

資料二：



整理自譚其驥主編《中國歷史地圖集》和郭沫若主編《中國史稿地圖集》

資料三：

綜合隋文帝一生，勤政愛民，尤有節儉的美德。

整理自呂思勉《隋唐五代史》

- (a) (i) 根據資料一，隋文帝面對什麼問題？(1分)
- (ii) 承上題，隋文帝推行哪三項措施以解決上述問題？(6分)成效如何？(3分)
- (b) (i) 資料二圖二的都城A和運河B的名稱是什麼？把英文字母連同答案寫在答題簿內。(2分)又興建運河B的作用是什麼？(1分)
- (ii) 資料二所示的倉窖是屬哪一類倉窖？(1分)這類倉窖有什麼作用？(1分)
- (c) 你同意資料三對隋文帝的評價嗎？試援引史實，闡釋你的看法。(10分)

5. 資料一：

「天下之大，必建藩屏，……今諸子既長，宜各有爵封，分鎮諸國……為久安長治之計。」

《明太祖實錄》

資料二：

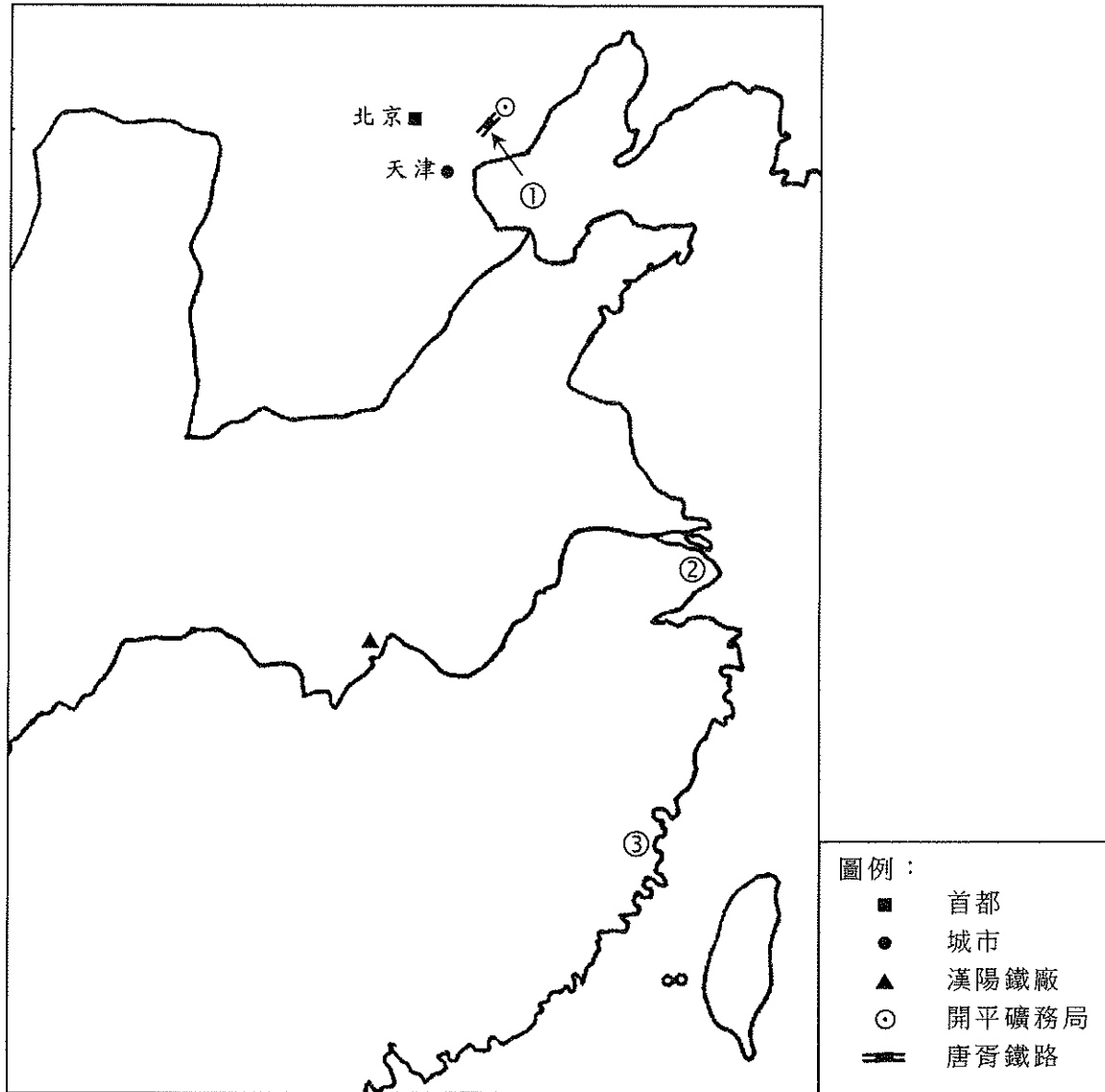
- 廢中書省和丞相
- 殺戮功臣和以重典馭臣下
- 推行特務政治

整理自樊樹志《國史概要》

- (a) 根據資料一，明太祖認為應推行什麼措施使到國家可以「久安長治」？(1分)試援引史實，加以說明。(2分)
- (b) 承上題，上述措施至明成祖時有什麼轉變？(1分)試舉兩例加以說明。(4分)為什麼會出現這轉變？(2分)
- (c) 明太祖的君主集權措施為政治帶來負面影響。試根據資料二，並援引史實，加以闡析。(15分)

乙部：十九世紀中葉至二十世紀末


6. 資料一：洋務運動部分改革項目分布圖



整理自張海鵬編著《中國近代史稿地圖集》

資料二：


圖一：1866年成立福州船政局，設有造船廠、船政學堂。




圖二：1873年成立輪船招商局，經營航運，圖為1901年重建的大樓。



圖三：1881年通車，運送煤炭。



資料三：於1895年刊行，題為「伏闕陳書」



「伏闕陳書
臺灣為南洋門戶……李傅相
(李鴻章)與倭訂約，允將
全省拱手讓之……各(省)
孝廉(舉人)聯名呈請……
皆謂此地萬不可讓。」

《點石齋畫報》

- (a) 資料二的洋務運動項目，分別在資料一地圖的哪個位置興辦？在答題簿內填寫圖片編號和地圖位置的數字。(3分)
- (b) 根據資料一和資料二，並援引史實，闡釋洋務運動在軍事和實業改革兩方面的目的和措施。(8分)
- (c) 根據資料三，回答下列各題：
- (i) 「與倭訂約」是指哪條約？(1分)試從資料三找出一項證據支持你的看法。(1分)
 - (ii) 「伏闕陳書」是指哪宗歷史事件？(1分)
 - (iii) 承上題，以下哪一位人物是以上歷史事件的發起者？試把代表正確答案的英文字母寫在答題簿內。(1分)
 - A. 奕訢
 - B. 曾國藩
 - C. 康有為
 - D. 黃興
- (d) 你認為百日維新的失敗原因主要是維新派缺乏經驗，還是慈禧太后獨攬大權？試援引史實，加以分析。(10分)

7. 資料一：

圖一：1911年發出的臨時大總統當選人公告



圖二：1912年袁世凱就任臨時大總統與將領合照



資料二：

「甲、袁世凱擁有雄厚的軍事力量，非革命軍可比擬。
乙、為了防範袁世凱出爾反爾，孫中山……提出了……條件，要求臨時政府繼續設在南京，而新總統須在南京就職並遵守《臨時約法》。」

陳成漢主編《迎難而上——辛亥革命期間的孫中山》

資料三：袁世凱的部分事跡

1912年	手下士兵發動騷亂而拒絕南下
1913年	簽署「善後大借款」
1914年	公布《中華民國約法》
1915年	下令翌年為「洪憲」元年
1916年	取消「洪憲帝制」

整理自徐中約《中國近代史》和連浩鏊《改革 革命 再革命 繼續革命 告別革命（改革開放）的歷程（1900-2000年）》

- (a) (i) 資料一圖一和圖二反映當時政局出現什麼轉變？(1分)
- (ii) 承上題，為什麼出現這個轉變？根據資料二甲項，並援引史實，加以分析。(3分)
- (b) 根據資料三，袁世凱於1912至1914年如何不遵守孫中山於資料二乙項所設下的「條件」？試援引史實，加以闡釋。(9分)
- (c) 根據資料三，回答下列各題：
- (i) 下列各項，哪一項是針對「下令翌年為『洪憲』元年」而發動的討袁戰役？試把代表正確答案的英文字母寫在答題簿內。(1分)
- A. 武昌起義
B. 二次革命
C. 護國之役
D. 護法之役
- (ii) 承上題，下列哪一個為首先宣布獨立並發起該戰役的省份？試把代表正確答案的英文字母寫在答題簿內。(1分)
- A. 雲南
B. 江西
C. 廣東
D. 直隸
- (d) 試從眾叛親離、財力不足和列強反對三方面，並援引史實，分析袁世凱取消「洪憲帝制」的原因。(10分)

8. 資料一：《中華人民共和國（於1949年）與（下列）各國建立外交關係日期簡表》

洲	國家	建交日期
亞洲	朝鮮	1949年10月6日
	蒙古	1949年10月16日
非洲	—	—
歐洲	A	1949年10月2日
	保加利亞	1949年10月4日
	羅馬尼亞	1949年10月5日
	捷克	1949年10月6日
	匈牙利	1949年10月6日
	斯洛伐克	1949年10月6日
	波蘭	1949年10月7日
阿爾巴尼亞	1949年11月23日	
美洲	—	—
大洋洲	—	—

摘錄自www.fmprc.gov.cn

資料二：

會議名稱	B 會議
年份	1955年
地點	印尼
與會國家	29個亞非國家
中國代表團團長	C 總理
中國發言重點	提出「求同存異」方針

整理自cpc.people.com.cn和連浩鏊

《改革 革命 再革命 繼續革命 告別革命（改革開放）的歷程（1900-2000年）》

資料三：

圖一



抗美援朝保家衛國!

USA (即美國)
抗美援朝 保家衛國!

圖二


毛澤東選集



打倒美帝! 打倒蘇修!

打倒美帝! 打倒蘇修!
US (即美國)

圖三：中美兩國運動員在北京進行友誼比賽



熱烈歡迎美國
乒乓球隊

(a) 根據資料一，回答下列各題：

(i) A代表哪一個國家？(1分)

(ii) 根據資料一，指出中華人民共和國建國初年的建交情況，(1分)並援引兩項證據，加以說明。(2分)

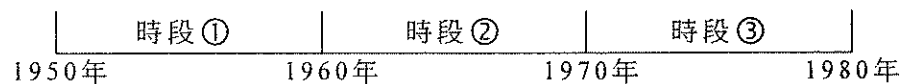
(b) 根據資料二，回答下列各題：

(i) B代表哪一場會議？(1分)C代表哪一位總理？(1分)

(ii) C在會議內提出的方針，對中華人民共和國建國初年在拓展外交方面有什麼作用？(2分)

(c) 根據資料三，回答下列各題：

(i) 圖一和圖三分別發生在以下哪一個時段？試把圖片編號和代表正確答案的數字寫在答題簿內。(2分)



(ii) 圖一、圖二和圖三分別反映不同年代中華人民共和國與美國的關係。試援引史實，加以析論。(15分)

- 試卷完 -

本試卷所引資料的來源，將於香港考試及評核局稍後出版的《香港中學文憑考試試題專輯》內列明。