

中國歷史 試卷一

兩小時十五分鐘完卷(上午八時三十分至上午十時四十五分)

考生須知

- (一) 本試卷共分兩部分，第一部分為必答題，各考生均須作答。第二部分分甲、乙兩部，各設三題，考生須於每部各選答一題。
- (二) 全部答案寫在答題簿內，**每題(非指分題)必須另起新頁作答。**

考試結束前不可
將試卷攜離試場

第一部分：此題必答，設問內容涵蓋甲、乙部，佔40分。

1. 資料一：東漢光武帝至靈帝年壽略表

帝	年壽	在位年數	即位年齡	子嗣數目
光武	62	33	初起年28，30為帝	10
明	48	18	30	9
章	33	13	19	8
和	27	17	10	2（次子即殤帝）
殤	2	1	誕育百餘日	0
安	32	19	13	1（即順帝）
少	—	7月	—	—
順	30	19	11	1（即冲帝）
冲	3	1	2	0
質	9	1	8	0
桓	36	21	15	0
靈	34	22	12	2

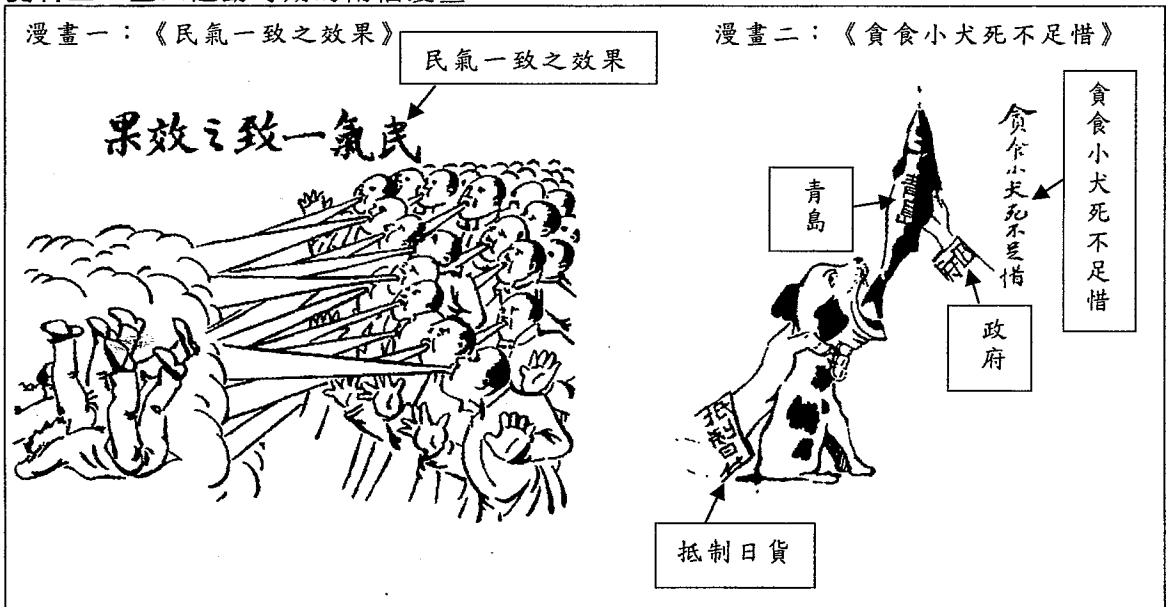
整理自錢穆《國史大綱》

資料二：

「從和帝起，宦官開始抬頭，與外戚角逐政權，而於桓靈時代（一四七至一八九年）獲得決定的勝利。他們的貪污殘暴，造成漢帝國的內部好幾次巨大的動亂，諸如黨錮之禍，黃巾之亂，以及軍閥們的稱兵等。」

傅樂成《中國通史》

資料三：五四運動時期的兩幅漫畫



資料四：南洋女子師範學生愛國歌

救家先救國，國亡家也亡，汝如欲愛國，國恥不可忘。

.....

汝如欲愛國，汝心須要固，老布也可着，莫買東洋布。

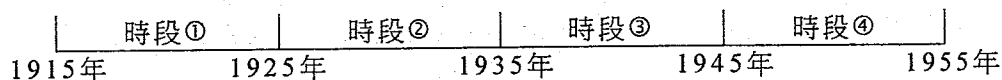
汝如欲愛國，國恥不可忘，一個曹汝霖，一個章宗祥。

汝如欲愛國，踏海身可捐，我願我專使，快學魯仲連。

汝如欲愛國，報仇志莫渝，我願外交家，快學申包胥。

.....

- (a) (i) 根據資料一，東漢自和帝起，君主的年壽、在位年數、即位年齡、子嗣數目四方面有何變化？(4分)試分別援引證據，支持你的看法。(4分)
- (ii) 承上題，上述的變化如何引致資料二「從和帝起，宦官開始抬頭，與外戚角逐政權」的現象出現？試加解釋。(6分)
- (iii) 根據資料二，東漢的宦禍如何引致「黨錮之禍」、「黃巾之亂」和「軍閥稱兵」？試選取其中兩宗事件，援引相關史實，加以解釋。(6分)
- (b) (i) 資料三所述的五四運動發生在以下哪一個時段？試把正確答案的數字寫在答題簿內。(1分)



- (ii) 根據資料四，資料三漫畫一中被民氣吹倒的三人，其中兩人是誰？(2分)
- (iii) 資料三漫畫一對「民氣」的評價是正面還是負面？(1分)試從漫畫找出證據支持你的看法。(1分)
- (iv) 資料三漫畫二和資料四，表達了什麼相同訊息？試舉出一項。(1分)分別從兩則資料中，各找出一項證據支持你的看法。(2分)
- (v) 資料四提及的「國恥」、「國賊」與資料三漫畫二提及的「青島」有何關係？試援引史實，加以解釋。(4分)
- (vi) 有人認為五四運動能成功雪國恥、除國賊。試援引史實，加以印證。(4分)
- (vii) 承上題，五四運動為什麼能夠取得成功？試援引資料三、資料四及相關史實，從行動及宣傳方法加以解釋。(4分)

第二部分：分甲部及乙部，考生須於每部各選答一題，共答兩題，每題佔 25 分。

甲部：上古至十九世紀中葉（下列三題，選答一題）

2. 資料一：

秦始皇一統天下後，建立中央集權官僚制度，實行郡縣制；拓展南北領土和以法家思想治國。

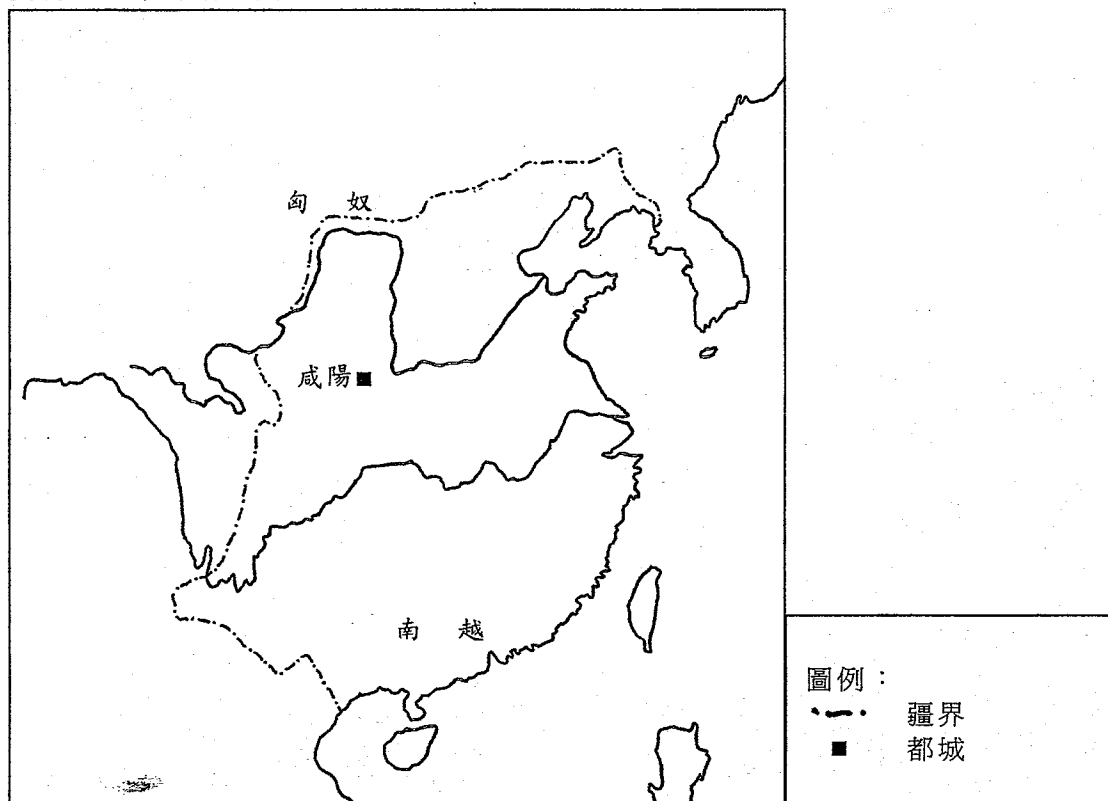
改寫自王雲度、張文立主編《秦帝國史》

資料二：

漢武帝即位後，加強帝權，如在中央和地方制度上進行改革，並且罷黜百家，獨尊儒術。

改寫自王子今、方光華主編《中國歷史——秦漢魏晉南北朝史》

資料三：秦時期全圖



根據譚其驥主編《中國歷史地圖集》整理

根據資料一、資料二和資料三，並援引史實，分別析論秦始皇和漢武帝的施政內容。(25分)

3. **資料一：**

唐太宗講求治道，關心吏治，並確立三省六部，改革地方政制。貞觀年間任用大臣都不問親疏，不念仇恨，唯才是任，納諫從善。

改寫自王壽南《隋唐史》和胡如雷《李世民傳》

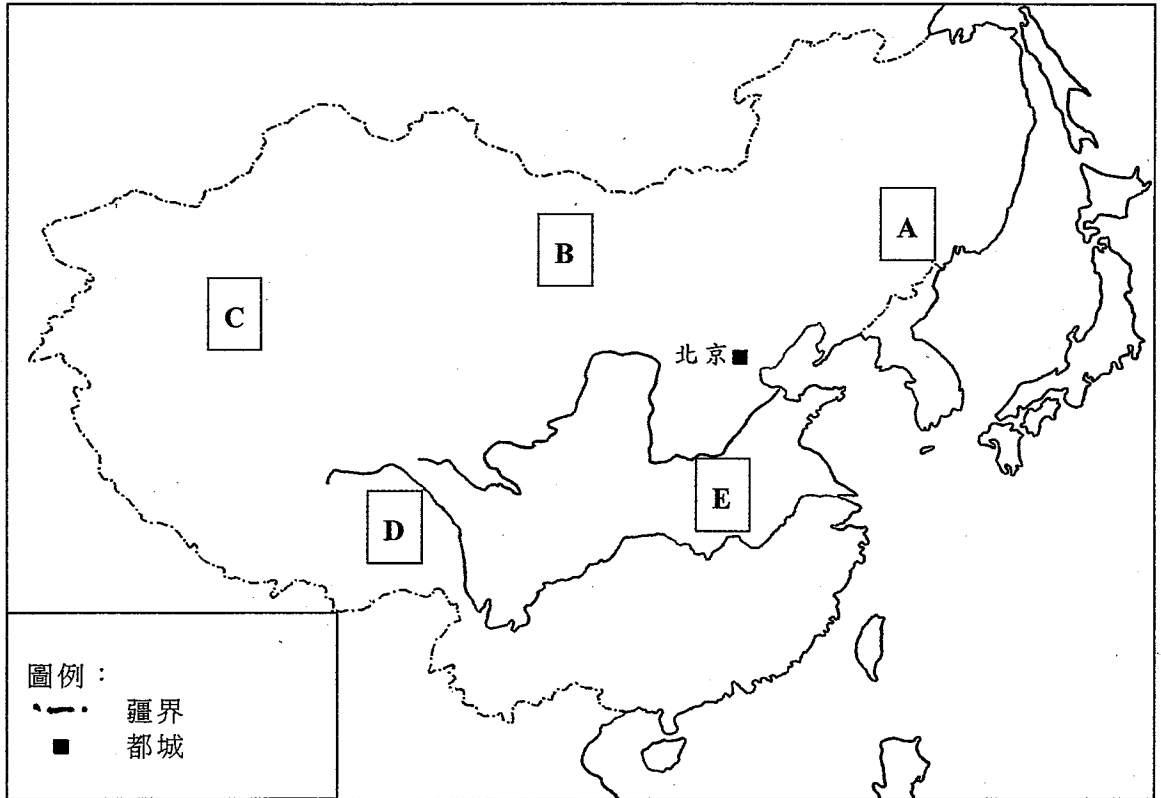
資料二：

明太祖因胡惟庸案改革中央官制，突顯皇權尊崇；置錦衣衛來監視百官；在殿廷上責杖大臣，以提高皇帝的威權。

改寫自傅衣凌《明史新編》


- (a) 有人認為「貞觀之治」是唐代的黃金盛世。根據資料一，並援引史實，闡析唐太宗貞觀致治的原因。(15分)
- (b) 根據資料二，並援引史實，闡釋明太祖實行君主集權的措施和流弊。(10分)

4. 資料一：清代前期民族分布圖



根據譚其驤主編《簡明中國歷史地圖集》及郭沫若主編《中國史稿地圖集》整理


資料二：



康熙的祖母孝莊文皇后，蒙古族

順治接見達賴圖

資料二：



資料三：清初對不同民族採用的管治措施

民族	管治措施
漢	<ul style="list-style-type: none"> ● 籠絡明臣 ● 提倡儒學 ● 行薙髮令
蒙古	<ul style="list-style-type: none"> ● 設立盟旗制度
藏	<ul style="list-style-type: none"> ● 置駐藏大臣
回	<ul style="list-style-type: none"> ● 設伊犁將軍、行伯克制

整理自鄧之誠《中華二千年史》、羅香林《中國民族史》、李治亭主編《清史》和任桂淳著、陳文壽譯《清史》

- (a) 資料一的A、B、C、D和E分別代表以下哪個民族？把英文字母連同答案寫在答題簿內。(5分)
- 回族
 蒙古族
 漢族
 滿族
 藏族
- (b) 根據資料二和資料三，並援引史實，分析清初君主對蒙古、藏、回三族的管治策略。(10分)
- (c) 根據資料三，並援引史實，分析清初君主對漢族的管治措施。(10分)

乙部：十九世紀中葉至二十世紀末（下列三題，選答一題）

5. 資料一：



①

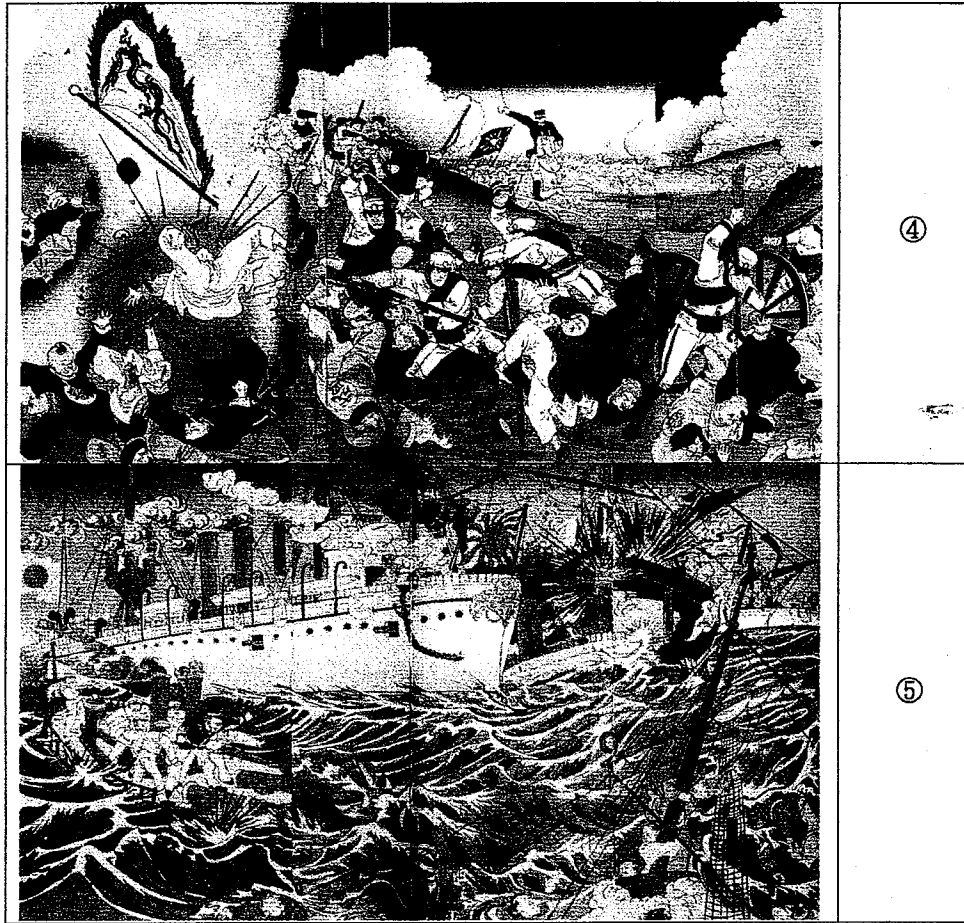


②



③

資料一：



- (a) 資料一中的①、②、③、④和⑤分別代表以下哪宗歷史事件？把答案的英文字母連同代表的數字寫在答題簿內。(5分)
- A. 簽訂南京條約
 - B. 虎門銷煙
 - C. 輸入鴉片
 - D. 黃海海戰
 - E. 平壤之戰

5. **資料二：**

《南京條約》有開放廣州、廈門、福州、寧波、上海為通商口岸的條款。英國在繼後補充《南京條約》的《中英虎門條約》中，還取得片面最惠國待遇。

改寫自張杰《清朝三百年史》

資料三：

清廷在內外壓力下興辦海軍，一旦形勢稍有鬆動，或海軍稍有成就便滿足現狀；黃海海戰時，北洋艦隊最大艦隻噸位與大砲，較日本並無遜色，惟缺乏大口徑之砲彈。至於艦速，日艦又在北洋艦隊之上。此外，清廷指揮不統一，又無全力出戰，乃戰敗的原因。

改寫自海軍軍事學術研究所中國軍事科學學會辦公室《甲午海戰與中國海防》、黎傑《清史》及徐中約著、計秋楓等譯《中國近代史》

- (b) 《南京條約》簽訂後，為何英國仍發動英法聯軍之役？根據資料二，並援引史實，就入城、貿易、修約三方面，加以分析。(10分)
- (c) 根據資料三，並援引史實，闡釋清廷在甲午戰爭戰敗的原因。(10分)

6. 資料一：1917-1919年主要軍閥割據簡表

軍閥派系	主要人物	控制範圍	支持軍閥的國家
皖系	A	陝西、山東、安徽、浙江、福建	B
C	馮國璋、 吳佩孚、曹錕	直隸、江西、江蘇、湖北	英國、美國
奉系	D	奉天、黑龍江、吉林	日本
晉系	閻錫山	山西	—
滇系	唐繼堯	雲南、貴州	英國、美國
E	陸榮廷	廣西、廣東	—

整理自武月星主編《中國現代史地圖集》

資料二：

圖一



袁世凱稱帝

圖二




府院之爭：大總統黎元洪

圖三



府院之爭：國務總理段祺瑞


圖四



督軍團

資料二：


圖五



辦子軍在北京

資料三：

圖一



第二次直奉戰爭

圖二




民初軍閥曾發行形形色色的紙幣，包括圖中的滇粵桂贛聯軍軍用票

- (a) 資料一的 A、B、C、D 和 E 分別代表哪個軍閥派系、主要人物或支持軍閥的國家名稱？把英文字母連同答案寫在答題簿內。(5 分)
- (b) 根據資料二，並援引史實，分析民國初年軍閥割據的背景。(10 分)
- (c) 根據資料三，並援引史實，分析民初軍閥割據期間(1916-1928 年)對政治和經濟兩方面的影響。(10 分)

7. 資料一：

圖一



1971年乒乓外交

圖二



1971年喬冠華出席聯合國大會

圖三



1972年田中角榮訪華


資料二：

圖一



1978年鄧小平訪日

圖二



1998年江澤民訪日

資料三：

中日邦交往往受修改歷史教科書、參拜靖國神社和釣魚島主權問題所困擾。

改寫自胡之信等編《中華人民共和國對外關係史》

- (a) 根據資料一，並援引史實，闡析中國在二十世紀七十年代初期的外交政策。
(15分)
- (b) 根據資料二和資料三，並援引史實，分析自1978年至2000年期間的中日關係。
(10分)

- 試卷完 -

本試卷所引資料的來源，將於香港考試及評核局稍後出版的《香港中學文憑考試試題專輯》內列明。