

中國歷史 試卷二

一小時二十分鐘完卷(上午十一時十五分至下午十二時三十五分)

考生須知

- (一) 設六單元，每單元各設三題，考生從所選的一個單元中選答兩題，共答兩題完卷。
- (二) 全部答案寫在答題簿內，每題(非指分題)必須另起新頁作答。

考試結束前不可
將試卷攜離試場

全卷共六單元，每單元各設三題。考生從所選的一個單元中選答兩題，共答兩題完卷，每題佔 25 分。

單元一：二十世紀中國傳統文化的發展：承傳與轉變

1. (a) 試就下列兩方面，分析五四新文化運動出現的背景。(10分)
- 西方新思潮的傳入
 - 北京大學的自由學風
- (b) 試闡析胡適以科學整理國故的主張及其貢獻。(15分)

2. **資料一：1958年，一群新儒家學者發表的宣言**

「須肯定承認中國文化之活的生命之存在。……沒有同情與敬意，即根本無真實的了解。」

「(儒家思想)把仁義之價值之超過個人生命之價值……要行其心之所安，而不必是上帝之誠命，或上帝的意旨。」

「中國需要真正的民主建國，亦需要科學與實用技術，中國文化中須接受西方或世界之文化。」

牟宗三、徐復觀、張君勱、唐君毅《為中國文化敬告世界人士宣言——我們對中國學術研究及中國文化與世界文化前途之共同認識》

- (a) 五四時期主張西化的知識分子衝擊中國傳統文化，當時秉持儒家文化的保守主義學者如何回應？(10分)
- (b) 根據資料一，闡析當時新儒家學者對中國文化的看法。(15分)

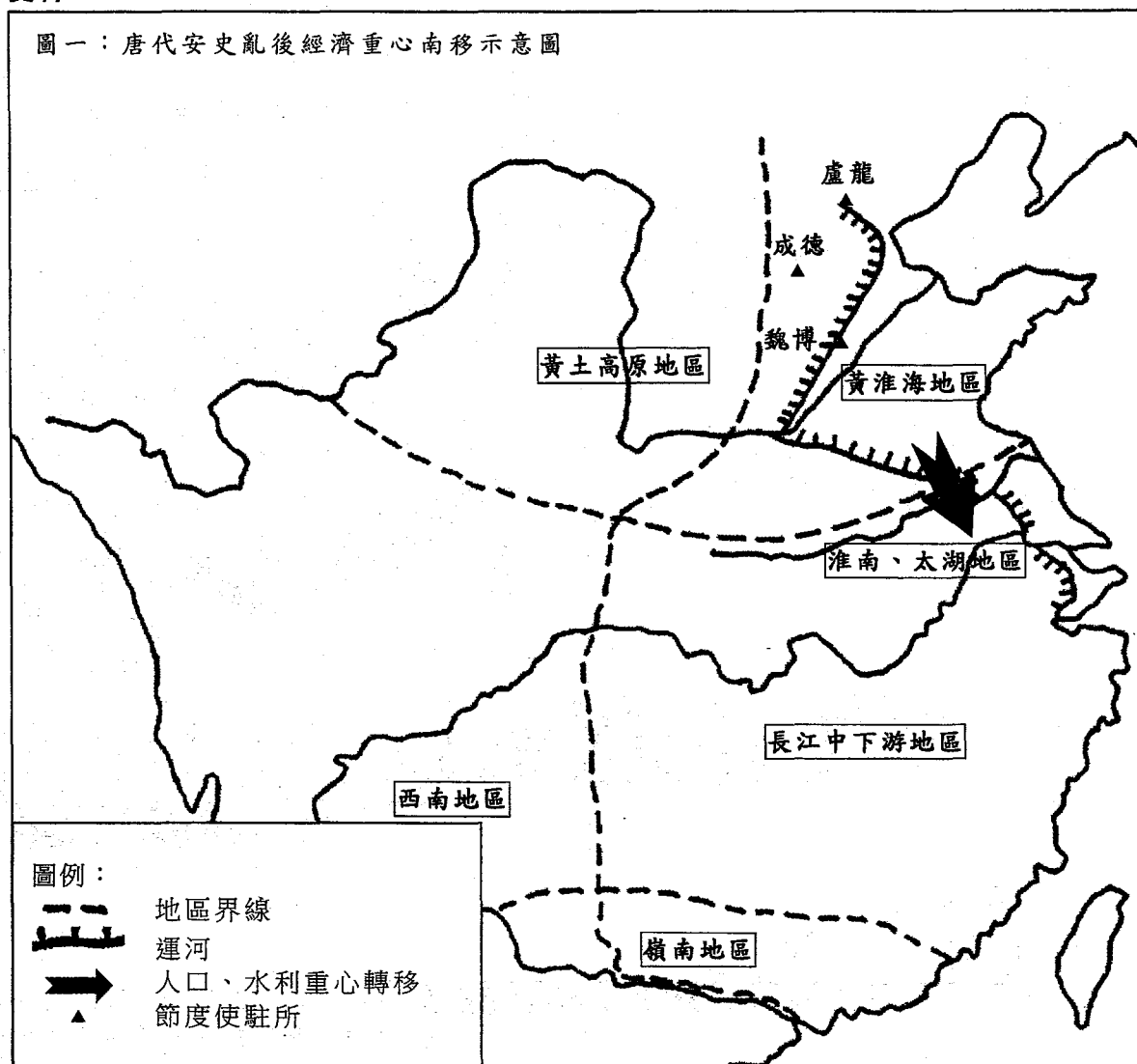
3. 資料一：



根據資料一，並援引史實，析論傳統文化於「文化大革命」(1966年-1976年)期間在中國內地所受到的衝擊。(25分)

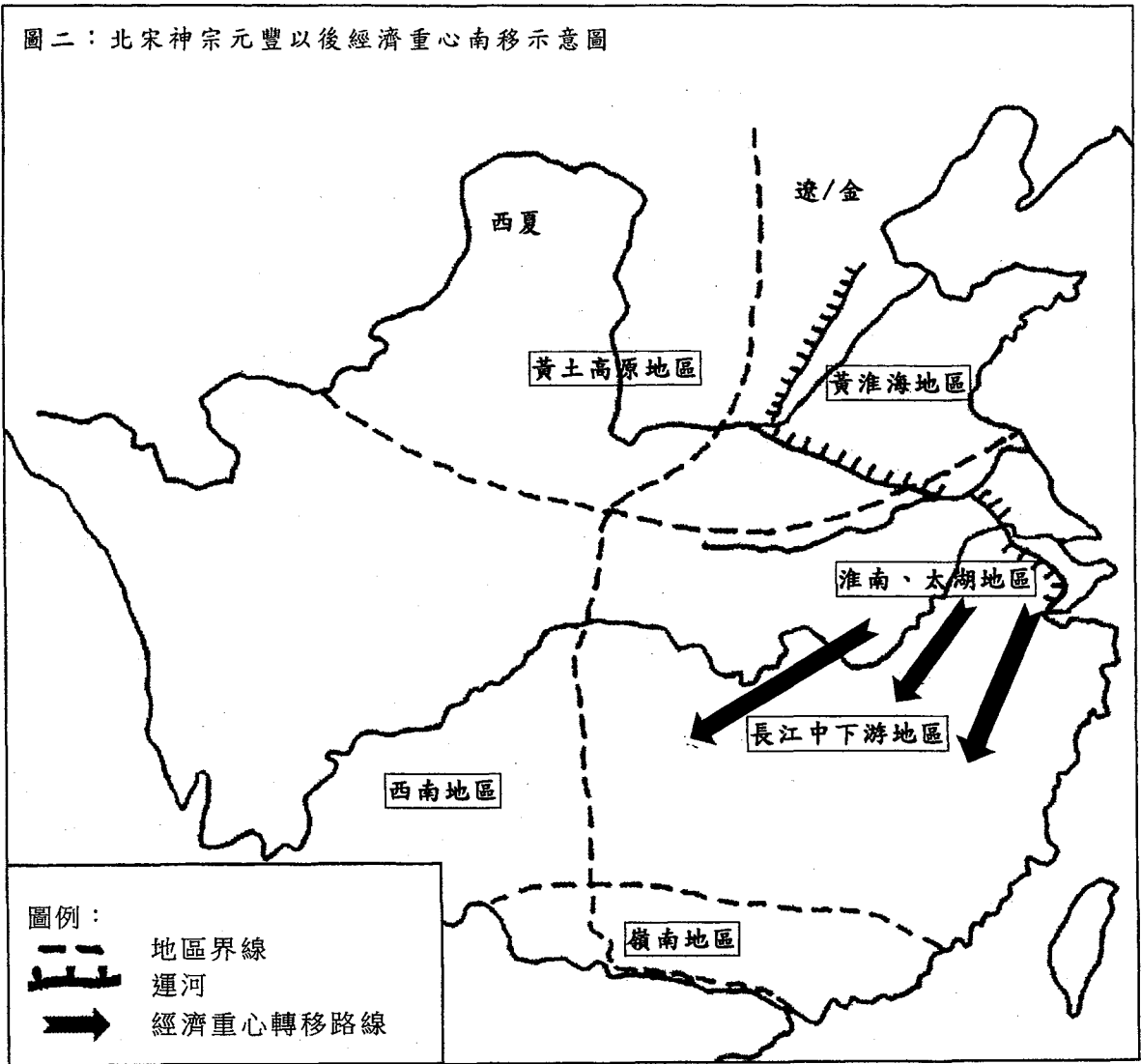
單元二：地域與資源運用

4. 資料一：



根據杜瑜《中國經濟重心南移——唐宋間經濟發展的地區差異》及譚其驥主編《中國歷史地圖集》整理

資料一：



根據杜瑜《中國經濟重心南移——唐宋間經濟發展的地區差異》、張家駒《兩宋經濟重心的南移》和譚其驥主編《中國歷史地圖集》整理

資料二：唐宋時期南北方戶數比例比較表

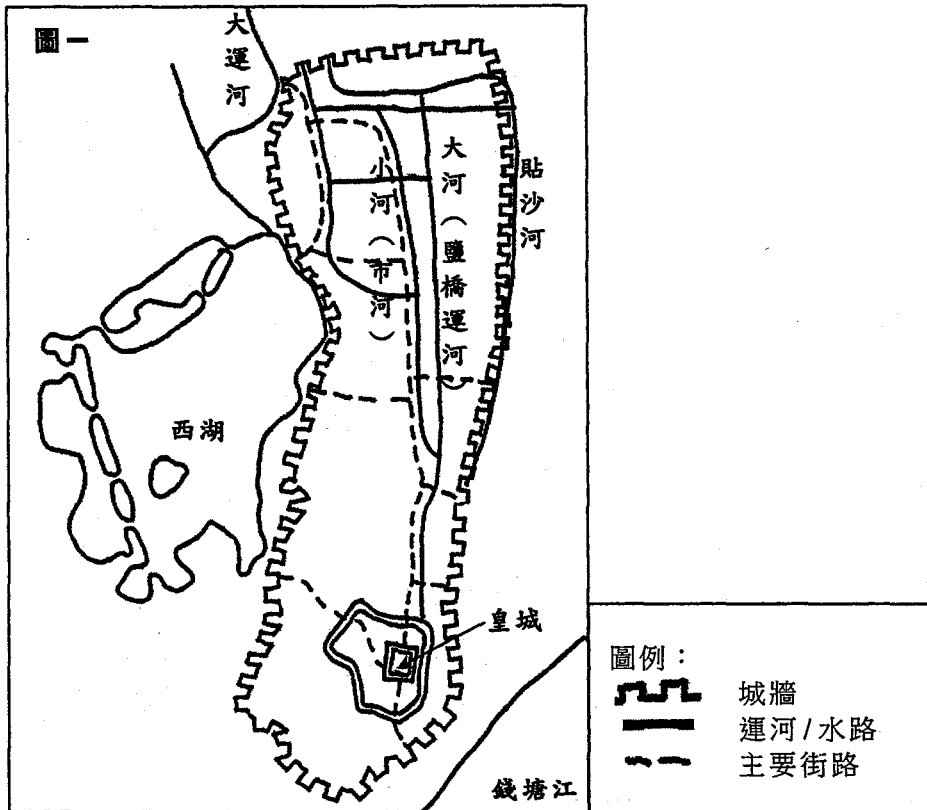
	唐玄宗	比例	宋太宗	比例	宋神宗	比例	宋徽宗	比例
總數	8,973,000		6,109,000		16,570,000		17,301,000	
北方	4,922,000	55%	2,498,000	41%	5,362,000	32%	5,882,000	34%
南方	4,051,000	45%	3,611,000	59%	11,208,000	68%	11,419,000	66%

整理自杜瑜《中國經濟重心南移——唐宋間經濟發展的地區差異》

- (a) 有人認為隋唐時期黃河中游氣候溫濕，土壤肥沃，加上天然河道交錯，有利當地農耕文化的孕育。試援引史實，加以分析。(10分)
- (b) 根據資料一和資料二，並援引史實，闡析唐宋經濟重心南移的原因。(15分)

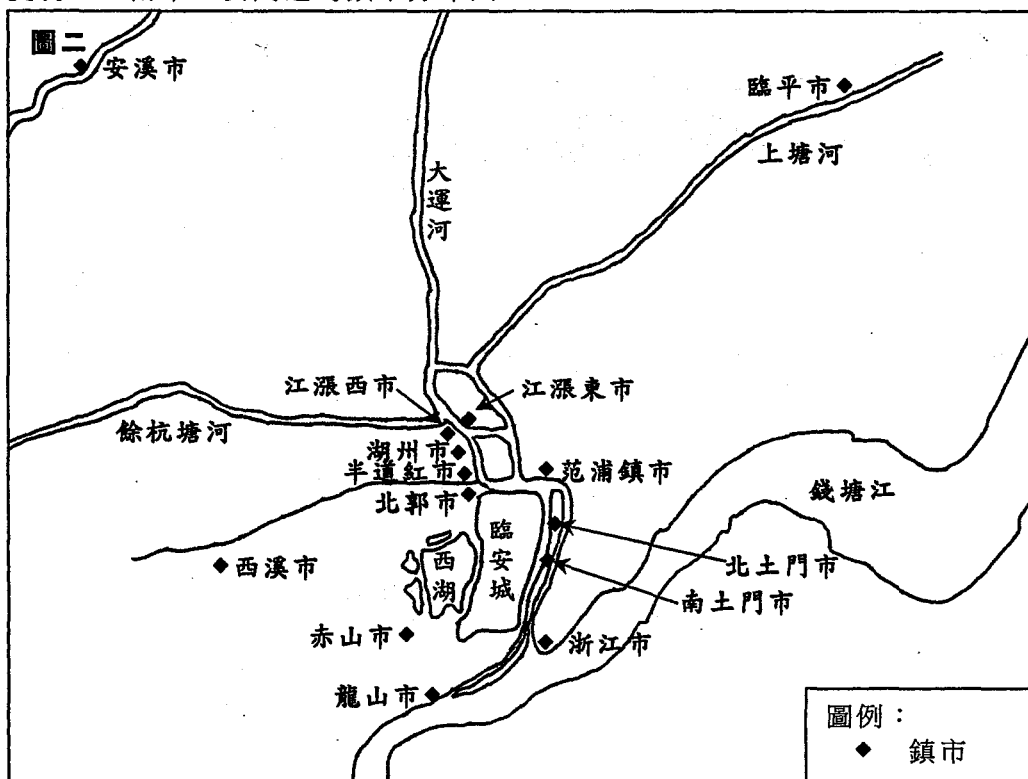
5.

資料一：南宋臨安圖



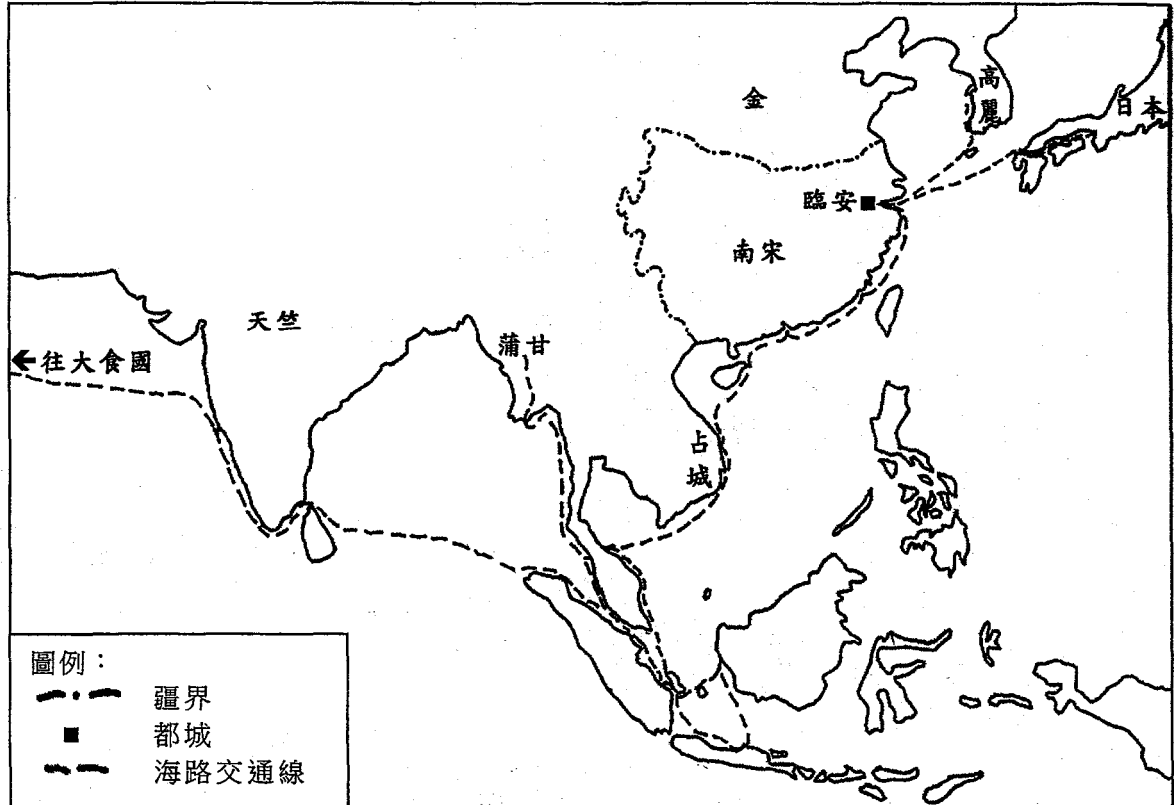
根據徐吉軍《南宋都城臨安》、林正秋《南宋都城臨安》及郭沫若主編《中國史稿地圖集》整理

資料一：南宋臨安周邊的鎮市分布圖



根據梅原郁譯註《夢梁錄——南宋臨安繁昌記》(轉引自徐吉軍《南宋都城臨安》)整理

資料二：南宋時期中外海上交通圖



根據郭沫若主編《中國史稿地圖集》整理

資料三：

臨安面積細小，人口活動往往越出城區，伸展至西湖和運河區。首都城市總人口達150萬人，由於臨安人口眾多，百貨雲集，每天自蘇、湖、常、秀州及淮南、江西、湖南、兩廣運米萬石入京。海鮮水產、柴炭日用都沿江河運達首都。臨安不僅是南宋的政治中心，還是最大的工商城市，它既是全國絲織中心，也是印刷業重鎮。城中有米市、藥市等各專門市場17個；各種遊戲場所23個；內藏歌姬名娼的酒樓11家，其餘飯館、歌館無數。

改寫自林正秋《杭州古代城市史》、周密《武林舊事》
及薛鳳旋《中國城市及其文明的演變》

根據資料一、資料二和資料三，並援引史實，從人口、商業、交通、海上貿易四方面，析論南宋臨安繁盛的由來。(25分)

6. (a) 五口通商以前，清代廣州商貿發展一枝獨秀。試就政治、經濟和地理三方面加以闡析。(15分)
- (b) 自《南京條約》簽訂後，廣州發展為清代南方最方便接觸和認識外國政治思想、教育和宗教的地方。試援引史實加以說明。(10分)

單元三：時代與知識分子

7. 資料一：

父親司馬談臨終前握着司馬遷的手哭着說：「我離世後，你必定繼任太史；當你繼任太史，不要忘記我要完成的論著。」

自周公死後五百年而有孔子，孔子死後到現在五百年了，又有誰能繼承孔子撰述《春秋》的精神？

改寫自《史記·太史公自序》

資料二：

司馬遷因為李陵之禍而蒙受巨大屈辱，亦感受到一些如屈原等忠信正直的人遭遇陷害的不公，心存憤懣不平。

改寫自王雙《司馬遷創作心理形成原因探析》

資料三：

面對漢武帝實施官府壟斷經濟和專賣制度的措施：

- 司馬遷並不重農輕商，反而大談工商經營，為經營致富的工商業者立傳。
- 他主張國家對農虞工商各行各業採放任政策，任其自然發展。

改寫自施丁《論司馬遷的「成一家之言」》

- (a) 根據資料一和資料二，並援引史實，闡析司馬遷撰寫史記的原因。(15分)
- (b) 根據資料三，並援引史實，分析司馬遷的經濟主張如何回應當時的問題。(10分)

8. 試援引史實，就以下三項，析論哪一項是王安石變法失敗的最關鍵因素？哪兩項較不重要？(25分)

- 宋神宗決心動搖
- 朝中保守派反對
- 王安石用人不當

9. 資料一：

1899-1902年

- 1899年，維新變法失敗後，康有為在各地成立保皇會，而梁啟超亦積極配合，以壯大保皇會的勢力。
- 1899年，梁啟超與孫中山來往日密。

1903-1911年

- 1903年，梁啟超遊美後，放棄革命主張。
- 1906年，清廷宣布預備立憲，梁啟超積極回應。
- 1907至1911年，梁啟超對清廷的立憲活動有所批評，又提出實行國會制度。

整理自李平、楊柏嶺《梁啟超傳》

- (a) 維新變法前，梁啟超透過辦報和講學宣揚其革新思想。試援引史實，加以說明。(10分)
- (b) 根據資料一，並援引史實，析論以下兩段時期的政局與梁啟超個人經歷及其政治主張的關係：(15分)
- 1899-1902年
 - 1903-1911年

單元四：制度與政治演變

10. 資料一：

北魏統治者必須將大量的浮游、依附及蔭庇戶口掌握到手中，把他們編到荒地上進行生產。而存在大量的荒地是施行均田制其中一個不可少的因素。

改寫自韓國磐《魏晉南北朝史綱》

資料二：

北魏孝文帝頒下均田令，其中包括：

- 擴大授田對象
- 限制田地買賣
- 訂定寬鄉條例

改寫自鄒紀萬《魏晉南北朝》

- (a) 根據資料一，並援引史實，分析北魏孝文帝推行均田制的原因。(10分)
- (b) 根據資料二，並援引史實，析論均田制如何促進農業發展。(15分)
11. (a) 試以唐代府兵制為例，從兵源、編制和調遣、軍費三方面析論徵兵制的優點。(15分)
- (b) 試從養兵費用、戰鬥力量兩方面分析宋代募兵制的影響。(10分)

12. 資料一：

科舉考試成為選拔人才的主要方式：

- 將學校納入科舉體系
- 以八股文作為考試文體
- 採分區配額制

改寫自綦曉芹《科舉》

資料二：明朝進士的家庭背景統計

	三代祖先內無人獲科舉功名	三代祖先內至少一人獲科舉功名
明代平均值	46.7%	53.3%

整理自何炳棣《明清社會史論》

根據資料一和資料二，並援引史實，析論明代科舉制對人才消長的影響。(25分)

單元五：宗教傳播與文化交流

13. 資料一：

漢代道教源自：

1. 民間信仰
2. 神仙方術
3. 黃老之學

改寫自任繼愈主編《中國道教史》

資料二：

北朝寇謙之改革天師道腐敗的科儀，還擴充了神仙天界等名稱，他劃分神仙等級，以傳說的神仙和正一天師張陵等作為輔翼。

改寫自傅勤家《中國道教史》

資料三：

南朝相繼出現兩個著名的道士，其一是重整科儀齋儀，撰《太上洞玄靈寶授度儀》、《三元齋儀》等書的陸修靜；其二是校正道書，重整神仙品位，並主張調和三教的陶弘景，他們對五斗米道進行了改造。

改寫自卿希泰《中國道教思想史綱》

- (a) 根據資料一，並援引史實，分析道教的起源。(10分)
- (b) 根據資料二和資料三，並援引史實，析論道教在南北朝時期的發展。(15分)

14. 資料一：

北魏太武帝及北周武帝滅佛，前者盡毀佛像，焚佛經，後者則不屠戮沙門，只強令其還俗。

改寫自牟鍾鑒等《中國宗教通史》

資料二：

元代穆斯林對中國的文化做出了重大的貢獻，在文化方面出現一批著名學者、藝術家及專門人才，例如回回天文學家札馬魯丁制定《萬年曆》，回回砲手亦思馬因和阿老瓦丁製造回回砲等。


改寫自牟鍾鑒等《中國宗教通史》和周燮藩、沙秋真《伊斯蘭教在中國》

- (a) 根據資料一，並援引史實，闡釋北朝時期滅佛的概況。(10分)
- (b) 根據資料二，並援引史實，闡析元代伊斯蘭教信奉者在曆法、數學、軍備、建築、音樂五方面對中國的貢獻。(15分)


15. 試援引史實，比較利瑪竇和馬禮遜在華傳教方法的異同。(25分)

單元六：女性社會地位：傳統與變遷

16. 有人認為宋明理學對女性的規範較漢代儒家禮教為大。試援引史實，就行為自主和社會地位兩方面加以析論。(25分)
17. 資料一：1898年《女學報》創刊，提倡男女平等，倡導女學，爭取女權。



資料二：1935年穿着運動服的女學生



資料三：

五四運動觸發了婦女的覺醒，她們以「國家興亡，女子有責」，衝破封建束縛，爭取職業平等和參政的權利。

改寫自青長蓉等《中國婦女運動史》

- (a) 根據資料一和資料二，並援引史實，闡析晚清至民國時期女學的演變。(15分)
- (b) 根據資料三，並援引史實，分析五四新文化運動對女性地位的影響。(10分)

18. 資料一：

圖一



1951年中國第一批女飛行員

圖二




1964年上海電表廠女工

圖三



1964年四川成都女青年參加遊行

圖四



1965年《中國婦女》雜誌封面刊登女運動員參加射箭活動

資料二：

中國婦女與男子平等地參與國家的管理與決策，是實現憲法所賦予的男女平等的政治地位的最高表現，但婦女參政的比例仍然偏低，故中國政府在1994年進一步制訂培養選拔女幹部規劃，加強培訓，並規定婦女參政的比例。

改寫自王行娟主編《中國婦女參政的行動》

- (a) 根據資料一，並援引史實，闡析中華人民共和國成立後至二十世紀六十年代中葉，中國女性在社會各方面扮演的角色。(15分)
- (b) 根據資料二，並援引史實，分析中華人民共和國成立後至二十世紀末婦女參政的發展。(10分)

- 試卷完 -

本試卷所引資料的來源，將於香港考試及評核局稍後出版的《香港中學文憑考試試題專輯》內列明。