

中國歷史 試卷一

兩小時完卷(上午八時三十分至上午十時三十分)

考生須知

- (一) 本試卷共分兩部分，第一部分為必答題，各考生均須作答。第二部分分甲、乙兩部，各設三題，考生須於每部各選答一題。
- (二) 全部答案寫在答題簿內，**每題(非指分題)必須另起新頁作答。**

考試結束前不可
將試卷攜離試場

第一部分：此題必答，設問內容涵蓋甲、乙部，佔50分。

1. 資料一：

貞觀四年(公元630年)，唐太宗下詔徵發民力以重修隋代(煬帝)興建的乾元殿……張玄素上書進諫勸阻，指出唐初正百廢待興，不應役使飽受戰爭創傷的百姓，耗費億萬的財力物力。太宗最終停止有關工程，並賞賜張玄素絹五百匹。

改寫自吳兢《貞觀政要》

資料二：唐太宗貞觀年間的大臣

姓名	背景	姓名	背景
長孫無忌	太宗的妻兄	李靖	唐高祖的仇人
房玄齡	隋的官吏	魏徵	太子建成的部屬

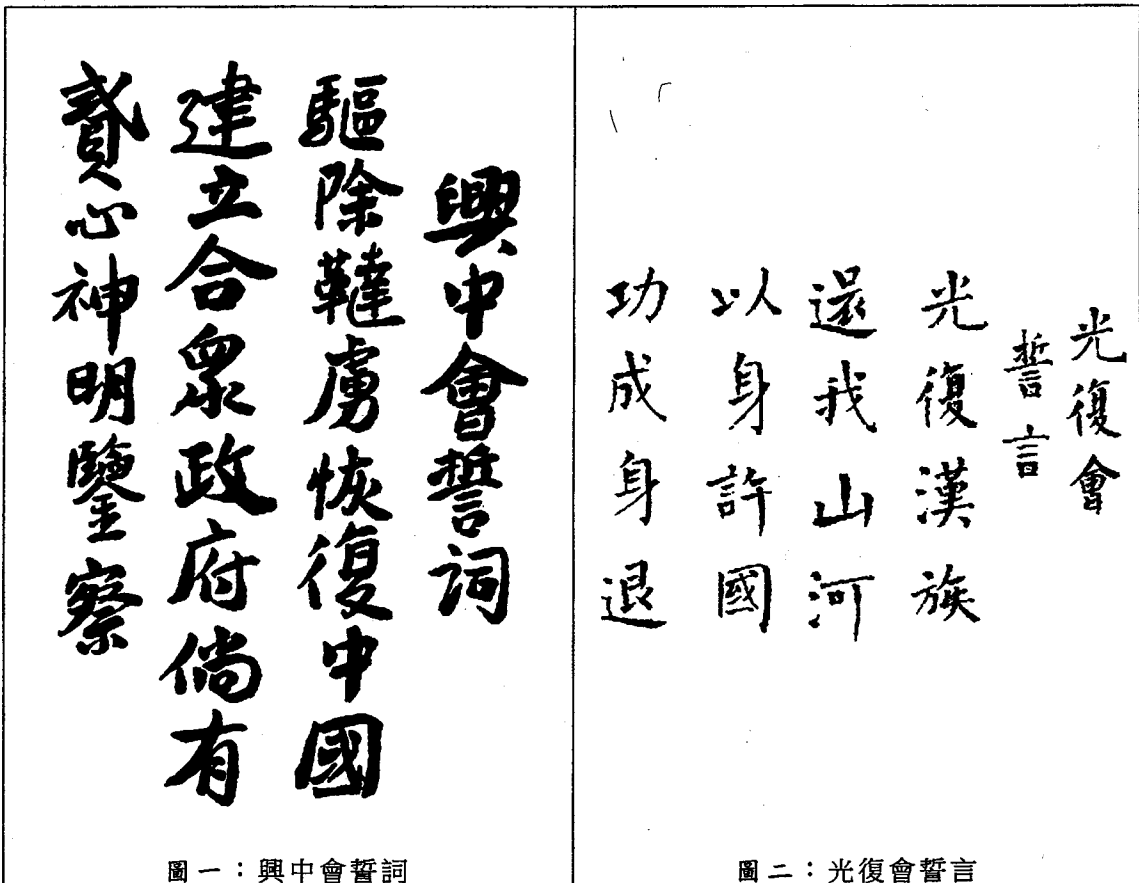
改寫自王壽南《隋唐史》

資料三：1894年孫中山寫了一封信給直隸總督李鴻章

……歐洲能夠富強，其根本不盡在船堅炮利，壘固兵強，而是因其能夠人盡其才，地盡其利，物盡其用，貨暢其流。這四方面實為國家富強的根本。因此，中國如欲仿效西法以圖強，必須從這四個方面入手，若僅學其船堅炮利，只是捨本圖末。

改寫自孫中山《上李鴻章書》

資料四：



圖一：興中會誓詞

圖二：光復會誓言

資料五：

觀點一：「貞觀之治」一詞，並不意味著貞觀時期的統治完美無瑕。

觀點二：孫中山為了革命的利益，接納了共產主義者（即第一次國共合作），但他似乎沒有認識到其行動的負面影響。

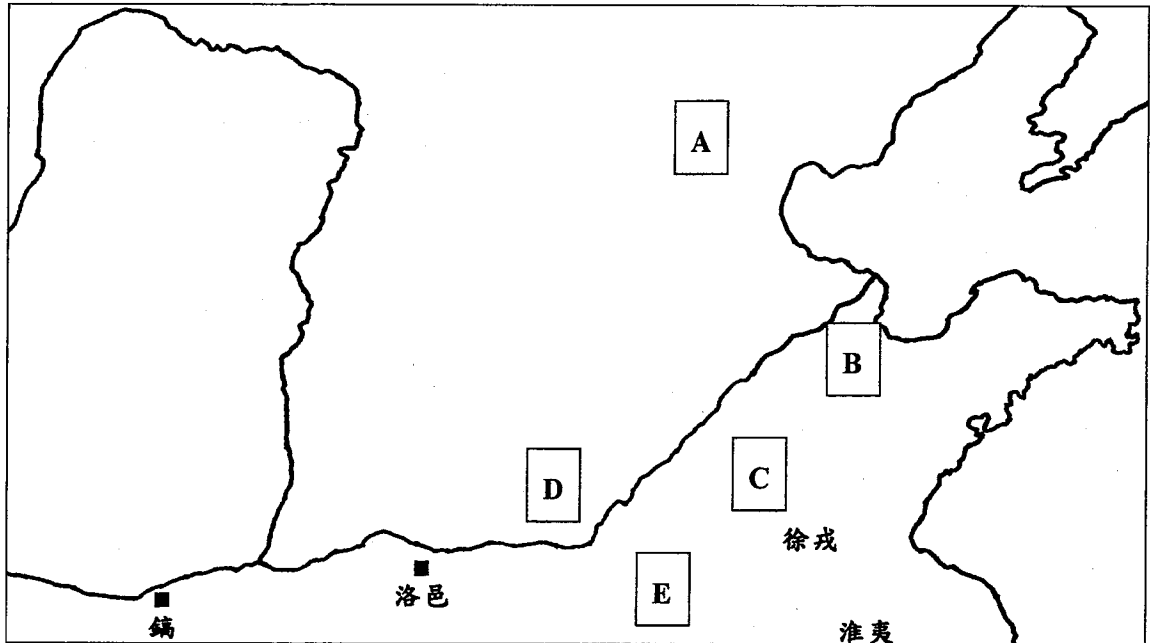
改寫自鄭學檬等《李世民評傳》及徐中約《中國近代史》

- (a) (i) 根據資料一和資料二，唐太宗施政有哪兩個特色？試各舉一項證據支持你的看法。(6分)
- (ii) 資料二的大臣對唐太宗一朝的施政有什麼貢獻？試選出二人，並援引史實加以說明。(6分)
- (iii) 資料一的作者為唐代史家。當代人編寫當代歷史有什麼優點和局限？試加以分析。(6分)
- (b) (i) 資料三和資料四圖一反映孫中山對於挽救中國的看法有什麼轉變？試從資料三和資料四圖一引述證據支持你的看法。(4分)
- (ii) 根據資料四的圖一和圖二，這兩個革命團體有什麼共同的主張？這兩個革命團體於1905年又如何合作？(4分)
- (iii) 孫中山對晚清革命運動有什麼貢獻？試參考資料四，並援引史實加以析述。(9分)
- (c) 你是否同意資料五的兩個觀點？試援引史實加以論證。(15分)

第二部分：分甲部及乙部，考生須於每部各選答一題，共答兩題，每題佔25分。

甲部：上古至十九世紀中葉（下列三題，選答一題）

2. 資料一：西周第二次封建圖



根據錢穆《國史大綱》及譚其驤主編《中國歷史地圖集》整理

資料二：

封國	分封對象	封地
例 魯	周公的長子伯禽	C
① 衛	周武王的少弟康叔	
② 宋	商紂王的庶兄微子啟	
③ 齊	太公呂望的兒子呂伋	
④ 燕	姬姓宗親召公奭	

改寫自傅樂成《中國通史》、陳致平《中華通史》及白壽彝主編《中國通史》

- (a) 資料二中的封國，在資料一地圖中的哪個位置？在答題簿內填寫代表這四個封國位置的英文字母和它們的名稱。(4分)
- (b) 根據資料一和資料二，並就你所知，分析西周施行第二次封建的三個目的。(6分)
- (c) 周代封建和宗法制度的崩壞，導致春秋時期政治和社會的變動。試援引史實加以析論。(15分)

3. 資料一：

魏設立九品中正制，州的大中正、主簿，郡的中正、功曹，都是從著姓士族挑選，並由他們確定門閥世系，品評人才。兩晉和劉宋都沿襲這個制度。

改寫自《新唐書·儒學傳》

資料二：東晉對官員佔有佃客的規定

官品	一品	二品	三品	四品	五品	六品	七品	八品	九品
佃客數目	40戶	40戶	35戶	30戶	25戶	20戶	15戶	10戶	5戶

改寫自《隋書·食貨志》及李劍農《魏晉南北朝隋唐經濟史稿》

資料三：南朝劉宋對官員佔有山澤的規定

官品	一品	二品	三品	四品	五品	六品	七品	八品	九品
佔山面積	3頃	3頃	2頃 50畝	2頃 50畝	2頃	2頃	1頃 50畝	1頃 50畝	1頃

改寫自《南史·羊玄保列傳》及李劍農《魏晉南北朝隋唐經濟史稿》

- (a) 根據資料一、資料二和資料三，並就你所知，分析東晉和南朝士族成為社會上特殊階級的原因。(10分)
- (b) 南朝時期士族勢力衰落，有人認為是由於君主刻意裁抑士族，亦有人認為是士族本身日益腐化所致。你較同意哪一個觀點？試援引史實加以析論。(15分)

4. 資料一：

元入主中原後，在「腹裏」以外的區域，分置十多個地方區劃的最高單位，稱為 A。其下又設路、府、州、縣，均設 B 一職，由蒙古人充任；另設總管、尹等官為副貳，多以漢人充任。

改寫自傅樂成《中國通史》

資料二：

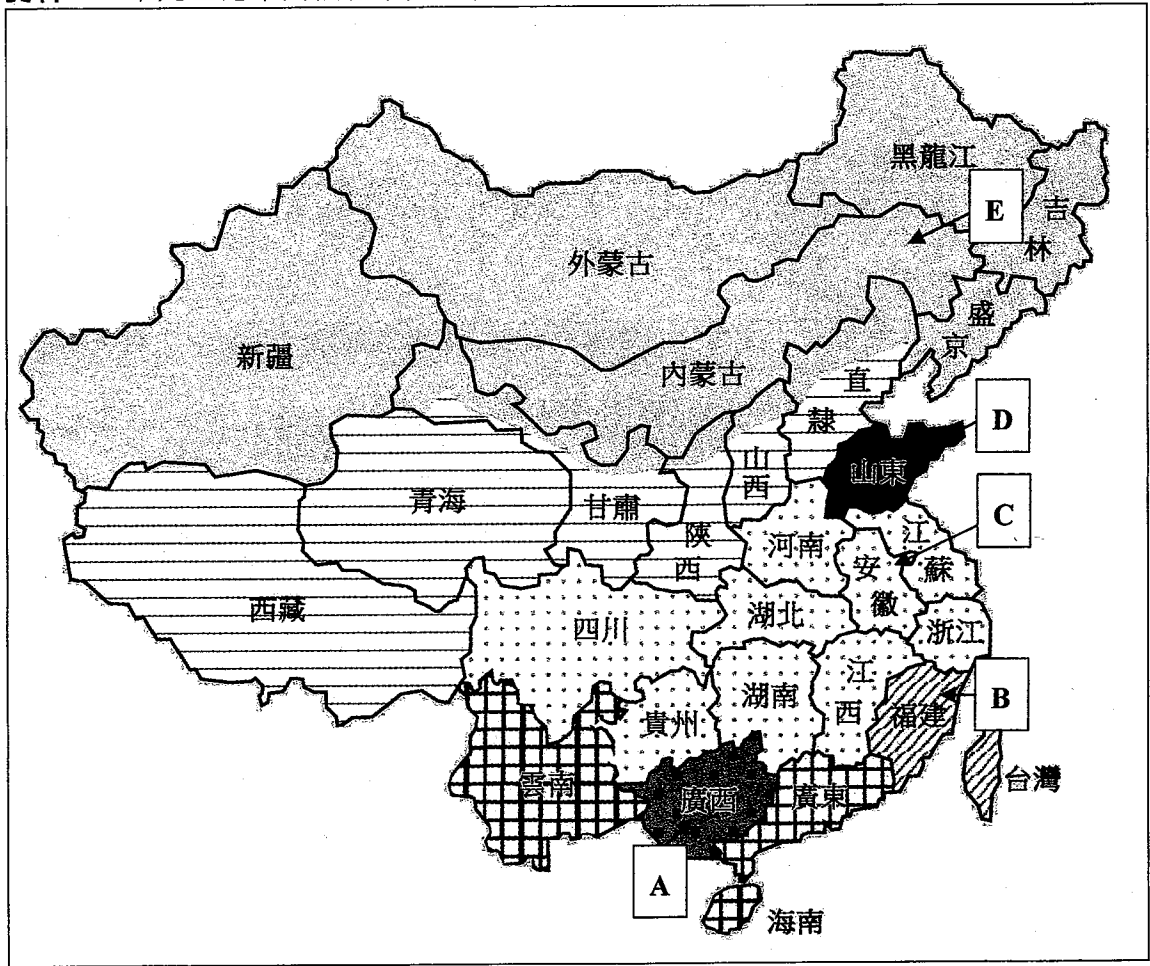
明太祖在全國改設十多個 C，為地方最高的行政區域，長官為左右布政使各一人，專掌民政和財政；另設 D 一職掌軍政；按察使一職掌刑名按劾。

改寫自陳捷先《明清史》

- (a) 試在答題簿內填寫資料一和資料二中A、B、C和D的名稱。(4分)
- (b) 試分析元、明兩代分別推行資料一和資料二兩種地方行政制度的目的。(6分)
- (c) 明太祖和成祖如何厲行君主集權？試從中樞決策機構和監察制度的建置兩方面加以析論。(15分)


乙部：十九世紀中葉至二十世紀末（下列三題，選答一題）

5. 資料一：十九世紀末列強在華勢力範圍示意圖



參考張海鵬《簡明中國近代史圖集》

資料二：1900年美國出版的漫畫



- (a) 資料一A、B、C、D和E分別是哪些國家的勢力範圍？試把答案連同代表的英文字母寫在答題簿內。(5分)
- (b) (i) 資料二反映美國提出的哪項外交政策？試從資料二找出一項證據支持你的看法。(4分)
- (ii) 試解釋馬關條約如何導致資料一和資料二所述的歷史事件。(6分)
- (c) 八國聯軍之役爆發的主要原因，有人認為源於列強入侵，亦有人認為是清政府腐敗無能所致。你同意哪個說法？試援引史實加以論證。(10分)

6. **資料一：**抗戰歌曲《松花江上》的部分歌詞

「我的家在東北松花江上，那裡有森林煤礦，還有那滿山遍野的大豆高粱。
我的家在東北松花江上，那裡有我的同胞，還有那衰老的爹娘。
……
爹娘啊，爹娘啊！什麼時候，才能歡聚在一堂？」

資料二：

「當馬歇爾準備離開中國時(1946年)，他再次勸告蔣介石說，共產黨人現在的軍事和政治力量已經很強大了，國民黨政府依靠軍事手段很可能摧毀不了他們。」

費正清等編《劍橋中華民國史》

- (a) (i) 資料一描述的情況與日本侵華的哪件事件有關？試據史實加以說明。(4分)
- (ii) 承上題，國民政府在外交上如何應對？隨後日本又如何反應？試據史實加以闡釋。(6分)
- (b) 資料二的觀點是否足以解釋內戰(1946-1949年)時期共產黨勝利、國民黨失敗的原因？試援引史實加以析論。(15分)

7. **資料一：**

事實證明，「文化大革命」是：

- 一、一場大革文化命的浩劫，它導致教育水平下降，文藝學術界停產十年，科學技術與世界先進水平的差距拉大；
- 二、一場自己人整自己人的鬥爭；
- 三、一場由最高領導人動員和利用群眾去達到其目的而造成的內亂。

改寫自連浩濤《中國現代化與蛻變的歷程(1900-2000年)》

試援引史實析論資料一的說法。(25分)

- 試卷完 -