

Part 1：會計分錄及會計循環

Ch. 1 會計等式、基礎概念、複式記帳法

1. SP.P1A.Q21

下列哪項會計等式的描述並不正確？

- A. 資產 - 負債 = 資本
- B. 資產 - 負債 = 資本 + 收益 - 費用
- C. 非流動資產 + 營運資金 = 資本 + 非流動負債
- D. 非流動資產 + 流動資產 = 資本 + 非流動負債 - 流動負債

2. 2012.P1A.Q17

2012年1月1日，湯先生成立一家商號，注入客貨車\$2000、物業\$14 000及存貨\$5000。該商號向銀行借款\$3000，用以購買一項設備。同時，湯先生存入\$1000至商號的現金箱及\$8000至商號的銀行戶口。

湯先生於2012年1月1日的資本總額為多少？

- A. \$9 000
- B. \$27 000
- C. \$30 000
- D. \$33 000

Ch.2 存貨處理

1. SP.P1A.Q18

對一家汽車貿易行來說，下列哪一項不應歸類為「購貨」？

- A. 購入汽車，作陳列用途
- B. 購入汽車，供顧客試用
- C. 購入汽車，供董事長使用
- D. 購入汽車，本作接載員工之用，但最終放回貨倉作轉手用途

Ch.3 結平帳戶

暫無歷屆試題

Ch.4 收益與費用、東主提用的處理

1. SP.P1A.Q23

某企業東主從私人儲蓄戶口提取現金，以償付企業某債權人的欠款。於分類帳記錄為：

- A. 借記應付帳款帳 貸記銀行存款帳
- B. 借記應付帳款帳 貸記資本帳
- C. 借記提用帳 貸記應付帳款帳
- D. 借記提用帳 貸記銀行存款帳

2. 2013.P1A.Q28

下列哪項複式記帳是正確的？

	交易內容	借記帳戶	貸記帳戶
(1)	從銀行戶口提取現金\$20 000，供企業使用。	提用	銀行存款
(2)	以現金支付雜費\$3 000。	雜費	現金
(3)	經銀行戶口收取銀行貸款\$200 000。	銀行存款	銀行貸款

- A. 只有(1)、(2)
- B. 只有(1)、(3)
- C. 只有(2)、(3)
- D. (1)、(2)、(3)

綜合第一至第四章

1. SP.P1A.Q22

BAFS 有限公司會在下列哪些項目的數額增加時，貸記其帳戶？

- (1) 電費
- (2) 向 XYZ 公司貸款
- (3) 貸款予 ABC 公司
- (4) 購貨退出
- (5) 租金收益
- (6) 銷貨退回

- A. 只有(1)、(2)和(4)
- B. 只有(1)、(3)和(6)
- C. 只有(2)、(4)和(5)
- D. 只有(3)、(5)和(6)

2. PP.P1A.Q6

以下哪些為正確的複式記賬？

- | <u>交易</u> | <u>借記帳戶</u> | <u>貸記帳戶</u> |
|------------------|-------------|-------------|
| (1) 以現金購入貨品 | 購貨 | 現金 |
| (2) 接收顧客退還的貨品 | 銷貨退回 | 應付貸款 |
| (3) 將現金存入銀行戶口 | 銀行存款 | 現金 |
| (4) 提取存貨供東主作私人用途 | 提用 | 資本 |

- A. 只有(1) 及 (3)
- B. 只有(1) 及 (4)
- C. 只有(2) 及 (3)
- D. 只有(2) 及 (4)

3. PP.P1A.Q9

以下哪項交易會為某商號的資產和負債結餘帶來相同的影響？

- A. 收到客戶支票\$1200
- B. 收到貸款\$2500現金，其中\$500用作支付東主住宅租金
- C. 以現金支付辦公室費用\$2000
- D. 購入辦公室設備\$1000，並於三個月後償付賣家

4. 2012.P1A.Q3

以下哪個帳戶在試算表上必定為借方結餘？

- (1). 短期貸款
 - (2). 存貨
 - (3). 銀行結存
 - (4). 物業
- A. 只有(1)及(3)
 - B. 只有(1)及(4)
 - C. 只有(2)及(4)
 - D. 只有(2)、(3)、(4)

5. 2012.P1A.Q16

下列哪項交易會影響企業的負債總額？

- A. 東主向企業注入資產
- B. 向顧客賒銷
- C. 購入機器並於兩個月後支付機價
- D. 把銷貸款項存入企業的銀行戶口

6. 2013.P1A.Q9

2012年12月1日，景龍公司欠天天公司\$56 000。2012年12月10日，天天公司把成本為\$80 000的貨物按毛利率50%售予景龍公司。2012年12月15日，景龍公司償還月初的結欠，獲得現金折扣3%。2012年12月31日，在天天公司的賬簿內，景龍公司帳戶的結餘應為：

- A. \$52 320 (貸方結餘)
- B. \$104 000 (借方結餘)
- C. \$120 000 (貸方結餘)
- D. \$160 000 (借方結餘)

綜合第一至第四章 問答題

7. 2005.Q2(A): (a) – (c)

列示下列各交易事項對會計等式(資產 = 負債 + 資本)的影響及所需的複式分錄。

	對會計等式的影響	所須分錄
例： 東主以其私人銀行帳戶 支付應付帳款 \$6000。	資本增加 負債減少	借：應付帳款 \$6000 貸：資本 \$6000
(a) 東主從公司提取 現金 \$50 000 及按 已記錄成本 \$80 000 提取一部 新添置貨車。	?	?
(b) 以支票 \$2000 繳付 維修保養費。該 費用已於兩個月 前記錄在公司帳 冊。	?	?
(c) 售出貨品 \$6400， 其中已收到 \$3000 現金，餘款將於 下月到期。	?	?

(10-7 分)

註：如未學「應計與預付」，不用做(b)項。

Ch.5 營業折扣及現金折扣

1. SP.P1A.Q24

20X7年2月14日，必勝公司開出銷售發票予曾氏有限公司，40件貨品，每件\$100，扣減25%貿易折扣；若在7日內還款，可獲5%現金折扣。必勝公司最終於20X7年2月20日收到款項。

為了在曾氏有限公司帳冊內記錄上述事項，下列哪一項的日記分錄是正確的？

2. PP.P1A.Q22

以下哪項為正確陳述？

- A. 貿易折扣在賬冊中記作銷貨折扣。
- B. 大量購貨時，可享有現金折扣。
- C. 現金折扣鼓勵客戶在賒賬期內清還貨欠。
- D. 貿易折扣毋須記入銷貨日記簿。

	借 \$	貸 \$
A. 必勝公司	3 000	
銷貨		3 000
銀行存款	2 850	
銷貨折扣	150	
必勝公司		3 000

B. 必勝公司	4 000	
銷貨		4 000
銀行存款	2 850	
銷貨折扣	1 150	
必勝公司		4 000

C. 購貨	3 000	
必勝公司		3 000
必勝公司	3 000	
銀行存款		2 850
購貨折扣		150

D. 購貨	3 000	
必勝公司		3 000
必勝公司	3 000	
銀行存款		3 000

Ch.6 試算表

根據以下資料，回答 2013.P1A.Q18 及 2013.P1A.Q19

景光公司 2012 年 12 月 31 日的帳戶餘額如下：

資本	\$ 199 800
現金	25 000
銀行存款	?
應收貨款	10 500
應付貨款	5 500
銷貨	232 000
購貨	108 000
存貨，2012 年 1 月 1 日	15 000
銷貨折扣	5 600
辦公室設備	280 000
行政費用	32 000
購貨退出	6 800
佣金收入	8 700
購貨運費	4 500

1. 2013.P1A.Q18

2012 年 12 月 31 日，銀行存款帳戶的結餘是多少？

- A. \$16 600
- B. \$27 800 (透支)
- C. \$30 200
- D. \$41 400 (透支)

Ch.7 全面收益表 / 損益表 / 購銷損益帳

1. SPP1A.Q25

下列項目摘錄自 ACCT 公司年終 20X6 年 12 月 31 日的試算表：

	借	貸
	\$	\$
期初存貨	5 500	
購貨運費	440	
銷貨運費	660	
購貨	73 000	
退貨	5 860	3 490
銷貨		113 500

已知期末存貨為期初存貨的兩倍，20X6 年的銷貨成本是

- A. \$62 080
- B. \$64 010
- C. \$64 450
- D. \$64 670

2. PP.P1B.Q5(b)

張先生擁有一家零售商舖。由於他對簿記認識不深，以致編製企業財務報表時遇上困難。試根據以下資料，為張先生的企業編製 2011 年 12 月 31 日止年度的損益表。(6 分)

	\$
租金及差餉	22 000
薪金	31 000
存貨 (2011年1月1日)	45 000
存貨 (2011年12月31日)	38 000
銷貨	188 000
購貨	92 100
銷貨退回	5 500
購貨退出	4 400
銷貨運費	1 900
銷貨折扣	2 700

3. 2013.P1A.Q14

下列哪項是企業損益表提供的資料？

- (1) 會計年度內賺取的利潤
 - (2) 高級經理出席海外會議的機票費用
 - (3) 給予熟客的貿易折扣
- A. 只有(1)及(2)
B. 只有(1)及(3)
C. 只有(2)及(3)
D. (1)、(2) 及 (3)

4. 2013.P1A.Q19 (資料見 Page 5, 2013.P1A.Q18)

如果 2012 年 12 月 31 日的存貨為 \$13 400，該年度的毛利是多少？

- A. \$117 900
- B. \$122 400
- C. \$124 700
- D. \$129 200

Ch.8 財務狀況表 / 資產負債表

1. SPP1A.Q19

資產負債表是_____。

- A. 一份借項和貸項的列表
- B. 分類帳中的一個帳戶
- C. 為計算某時段的利潤或損失而編製
- D. 一份列表，顯示損益帳結平後的各項結餘

2. 根據下列資料回答 SP.P1A.Q26, SP.P1A.Q28:

下列為半島公司截至20X6年12月31日止年度的資料:

	\$
應付帳款	5 000
應收帳款	6 000
銀行貸款 (20X7年12月償還)	11 500
資本, 20X5年12月31日	36 200
資本, 20X6年12月31日	44 200
現金	1 000
東主提用貨品	6 400
期末存貨	12 500
20X6年度注資	20 000
按揭貸款 (20Y1年償還)	60 000
本年度淨利	15 600
廠房及機器	80 000

3. SP.P1A.Q26.

半島公司 20X6 年 12 月 31 日的營運資金額是_____。

- A. \$1000
- B. \$3000
- C. \$12 500
- D. \$14 500

4. SP.P1A.Q28

20X6 年東主的現金提用額是_____。

- A. \$1200
- B. \$21 200
- C. \$27 600
- D. \$37 200

根據下列資料, 回答 PP.P1A.Q28

下列為李利有限公司 2011 年 12 月 31 日的帳戶結餘:

	\$
銷貨	20 000
購貨	8 000
銷貨折扣	400
購貨折扣	1 200
租金收入	1 600
電費	3 700
現金及銀行存款	3 000
應收帳款	2 900
應付帳款	4 000
辦公室設備	15 000
存貨 (2011年1月1日)	3 500
資本 (2011年1月1日)	?

2011 年 12 月 31 日的存貨值為\$4200。

5. PP.P1A.Q28

李利有限公司 2011 年 1 月 1 日的資本額為:

- A. \$8 300
- B. \$9 700
- C. \$19 800
- D. \$33 700

6. PP.P1A.Q30

財務狀況表中流動資產的排序是根據其

- A. 重要性; 最重要的資產放在首位, 最不重要的資產放在最後。
- B. 價值; 價值最高的資產放在首位, 價值最低的資產放在最後。
- C. 流動性; 流動性最低的資產放在首位, 流動性最高的資產放在最後。
- D. 添置時間; 最早添置的資產放在首位, 最遲添置的資產放在最後。

7. 2012.P1A.Q22

2011年12月31日，某公司的流動負債總額為\$ 120 000，流動比率為3:1，公司在當日的營運資金總額是多少？

- A. \$40 000
- B. \$80 000
- C. \$240 000
- D. \$360 000

Ch.8 問答題

8. 2012.P1B.Q5(a)

下列為葉氏企業截至2011年12月31日止年度的帳冊資料：

	\$
辦公室設備	220 000
應收貨款	67 000
期初存貨	34 000
期末存貨	42 000
銀行透支	17 600
應付貨款	26 300
貸款，心美公司 (2020年到期)	38 000
期初資本	231 000
銷貨	109 000
購貨	76 100
租金及差餉	12 000
薪金	9 000
其他營業費用	7 900
購貨折扣	4 100

- (a) 編製葉氏企業 2011 年 12 月 31 日的財務狀況表。 (5 分)
- (b) 計算(至小數點後兩位)2011 年葉氏企業的毛利率。 (2 分)

綜合各章：會計循環

1. 2012.P1A.Q14

試為下列會計循環的工作排序。

- (1) 編製試算表
 - (2) 編製財務報表
 - (3) 在日記簿記錄交易
 - (4) 過帳至分類帳戶
- A. (3) → (4) → (2) → (1)
 - B. (3) → (4) → (1) → (2)
 - C. (4) → (3) → (2) → (1)
 - D. (4) → (3) → (1) → (2)

Part 1: 會計分錄及會計循環

Ch. 1 會計等式、基礎概念、複式記帳法

1. D
2. C

Ch.2 存貨處理

1. C

Ch.4 收益與費用、東主提用的處理

1. B
2. C

綜合第一至第四章

1. C
2. A
3. D
4. C
5. C
6. D

綜合第一至第四章 問答題

7. 2005.Q2(A): (a) – (c)

	影響	分錄		\$	
(a)	資產減少	½	借：資本 / 提用	130 000	½
	資本減少	½	貸：現金	50 000	½
			貸：汽車	80 000	½
(c)	資產增加	½	借：現金	3 000	½
	資本增加	½	借：應收帳款	3 400	½
			貸：銷貨	6 400	½

Ch.5 營業折扣及現金折扣

1. C
2. D

Ch.6 試算表

1. B

Ch.7 全面收益表 / 損益表 / 購銷損益帳

1. C
2. PPP1B.Q5(b)

		張先生 損益表 截至2011年12月31日止年度		
		\$	\$	
銷貨			188 000	½
減：銷貨退回			5 500	½
			<u>182 500</u>	
減：銷貨成本				
期貨初存		45 000		½
加：購貨		<u>92 100</u>		½
		137 100		
減：購貨退出		<u>4 400</u>		½
		132 700		
減：期末存貨		<u>38 000</u>	94 700	½
毛利			<u>87 800</u>	
減：費用				
薪金		31 000		½
租金及差餉		22 000		½
銷貨運費		1 900		½
銷貨折扣		<u>2 700</u>	57 600	½
淨利			<u>30 200</u>	½

3. A
4. C

Ch.8 財務狀況表 / 資產負債表

1. D 2. B 3. B 4. B 5. C 6. C

Ch.8 問答題

7.- 2012.P1B.Q5(a)

財務狀況表			
2011年12月31日		\$	\$
非流動資產			
辦公室設備		220 000	½
流動資產			
存貨	42 000		½
應收貨款	67 000		½
	109 000		
減：流動負債			
應付貨款	(26 300)		½
銀行透支	(17 600)		½
	65 100		
減：非流動負債			
來自心美公司的貸款	(38 000)		½
	247 100		
資金來源			
資本，2011年1月1日	231 000		½
加：純利	16 100		1
	247 100		

(表述：½ 分)
(5)

綜合各章：會計循環 問答題

2. 2005.Q2B

第二步：編製日記簿／日記分錄（原始記錄簿）

第三步：過入分類帳戶（分類帳記錄）

第五步：編製調整分錄（年終調整）

第八步：編製財務報表（決算帳戶）

綜合各章：會計循環

1. B

第二部分：會計信息系統、會計原則及概念、基礎比率分析

會計的功能

1. 2012.P1A.Q20

下列哪項是會計的功能？

- (1). 評估企業業績
- (2). 協助企業制定計劃
- (3). 增強企業競爭力

- A. 只有(1)、(2)
- B. 只有(1)、(3)
- C. 只有(2)、(3)
- D. (1)、(2)、(3)

2. 2013.P1A.Q30

下列哪項是會計的工作？

- (1) 為商業交易作分類和記錄
- (2) 為採購系統裝備保安措施
- (3) 為公司的銷售表現作週期性總結和匯報

- A. 只有(1)、(2)
- B. 只有(1)、(3)
- C. 只有(2)、(3)
- D. (1)、(2)、(3)

3. 2012.P1A.Q25

下列哪項為一家公司的財務報表對相關用家的用途？

用家	用途
(1). 管理人員	幫助重新調配公司資源
(2). 債務人	幫助評估公司還款能力
(3). 潛在投資者	幫助決定公司是否值得投資

- A. 只有(1)、(2)
- B. 只有(1)、(3)
- C. 只有(2)、(3)
- D. (1)、(2)、(3)

4. 2014.P1A.Q20

_____是財務報表的外部使用者，關注公司的變現能力和償債能力。

- A. 管理人員
- B. 顧客
- C. 競爭對手
- D. 貸款人

會計信息系統 問答題

5. PP.P1B.Q5(a)

列出兩項原因解釋為何企業須要編製財務報表。 (2分)

6. 2012.P1B.Q1

解釋使用財務報表的三項局限。 (6分)

Ch.9 會計原則及概念

1. SP.P1A.Q29

繼續經營概念是指在編製會計帳目時，假設公司在可見的未來會繼續營運，_____。

- A. 並不會停止貿易
- B. 並沒有清盤的意圖
- C. 但營運規模會比現時的顯著縮小
- D. 並沒有清盤的意圖，也不會顯著縮小運作規模

2. SP.P1A.Q30

陳先生為獨自經營的企業購入一部專門的機器，並以私人支票繳付購貨發票。機器按其原先成本\$3 000 000 記入資產負債表，若公司不繼續經營，它只可賣得\$800 000。

下列哪一個會計概念不適用於上述情況？

- A. 應計觀念
- B. 企業個體
- C. 繼續經營
- D. 歷史成本

3. PP.P1A.Q10

以下哪項會計概念不適用於右列的情況？

會計概念	情況
A. 歷史成本	資產市價不列示在財務狀況表。
B. 企業個體	東主及其家庭所使用的汽車不被記為商號的資產。
C. 一貫性	不同公司以相同的方法為同一類型交易作記錄。
D. 應計觀念	上年度預繳的費用記錄在本年度的財務報表內。

4. 2012.P1A.Q27

餐廳東主把與家人用膳的未付賬單一時記在公司費用帳內，一時記在私人費用帳內，這做法違反了下列哪項會計原則及慣例？

- A. 應計觀念
- B. 企業個體
- C. 一貫性
- D. 繼續經營

5. 2013.P1A.Q10

2012年1月1日，好運公司簽訂了一份為期兩年的辦公室租約，租期由2012年2月1日至2014年1月31日。同日，公司向業主支付了\$208 000，作為2012年2月至3月的租金和相等於兩個月的租金按金。在截至2012年12月31日止年度的損益表中，租金費用的金額是：

- A. 572 000
- B. 624 000
- C. 1 144 000
- D. 1 248 000

6. 2014.P1A.Q5

某商號一直把給予顧客的免費樣本開支記作促銷費用。東主在年底取了一些免費樣本自用，根據_____概念，這些免費樣本應作_____處理。

- A. 企業個體 促銷費用
- B. 企業個體 提用
- C. 一貫性 促銷費用
- D. 一貫性 提用

7. 2014.P1A.Q16

2013年12月30日，某商號購買一輛貨車，以支票支付\$150 000。貨車的定價是\$243 000，營業折扣則為\$15 000。2013年12月31日，其市值跌至\$200 000。該貨車在2013年12月31日的財務狀況表中應記錄為_____。

- A. \$150 000
- B. \$200 000
- C. \$228 000
- D. \$243 000

Ch.9 會計原則及概念 問答題

8. 2012.P1B.Q6(a)

白德獨資經營一家小型企業，沒有任何僱員。2012年2月他以\$48 000購得一項標價\$56 000的設備。其後，白德於2012年3月31日破產，並決定結束業務。同日，該項設備市值為\$38 000。

(a)該項設備於2012年3月31日的計價應為多少？試以一項適切的會計概念加以說明。(3分)

9. 2013.P1B.Q3

分別指出下列獨立個案所違反的會計原則或概念，並加以解釋。

(a) 某商號東主陳先生，以商號的支票購買了一條價值\$85 000的珍珠頸鏈送給妻子。簿記員將這項交易記錄如下： (3分)

	借\$	貸\$
雜費	85 000	
銀行存款		85 000

(b) 某商號東主李小姐以\$12 000購買一部筆記簿型電腦，供辦公室使用。她從零售商得知該部電腦當時的市價為\$14 000。簿記員將這項交易記錄如下： (3分)

	借\$	貸\$
辦公室設備	14 000	
銀行存款		12 000
購買辦公室設備盈利		2 000

Ch.10 基本比率分析

1. 根據下列資料回答 SP.P1A.Q27

SP.P1A.Q27

下列為半島公司截至20X6年12月31日止年度的資料：

	\$
應付帳款	5 000
應收帳款	6 000
銀行貸款 (20X7年12月償還)	11 500
資本, 20X5年12月31日	36 200
資本, 20X6年12月31日	44 200
現金	1 000
東主提用貨品	6 400
期末存貨	12 500
20X6年度注資	20 000
按揭貸款 (20Y1年償還)	60 000
本年度淨利	15 600
廠房及機器	80 000

SP.P1A.Q27

半島公司20X6年度的動用資本回報率是_____。

- A. 19.40%
- B. 35.29%
- C. 38.81%
- D. 43.09%

2.

根據下列資料，回答 PP.P1A.Q29

下列為李利有限公司 2011 年 12 月 31 日的帳戶結餘：

	\$
銷貨	20 000
購貨	8 000
銷貨折扣	400
購貨折扣	1 200
租金收入	1 600
電費	3 700
現金及銀行存款	3 000
應收帳款	2 900
應付帳款	4 000
辦公室設備	15 000
存貨 (2011 年 1 月 1 日)	3 500
資本 (2011 年 1 月 1 日)	?

2011 年 12 月 31 日的存貨值為 \$4200。

PP.P1A.Q29

李利有限公司 2011 年度的毛利率為：

- A. 42.5%
- B. 56.5%
- C. 60%
- D. 63.5%

根據以下資料，回答 2013.P1A.Q26 及 2013.P1A.Q27

	隆興行	發達行
營業額	\$45 000 000	\$52 000 000
毛利率	28%	25%
淨利率	19%	22%
流動比率	1.81 : 1	2.43 : 1
速動比率	0.75 : 1	1.65 : 1

3. 2013.P1A.Q26

與發達行相比，下列哪項對隆興行財務表現的評論是正確的？

隆興行的

- A. 毛利較高。
- B. 淨利較高。
- C. 銷貨成本較高。
- D. 營運費用較高。

4. 2013.P1A.Q27

與發達行相比，下列哪項對隆興行變現能力的評論是正確的？

隆興行

- A. 積壓於存貨的資金比例較高。
- B. 的變現能力較高。
- C. 有較多流動資產，以應付短期債務。
- D. 的流動負債較少。

5. 2014.P1A.Q9

2013 年 12 月 31 日，昆頓公司的流動負債為 \$60 000，流動比率為 3:1，速動比率則為 2:1，該日其存貨額是多少？

- A. \$60 000
- B. \$120 000
- C. \$180 000
- D. \$240 000

6. 2014.P1A.Q11

某企業的毛利率為 25%，試根據以下數據計算其銷貨額：

項目	\$
期初存貨	10 000
期末存貨	4 000
購貨	51 000
銷售費用	1 500

- A. \$69 375
- B. \$71 250
- C. \$74 000
- D. \$76 000

7. 2014.P1A.Q19

若只有損益表，可計算下列哪項會計比率？

- (1) 淨利率
 - (2) 速動比率
 - (3) 運用資金報酬率
- A. 只有(1)
 - B. 只有(2)
 - C. 只有(3)
 - D. 只有(1) 及 (3)

Ch.10 基本比率分析 問答題

8. S.P.P1B.Q6

陳先生是某家具生產及貿易企業的東主，家具主要是由香港自設的工場製造，亦有從數家深圳製造商購入。

以下為企業截至 20X6 年 12 月 31 日止年度的財務比率：

	企業	行業平均
銷售額	\$1 250 000	\$1 300 000
毛利率	38%	60%
淨利率	6%	42%
流動比率	2.8:1	2.3:1
速動比率	0.8:1	1.2:1

- (a) 提出兩個原因解釋為何陳先生企業的毛利率及淨利率均遠低於行業平均。 (4 分)
- (b) 評論陳先生的企業在 20X6 年度的變現能力。 (4 分)

9. P.P.P1B.Q2

琉璃有限公司及明珠有限公司是同一行業的競爭對手。

根據以下資料，評論 2011 年度琉璃有限公司的變現能力。 (6 分)

	琉璃有限公司	明珠有限公司	行業平均值
流動比率	2.8:1	2.0:1	1.9:1
速動比率	1.0:1	1.1:1	1.0:1

答案

MC1-4 A B B D

5. PP.P1B.Q5(a)

原因：

- 外部用家：如提供財務資料協助投資者作決定
 - 內部用家：如提供財務資料協助經理作財務計劃
 - 符合法例要求
- (每項適切的原因1分，最高2分)

6. 2012.P1B.Q1

限制：

- 資料大都是墨化的
 - 數據只與過往事件有關
 - 不同的會計方法及政策增加跨公司對比的難度
 - 忽視金錢的時間值，令用家難以為公司作跨年度的對比
- (每項相關的限制2分，最高6分)

Ch.9 會計原則及概念

MC 1-5 D A C B A

MC 6-7 B C

8. 2012.P1B.Q6(a)

- \$38 000
- 繼續經營概念
- 由於企業將不會繼續營運，資產應以市價，而非歷史成本計值

9. 2013.P1B.Q3

- (a)
- 企業個體觀念
 - 假設企業與東主分離
 - 東主的私人交易不應記入企業的帳冊
 - 簿記員應將這項目作為提用記入帳冊
- (每項適切的論點1分，最高3分)
- (b)
- 歷史成本原則
 - 資產應以購置或生產成本入帳
 - 毋需理會隨後的市價轉變
 - 簿記員應以筆記簿電腦的成本\$12 000 記帳
- (每項適切的論點1分，最高3分)

Ch.10 基本比率分析

MC1-5 C D D A A

MC6-7 D D

8. SP.P1B.Q6

(a)

原因：

- 售價偏低
 - 生產成本偏高
 - 營運成本高 / 未能有效控制營運成本
- (每項適切的原因2分，最高4分)

(b)

評論：

- 公司的變現能力較行業平均的為差
 - 公司沒有足夠的速動資產應付即時債務
 - 存貨太多，令大量資金積壓
- (每項適切的評論2分，最高4分)

9. PP.P1B.Q2

- 琉璃有限公司的流動比率較明珠有限公司的為高，反映其短期內清還欠款的能力較好。 1
- 琉璃有限公司的速動比率較明珠有限公司的為低，可見其即時清償欠款的能力較差。 1
- 可是，明珠有限公司的流動比率較接近行業平均值，琉璃有限公司較高的流動比率或許意味該公司未能善用其已有資源，捕捉投資機會。 2
- 此外，相對明珠有限公司，琉璃有限公司的速動比率與流動比率有明顯差異，反映該公司可能擁有過多存貨或其他預付項目。 2

總分：6 分

Part 3: 原始分錄簿

Ch.12 原始分錄簿及分類帳

1. 2012.P1A.Q28

下列哪項陳述並不正確？

- A. 購貨總額應過賬至應付帳款分類帳。
- B. 零用現金簿是原始分錄帳簿之一。
- C. 只有賒銷才會記入銷貨簿。
- D. 賒購非流動資產應記入普通日記簿。

2. 2010.AL.P1.Q5(c)

簡述什麼是「貸項通知單」和一家公司應在何時使用此份文件。(2分)

Ch.13 現金簿問答題

3. 2010.Q3 (Modified)

何珍妮獨資經營，以三欄現金簿記錄現金與銀行戶口的交易。2010年3月1日現金簿的餘額為現金\$38 900及銀行透支\$6240。在2010年3月何珍妮有下列交易事項：

- 3月2日 2010年2月25日將定價\$8000的貨品售予某顧客，折扣為10%。現該顧客以支票償還貨欠，獲現金折扣3%。
- 5日 將現銷所得款項，其中\$1000支付現金購貨，餘款\$4600則存入銀行。
- 11日 發出支票給予某供應商以償還貨欠\$3000，獲現金折扣5%。
- 16日 某客戶繳付現金\$19 600以償還貨欠，因提早還款，故獲現金折扣2%。
- 22日 以現金償還供應商的貨欠\$16 500。
- 29日 將客戶交來的支票\$27 800經自動櫃員機(ATM)存入銀行。
- 30日 以現金支付薪金\$14 000。
- 31日 將某客戶交來的支票\$3007存入銀行，該支票用作償還貨欠全數\$3100。

作業要求：

- (a) 編製2010年3月份的三欄現金簿。包括2010年3月31日所需更新
新的記錄。(12 9.5分)

4. 2013.P1B.Q5

戴先生是某獨自商號的東主，他以三欄現金簿記錄現金及銀行交易。2013年1月1日，現金簿的結餘為：現金\$12 680 和銀行透支\$30 980。此外，當日公司維持的定額零用現金額為\$2000。2013年1月有以下交易：

2013年

- 1月2日 收到客戶龍先生的支票，清付其帳戶\$150 000，現金折扣為 $2\frac{1}{2}\%$ 。支票已於同日存入銀行。
- 5日 以支票支付購買客貨車訂金20%，客貨車的成本為\$200 000。餘額在兩星期後客貨車送抵時交付。
- 7日 收到山丘公司支票\$190 000，作為工作所得的佣金。
- 14日 將銷貨所得現金\$8790直接存入銀行戶口。
- 17日 戴先生從錢箱提取\$3200，支付兒子的學費。
- 19日 以支票支付1月5日購置的客貨車餘額。
- 24日 以支票清付錦記的帳戶\$35 000，現金折扣為3%。
- 28日 從銀行提款\$9000存入錢箱，供商號之用。
- 30日 以現金\$10 000及支票\$20 000支付工資。
- 31日 零用現金的餘額為\$205，以現金補撥定額零用現金。

編製2013年1月份的三欄現金簿。

(8分)

Ch.15 普通日記簿

5. SP.P1A.Q20

對一家玩具貿易商來說，下列哪一項不應記入普通日記簿？

- A. 賒銷一張辦公桌
- B. 收到供應商的貸項通知書
- C. 以圖文傳真字機交換等值的影印機
- D. 某顧客的直接貸項轉賬錯誤貸記另一客戶帳，予以更正

6. 2013.P1A.Q3

下列哪項交易會記錄在普通日記簿內？

- A. 賒購貨品
- B. 顧客退回貨品
- C. 注入辦公室物業作為資本
- D. 東主提用現金作私人用途

Ch.12 原始分錄簿及分類帳

多項選擇題

1. 2012.P1A.MC28:	A
5. SP.P1A.MC20	B
6. 2013.P1A.Q3	C

2. 2010.AL.P1.Q5(c)

- 當賣方同意取回貨品並將已繳款項退回時，供應商會發給顧客一份貸項通知單。 1
- 貸項通知單記載供應商銷貨退回的詳盡資料，以通知有關客戶供應商會按照貸項通知單上的金額，在供應商的帳冊內貸記該顧客的帳戶。 1

(2)

3. 2010.Q3

(a)

		現金簿								
2010		折扣	現金	銀行	2010		折扣	現金	銀行	
3月		\$	\$	\$	3月		\$	\$	\$	
½	1	承上餘額	38 900		1	承上餘額			6 240	½
1½	2	應收帳款	216	6 984	5	購貨		1 000		½
½	5	銷貨	5 600		5	銀行存款		4 600		½
½	5	現金		4 600	11	應付帳款	150		2 850	1
1	16	應收帳款	400	19 600	22	應付帳款		16 500		½
½	29	應收帳款		27 800	30	薪金		14 000		½
1	31	應收帳款	93	3 007	31	銀行服務費			200	1
						(ii)				
					31	租金 (iv)			18 000	½
					31	應收帳款 (v)			4 100	1
					31	餘額轉下		28 000	11 001	½
		<u>709</u>	<u>64 100</u>	<u>42 391</u>			<u>150</u>	<u>64 100</u>	<u>42 391</u>	

(12)

餘額轉下：\$33 301

1. 2014.P1A.Q20

_____是財務報表的外部使用者，關注公司的變現能力和償債能力。

- A. 管理人員
- B. 顧客
- C. 競爭對手
- D. 貸款人

2. 2014.MC.Q29

李小姐以個人支票支付企業的電費。以下哪項是企業正確的複式記帳？

- | | | |
|----|----|------|
| | 借記 | 貸記 |
| A. | 提用 | 銀行存款 |
| B. | 提用 | 資本 |
| C. | 電費 | 銀行存款 |
| D. | 電費 | 資本 |

3. 2014.MC.Q10

如果試算表的借方結餘總和比貸方結餘總和大，這表示_____。

- A. 本年度有虧損
- B. 複式記帳有錯誤
- C. 沒有足夠資本以營運業務
- D. 資產總額比負債總額大

4. 2014.MC.Q18

購貨折扣增加對毛利和淨利有什麼影響？

- | | | |
|----|----|----|
| | 毛利 | 淨利 |
| A. | 不變 | 不變 |
| B. | 不變 | 上升 |
| C. | 上升 | 不變 |
| D. | 上升 | 上升 |

5. 2014.MC.Q26

如果某資產_____，這會在財務狀況表上歸類為流動資產。

- A. 在 12 個月前已經除賬購買
- B. 在過去 12 個月內以現金購買
- C. 將會在 12 個月內出售
- D. 將會使用超過 12 個月

6. 2014.MC.Q14

在會計循環中，繼原始分錄簿後的流程是甚麼？

- (1) 期末調整
 - (2) 財務報表
 - (3) 分類帳
 - (4) 試算表
- A. (1) → (2) → (3) → (4)
 - B. (2) → (3) → (4) → (1)
 - C. (3) → (4) → (1) → (2)
 - D. (4) → (3) → (1) → (2)

7. 2014.MC.Q16

2013 年 12 月 30 日，某商號購買一輛貨車，以支票支付\$150 000。貨車的定價是\$243 000，營業折扣則為\$15 000。2013 年 12 月 31 日，其市值跌至\$200 000。該貨車在 2013 年 12 月 31 日的財務狀況表中應記錄為_____。

- A. \$150 000
- B. \$200 000
- C. \$228 000
- D. \$243 000

8. 2014.MC.Q5

某商號一直把給予顧客的免費樣本開支記作促銷費用。東主在年底取了一些免費樣本自用，根據_____概念，這些免費樣本應作_____處理。

- A. 企業個體 促銷費用
- B. 企業個體 提用
- C. 一貫性 促銷費用
- D. 一貫性 提用

9. 2014.MC.Q19

若只有損益表，可計算下列哪項會計比率？

- (1) 淨利率
 - (2) 速動比率
 - (3) 運用資金報酬率
- A. 只有(1)
 - B. 只有(2)
 - C. 只有(3)
 - D. 只有(1) 及 (3)

10. 2014.MC.Q9

2013年12月31日，昆頓公司的流動負債為\$60 000，流動比率為3:1，速動比率則為2:1，該日其存貨額是多少？

- A. \$60 000
- B. \$120 000
- C. \$180 000
- D. \$240 000

11. 2014.MC.Q11

某企業的毛利率為25%，試根據以下數據計算其銷貨額：

項目	\$
期初存貨	10 000
期末存貨	4 000
購貨	51 000
銷售費用	1 500

- A. \$69 375
- B. \$71 250
- C. \$74 000
- D. \$76 000

12. 2015.MC.Q4

2014年10月，某商號有以下購貨及退貨：

- 10月2日 從余先生除購貨品 \$2500
- 9日 現購貨品 \$2000
- 17日 退回貨品 \$300 予余先生
- 26日 從呂小姐除購貨品 \$3200，如在30天內付款可享10%現金折扣

根據上述資料，2014年10月在購貨簿內記錄的購貨總額應是多少？

- A. \$5380
- B. \$5700
- C. \$7400
- D. \$7700

13. 2015.MC.Q7

編製試算表的主要目的是什麼？

- (1) 記錄企業的日常工作
 - (2) 反映企業的財務表現
 - (3) 檢視簿記帳的算術準確度
- A. 只有(1)
 - B. 只有(3)
 - C. 只有(1)及(2)
 - D. 只有(2)及(3)

14. 2015.MC.Q10

下列哪項不是虛帳戶？

- A. 薪金帳
- B. 購貨帳
- C. 銷貨退回帳
- D. 銀行存款帳

15. 2015.MC.Q14

某商號除銷貨品予一客戶。下列哪項是這交易對其財務狀況表的影響？

	總流動資產	總流動負債
A.	減少	增加
B.	減少	減少
C.	增加	不變
D.	不變	不變

16. 2015.MC.Q15

投資者會用財務報表提供的會計資訊來評估_____。

- (1) 企業是否值得投資
- (2) 企業的組織結構是否恰當
- (3) 企業是否具足夠資本推行其計劃

- A. 只有(1)及(2)
- B. 只有(1)及(3)
- C. 只有(2)及(3)
- D. (1)、(2)及(3)

17. 2015.MC.Q18

下列哪些有關給予客戶現金折扣的描述是正確的？

- (1) 它們是費用。
- (2) 它們必須記錄在帳冊內。
- (3) 它們用來吸引客戶以現金購貨。

- A. 只有(1)及(2)
- B. 只有(1)及(3)
- C. 只有(2)及(3)
- D. (1)、(2)及(3)

18. 2015.MC.Q23

2014年1月1日，馬莉成立一商號。她以自己的現金\$300 000存入商號的銀行戶口，並為商號注入她的貨車，成本為\$80 000。此外，商號又從馬莉的朋友借入\$40 000，用以購買貨物。截至2014年12月31日止年度，商號總收入和總支出分別為\$120 000和\$45 000。

2014年12月31日馬莉的資本是多少？

- A. \$305 000
- B. \$335 000
- C. \$455 000
- D. \$485 000

19. 2015.MC.Q25

以下哪些複式記帳是正確的？

	交易	借記帳戶
(1)	以現金購置辦公室的文件櫃	購貨
(2)	東主為商號注入現金	現金
(3)	債務人以支票償還債務	銀行存款

- A. 只有(1)及(2)
- B. 只有(1)及(3)
- C. 只有(2)及(3)
- D. (1)、(2)及(3)

根據以下資料，回答第29及30題：

李穎於2014年1月1日成立其商號。截至2014年12月31日止年度，這商號的銷貨及購貨分別為\$540 000和\$230 000。2014年的毛利率為60%，而淨利率則為35%。

20. 2015.MC.Q29

商號2014年12月31日的存貨是多少？

- A. \$10 000
- B. \$12 000
- C. \$14 000
- D. \$18 000

21. 2015.MC.Q30

商號2014年度的費用是多少？

- A. \$135 000
- B. \$189 000
- C. \$216 000
- D. \$324 000

22. 2016.MC.Q5

心美是瑪莉商號的客戶，信貸紀錄良好。截至2015年12月31日止年度，瑪莉賒購貨物\$8000予心美。心美於2016年1月償清該項貨欠。根據(1)，瑪莉應記錄這項交易為(2)年度的銷貨。

	(1)	(2)
A.	應計觀念	2015
B.	應計觀念	2016
C.	繼續經營假設	2015
D.	繼續經營假設	2016

23. 2016.MC.Q11

下列哪個帳戶的結餘必定在試算表的借方？

- (1) 銀行手續費
- (2) 銀行貸款
- (3) 銀行存款

- A. 只有(1)
- B. 只有(2)
- C. 只有(1)及(3)
- D. 只有(2)及(3)

24. 2016.MC.Q12

下列哪項會影響銷貨成本計算？

- A. 辦公室的租金費用
- B. 運送貨物予顧客的運費
- C. 因大量購貨，供應商給予的折扣
- D. 因提早還款，供應商給予的折扣

25. 2016.MC.Q13

下列哪項有關非流動資產的陳述是正確的？

- A. 它們的購買成本超過\$100 000。
- B. 它們是用於企業運作。
- C. 它們的結餘會在損益表顯示。
- D. 應收貨款是非流動資產。

26. 2016.MC.Q18

下列哪項複式記帳是正確的？

交易	借方帳戶	貸方帳戶
(1) 退貨予供應商	購貨	購貨退出
(2) 將現金存入銀行戶口	銀行存款	現金
(3) 除銷貨品予顧客	應收貨款	銷貨

A. 只有(1) 和 (2)
B. 只有(1) 和 (3)
C. 只有(2) 和 (3)
D. (1)、(2) 和 (3)

27. 2016.MC.Q21

下列哪項應在有關帳戶的貸方入帳？

帳戶	帳戶
(1) 資本減少	資本
(2) 應付貨款增加	應付貨款
(3) 銀行存款減少	銀行存款

- A. 只有(1) 和 (2)
B. 只有(1) 和 (3)
C. 只有(2) 和 (3)
D. (1)、(2) 和 (3)

28. 2016.MC.Q23

2015年1月1日，李先生成立一家商號，投入現金\$100 000。同日，商號向銀行貸款\$200 000。該年年終，商號的總資產和總負債分別為\$980 000和\$560 000。該年度內，李先生每月定期提用現金\$5000。

該商號 2015 年度的淨利是多少？

- A. \$180 000
B. \$260 000
C. \$325 000
D. \$380 000

29. 2016.MC.Q26

下列哪項不是公司財務報表對相關用家的主要用途？

用家	主要用途
A. 管理人員	制定公司發展策略
B. 僱員	評估薪金水平和職業保障
C. 政府	評估公司償還稅款的能力
D. 購貨債權人	決定是否除銷貨物予公司

30 - 31 根據以下資料，回答第 30 及 31 題:

下列 2015 年 12 月 31 日的會計帳戶結餘是從一家商號的帳冊內摘取：

	借方	貸方
	\$	\$
購貨	75 000	
銷貨退回和購貨退出	5 000	3 000
銷貨折扣和購貨折扣	3 500	2 000
存貨，2015 年 1 月 1 日	15 000	
電費	10 000	
工資與薪金	36 500	

30. 2016.MC.Q29

如果 2015 年 12 月 31 日的存貨是\$27 000，截止 2015 年 12 月 31 日止年度的銷貨成本是多少？

- A. \$54 500
B. \$58 000
C. \$60 000
D. \$63 000

31. 2016.MC.Q30

如果截止 2015 年 12 月 31 日止年度的淨利是\$9000，該年度的毛利是多少？

- A. \$59 000
B. \$57 000
C. \$54 000
D. \$53 500

32. 2017.MC.Q2

假設一個試算表沒有遺漏帳戶結餘，而試算表的借方結餘總和與貸方結餘總和不相等，這表示

- (1) 試算表內有一項或多項帳戶結餘出錯
(2) 財務狀況表將不會平衡
(3) 損益表內的淨利將會是錯誤的

- A. 只有 (1) 及 (2)
B. 只有 (1) 及 (3)
C. 只有 (2) 及 (3)
D. (1)、(2) 及 (3)

33. 2017.MC.Q5

在會計循環中，下列哪個步驟緊隨編製試算表之後？

- A. 編製財務報表
- B. 作出期末調整
- C. 過帳至分類帳
- D. 於原始分錄簿記錄交易

34. 2017.MC.Q9

如一帳戶有借方結餘，下列哪項有關這帳戶的陳述是正確的？

- A. 帳戶借方入帳的總額，較貸方入帳的總額高。
- B. 結餘轉下在帳戶的借方出現。
- C. 承上結餘在帳戶的右方出現。
- D. 這帳戶是資產帳戶。

35. 2017.MC.Q12

陳記和葉記是經營同一行業的貿易商號，他們 2016 年的毛利率和淨利率如下：

	陳記	葉記
毛利率	39%	45%
淨利率	24%	20%

根據以上比率，可以得出下列哪項結論？

- A. 葉記的銷售額較高。
- B. 葉記的銷貨成本較高。
- C. 陳記的淨利較高。
- D. 陳記控制營運費用的表現較佳。

36. 2017.MC.Q15

下列哪項不是財務報表的用途？

- A. 協助不同用家作決策
- B. 提供有關企業財政狀況的資訊
- C. 為員工提供資訊，以評估其工作保障
- D. 提供有關企業表現的質性資訊

37. 2017.MC.Q19

黃先生於 2017 年 1 月 1 日成立其商號。他將自己擁有、價值 \$40 000 的汽車注入商號。商號向黃先生的親戚借入 \$200 000，用作購買辦公室設備，並向銀行借入 \$100 000 供營運之用。

商號於 2017 年 1 月 1 日的資產、負債及資本額是多少？

	資產	負債	資本
	\$	\$	\$
A.	240 000	200 000	40 000
B.	40 000	300 000	340 000
C.	340 000	100 000	240 000
D.	340 000	300 000	40 000

根據以下資料，回答第 2017.MC.Q21 及 2017.MC.Q22:

2016 年 12 月 31 日，王氏商號的資產和負債如下：

	\$
非流動資產	280 000
銀行存款	18 000
現金	58 000
存貨	71 000
應付貸款	86 000
應收貸款	162 000
長期銀行貸款	120 000

38. 2017.MC.Q21

王氏商號 2016 年的速動比率是多少？

- A. 1.16 : 1
- B. 2.77 : 1
- C. 3.59 : 1
- D. 6.02 : 1

39. 2017.MC.Q22

王氏商號於 2016 年 12 月 31 日的營運資金是多少？

- A. \$103 000
- B. \$152 000
- C. \$223 000
- D. \$503 000

40. 2017.MC.Q25

下列哪項有關會計假設、原則及慣例的描述是正確的？

- A. 歷史成本：所有企業交易都應記錄於帳冊內
- B. 企業個體：獨資東主可將其個人開支記錄於企業帳冊內
- C. 一貫性：會計政策和方法一經採用，便不能更改
- D. 繼續經營：企業會在可見的未來持續營運

41. 2017.MC.Q28

下列哪項複式記帳是正確的？

交易	借方帳戶	貸方帳戶
(1) 以支票結清貨欠	應付貨款	銀行存款
(2) 除銷商號的辦公室傢具	應收貨款	銷貨
(3) 以現金支付送貨予客戶的運費	銷貨運費	現金

- A. 只有 (1)
- B. 只有 (1) 及 (3)
- C. 只有 (2) 及 (3)
- D. (1)、(2) 及 (3)

42. 2017.MC.Q29

下列哪項有關會計比率的陳述是正確的？

- (1) 它們是用來評估企業的財務業績。
- (2) 「銷貨」是計算所有盈利能力比率的分母。
- (3) 一家企業的酸性測驗比率較其流動比率為高。

- A. 只有 (1)
- B. 只有 (1) 及 (2)
- C. 只有 (1) 及 (3)
- D. 只有 (2) 及 (3)

43. 2018.MC.Q2

下列哪個帳戶必定在試算表出現借方結餘？

- A. 租金收益
- B. 購貨退出
- C. 購貨折扣
- D. 貸款予員工

44. 2018.MC.Q4

下列哪項複式記帳是正確的？

交易	借記帳戶	貸記帳戶
(1) 收到銀行存款利息	利息收益	銀行存款
(2) 除購辦公室用的文具	文具費用	應付帳款
(3) 東主引入他的汽車供商號使用	汽車	提用

- A. 只有 (1)
- B. 只有 (2)
- C. 只有 (2) 及 (3)
- D. (1)、(2) 及 (3)

45. 2018.MC.Q6

下列哪項應記作商號的費用？

- (1) 以現金支付商號兼職工人的工資
- (2) 以商號支票支付東主私人住宅的保險費
- (3) 以東主個人支票支付商號貨倉的租金

- A. 只有 (1) 及 (2)
- B. 只有 (1) 及 (3)
- C. 只有 (2) 及 (3)
- D. (1)、(2) 及 (3)

46. 2018.MC.Q8

下列哪項應貸記商號的購貨帳？

- (1) 東主提取貨物自用
- (2) 退回貨物予供應商
- (3) 捐贈貨物予非牟利機構

- A. 只有 (1)
- B. 只有 (1) 及 (3)
- C. 只有 (2) 及 (3)
- D. (1)、(2) 及 (3)

47. 2018.MC.Q10

下列哪個是實帳戶的例子?

- (1) 銷貨帳
 - (2) 銀行貸款帳
 - (3) 設備帳
- A. 只有 (1)
 B. 只有 (2)
 C. 只有 (3)
 D. 只有 (2) 及(3)

48. 2018.MC.Q12

2018年3月1日,一商號的銀行存款帳和現金帳分別有借方結餘\$15 000和 \$12 000。商號該月現銷\$13 000,其中\$5 000保留於夾萬內。其餘現銷金額則在月底前存入銀行。該月以現金支付費用\$9 000和以支票購買設備\$26 000。

2018年3月31日,銀行存款帳有_____。

- A. 貸方結餘 \$3 000
- B. 貸方結餘 \$6 000
- C. 借方結餘 \$5 000
- D. 借方結餘 \$8 000

49. 2018.MC.Q17

列是有關陳先生商號 2017 年度的資料:

	\$
資本, 2017年1月1日	443 800
資本, 2017年12月31日	425 000
2017年度總收益	97 000
2017年度總費用	108 500

根據以上資料,陳先生於 2017 年度內_____。

- A. 從商號提用 \$7 300
- B. 從商號提用 \$30 300
- C. 注資商號 \$7 300
- D. 注資商號 \$30 300

50. 2018.MC.Q20

下列哪項會增加一家貿易商號的毛利?

- A. 購貨退出減少
- B. 銷貨運費減少
- C. 供應商提高交易折扣
- D. 供應商提高現金折扣

51. 2018.MC.Q21

明記和陳記是同一行業的貿易商號。他們 2017 年度的財務資料如下:

	明記	陳記
流動資產	\$900 000	\$600 000
流動比率	6:1	2.5:1
酸性測驗比率	2:1	1.5:1

根據以上資料,明記_____。

- (1) 的流動負債較少
- (2) 應付短期負債的能力較高
- (3) 的存貨較少

- A. 只有 (1) 及 (2)
- B. 只有 (1) 及 (3)
- C. 只有 (2) 及 (3)
- D. (1)、(2) 及 (3)

52. 2018.MC.Q23

下列哪項不是會計的功能?

- A. 歸納企業交易
- B. 監控會計人員的表現
- C. 向不同持份者傳遞企業表現資訊
- D. 把企業交易分類

53. 2018.MC.Q29

下列哪項有關損益表的陳述是不正確的？

- A. 資料大多是量化的
- B. 資料主要反映過去事項
- C. 其編製需要專業判斷
- D. 其編製只根據現金收入和現金支出

54. 2019.MC.Q2

根據會計假設、原則及慣例，下列哪項會計處理是正確的？

- A. 某獨資東主將其個人的租金費用記錄在商號的帳冊內。
- B. 陳先生擁有三家商號，他為每家商號保存個別的會計記錄。
- C. 如果預期企業將於下月停止營運，所有資產均按現時市場價格計值。
- D. 除非新方法可以帶來更高利潤，否則已採用的會計方法就不應改變。

55. 2019.MC.Q4

以下帳戶摘錄自李氏商號的帳冊：

		區先生			
2018		\$	2018		\$
10月14日	現金	22 000	10月1日	承上結餘	10 000
10月31日	結餘轉下	44 000	10月5日	購貨	56 000
		<u>66 000</u>			<u>66 000</u>

根據以上帳戶的資料，下列哪項陳述是不正確的？

- A. 2018年10月1日李氏商號欠區先生\$10 000。
- B. 2018年10月5日區先生向李氏商號除銷貨品\$56 000。
- C. 2018年10月14日李氏商號從區先生收到現金\$22 000。
- D. 2018年10月31日這帳戶有貸方結餘。

56. 2019.MC.Q6

某商號購買一套定價\$200 000的設備。東主以私人支票支付\$50 000，餘額將於稍後清還。下列哪項是這交易對會計等式的影響？

- | | 資產 | 資本 | 負債 |
|----|----|----|----|
| A. | 增加 | 增加 | 減少 |
| B. | 增加 | 增加 | 增加 |
| C. | 增加 | 減少 | 增加 |
| D. | 減少 | 不變 | 減少 |

57. 2019.MC.Q10

2018年12月31日某商號的速動比率為0.8:1。同日，商號有帳戶結餘如下：

	\$
存貨	6 000
銀行貸款 (2019年4月到期)	10 000
現金	30 000
應付貨款	50 000

根據以上資料，計算2018年12月31日應收貨款的數額。

- A. \$4 000
- B. \$10 000
- C. \$12 000
- D. \$18 000

58. 2019.MC.Q12

下列哪項會減少企業的流動負債總額？

- (1) 將一些尚未付款的貨品退回供應商。
- (2) 使用銀行透支服務以償還應付貨款。
- (3) 借入一筆為期三年的銀行貸款，以償還一筆為期六個月的貸款。

- A. 只有 (1) 及 (2)
- B. 只有 (1) 及 (3)
- C. 只有 (2) 及 (3)
- D. (1)、(2) 及 (3)

59. 2019.MC.Q14

對一家銷售辦公室設備的獨資商號來說，下列哪項有關它的財務狀況表的陳述是正確的？

- A. 待售的辦公室設備應分類為流動資產。
- B. 這報表顯示本年度交易的詳細資料。
- C. 這報表顯示該商號的虛帳戶和實帳戶結餘。
- D. 營運資金是非流動資產與非流動負債的差額。

60. 2019.MC.Q16

某商號於 2018 年 1 月成立。2018 年 12 月 31 日摘錄自商號帳冊的帳戶結餘如下：

	\$
銷貨	154 000
購貨	51 000
銷貨運費	2 500
購貨運費	4 700
薪金	31 000

2018 年 12 月 31 日的存貨為 \$7 200。截至 2018 年 12 月 31 日止年度的毛利為_____。

- A. \$72 000
 B. \$105 500
 C. \$107 700
 D. \$114 900

61. 2019.MC.Q19

下列哪項複式記帳是正確的？

- | | 交易 | 借記帳戶 | 貸記帳戶 |
|-----|----------------|------|------|
| (1) | 賒帳客戶將貨品退回商號。 | 銷貨 | 應收貨款 |
| (2) | 以支票清付銀行貸款。 | 銀行貸款 | 銀行存款 |
| (3) | 收到多付汽車費用的現金退款。 | 現金 | 汽車費用 |

- A. 只有 (1) 及 (2)
 B. 只有 (1) 及 (3)
 C. 只有 (2) 及 (3)
 D. (1)、(2) 及 (3)

62. 2019.MC.Q23

會計循環中，在過帳至分類帳帳戶之後，下一個步驟是_____。

- A. 編製財務報表
 B. 把交易記錄在原始分錄帳簿
 C. 編製試算表
 D. 作出期末調整

63. 2019.MC.Q25

下列哪項不是財務報表對相關用家的主要用途？

	用家	主要用途
A.	僱員	評估公司的前景
B.	管理人員	評估公司的財務表現
C.	政府	評估公司的應繳利得稅額
D.	顧客	評估公司的變現能力

64. 2019.MC.Q28

2018 年 12 月 31 日一家商號的試算表有帳戶結餘如下：

	\$
購貨	74 000
存貨，2018 年 1 月 1 日	6 200
銀行存款	121 500
銀行貸款	36 700
辦公室設備	15 000
銷貨	123 000
營業費用	28 000
提用	14 700
資本，2018 年 1 月 1 日	?

商號 2018 年 1 月 1 日的資本是_____。

- A. \$43 700
 B. \$70 300
 C. \$99 700
 D. \$197 700

65. 2020.MC.Q3

下列哪項描述會計的「借」與「貸」是正確的？

- (1) 「借」記是增加帳戶的金額，「貸」記是減少帳戶的金額
 (2) 「借」方指帳戶的左方，「貸」方指帳戶的右方。
 (3) 「借」方結餘是正數；「貸」方結餘是負數。

- A. 只有 (1)
 B. 只有 (2)
 C. 只有 (1) 及 (2)
 D. 只有 (2) 及 (3)

66. 2020.MC.Q5

下列哪項交易對資產、資本和負債的影響是正確的?

交易	資產	資本	負債
A. 東主把他的汽車注入商號。	增加	增加	增加
B. 收取客戶現金，結清其帳戶。	增加	不變	減少
C. 東主以其私人支票為商號償還銀行貸款。	不變	增加	減少
D. 以現金支付商號本月的租金。	減少	不變	減少

67. 2020.MC.Q9

一家商號的流動比率是 1.8:1，酸性測驗比率是 0.9:1。下列哪項陳述是正確的?

- A. 商號的營運資金金額是負數。
- B. 商號一半的流動資產是存貨。
- C. 商號的變現能力和盈利能力差劣。
- D. 商號有足夠的速動資產清償流動負債。

68. 2020.MC.Q11

下列哪項是使用財務報表的局限?

- (1) 財務報表主要記錄過去的交易。
- (2) 由於財務報表一般會以市值匯報資產的價值，而市值會隨時間波動，因此很難比較商號不同年度的表現。
- (3) 由於不同商號會採用不同的會計方法，因此很難比較同一行業不同商號的表現。

- A. 只有 (1)
- B. 只有 (2)
- C. 只有 (1) 及 (3)
- D. (1)、(2) 及 (3)

69. 2020.MC.Q13

下列哪項有關會計循環流程的描述是正確的?

- (1) 過帳至分類帳後，隨即作期末調整。
- (2) 編製試算表後，隨即編製財務報表。
- (3) 確認商業交易後，隨即記錄在原始分錄簿。

- A. 只有 (1)
- B. 只有 (3)
- C. 只有 (1) 及 (2)
- D. 只有 (2) 及 (3)

70. 2020.MC.Q14

一家貿易商號賺取利息收益 \$8 000，這對商號該年度的毛利和淨利有什麼影響?

	毛利	淨利
A.	不變	增加
B.	增加	不變
C.	不變	不變
D.	增加	增加

71. 2020.MC.Q18

下列哪項交易應記錄在超級市場的購貨帳?

- (1) 購買冰箱貯存雪糕
- (2) 東主從貨倉取去一些罐頭食品供家庭享用
- (3) 因大量採購貨品而獲得供應商給予折扣

- A. 只有 (1)
- B. 只有 (2)
- C. 只有 (2) 及 (3)
- D. (1)、(2) 及 (3)

72. 2020.MC.Q20

陳輝是兩家商號的東主。為方便起見，他把兩家商號的所有購貨記入同意帳冊內。這個案違反了下列哪項會計假設、原則或慣例?

- A. 應計觀念
- B. 歷史成本
- C. 繼續經營
- D. 企業個體

73. 2020.MC.Q23

2019年12月31日，一家商號的帳戶結餘摘錄如下：

	\$
存貨	17 500
銀行存款	27 000
應付貨款	30 800
應收貨款	16 400
借給僱員的短期貸款	8 000
銀行貸款 (於2022年到期)	13 000

商號的速動比率是多少？

- A. 1.12:1
B. 1.57:1
C. 1.67:1
D. 2.24:1

74. 2020.MC.Q30

4月8日，天明向華順除購貨品\$60 000，可享交易折扣2%；如十日內清還貨欠，天明可另享折扣3%。如果天明於4月21日清還貨欠，他須償還_____。

- A. \$57 036
B. \$58 200
C. \$58 800
D. \$60 000

75. 2021.MC.Q6

2021年2月1日，李先生成立一家售賣電腦的零售商號。同日，該商號從供應商除購十台電腦，每台成本\$4 500。在2月，這商號把兩台損壞的電腦退回供應商，並售出三台電腦，每台售價\$7 000。

2021年2月28日，該商號購貨帳的結餘是多少？

- A. \$22 500
B. \$31 500
C. \$36 000
D. \$45 000

76. 2021.MC.Q9

2020年12月31日，李氏商號的所有帳戶結餘列示如下：

	\$
應收帳款	55 000
銀行透支	2 500
存貨	21 200
貸款予陳先生	18 000
現金	23 000
應付帳款	42 300
設備	121 000
資本	?

2020年12月31日資本帳的結餘是多少？

- A. \$157 400
B. \$162 400
C. \$193 400
D. \$198 400

77. 2021.MC.Q11

下列哪項會減少商號的毛利？

- (1) 提用貨品
(2) 購貨運費增加
(3) 電費增加

- A. 只有 (1)
B. 只有 (2)
C. 只有 (3)
D. 只有 (1) 及 (2)

78. 2021.MC.Q13

下列哪項有關試算表的陳述是正確的？

- (1) 如試算表平衡，帳戶結餘沒有錯誤。
- (2) 試算表顯示商號所有帳戶的結餘。
- (3) 如帳戶的借方總額較貸方總額少，這帳戶的結餘會顯示在試算表的貸方列。

- A. 只有 (1)
- B. 只有 (2)
- C. 只有 (1) 及 (3)
- D. 只有 (2) 及 (3)

79. 2021.MC.Q15

下列哪項有關財務狀況表的陳述是正確的？

- (1) 它顯示商號的變現能力。
- (2) 非流動資產按其總額由大至小排列。
- (3) 它顯示商號某段時間的財務狀況。

- A. 只有 (1)
- B. 只有 (2)
- C. 只有 (1) 及 (2)
- D. 只有 (2) 及 (3)

80. 2021.MC.Q18

2020年12月31日，新輝公司決定於三個月後結束營業。同日，它的非流動資產記錄為\$3 800 000，而其清算值則為\$2 098 000。

根據_____，新輝公司2020年12月31日的財務狀況表中，非流動資產的計值應為_____。

- | | | | |
|----|--------|-------|-------------|
| A. | 繼續經營假設 | | \$2 098 000 |
| B. | 繼續經營假設 | | \$3 800 000 |
| C. | 歷史成本概念 | | \$2 098 000 |
| D. | 歷史成本概念 | | \$3 800 000 |

81. 2021.MC.Q22

截至2020年12月31日止年度，順記和錦記的資料列示如下：

	順記	錦記
	\$000'	\$000'
銷貨	8 800	15 000
銷貨成本	2 400	2 600
營業費用	2 800	9 800

按照上述資料，下列哪項陳述是正確的？

- A. 錦記的毛利較低。
- B. 錦記的運用資金報酬率較高。
- C. 錦記在控制營業費用的表現較佳。
- D. 錦記的淨利率較低。

82. 2021.MC.Q26

下列哪項複式記帳是正確的？

	交易	借記帳戶	貸記帳戶
(1)	以支票向銀光公司購置一輛汽車	汽車	銀光公司
(2)	從梁先生收取佣金支票	銀行存款	佣金收益
(3)	東主以其個人支票支付商號的租金費用	租金費用	資本

- A. 只有 (1)
- B. 只有 (2)
- C. 只有 (2) 及 (3)
- D. (1)、(2) 及 (3)

83. 2021.MC.Q29

下列哪項是實帳戶的例子？

- A. 購貨帳
- B. 應收貨款帳
- C. 銷貨折扣帳
- D. 電費帳

1. 2014.Q.3

(a) 湯尼是一家玩具貿易企業的獨資擁有人。下列是湯尼企業的交易，分別指出用作記錄各項交易的原始分錄簿：

- (i) 除銷玩具予顧客
 (ii) 收到有關玩具退貨的貸項通知書
 (iii) 以自動轉賬方式支付辦公室文員的薪金 (3 分)

(b) 從記錄 (a)項交易的帳戶中，試為下列帳戶分類各舉一例：

- (i) 實帳戶
 (ii) 虛帳戶 (2 分)

2. 2014.Q.5(a)

米基銷售進口餐具有餐館，2013 年 12 月 31 日的帳冊有以下結餘：

	\$
應付帳款	15 000
應收帳款	27 000
銀行貸款 (2015 年 3 月到期償還)	22 000
銀行透支	11 000
資本，2013 年 1 月 1 日	?
家具及裝置	63 000
存貨	7 000
本年度淨利	3 800
租金按金	20 000

- (a) 為米基編製 2013 年 12 月 31 日的財務狀況表。 (5 分)

3. 2014.Q.6(a)

陽光百貨截至 2013 年 12 月 31 日止年度的財務資料如下：

	\$
購貨運費	9 000
存貨，2013 年 1 月 1 日	80 000
存貨，2013 年 12 月 31 日	60 000
購貨	120 000
租金與差餉	48 000
銷貨退回	2 000
銷貨	268 000
雜費	30 000

- (a) 為陽光百貨編製截至 2013 年 12 月 31 日止年度的損益表。 (5 分)

4. 2015.Q2

- (a) 解釋會計的一致性原則。 (2 分)
 (b) 某商號購買了一輛貨車作商業用途，商號從銀行帳戶提取 \$175 000 支付車價。貨車的定價為 \$200 000，賣家給予 \$25 000 折扣。 (3 分)
 指出在商號帳冊內應為該貨車記入的數額，並以一項相關的會計原則或概念解釋你的答案。

5. 2015.Q4(a)

白德是一家成衣商號的獨資東主，2014 年 12 月 31 日，商號有以下結餘：

	\$
銀行貸款(須於 2015 年 9 月償還)	430 000
資本，2014 年 1 月 1 日	?
銀行存款	398 000
定期存款(6 個月)	180 000
存貨	210 000
汽車	986 000
本年度淨利	82 000
應付貨款	383 000
應收貨款	320 000

- (a) 試為白德的商號編製 2014 年 12 月 31 日的財務狀況表。 (5 分)

6. 2015.Q5(a)

張漢在 2014 年 1 月 1 日創立一獨資貿易商號。截至 2014 年 12 月 31 日止年度，商號的財務資料如下：

	\$
購貨運費	25 500
銷貨運費	23 600
存貨，2014 年 12 月 31 日	88 000
購貨	227 500
租金費用	128 000
購貨退出	9 230
銷貨	492 000
薪金	120 000

- (a) 試為張漢的商號編製截至 2014 年 12 月 31 日止年度的損益表。 (5 分)

7. 2016.Q1

安兒經營一家出售單車的店舖。一天，安兒取了店中其中一輛單車回家給她的兒子使用，該單車的成
 本和售價分別為 \$500 及 \$980。

- (a) 編製日記分錄記錄上述事項，毋須分錄說明。 (2 分)
 (b) 試以一項相關的會計原則或概念，解釋為何要在上述(a)項的帳戶入帳。 (3 分)

Q8 & Q9 - 2016.Q4 / Q5

子山經營一家小型超級市場，其 2015 年度財務報表如下：

損益表

截至 2015 年 12 月 31 日止年度

	\$
銷貨	100 000
減：銷貨成本	60 000
毛利	40 000
減：雜費	30 000
淨利	<u>10 000</u>

財務狀況表
2015 年 12 月 31 日

	\$	\$
非流動資產		20 000
流動資產		
存貨	34 000	
現金	6 000	
	<u>40 000</u>	
減：非流動負債		
應付貨款	30 000	10 000
		<u>30 000</u>
資本，2015 年 1 月 1 日		37 000
加：淨利		10 000
		<u>47 000</u>
減：提用		17 000
		<u>30 000</u>

8. 2016.Q4(a)(b)

根據以上資料，

(a) 試為子山的超級市場計算(至小數點後兩位) 2015 年度的下列比率：

- (i) 毛利率
- (ii) 淨利率
- (iii) 運用資金報酬率

(3 分)

(b) 文記是同區另一家小型超級市場，其 2015 年度的毛利率和淨利率分別是 35% 和 15%。與文記比較，簡單評論子山的超級市場 2015 年度的盈利能力。

(2 分)

9. 2016.Q5(a)(b)

根據以上資料，

(a) 試為子山的超級市場計算(至小數點後兩位) 2015 年度的下列各項：

- (i) 營運資金
- (ii) 流動比率
- (iii) 速動比率

(3 分)

(b) 簡單評論子山的超級市場在 2015 年 12 月 31 日的變現能力。

(2 分)

10. 2017.Q3(d)

乙公司的財務年終為 12 月 31 日。2017 年 1 月 4 日，乙公司收到一張 2016 年 12 月份的電費單，費用為 \$9500，公司於 2017 年 1 月 29 日繳清。

(d) 試以一項相關的會計原則或概念，解釋電費 \$9500 應記錄為哪年的費用。

(3 分)

Q11 & Q12: 2017.Q4(a) & 2017.Q5(a)

莊先生於 2016 年 1 月 1 日開設商號，銷售雜貨及家居用品，並僱用了三名員工經營業務。2016 年 12 月 31 日，商號的帳冊有以下結餘：

	\$
資本，2016 年 1 月 1 日	240 000
銀行透支	173 400
傢具	204 000
銷貨	796 200
購貨	500 400
銷貨退回	1 800
購貨退出	1 500
購貨折扣	2 100
營運費用	507 000

11. 2017.Q4(a)

根據以上資料，試為莊先生的商號編製 2016 年 12 月 31 日的試算表。

(5 分)

12. 2017.Q5(a)

2016 年 12 月 31 日的存貨計值為 \$195 000。

根據以上資料，試為莊先生的商號編製截至 2016 年 12 月 31 日止年度的損益表。

(5 分)

13. 2018.Q3(b)

大名有限公司是一家上市公司，經營百貨業務，於本港設有五家規模相若的分店。過去幾年，大名有限公司表現欠佳。2018年2月，公司因無法償還債務，需於六個月內清盤。因此，2018年3月31日的財務報表沒有按繼續經營假設編製。

(b) 解釋繼續經營假設。在2018年3月31日，大名有限公司的非流動資產應如何計值？ (2分)

14. 2018.Q4(a)

2017年1月1日文迪開立一獨資商號，設計及出售電腦軟件，2017年12月31日，從商號帳冊摘錄結餘如下：

	\$
應收貨款	13 000
汽車	48 000
銀行貸款 (2018年7月到期)	30 000
銷貨	220 000
應付貨款	8 000
購貨	98 000
設備	166 000
營業費用	105 600
銀行存款	16 000
資本，2017年1月1日	?

(a) 2017年12月31日商號的存貨計值為\$26 000。試為文迪的商號編製2017年12月31日的財務狀況表。 (5分)

15. 2018.Q5(a)

2018年1月1日，偉信商號的銀行存款帳有借方結餘\$20 000。2018年1月商號有以下交易：

2018年

- 1月 3日 除購貨物，訂價為\$10 000。若購貨訂單超過\$5 000，供應商會給予交易折扣2%。若於購貨後10天內清付貨款，供應商會給予現金折扣3%。
- 7日 以支票償付2018年1月3日向供應商的購貨。
- 10日 以支票支付租金 \$7 000。
- 25日 除購貨物 \$12 000。

(a) 在偉信商號的帳冊內，編製T字形帳戶，記錄以上交易。 (5分)

16. 2019.Q3

2018年12月1日，鐘氏商號以支票\$5 000購買貨品。

2018年12月22日，鐘氏商號除銷\$8 000貨品予新顧客李奇。客戶如果在購貨後10天內清償欠款，可獲5%折扣。李奇於2018年12月30日以支票清償欠款。

從以下帳戶名單，

- 購貨帳
- 銷貨帳
- 李奇帳
- 銀行存款帳
- 購貨折扣帳
- 銷折扣帳

(a) 為鐘氏商號編製適切的T字形帳戶以記錄上述交易。毋須結平帳戶。 (4分)

(b) 為以下每種分類帳戶類型各舉一個例子：

- (i) 實帳戶
- (ii) 虛帳戶 (2分)

第二部分 (10 分) 選答一題。

區氏商號製造及銷售成衣。2018 年 12 月 31 日區氏商號帳冊內的帳戶結餘摘錄如下：

	\$
銷貨	2 300 000
存貨, 2018 年 12 月 31 日	100 000
本年度毛利	1 495 000
本年度淨利	345 000
資本, 2018 年 1 月 1 日	1 827 500
機器	2 182 500
銀行存款	140 000
應付貨款	250 000

2017 年區氏商號的運用資金報酬率和流動比率分別為 25% 和 1.4:1。東主於 2018 年沒有額外注資，也沒有提用。

根據上述資料，回答第 2019.Q4 或 2019.Q5。

17. 2019.Q4(a)(b)

(a) 計算區氏商號 2018 年的下列比率 (至小數點後兩位)：

- (i) 毛利率 (1 分)
- (ii) 淨利率 (1 分)
- (iii) 運用資金報酬率 (2 分)

(b) 根據運用資金報酬率，簡單評論區氏商號 2018 年度的盈利能力。 (1 分)

18. 2019.Q5(a)(b)

(a) 為區氏商號編製 2018 年 12 月 31 日的財務狀況表。 (3 分)

(b) 根據流動比率 (至小數點後兩位)，簡單評論區氏商號 2018 年 12 月 31 日的變現能力。 (2 分)

19. 2020.Q2

為籌集資金以擴充業務，陳氏商號向銀行申請貸款。銀行要求陳氏商號提交過去三年的財務報表，以供考慮。

(a) 解釋銀行如何使用財務報表以決定是否批出貸款。 (2 分)

根據總經理的建議，陳氏商號正考慮改變本年度非流動資產的計值方法。

(b) 指出一項可以應用於此個案的會計原則或概念，並以此原則或概念解釋陳氏商號應否改變非流動資產的計值方法。 (4 分)

20. 2020.Q4(B)(b)

(B) 沈妮於 2020 年 3 月 1 日成立一家商號。該商號營運首月的所有交易已記錄在以下的帳戶內：

銀行存款			
2020 年	\$	2020 年	\$
3 月 1 日 資本	10 000	3 月 2 日 租金	4 000
3 月 16 日 銷貨	3 500	3 月 5 日 設備	3 000
		3 月 11 日 購貨	2 000
		3 月 20 日 購貨	4 700
設備			
2020 年	\$	2020 年	\$
3 月 5 日 銀行存款	3 000		
租金			
2020 年	\$	2020 年	\$
3 月 2 日 銀行存款	4 000		
銷貨			
2020 年	\$	2020 年	\$
		3 月 16 日 銀行存款	3 500
		3 月 25 日 應收貨款	4 500
購貨			
2020 年	\$	2020 年	\$
		3 月 11 日 銀行存款	2 000
		3 月 20 日 銀行存款	4 700
應收貨款			
2020 年	\$	2020 年	\$
3 月 25 日 銷貨	4 500		
資本			
2020 年	\$	2020 年	\$
	?		?

(b)(i) 編製資本帳，並為此帳戶作 2020 年 3 月 31 日的結平。 (1 分)

(ii) 編製 2020 年 3 月 31 日的試算表。 (5 分)

21. 2020.Q5(B)(d)

勞思自 2017 年起經營一家貿易商號。2019 年 12 月 31 日該商號帳冊內的帳戶結餘摘錄如下：

	\$
資本, 2019 年 1 月 1 日	100 000
銷貨退回	4 000
存貨, 2019 年 1 月 1 日	10 000
購貨運費	8 000
機器	145 000
購貨	400 000
其他營業費用	87 500
銷貨折扣	9 000
銷貨運費	32 000
銀行存款	199 000
購貨退出	4 500
銷貨	790 000

2019 年終時並無期末存貨。

(d) 編製截至 2019 年 12 月 31 日止年度的損益表。 (5 分)

22. 2021.Q3

2021 年 4 月 1 日, 謝富以 \$80 000 獨資開設商號。以下是該商號 4 月份的銀行存款帳：

		銀行存款			
		\$			\$
2021 年			2021 年		
4 月 1 日	資本	80 000	4 月 5 日	租金費用	37 000
4 月 18 日	銷貨	15 000	4 月 19 日	設備	62 000

(a) 根據上述帳戶, 編製兩個相關的虛帳戶以完成複式記帳。毋須結平帳戶。 (2 分)

(b) 為謝富編製 2021 年 4 月 30 日的財務狀況表摘錄, 以展示銀行存款帳的結餘及所屬分類。 (2 分)

(續下頁)

2021 年 5 月 1 日, 謝富以 \$50 000 除購一輛二手汽車作私人用途。商號的簿記員記錄該交易如下：

		其他應付帳款		
		2021 年		\$
		5 月 1 日	汽車	50 000

		汽車		
		2021 年	\$	
5 月 1 日	其他應付帳款	50 000		

(c) 解釋上述個案違反了的會計原則或概念。 (2 分)

23. 2021.Q4A

(A) 陳記是一家售賣家居用品的商店。2020 年 12 月 31 日, 商號帳冊內的帳戶結餘摘錄如下：

	\$
銀行貸款 (2021 年 3 月到期)	30 000
銀行存款	20 000
定期存款 (為期六個月)	50 000
存貨	180 000
應付貨款	100 000
應收貨款	120 000

2020 年營運資金比率和酸性測驗比率的行業平均分別為 1.9:1 和 1.0:1。

(a) 計算 (至小數點後兩位) 陳記 2020 年的下列比率：

(i) 營運資金比率 (2 分)

(ii) 酸性測驗比率 (2 分)

(b) 簡單評論陳記在 2020 年 12 月 31 日的變現能力。 (3 分)

24. 2021.Q5A

(A) 王先生於 2021 年 4 月 1 日開設一家成衣商號。2021 年 4 月 30 日，商號的帳冊有以下結餘：

	\$
銷貨運費	1 300
購貨折扣	800
購貨	80 000
雜費	23 475
銷貨退回	1 500
銷貨	103 500

2021 年 4 月 30 日的存貨值為 \$18 000。

- (a) 編製截至 2021 年 4 月 30 日止月份的損益表。
 (b) 說明企業的損益表對政府的一項用途。

(5 分)

(1 分)

答案：2014 多項選擇題 (1-11)

1.	D	80%
2.	D	68%
3.	B	80%
4.	B	74%
5.	C	60%
6.	C	85%
7.	C	52%
8.	B	82%
9.	A	75%
10.	A	76%
11.	D	62%

2015 多項選擇題

12.	B	28%
13.	B	63%
14.	D	64%
15.	C	54%
16.	B	85%
17.	A	54%
18.	C	63%
19.	C	68%
20.	C	81%
21.	A	73%

2016 多項選擇題

22.	A	79%
23.	A	53%
24.	C	56%
25.	B	88%
26.	C	75%
27.	C	76%
28.	D	33%
29.	C	28%
30.	C	76%
31.	B	63%

2017 多項選擇題

32.	A	38%
33.	B	47%
34.	A	51%
35.	D	75%
36.	D	40%
37.	D	73%
38.	B	74%
39.	C	70%
40.	D	80%
41.	B	65%
42.	A	69%

2018 多項選擇題

43.	D	54%
44.	B	74%
45.	B	77%
46.	B	33%
47.	D	58%
48.	A	74%
49.	A	68%
50.	C	48%
51.	A	78%
52.	B	88%
53.	D	68%

2019 多項選擇題 (54-64)

54.	B	73%
55.	C	52%
56.	B	64%
57.	D	55%
58.	B	72%
59.	A	58%
60.	B	77%
61.	C	67%
62.	C	71%
63.	D	60%
64.	C	70%

2020 多項選擇題 (65-74)

65.	B	77
66.	C	64
67.	B	69
68.	C	57
69.	B	62
70.	A	87
71.	B	39
72.	D	93
73.	C	34
74.	C	89

2021 多項選擇題 (75-83)

75.	D	
76.	C	
77.	B	
78.	D	
79.	A	
80.	A	
81.	D	
82.	C	
83.	B	

1. 2014.Q.3

(a)	原始分錄簿：	
(i)	銷貨日記簿 / 銷貨簿	1
(ii)	購貨退出日記簿 / 購貨退出簿	1
(iii)	現金簿	1
(b)(i)	實帳戶：	
	銀行存款、應收貨款、應付貨款	最高 1 分
(b)(ii)	虛帳戶：	
	銷貨、購貨退出、薪金	最高 1 分

(b)(i)及(ii) 每個適切的例子 1 分，每分題最高 1 分。

2. 2014.Q.5(a)

米基
2013 年 12 月 31 日財務狀況表

非流動資產	\$	\$	
家具及裝置		63 000	0.5
流動資產			
存貨	7 000		0.5
租金按金	20 000		0.5
應收帳款	27 000	54 000	0.5
總資產		<u>117 000</u>	
資本，2013 年 1 月 1 日(結平數目)		65 200	0.5
加：淨利		3 800	0.5
		<u>69 000</u>	
非流動負債			
銀行貸款		22 000	0.5
流動負債			
應付貨款	15 000		0.5
銀行透支	11 000	26 000	0.5
資本及負債總額		<u>117 000</u>	

(5)

3. 2014.Q.6(a)

陽光百貨		0.5	
截至 2013 年 12 月 31 日止年度損益表			
	\$	\$	
銷貨		268 000	0.5
減：銷貨退回		<u>2 000</u>	0.5
銷貨淨額		266 000	
減：銷貨成本			
期初存貨	80 000		0.5
加：購貨	120 000		0.5
購貨運費	9 000		0.5
	<u>209 000</u>		
減：期末存貨	60 000	149 000	0.5
毛利		<u>117 000</u>	
減：費用			
租金與差餉	48 000		0.5
雜費	30 000	78 000	0.5
淨利		<u>39 000</u>	0.5

(5)

4. 2015.Q2

(a)	一致性原則： 在同一會計年度內及年度與年度間，相同項目的會計處理應相同	2
(b)	- \$175 000	1
	- 歷史成本概念	1
	- 貨物須以企業實際成本入帳，即減除折扣後的淨價	1

5. 2015.Q4(a)

白德
財務狀況表
2014年12月31日

非流動資產	\$	\$	
汽車		986 000	0.5
流動資產			
存貨	210 000		0.5
定期存款 (6 個月)	180 000		0.5
應收貨款	320 000		0.5
銀行存款	398 000	1 108 000	0.5
總資產		<u>2 094 000</u>	
資本, 2014年1月1日(結平數目)		1 199 000	0.5
加: 淨利		82 000	0.5
		<u>1 281 000</u>	
流動負債			
應付貨款	383 000		0.5
銀行貸款 (須於2015年9月償還)	430 000	813 000	0.5
資本及負債總額		<u>2 094 000</u>	

6. 2015.Q5(a)

張漢
損益表
截至2014年12月31日止年度

	\$	\$	
銷貨		492 000	0.5
減: 銷貨成本			
購貨	227 500		
加: 購貨運費	25 500		0.5
	<u>253 000</u>		0.5
減: 購貨退出	9 230		0.5
	<u>243 770</u>		0.5
減: 期末存貨	88 000	155 770	
毛利		<u>336 230</u>	
減: 費用			0.5
銷貨運費	23 600		0.5
租金費用	128 000		
薪金	120 000	271 600	
淨利		<u>64 630</u>	0.5

(5)

7. 2016.Q1

a)

	日記簿		
	借記	貸記	
	\$	\$	
提用			
購貨	500		1
		500	1

- (b) - 企業個體概念 1
 - 企業與東主是不同的個體 最高2分
 東主從商號取用存貨應記錄在
 - 提用帳, 以減少資本
 - 購貨帳, 以避免誇大銷貨成本
 (每項適切的說明1分, 最高2分)

共5分

8. 2016.Q4(a)(b)

- (a)(i) 毛利率 = $\$40\,000 / \$100\,000 \times 100\% = 40\%$ 1
 (ii) 淨利率 = $\$10\,000 / \$100\,000 \times 100\% = 10\%$ 1
 (iii) 運用資金報酬率 = $\$10\,000 / [(\$30\,000 + \$37\,000)/2] \times 100\% = 29.85\%$ 1
 (b) 子山的超級市場:
 - 毛利率較高, 但淨利率較低 1
 - 反映其控制支出/行政安排表現較差 1

9. 2016.Q5(a)(b)

- (a)(i) 營運資金 = $\$40\,000 - \$30\,000 = \$10\,000$ 1
 (ii) 流動比率 = $\$40\,000 / \$30\,000 = 1.33:1$ 1
 (iii) 速動比率 = $\$6000 / \$30\,000 = 0.20:1$ 1
 (b) 子山超級市場的流動比率和速動比率低, 反映其變現能力差 1
 - 它難以應付即時債務
 - 它的流動資產受存貨束縛 最高1分
 (每個適切的論點1分, 最高1分)

10. 2017.Q3(d)

- (d) - 2016 1
 - 應計概念 1
 - 收益及費用應在賺得及產生時確認, 並計入該年度的財務報表內 1

11. 2017.Q4(a)

備註：0.5 分給予格式正確的標題及\$符號。

莊先生 2016年12月31日試算表		0.5	
	借方	貸方	
	\$	\$	
資本，2016年1月1日		240 000	0.5
銀行透支		173 400	0.5
傢具	204 000		0.5
銷貨		796 200	0.5
購貨	500 400		0.5
銷貨退回	1 800		0.5
購貨退出		1 500	0.5
購貨折扣		2 100	0.5
營業費用	507 000		0.5
	1 213 200	1 213 200	(5)

12. 2017.Q5(a)

備註：0.5 分給予格式正確的標題及\$符號。

莊先生 截止2016年12月31日止年度損益表		0.5	
	\$	\$	
銷貨		796 200	0.5
減：銷貨退回		1 800	0.5
		794 400	0.5
減：銷貨成本			
購貨	500 400		0.5
減：購貨退出	1 500		0.5
	498 900		
減：期末存貨	195 000	303 900	0.5
毛利		490 500	0.5
加：購貨折扣		2 100	0.5
		492 600	
減：營業費用		507 000	0.5
淨損失		(14 400)	0.5
			(5)

13. 2018.Q3(b)

(b) - 繼續經營假設：假定企業在可預見未來將繼續營運，企業沒有意圖或需要清盤或大幅減少其營運規模。

1

- 非流動資產應以清算值/變現淨值計值

1

(b) Going concern:

1. Definition:-

1.1 The company will continue its operation. (did not mention "in the foreseeable future").

→ (definition: "0")-

企業將繼續營運 (沒有提及"可預見未來")

→ (解釋: "0")-

1.2 the entity has neither the intention nor the need to liquidate ("1") -

企業沒有意圖或需要清盤 ("1") -

OR-

the entity has neither the intention nor the need to reduce its scale of operation significantly ("1")-

企業沒有意圖或需要大幅減少其營運規模 ("1")-

2. How should the non-current assets be valued:-

(Current) Market value 市值 (✓).

Market price 市價 (×).

Fair value 公平價/公允值 (×).

Disposal value (×).

NRV (short form) (×).

Net worth 淨值 (×).

Liquid / Liquidated / Liquidate value (×).

- MUST spell "net realisable/realizable value" correctly.

- The fixed assets / Assets / they..... (acceptable).

- The financial statement/total assets/net current assets should be valued (×).

- at lower of net realizable value (×).

標準答案為「清算值」或「變現值」。但經評卷小組開會決定，可接受「市值」。但不鼓勵老師以「市值」教授學生，因兩者在某些情況下並不相同。



14. 2018.Q4(a)

文迪 財務狀況表 2017年12月31日			
	\$	\$	\$
非流動資產			
設備			166 000
汽車			48 000
			<u>214 000</u>
流動資產			
存貨		26 000	0.5
應收貨款		13 000	0.5
銀行存款		16 000	0.5
		<u>55 000</u>	
減：流動負債			
銀行貸款	30 000		0.5
應付貨款	8 000	38 000	0.5
		<u>17 000</u>	
			<u>231 000</u>
資金籌措：			
資本，2017年1月1日 (結平數目)		188 600	0.5
加：淨利 (\$220 000 - (\$98 000 - \$26 000) - \$105 600)		42 400	1
		<u>231 000</u>	(5)

(a) I form → accepted.

- Non-current assets + (Current assets - Current liabilities) = Capital or.
- Non-current assets + Current assets = Capital + Current liabilities → accepted.
- Items under Wrong/No/Abbreviated subheadings → NO MARK.
- All assets / liabilities items under Assets/Liabilities will be treated as under NCA / NCL.
- Ignore Statement heading, Net current assets, subtotals, etc.
- Ignore extra items, but NO MARK for duplicate items (e.g. items under both NCA and CA)
- NO MARK for "Bank 銀行", "Accounts receivables/payables 應收/應付賬款".
- But accept "Closing inventory 期末存貨".
- NO MARK for abbreviation (e.g. Capital, bal as at 1 Jan 18), NOR for Opening Capital
- Deduct ½ mark for Profit (instead of Net Profit).
- NO MARK for 2nd part without underline (single or double) after TA/NA or "Financed by".

15. 2018.Q5(a)

(a)

銀行存款			
2018	\$	2018	\$
1月1日 承上結餘	20 000	1月7日 應付貨款	9 506
		1月10日 租金	7 000
			0.5
			0.5
購貨			
2018	\$	2018	\$
0.5 1月3日 應付貨款	9 800		
應付貨款			
2018	\$	2018	\$
0.5 1月7日 銀行存款	9 506	1月3日 購貨	9 800
0.5 1月7日 購貨折扣	294		
			0.5
購貨折扣			
2018	\$	2018	\$
		1月7日 應付貨款	294
			0.5
租金			
2018	\$	2018	\$
0.5 1月10日 銀行存款	7 000		
銷貨			
2018	\$	2018	\$
		1月25日 應收貨款	12 000
			0.5
應收貨款			
2018	\$	2018	\$
0.5 1月25日 銷貨	12 000		

Marking notes:

- (a) For each entry in the T account, award mark if both the following are correct:
- amount
 - corresponding account name in the 'particulars' column
 - ignore dates
- (Trade/Accounts Receivables/Payables, Bank/Cash at Bank are accepted)

16. 2019.Q3

Purchases 購貨

2018		\$	
0.5	12月1日 銀行存款	5 000	

銀行存款

2018		\$	2018		\$
0.5	12月30日 李奇	7 600	12月1日 購貨	5 000	0.5

銷貨

2018		\$	
0.5	12月22日 李奇	8 000	0.5

李奇

2018		\$	2018		\$
0.5	12月22日 銷貨	8 000	12月30日 銀行存款	7 600	0.5
			12月30日 銷貨折扣	400	0.5

銷貨折扣

2018		\$		\$
0.5	12月30日 李奇	400		

- (b)(i) 實帳戶：李奇帳、銀行存款帳 1
- (ii) 虛帳戶：購貨帳、銷貨帳、購貨折扣帳、銷貨折扣帳 1
- (每個例子 1 分，最高 2 分)
-
- 6 分

Marking notes - Q3(a)

- Entries in the account with account name different from the name specified in the question → 0 mark
 - Corresponding entry with wrong account name but is traceable in the answer → ✓
 - For 'Jacky' account: Accounts/應收貨款 /Debtor without mentioning 'Jacky'
- Entries in the account itself and corresponding accounts → 0 mark

評分例子 - Q3(a) :

16. 2019.Q3 「李奇帳」 ✓

2018		\$	2018		\$
12月22日 銷貨	8,000		12月30日 銀行存款	7,600	
			300 銷貨折扣	400	

u)

2018		\$	2018		\$
12月30日 應收貨款	7,600		12月1日 購貨	5,000	

顯示對應的帳戶名稱

2018		\$		\$
12月30日 應收貨款	400			

Common mistakes:

2018

Dec 1	Bank	5000	
-------	------	------	--

Failed to show the corresponding account name of the other side of the double entries.

2018

Dec 30	Jacky	7600	Dec 1 purchases 5000
--------	-------	------	----------------------

Marking notes - Q3(b)

- Any account name out of those provided in the question are NOT accepted
- Candidates gave more than one example
→ mark the 1st answer ONLY no matter it is right or wrong

b) 實帳戶：李奇帳、銀行存款帳、銷貨折扣帳、李奇帳

虛帳戶：應收貨款、應收貨款

舉出多於一個答案 → 只評改第一個答案

17. 2019.Q4(a)(b)

(a)(i) 毛利率 = $\$1\,495\,000 / \$2\,300\,000 \times 100\% = 65.00\%$ or 65% or 0.65 1

(ii) 淨利率 = $\$345\,000 / \$2\,300\,000 \times 100\% = 15.00\%$ or 15% or 0.15 1

(iii) 2018 年 12 月 31 日的資本額 = $\$1\,827\,500 + \$345\,000 = \$2\,172\,500$ 2

平均資本 = $(\$1\,827\,500 + \$2\,172\,500) / 2 = \$2\,000\,000$

運用資金報酬率 = $\$345\,000 / \$2\,000\,000 = 17.25\%$

or 0.1725 or 0.1725:1 or 17% (1.5)

$\frac{345,000 \times 100\%}{2,172,500}$	0.5
0.5	0.5

(b) 與 2017 年相比，區氏商號 2018 年運用東主資本產生利潤的效率相對較低。 1

Marking notes – Q4(b)

- Answer should include the following 3 parts:
- In using its owners' capital 運用東主資本
- To generate profit 產生利潤
- Relatively less efficient 效率相對較低

Answers not accepted:

- × poor expense management 費用管理不善/ too much expenses 費用過多
- × lower profit 盈利下降, lowered/reduced/decreased profitability 盈利能力下降
- × lower Return on Capital Employed 較低運用資金報酬率

18. 2019.Q5(a)(b)

(a)

區氏商號 財務狀況表 2018 年 12 月 31 日			
	\$	\$	\$
非流動資產			
機器		2 182 500	0.5
流動資產			
存貨		100 000	0.5
銀行存款		140 000	0.5
		240 000	
減：流動負債			
應付貨款		250 000	0.5
		(10 000)	
		2 172 500	
資金籌措			
資本，2018 年 1 月 1 日		1 827 500	0.5
加：淨利		345 000	0.5
		2 172 500	(3)

(b) 流動比率 = $\$240\,000 / \$250\,000 = 0.96:1$ 1

評論：

- 流動比率低於 1:1，商號可能難以償還短期債務 1
 - 與 2017 年相比，商號的流動比率較低，變現能力較差
- (每項適切的評論 1 分，最高 1 分)

Part (a)

- × T-form is accepted [(NCA + CA) on LH side, (Capital + CL) on RH side]
- × CA + CL or Capital – CL → 0 mark for CL
- × (NCA + CA) – CL = Capital → 0 mark for CL
- × CL without 'less' OR a bracket to indicate minus → 0 marks
- × Items under no/abbreviated subheading → first item being the respective category
- × Items under wrong subheading → 0 marks
- × All assets/liabilities items under **Assets/Liabilities** will be treated as under NCA/NCL
- × No marks for items duplicated, e.g. same item under NCA and CA (0 mark for both items)
- × No marks for abbreviation, e.g. Capital bal as at 1 Jan 18, opening capital X, (Net) Profit

Part (b)

- ▷ 0.96 ✓ (1)
- ▷ Wrong answer BUT correct workings (0.5)
- ▷ Did not calculate current ratio of 2018 / comment based on the ratio of 2017 (0)

19. 2020.Q2

- (a) 銀行會檢視商號的變現能力，以評估商號的償債能力。 2
- (b) - 一貫性 1
- 陳氏商號不應改變計值方法，因為項目在每一會計年度內及不同會計年度之間的會計處理方法應該相同，除非改變會計處理方法是必須或更能反映企業的實況。 2

5 分

Marking notes for Q2(a)

Marks	Answer	Alternative answers
1	ability to repay a loan	Meet short term obligations/ risk of default/ solvency <u>Answers not acceptable:</u> × Firm's financial burden/ credibility of the firm/ credit history
1	liquidity	Level of working capital/ profitability/ liquid assets to cover current liabilities/ sufficient net assets <u>Answers not acceptable:</u> × Only quick ratio/current ratio without mentioning liquidity/asset to liabilities

Marking notes for (b)

Marks	Answer
2	<u>No, with correct explanation:</u> - Chan's firm should not change the valuation method as the accounting treatment of items (#1) within each accounting period from one period to another (#2) should be the same (#3). (#1) + (#2) + (#3) (Remarks: "unless a change in accounting treatment is necessary or will give a more accurate view of a business." is NOT a must)
2	<u>Yes, should/ will/ can change, with correct explanation:</u> Chan's firm should not change the valuation method as the accounting treatment of items within each accounting period from one period to another should be the same, unless a change in accounting treatment is necessary or will give a more accurate view of a business.
1	No, with an <u>attempt</u> of explanation
0	No, <u>without</u> any explanation

Yes, without any explanation

20. 2020.Q4(B)(b)

(B)

(b)(i)

		資本			
2020 年		\$	2020		
0.5	3 月 31 日	結餘轉下	10 000	3 月 1 日	銀行存款 10 000 0.5

資本帳

- 必須有垂直線，否則 0 分
- 日期，摘要和金額 必須全部正確
- T 字形帳戶：接受 3/31, 31/3, 3 月 31 日

(b)(ii)

沈妮 [2021 Marking Notes: 沒有名字，仍然給分]

試算表 0.5
2020 年 3 月 31 日

	借方	貸方	
	\$	\$	
銀行存款		200	0.5
設備	3 000		0.5
租金	4 000		0.5
銷貨		8 000	0.5
購貨	6 700		0.5
應收貨款	4 500		0.5
資本		10 000	0.5
	18 200	18 200	0.5
			(5)
			10 分

Marking Notes

(ii)

2020年3月31日的試算表
 試算表於2020年3月31日
 X試算表至2020年3月31日XX

沈妮 試算表

沒有名稱 → OK

	借方 \$	貸方 \$	
銀行存款		200	0.5
設備	3 000		0.5
租金	4 000		0.5
銷貨		8 000	0.5
購貨	6 700		0.5
應收貨款	4 500		0.5
資本		10 000	0.5
借方欄和貸方欄總額必須相等 (總額 =/= \$18 200 → OK)	18 200	18 200	0.5

(5)

- 借/貸、借項/貸項，借方/貸方 → OK 借記登記 (不給分)
- 銀行存款、銀行透支 (Bank, Bank overdraft) → OK
- 題目註明沈妮所使用的會計帳目名稱為「應收貨款」，故不接受「應收帳款」
- 金額外加括號 (不給分)

21. 2020.Q5(B)(d)

(B)(d)

勞思
 損益表
 截至 2019 年 12 月 31 日止年度

	\$	\$	
銷貨		790 000	0.5
減：銷貨退回		4 000	0.5
		786 000	
減：銷貨成本			
期初存貨	10 000		0.5
加：購貨	400 000		0.5
加：購貨運費	8 000		0.5
	418 000		
減：購貨退出	4 500	413 500	0.5
毛利		372 500	
減：費用			
銷貨運費	32 000		0.5
銷貨折扣	9 000		0.5
其他營業費用	87 500	128 500	0.5
淨利		244 000	0.5
			(5)

Marking notes for 5(B)(d) 損益表:

- 沒有「減」或括號，同一欄的數字預設為 +

以下不給分：

- × 不完整的帳戶名稱，如：減：退回、減：銷退
- × 如無寫「減：銷貨成本」，銷貨成本之下的項目不給分
- × 如無寫「減：費用」，費用之下的項目不給分
- × 如「淨利」上方沒有單行線（加總線），淨利不給分
- × 「存貨」而非「期初存貨」或「結實：2019年1月1日」

[To be updated]

- 22. 2021.Q3
- 23. 2021.Q4(A)
- 24. 2021.Q5(A)

多項選擇題答案 Answers to Multiple Choice Questions

1.	C	11.	D (58)	21.	B (74)	31.	C (64)	41.	A (70)	51.	
2.	D	12.	D (78)	22.	D (60)	32.	B (30)	42.	B (62)	52.	
3.	D (74)	13.	A (52)	23.	D (66)	33.	A (74)	43.	D (50)	53.	
4.	C (71)	14.	C (70)	24.	C (62)	34.	D (66)	44.	C (61)	54.	
5.	B (84)	15.	D (95)	25.	C (35)	35.	B (30)	45.	A (57)	55.	
6.	A (73)	16.	B (67)	26.	B (90)	36.	D (55)	46.	C (51)	56.	
7.	B (82)	17.	A (59)	27.	B (55)	37.	D (61)	47.	D (48)	57.	
8.	C (63)	18.	D (81)	28.	A (56)	38.	D (38)	48.	A (43)	58.	
9.	C (41)	19.	A (70)	29.	A (60)	39.	C (65)	49.	B (56)	59.	
10.	A (57)	20.	D (58)	30.	D (57)	40.	B (51)	50.	D (19)	60.	

1. SP.MC.Q17

在香港，以下哪些人士需要參與強制性公積金計劃 (MPF)？

- (1) 自僱小販
- (2) 獨資經營的東主，或合夥企業的合夥人
- (3) 簽有兩年本地僱工合約的海外人士
- (4) 年齡介乎 18 至 65 歲並根據僱傭合約以兼職形式連續工作不少於 60 天的人士

- A. 只有(1)和(3)
- B. 只有(2)和(3)
- C. 只有(2)和(4)
- D. 只有(4)

2. PP.MC.Q13

張女士在一家成立已久的雜貨店工作。她考慮辭職，然後創立自己的雜貨店。她的僱主施先生年屆 62，正打算退休，遂邀請張女士收購接管其店舖。

在人生不同階段，以下哪項為退休人士如施先生的主要財務考慮？

- A. 創造及累積財富
- B. 為賺錢能力投保
- C. 安排子女教育費用
- D. 計劃醫療開支

3. 2012.MC.Q5

以下哪類僱員可獲豁免參加強制性公積金計劃？

- A. 建築工人
- B. 保安員
- C. 飲食業員工
- D. 家務僱員

4. 2012.MC.Q9

2012 年首天，莊尼在一固定了利息的銀行賬戶存入 \$6000。若該存款的年利率以複息每年計為 4%，試找出(至整數元)2014 年年終時莊尼可提取的總金額。

- A. \$6480
- B. \$6720
- C. \$6749
- D. \$7019

5. 2012.MC.Q21

下列哪項客戶資料是銀行拒絕客戶申請信用卡最不相關的因素？

- A. 還款記錄
- B. 對該銀行的忠誠度
- C. 尚欠債務水平
- D. 破產記錄

6. 2012.MC.Q26

如果_____，定期存款的實際回報率將會上升。

- A. 計算複息的頻率提高
- B. 本金增加
- C. 存款期縮短
- D. 資金成本下降

7. 2013.MC.Q6【經修改】

下列哪項是正確的陳述？

- A. 普通股股東在董事局會議中享有投票權。
- B. 風險較高的投資工具或會帶來較高的回報。
- C. 投資多種金融產品可避免市場風險。
- D. 投資於某公司的優先股較投資於其普通股的風險為高。

8. 2013.MC.Q15

某銀行推出下列儲蓄計劃：

	計劃 I	計劃 II	計劃 III
利率	每年 5%	每年 5.5%	每年 6%
複利息計算頻率	每季一次	每半年一次	每年一次

兩年後，哪項計劃提供的回報最高？

- A. 計劃 I
- B. 計劃 II
- C. 計劃 III
- D. 計劃 I 和計劃 II

9. 2014.MC.Q4

下列哪項有關強制性公積金（強積金）制度的陳述是正確的？

- A. 自僱人士毋須參加強積金計劃。
- B. 受強積金制度涵蓋的僱員須按其入息的 5% 作出供款。
- C. 除了定期強制性供款外，僱員還可選擇額外自願性供款。
- D. 強積金計劃成員年屆 60 歲，便可提取其累算權益。

10. 2014.MC.Q8

下列哪些有關信用卡的陳述是正確的？

- (1) 設有信用限額
 - (2) 結欠設有最低還款額
 - (3) 如在到期日前繳付最低還款額，餘額不會徵收利息
- A. 只有(1) 及 (2)
 - B. 只有(1) 及 (3)
 - C. 只有(2) 及 (3)
 - D. (1)、(2) 及 (3)

11. 2014.MC.Q13

愛莎擬以淨現值來決定是否購買一件辦公室設備。她需要下列哪些資料來作決定？

- (1) 資金成本
 - (2) 購置和使用該辦公室設備所引致的現金流
 - (3) 該辦公室設備在使用年限完結時的殘值
- A. 只有(1) 及 (2)
 - B. 只有(1) 及 (3)
 - C. 只有(2) 及 (3)
 - D. (1)、(2) 及 (3)

12. 2014.MC.Q27

下列哪項金融產品的投資風險是最高？

- A. 儲蓄存款
- B. 定期存款
- C. 優先股
- D. 普通股

13. 2014.MC.Q28

維持良好個人信貸記錄是重要的，因為這會_____。

- (1) 減低貸款成本
 - (2) 增加獲批貸款的機會
 - (3) 提高銀行七成按揭貸款的上限
- A. 只有(1) 及 (2)
 - B. 只有(1) 及 (3)
 - C. 只有(2) 及 (3)
 - D. (1)、(2) 及 (3)

14. 2015.MC.Q8

張先生計劃購買一項住宅物業。下列哪項信貸安排對他最適合？

- A. 信用卡
- B. 私人貸款
- C. 按揭貸款
- D. 銀行透支

15. 2015.MC.Q17

2014年1月1日，王先生為一儲蓄計劃存入\$500 000，計劃的回報率為每年複息5%。三年後，王先生從這計劃得到的總金額將會是_____ (計算至整數元)。

- A. \$431 919
- B. \$525 000
- C. \$551 250
- D. \$578 813

16. 2015.MC.Q20

於下列哪些情況下，參加強制性公積金計劃的成員可從計劃提取累算權益？

- (1) 年屆60歲並提早退休
- (2) 失業超過6個月
- (3) 永久離開香港

- A. 只有(1)及(2)
- B. 只有(1)及(3)
- C. 只有(2)及(3)
- D. (1)、(2)及(3)

17. 2015.MC.Q28

下列哪些是個人投資者的責任？

- (1) 簽訂合約前了解合約條款
- (2) 不時查閱帳戶報表
- (3) 出席所有投資公司的周年大會

- A. 只有(1)及(2)
- B. 只有(1)及(3)
- C. 只有(2)及(3)
- D. (1)、(2)及(3)

18. 2016.MC.Q4

安娜剛在65歲退休，她收到一筆可觀的公積金。她計劃將公積金作投資以獲得一些回報，但卻不欲承擔高風險。下列哪項投資工具最不适合她？

- A. 定期存款
- B. 儲蓄存款
- C. 通脹掛鈎債券
- D. 股票

19. 2016.MC.Q9

信用卡用戶

- (1) 可以本地發行的信用卡於海外購買貨物和服務。
- (2) 可在到期日或以前全數清付結單的結欠，以免支付利息。
- (3) 可以較私人貸款為低的息率支付逾期的信用卡結欠。

- A. 只有(1)及(2)
- B. 只有(1)及(3)
- C. 只有(2)及(3)
- D. (1)、(2)及(3)

20. 2016.MC.Q14

一家銀行提供一個儲蓄計劃，需要初期存款\$100 000。這計劃在其後數年年終會提供現金流如下：

	\$
第一年	20 000
第二年	35 000
第三年	55 000

假如貼現率為每年5%，這儲蓄計劃的淨現值是多少？

- A. \$10 000
- B. \$9523.81
- C. \$4761.90
- D. -\$1695.28

21. 2016.MC.Q19

白德擬把現金\$500 000存入銀行，為期半年。銀行向他提供下列儲蓄計劃，哪個計劃的回報最高？

- A. 半年後總利息為\$6000。
- B. 每季計算複利息，年利率為2.4%。
- C. 每半年計算複利息，年利率為2.4%。
- D. 每年計算複利息，年利率為2.4%。

22. 2016.MC.Q25

卓文是一位自僱時裝設計師，他

- (1) 有權不登記參加強制性公積金(強積金)計劃。
 - (2) 有權向強積金計劃作自願性供款。
 - (3) 如果移民到另一個國家，有權在 65 歲前從強積金計劃提取他的累算權益。
- A. 只有(1)
B. 只有(2)
C. 只有(3)
D. 只有(2) 及 (3)

23. 2016.MC.Q27

與主板的基本上市要求比較，

- 創業板的申請者的營運記錄要求 (1) 。
 - 創業板的申請者的市值要求 (2) 。
- | | | |
|---|-----|-----|
| | (1) | (2) |
| A | 較寬鬆 | 較嚴謹 |
| B | 較嚴謹 | 較寬鬆 |
| C | 較嚴謹 | 較嚴謹 |
| D | 較寬鬆 | 較寬鬆 |

24. 2017.MC.Q3

下列哪項有關恆生指數的陳述是不正確的？

- A. 它的分類指數有：金融、公用事業、地產和工商業。
- B. 它量度香港市值最大和成交最活躍的上市公司的表現。
- C. 它包括 50 隻在創業板上市的股票。
- D. 它是香港股票市場整體表現的指標。

25. 2017.MC.Q7

江娜現年 62 歲，是一家企業的兼職顧問，月薪\$40 000。在強制性公積金制度下，江娜每月供款多少？

- A. \$4000
- B. \$2000
- C. \$1500
- D. \$0

26. 2017.MC.Q10

李先生打算開立一儲蓄帳戶，利率為每年複式 7%。他希望三年後可以從這帳戶收回總金額\$150 000，他現在應存入儲蓄帳戶的金額是多少？

- A. \$120 654
- B. \$122 445
- C. \$131 016
- D. \$183 756

27. 2017.MC.Q13

如果名義回報率不變，下列哪項有關實際回報率的陳述是正確的？

- (1) 實際回報率反映投資的真實回報。
 - (2) 如本金增加，實際回報率便會上升。
 - (3) 如計算複息的頻率增加，實際回報率便會上升。
- A. 只有 (1) 及 (2)
B. 只有 (1) 及 (3)
C. 只有 (2) 及 (3)
D. (1)、(2) 及 (3)

28. 2017.MC.Q17

除 _____ 外，下列各項都是對申請在香港聯合交易所主板上市的新申請人的基本上市要求。

- A. 員工規模
- B. 現金流量
- C. 營業記錄
- D. 股東應佔盈利

29. 2017.MC.Q23

下列哪項是借貸人維持良好個人信貸紀錄的好處？

- (1) 個人貸款利率較低
 - (2) 信貸額較高
 - (3) 開立定期存款帳戶時，可獲取較佳條款
- A. 只有 (1) 及 (2)
B. 只有 (1) 及 (3)
C. 只有 (2) 及 (3)
D. (1)、(2) 及 (3)

30. 2017.MC.Q26

下列哪項會影響銷售汽車的上市公司的股價？

- (1) 燃油價格
- (2) 利率
- (3) 公司的派息政策

- A. 只有 (1) 及 (2)
- B. 只有 (1) 及 (3)
- C. 只有 (2) 及 (3)
- D. (1)、(2) 及 (3)

31. 2018.MC.Q3

如果在過去一個月，恆生指數上升了 10%，這表示過去一個月_____。

- (1) 「恆生工商業分類指數」上升了 10%
- (2) 恆生指數成份股的成交金額上升了 10%
- (3) 恆生指數成份股的市價普遍上升了

- A. 只有 (1)
- B. 只有 (2)
- C. 只有(3)
- D. 只有 (2) 及 (3)

32. 2018.MC.Q13

下列哪項有關銀行透支的陳述是正確的？

- (1) 沒有固定還款期。
- (2) 利息通常按月計算。
- (3) 通常毋須抵押。

- A. 只有 (1)
- B. 只有 (1) 及 (3)
- C. 只有 (2) 及 (3)
- D. (1)、(2) 及 (3)

33. 2018.MC.Q15

李先生欲於三年後購買一輛汽車，現時車價為 \$500 000，每年升幅估計為 3%。為了三年後支付車價，他欲投資一基金，每年複息回報率為 5%。他現時需投資於基金的金額是多少？

- A. \$471 969
- B. \$490 476
- C. \$509 709
- D. \$529 695

34. 2018.MC.Q19

計算投資一部機器的淨現值，需要下列哪項資料？

- (1) 機器的最初成本
- (2) 機器的殘值
- (3) 機器的使用年限

- A. 只有 (1) 及 (2)
- B. 只有 (1) 及 (3)
- C. 只有 (2) 及 (3)
- D. (1)、(2) 及 (3)

35. 2018.MC.Q22

在創業板對新申請人的基本上市要求中，並沒有就_____設有最低要求。

- A. 現金流
- B. 盈利
- C. 營業紀錄
- D. 市值

36. 2018.MC.Q25

下列哪項有關風險和回報的陳述是正確的？

- A. 市場風險是可以分散的。
- B. 高風險金融產品必有高回報。
- C. 迴避風險的投資者通常喜歡投資債券多於作定期存款。
- D. 保守的退休人士通常喜歡投資債券多於股票。

37. 2018.MC.Q30

下列哪項有關強制性公積金（強積金）制度的陳述是正確的？

- A. 年齡介乎 16 至 65 歲的自僱人士須參加強積金計劃。
- B. 建造業工人可豁免參加強積金計劃。
- C. 強積金計劃成員如已失業超過兩年，可申請提早從強積金計劃提取累算權益。
- D. 當轉職時，強積金計劃成員可轉移其累算權益往另一強積金受託人。

38. 2019.MC.Q8

保羅借入一筆\$100 000 為期三年的私人貸款，年利率為 12%，每月複息計算。下列哪項陳述是正確的？

- (1) 這貸款的名義年利率為 12%。
- (2) 這貸款的實際年利率高於 12%。
- (3) 一般來說，私人貸款的利率較信用卡的利率為低。

- A. 只有(1)
- B. 只有 (1) 及 (2)
- C. 只有 (2) 及 (3)
- D. (1)、(2) 及 (3)

39. 2019.MC.Q15

下列哪項有關新申請人在主板上市的基本要求的陳述是正確的？

- (1) 申請人必須符合營運歷史的要求。
- (2) 申請人必須是跨國公司。
- (3) 申請人必須符合以下其中一個要求：盈利測試、市值/收益測試、或市值/收益/現金流量測試。

- A. 只有(1)
- B. 只有(2)
- C. 只有 (1) 及 (3)
- D. (1)、(2) 及 (3)

40. 2019.MC.Q18

35 歲的徐思於 2015 年獨自開設了一家甜品店。自此，她以每月薪金\$5 000 聘請了 30 歲的畢玲為兼職助手。下列哪項有關強制性公積金（強積金）計劃的陳述是正確的？

- (1) 徐思需要為自己登記參加強積金計劃。
- (2) 徐思需要為畢玲登記參加強積金計劃，並且為她作出強制性供款。
- (3) 畢玲需向強積金計劃作出強制性供款。

- A. 只有(1)
- B. 只有 (1) 及 (2)
- C. 只有 (2) 及 (3)
- D. (1)、(2) 及 (3)

41. 2019.MC.Q20

下列哪項有關投資風險與回報的陳述是正確的？

- (1) 投資在不同行業的公司的股票可以分散企業特有風險。
- (2) 存款至儲蓄戶口是無風險的。
- (3) 投資者可以獲得資本增益和股息作為投資債券的回報。

- A. 只有(1)
- B. 只有 (1) 及 (2)
- C. 只有 (2) 及 (3)
- D. (1)、(2) 及 (3)

42. 2019.MC.Q24

下列哪項有關恆生指數的陳述是正確的？

- A. 它由 60 隻成分股組成。
- B. 它的所有成分股均是在香港聯合交易所主板上市的。
- C. 它反映亞太區股票市場的表現。
- D. 「資訊科技」是四個分類指數的其中一個。

43. 2019.MC.Q26

下列哪項有關信用卡的陳述是正確的？

- (1) 它有預先批核的信用限額。
- (2) 它有繳款期限。
- (3) 結欠有每月最低還款額。

- A. 只有 (1) 及 (2)
- B. 只有 (1) 及 (3)
- C. 只有 (2) 及 (3)
- D. (1)、(2) 及 (3)

44. 2019.MC.Q29

2019年4月1日，家欣為一儲蓄計劃存入\$3 000，利率為每年複息1%。如家欣每年4月1日都把相同金額存入儲蓄計劃，在2022年3月31日家欣的儲蓄計劃戶口結餘是多少？

- A. \$3 901
- B. \$9 090
- C. \$9 181
- D. \$9 273

45. 2020.MC.Q4

下列哪項有關恆生指數的描述是正確的？

- (1) 「公用事業」是恆生指數的一個分類指數。
- (2) 它顯示成分股公司的派息政策。
- (3) 它是企業籌集資金的平台。

- A. 只有 (1)
- B. 只有 (1) 及 (2)
- C. 只有 (1) 及 (3)
- D. 只有 (2) 及 (3)

46. 2020.MC.Q8

以下是一項投資項目的資料：

初始成本: \$15 000

貼現率: 10%

投資年期: 三年

這項目於第一及第二年年終時均會帶來現金流\$6 000。如果第三年年終的現金流是_____，這項目的淨現值會趨近於零。

- A. 4 587
- B. 5 083
- C. 6 105
- D. 7 965

47. 2020.MC.Q15

撇除其他因素，下列哪項會導致一家上市航空公司的股價下跌？

- (1) 利率上升
- (2) 燃油價格上升
- (3) 該航空公司發出盈利警告

- A. 只有 (1) 及 (2)
- B. 只有 (1) 及 (3)
- C. 只有 (2) 及 (3)
- D. (1)、(2) 及 (3)

48. 2020.MC.Q19

下列哪些是債券投資者的權利？

- (1) 若投資顧問行為不當，可作出投訴
- (2) 可查詢投資建議的背後理念
- (3) 在冷靜期內可取消投資交易

- A. 只有 (1) 及 (2)
- B. 只有 (1) 及 (3)
- C. 只有 (2) 及 (3)
- D. (1)、(2) 及 (3)

49. 2020.MC.Q25

下列哪項有關強制性公積金(強積金) 制度的陳述是正確的？

- (1) 僱員可每年一次將供款帳戶內的累算權益轉移到他們自選的強積金計劃。
- (2) 自僱小販毋須參加強積金計劃。
- (3) 如僱員的收入低於最低有關入息水平，僱員及僱主均毋須作強制性供款。

- A. 只有 (1)
- B. 只有 (1) 及 (2)
- C. 只有 (2) 及 (3)
- D. (1)、(2) 及 (3)

50. 2020.MC.Q28

下列哪項有關主板及 GEM (前稱創業板) 的描述是正確的？

- (1) 在主板上市的公司數目較在 GEM 上市的為多。
- (2) 主板上市申請人的其中一項基本上市要求是「最少前三個會計年度的管理層維持不變」。
- (3) 主板是為大型及根基穩健的公司而設的。

- A. 只有 (1) 及 (2)
- B. 只有 (1) 及 (3)
- C. 只有 (2) 及 (3)
- D. (1)、(2) 及 (3)

以下試題不在課程範圍內：

- PP.Q3 – 年金 TVM Annuity
- PP.Q4(a) – 三線股 vs. 藍籌股
- 2015.Q3(b) – 投資者賠償基金

1. SP.Q4(i)(ii)

李先生於兩年前退休，並將\$1 000 000 的退休金作定期存款，年息 4.5%。他的朋友建議他投資其他金融產品，以獲取較高的回報。

- (i) 列舉在香港證券市場內可供李先生考慮的三類金融產品。 (3 分)
- (ii) 說明李先生在決定把部分定期存款轉為投資其他金融產品時，須考慮的兩個因素。 (4 分)

2. SP.Q5

黃先生將購置樓宇自住，現金價 \$1 380 000。以下為兩項財務融資安排：

安排一 於 20X7 年 1 月 1 日向銀行借入私人貸款 \$1 380 000，並於 20X9 年底一筆過還款 \$2 000 000。

安排二 向發展商以分期付款形式購入物業如下：

首期，	20X7 年 1 月 1 日繳付	\$600 000
	分期，	
	20X7 年底繳付	500 000
	20X8 年底繳付	400 000
	20X9 年底繳付	<u>300 000</u>
		<u>\$1 800 000</u>

資金成本為每年 10%。

- (a) 根據上述財務資料，分別計算安排一及安排二的現值（計算至整數元）。 (5 分)
- (b) 建議陳先生應採用哪一項融資安排。 (2 分)

3. PP.Q4(b) [Modified]

林先生計劃以所有積蓄購入在香港交易所上市的股票。他的朋友向他建議把部分投資轉至在美國紐約證券交易所上市的股票（“美股”），以分散風險。

- (b) 即使林先生將部分投資轉至投資美股，也不能避免哪一類財務風險？試加以解釋。 (2 分)

4. 2012.Q3(a)(b)

歐先生是欠缺經驗的投資者，他的投資主要集中在某一公司的股票。他兒子建議他轉移部分投資至互惠基金，或其他風險較低而回報穩定的投資工具。

- (a) 簡單解釋歐先生可透過投資互惠基金達到的一項目的。 (2 分)
- (b) 試向歐先生列舉兩項風險較低而回報穩定的投資工具。 (2 分)

5. 2013.Q1

- (a) 很多人以信用卡購買商品及服務。說明使用信用卡對顧客的兩項好處。 (4 分)
- (b) 舉出一個原因解釋為何信用卡公司傾向發卡予個人信貸記錄良好的申請人。 (2 分)

6. 2014.Q4(a)(b)

湯武計劃三年後結婚置業，預算樓價是\$3 000 000，須付樓價的 30%作為首期。為了儲足款項支付首期，湯武決定在銀行存入一筆定期存款。

- (a) 若銀行的定期存款年利率是 2%，湯武在今天存入的金額應為多少？（註：利息每年以複息計算，所有金額及算至整數元。） (2 分)
- (b) 湯武的朋友建議他以這筆款項投資證券，以獲取較高的回報。鑒於湯武須在三年後儲足款項支付樓價的首期，你會建議他投資政府債券還是普通股？解釋原因。 (3 分)

7. 2015.Q3(a)

賈文是一名散戶投資者。他透過一名香港持牌證券經理投資\$200 000，購入一些在香港交易所上市的股票。

- (a) 解釋投資者從投資股票可獲得的兩則利益。 (4 分)

8. 2016.Q2

- (a) 解釋在本地經濟蓬勃時，香港一家物業發展公司的股價會如何變化。 (3 分)
- (b) 舉出恆生指數對投資者作投資決定的兩項用處。 (4 分)

9. 2017.Q2

馬莉剛退休，並取得她的退休金。一位財務策劃師建議她將退休金投資在不同的金融工具。

- (a) 解釋馬莉退休後的兩項財務需要。 (4 分)
- (b) 作為投資者，馬莉應承擔什麼責任？列出其中兩項。 (2 分)

10. 2018.Q3(a)

大名有限公司是一家上市公司，經營百貨業務，於本港設有五家規模相若的分店。

- (a) 撇除其他因素，分別解釋以下兩項政策如何影響大名有限公司的股價。 (4 分)
- (i) 公司慷慨的派息政策
- (ii) 內地政府限制居民每星期來港次數

11. 2019.Q2(a)

- (a) 莊力剛大學畢業。他的老師提醒他需要保持良好的個人信貸記錄。

舉出影響莊力個人信貸記錄的兩項因素，並分別解釋每項因素如何影響他的個人信貸記錄。 (4 分)

12. 2020.Q3

子山現年 30 歲，未婚，是一家國際會計師事務所的專業會計師。他剛購置了一個住宅單位，繳付了樓價的首期。為給新居購置家具，他考慮使用他的信用卡、申請私人貸款或銀行透支。

- (a) 什麼是「銀行透支」？ (2 分)
- (b) 如果子山決定使用信用卡繳付家具，舉出使用他的信用卡而非申請私人貸款的兩個理由。 (4 分)
- (c) 列出子山在現時人生階段中的兩項財務需要。 (2 分)

以下試題不在課程範圍內：

- PP.Q3 – 年金 TVM Annuity
- PP.Q4(a) – 三線股 vs. 藍籌股
- 2015.Q3(b) – 投資者賠償基金

1. SP.Q4(i)(ii)

(i)

種類：

- 股票
- 債券
- 商業票據或其他票據
- 衍生工具，例如期貨、認股證及期權等
- 基金

(每項適切的種類 1 分，最高 3 分)

(ii)

因素：

- 預計回報，例如該金融產品的股息率或票面息率
- 承擔風險的能力，例如承受資本損失的能力
- 金融產品的變現能力
- 處理投資項目所需的時間和精力

(每項適切的因素 2 分，最高 4 分)

2. SP.Q5

(a) 安排一的現值 2
 $\$2\,000\,000 \div (1.1)^3 = \$1\,502\,630$

安排二的現值 3

年度	計算 (\$)	現值 (\$)
20X7年初	600 000	600 000
20X7年底	$500\,000 \div (1.1)$	454 545
20X8年底	$400\,000 \div (1.1)^2$	330 579
20X9年底	$300\,000 \div (1.1)^3$	225 394
		<u>1 610 518</u>

(b) 黃先生應採用安排一，因其折現後成本較安排二的為低。 2
7分

3. PP.Q4(b) [Modified]

市場風險 1
 - 受整體金融市場影響，不能控制 1

4. 2012.Q3(a)(b)

(a)

目的：

- 分散風險
- 簡化資產管理

(每項相關的目的 2 分，最高 2 分)

(b)

建議：

- 定期存款
- 政府債券
- 外匯基金票據

(每項相關的建議 1 分，最高 2 分)

5. 2013.Q1

(a) 益處：4

- 延遲付款：例如可購買貨品 / 服務而毋需即時付款
- 安全：例如毋需攜帶大量現金
- 方便：例如世界通行
- 優惠：例如可享折扣 / 特別禮品優惠

(每項適切的益處 2 分，最高 4 分)

(b) 原因：

- 準時收取欠款機會較高
- 申請人的信貸可靠性 / 信用評級較佳

(每項適切的原因 2 分，最高 2 分)

6. 2014.Q4(a)(b)

(a) 現值 = $(\$3\,000\,000 \times 30\%) / (1.02)^3 = \sim \$848\,090$ 2

(b)

政府債券 1

投資風險較低，較確定能達致所須的金額 1

- 湯武會得到固定的收入，以達致目標回報 最高 1 分

- 若湯武購買三年期的債券，他可在債券到期日取回本金

- 普通股不一定派發股息，金額亦可以每年不同，未能保證獲得目標回報

- 股價會波動，湯武在三年後出售股票時可能有資本損失

(每項適切的闡述 1 分，最高 1 分)

7. 2015.Q3(a)

利益：

- 因股票升值而賺取的資本收益
- 從股息得到的投資收入
- 可以影響公司管理的投票權

(每項適切的利益 2 分，最高 4 分)

8. 2016.Q2

(a) 股價將會上升 1
因為

- 個人收入增加 最高 2 分
 - 人們較為願意購買/投資物業
 - 物業發展公司的盈利能力上升
- (每項適切的說明 1 分，最高 2 分)

(b) 用處： 最高 4 分

- 評估香港上市公司股票的**整體表現**
 - 比較香港股票市場不同**時段**的表現
(e.g. 恆生指數 2016 vs 恆生指數 2015)
 - 比較不同**股票市場**的表現
(e.g. 美國納斯達克指數、道瓊斯工業平均指數)
- (每項適切的用處 2 分，最高 4 分) 共 7 分

9. 2017.Q2

(a) 財務需要 4

- 支付日常開支，以維持她的生活
 - 應付突發需要，例如緊急醫療費用
 - 遺產分配，例如殮葬費用
- (每項相關的需 2 分，最高 4 分)

(b) 責任： 2

- 簽署投資合約前了解合約條款
 - 查閱帳戶報表和交易文件
 - 了解投資工具所涉及的特性和風險
- (每項相關的責任 1 分，最高 2 分)

10. 2018.Q3(a)

(a)(i) 慷慨的派息政策： 2

- 股東能賺取更高回報 / 對公司前景樂觀，這會吸引更多人投資公司的股票，股價會上升。

(ii) 限制來港次數： 2

- 銷售予訪客會減少，公司盈利能力會下降，股東會減持該公司的股票，股價會下降。

(a)(i) Generous dividend policy

<ul style="list-style-type: none"> • Higher returns / more optimistic / higher confident. • Attract more investment / More people want to buy the shares of Darwin Limited. <p>(Any 1 of the above elements).</p> <p style="text-align: center;">+</p> <ul style="list-style-type: none"> • Share price will increase → 1 mark.
--

1. Describing any change of the share price of Darwin Limited WITHOUT explanation → "0"

2. Share price **will increase** because:-
- 2.1 the company is willing to pay dividend. (No further explanation) → "0"
 - 2.2 it can protect the benefit of the shareholders → "0"
 - 2.3 the investors can get more dividend → "0"
 - 2.4 the company will have a better reputation when it pays more dividend / interest rate. → "0"

(ii) Limit the number of visits to Hong Kong

<ul style="list-style-type: none"> • Number of customers will decrease / sales to customers / revenue will decrease. • Lower profitability / more pessimistic / shareholders sell the shares. <p>(Any 1 of the above elements).</p> <p style="text-align: center;">+</p> <ul style="list-style-type: none"> • Share price will decrease → 1 mark.
--

1. Describing any change of the share price of Darwin Limited WITHOUT explanation → "0"

2. Share price **will decrease** because:-
- 2.1 Less visitors → less shopping → business is worsen → "2"
 - 2.2 Less visitors → revenue may decrease → "1"

11. 2019.Q2(a)

(a) 因素：

- 還款記錄/拖欠記錄：例如若莊力過往準時還款，他的個人信貸記錄會較好
- 破產記錄：例如若莊力過往曾經破產，他的個人信貸記錄會較差
- 信貸記錄：例如若莊力過往成功申請及適當運用信貸，他的個人信貸記錄會較好
- 財務狀況：例如莊力現時的欠債金額低，他的個人信貸記錄會較好

(每項適切的因素 2 分，最高 4 分)

4

Supplementary marking notes for Q2(a)

- should state the relevant **factor** and make **relevant explanation** 1+1
- should explain **how** the factor affect his personal credit record
- ✓ **Credit history** 信貸紀錄: 一次或短時間內申請了多張信用卡
 - × income level 工作收入
 - × economic ability 經濟能力
 - × personal characters 個人品格
 - × owns many credit cards 擁有多張信用卡
 - × poor record 不良紀錄

營商環境 答案 Business Environment Answers

1.	C	11.	C (66%)	21.	D (37%)	31.	A (76%)	41.	C (41%)	51.	C (63%)
2.	A	12.	D (62%)	22.	B (80%)	32.	C (42%)	42.	A (48%)	52.	A (72%)
3.	B	13.	A (89%)	23.	**	33.	C (54%)	43.	A (61%)	53.	D (66%)
4.	D	14.	D (67%)	24.	D(25%)	34.	A (82%)	44.	A (76%)	54.	D (75%)
5.	D	15.	C (85%)	25.	B (89%)	35.	B (61%)	45.	D (67%)	55.	
6.	D	16.	A (49%)	26.	B (39%)	36.	D (61%)	46.	A (48%)	56.	
7.	B	17.	A (83%)	27.	C (62%)	37.	C (82%)	47.	D (75%)	57.	
8.	C	18.	C (91%)	28.	B (51%)	38.	C (47%)	48.	A (55%)	58.	
9.	B (out-syl)	19.	A (71%)	29.	B (50%)	39.	A (93%)	49.	A (54%)	59.	
10.	D (78%)	20.	B (54%)	30.	C (41%)	40.	C (79%)	50.	C (63%)	60.	

**Deleted.

Note: PP.MC.Q3, 2013.MC.Q4, 2012.MC.Q8, 2016.MC.Q8 out of syllabus

/O : Out-syl questions

管理導論 答案 Introduction to Management Answers

1.	C	11.	A/O	21.	B/O	31.	B (74)	41.	C (39)	51.	D (71)	61.	B (60)	71.	B (57)
2.	B/O	12.	A	22.	D/O	32.	C (90)	42.	A (42)	52.	B (79)	62.	A (68)	72.	D (60)
3.	A/O	13.	B/O	23.	A/O	33.	A/O (75)	43.	D (59)	53.	C (77)	63.	C (67)	73.	B (74)
4.	C/O	14.	D (88)	24.	A (81)	34.	A/O (64)	44.	B (66)	54.	B (68)	64.	B (74)	74.	A (74)
5.	B/O	15.	A (21)	25.	B (37)	35.	D/O (72)	45.	C (85)	55.	C (64)	65.	D (70)	75.	B (62)
6.	A	16.	B (45)	26.	A (92)	36.	B (73)	46.	B (85)	56.	A (57)	66.	D (74)	76.	A (59)
7.	D	17.	A/O	27.	C/O	37.	C (78)	47.	D (56)	57.	D (89)	67.	B (68)	77.	
8.	A	18.	A (42)	28.	A/O	38.	A (63)	48.	A (61)	58.	A (81)	68.	D (58)	78.	
9.	C	19.	D (59)	29.	D/O	39.	A (84)	49.	A (80)	59.	B (64)	69.	A (32)	79.	
10.	D	20.	B (69)	30.	C (44)	40.	A (59)	50.	B (71)	60.	C (74)	70.	D (25)	80.	

TBU: To be updated

1. SP.MC.Q4

為了達到企業目標而分配工作及安排人力資源的過程稱為：

- A. 控制
- B. 指導
- C. 組織
- D. 計劃

2. SP.MC.Q5 [out-syl]

3. SP.MC.Q8 [out-syl]

4. SP.MC.Q10 [out-syl]

5. PP.MC.Q5 [out-syl]

6. PP.MC.Q15

計劃的步驟包括

- (1) 決定企業目標。
 - (2) 增大企業利潤。
 - (3) 完成各項任務以達致企業目標。
- A. 只有(1)
 - B. 只有(1) 及 (2)
 - C. 只有(2) 及 (3)
 - D. (1)、(2) 及 (3)

7. PP.MC.Q16

以下哪項是中小型企業在香港經濟中擔當的角色？

- (1) 創造就業
 - (2) 拓闊產品種類
 - (3) 促進競爭
- A. 只有(1) 及 (2)
 - B. 只有(1) 及 (3)
 - C. 只有(2) 及 (3)
 - D. (1)、(2) 及 (3)

8. PP.MC.Q18

以下哪項是地產代理員的表現指標？

- (1) 顧客投訴數目
 - (2) 成交量
 - (3) 物業價值增幅
- A. 只有(1) 及 (2)
 - B. 只有(1) 及 (3)
 - C. 只有(2) 及 (3)
 - D. (1)、(2) 及 (3)

9. PP.MC.Q21

以下哪項為保險對企業的功能？

- (1) 減低企業的營運風險
 - (2) 為企業轉移風險
 - (3) 為企業提供資金來源
- A. 只有(1) 及 (2)
 - B. 只有(1) 及 (3)
 - C. 只有(2) 及 (3)
 - D. (1)、(2) 及 (3)

10. PP.MC.Q24

一家書店計劃聘請數名銷售助理，下列哪些管理功能有助訂定他們的薪酬？

- (1) 人力資源管理
 - (2) 財務管理
 - (3) 資訊管理
- A. 只有(1) 及 (2)
 - B. 只有(1) 及 (3)
 - C. 只有(2) 及 (3)
 - D. (1)、(2) 及 (3)

11. PP.MC.Q25 [out-syl]

12. PP.MC.Q26

以下哪項為香港中小型企業（中小企）與跨國公司的不同之處？

- A. 中小企的融資途徑有限；跨國公司的融資途徑較廣。
- B. 中小企在本地經營；跨國公司在本地以外運作。
- C. 中小企不願回應市場轉變；跨國公司積極回應市場轉變。
- D. 中小企資本密集，採用簡單技術；跨國公司勞動密集，採用先進技術。

13. PP.MC.Q27 [out-syl]

14. 2012.MC.Q1 [out-syl]

15. 2012.MC.Q4

中小型企業可以不同形式的擁有權經營。它們

- (1) 涵蓋大型企業未能服務的市場區隔。
 (2) 較大型企業為本地勞工提供更多就業機會。
 (3) 較大型企業享有更低稅率。
- A. 只有(1) 及 (2)
 B. 只有(1) 及 (3)
 C. 只有(2) 及 (3)
 D. (1)、(2) 及 (3)

16. 2012.MC.Q6

下列哪項不屬於一家企業銷售部門的控制過程之內？

- A. 設定銷售目標
 B. 委派售貨員至不同的銷售隊伍
 C. 記錄售貨員的銷售量
 D. 調整銷售目標

17. 2012.MC.Q7 [out-syl]

18. 2012.MC.Q15

人力資源經理負責

- (4) 設計工作評核系統。
 (5) 發展員工技能與天賦。
 (6) 編排工作流程。
- A. 只有(1) 及 (2)
 B. 只有(1) 及 (3)
 C. 只有(2) 及 (3)
 D. (1)、(2) 及 (3)

19. 2012.MC.Q19

下列哪項是企業應用目標管理的好處？

- (1) 改善管理層與員工之間的溝通
 (2) 提高員工士氣
 (3) 有助檢查員工表現
- A. 只有(1) 及 (2)
 B. 只有(1) 及 (3)
 C. 只有(2) 及 (3)
 D. (1)、(2) 及 (3)

20. 2012.MC.Q23

下列哪項為一家小型商號與一家大型企業不同之處？

- | | | |
|----------|------|------|
| | 小型商號 | 大型企業 |
| (1) 決策 | 具彈性 | 欠缺彈性 |
| (2) 業務範圍 | 多元化 | 專門化 |
| (3) 管理層次 | 較少 | 較多 |
- A. 只有(1) 及 (2)
 B. 只有(1) 及 (3)
 C. 只有(2) 及 (3)
 D. (1)、(2) 及 (3)

21. 2012.MC.Q29 [out-syl]

22. 2012.MC.Q30 [out-syl]

23. 2013.MC.Q4 不在課程範圍內

24. 2013.MC.Q8

下列哪些是正確的陳述？

- (1) 職權可授予下屬。
 (2) 職權是指揮及決策的權力。
 (3) 前線員工毋須職權來執行職務。
- A. 只有(1) 及 (2)
 B. 只有(1) 及 (3)
 C. 只有(2) 及 (3)
 D. (1)、(2) 及 (3)

25. 2013.MC.Q11

下列哪項關於本港中小型企業(中小企)的陳述是正確的？

- A. 中小企享有較低稅率。
 B. 中小企可在證券交易所上市。
 C. 中小企只從事初級及次級生產。
 D. 中小企不會僱用超過二十位的員工。

26. 2013.MC.Q13

下列哪項是公司市場營銷部門的工作？

- (1) 調查顧客需要
 (2) 訂定產品價格
 (3) 支付花紅予售貨員
- A. 只有(1) 及 (2)
 B. 只有(1) 及 (3)
 C. 只有(2) 及 (3)
 D. (1)、(2) 及 (3)

27. 2013.MC.Q21 [out-syl]

28. 2013.MC.Q23 [out-syl]

29. 2013.MC.Q29 [out-syl]

30. 2014.MC.Q6

下列哪項關於香港中小型企業(中小企)的陳述是正確的？

- (1) 中小企是指僱用少於 50 人的企業。
 - (2) 中小企為香港提供大多數就業機會。
 - (3) 中小企通常補足大型公司未有提供的產品和服務。
- A. 只有(1) 及 (2)
B. 只有(1) 及 (3)
C. 只有(2) 及 (3)
D. (1)、(2) 及 (3)

31. 2014.MC.Q17

陳先生是某大型連鎖超級市場的總經理，她為連鎖店訂下目標：「我們要盡快把九龍區的營業額增加 10%。」這目標未能符合下列哪項訂定良好目標的準則？

- (1) 具體的
 - (2) 具時限的
 - (3) 可量度的
- A. 只有(1)
B. 只有(2)
C. 只有(1) 及 (3)
D. 只有(2) 及 (3)

32. 2014.MC.Q21

目標管理(MBO)有下列哪些優點？

- (1) 減少文書工作
 - (2) 能更有效監控下屬的工作進度
 - (3) 有助加強不同職級之間的協調
- A. 只有(1) 及 (2)
B. 只有(1) 及 (3)
C. 只有(2) 及 (3)
D. (1)、(2) 及 (3)

33. 2014.MC.Q22 [out-syl]

34. 2014.MC.Q23 [out-syl]

35. 2014.MC.Q24 [out-syl]

36. 2014.MC.Q25

進行問卷調查以了解客戶需要屬於 _____ 的範疇。

- A. 營運管理
B. 市場營銷管理
C. 資訊管理
D. 風險管理

37. 2015.MC.Q3

蘇珊是一家成衣商號的時裝設計組組長。她只提出概括的方向，讓設計師按自己的方法來完成指派的工作。

蘇珊採用 _____ 式的領導風格。

- A. 獨裁
B. 中央集權
C. 自由放任
D. 參與

38. 2015.MC.Q6

下列哪些顯示管理的重要？

- (1) 促使企業有效率地運用資源
- (2) 協助員工有效達到企業目標
- (3) 避免企業受外在因素影響

- A. 只有(1) 及 (2)
B. 只有(1) 及 (3)
C. 只有(2) 及 (3)
D. (1)、(2) 及 (3)

39. 2015.MC.Q11

下列哪項是香港中小型企業(中小企)的特徵？

- (1) 它們迅速回應市場轉變。
- (2) 它們擁有高架式組織結構。
- (3) 它們的稅率有別於大企業。

- A. 只有(1)
B. 只有(2)
C. 只有(1) 及 (2)
D. 只有(2) 及 (3)

40. 2015.MC.Q13

下列哪些是一家公司財務部門的工作？

- (1) 為公司作投資決定
- (2) 制定公司收帳政策
- (3) 設立員工報酬制度

- A. 只有(1) 及 (2)
- B. 只有(1) 及 (3)
- C. 只有(2) 及 (3)
- D. (1)、(2) 及 (3)

41. 2015.MC.Q21

公司的營運經理負責_____。

- (1) 指派工廠工人的工作。
- (2) 預測產品的需求。
- (3) 建立廠房的生產線。

- A. 只有(1)
- B. 只有(2)
- C. 只有(1) 及 (3)
- D. (1)、(2) 及 (3)

42. 2016.MC.Q1

下列哪項是位於香港的跨國公司的特徵？

- (1) 它們也會在香港以外地方營運。
- (2) 它們都在香港的證券交易所上市。
- (3) 它們的僱員人數多於 100。

- A. 只有(1)
- B. 只有(1) 及 (2)
- C. 只有(2) 及 (3)
- D. (1)、(2) 及 (3)

43. 2016.MC.Q2

相對於高架式架構，下列哪項是扁平式架構的特點？

- (1) 控制幅度較闊
- (2) 管理階層層數較少
- (3) 決策過程較短

- A. 只有(1) 及 (2)
- B. 只有(1) 及 (3)
- C. 只有(2) 及 (3)
- D. (1)、(2) 及 (3)

44. 2016.MC.Q3

在一家按地域劃分不同部門的公司，

- A. 部門辦公室設立於在部門所管轄的區域。
- B. 部門經理負責他所管轄區域的企業營運。
- C. 部門銷售點只會出售部門所管轄區域生產的貨物。
- D. 部門只在所管轄區域內聘請員工。

45. 2016.MC.Q7

在下列哪些項情況下，管理層應採用獨裁式領導？

- (1) 下屬只負責重複和簡單的工作
- (2) 下屬願意承擔責任
- (3) 公司經常需要迅速作出決定

- A. 只有(1)
- B. 只有(1) 及 (2)
- C. 只有(1) 及 (3)
- D. 只有(2) 及 (3)

46. 2016.MC.Q8 不在課程範圍內。

47. 2016.MC.Q10

下列哪項有關『分工』的陳述是正確的？

- (1) 分工促進自動化生產。
- (2) 分工令經理較容易監察生產過程。
- (3) 分工令員工更容易掌握他們負責的生產工序。

- A. 只有(1) 及 (2)
- B. 只有(1) 及 (3)
- C. 只有(2) 及 (3)
- D. (1)、(2) 及 (3)

48. 2016.MC.Q20

下列哪項說明中小型企業對本地經濟的重要性？

- (1) 他們為大企業提供物料和服務。
- (2) 他們供應獨特的產品以滿足香港市場的需要。
- (3) 他們是香港稅收的主要來源。

- A. 只有(1) 和 (2)
- B. 只有(1) 和 (3)
- C. 只有(2) 和 (3)
- D. (1)、(2) 和 (3)

49. 2016.MC.Q22

下列哪項是為計劃定下目標所帶來的好處？

- (1) 為員工提供清晰方向
- (2) 有助控制工作進度及監察員工表現
- (3) 減輕員工工作量

- A. 只有(1) 和 (2)
- B. 只有(1) 和 (3)
- C. 只有(2) 和 (3)
- D. (1)、(2) 和 (3)

50. 2016.MC.Q24

下列哪項有關『統一命令』的陳述是正確的？

- A. 每名經理只負責一個項目。
- B. 每名下屬只直接向一名上司報告。
- C. 所有僱員都朝相同目標工作。
- D. 所有獲派同一任務的僱員都會收到相同的指令。

51. 2017.MC.Q4

下列哪項有關企業管理的陳述是正確的？

- (1) 在統一命令原則下，每名下屬只聽命於一名上司。
- (2) 高架式架構的階層較扁平式架構的為多。
- (3) 目標管理可改善上司與下屬之間的溝通。

- A. 只有 (1) 及 (2)
- B. 只有 (1) 及 (3)
- C. 只有 (2) 及 (3)
- D. (1)、(2) 及 (3)

52. 2017.MC.Q8

下列哪項是公司資訊管理部門的工作？

- (1) 為人力資源部門的培訓記錄，設計檔案儲存系統
- (2) 協助市場營銷部門處理市場研究數據
- (3) 為財務部門編製預算

- A. 只有 (1)
- B. 只有 (1) 及 (2)
- C. 只有 (2) 及 (3)
- D. (1)、(2) 及 (3)

53. 2017.MC.Q14

下列哪項展示企業家精神對商業發展的重要？

- (1) 減少企業風險
- (2) 促進經濟增長
- (3) 鼓勵創新

- A. 只有 (1) 及 (2)
- B. 只有 (1) 及 (3)
- C. 只有 (2) 及 (3)
- D. (1)、(2) 及 (3)

54. 2017.MC.Q20

下列哪項有關香港中小型企業（中小企）的陳述是正確的？

- (1) 香港大多數企業都是中小企。
- (2) 中小企的企業擁有權類型若不是獨資，便是合夥。
- (3) 中小企通常由東主管理。

- A. 只有 (1) 及 (2)
- B. 只有 (1) 及 (3)
- C. 只有 (2) 及 (3)
- D. (1)、(2) 及 (3)

55. 2017.MC.Q24

下列哪項有關「統一的方向」的陳述是正確的？

- A. 每名主管每次只負責一個項目。
- B. 每名員工於每一時段只朝一個目標工作。
- C. 為同一項目工作的員工都有相同目標。
- D. 企業的目標應在合理的時段內完成。

56. 2017.MC.Q27

下列哪項不是企業採用民主式領導的優點？

- A. 提高營運效率
- B. 擴闊管理人員的視野
- C. 加強員工對企業政策的支持
- D. 促進管理層和員工的相互了解

57. 2018.MC.Q5

下列為品質控制所需的工作：

- (1) 抽樣量度實際次貨率
- (2) 如實際次貨率高於可接受水平，找出原因，並採取跟進措施
- (3) 訂立可接受的次貨率
- (4) 比較實際與可接受的次貨率

品質控制步驟的次序應為：

- A. (1) → (3) → (2) → (4)
- B. (1) → (4) → (3) → (2)
- C. (3) → (1) → (2) → (4)
- D. (3) → (1) → (4) → (2)

58. 2018.MC.Q9

下列哪項是公司市場營銷部門的主要功能？

- (1) 策劃市場研究
- (2) 制定貨物價格策略
- (3) 控制貨物品質

- A. 只有 (1) 及 (2)
- B. 只有 (1) 及 (3)
- C. 只有 (2) 及 (3)
- D. (1)、(2) 及 (3)

59. 2018.MC.Q16

下列哪項是企業採用目標管理的好處？

- (1) 增強下屬的工作滿足感
- (2) 降低行政成本
- (3) 減少工作延誤

- A. 只有 (1) 及 (2)
- B. 只有 (1) 及 (3)
- C. 只有 (2) 及 (3)
- D. (1)、(2) 及 (3)

60. 2018.MC.Q26

一汽車零售商為其新款汽車訂立銷售目標如下：

「在 2019 年，有 50% 香港駕駛人士會購買我們的新款汽車。」

這銷售目標符合下列哪項訂定良好目標的準則？

- (1) 具體的
- (2) 可量度的
- (3) 可達到的

- A. 只有 (2)
- B. 只有 (3)
- C. 只有 (1) 及 (2)
- D. 只有 (1) 及 (3)

61. 2018.MC.Q27

以下哪項有關「職權」的陳述是正確的？

- (1) 營運經理對其下屬有幕僚職權。
- (2) 人力資源經理對廠房經理有直線職權。
- (3) 會計經理對其下屬有直線職權。

- A. 只有 (2)
- B. 只有 (3)
- C. 只有 (1) 及 (2)
- D. (1)、(2) 及 (3)

62. 2019.MC.Q3

下列哪項有關「目標管理」的陳述是正確的？

- (1) 它可提升員工士氣。
- (2) 它可促進上司與下屬的溝通。
- (3) 它讓上司專注較重要的工作。

- A. 只有 (1) 及 (2)
- B. 只有 (1) 及 (3)
- C. 只有 (2) 及 (3)
- D. (1)、(2) 及 (3)

63. 2019.MC.Q7

一家公司將在市場推出新產品，公司的財務經理負責_____。

- (1) 為新產品指定售價
- (2) 為推出新產品尋求資金
- (3) 為新產品編製預算

- A. 只有 (1) 及 (2)
- B. 只有 (1) 及 (3)
- C. 只有 (2) 及 (3)
- D. (1)、(2) 及 (3)

64. 2019.MC.Q13

下列哪項有關香港中小型企業（中小企）的陳述是正確的？

- (1) 它的僱員人數約佔香港總就業人數（不計公務員）的 80%。
- (2) 它可以有限公司營運。
- (3) 每家中小企的全年銷售收益不可多於五百萬元。

- A. 只有(1)
- B. 只有(2)
- C. 只有 (1) 及 (3)
- D. 只有 (2) 及 (3)

65. 2019.MC.Q21

下列哪項有關企業家的陳述是正確的？

- (1) 他們願意接受挑戰。
- (2) 他們創造就業機會，從而促進經濟增長。
- (3) 他們引入新產品和服務，從而促進市場競爭。

- A. 只有 (1) 及 (2)
- B. 只有 (1) 及 (3)
- C. 只有 (2) 及 (3)
- D. (1)、(2) 及 (3)

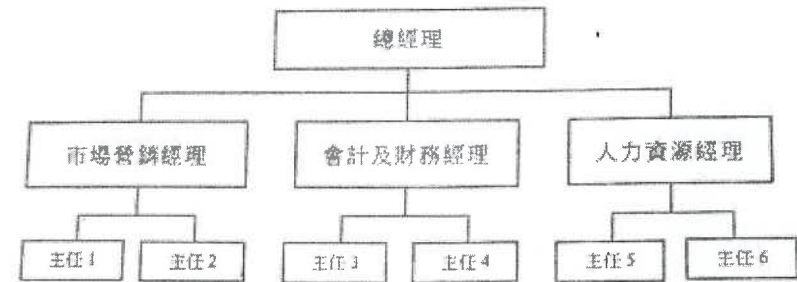
66. 2019.MC.Q27

一名經理將員工的實際表現與表現標準比較。這工作屬於下列哪項管理功能？

- A. 領導
- B. 組織
- C. 計劃
- D. 控制

67. 2019.MC.Q30

某公司的組織圖如下：



下列哪項陳述是正確的？

- (1) 該公司是按功能劃分部門。
- (2) 總經理的控制幅度是九。
- (3) 總經理對市場營銷經理有直線職權。

- A. 只有 (1) 及 (2)
- B. 只有 (1) 及 (3)
- C. 只有 (2) 及 (3)
- D. (1)、(2) 及 (3)

68. 2020.MC.Q2

下列哪項是管理對企業的重要？

- (1) 善用機構資源
- (2) 建立健全的組織架構
- (3) 有效達成機構的目標

- A. 只有 (1) 及 (2)
- B. 只有 (1) 及 (3)
- C. 只有 (2) 及 (3)
- D. (1)、(2) 及 (3)

69. 2020.MC.Q6

下列哪項有關良好(SMART)目標的描述是正確的？

- (1) 應是量化的
- (2) 應有預計的完成時間
- (3) 應清楚陳述達成目標的方法

- A. 只有 (1) 及 (2)
- B. 只有 (1) 及 (3)
- C. 只有 (2) 及 (3)
- D. (1)、(2) 及 (3)

70. 2020.MC.Q7

某公司有不同部門。由於公司的其中一個目標是改善銷售人員的服務質素，因此公司人力資源經理指派她的下屬李先生為銷售人員設計培訓課程。李先生只向人力資源經理匯報。這情境展示了下列哪項有效管理原則？

- (1) 統一的方向
- (2) 統一命令
- (3) 分工

- A. 只有 (1) 及 (2)
- B. 只有 (1) 及 (3)
- C. 只有 (2) 及 (3)
- D. (1)、(2) 及 (3)

71. 2020.MC.Q12

一家銀行設有存款、貸款、信用卡、投資及個人理財策劃部門，而個人理財策劃部門之下又設有港島、九龍及新界分部。指出這銀行劃分部門的方式。

- (1) 按產品
- (2) 按功能
- (3) 按地區

- A. 只有 (1) 及 (2)
- B. 只有 (1) 及 (3)
- C. 只有 (2) 及 (3)
- D. (1)、(2) 及 (3)

72. 2020.MC.Q17

下列哪項有關權力和責任的陳述是正確的？

- (1) 工作崗位的責任與權力平衡。
- (2) 管理人員的權力和責任由低層至高層遞增。
- (3) 授權是指上司把與工作有關的權力和責任交予下屬。

- A. 只有 (1) 及 (2)
- B. 只有 (1) 及 (3)
- C. 只有 (2) 及 (3)
- D. (1)、(2) 及 (3)

73. 2020.MC.Q21

下列哪項陳述是**不**正確的？

- A. 人力資源部門根據財務部門所設的條件招聘會計文員。
- B. 資訊管理部門運用市場營銷部門收集的數據訂定產品價格。
- C. 風險管理部門為營運部門評估使用工具和機器的風險。
- D. 財務部門為營運部門取得貸款，以擴展生產能力。

74. 2020.MC.Q26

甲公司和乙公司的員工數目相同。甲公司採用扁平式組織架構，而乙公司採用高架式組織架構。下列哪項陳述是正確的？

- (1) 甲公司較迅速回應市場轉變。
 - (2) 甲公司的管理層級較多。
 - (3) 甲公司的管理人員較多。
- A. 只有 (1)
B. 只有 (2)
C. 只有 (1) 及 (3)
D. 只有 (2) 及 (3)

75. 2020.MC.Q27

下列哪項有關跨國公司的陳述是正確的？

- (1) 跨國公司是公眾有限公司。
 - (2) 跨國公司在不同國家營運。
 - (3) 本地公司在其他國家籌集資本便成為跨國公司。
- A. 只有 (1)
B. 只有 (2)
C. 只有 (1) 及 (2)
D. 只有 (2) 及 (3)

76. 2020.MC.Q29

在下列哪些情況下，上司應採用自由放任式領導？

- (1) 工作要求高階的創意
 - (2) 下屬均年青而有活力
 - (3) 上司與下屬關係良好
- A. 只有 (1)
B. 只有 (1) 及 (3)
C. 只有 (2) 及 (3)
D. (1)、(2) 及 (3)

1. SP.MC.Q1

以下哪項是支持社會責任的普遍論據？

- (1) 利潤極大化
 - (2) 減低貨品價格
 - (3) 符合公眾期望
 - (4) 改善公司形象
- A. 只有(1)和(2)
B. 只有(2)和(3)
C. 只有(3)和(4)
D. (1)、(2)、(3)和(4)

2. SP.MC.Q2

以下哪些句子正確描述債券持有人和股東的分別？

- (1) 股東有投票權，債券持有人則沒有。
 - (2) 股東是公司的擁有人，債券持有人則是債權人。
 - (3) 當公司倒閉時，股東較債券持有人優先取回投資。
 - (4) 股東收取不定額的利息，債券持有人則定期收取定額的利息。
- A. 只有(1)和(2)
B. 只有(3)和(4)
C. 只有(1)、(2)和(3)
D. 只有(1)、(2)和(4)

3. SP.MC.Q3

如果你和朋友成立合夥企業，你可享有以下哪些利益？

- (1) 你可以享有有限債務責任。
 - (2) 企業以獨立法體存在。
 - (3) 董事局提供專業的管理知識。
 - (4) 企業資料不需要公開。
- A. 只有(1)和(2)
B. 只有(1)和(4)
C. 只有(2)和(3)
D. 只有(3)和(4)

4. SP.MC.Q6

以下哪項是支持全球一體化的普遍論據？

- (1) 增進自由貿易
- (2) 促進專門化
- (3) 履行全球責任，解決貧窮問題
- (4) 讓人們享用更多種類的產品及服務

- A. 只有(1)和(2)
- B. 只有(3)和(4)
- C. 只有(1)、(2)和(3)
- D. 只有(1)、(2)和(4)

5. SP.MC.Q9

NSS 有限公司舉行董事局會議，考慮收購新加坡一家時裝店，藉此擴展其成衣業務至海外。財務總監安娜就這項收購提供了一系列的財務分析。

以下哪些非財務因素亦會跟收購的決定相關？

- (1) 政治穩定
- (2) 市場的規模和潛力
- (3) 目標顧客的文化差異
- (4) 通訊及運輸設施

- A. 只有(1)和(4)
- B. 只有(2)和(3)
- C. 只有(2)、(3)和(4)
- D. (1)、(2)、(3)和(4)

6. PP.MC.Q1

馬葛擬在旺角開設一所乳酪專門店。他就目標顧客的口味和喜好作調查，這項調查是為下列哪項因素收集資料？

- A. 科技因素
- B. 自然地理因素
- C. 經濟因素
- D. 社會及文化因素

7. PP.MC.Q14

張女士在一家成立已久的雜貨店工作。她考慮辭職，然後創立自己的雜貨店。她的僱主施先生年屆62，正打算退休，遂邀請張女士收購接管其店舖。

相對開設一家新的商店，以下哪項是張女士收購接管施先生雜貨店的好處？

- A. 享有規模經濟
- B. 取得現有客源
- C. 減低營運成本
- D. 減少期初投資

8. PP.MC.Q20

以下哪項為企業擁有權的正確描述？

- A. 有限公司派發股息予普通股持有人先於優先股持有人。
- B. 特許經營由兩個或以上企業個體組成，以發展、製造及銷售產品。
- C. 獨資經營沒有獨立法人地位。
- D. 公營企業由大型跨國公司全資擁有，為大眾提供基本貨品及服務。

9. PP.MC.Q23 (不在課程範圍內)

10. 2012.MC.Q10

下列哪項是全球化對商界的影響？

- (1) 國際貿易增加
 - (2) 貨物生產成本減低
 - (3) 環球競爭加劇
- A. 只有(1) 和 (2)
 - B. 只有(1) 和 (3)
 - C. 只有(2) 和 (3)
 - D. (1)、(2) 和 (3)

11. 2012.MC.Q11

下列哪項不是《更緊密經貿關係安排》(CEPA)的目的？

- A. 減少香港與內地的貨物貿易障礙。
- B. 促進香港與內地的服務業自由貿易。
- C. 確保香港與內地之間資訊自由流通。
- D. 便利香港與內地的跨境商業投資。

12. 2012.MC.Q12

下列哪項為正確描述？

- A. 有限合夥的所有合夥人均負有有限債務責任。
- B. 有限公司的所有股東在董事局會議均擁有投票權。
- C. 有限公司需向大眾披露其財務報表。
- D. 公營公司為政府擁有。

13. 2013.MC.Q1

下列哪項有關特許經營商店的描述是正確的？

- A. 在特許權擁有人的授權下運作
- B. 可完全控制商店的推廣策略
- C. 必須登記成為有限公司
- D. 只適用於零售業及飲食業

14. 2013.MC.Q12

下列哪項不是世界貿易組織的功能？

- A. 為減少國際貿易障礙提供討論平台
- B. 排解成員之間因詮釋貿易協議而引致的糾紛
- C. 監察及審視成員的貿易政策
- D. 向發展中國家提供貸款及津貼，以助發展貿易

15. 2013.MC.Q16

下列哪項可促使跨國貿易公司把總部遷移至香港？

- (1) 香港的跨國公司數目較中小型企業為多
 - (2) 香港與其他亞洲城市之間的運輸網絡良好
 - (3) 香港的利得稅率較低
- A. 只有(1) 和 (2)
 - B. 只有(1) 和 (3)
 - C. 只有(2) 和 (3)
 - D. (1)、(2) 和 (3)

16. 2013.MC.Q22

下列哪項為正確的陳述？

- (1) 香港是中國內地的離岸人民幣業務中心。
 - (2) 中國內地是香港商品轉口的主要來源地和目的地。
 - (3) 《更緊密經貿關係安排》(CEPA)目的是為內地企業在香港籌集資金。
- A. 只有(1) 和 (2)
 - B. 只有(1) 和 (3)
 - C. 只有(2) 和 (3)
 - D. (1)、(2) 和 (3)

17. 2014.MC.Q1

下列哪項有關香港的有限公司的陳述是正確的？

- (1) 有限公司是一個獨立的法定個體。
 - (2) 有限公司較獨資商號享有較低的利得稅稅率。
 - (3) 有限公司必須在報章上發布其財務報表。
- A. 只有(1)
 - B. 只有(2)
 - C. 只有(1) 和 (3)
 - D. (1)、(2) 和 (3)

18. 2014.MC.Q3

承擔社會責任的企業會有下列哪些好處？

- (1) 降低生產成本
 - (2) 提高企業聲譽
 - (3) 吸引同樣關注社會責任的顧客
- A. 只有(1) 和 (2)
 - B. 只有(1) 和 (3)
 - C. 只有(2) 和 (3)
 - D. (1)、(2) 和 (3)

19. 2014.MC.Q15

下列哪項是影響一家香港珠寶店業務的經濟因素？

- (1) 內地旅客的收入及消費力上升。
 - (2) 內地政府讓更多內地城市的居民到香港個人遊。
 - (3) 跨境交通配套改善。
- A. 只有(1)
 - B. 只有(2)
 - C. 只有(1) 和 (3)
 - D. 只有(2) 和 (3)

20. 2014.MC.Q30

下列哪項有關亞太區經濟合作組織的陳述是正確的？

- A. 它為亞太地區的發展中國際提供貸款。
- B. 它支持亞太地區的持續經濟增長。
- C. 它調解亞太地區國際之間的貿易紛爭。
- D. 它為亞太地區生產的貨品簽發產地來源證。

21. 2015.MC.Q1

有限合夥人_____。

- A. 是名義合夥人
- B. 不需要為合夥的債務承擔責任
- C. 不需要為合夥投資金錢
- D. 不會參與合夥的管理

22. 2015.MC.Q2

下列哪項關於公司持分者的陳述是正確的？

- A. 競爭者不是公司的持分者。
- B. 公司的持分者會受公司決策所影響。
- C. 公司清盤時，所有持分者都可以獲分配公司的資產。
- D. 公司客戶只在清償其結欠後才會成為公司的持分者。

23. 2015.MC.Q16

下列哪些是香港經濟的特徵？

- (1) 簡單稅制
- (2) 倚賴對外貿易
- (3) 集中於第二級產業

- A. 只有(1) 及 (2)
- B. 只有(1) 及 (3)
- C. 只有(2) 及 (3)
- D. (1)、(2) 及 (3)

24. 2015.MC.Q22

下列哪些有關世界貿易組織的陳述是正確的？

- (1) 世界貿易組織調解會員之間的貿易糾紛。
- (2) 世界貿易組織的決定對所有會員均具有約束性。
- (3) 世界貿易組織協助發展中國家建設基建以拓展貿易。

- A. 只有(1) 及 (2)
- B. 只有(1) 及 (3)
- C. 只有(2) 及 (3)
- D. (1)、(2) 及 (3)

25. 2015.MC.Q26

下列哪些是全球一體化對企業的影響？

- (1) 降低資訊成本
- (2) 減少企業之間的競爭
- (3) 促進國與國之間的科技轉移

- A. 只有(1) 及 (2)
- B. 只有(1) 及 (3)
- C. 只有(2) 及 (3)
- D. (1)、(2) 及 (3)

26. 2015.MC.Q27

下列哪項是公營公司的特點？

- (1) 其損失由納稅人承擔。
- (2) 它以商業模式運作。
- (3) 政府參與其日常運作。

- A. 只有(1)
- B. 只有(2)
- C. 只有(1) 及 (3)
- D. 只有(2) 及 (3)

27. 2016.MC.Q6

下列哪項有關香港的合營企業的描述是正確的？

- A. 合營企業的夥伴通常平分合營企業的利潤。
- B. 合營企業必定是由一家本地公司與一家外國公司組成。
- C. 合營企業是一家獨立於其所有夥伴之外的個體。
- D. 合營企業的利得稅率較普通合夥的為低。

28. 2016.MC.Q15

下列哪家是履行社會責任的公司？

- (1) 一家發展新科技以助減少氣體排放的電力公司。
- (2) 一家接受很多社會福利機構訂單的印刷公司。
- (3) 一家鼓勵員工參與義務工作以服務社會的貿易公司。

- A. 只有(1)
- B. 只有(1) 及 (3)
- C. 只有(2) 及 (3)
- D. (1)、(2) 及 (3)

29. 2016.MC.Q16

下列哪項有關企業擁有權的陳述是正確的？

- (1) 公營公司是由政府全資擁有的。
- (2) 有限公司的最少股東人數是 2 人。
- (3) 名義合夥人不是合夥的擁有人。

- A. 只有(1) 和 (2)
- B. 只有(1) 和 (3)
- C. 只有(2) 和 (3)
- D. (1)、(2) 和 (3)

30. 2016.MC.Q17

下列哪項是《更緊密經貿關係安排》(CEPA)為香港企業所帶來的利益？

- A. 香港居民擁有的公司在內地不用繳稅。
- B. 香港與內地資金可自由流動。
- C. 原產香港的貨品出口內地不需繳付關稅。
- D. 香港可作為獨立經濟體加入世界貿易組織。

31. 2016.MC.Q28

在香港，_____ 較易成立並享有較低稅率。所有東主須對其餘東主的企業決策負責。

- A. 合夥
- B. 獨資
- C. 私人有限公司
- D. 公眾有限公司

32. 2017.MC.Q1

下列哪項有關亞太區經濟合作組織的陳述是正確的？

- (1) 它排解亞太地區的貿易糾紛。
- (2) 它促進亞太地區的可持續經濟增長。
- (3) 它透過政府與政府之間的高層對話，鼓勵亞太地區在貿易和投資方面的合作。

- A. 只有 (1)
- B. 只有 (1) 及 (2)
- C. 只有 (2) 及 (3)
- D. (1)、(2) 及 (3)

33. 2017.MC.Q6

下列哪項有關香港與內地貿易關係的陳述是正確的？

- (1) 香港是內地最大的貿易夥伴。
- (2) 以貨物價值計，內地是香港最大的轉口目的地。
- (3) 很多以香港為原產地的貨物出口到內地不需繳付關稅。

- A. 只有 (1) 及 (2)
- B. 只有 (1) 及 (3)
- C. 只有 (2) 及 (3)
- D. (1)、(2) 及 (3)

34. 2017.MC.Q11

與獨資比較，下列哪項是有限公司的優點？

- (1) 企業不會因東主的退出或死亡而結束
- (2) 成立成本較低
- (3) 利得稅稅率較低

- A. 只有 (1)
- B. 只有 (1) 及 (2)
- C. 只有 (1) 及 (3)
- D. 只有 (2) 及 (3)

35. 2017.MC.Q16

下列哪些是影響香港企業的自然地理因素？

- (1) 氣候條件
- (2) 空氣質素
- (3) 人口結構

- A. 只有 (1)
- B. 只有 (1) 及 (2)
- C. 只有 (2) 及 (3)
- D. (1)、(2) 及 (3)

36. 2017.MC.Q18

下列哪項有關香港中小型企業（中小企）的陳述是正確的？

- (1) 香港大多數企業都是中小企。
- (2) 中小企的企業擁有權類型若不是獨資，便是合夥。
- (3) 中小企通常由東主管理。

- A. 只有 (1) 及 (2)
- B. 只有 (1) 及 (3)
- C. 只有 (2) 及 (3)
- D. (1)、(2) 及 (3)

37. 2017.MC.Q30

下列哪項有關名義合夥人的陳述是正確的？

- (1) 他須承擔合夥的債務。
- (2) 他參與合夥的運作。
- (3) 他的聲譽有助推廣合夥的業務。

- A. 只有 (1)
- B. 只有 (2)
- C. 只有 (3)
- D. 只有 (2) 及 (3)

38. 2018.MC.Q1

下列哪項有關香港經濟的陳述是不正確的？

- A. 香港政府不會操控資本進出。
- B. 香港是世界貿易組織的創始成員。
- C. 香港的企業大多是跨國公司。
- D. 在《更緊密經貿關係的安排》(CEPA) 下，香港的服務提供者可在大多數服務領域以優惠待遇在內地開展業務。

39. 2018.MC.Q7

符合商業道德的行為 _____

- (1) 可提升企業的公眾形象。
- (2) 長遠來說會增加企業的營運成本。
- (3) 讓企業以較低利得稅率納稅。

- A. 只有 (1)
- B. 只有 (2)
- C. 只有 (1) 及 (3)
- D. 只有 (2) 及 (3)

40. 2018.MC.Q14

就一家玩具公司而言，下列哪項不是履行社會責任的例子？

- A. 使用回收材料製造玩具
- B. 捐贈玩具予孤兒院
- C. 聖誕期間給予顧客 20%折扣
- D. 改善員工工作環境

41. 2018.MC.Q18

海洋公園公司是香港一家公營公司，下列哪項有關它的陳述是正確的？

- (1) 它在香港交易所上市。
- (2) 它的董事局成員是由政府委任。
- (3) 它財政上自給自足。

- A. 只有 (1) 及 (2)
- B. 只有 (1) 及 (3)
- C. 只有 (2) 及 (3)
- D. (1)、(2) 及 (3)

42. 2018.MC.Q24

下列哪項有關合夥的陳述是正確的？

- (1) 普通合夥沒有有限合夥人。
- (2) 有限合夥是獨立於東主的法定個體。
- (3) 有限合夥的所有合夥人均只負有限的債務責任。

- A. 只有 (1)
- B. 只有 (1) 及 (2)
- C. 只有 (2) 及 (3)
- D. (1)、(2) 及 (3)

43. 2018.MC.Q28

與公眾有限公司比較，下列哪項是私人有限公司的優點？

- (1) 政府監管較少
- (2) 毋須向股東派發股息
- (3) 融資較易

- A. 只有 (1)
- B. 只有 (2)
- C. 只有 (3)
- D. 只有 (1) 及 (2)

44. 2019.MC.Q1

下列哪項是獨資與普通合夥的分別？

	獨資	普通合夥
(1) 決策過程	較短	較長
(2) 利得稅率	較低	較高
(3) 債務責任	無限	有限

- A. 只有 (1)
- B. 只有 (1) 及 (2)
- C. 只有 (2) 及 (3)
- D. (1)、(2) 及 (3)

45. 2019.MC.Q5

下列哪項有關 香港經濟的描述是正確的？

- (1) 對貨品零售徵收銷售稅
- (2) 大多勞動人口都是從事第三級產業
- (3) 貨品出口的主要目的地是內地

- A. 只有(1)
- B. 只有(2)
- C. 只有 (1) 及 (3)
- D. 只有 (2) 及 (3)

46. 2019.MC.Q9

下列哪項有關 商業道德的陳述是正確的？

- (1) 法律上可接受的商業行為可能是不道德的。
- (2) 「專業操守」是政府為企業編製的。
- (3) 商業道德是企業應遵循的一套有明確定義的道德原則和標準。

- A. 只有(1)
- B. 只有(2)
- C. 只有 (1) 及 (3)
- D. 只有 (2) 及 (3)

47. 2019.MC.Q11

下列哪項有關合營企業的陳述是正確的？

- (1) 企業風險由合營企業合夥人共同承擔。
- (2) 在合作項目完成後，合營企業通常便解散。
- (3) 合營企業是由最少兩家企業組成的新企業個體。

- A. 只有(1)
- B. 只有 (1) 及 (2)
- C. 只有 (2) 及 (3)
- D. (1)、(2) 及 (3)

48. 2019.MC.Q17

下列哪項是一家酒店履行社會責任的例子？

- (1) 允許文職員工在惡劣天氣情況下在家中工作
- (2) 以最低工資支付房務員
- (3) 若顧客要求，會提供魚翅

- A. 只有(1)
- B. 只有 (1) 及 (2)
- C. 只有 (2) 及 (3)
- D. (1)、(2) 及 (3)

49. 2019.MC.Q22

下列哪項有關世界貿易組織的陳述是正確的？

- (1) 它調解成員之間的貿易糾紛。
- (2) 它為成員之間的貿易談判提供平台。
- (3) 它為發展中國家的貿易發展提供財政支援。

- A. 只有 (1) 及 (2)
- B. 只有 (1) 及 (3)
- C. 只有 (2) 及 (3)
- D. (1)、(2) 及 (3)

29. 2020.MC.Q1

何名與徐思計劃共同創立及經營一家餐館，這餐館不會因任何一方的退出而結業。他們應採用哪一種企業擁有權類型？

- A. 合夥
- B. 公營公司
- C. 私人有限公司
- D. 上市公司

30. 2020.MC.Q10

下列哪項是香港經濟的特色？

- (1) 香港大多數企業均為中小型企業。
- (2) 香港是原材料的淨出口地。
- (3) 香港沒有對人口設置貿易障礙。

- A. 只有 (1)
- B. 只有 (2)
- C. 只有 (1) 及 (3)
- D. 只有 (2) 及 (3)

31. 2020.MC.Q16

以下是一家合夥商號兩名合夥人在角色上的差別：

	合夥人甲	合夥人乙
承擔債務責任	不需要	需要
投入資本	不需要	需要
參與日常營運	不需要	不需要

合夥人甲是 _____ (1) _____ 合夥人，而合夥人乙則是 _____ (2) _____ 合夥人。

- | | | |
|----|-----|-----|
| | (1) | (2) |
| A. | 名義 | 有限 |
| B. | 名義 | 普通 |
| C. | 普通 | 有限 |
| D. | 有限 | 名義 |

32. 2020.MC.Q22

下列哪一家公司並沒有向持份者履行社會責任？

- A. 公司向客戶採取嚴格的信貸政策。
- B. 公司沒有派發股息予普通股股東。
- C. 公司產品的價格較競爭對手的同類產品為高。
- D. 公司沒有為僱員提供培訓和發展的機會。

33. 2020.MC.Q24

下列哪項是全球一體化對香港企業的行好處？

- (1) 更多資金來源
- (2) 引入新技術
- (3) 較低生產成本

- A. 只有 (1) 及 (2)
- B. 只有 (1) 及 (3)
- C. 只有 (2) 及 (3)
- D. (1)、(2) 及 (3)

1. SP.Q2

說明成立一家咖啡店時須考慮的三項外在環境因素。 (6分)

2. SP.Q3

在決定是否加盟某時裝零售連鎖店時，建議兩個準則以評核該特許經營權擁有人。 (4分)

3. SP.Q6(c)

陳先生是某家具生產及貿易企業的東主，家具主要是由香港自設的工場製造，亦有從數家深圳製造商購入。

(c) 20X7年初，陳先生計劃於關閉香港的工場，轉到深圳開展新業務。香港工場的所有員工將被解僱。

建議兩項可供陳先生採用的措施，以盡量減低員工對被解僱的不滿。 (4分)

4. PP.Q1

企業應向不同持份者負責。試以一家建築公司為例，列出該公司三類持份者，並分別解釋公司如何可以向這些持份者履行社會責任。 (6分)

5. PP.Q6(a),(b)

盧女士擁有一家小型時裝店。為改善公司的營運和內部溝通，她向一位管理顧問尋求意見。管理顧問建議盧女士採納「扁平式」的組織結構和使用電子通訊方式以改善公司現況。

(a) 試就以下範疇，比較「高架式」與「扁平式」組織結構的不同之處。

- (1) 組織層次 (1分)
- (2) 控制幅度 (1分)

(b) 舉出盧女士應採用「扁平式」組織結構的兩項原因。 (4分)

6. 2012.Q2

何先生是一位玩具生產商，他近日接獲多宗顧客投訴，指其玩具的油漆剝落。一名管理顧問對何先生提出，良好的營運管理能減低次貨的數量。

營運管理上有哪些途徑可以協助何先生減低次貨的數量？試舉出其中兩項。 (4分)

7. 2012.Q6(b)

白德獨資經營一家小企業，沒有任何僱員。白德於2012年3月31日破產，並結束業務。

(b) 試舉出白德企業的兩類持份者，並分別說明業務結束會對他們帶來的不利影響。

8. 2012.Q7(a)

馬莉是一位經驗豐富的設計師，擁有龐大的客戶網絡。她正考慮獨自成立一家小型室內設計商號。同時，另一位設計師貝洛邀請她組成合夥。

(a) 試提出馬莉應接納貝洛的邀請，而非獨自創業的兩項原因。 (4分)

9. 2012.Q7(b)

馬莉是一位經驗豐富的設計師，擁有龐大的客戶網絡。她正考慮獨自成立一家小型室內設計商號。同

時，另一位設計師貝洛邀請她組成合夥。

- (b) 馬莉最後獨自成立了一家室內設計商號。試為她列出訂立良好企業目標的兩個準則，(4分)
並各舉一例解釋。

10. 2013.Q2

簡先生是一家香港快餐連鎖店的東主，擁有 50 多家。他將擴充業務，為全香港提供外賣送遞服務。商業顧問溫小姐建議簡先生在內地設立電話熱線中心，接受香港顧客的訂單，然後指示香港分店送餐。解釋影響簡先生決定是否在內地設立電話熱線中心的三種外在因素。(6分)

11. 2013.Q4

資訊管理可以從不同途徑支援一家公司的人力資源部門，試列出其中三項。(3分)

12. 2013.Q6

解釋分工可以提升製造公司效率的三個途徑。(6分)

13. 2014.Q1

白德、桂妮和駱朗共同成立一家有限合夥企業。合夥協議有以下條款：

- 只有桂妮和駱朗注資。
- 白德和駱朗不參與合夥企業的日常運作。
- 如果合夥企業清盤，只有桂妮須以個人資金支付合夥未清還的債務。

- (a) 指出哪一位是這合夥企業的名義合夥人。(1分)
- (b) 提出名義合夥人可為合夥企業作出的兩項貢獻。(4分)

14. 2014.Q2(b)

超凡公司提供軟件和系統開發服務，約有 100 名員工。公司東主兼總經理鄧高是一名電腦專家，他積極投入軟件和系統開發工作。一位企業顧問建議公司應成立市場營銷部門，幫助減輕鄧高的工作量。(b)指出市場營銷部門在超凡公司的兩項功能。(2分)

15. 2014.Q5(b),(c)

米基從一項研究報告得悉他一些存貨的製造材料可能會危害健康。他計劃將這些餐具作為免費贈品送給客戶，但不會提及有關的潛在危害。他的妻子警告他這是不道德的行徑，會對他的企業帶來不利影響。

- (b) 如果米基決定按照計劃送出那些餐具，解釋對他的企業可能會帶來的兩項不利影響。(4分)
- (c) 除了客戶外，指出米基企業的另一類持份者。(1分)

16. 2014.Q6(b)

戴偉和艾倫是同職級的經理，共同負責監督所有店員。一天，運動服裝部一名店員因病缺勤，戴偉委派一名新聘的店員替代她在當天餘下的時間於該部招待顧客。當天中午，艾倫吩咐這名店員運送一份文件予一名供應商。

- (b)(i) 上述情況違反了哪一項有效管理原則？(1分)
- (ii) 舉出違反(i)項所述的原則會引致的兩個問題。(4分)

17. 2015.Q1

安莉在南丫島經營一家小型旅館，招待外國遊客。她為旅館設立互聯網訂房系統，系統的目標如下：

[在短期內大幅增加網上訂房次數]

- (a) 上述目標欠缺良好目標的特點(SMART)，簡單解釋其中兩項。(4分)
- (b) 解釋可能會影響安莉業務的一項政治因素和一項法律因素。(4分)

18. 2015.Q4(b)(c)

白德是一家成衣商號的獨資東主，他計劃擴展業務，並開設三個部門，分別處理香港、澳門和深圳的成衣業務。一位企業顧問提醒他，也可考慮採用其他部門劃分方式。

- (b) 指出白德所計劃的部門劃分方式。(1分)
- (c) 簡述白德商號可以採用的其他兩種部門劃分方式。(4分)

19. 2015.Q5(b)(c)

張漢在 2014 年 1 月 1 日創立一獨資貿易商號。為籌集資金擴展業務，張漢擬轉變商號的企業擁有權類型，並計劃邀請五人投資商號，加入成為東主。擴展後，所有東主對商號只承擔有限債務責任，其擁有權也不能自由轉讓。

- (a) 根據上述資料，張漢將會為業務擴展採用哪一種企業擁有權類型？(1分)
- (b) 與獨資比較，除了限制擁有權的轉讓外，指出在(b)提及的企業擁有權類型的其他兩項缺點。(4分)

20. 2016.Q3(a)(b)(c)

卡洛在意大利經營一家著名餐廳連鎖店，顧客來自世界各地。他計劃在香港開設分店，一位企業顧問建議他採用特許經營方式營運這些分店。

- (a) 舉出兩個理由說明為何卡洛應採用特許經營方式，而不以自設分店形式在香港開設他的餐廳。(4分)
- (b) 解釋卡洛在香港開設分店時應考慮的一項法律因素及一項文化因素。(4分)

21. 2016.Q4(c)

子山經營一家小型超級市場。一位企業顧問建議子山在他的超級市場採用目標管理。

- (c)(i) 在目標管理下，子山的超級市場如何制定目標？(1分)
- (ii) 解釋在子山的超級市場採用目標管理的一項優點和一項缺點。(4分)

22. 2016.Q5(c)

子山經營一家小型超級市場。一位企業顧問建議子山改進其超級市場的控制功能。

- (c)(i) 在管理上，甚麼是控制的目的？(1分)
- (ii) 列出控制過程的步驟。(4分)

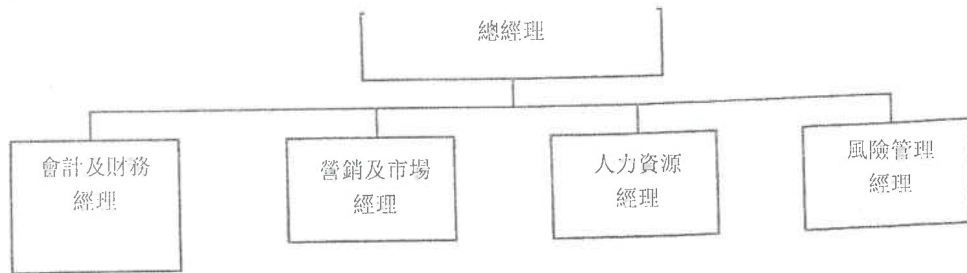
23. 2017.Q1

- (a) 何謂合營企業？ (1 分)
 (b) 簡述商號以合營企業方式經營的兩項好處。 (4 分)

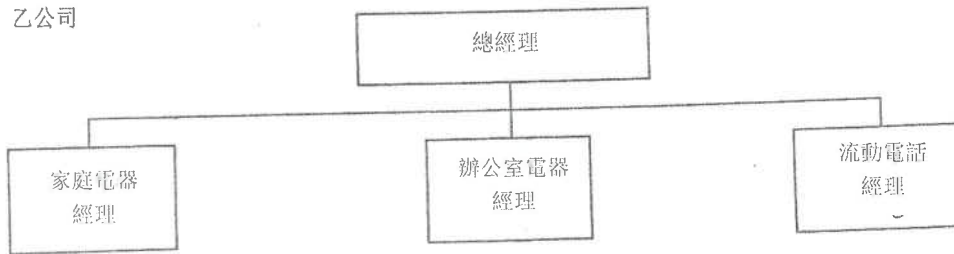
24. 2017.Q3(a)(b)

甲公司和乙公司是銷售電器的零售企業，它們的組織圖展示如下：

甲公司



乙公司



- (a) 指出這兩家公司所採用的部門劃分方式： (2 分)
 (i) 甲公司
 (ii) 乙公司
 (b) 以上兩家公司中，哪一家公司的總經理的控制幅度較闊？ (1 分)
 最近，甲公司的貨倉失火，損失頗巨。
 (c) 甲公司哪部門應負責申索保險賠償？解釋這部門在公司的一個主要角色。 (3 分)

25. 2017.Q4(b)(c)

莊先生於 2016 年 1 月 1 日開設商號，銷售雜貨及家居用品，並僱用了三名員工經營業務。

- (b) 何謂商業道德？ (1 分)
 (c) 試為下列每一持份者，各舉一例解釋莊先生如何能確保商號的運作可履行社會責任：
 (i) 商號的員工 (2 分)
 (ii) 商號附近的居民 (2 分)

26. 2017.Q5(b)(c)

莊先生於 2016 年 1 月 1 日開設商號，銷售雜貨及家居用品，並僱用了三名員工經營業務。

- 一位企業顧問建議莊先生為商號訂立目標。
 (b) 指出為莊先生的商號訂立目標這工作屬於哪項管理功能。 (1 分)
 (c) 舉出兩個原因解釋為何莊先生應為他的商號訂立目標。 (4 分)

27. 2018.Q1

力克有限公司是一家在本地製造和銷售電器的私人有限公司。在國際競爭下，公司計劃開設網上商店，行銷全球。為降低成本及增加銷售，公司正分析全球化對其影響，以制定新的營商策略。

- (a) 解釋力克有限公司計劃開設網上商店時應考慮的一項科技因素和一項經濟因素。 (4 分)
 (b) 建議力克有限公司在全球化下可降低生產成本的兩項策略。 (4 分)

28. 2018.Q2

家明創立了一家售賣韓國食品的超級市場。為吸引顧客及提升競爭力，超級市場不斷引入新產品，有些更是本地大型超級市場沒有售賣的。超級市場的業務蒸蒸日上，最近獲選為傑出中小型企業，家明亦被傳媒譽為出色的企業家。

- (a) 除員工人數外，指出中小型企業的其他兩項特徵。 (2 分)
 (b) 試就以上個案，解釋企業家精神對商業發展的兩項貢獻。 (4 分)

29. 2018.Q4(b)(c)

2017 年 1 月 1 日文迪開立一獨資商號，設計及出售電腦軟件。商號的研發員工可自由設計不同的電腦軟件產品，但新產品設計的揀選只有文迪一人決定，其他員工不得參與。

- (b) 指出文迪採用的領導風格。 (1 分)
 (c) 解釋文迪所採用的領導風格的兩項缺點。 (4 分)

30. 2018.Q5(b)(c)

2018 年度，偉信商號以減省成本為目標。可是，市場營銷經理欲推行一龐大銷售推廣計劃，預算成本為上年度銷售額的 50%。

- (b) 指出上述個案違反了哪一項有效管理原則。 (1 分)
 (c) 解釋採用上述 (b) 項有效管理原則的兩個原因。 (4 分)

31. 2019.Q1

美利薄餅店是一家在意大利創立的跨國公司。在倫敦和悉尼設有分店。它現正考慮擴展業務至亞洲，在香港自設分店。一家在香港有名的餐廳連鎖店邀請美利薄餅店加入成為特許權使用人。

- (a) 描述美利薄餅店作為跨國公司的主要特徵。 (2 分)
- (b) 向美利薄餅店解釋加入餐廳連鎖店成為特許權使用人而非自設分店的兩項缺點。 (4 分)

32. 2019.Q2(b)

(b) 2019 年莊力在香港成立了一家銷售廚具的商號，並訂立以下目標：

「2020 年年終前，所有香港人都認識我們的品牌。」

上述目標不是良好 (SMART) 的目標。解釋這目標未能展現良好 (SMART) 目標的兩項特點。 (4 分)

33. 2019.Q4(c)(d)

區氏商號製造及銷售成衣。

區氏商號生產部門的成衣製造過程涉及很多工序，包括剪裁、縫紉和包裝。每位工人只負責一項工序。

- (c) 指出生產部門所採用的有效管理原則。 (1 分)
- (d) 解釋生產部門在上述(c)項中所採用的有效管理原則的兩個優點。 (4 分)

34. 2019.Q5(c)(d)

區氏商號製造及銷售成衣。

簡君為區氏商號的會計師。一天，他要求會計文員何明編製一份成本分析報告，並於下午向他匯報。

同時，辦公室經理指令何明於當天下午編製一份文件目錄。

- (c) 指出上述個案所違反的有效管理原則。 (1 分)
- (d) 如果區氏商號採用上述(c)項的有效管理原則，解釋會為他帶來的兩項好處。 (4 分)

35. 2020.Q1

高科公司是一家中小型企業(中小企)，專門為香港的企業開發數據處理系統。項目經理與程式編寫員會於每季開始時商討及決定該季度的工作計劃。在季度內，他們會定期檢視工作進度及找出所遇到的困難，並因應程式編寫員的回饋予以支援。

- (a) 除了提供就業機會外，指出中小企對香港經濟的兩項貢獻。 (2 分)
- (b)(i) 指出高科公司在上述情境採用的有效管理原則。 (1 分)
- (ii) 解釋高科公司採用上述(b)(i)的有效管理原則的兩項優點。 (4 分)

36. 2020.Q4(A)(a)

(A) 和萬是一家加拿大知名的公司，銷售厚外套和羊毛產品。它計劃在香港設立分店。

- (a) 指出和萬在香港設立分店時應考慮的一項社會因素和一項自然地理因素，並解釋每項因素如何影響其業務。 (4 分)

37. 2020.Q5(A)(a)(b)(c)

(A) 甲公司及乙公司專門在香港設計及興建大型商場。它們計劃共同成立一家新企業，開展一項建築工程項目——在銅鑼灣興建一個購物商場。該項目需時五年，新企業會於項目完成時解散。

- (a) 指出由甲公司及乙公司成立之新企業的擁有權類型。 (1 分)
- (b) 解釋以上述(a)項之企業擁有權類型營運的一項好處。 (2 分)
- (c) 解釋合夥與上述(a)項企業擁有權類型的一項不同之處。 (2 分)

1. SP.Q2

外在因素：

- 政治/法規：政府的牌照政策、守則及規條
- 經濟：經濟增長、收入水平、購買力
- 社會文化：文化價值觀、生活方式
- 科技：咖啡店運作的技術水平、資訊科技的應用
- 競爭：其他咖啡店的營運情況、行業競爭

(每個適切的因素 2 分，最高 6 分)

2. SP.Q3

準則：

- 特許經營權擁有人的商譽
- 限制及責任
- 加盟費及特許經營權使用費
- 支援和協助，例如推廣和培訓
- 特許經營權擁有人的定位及策略是否切合自己的期望和要求

(每個適切的準則 2 分，最高 4 分)

3. SP.Q6(c)

措施：

- 提供較優厚的賠償（多於法例要求）
- 向所有員工清楚解釋遣散的原因
- 幫助員工申請其他工作／推薦優秀員工給其他家具工廠

(每個適切的措施 2 分，最高 4 分)

4. PP.Q1

- 僱員：如提供安全和健康的工作環境
- 顧客：如樓宇的質素保證
- 供應商：如準時付款
- 債權人：如準時繳付利息和清還本金
- 政府：如準時繳稅

(每項適切的論點答案 2 分，最高 6 分)

5. PP.Q6(a),(b)

(a)

	高架式	扁平式
(1) 組織層次	較多	較少
(2) 控制幅度	較窄	較闊

(b) 原因：

- 加快決策速度
- 提高管理彈性
- 改善溝通

(每項適切的原因 2 分，最高 4 分)

6(a) 每一橫行 1 分，每行最高 1 分。

6. 2012.Q2

途徑：

- 存貨管理：確保存貨量適中，以免存貨過多，導致損耗及毀壞
- 修訂生產過程規劃：找出並修正引致次貨的問題
- 品質控制：訂下標準，以確保所提供的產品皆屬高品質

(每項相關的途徑 2 分，最高 4 分)

7. 2012.Q7

(a)

原因：

- 分散風險／工作量
- 更多資本來源
- 更多專業知識／創新的意念

(每項相關的原因 2 分，最高 4 分)

(b)

準則及其例子：

- 明確：例如賺得某一金額的盈利
- 有時間規劃：例如於開業後一年賺得某一金額的盈利
- 可量度：例如達到 10% 盈利增長
- 有挑戰性：例如賺得合理盈利

(每項相關的論點 2 分，最高 4 分)

8. 2013.Q2

外在因素：

- 科技：例如電訊系統的可靠性
- 社會：例如接線生使用的語言
- 經濟：例如薪酬水平、跨境電話費
- 法律：例如勞工條例、牌照章則
- 自然：例如地理分佈
- 政治：例如局勢穩定性

(每項適切的外在因素 2 分，最高 6 分)

9. 2013.Q4

功能：

- 找出及 / 或創造市場機會
- 決定市場定位
- 選擇目標市場
- 制定和評估市場營銷策略 (4P)
- 推行和監控市場營銷活動
- 管理客戶關係

(每項適切的功能 1 分，最高 2 分)

10. 2013.Q6

方法：

- 促進自動化：例如使用特別器材
- 有助監督：例如每名員工只專注一專門工作
- 熟能生巧：例如可使供需更快完成和減少錯誤
- 節省時間：例如由一崗位轉至另一崗位

(每項適切的方法 2 分，最高 6 分)

11. 2014.Q1

(a) 名義合夥人：白德

(b) 貢獻：

- 提供專業意見
- 提高企業的聲譽
- 加強業務聯繫

(每項適切的貢獻 2 分，最高 4 分)

12. 2014.Q2(b)

功能：

- 找出及 / 或創造市場機會
- 決定市場定位
- 選擇目標市場
- 制定和評估市場營銷策略 (4P)
- 推行和監控市場營銷活動
- 管理客戶關係

(每項適切的功能 1 分，最高 2 分)

13. 2014.Q5(b),(c)

(b) 不利影響：

- 不道德的做法會傷害米基企業的聲譽
- 顧客失去信心，影響銷售及前景
- 受影響的顧客可向米基索償

(每項適切的不利影響 2 分，最高 4 分)

(c) 持分者：

- 僱員、供應商 / 債權人、分銷商、政府、公眾

(每類適切的持分者 1 分，最高 1 分)

14. 2014.Q6(b)

(i) 統一命令原則

(ii) 問題：

- 矛盾的指示會令下屬混亂
- 不清晰的命令鏈 / 權力線會引致經理之間的衝突

(每個適切的問題 2 分，最高 4 分)

(1+4 分)

15. 2015.Q1

- (a)
- | 特點 | 分數 |
|-------------------------------------|--------|
| - 可量度：目標未有具體指定所增加的數量 | 最高 4 分 |
| - 時限：目標未有指定完成時限 | |
| - 具體：網上訂房次數可指客戶登入次數、成功訂房次數或實際租用房間次數 | |
| - 可行：目標未必可達到，例如因全球旅遊業萎縮 | |
| (每項適切的特點 2 分，最高 4 分) | |

- (b)
- | | |
|------------------------|--------|
| 政治因素： | 最高 2 分 |
| - 香港／旅客國家的政治穩定 | |
| - 香港／中國與旅客國家的關係 | 最高 2 分 |
| (每項適切的政治因素 2 分，最高 2 分) | |
| 法律因素： | 最高 2 分 |
| - 有關旅館／酒店牌照的規例 | |
| - 有關簽證要求的規例 | 最高 2 分 |
| (每項適切的法律因素 2 分，最高 2 分) | |

16. 2015.Q4(b)(c)

- | | |
|--|--------|
| (b) 按地區劃分部門 | 1 |
| (c) 其他方式： | 最高 4 分 |
| - 按產品劃分：例如開設部門分別處理男裝、女裝和童裝業務 | |
| - 按功能劃分：例如開設不同部門分別處理生產、市場營銷、人力資源、財務等功能 | 最高 4 分 |
| (每項適切的部門劃分方式 2 分，最高 4 分) | |

17. 2015.Q5(b)(c)

- | | |
|------------------------|--------|
| (b) 私人有限公司 | 1 |
| (c) 其他缺點： | 最高 4 分 |
| - 利得稅率較高，可分配利潤因而減少 | |
| - 成立程序的要求較多/成立成本較高 | |
| - 擁有權和管理分開，東主未必能控制日常營運 | |
| (每項適切的缺點 2 分，最高 4 分) | |

18. 2016.Q3

- | | |
|-------------------------------|--------|
| (a) 原因： | 最高 4 分 |
| - 以較低成本在香港擴展業務 | |
| - 固定收入：定期收到特許權使用費及分攤特許權使用人的利潤 | |
| - 容易進入香港市場：特許權使用人較熟悉本港的營商環境 | |
| (每項適切的原因 2 分，最高 4 分) | |

26

- | | |
|--------------------------|--------|
| (b) 法律因素： | 最高 2 分 |
| - 有關餐廳牌照的規例：例如消防條例/建築物條例 | |
| - 其他條例：例如最低工資條例、僱傭條例等 | |
| (每項適切的法律因素 2 分，最高 2 分) | |

- | | |
|-------------------------|--------|
| 文化因素： | 最高 2 分 |
| - 香港目標顧客的口味與偏好 | |
| - 香港的人口結構分布：例如年齡、性別、種族等 | |
| (每項適切的文化因素 2 分，最高 2 分) | |

19. 2016.Q4(c)

- | | |
|----------------------|--------|
| (i) 目標管理： | 1 |
| - 主管與下屬共同制定企業的目標 | |
| (ii) 優點： | 最高 2 分 |
| - 下屬更了解企業的目標，工作更投入 | |
| - 有助控制下屬的進度 | |
| (每項適切的優點 2 分，最高 2 分) | |
| 缺點： | 最高 2 分 |
| - 費時 | |
| - 主管與下屬的工作量增加 | |
| (每項適切的缺點 2 分，最高 2 分) | |

20. 2016.Q5(c)

- | | |
|--------------------------|--------|
| (i) 控制： | 1 |
| - 確保行動與計劃一致 | |
| (ii) 第一步：制定表現標準 | 最高 4 分 |
| 第二步：量度實際表現 | |
| 第三步：比較實際表現與標準 | |
| 第四步：採取改善措施 | |
| (每個依次且正確的步驟得 1 分，最高 4 分) | |

21. 2017.Q1

- | | |
|-------------------------------|--------|
| (a) 合營企業： | 1 |
| - 兩個或多個企業，為一（些）合作項目建立的一個新企業個體 | |
| (b) 好處： | 最高 4 分 |
| - 合營者可提供更多資金/資源 | |
| - 企業風險可由合營者分擔 | |
| - 較易進入新市場：合營者熟悉本地市場/有本地人脈關係 | |
| - 可引入不同合營者的專業知識/信譽 | |
| - 可享規模經濟 | |
| (每項相關的好處 2 分，最高 4 分) | |

5 分

22. 2017.Q3(a)(b)(c)

- (a)(i) 甲公司：功能分部 1
(ii) 乙公司：產品分部 1

(b) 甲公司的總經理 1

(c) 風險管理部門 1

主要角色

- 找出企業可能面對的風險 2
- 制訂風險管理策略以管理風險

(每項相關的角色 2 分，最高 2 分)

23. 2017.Q4(b)(c)

- (a)(i) 甲公司：功能分部 1
(ii) 乙公司：產品分部 1

(b) 甲公司的總經理 1

(c) 風險管理部門 1

主要角色

- 找出企業可能面對的風險 2
- 制訂風險管理策略以管理風險

(每項相關的角色 2 分，最高 2 分)

24. 2017.Q5(b)(c)

- (b) 管理功能： 1
- 計劃

(c) 原因： 4

- 有助摘取機遇和應對挑戰
- 為員工提供工作方向
- 為監察工作進度提供標準

(每項相關的原因 2 分，最高 4 分)